

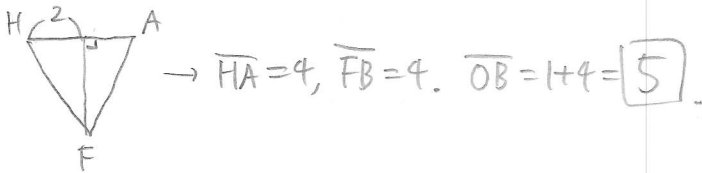
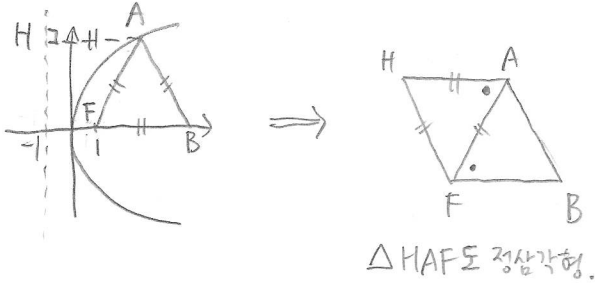
2020 수특 기백 변형

1. 이차곡선

★★★

5p 예제 1 - 포물선 성질

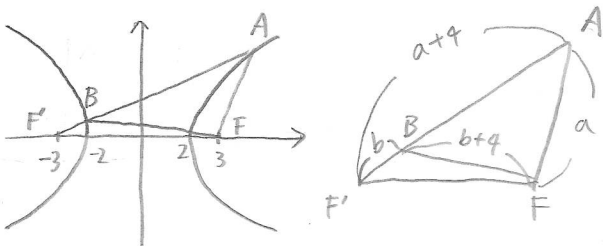
포물선 $y^2=4x$ 의 초점을 F라 하자. 포물선 위의 점 A와 x축 위의 점 B에 대해 삼각형 AFB가 정삼각형일 때, \overline{OB} 의 값을 구하시오. (단, 점 A의 x좌표는 1보다 크다.)



★★

9p 예제 3, 14p 기본 7 - 쌍곡선, 삼각형

쌍곡선 $\frac{x^2}{4}-\frac{y^2}{5}=1$ 의 두 초점 중 x좌표가 양수인 점을 F, 음수인 점을 F'이라 하자. 제1사분면에 있는 쌍곡선 위의 점 A에 대하여 선분 AF'이 쌍곡선과 만나는 점 중 A가 아닌 점을 B라 하자. 삼각형 ABF의 둘레의 길이가 20일 때, \overline{AF} 의 값을 구하시오.



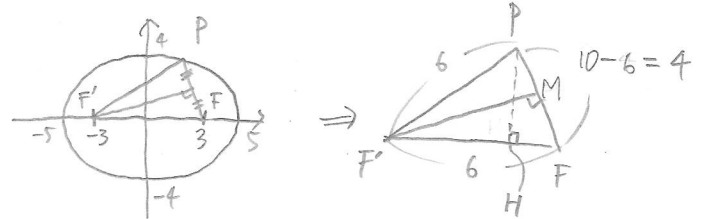
$$\begin{aligned} \Rightarrow \overline{AB} + \overline{BF} + \overline{FA} &= (a+4-b) + (b+4) + a = 2a+8 \\ &= 20, \\ a &= \boxed{6}. \end{aligned}$$

★★

7p 예제 2 - 타원, 피타고라스

타원 $\frac{x^2}{25}+\frac{y^2}{16}=1$ 의 두 초점 중 x좌표가 양수인 점을 F, 음수인 점을 F'이라 하자. 제1사분면에 있는 타원 위의 점 P에 대하여 삼각형 PFF'이 이등변삼각형일 때, 점 P의 y좌표의 값은?

- ① $\frac{7\sqrt{2}}{3}$ ② $\frac{8\sqrt{2}}{3}$ ③ $3\sqrt{2}$
 ④ $\frac{10\sqrt{2}}{3}$ ⑤ $\frac{11\sqrt{2}}{3}$

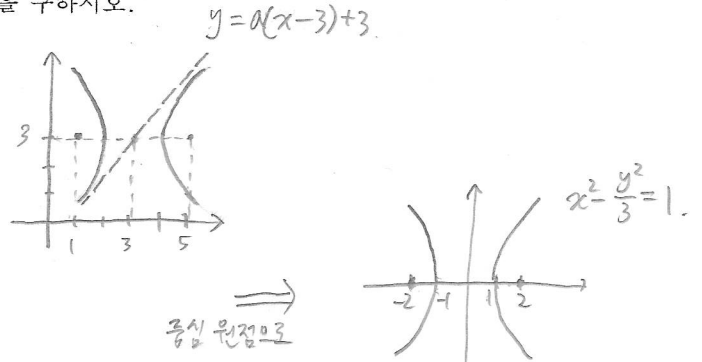


$$\begin{aligned} \overline{FM} &= \sqrt{6^2-2^2} = 4\sqrt{2} \\ \Delta PFF' \text{ 넓이} &= \frac{1}{2} \times \overline{PF} \times \overline{FM} = \frac{1}{2} \times \overline{PF} \times \overline{PH} \Rightarrow \overline{PH} = \frac{8\sqrt{2}}{3} \end{aligned}$$

★

11p 예제 4 - 이차곡선 평행이동

두 초점이 F(1,3), F'(5,3)이고 주축의 길이가 2인 쌍곡선의 한 점근선의 방정식이 $y=ax+b$ ($a>0$)일 때, $3a+b$ 의 값을 구하시오.



공식 원점으로

$$\therefore \text{점근선 기울기 } \pm\sqrt{3},$$

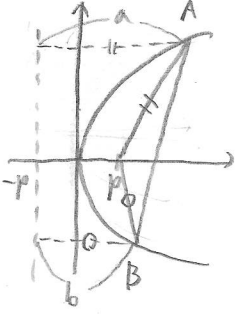
$$\rightarrow y = \sqrt{3}x - 3\sqrt{3} + 3,$$

$$3a+b = \boxed{3}.$$

★★

13p 기본 2 - 포물선, 무게중심

초점이 F인 포물선 $y^2=4px$ ($p>0$)가 있다. 이 포물선 위에 있는 서로 다른 두 점 A, B에 대하여 $\overline{AF} + \overline{BF} = 20$ 이고 삼각형 AFB의 무게중심의 x좌표가 6일 때, 상수 p의 값을 구하시오.



무게중심 x: $\frac{(a-p) + (b-p) + p}{3} = 6$

$a+b-p=18,$

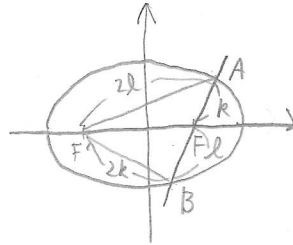
$a+b=20$ 이므로 $p=2$.

★★★

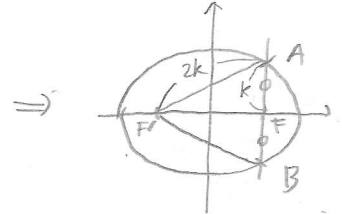
13p 기본 4 - 타원, 삼각형

두 초점이 F, F'인 타원 $\frac{x^2}{a^2} + \frac{y^2}{b^2} = 1$ ($a>b>0$)이 있다. 점 F를 지나는 직선이 이 타원과 만나는 두 점을 A, B라 할 때, $\frac{\overline{BF'}}{\overline{AF}} = \frac{\overline{AF'}}{\overline{BF}} = 2$ 이다. $\frac{a^2}{b^2}$ 의 값은?

- ① $\frac{3}{2}$ ② 2 ③ $\frac{5}{2}$ ④ 3 ⑤ $\frac{7}{2}$



$2l+k=2k+l$
 $\Rightarrow k=l$



$\overline{AF'} + \overline{AF} = 3k = 2a, k = \frac{2}{3}a$

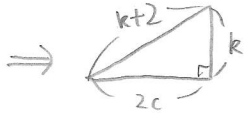
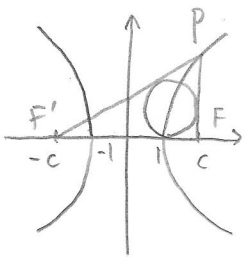
$\overline{F'F} = \sqrt{3}k = \frac{2\sqrt{3}}{3}a, \overline{OF} = \frac{\sqrt{3}}{3}a = \sqrt{a^2 - b^2}$

$\therefore b^2 = \frac{2}{3}a^2, \frac{a^2}{b^2} = \frac{3}{2}$

★★★

14p 기본 8 - 쌍곡선, 내접원

쌍곡선 $x^2 - \frac{y^2}{b^2} = 1$ 위의 점 P와 이 쌍곡선의 두 초점 F(c, 0), F'(-c, 0) ($c>0$)에 대하여 $\angle PFF' = \frac{\pi}{2}$ 이고, 삼각형 PFF'의 내접원의 반지름의 길이는 1이다. 10c의 값을 구하시오.



$(k+2)^2 = k^2 + 4c^2 \rightarrow c^2 = k+1$

내접원 반지름 공식 $\rightarrow k + (k+2) + 2c = k \cdot 2c, k+c+1 = kc$

(* $\frac{A \cdot B \cdot C}{r} \rightarrow$ 삼각형 넓이 $= \frac{1}{2}r(A+B+C)$)

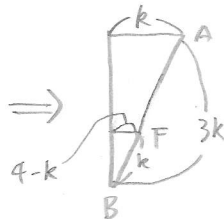
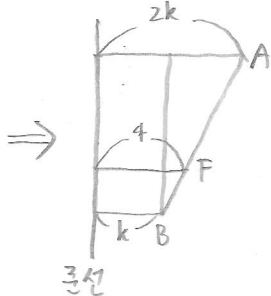
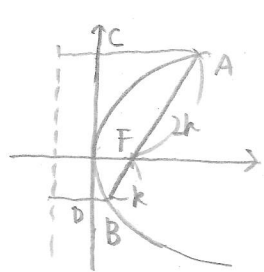
$k+1 = (k-1)c, (k+1)^2 = (k-1)^2 \cdot (k+1)$

$k^2 - 3k = 0, k=3 \therefore c=2, 10c = 20$

★★

15p 실력 1 - 포물선, 사다리꼴

포물선 $y^2=8x$ 의 초점 F를 지나는 직선이 이 포물선과 만나는 두 점을 각각 A, B라 하고, 두 점 A, B에서 y축에 내린 수선의 발을 각각 C, D라 하자. $\overline{AF} = 2\overline{BF}$ 일 때, 사각형 CDAB의 둘레의 길이는 $a+b\sqrt{2}$ 이다. a+b의 값을 구하시오. (단, a, b는 유리수이다.)



$\frac{AF}{BF} = 2 \rightarrow k : 3k = 4 - k : k, k=3$

A(4, 4√2), B(1, -2√2)

$\therefore a+b\sqrt{2} = 14+6\sqrt{2}$

a+b = 20

2. 평면 곡선의 접선

★★★★☆

25p 기본 2 - 근과 계수 또는 역함수

곡선 $\sin y = x$ ($-\frac{\pi}{2} < y < \frac{\pi}{2}$) 위에 있는 서로 다른 두 점 $A(x_1, y_1), B(x_2, y_2)$ 에서의 접선의 기울기를 각각 m_1, m_2 라 하자. $(x_1)^2, (x_2)^2$ 이 이차방정식 $9x^2 - 9x + 1 = 0$ 의 서로 다른 두 근일 때, $(\frac{1}{m_1} + \frac{1}{m_2})^2 = \frac{q}{p}$ 이다. $p+q$ 의 값을 구하시오. (단, p 와 q 는 서로소인 자연수이다.)

$$\cos y \cdot y' = 1, y' = \frac{1}{\cos y} \rightarrow \frac{1}{m_1} + \frac{1}{m_2} = \cos y_1 + \cos y_2$$

$$x_1^2 = \sin^2 y_1 = 1 - \cos^2 y_1, x_2^2 = \sin^2 y_2 = 1 - \cos^2 y_2$$

$$\text{두 근 합 } 1 = 2 - \cos^2 y_1 - \cos^2 y_2 \rightarrow \cos^2 y_1 + \cos^2 y_2 = 1$$

$$\text{두 근 곱 } \frac{1}{9} = 1 - \cos^2 y_1 - \cos^2 y_2 + \cos^2 y_1 \cos^2 y_2 \rightarrow \cos^2 y_1 \cos^2 y_2 = \frac{1}{9}$$

$$(-\frac{\pi}{2} < y < \frac{\pi}{2} \rightarrow \cos y > 0) \rightarrow \cos y_1 \cos y_2 = \frac{1}{3}$$

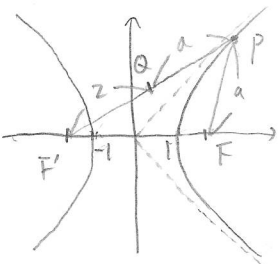
$$\therefore \cos^2 y_1 + 2 \cos y_1 \cos y_2 + \cos^2 y_2 = 1 + \frac{2}{3} = \frac{5}{3} \quad \boxed{8}$$

★★★★☆

26p 실력 1 - 점 자취 추론

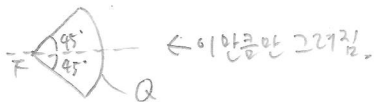
쌍곡선 $x^2 - y^2 = 1$ 의 두 초점 중 x 좌표가 양수인 점을 F , 음수인 점을 F' 이라 하자. 쌍곡선 위의 x 좌표가 양수인 점 P 에 대하여 직선 $F'P$ 위의 점 Q 가 $\overline{PQ} = \overline{PF}$ 를 만족시킬 때, 점 Q 가 나타내는 도형을 C 라 하자. 쌍곡선 위의 점 $A(a, b)$ 에서의 접선이 도형 C 와 만나지 않게 하는 실수 a 의 최솟값은?

- ① $-\sqrt{2}$ ② $-\frac{\sqrt{6}}{2}$ ③ -1
 ④ $-\frac{\sqrt{3}}{2}$ ⑤ $-\frac{\sqrt{2}}{2}$



$\Rightarrow Q$ 는 중심이 F' , 반지름이 2인 원의 일부.

정준선이 $y = \pm x$ 이므로,

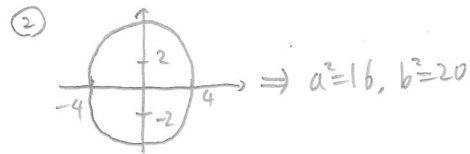
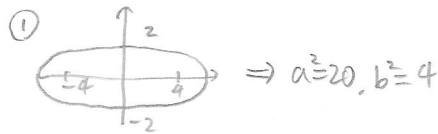
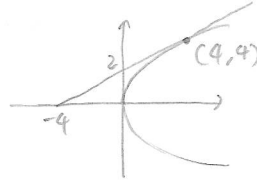


\Rightarrow 접선이 $(0, \pm\sqrt{2})$ 를 지날 때 a 가 최소.
 (a, b) 에서의 접선 $ax - by = 1$ 에 $(0, \sqrt{2})$ 대입
 $\rightarrow b = \frac{1}{\sqrt{2}}$,
 $a^2 - b^2 = 1$ 로부터 $a^2 = \frac{3}{2}$, $a = -\frac{\sqrt{6}}{2}$.

★★★

25p 기본 3 - 이차곡선 접선

포물선 $y^2 = 4x$ 위의 점 $(4, 4)$ 에서의 접선 l 이 타원 $\frac{x^2}{a^2} + \frac{y^2}{b^2} = 1$ ($a > 0, b > 0$)의 한 초점과 한 꼭짓점을 지날 때, 가능한 모든 $a^2 + b^2$ 의 값의 합을 구하시오.



$$24 + 36 = \boxed{60}$$

★★★

26p 실력 4 - 매개변수, 기울기 최소

매개변수 θ ($0 < \theta < \frac{\pi}{2}$)로 나타낸 곡선 $x = 3 + \sec \theta$, $y = \tan \theta + 4 \cos \theta$ 위의 점에서의 접선의 기울기의 최솟값은?

- ① -2 ② -1 ③ 0 ④ 1 ⑤ 2

$$\frac{dy}{dx} = \frac{\sec^2 \theta - 4 \sin \theta}{\sec \theta \tan \theta} = \frac{1}{\sin \theta} - 4 \cos^2 \theta = 4 \sin^2 \theta - 4 + \frac{1}{\sin \theta}$$

$$f(x) = 4x^2 - 4 + \frac{1}{x} \quad (0 < x < 1) \text{로 놓으면}$$

$$f'(x) = 8x - \frac{1}{x^2}, \quad \text{---} \frac{1}{x^2} \text{ ---} \therefore x = \frac{1}{2} \text{ 극소.}$$

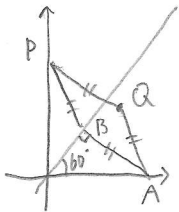
$$\therefore \sin \theta = \frac{1}{2} \text{ 일 때 최솟값 } 4 \cdot (\frac{1}{2})^2 - 4 + \frac{1}{\frac{1}{2}} = -1.$$

3. 벡터의 연산

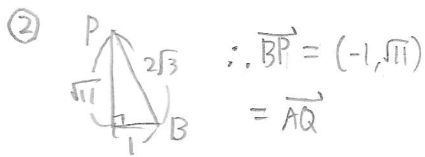
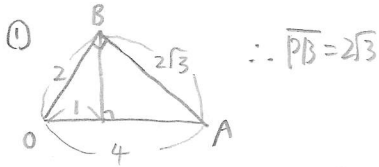
★★

29p 예제 1 - 벡터의 크기

좌표평면 위의 점 $A(4, 0)$ 에서 직선 $y = \sqrt{3}x$ 에 내린 수선의 발을 B 라 하자. y 축 위에 있는 점 P 에 대하여 점 Q 가 $\vec{AB} + \vec{PQ} = \vec{0}$ 을 만족시킨다. $|\vec{AB}| = |\vec{BP}|$ 일 때, 점 Q 의 좌표는 (a, b) 이다. a^2b^2 의 값을 구하시오.



ABPQ : 마름모.



$\Rightarrow Q(3, \sqrt{3}). \quad 9 \cdot 11 = \boxed{99}$

★★★

33p 예제 3 - 점 위치 잡기

한 평면 위에 있는 삼각형 ABC와 점 P가

$$\vec{PB} + 2\vec{PC} + k\vec{PA} = \vec{BC}$$

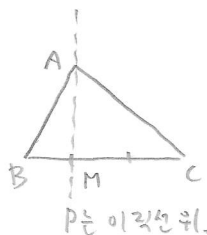
를 만족시킨다. 삼각형 ABC의 넓이가 삼각형 APC의 넓이의 3배가 되도록 하는 모든 실수 k 의 값의 합은?

- ① -10 ② -8 ③ -6 ④ -4 ⑤ -2

$$\vec{PB} + \vec{PC} + \vec{PC} + \vec{CB} + k\vec{PA} = \vec{0}$$

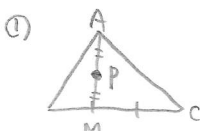
$$\frac{2\vec{PB} + \vec{PC}}{3} = \frac{-k\vec{PA}}{3}$$

$\hookrightarrow \vec{PM}$ (M은 BC 1:2 내분점)

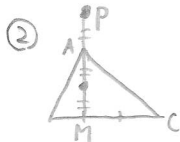


$\frac{2}{3}\Delta ABC = \Delta AMC$ 이므로,

$2\Delta APC = \Delta AMC$ 여야 조건 성립.



$\vec{PM} = -\vec{PA}, k=3.$



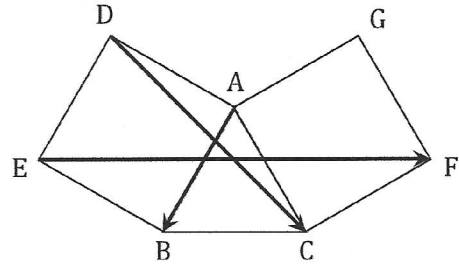
$\vec{PM} = 3\vec{PA}, k=-9.$

$3 + (-9) = -6.$

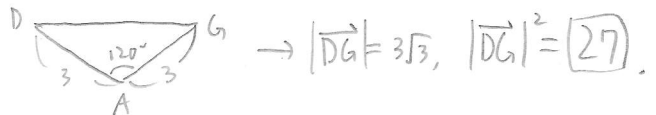
★★

31p 예제 2 - 벡터의 덧셈, 뺄셈

그림과 같이 한 평면 위에 정삼각형 ABC와 두 정사각형 ADEB, ACFG가 있다. 벡터 $\vec{EF} - \vec{DC} + \vec{AB}$ 의 크기가 3일 때, $|\vec{DG}|^2$ 의 값을 구하시오.



$$\vec{AB} = \vec{DE} \rightarrow |\vec{EF} - \vec{DC} + \vec{DE}| = |\vec{CD} + \vec{DE} + \vec{EF}| = |\vec{CF}| = 3.$$



★★

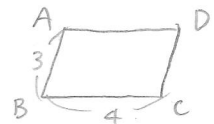
35p 기본 2 - 벡터 정리

$\vec{AB} = 3, \vec{BC} = 4$ 인 평행사변형 ABCD에 대하여 평면 ABCD 위의 점 P가 $\vec{PA} = \vec{PB} + \vec{PC} + \vec{PD}$ 를 만족시킬 때, 삼각형 ABP의 넓이의 최댓값을 구하시오.

$$\vec{PA} - \vec{PB} = \vec{PC} + \vec{PD}$$


$$\parallel \vec{BA}$$

$$\parallel \vec{CD}$$



$$\therefore \vec{CD} = \vec{PC} + \vec{PD}, \quad \vec{CD} + \vec{DP} = \vec{PC} \quad \therefore 2\vec{PC} = \vec{0}, \quad P=C.$$

ΔABC 넓이 최댓값:



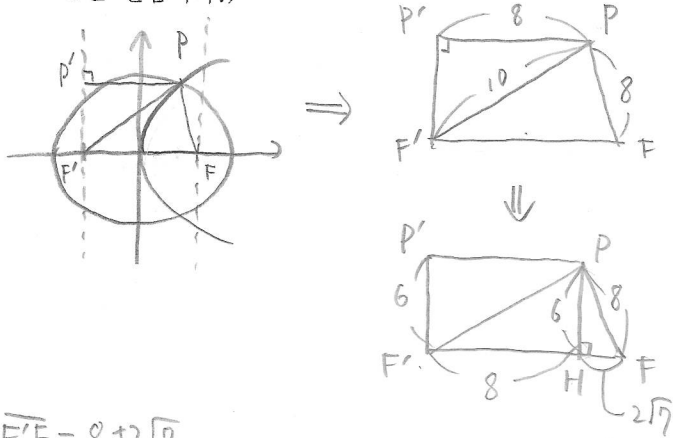
수직일 때.

$\frac{3 \times 4}{2} = \boxed{6}$

★★★

35p 기본 3 - 포물선과 벡터

타원 $\frac{x^2}{81} + \frac{y^2}{b^2} = 1$ ($0 < b < 9$)의 두 초점 중 x 좌표가 양수인 점을 F , 음수인 점을 F' 이라 하자. 원점을 꼭짓점으로 하고 점 F 를 초점으로 하는 포물선이 타원과 만나는 점 P 에 대하여 $|\overrightarrow{PF}| = 8$ 일 때, $|\overrightarrow{PO} - \overrightarrow{PF}'|$ 의 값은 $a + \sqrt{b}$ 이다. 두 자연수 a, b 에 대하여 $a+b$ 의 값을 구하시오. (단, O 는 원점이다.)



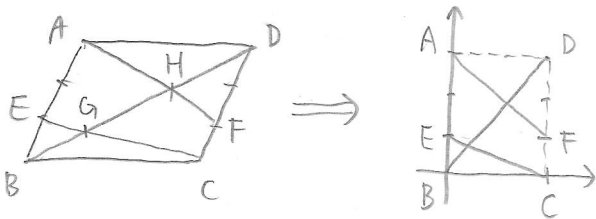
$F'F = 8 + 2\sqrt{7}$,
 $|\overrightarrow{PO} - \overrightarrow{PF}'| = OF = 4 + \sqrt{7}$. $\therefore a+b = 11$.

★★★

36p 실력 2 - 평행사변형을 좌표계로

평행사변형 ABCD에서 $3\overrightarrow{AE} = 2\overrightarrow{AB}$ 인 점을 E , $3\overrightarrow{CF} = \overrightarrow{CD}$ 인 점을 F 라 하자. 직선 BD와 선분 EC, AF가 만나는 점을 각각 G, H라 할 때, $\overrightarrow{GH} = s\overrightarrow{BD}$ 이다. 상수 s 의 값은?

- ① $\frac{1}{3}$ ② $\frac{7}{20}$ ③ $\frac{11}{30}$ ④ $\frac{23}{60}$ ⑤ $\frac{2}{5}$



$B(0,0), A(0,3), C(1,0)$ 으로 놓음.

직선 BD = $y = 3x$. 점 G x좌표 = $\frac{1}{4}$

직선 EC = $y = -x + 1$. 점 H x좌표 = $\frac{3}{5}$

직선 AF = $y = -2x + 3$

$\overrightarrow{BD} : \overrightarrow{GH} = 1 : (\frac{3}{5} - \frac{1}{4})$

$\Rightarrow \overrightarrow{GH} = \frac{7}{20} \overrightarrow{BD}$

★★★

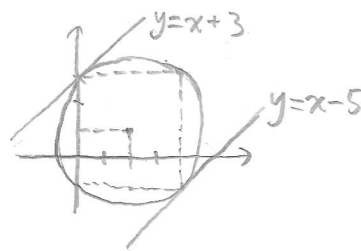
36p 실력 1 - 합이 0인 벡터 이해

원 $x^2 - 4x + y^2 - 2y - 3 = 0$ 위의 점 P와 직선 $y = x + k$ 위의 점 Q에 대하여 $|\overrightarrow{OP} + \overrightarrow{OQ}| = 0$ 을 만족시키는 두 점 P, Q가 존재하도록 하는 모든 정수 k 의 값의 합을 구하시오.

원: $(x-2)^2 + (y-1)^2 = 8$. $\rightarrow \overrightarrow{OQ} = -\overrightarrow{OP}$,
 Q는 P와 원점 대칭.

\Rightarrow Q가 $y = x + k$ 위 점이면
 P는 $y = x - k$ 위 점이다.

$\therefore (x-2)^2 + (y-1)^2 = 8$ 위에 있으면서
 $y = x - k$ 위에 있는 점 P가 존재해야 하므로
 원과 직선이 교점을 가져야 한다.



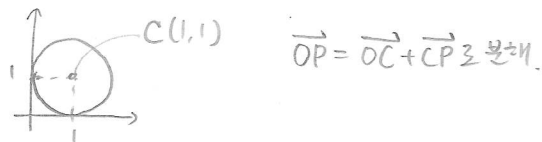
$\Rightarrow k = -3, -2, \dots, 4, 5$

합 = $4 + 5 = 9$

★★★


36p 실력 3 - 도형의 이동

좌표평면에 점 $A(2,0)$ 과 원 $(x-1)^2 + (y-1)^2 = 1$ 위의 점 P, 원 $x^2 + y^2 = 1$ 위의 점 Q가 있다. $|\overrightarrow{OA} + 3\overrightarrow{OP} + \overrightarrow{OQ}|$ 의 최댓값과 최솟값의 곱을 구하시오.



$|\overrightarrow{OA} + 3\overrightarrow{OC} + 3\overrightarrow{CP} + \overrightarrow{OQ}| = |(5,3) + 3\overrightarrow{CP} + \overrightarrow{OQ}|$

\overrightarrow{CP} 과 \overrightarrow{OQ} 는 모두 길이가 1이고 방향이 자유로운 벡터.



$(5,3)$ 과 같은 방향으로 4만큼 갔을 때 최댓값,
 반대 방향으로 4만큼 갔을 때 최솟값.

$|(5,3)| = \sqrt{34}$

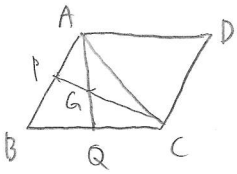
$\therefore (\sqrt{34} + 4) \cdot (\sqrt{34} - 4) = 18$

4. 평면벡터의 성분과 내적

★★

39p 유제 2 - 위치벡터

평행사변형 ABCD에서 삼각형 ABC의 무게중심을 G, 두 변 AB, BC의 중점을 각각 P, Q라 하자. $\vec{GP} = \vec{p}$, $\vec{GQ} = \vec{q}$ 라 할 때, $\vec{DA} = m\vec{p} + n\vec{q}$ 이다. 두 상수 m, n에 대하여 $10m+n$ 의 값을 구하시오.



$$\vec{DA} = \vec{CB} = 2\vec{CQ}$$

$$= 2(\vec{GQ} - \vec{GC})$$

$$\rightarrow \vec{GC} = -2\vec{GP} \cdot 1/2 = -\vec{p}$$

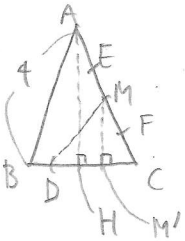
$$2\vec{GQ} + 4\vec{GP} = 4\vec{p} + 2\vec{q}$$

$$\therefore 10m+n = \boxed{42}$$

★★☆

45p 예제 4 - 벡터 2개 또는 중점

$\overline{AB} = \overline{AC} = 4$ 인 이등변삼각형 ABC에서 선분 BC를 1:3로 내분하는 점을 D라 하고, 선분 AC를 1:3과 3:1로 내분하는 점을 각각 E, F라 하자. $|\vec{DE} + \vec{DF}| = \sqrt{19}$ 일 때, $\vec{AB} \cdot \vec{AC}$ 의 값을 구하시오.



$$|\vec{DE} + \vec{DF}| = 2|\vec{DM}| = \sqrt{19}$$

$$\overline{AH} = a, \overline{BH} = \overline{DM} = b \text{라 하면}$$

$$a^2 + b^2 = 4^2$$

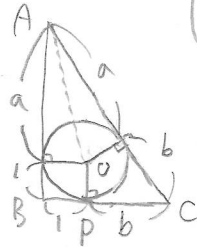
$$\left. \begin{aligned} a^2 + b^2 &= 4^2 \\ \left(\frac{a}{2}\right)^2 + b^2 &= \left(\frac{\sqrt{19}}{2}\right)^2 \end{aligned} \right\} \rightarrow a = \sqrt{15}, b = 1$$

$$\vec{AB} \cdot \vec{AC} = (-\sqrt{15}, -1) \cdot (-\sqrt{15}, 1) = \boxed{14}$$

★★☆

43p 예제 3 - 내적 기하적 의미

$\angle ABC = \frac{\pi}{2}$ 인 직각삼각형 ABC에 중심이 O이고 반지름이 1인 원이 내접할 때, 이 원이 선분 BC와 만나는 점을 P라 하자. $\vec{AO} \cdot \vec{AB} = 12$ 일 때, $\vec{AC} \cdot \vec{PC}$ 의 값을 구하시오.



$$a(a+1) = 12, a = 3$$

$$4^2 + (1+b)^2 = (3+b)^2 \rightarrow b = 2$$

$$\vec{AC} \cdot \vec{PC} = |\vec{BC}| \times |\vec{PC}| = 3 \cdot 2 = \boxed{6}$$

☆☆

46p 기본 3 - 식 정리

한 평면 위의 영벡터가 아닌 두 벡터 \vec{a}, \vec{b} 에 대하여 $\vec{a} \cdot \vec{b} = |\vec{a}|^2$, $|2\vec{a} + \vec{b}| = 4|\vec{a}|$ 이다. 두 벡터 \vec{a}, \vec{b} 가 이루는 각의 크기를 θ 라 할 때, $\cos\theta$ 의 값은? (단, $0 \leq \theta \leq \pi$)

- ① $\frac{\sqrt{2}}{8}$ ② $\frac{1}{4}$ ③ $\frac{\sqrt{2}}{4}$ ④ $\frac{1}{2}$ ⑤ $\frac{\sqrt{2}}{2}$

$$\text{제곱: } 4(|\vec{a}|^2 + 4\vec{a} \cdot \vec{b} + |\vec{b}|^2) = 16|\vec{a}|^2$$

$$|\vec{b}|^2 = 8|\vec{a}|^2, |\vec{b}| = 2\sqrt{2}|\vec{a}|$$

$$\vec{a} \cdot \vec{b} = |\vec{a}| |\vec{b}| \cos\theta = |\vec{a}|^2$$

$$\Rightarrow 2\sqrt{2} |\vec{a}|^2 \cos\theta = |\vec{a}|^2, \cos\theta = \frac{\sqrt{2}}{4}$$

★★★

48p 실력 1 - 내적 연산

좌표평면에서 중심이 0이고 반지름이 1인 원 위의 두 점 A, B에 대하여 $\vec{OA} = \vec{a}$, $\vec{OB} = \vec{b}$ 라 하면 $\vec{a} \cdot \vec{b} = \frac{1}{2}$ 이다.

두 자연수 m, n 에 대하여 두 벡터 $\vec{OP} = 2\vec{a} + \vec{b}$, $\vec{OQ} = m\vec{a} - n\vec{b}$ 가 다음 조건을 만족시킬 때, $m+n$ 의 최솟값을 구하시오.

- (가) $\vec{OP} \cdot \vec{OQ} = 0$
- (나) $|\vec{OQ}|^2 \geq 7$

$|\vec{a}| |\vec{b}| \cos \theta = \frac{1}{2} \rightarrow \theta = \frac{\pi}{3}$

(가) $\rightarrow 2m|\vec{a}|^2 + (m-2n)\vec{a} \cdot \vec{b} - n|\vec{b}|^2 = 0$
 $n = \frac{5}{4}m$

(나) $\rightarrow m^2|\vec{a}|^2 - 2mn\vec{a} \cdot \vec{b} + n^2|\vec{b}|^2$
 $= \frac{21}{16}m^2 \geq 7, m^2 \geq \frac{16}{3}$ \rightarrow 자연수 $m \geq 3$
 $\rightarrow 5.xx$

$n = \frac{5}{4}m$ 이 자연수여야 하므로 $m=4, n=5$. 9

★★★★☆

48p 실력 4 - 벡터 제곱, 평면곡선 접선

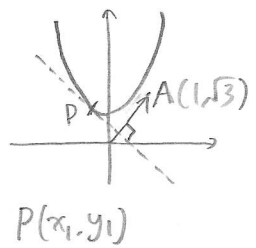
좌표평면에서 서로 수직인 두 벡터 \vec{a}, \vec{b} 가 $|\vec{a} + \vec{b}| = 3$, $|2\vec{a} + \vec{b}| = 3\sqrt{2}$ 를 만족시킬 때, $|x\vec{a} + \vec{b}| = y$ 가 되도록 하는 두 실수 x, y 에 대하여 점 (x, y) 가 나타내는 곡선을 C라 하자. 점 $A(1, \sqrt{3})$ 과 곡선 C 위의 점 $P(x, y)$ 에 대하여 $\vec{OA} \cdot \vec{OP}$ 의 최솟값을 구하시오.

$\vec{a} \cdot \vec{b} = 0$

① 제곱: $|\vec{a}|^2 + |\vec{b}|^2 = 9$

② 제곱: $4|\vec{a}|^2 + |\vec{b}|^2 = 18$

③ 제곱: $x^2|\vec{a}|^2 + |\vec{b}|^2 = y^2, \frac{x^2}{2} - \frac{y^2}{6} = -1 (y \geq 0)$



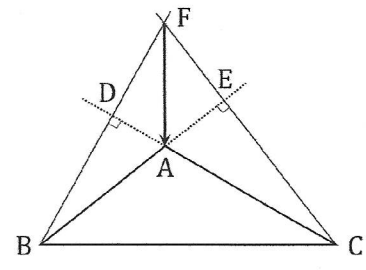
$\vec{OA} \cdot \vec{OP}$ 최솟값 때는 점 P에서의 접선
 직선 OA와 수직일 때.
 (* $\vec{OP} \cdot \vec{OA} = \vec{OH} \cdot \vec{OA}$
 \rightarrow 최소값이 됨)

분할법 이용: $x - \frac{y}{3} \frac{dy}{dx} = 0, \frac{dy}{dx} = \frac{3x_1}{y_1} = -\frac{1}{\sqrt{3}} (-\frac{1}{\sqrt{3}} \times \sqrt{3} = -1)$
 $y_1 = -3\sqrt{3}x_1 \rightarrow \frac{x_1^2}{2} - \frac{y_1^2}{6} = -1$ 대입. $x_1 = -\frac{1}{2}, y_1 = \frac{3\sqrt{3}}{2}$
 $\vec{OA} \cdot \vec{OP} = (1, \sqrt{3}) \cdot (-\frac{1}{2}, \frac{3\sqrt{3}}{2}) = 4$

★★★★★

48p 실력 2 - 두 벡터, 수직 이용

그림과 같이 $\overline{AB} = 2, \overline{AC} = 3, \overline{BC} = 4$ 인 삼각형 ABC가 있다. 점 B에서 직선 AC에 내린 수선의 발을 D, 점 C에서 직선 AB에 내린 수선의 발을 E라 하고 두 직선 BD와 CE가 만나는 점을 F라 하자. $\vec{FA} = k\vec{AB} + l\vec{AC}$ 일 때, <보기>에서 옳은 것만을 있는 대로 고른 것은?



- <보기>
- ㉠ $\vec{AB} \cdot \vec{AC} = -\frac{3}{2}$ 이다.
 - ㉡ $\vec{AB} \cdot \{k\vec{AB} + (l+1)\vec{AC}\} = 0$ 이다.
 - ㉢ $k = \frac{2}{3}$ 이다.

- ① ㉠
- ② ㉡
- ③ ㉠, ㉡
- ④ ㉡, ㉢
- ⑤ ㉠, ㉡, ㉢

㉠. $|\vec{BC}|^2 = |\vec{AC} - \vec{AB}|^2 = |\vec{AC}|^2 - 2\vec{AB} \cdot \vec{AC} + |\vec{AB}|^2$ 에서
 $16 = 9 - 2\vec{AB} \cdot \vec{AC} + 4, \vec{AB} \cdot \vec{AC} = -\frac{3}{2}$. (참)

㉡. $k\vec{AB} + (l+1)\vec{AC} = (k\vec{AB} + l\vec{AC}) + \vec{AC}$
 $= \vec{FA} + \vec{AC} = \vec{FC}$. $\vec{AB} \cdot \vec{FC} = 0$. (참)

㉢. (㉡)에서 $k|\vec{AB}|^2 + (l+1)\vec{AB} \cdot \vec{AC} = 0$,
 $4k - \frac{3}{2}(l+1) = 0$. (㉣)

한편 ' $\vec{AC} \cdot \vec{FB} = 0$ '도 (㉡)처럼 변형하면
 $\vec{AC} \cdot (\vec{FA} + \vec{AB}) = \vec{AC} \cdot \{(k+1)\vec{AB} + l\vec{AC}\} = 0$,
 $-\frac{3}{2}(k+1) + 9l = 0$. (㉤)

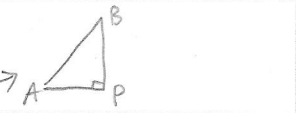
$\Rightarrow 6 \times$ ㉣ + ㉤을 하면 $24k - 9l - 9 - \frac{3}{2}k - \frac{3}{2} + 9l = 0$,
 $k = \frac{7}{15}$. (거짓)

5. 평면 곡선과 평면 운동

★★★

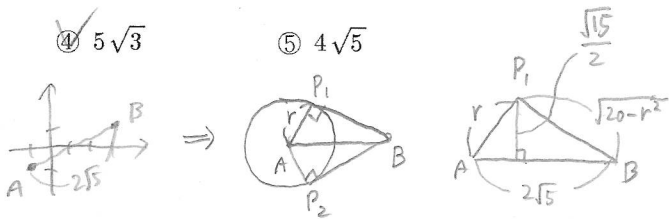
51p 예제 1 - 직선과 원 방정식

좌표평면 위의 두 점 $A(-1, -1)$, $B(3, 1)$ 에 대하여 다음 조건을 만족시키는 점 P 가 두 개 존재할 때, 그 두 점을 각각 P_1, P_2 라 하자. $\overline{P_1P_2} = \sqrt{15}$ 일 때, 가능한 모든 양수 r 의 값의 곱은?

(가) $|\overline{AP}| = r$
 (나) $\overline{AB} \cdot \overline{AP} = |\overline{AP}|^2 \rightarrow$ 

- ① $2\sqrt{15}$ ② 8 ③ $6\sqrt{2}$

- ④ $5\sqrt{3}$ ⑤ $4\sqrt{5}$



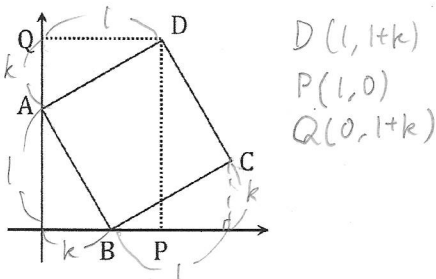
$$2\sqrt{5} \times \frac{\sqrt{15}}{2} = r \times \sqrt{20-r^2}, \quad r^4 - 20r^2 + 75 = 0$$

$$\therefore r = \sqrt{5} \text{ 또는 } r = \sqrt{15}, \quad \sqrt{5} \times \sqrt{15} = 5\sqrt{3}$$

★★

58p 실력 1 - 좌표, 수직 조건 복합

좌표평면에서 점 $A(0, 1)$, x 축 위의 점 B , 제1사분면 위의 두 점 C, D 에 대하여 사각형 $ABCD$ 가 정사각형이다. 점 D 에서 x 축에 내린 수선의 발을 P , y 축에 내린 수선의 발을 Q 라 하자. 직선 PQ 와 직선 BC 가 서로 수직일 때, 점 C 의 좌표는 (a, b) 이다. $(a+b)^2$ 의 값을 구하시오.



$$\begin{aligned} \overline{PQ} \cdot \overline{BC} &= (-l, 1+k) \cdot (l, k) \\ &= k^2 + k - l = 0, \quad k = \frac{-1+\sqrt{5}}{2} \end{aligned}$$

$$C(k+l, k) \Rightarrow (a+b)^2 = (2k+1)^2 = \boxed{5}$$

★★

55p 예제 3 - 점이 움직인 거리

좌표평면 위를 움직이는 점 P 의 시간 $t (t > 0)$ 에서의 위치 (x, y) 가

$$x = \sqrt{t}(t-3), \quad y = 3t-2$$

일 때, 점 P 의 y 좌표가 1에서 25까지 변하는 동안 점 P 가 움직인 거리를 구하시오.

$$\vec{v} \left(\frac{3}{2}\sqrt{t} - \frac{3}{2\sqrt{t}}, 3 \right)$$

$$\begin{aligned} &\rightarrow y=1 \text{ 일 때 } t=1 \\ &y=25 \text{ 일 때 } t=9 \end{aligned}$$

$$|\vec{v}| = \sqrt{\frac{9}{4}t - \frac{9}{4t} + 9} = \sqrt{\frac{9}{4}\left(\sqrt{t} + \frac{1}{\sqrt{t}}\right)^2} = \frac{3}{2}\sqrt{t} + \frac{3}{2\sqrt{t}}$$

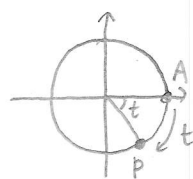
$$\int_1^9 \left(\frac{3}{2}\sqrt{t} + \frac{3}{2\sqrt{t}} \right) dt = \left[t\sqrt{t} + 3\sqrt{t} \right]_1^9 = \boxed{32}$$

★★★

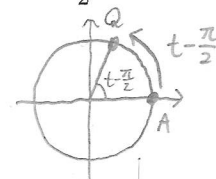
58p 실력 2 - 좌표 식 세우기

좌표평면 위에 원점 O 가 중심이고 반지름의 길이가 1인 원이 있다. 점 P 는 점 $A(1, 0)$ 을 출발하여 원 위를 시계 방향으로 매초 1만큼의 거리를 움직이고, 점 Q 는 점 P 보다 $\frac{\pi}{2}$ 초 후에 점 A 를 출발하여 원 위를 반시계 방향으로 매초 1만큼의 거리를 움직인다. 점 P 가 점 A 를 출발하여 $\frac{\pi}{2}$ 초 경과한 후부터 선분 PQ 의 중점을 R 라 할 때, 점 R 의 속력의 최댓값은?

- ① $\frac{1}{2}$ ② 1 ③ $\frac{3}{2}$ ④ 2 ⑤ $\frac{5}{2}$



t 초일 때 t 만큼 이동.
 $P(\cos t, -\sin t)$



t 초일 때 $t - \frac{\pi}{2}$ 만큼 이동.
 $Q(\cos(t - \frac{\pi}{2}), \sin(t - \frac{\pi}{2})) = (\sin t, -\cos t)$

$$R\left(\frac{\cos t + \sin t}{2}, \frac{-\sin t - \cos t}{2}\right), \quad \vec{v} \left(\frac{-\sin t + \cos t}{2}, \frac{-\cos t + \sin t}{2} \right)$$

$$|\vec{v}| = \sqrt{\frac{1}{2} - \sin t \cos t} = \sqrt{\frac{1}{2} - \frac{1}{2} \sin 2t} \leq \sqrt{\frac{1}{2} + \frac{1}{2}} = 1$$