

제 2 교시

수학 영역

5 지선 다형

1. $\log_8 16$ 의 값은? [2점]

- ① $\frac{7}{6}$ ② $\frac{4}{3}$ ③ $\frac{3}{2}$ ④ $\frac{5}{3}$ ⑤ $\frac{11}{6}$

$\log_8 16 = \log_{2^3} 2^4 = \frac{4}{3}$

2. 공차가 3인 등차수열 $\{a_n\}$ 에 대하여 $a_4 = 100$ 일 때, a_1 의 값은? [2점]

- ① 91 ② 93 ③ 95 ④ 97 ⑤ 99

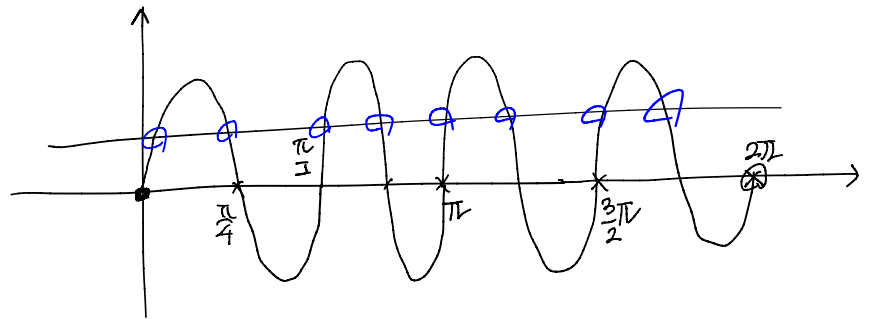
$a_n = a + 3(n-1)$

$a_4 = a + 3(4-1) = a + 9 = 100$

$\therefore a = 91$

3. $0 \leq x < 2\pi$ 일 때, 방정식 $\sin 4x = \frac{1}{2}$ 의 서로 다른 실근의 개수는? [3점]

- ① 2 ② 4 ③ 6 ④ 8 ⑤ 10

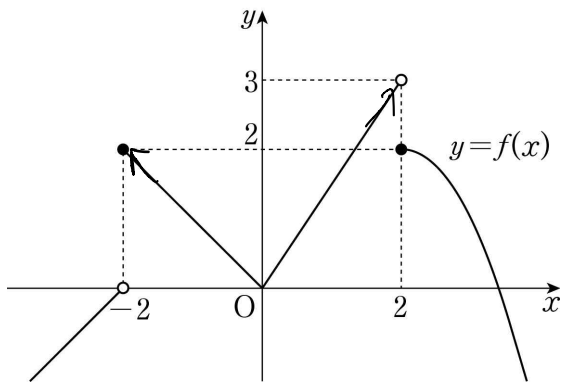


4. $\int_{-2}^{-1} (x^3 + 3x^2) dx$ 의 값은? [3점]

- ① -16 ② -8 ③ 0 ④ 8 ⑤ 16

$\int_{-2}^{-1} (x^3 + 3x^2) dx = \int_{-2}^{-1} x^3 dx + \int_{-2}^{-1} 3x^2 dx = \frac{1}{4}x^4 + x^3 \Big|_{-2}^{-1} = \left(\frac{1}{4} - 8\right) - \left(4 - 8\right) = -\frac{31}{4} + 4 = -\frac{19}{4}$

5. 함수 $y=f(x)$ 의 그래프가 그림과 같다.



$\lim_{x \rightarrow -2^+} f(x) + \lim_{x \rightarrow 2^-} f(x)$ 의 값은? [3점]

- ① 6 ② 5 ③ 4 ④ 3 ⑤ 2

6. 함수

$$f(x) = \begin{cases} \frac{x^2+ax+b}{x-3} & (x < 3) \\ \frac{2x+1}{x-2} & (x \geq 3) \end{cases}$$

이 실수 전체의 집합에서 연속일 때, $a-b$ 의 값은? (단, a, b 는 상수이다.) [3점]

- ① 9 ② 10 ③ 11 ④ 12 ⑤ 13

$x=3$ 에서 연속 $\Rightarrow \lim_{x \rightarrow 3^-} f(x) = f(3)$

$\lim_{x \rightarrow 3^+} \frac{2x+1}{x-2} = \frac{7}{1} = 7 = f(3)$

$\lim_{x \rightarrow 3^-} \frac{x^2+ax+b}{x-3} = 7$

분모가 0으로 가는데 극한값이 존재하므로 분자는 0으로 가야 한다.

$\lim_{x \rightarrow 3^-} (x^2+ax+b) = 0 \Rightarrow 9+3a+b=0$

$x^2+ax+b = g(x)$ 라 하면 $g(3)=0$ 이므로 다항식의 제곱식 의미 $\Rightarrow b = -12$

$\lim_{x \rightarrow 3^-} \frac{g(x)-g(3)}{x-3} = g'(3) = b+a = 7 \Rightarrow a = 1$

$\therefore a-b = 1+12 = 13$

7. 수열 $\{a_n\}$ 의 일반항이

$$a_n = \begin{cases} \frac{(n+1)^2}{2} & (n \text{이 홀수인 경우}) \\ \frac{n^2}{2} + n + 1 & (n \text{이 짝수인 경우}) \end{cases}$$

일 때, $\sum_{n=1}^{10} a_n$ 의 값은? [3점]

- ① 235 ② 240 ③ 245 ④ 250 ⑤ 255

Handwritten calculations for the sum of the sequence:

- $a_1 = \frac{4}{2}$
- $a_2 = \frac{4}{2} + 2 + 1 = 4 + 3 = 7$
- $a_3 = \frac{16}{2}$
- $a_4 = \frac{16}{2} + 4 + 1 = 8 + 5 = 13$
- $a_5 = \frac{36}{2}$
- $a_6 = \frac{36}{2} + 6 + 1 = 18 + 7 = 25$
- $a_7 = \frac{64}{2}$
- $a_8 = \frac{64}{2} + 8 + 1 = 32 + 9 = 41$
- $a_9 = \frac{100}{2}$
- $a_{10} = \frac{100}{2} + 10 + 1 = 50 + 11 = 61$

Partial sums shown on the right:

- 4
- 11
- 25
- 66
- 144
- 255

8. 곡선 $y = x^3 - 3x^2 - 9x$ 와 직선 $y = k$ 가 서로 다른 세 점에서 만나도록 하는 정수 k 의 최댓값을 M , 최솟값을 m 이라 할 때, $M - m$ 의 값은? [3점]

- ① 27 ② 28 ③ 29 ④ 30 ⑤ 31

$f'(x) = 3x^2 - 6x - 9 = 3(x^2 - 2x - 3) = 3(x-3)(x+1)$

 $-29 < k < 5$
 $M = 4, m = -26$
 $\therefore M - m = 4 - (-26) = 30$

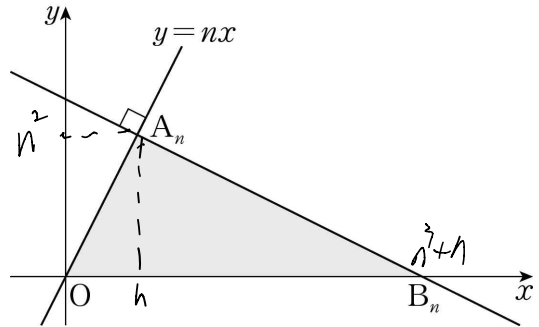
9. 최고차항의 계수가 -3 인 삼차함수 $y = f(x)$ 의 그래프 위의 점 $(2, f(2))$ 에서의 접선 $y = g(x)$ 가 곡선 $y = f(x)$ 와 원점에서 만난다. 곡선 $y = f(x)$ 와 직선 $y = g(x)$ 로 둘러싸인 도형의 넓이는? [4점]

- ① $\frac{7}{2}$ ② $\frac{15}{4}$ ③ 4 ④ $\frac{17}{4}$ ⑤ $\frac{9}{2}$

$f(x) - g(x) = -3(x-2)^2 x$
 $g(x) - f(x) = 3(x-2)^2 x$

 $\int_0^2 |g(x) - f(x)| dx$
 $= \int_0^2 3(x-2)^2 x dx$
 $= 3 \int_0^2 (x^2 - 4x + 4)x dx$
 $= 3 \left[\frac{x^4}{4} - 4 \frac{x^3}{3} + 2x^2 \right]_0^2$
 $= 3 \left(4 - \frac{32}{3} + 8 \right)$
 $= 12 - 32 + 24$
 $= 36 - 32$
 $= 4$

10. 자연수 n 에 대하여 점 $A_n(n, n^2)$ 을 지나고 직선 $y = nx$ 에 수직인 직선이 x 축과 만나는 점을 B_n 이라 하자.



다음은 삼각형 A_nOB_n 의 넓이를 S_n 이라 할 때, $\sum_{n=1}^8 \frac{S_n}{n^3}$ 의 값을 구하는 과정이다. (단, O 는 원점이다.)

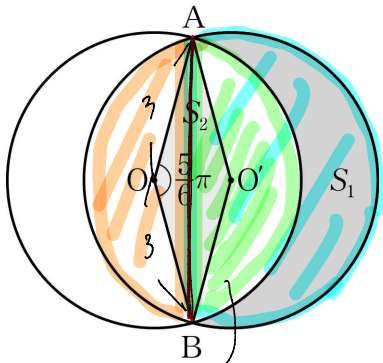
점 $A_n(n, n^2)$ 을 지나고 직선 $y = nx$ 에 수직인 직선의 방정식은 $y = \frac{1}{n}x + n^2 + 1$
 $0 = -\frac{1}{n}x + n^2 + 1 \Rightarrow \frac{1}{n}x = n^2 + 1 \Rightarrow x = n^2 + 1$
 이므로 두 점 A_n, B_n 의 좌표를 이용하여 S_n 을 구하면
 $S_n = \frac{1}{2} \times n^2 \times (n^2 + 1) = \frac{n^4 + n^3}{2}$
 따라서 $\sum_{n=1}^8 \frac{S_n}{n^3} = \frac{1}{2} \sum_{n=1}^8 \frac{n^4 + n^3}{n^3} = \frac{1}{2} \left(\sum_{n=1}^8 \frac{n^4}{n^3} + \sum_{n=1}^8 \frac{n^3}{n^3} \right) = \frac{1}{2} (102 + 8) = 55$
 이다.

위의 (가), (나)에 알맞은 식을 각각 $f(n), g(n)$ 이라 하고, (다)에 알맞은 수를 r 라 할 때, $f(1) + g(2) + r$ 의 값은? [4점]

- ① 105 ② 110 ③ 115 ④ 120 ⑤ 125

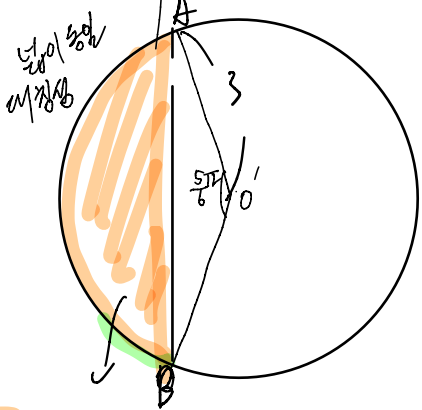
$= 1 + \frac{31+8}{2} + 106$
 $= 1 + 20 + 106$
 $= 127$

11. 그림과 같이 두 점 O, O'을 각각 중심으로 하고 반지름의 길이가 3인 두 원 O, O'이 한 평면 위에 있다. 두 원 O, O'이 만나는 점을 각각 A, B라 할 때, $\angle AOB = \frac{5}{6}\pi$ 이다.



원 O의 외부와 원 O'의 내부의 공통부분의 넓이를 S_1 , 마름모 AOBO'의 넓이를 S_2 라 할 때, $S_1 - S_2$ 의 값은? [4점]

- ① $\frac{5}{4}\pi$
- ② $\frac{4}{3}\pi$
- ③ $\frac{17}{12}\pi$
- ④ $\frac{3}{2}\pi$
- ⑤ $\frac{19}{12}\pi$



부채꼴 O'AB - 삼각형 O'AB

$$\frac{1}{2} \times 9 \times \frac{5}{6}\pi - \frac{1}{2} \times 9 \times \frac{8\pi \times \frac{5}{6}}{8\pi \times \frac{5}{6}}$$

$$= \frac{15}{4}\pi - \frac{9}{4}$$

넓이 차이 = 원 넓이 - 부채꼴 = $9\pi - (\frac{15}{4}\pi - \frac{9}{4})$

$$= \frac{21}{4}\pi + \frac{9}{4}$$

$S_1 =$ (넓이 차이) - (삼각형) = $(\frac{21}{4}\pi + \frac{9}{4}) - (\frac{9}{4})$

$$= \frac{21}{4}\pi + \frac{9}{4} - \frac{9}{4}$$

$$= \frac{21}{4}\pi$$

$S_2 = \Delta AOB \times 2 = (\frac{1}{2} \times 3^2 \times \sin \frac{5}{6}\pi) \times 2 = \frac{9}{2}$

$\therefore S_1 - S_2 = \frac{21}{4}\pi + \frac{9}{4} - \frac{9}{2} = \frac{3}{2}\pi$

12. 두 다항함수 $f(x), g(x)$ 가 다음 조건을 만족시킨다.

$$\begin{aligned} \text{(가)} \quad \lim_{x \rightarrow 1} \frac{f(x) - g(x)}{x - 1} &= 5 && \left. \begin{aligned} f(x) - g(x) &= 0 \Rightarrow f(x) = g(x) \\ f'(1) - g'(1) &= 5 \end{aligned} \right\} \rightarrow f'(1) = 6, g'(1) = 1 \\ \text{(나)} \quad \lim_{x \rightarrow 1} \frac{f(x) + g(x) - 2f(1)}{x - 1} &= 7 \Rightarrow f'(1) + g'(1) = 7 \end{aligned}$$

두 실수 a, b 에 대하여 $\lim_{x \rightarrow 1} \frac{f(x) - a}{x - 1} = b \times g(1)$ 일 때, ab 의

값은? [4점]

- ① 4
- ② 5
- ③ 6
- ④ 7
- ⑤ 8

원래 0/0 꼴이므로 극한이 존재하므로 분자 0으로 가야한다.

$$\lim_{x \rightarrow 1} (f(x) - a) = 0 \Rightarrow f(1) = a$$

$$\lim_{x \rightarrow 1} \frac{f(x) - f(1)}{x - 1} = f'(1) = b \times g(1) = b \times f(1) = ab$$

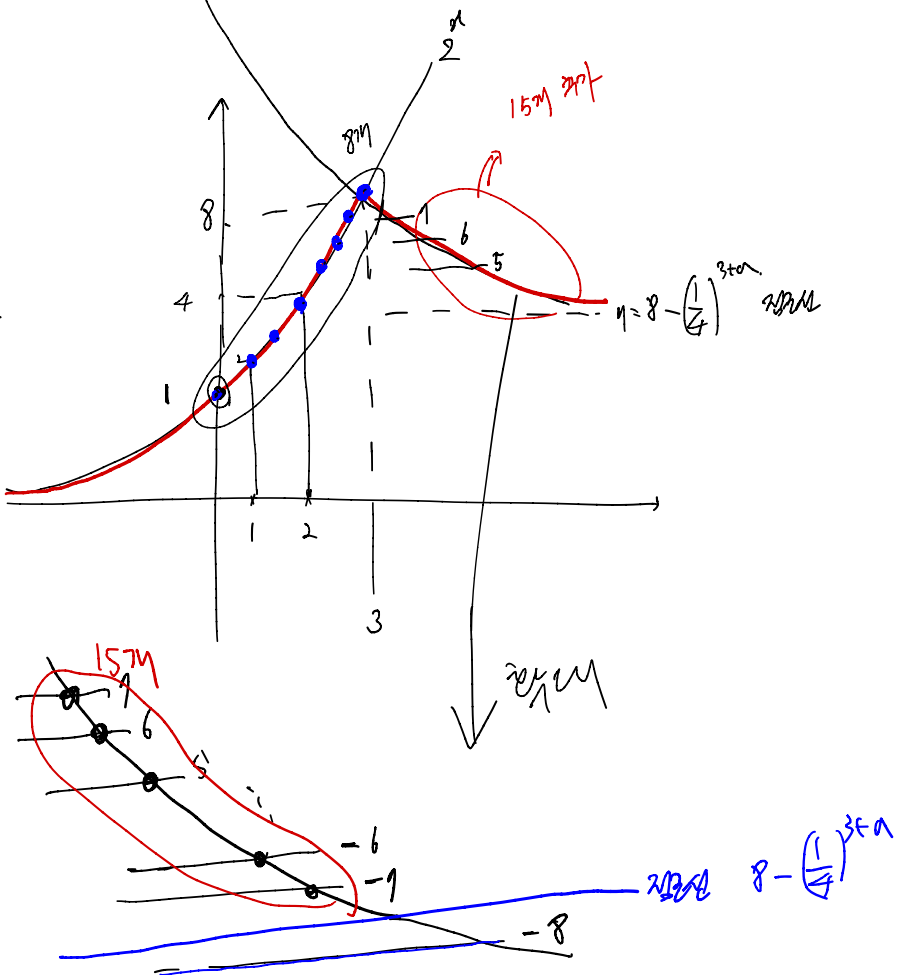
$\therefore ab = 6$

13. 함수

$$f(x) = \begin{cases} 2^x & (x < 3) \\ \left(\frac{1}{4}\right)^{x+a} - \left(\frac{1}{4}\right)^{3+a} + 8 & (x \geq 3) \end{cases} \quad \left(\frac{1}{4}\right)^{3+a} > 0$$

에 대하여 곡선 $y=f(x)$ 위의 점 중에서 y 좌표가 정수인 점의 개수가 23일 때, 정수 a 의 값은? [4점]

- ① -7 ② -6 ③ -5 ④ -4 ⑤ -3



Handwritten calculations for problem 13:

$$\begin{aligned} & \dots -8 \text{ 점의 개수!} \\ & \therefore -8 \text{의 개수} \\ & -8 < 8 - \left(\frac{1}{4}\right)^{3+a} < -9 \\ & = \\ & -16 \leq -\left(\frac{1}{4}\right)^{3+a} < -15 \\ & 15 < \left(\frac{1}{4}\right)^{3+a} \leq 16 \\ & 15 < \frac{1}{4^{3+a}} \leq 16 \\ & \therefore 3+a = 2 \\ & \therefore a = -5 \end{aligned}$$

14. 최고차항의 계수가 1인 삼차함수 $f(x)$ 에 대하여 함수 $g(x)$ 를

$$g(x) = f(x) + |f'(x)|$$

라 할 때, 두 함수 $f(x), g(x)$ 가 다음 조건을 만족시킨다.

- (가) $f(0) = g(0) = 0$
 (나) 방정식 $f(x) = 0$ 은 양의 실근을 갖는다.
 (다) 방정식 $|f(x)| = 4$ 의 서로 다른 실근의 개수는 3이다.

$g(3)$ 의 값은? [4점]

- ① 9 ② 10 ③ 11 ④ 12 ⑤ 13

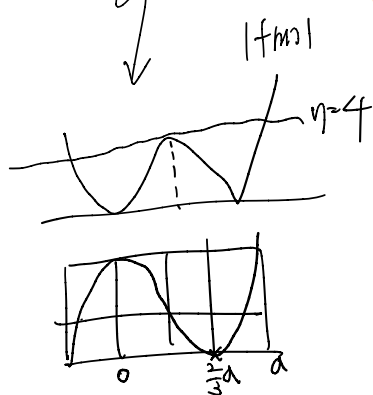
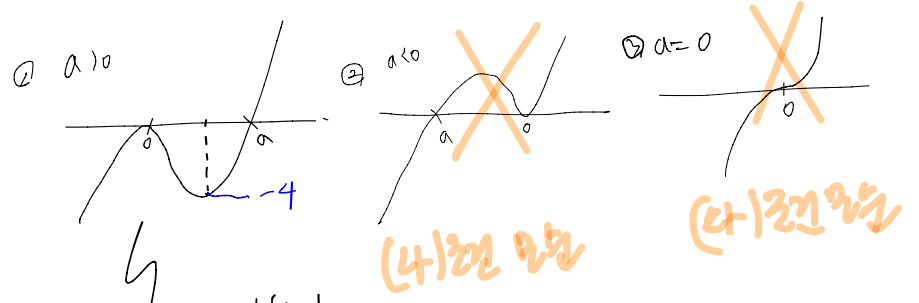
$$g(x) = f(x) + |f'(x)|$$

(가) $g(0) = f(0) + |f'(0)| \Rightarrow$

$$\begin{aligned} f'(0) &= 0 \\ f(0) &= 0 \end{aligned}$$

Handwritten note: $f(x)$ 는 x^2 을 인수로 가질.

$$f(x) = x^2(x-a)$$



$$\therefore f\left(\frac{2}{3}a\right) = -4$$

$$f(x) = x^2(x-a)$$

$$f\left(\frac{2}{3}a\right) = \frac{4}{9}a^2 \left(-\frac{a}{3}\right) = -4$$

$$\Rightarrow a^3 = 27 \Rightarrow a = 3$$

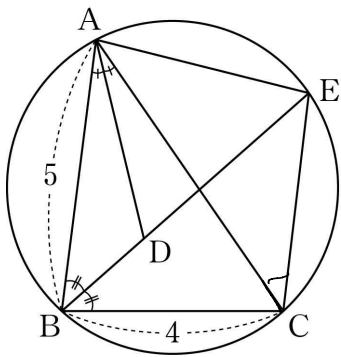
$$g(x) = x^2(x-3) + |3x(x-2)|$$

$$\therefore g(3) = |9 \times 1| = 9$$

6 ~~정답의 위치를 정확히 찾아주세요!!~~ **수학 영역**

15. 그림과 같이 $\overline{AB}=5$, $\overline{BC}=4$, $\cos(\angle ABC) = \frac{1}{8}$ 인 삼각형

ABC가 있다. $\angle ABC$ 의 이등분선과 $\angle CAB$ 의 이등분선이 만나는 점을 D, 선분 BD의 연장선과 삼각형 ABC의 외접원이 만나는 점을 E라 할 때, <보기>에서 옳은 것만을 있는 대로 고른 것은? [4점]



$\sin(\angle ABC) = \frac{3\sqrt{7}}{8}$

- < 보기 >
- ㉠. $\overline{AC}=6$
 - ㉡. $\overline{EA}=\overline{EC}$
 - ㉢. $\overline{ED}=\frac{31}{8}$

- ① ㉠ ② ㉠, ㉡ ③ ㉠, ㉢
 ④ ㉡, ㉢ ⑤ ㉠, ㉡, ㉢

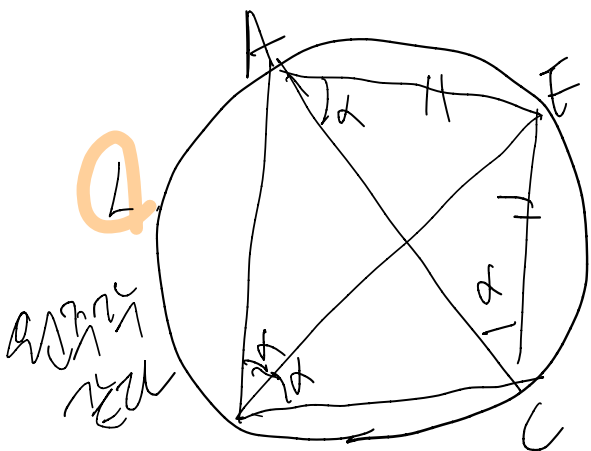
7. 삼각형 ABC에서 라일 방정식을 사용하면

$$\cos(\angle ABC) = \frac{16+25-(\overline{AC})^2}{2 \times 4 \times 5} = \frac{41-(\overline{AC})^2}{40} = \frac{1}{8}$$

$$41-(\overline{AC})^2 = 5$$

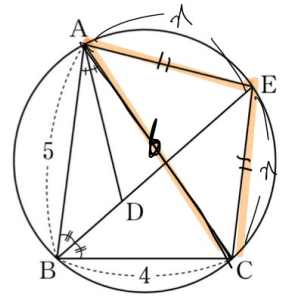
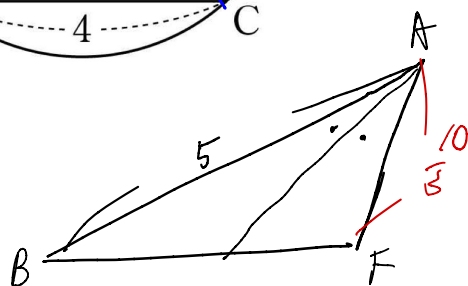
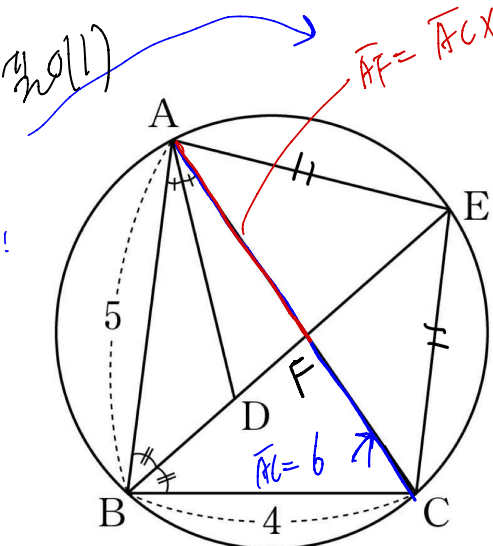
$$(\overline{AC})^2 = 36$$

$$\therefore \overline{AC} = 6$$



AEC는 이등변삼각형
 $\Rightarrow \overline{AE} = \overline{EC}$

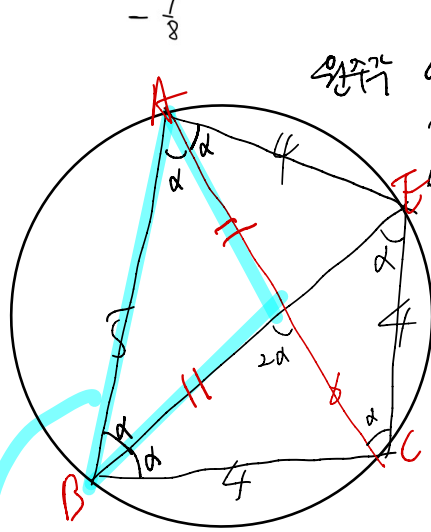
$\overline{AF} = \overline{AC} \times \frac{5}{9} = 6 \times \frac{5}{9} = \frac{10}{3}$



삼각형 AEC에서 라일 방정식

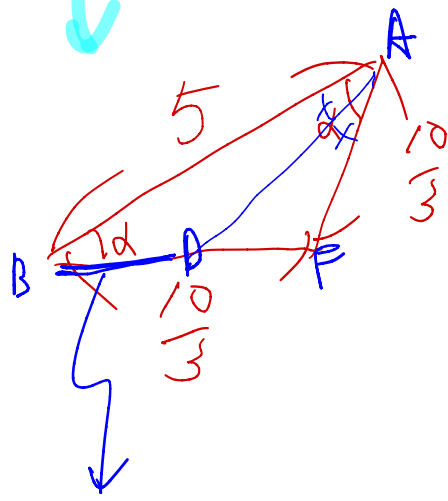
$$\cos(\angle AEC) = \frac{a^2+a^2-36}{2a^2} = \frac{2a^2-36}{2a^2} \Rightarrow a=4$$

$\cos(\angle AEC) = \cos(\pi - \angle ABC)$
 $= -\cos(\angle ABC) = -\frac{1}{8}$



삼각형 and 이등변삼각형은 이용하여
 $\angle EBC = \alpha$

$\triangle BCE$ and $\triangle AEC$ 는
 시뮬레이션이므로 $\overline{AC} = \overline{BE} = 6$

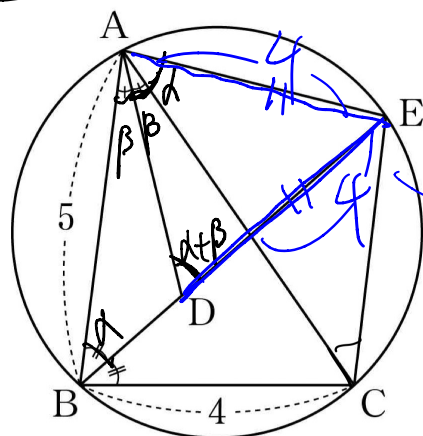


$$5 : \frac{10}{3} = 1 : \frac{2}{3} \Rightarrow 3 : 2$$

$$\frac{10}{3} \times \frac{3}{5} = 2$$

$$\therefore \overline{ED} = \overline{BE} - \overline{BD} = 6 - 2 = 4$$

정답(2)



단답형

$$f'(x) = 4x + 5, \quad g'(x) = 3x^2$$

16. 두 함수 $f(x) = 2x^2 + 5x + 3$, $g(x) = x^3 + 2$ 에 대하여 함수 $f(x)g(x)$ 의 $x=0$ 에서의 미분계수를 구하시오. [3점]

$$f'(x)g(x) + f(x)g'(x)$$

$$f'(0)g(0) + f(0)g'(0)$$

$$\begin{matrix} \text{h} & \text{h} & \text{h} & \text{h} \\ 5 & 2 & 3 & 0 \end{matrix}$$

$$10$$

17. 모든 실수 x 에 대하여 이차부등식

$$3x^2 - 2(\log_2 n)x + \log_2 n > 0$$

이 성립하도록 하는 자연수 n 의 개수를 구하시오. [3점]

변수

$$\frac{b}{4} \quad \frac{(\log_2 n)^2}{4} - 3(\log_2 n) < 0$$

$$\frac{\log_2 n}{4} (\log_2 n - 3) < 0$$

$$\frac{1}{4} (x-3) < 0 \Rightarrow 0 < x < 3$$

$$0 < \log_2 n < 3$$

$$2^1 < 2^n < 2^8$$

$$1 < n < 8 \Rightarrow n = 2, 3, 4, 5, 6, 7$$

$$6$$

18. 실수 전체의 집합에서 미분가능한 함수 $F(x)$ 의 도함수 $f(x)$ 가

$$F'(x) = f(x) = \begin{cases} -2x & (x < 0) \\ k(2x - x^2) & (x \geq 0) \end{cases}$$

이다. $F(2) - F(-3) = 21$ 일 때, 상수 k 의 값을 구하시오. [3점]

$$F'(x) = \begin{cases} -2x & (x < 0) \\ -kx^2 + 2kx & (x \geq 0) \end{cases}$$

$$F(x) = \begin{cases} -x^2 + a & (x < 0) \\ -\frac{k}{3}x^3 + kx^2 + b & (x \geq 0) \end{cases}$$

$x=0$ 에서 연속 $\Rightarrow a=b$

$$F(2) = -\frac{8k}{3} + 4k + b = \frac{4}{3}k + a$$

$$F(-3) = -9 + a$$

$$F(2) - F(-3) = \frac{4}{3}k + 9 = 21$$

$$\therefore k = 9$$

19. 수열 $\{a_n\}$ 의 첫째항부터 제 n 항까지의 합을 (S_n) 이라 하자. $a_1 = 2, a_2 = 4$ 이고 2 이상의 모든 자연수 n 에 대하여

이 성립할 때, S_5 의 값을 구하시오. [3점] $a_1 = 2, a_2 = 4, a_3 = 12, a_4 = 36, a_5 = ?$

$$n=2 \text{ 때 } a_3 S_2 = a_2 S_3$$

$$= a_2 (S_2 + a_3)$$

$$6a_3 = 4(6 + a_3) \Rightarrow a_3 = 12$$

$$n=3 \text{ 때 } a_4 S_3 = a_3 S_4$$

$$= a_3 (S_3 + a_4)$$

$$18a_4 = 12(18 + a_4) \Rightarrow a_4 = 36$$

$$n=4 \text{ 때 } a_5 S_4 = a_4 S_5$$

$$= a_4 (S_4 + a_5)$$

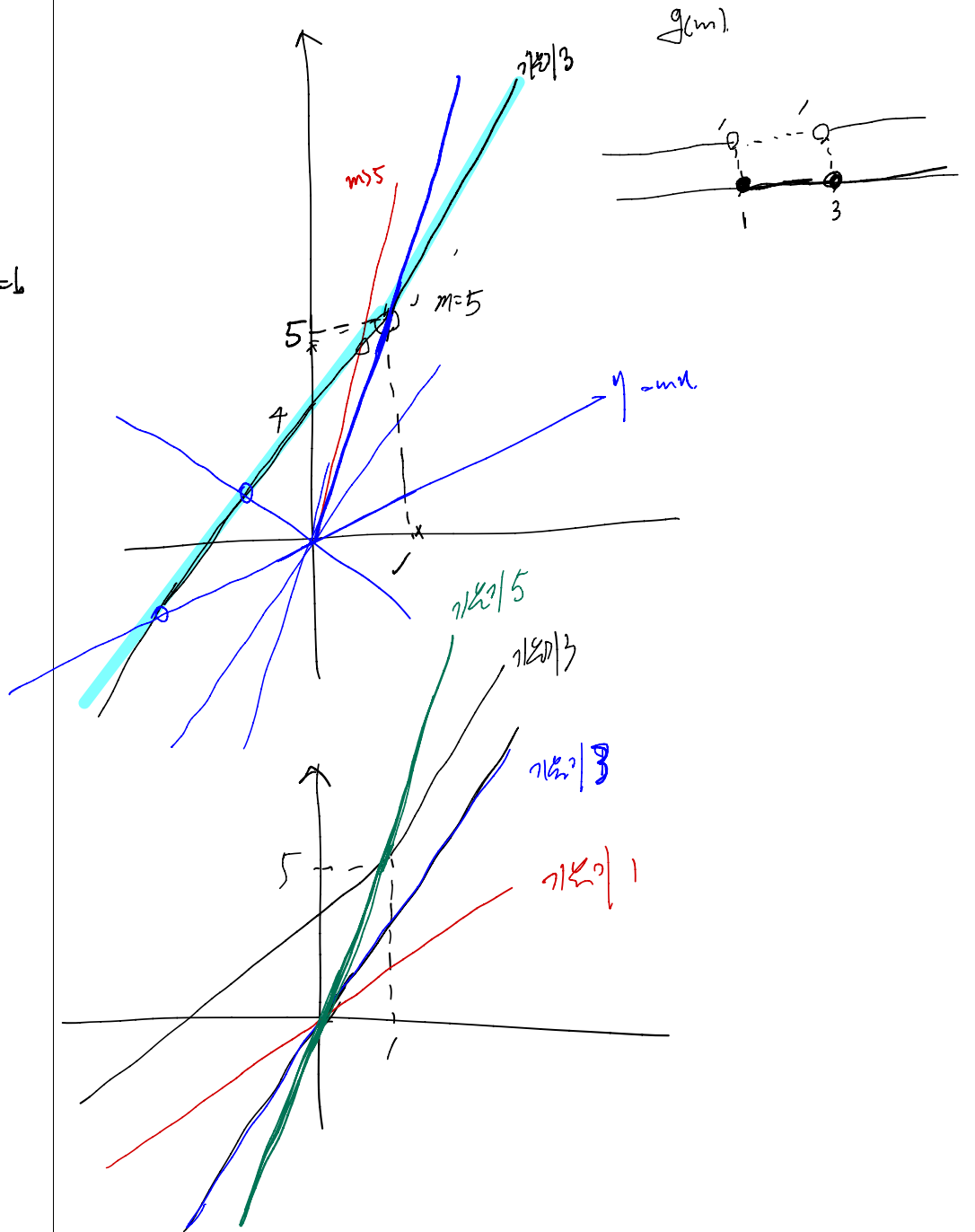
$$54a_5 = 36(54 + a_5) \Rightarrow a_5 = 108$$

$$\therefore S_5 = S_4 + a_5 = 54 + 108 = 162$$

20. 실수 m 에 대하여 직선 $y = mx$ 와 함수

$$f(x) = 2x + 3 + |x - 1|$$

의 그래프의 교점의 개수를 $g(m)$ 이라 하자. 최고차항의 계수가 1인 이차함수 $h(x)$ 에 대하여 함수 $g(x)h(x)$ 가 실수 전체의 집합에서 연속일 때, $h(5)$ 의 값을 구하시오. [4점]



	$g(x)$	$h(x)$	
1+	0	$h(1)$	0
1-	1	$h(1)$	$h(1)$
1	0		0
3+	1	$h(3)$	$h(3)$
3-	0		0
3	0		0

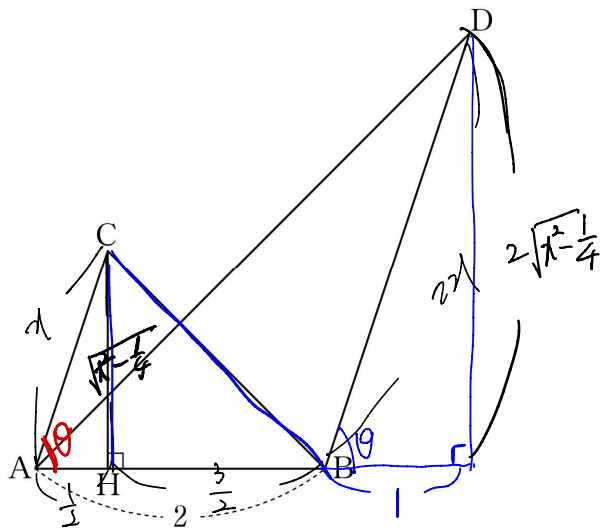
$\Rightarrow h(1) = 0$
 $\Rightarrow h(3) = 0$

$$h(x) = (x - 1)(x - 3)$$

$$\therefore h(5) = 4 \times 2 = 8$$

21. 그림과 같이 $\overline{AB}=2$, $\overline{AC} \parallel \overline{BD}$, $\overline{AC}:\overline{BD}=1:2$ 인 두 삼각형 ABC, ABD가 있다. 점 C에서 선분 AB에 내린 수선의 발 H는 선분 AB를 1:3으로 내분한다.

$\overline{AC}=1$



$\angle CAB = \theta$

두 삼각형 ABC, ABD의 외접원의 반지름의 길이를 각각 r , R 라 할 때, $4(R^2 - r^2) \times \sin^2(\angle CAB) = 51$ 이다. \overline{AC}^2 의 값을 구하시오. (단, $\angle CAB < \frac{\pi}{2}$) [4점]

$$\overline{BC} = \sqrt{x^2 - \frac{1}{4} + 9} = \sqrt{x^2 + 2}$$

$$\overline{AD} = \sqrt{4x^2 - 1 + 9} = \sqrt{4x^2 + 8}$$

$\triangle ABC$ 의 외접원

$$\frac{\overline{BC}}{\sin(\angle CAB)} = 2r \Rightarrow 2r = \frac{\sqrt{x^2 + 2}}{\sin \theta} \Rightarrow 4r^2 = \frac{x^2 + 2}{\sin^2 \theta}$$

$\triangle ABD$ 의 외접원

$$\frac{\overline{AD}}{\sin(\angle ABD)} = 2R \Rightarrow 2R = \frac{\sqrt{4x^2 + 8}}{\sin(\pi - \theta)} = \frac{\sqrt{4x^2 + 8}}{\sin \theta} \Rightarrow 4R^2 = \frac{4x^2 + 8}{\sin^2 \theta}$$

$$4(R^2 - r^2) = \frac{4x^2 + 8 - x^2 - 2}{\sin^2 \theta} = \frac{3x^2 + 6}{\sin^2 \theta}$$

$$\sin^2(\angle CAB) = \sin^2 \theta$$

$$4(R^2 - r^2) \sin^2(\angle CAB) = \frac{3x^2 + 6}{\sin^2 \theta} \times \sin^2 \theta = 3x^2 + 6 = 51$$

$$3x^2 = 45$$

$$x^2 = 15$$

15

22. 양수 a 와 일차함수 $f(x)$ 에 대하여 실수 전체의 집합에서 정의된 함수

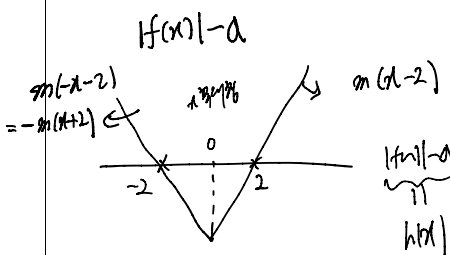
$$g(x) = \int_0^x (t^2 - 4) \{|f(t)| - a\} dt \Rightarrow \begin{cases} g(0) = 0 \\ g'(x) = (x^2 - 4) \{|f(x)| - a\} = (x-2)(x+2) \{|f(x)| - a\} \end{cases}$$

가 다음 조건을 만족시킨다.

(가) 함수 $g(x)$ 는 극값을 갖지 않는다.

(나) $g(2) = 5$

$g(0) - g(-4)$ 의 값을 구하시오. [4점]



$$g(x) = \int_0^x (t^2 - 4) h(t) dt$$

$$= \int_0^2 (t^2 - 4) m(t-2) dt = m \int_0^2 (t^3 - 2t^2 - 4t + 8) dt$$

$$= m \left[\frac{t^4}{4} - \frac{2t^3}{3} - 2t^2 + 8t \right]_0^2$$

$$= m \left(4 - \frac{16}{3} - 8 + 16 \right) = m \left(11 - \frac{16}{3} \right) = \frac{17}{3} m = 5 \Rightarrow m = \frac{3}{4}$$

$$g(4) = \int_0^4 (t^2 - 4) h(t) dt = \frac{3}{4} \left[\frac{t^4}{4} - \frac{2t^3}{3} - 2t^2 + 8t \right]_0^4$$

$$= \frac{3}{4} \left(64 - \frac{128}{3} - 32 + 32 \right) = \frac{3}{4} \left(\frac{192 - 128}{3} \right) = \frac{3}{4} \times \frac{64}{3} = 16$$

16

제 2 교시

수학 영역(확률과 통계)

5 지선 다형

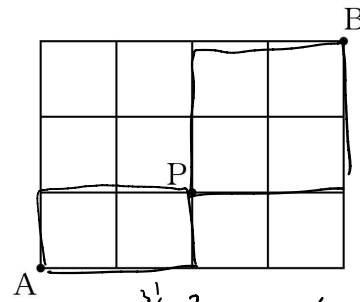
23. ${}_3H_6$ 의 값은? [2점]

- ① 24 ② 26 ③ 28 ④ 30 ⑤ 32

$${}_3H_6 = {}_8C_6 = {}_8C_2$$

$$\frac{8 \times 7}{2} = 28$$

24. 그림과 같이 직사각형 모양으로 연결된 도로망이 있다. 이 도로망을 따라 A 지점에서 출발하여 P 지점을 지나 B 지점까지 최단거리로 가는 경우의 수는? [3점]



- ① 12 ② 14 ③ 16 ④ 18 ⑤ 20


$$\frac{4!}{2!1!} = \frac{24}{2} = 6$$

$$\frac{3!}{2!1!} = 3$$

$$3 \times 6 = 18$$

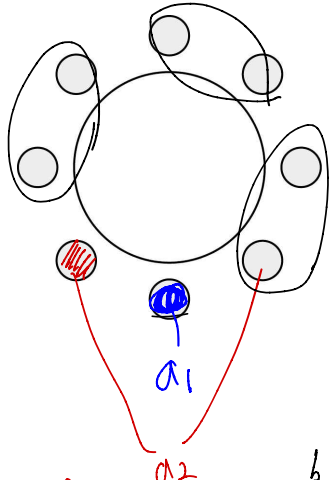
25. 어느 고등학교 3학년의 네 학급에서 대표 2명씩 모두 8명의 학생이 참석하는 회의를 한다. 이 8명의 학생이 일정한 간격을 두고 원 모양의 탁자에 모두 둘러앉을 때, 같은 학급 학생끼리 서로 이웃하게 되는 경우의 수는? (단, 회전하여 일치하는 것은 같은 것으로 본다.) [3점]

- ① 92 ② 96 ③ 100 ④ 104 ⑤ 108



 a, b, c, d

 $a_1, a_1 \quad b_1, b_2 \quad c_1, c_2 \quad d_1, d_2$



a_1 2가지
 \downarrow
 1가지 X 2가지 X

$b_1, b_2 / c_1, c_2 / d_1, d_2$
 b, c d 각각 2가지
 각각 2가지
 $3! \times 2^3$

$= 1 \times 2 \times 6 \times 8 = 96$


26. 같은 종류의 연필 6자루와 같은 종류의 지우개 5개를 세 명의 학생에게 남김없이 나누어 주려고 한다. 각 학생이 적어도 한 자루의 연필을 받도록 나누어 주는 경우의 수는? (단, 지우개를 받지 못하는 학생이 있을 수 있다.) [3점]

- ① 210 ② 220 ③ 230 ④ 240 ⑤ 250

연필
 $A \geq 1$
 $B \geq 1$
 $C \geq 1$
 $A+B+C = 6$
 $A'+B'+C' = 3$
 $X+Y+Z = 5$
 ${}^3H_3 \times {}^3H_5 = 210$
 ${}^3+3-1C_3$
 5C_3
 10
 ${}^3+5-1C_5$
 7C_2
 7C_3
 7C_2

27. 숫자 1, 2, 3, 3, 4, 4, 4가 하나씩 적힌 7장의 카드를 모두 한 번씩 사용하여 일렬로 나열할 때, 1이 적힌 카드와 2가 적힌 카드 사이에 두 장 이상의 카드가 있도록 나열하는 경우의 수는? [3점]

- ① 180 ② 185 ③ 190 ④ 195 ⑤ 200



7! / (2! * 3!) = 420
 2! * 3! = 420
 2! * 3! = 420
 2! * 3! = 420

i) (1 2) 3 3 4 4 4 ⇒ $\frac{6!}{2! \cdot 3!} \times 2! = 120$
 ii) 1 2 3 3 4 4 4 ⇒ $\frac{5!}{3!} \times 2! = 40$
 1 3 2 3 4 4 4 ⇒ $\frac{5!}{2! \cdot 2!} \times 2! = 60$
 ⇒ 100

420 - (120 + 100) = 200

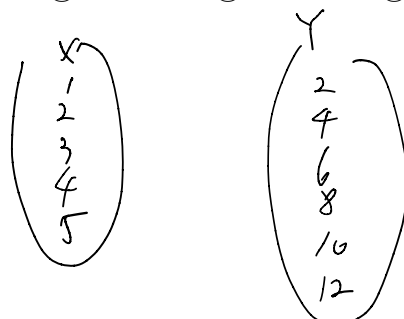
28. 두 집합

$X = \{1, 2, 3, 4, 5\}$, $Y = \{2, 4, 6, 8, 10, 12\}$

에 대하여 X 에서 Y 로의 함수 f 중에서 다음 조건을 만족시키는 함수의 개수는? [4점]

- (가) $f(2) < f(3) < f(4)$
 (나) $f(1) > f(3) > f(5)$

- ① 100 ② 102 ③ 104 ④ 106 ⑤ 108



함수 개수
 Case 1

$f(2) = 4$
 $2 < 4 < 12$

$f(2) + f(3) + f(4) + f(5)$
 $1 \times 1 \times 4 \times 4 = 16$

$2 \cdot 4 < 6 < 8 < 10 < 12 \Rightarrow 2 \times 2 \times 3 \times 3 = 36$

$2 < 4 < 8 < 10 < 12 \Rightarrow 3 \times 3 \times 2 \times 2 = 36$

$2 < 4 < 10 < 12 \Rightarrow 4 \times 4 \times 1 \times 2 = 16$

104

단답형

29. 5 이하의 자연수 a, b, c, d 에 대하여 부등식

$$a \leq b+1 \leq c \leq d$$

를 만족시키는 모든 순서쌍 (a, b, c, d) 의 개수를 구하시오.

[4점]

$b=1 \Rightarrow a \leq 2 \leq c \leq d$ (2, 3, 4, 5)
 \downarrow 4개씩 $\Rightarrow 2 \times 4!_2 = 20$
 2개씩

$b=2 \Rightarrow a \leq 3 \leq c \leq d$ (3, 4, 5)
 \downarrow 3개씩 $\Rightarrow 3 \times 3!_2 = 18$
 3개씩

$b=3 \Rightarrow a \leq 4 \leq c \leq d$ (4, 5)
 \downarrow 4개씩 $\Rightarrow 4 \times 2!_2 = 12$
 4개씩

$b=4 \Rightarrow a \leq 5 \leq c \leq d$ (5)
 \downarrow 5개씩 $\Rightarrow 5 \times 1! = 5$
 5개씩

$20 + 18 + 12 + 5 = 55$
 30

30. 숫자 1, 2, 3, 4 중에서 중복을 허락하여 네 개를 선택한 후 일렬로 나열할 때, 다음 조건을 만족시키도록 나열하는 경우의 수를 구하시오. [4점]

- (가) 숫자 1은 한 번 이상 나온다.
- (나) 이웃한 두 수의 차는 모두 2 이하이다.

숫자의 개수를 순서대로
 1, 4, 0, 0, 0

1, 4, 0, 0, 0 = 18
 0, 1, 0, 0, 0 = 12
 0, 0, 1, 0, 0 = 12
 0, 0, 0, 1, 0 = 12
 0, 0, 0, 0, 1 = 12
 1, 3, 0, 0, 0 = 6
 1, 2, 0, 0, 0 = 4
 1, 0, 2, 0, 0 = 4
 1, 0, 0, 2, 0 = 4
 1, 0, 0, 0, 2 = 4
 0, 1, 0, 0, 1 = 6
 0, 1, 0, 1, 0 = 2
 0, 1, 1, 0, 0 = 2
 0, 0, 1, 0, 1 = 2
 0, 0, 1, 1, 0 = 2

$60 + 28 + 8 + 1 = 97$
 37, 9

$1, 1, 1, 1 \Rightarrow 1$ 개씩

* 확인 사항
 ○ 답안지의 해당란에 필요한 내용을 정확히 기입(표기)했는지 확인하시오.

제 2 교시

수학 영역(미적분)

5 지선 다형

23. $\lim_{n \rightarrow \infty} \frac{10n^3 - 1}{(n+2)(2n^2+3)}$ 의 값은? [2점]

- ① 1 ② 2 ③ 3 ④ 4 ⑤ 5

$$\frac{10n^3}{2n^3}$$

24. 수열 $\{a_n\}$ 의 일반항이

$$a_n = \left(\frac{x^2 - 4x}{5} \right)^n$$

일 때, 수열 $\{a_n\}$ 이 수렴하도록 하는 모든 정수 x 의 개수는? [3점]

- ① 7 ② 8 ③ 9 ④ 10 ⑤ 11

$$-1 < \frac{x^2 - 4x}{5} \leq 1$$

$$\frac{-5 < x^2 - 4x \leq 5}{\sum}$$

$$\frac{x^2 - 4x + 5 > 0}{\downarrow \text{판별식}} \\ 4 - 5 < 0 \quad \text{성립}$$

$$\begin{aligned} x^2 - 4x - 5 \leq 0 \\ (x-5)(x+1) \leq 0 \end{aligned}$$

$$-1 \leq x \leq 5$$

-1, 0, 1, 2, 3, 4, 5

25. 모든 항이 양수인 수열 $\{a_n\}$ 이 모든 자연수 n 에 대하여

$a_{n+1} = a_1 a_n$ 공비 a_1 인 등비수열
 을 만족시킨다. $\lim_{n \rightarrow \infty} \frac{3a_{n+3} - 5}{2a_n + 1} = 12$ 일 때, a_1 의 값은? [3점]

- ① $\frac{1}{2}$ ② 1 ③ $\frac{3}{2}$ ④ 2 ⑤ $\frac{5}{2}$

$a_2 = a_1 a_1$ $a_1 = r$
 $a_3 = a_1^2$ $a_n = r^n$
 $a_{n+3} = r^{n+3}$

$\lim_{n \rightarrow \infty} \frac{3 \cdot r^{n+3} - 5}{2r^n + 1} = 12$ 3항
 $0 < r < 1 \Rightarrow -5$
 $r = 1 \Rightarrow \frac{-2}{3}$
 $r > 1 \Rightarrow \frac{3 \cdot r^3}{2} = 12$
 $r^3 = \frac{1 \cdot 2}{3} = 8$
 $r = 2$
 $\therefore a_1 = 2$

26. 수열 $\{a_n\}$ 이 모든 자연수 n 에 대하여

$2n^2 - 3 < a_n < 2n^2 + 4$

를 만족시킨다. 수열 $\{a_n\}$ 의 첫째항부터 제 n 항까지의 합을 S_n 이라 할 때, $\lim_{n \rightarrow \infty} \frac{S_n}{n^3}$ 의 값은? [3점]

- ① $\frac{1}{2}$ ② $\frac{2}{3}$ ③ $\frac{5}{6}$ ④ 1 ⑤ $\frac{7}{6}$

$2k^2 - 3 < a_k < 2k^2 + 4$

$2 \cdot 1^2 - 3 < a_1 < 2 \cdot 1^2 + 4$
 $2 \cdot 2^2 - 3 < a_2 < 2 \cdot 2^2 + 4$
 \vdots

④ $2n^2 - 3 < a_n < 2n^2 + 4$
 $\sum_{k=1}^n (2k^2 - 3) < \sum_{k=1}^n a_k < \sum_{k=1}^n (2k^2 + 4)$
 $\frac{n(n+1)(2n+1)}{3} - 3n < S_n < \frac{n(n+1)(2n+1)}{3} + 4n$
 $\lim_{n \rightarrow \infty} \frac{\frac{n(n+1)(2n+1)}{3} - 3n}{n^3} < \lim_{n \rightarrow \infty} \frac{S_n}{n^3} < \lim_{n \rightarrow \infty} \frac{\frac{n(n+1)(2n+1)}{3} + 4n}{n^3}$
 $\frac{2}{3} < \lim_{n \rightarrow \infty} \frac{S_n}{n^3} < \frac{2}{3}$
 $\therefore \lim_{n \rightarrow \infty} \frac{S_n}{n^3} = \frac{2}{3}$

27. 수열 $\{a_n\}$ 이 모든 자연수 n 에 대하여

$$\sum_{k=1}^n \frac{a_k}{(k-1)!} = \frac{3}{(n+2)!} \rightarrow \frac{a_1}{1} = \frac{3}{2!} = \frac{3}{2}$$

을 만족시킨다. $\lim_{n \rightarrow \infty} (a_1 + n^2 a_n)$ 의 값은? [3점]

- ① $-\frac{7}{2}$ ② -3 ③ $-\frac{5}{2}$ ④ -2 ⑤ $-\frac{3}{2}$

$$\frac{3}{(n+2)!} - \frac{3}{(n+1)!} = \frac{a_n}{(n-1)!} \quad (n \geq 2)$$

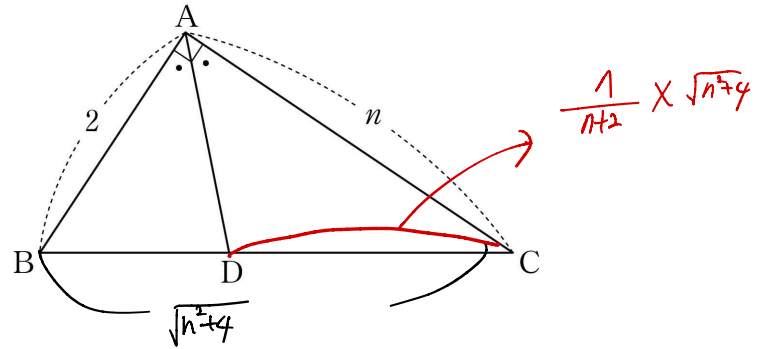
$$a_n = \frac{3}{(n+2)(n+1)n} - \frac{3}{(n+1)n}$$

$$n^2 a_n = \frac{3n^2}{(n+2)(n+1)n} - \frac{3n^2}{n^2+n}$$

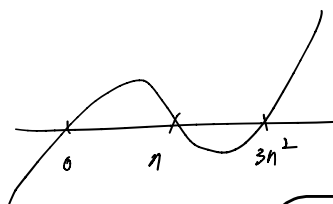
$$\lim_{n \rightarrow \infty} \left(\frac{1}{2} + \frac{3n^2}{(n+2)(n+1)n} - \frac{3n^2}{n^2+n} \right) = \frac{1}{2} - 3 = -\frac{5}{2}$$

28. 자연수 n 에 대하여 $\angle A = 90^\circ$, $\overline{AB} = 2$, $\overline{CA} = n$ 인 삼각형 ABC에서 $\angle A$ 의 이등분선이 선분 BC와 만나는 점을 D라 하자. 선분 CD의 길이를 a_n 이라 할 때, $\lim_{n \rightarrow \infty} (n - a_n)$ 의 값은? [4점]

- ① 1 ② $\sqrt{2}$ ③ 2 ④ $2\sqrt{2}$ ⑤ 4

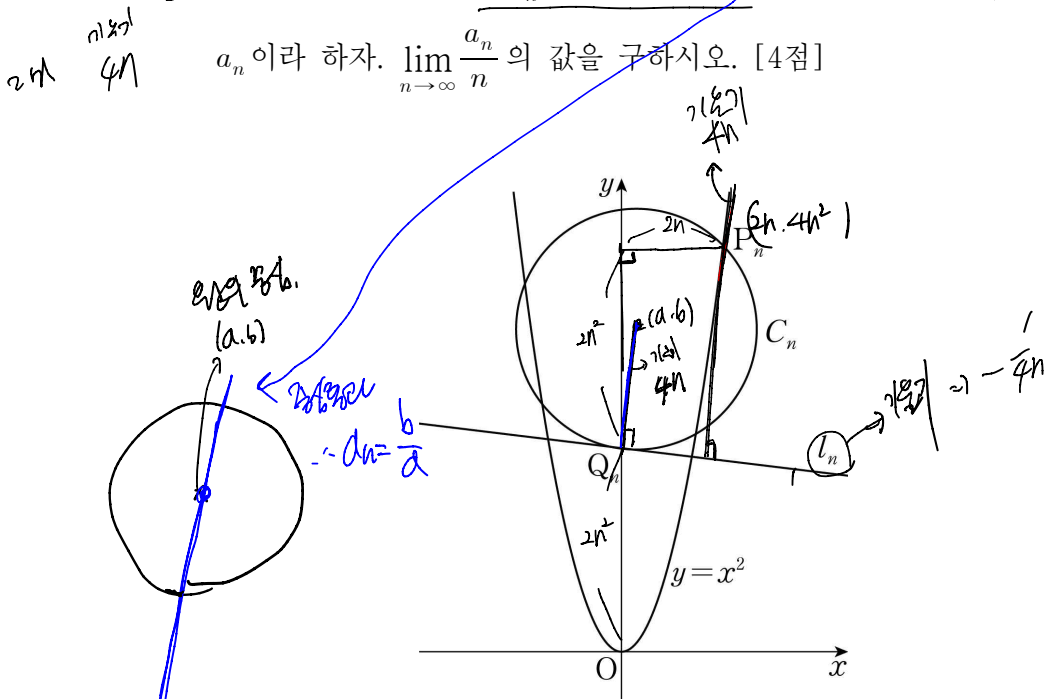


$$\begin{aligned} \lim_{n \rightarrow \infty} (n - a_n) &= \lim_{n \rightarrow \infty} \left(n - \frac{n\sqrt{n^2+4}}{n+2} \right) \\ &= \lim_{n \rightarrow \infty} n \left(1 - \frac{\sqrt{n^2+4}}{n+2} \right) \\ &= \lim_{n \rightarrow \infty} n \left(\frac{n+2 - \sqrt{n^2+4}}{n+2} \right) \\ &= \lim_{n \rightarrow \infty} n \left(\frac{(n+2)^2 - (n^2+4)}{(n+2)(n+2 + \sqrt{n^2+4})} \right) \\ &= \lim_{n \rightarrow \infty} \frac{4n^2}{(n+2)(n+2 + \sqrt{n^2+4})} = \lim_{n \rightarrow \infty} \frac{4n^2}{n \times 2n} = 2 \end{aligned}$$



단답형

29. 자연수 n 에 대하여 곡선 $y=x^2$ 위의 점 $P_n(2n, 4n^2)$ 에서의 접선과 수직이고 점 $Q_n(0, 2n^2)$ 을 지나는 직선을 l_n 이라 하자. 점 P_n 을 지나고 점 Q_n 에서 직선 l_n 과 접하는 원을 C_n 이라 할 때, 원점을 지나고 원 C_n 의 넓이를 이등분하는 직선의 기울기를 a_n 이라 하자. $\lim_{n \rightarrow \infty} \frac{a_n}{n}$ 의 값을 구하시오. [4점]



$(0, 2n^2) (a, b) (2n, 4n^2)$

$\frac{b-2n^2}{a} = 4n \Rightarrow b-2n^2 = 4an$
 $b = 2n^2 + 4an$

$(a, b) (0, 2n^2) \text{ 원 } = (a, b) (2n, 4n^2) \text{ 원}$

$a^2 + (b-2n^2)^2 = (a-2n)^2 + (b-4n^2)^2$

$a^2 + b^2 - 4bn^2 + 4n^4 = a^2 - 4an + 4n^2 + b^2 - 8bn^2 + 16n^4$

$4an - 4n^2 + 4bn^2 = 12n^4$

$a - n + 4n = 3n^3$

$a - n + 2n^2 + 4an = 3n^3$

$a(4n^2 + 1) = n^3 + n$

$a = \frac{n^3 + n}{4n^2 + 1}$

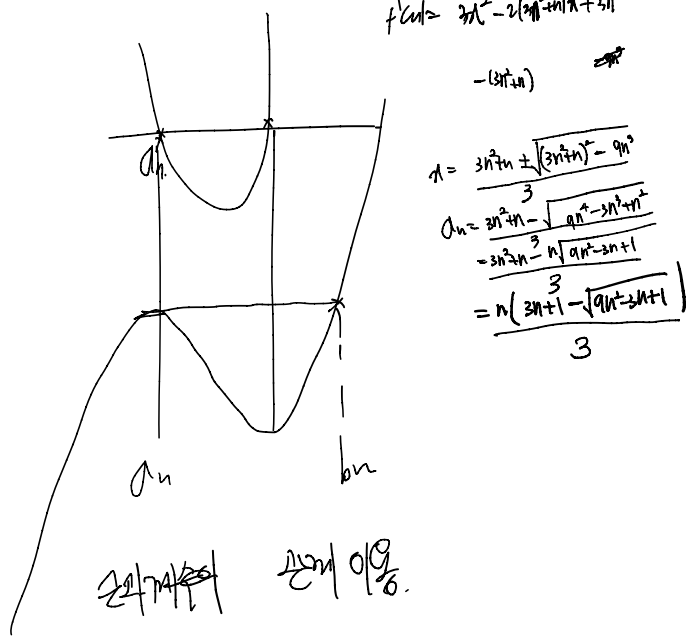
$b = 2n^2 + 4an$

$a_n = \frac{b}{a} = \frac{2n^2 + 4an}{a} = \frac{2n^2}{a} + 4n = \frac{8n^4 + 2n^2}{n^2 + 1} + 4n$
 $= \frac{8n^2 + 2n}{n^2 + 1} + 4n$

$\lim_{n \rightarrow \infty} \frac{a_n}{n} = \lim_{n \rightarrow \infty} \left(\frac{8n^2 + 2}{n^2 + 1} + 4 \right)$

$8 + 4 = 12$

30. 자연수 n 에 대하여 삼차함수 $f(x) = x(x-n)(x-3n^2)$ 이 극대가 되는 x 를 a_n 이라 하자. x 에 대한 방정식 $\psi(x) = (x^2 - x_n)(x - 3n^2)$ $f(x) = f(a_n)$ 의 근 중에서 a_n 이 아닌 근을 b_n 이라 할 때, $\lim_{n \rightarrow \infty} \frac{a_n b_n}{n^3} = \frac{q}{p}$ 이다. $p+q$ 의 값을 구하시오. (단, p 와 q 는 서로소인 자연수이다.) [4점]



$f(x) = x^3 - (3n^2+n)x^2 + 3n^3x$

$f(a_n) = f(b_n) \Rightarrow f(a_n) - f(b_n) = 0$

이차방정식

a_n, a_n, b_n

$2a_n b_n = 3n^2 + n \Rightarrow b_n = \frac{3n^2 + n}{2a_n}$

$\frac{a_n b_n}{n^3} = \frac{(3n^2 + n)a_n - 2a_n^2}{n^3}$
 $= \frac{3n^2 + n}{n^3} \cdot \frac{3n^2 + n - \sqrt{(3n^2 + n)^2 - 9n^2}}{3} - \frac{2n^2}{n^3} \cdot \frac{3n^2 + n - \sqrt{(3n^2 + n)^2 - 9n^2}}{3}$
 $= \frac{3n^2 + n}{3n^3} \cdot \frac{3n^2 + n - 1}{3} - \frac{2n^2}{3n^3} \cdot \frac{3n^2 + n - 1}{3}$
 $= \frac{9n}{3n^3} \cdot \frac{1}{3} = \frac{3n}{6n} = \frac{1}{2}$

$= 3 \times \frac{1}{2} = \frac{3}{2}$

5

* 확인 사항

○ 답안지의 해당란에 필요한 내용을 정확히 기입(표기)했는지 확인하시오.

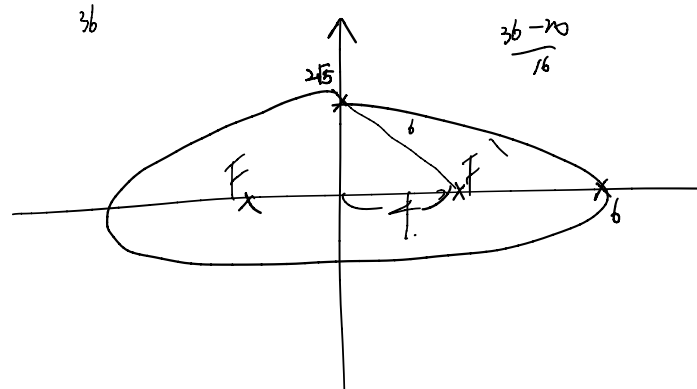
제 2 교시

수학 영역(기하)

5 지선 다형

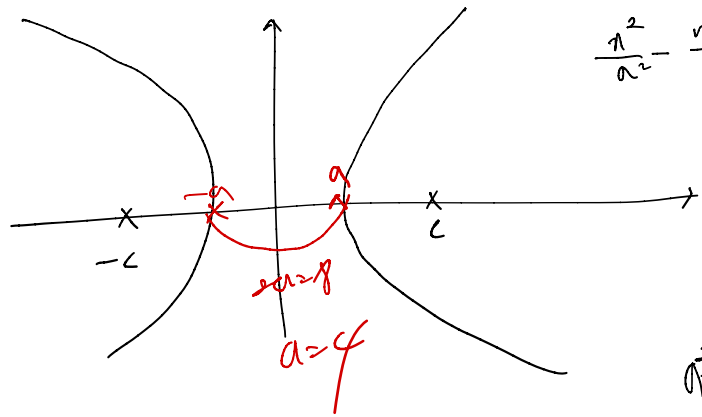
23. 타원 $\frac{x^2}{36} + \frac{y^2}{20} = 1$ 의 두 초점을 F, F'이라 할 때, 선분 FF'의 길이는? [2점]

- ① 6 ② 7 ③ 8 ④ 9 ⑤ 10



24. 두 초점이 F(c, 0), F'(-c, 0)이고 주축의 길이가 8인 쌍곡선의 한 점근선이 직선 $y = \frac{3}{4}x$ 일 때, 양수 c의 값은? [3점]

- ① 5 ② 6 ③ 7 ④ 8 ⑤ 9



$$\frac{a^2}{a^2} - \frac{b^2}{b^2} = 1$$

$$\frac{b}{a} = \frac{3}{4}$$

$$a = 4k, b = 3k$$

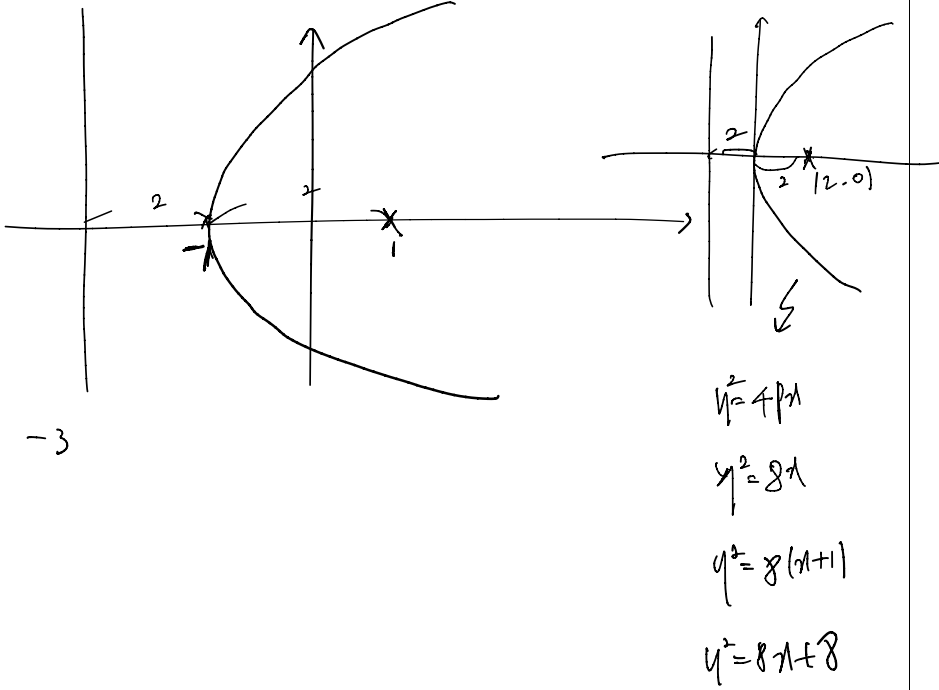
$$a^2 - b^2 = c^2$$

$$16k^2 - 9k^2 = 25k^2 = c^2$$

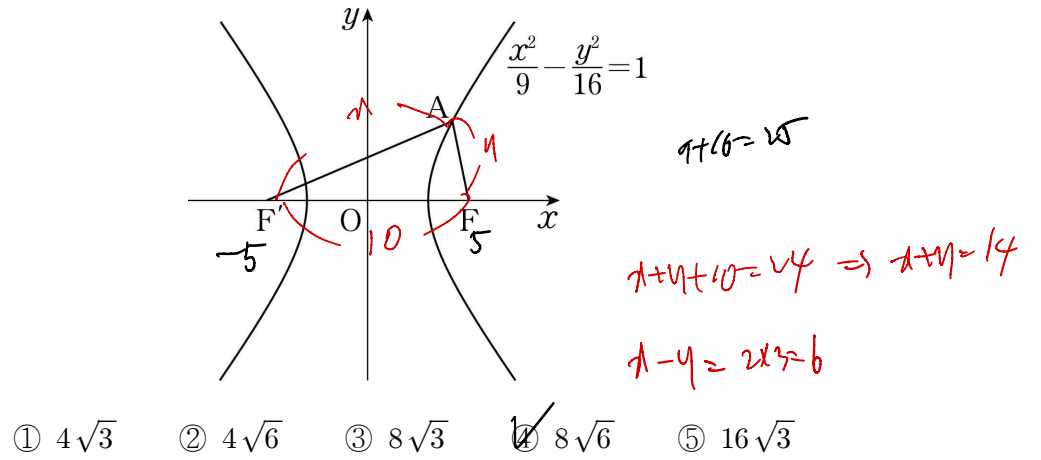
⑤

25. 꼭짓점이 점 $(-1, 0)$ 이고 준선이 직선 $x = -3$ 인 포물선의 방정식이 $y^2 = ax + b$ 일 때, 두 상수 a, b 의 합 $a + b$ 의 값은? [3점]

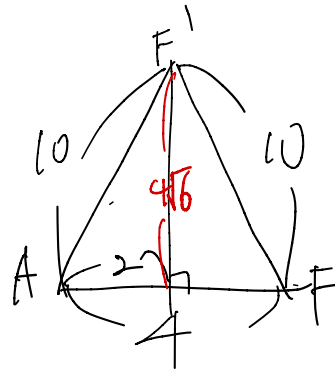
- ① 14 ② 16 ③ 18 ④ 20 ⑤ 22



26. 그림과 같이 쌍곡선 $\frac{x^2}{9} - \frac{y^2}{16} = 1$ 의 두 초점 F, F' 과 쌍곡선 위의 점 A 에 대하여 삼각형 $AF'F$ 의 둘레의 길이가 24일 때, 삼각형 $AF'F$ 의 넓이는? (단, 점 A 는 제1사분면의 점이다.) [3점]



- ① $4\sqrt{3}$ ② $4\sqrt{6}$ ③ $8\sqrt{3}$ ④ $8\sqrt{6}$ ⑤ $16\sqrt{3}$



$\frac{1}{2} \times 10 \times 4\sqrt{6} = 20\sqrt{6}$

$$x + y = 14$$

$$+ x - y = 6$$

$$2x = 20$$

$$x = 10$$

$$y = 4$$

27. 점 A(6, 12)와 포물선 $y^2 = 4x$ 위의 점 P, 직선 $x = -4$ 위의 점 Q에 대하여 $\overline{AP} + \overline{PQ}$ 의 최솟값은? [3점]

- ① 12 ② 14 ③ 16 ④ 18 ⑤ 20

$\overline{AP} + \overline{PQ} \geq \overline{AP} + \overline{PC}$
 $= \overline{AP} + \overline{PB} + 3$
 $= \overline{AP} + \overline{PF} + 3$
 $\geq \overline{AF} + 3$
 $= a + b + 3$

$A(6, 12)$
 $y^2 = 4x$
 $x = -4$
 $F(1, 0)$
 $A+B = \sqrt{25+44} = \sqrt{69}$
 $= 13$
 $\overline{AP} + \overline{PQ}$
 $\geq a + b + 3$
 $= 13 + 3 = 16$

28. 자연수 n 에 대하여 초점이 F인 포물선 $y^2 = 2x$ 위의 점 P_n 이 $\overline{FP_n} = 2n$ 을 만족시킬 때, $\sum_{n=1}^8 \overline{OP_n}^2$ 의 값은? (단, O는 원점이고, 점 P_n 은 제1사분면에 있다.) [4점]

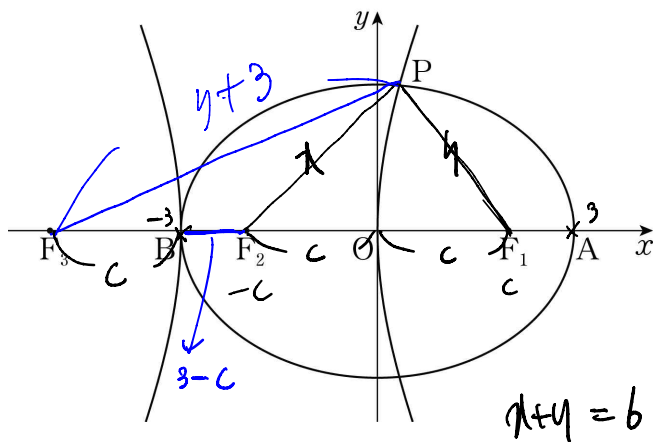
- ① 874 ② 876 ③ 878 ④ 880 ⑤ 882

$P_n(2n - \frac{1}{2}, \sqrt{4n - 1})$
 $\overline{OP_n}^2 = 4n^2 - 2n + \frac{1}{4} + 4n - 1$
 $= 4n^2 + 2n - \frac{3}{4}$

$\sum_{n=1}^8 (4n^2 + 2n - \frac{3}{4})$
 $4 \sum_{n=1}^8 n^2 + 2 \sum_{n=1}^8 n - \frac{3}{4} \times 8$
 $= 4 \times \frac{8 \times 9 \times 17}{6} + 8 \times 9 - 6$
 $\frac{48}{1} \times 17 = 816$
 $816 + 72 - 6 = 882$

단답형

29. 두 초점이 $F_1(c, 0), F_2(-c, 0)$ ($c > 0$)인 타원이 x 축과 두 점 $A(3, 0), B(-3, 0)$ 에서 만난다. 선분 BO 가 주축이고 점 F_1 이 한 초점인 쌍곡선의 초점 중 F_1 이 아닌 점을 F_3 이라 하자. 쌍곡선이 타원과 제1사분면에서 만나는 점을 P 라 할 때, 삼각형 PF_3F_2 의 둘레의 길이를 구하시오. (단, O 는 원점이다.) [4점]



$\triangle PF_3F_2$ 둘레 길이

$$\frac{PF_3}{PF_2} = \frac{PF_2}{PF_1} \Rightarrow \frac{PF_3}{6} = \frac{6}{\lambda + 3 - c + c}$$

$$6 + 6 = 12$$

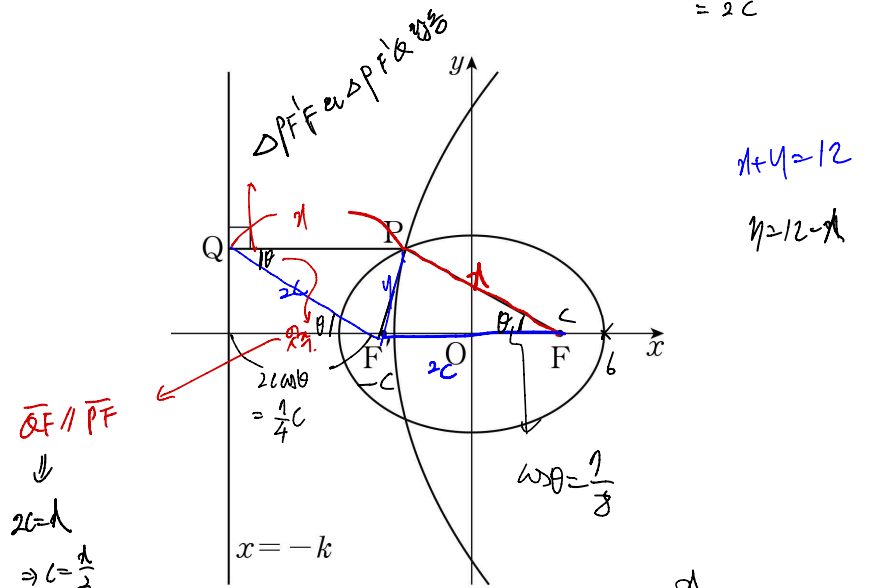
30. 그림과 같이 두 초점이 $F(c, 0), F'(-c, 0)$ ($c > 0$)이고 장축의 길이가 12인 타원이 있다. 점 F 가 초점이고 직선 $x = -k$ ($k > 0$)이 준선인 포물선이 타원과 제2사분면의 점 P 에서 만난다. 점 P 에서 직선 $x = -k$ 에 내린 수선의 발을 Q 라 할 때, 두 점 P, Q 가 다음 조건을 만족시킨다.

(가) $\cos(\angle F'FP) = \frac{7}{8}$

(나) $\overline{FP} - \overline{F'Q} = \overline{PQ} - \overline{FF'}$ $\Rightarrow \lambda - \overline{FQ} = \mu - \overline{FF'}$

$c+k$ 의 값을 구하시오. [4점]

$$\Rightarrow \overline{FQ} = \overline{FF'} = 2c$$



$$\therefore k = \frac{1}{4}c + c = \frac{5}{4}c$$

$$\therefore c+k = c + \frac{5}{4}c = \frac{9}{4}c$$

$$\frac{9}{4} \times \frac{4}{3} = \frac{9}{3} = 3$$

$$\cos 2\theta = \frac{x^2 + y^2 - (12-x)^2}{2x^2} = \frac{7}{8}$$

$$2x^2 - (x^2 - 24x + 144) = \frac{7}{8} \times 2x^2$$

$$\frac{x^2 + 24x - 144}{2x^2} = \frac{7}{8} \times \frac{x^2 + y^2}{x^2}$$

$$4x^2 + 96x - 144 \times 4 = 7x^2 + 7y^2$$

$$3x^2 - 96x + 144 \times 4 = 7y^2$$

$$\frac{48 \pm \sqrt{48^2 - 144 \times 4 \times 3}}{3}$$

$$\frac{48 \pm 24}{3} = \frac{24}{3} = 8$$

$$x = 8$$

* 확인 사항

- 답안지의 해당란에 필요한 내용을 정확히 기입(표기)했는지 확인하시오.