

[출처] 2004 모의_공공 교육청 고3 03월 18

1. 1부터 99까지의 홀수 중 서로 다른 10개를 택하여 그들의 합을 S 라 하자. 이러한 S 의 값 중 서로 다른 것을 작은 수부터 차례로 a_1, a_2, a_3, \dots 이라 할 때, a_{100} 의 값은?
- ① 268 ② 278 ③ 288
④ 298 ⑤ 308

[출처] 2013 모의_공공 평가원 고3 11월 30

2. 좌표평면에서 $a > 1$ 인 자연수 a 에 대하여 두 곡선 $y = 4^x$, $y = a^{-x+4}$ 과 직선 $y = 1$ 로 둘러싸인 영역의 내부 또는 그 경계에 포함되고 x 좌표와 y 좌표가 모두 정수인 점의 개수가 20 이상 40 이하가 되도록 하는 a 의 개수를 구하시오.

[출처] 2014 모의_공공 평가원 고3 09월

3. 다음 조건을 만족시키는 두 자연수 a, b 의 모든 순서쌍 (a, b) 의 개수를 구하시오.

(가) $1 \leq a \leq 10, 1 \leq b \leq 100$

(나) 곡선 $y = 2^x$ 이 원 $(x-a)^2 + (y-b)^2 = 1$ 과 만나지 않는다.

(다) 곡선 $y = 2^x$ 이 원 $(x-a)^2 + (y-b)^2 = 4$ 와 적어도 한 점에서 만난다.

[출처] 2014 모의_공공 사관학교 고3 07월 20

[출처] 2014 모의_공공 사관학교 고3 07월 18

4. 수열 $\{a_n\}$ 이 다음 조건을 만족시킨다.

(I) $a_1 = 2$ 이고 $a_n < a_{n+1} (n \geq 1)$ 이다.

(II) $b_n = \frac{1}{2} \left(n+1 - \frac{1}{n+1} \right) (n \geq 1)$ 이라 할 때,

좌표평면에서 네 직선 $x = a_n, x = a_{n+1}, y = 0, y = b_n x$ 에 동시에 접하는 원 T_n 이 존재한다.

다음은 수열 $\{a_n\}$ 의 일반항을 구하는 과정이다.

원점을 O라 하고, 원 T_n 의

반지름의 길이를 r_n 이라

하자. 직선 $x = a_n$ 과 두

직선 $y = 0, y = b_n x$ 의

교점을 각각 A_n, B_n 이라

하고, 원 T_n 과 세 직선

$x = a_n, y = b_n x, y = 0$ 의

접점을 각각 C_n, D_n, E_n 이라 하면 $\overline{A_n B_n} = a_n b_n$ 이고

$\overline{OB_n} = a_n \sqrt{((가)) + b_n^2}$ 이다.

$$\overline{OD_n} = \overline{OB_n} + \overline{B_n D_n} = \overline{OB_n} + \overline{B_n C_n}$$

$$= a_n \sqrt{((가)) + b_n^2} + a_n b_n - r_n$$

$$\overline{OE_n} = a_n + r_n$$

$\overline{OD_n} = \overline{OE_n}$ 이므로

$$r_n = \frac{a_n (b_n - 1 + \sqrt{((가)) + b_n^2})}{2}$$

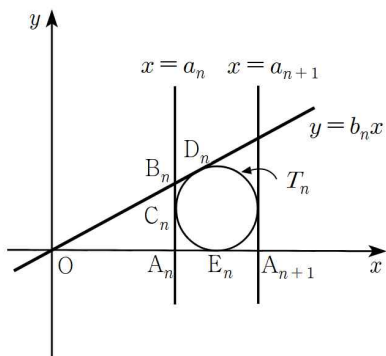
$$\therefore a_{n+1} = a_n + 2r_n = ((나)) \times a_n \quad (n \geq 1)$$

이때 $a_1 = 2$ 이고

$$a_n = \square \times a_{n-1} = \square \times a_{n-2} = \dots = \square \times a_1$$

이므로

$$a_n = ((다))$$



위의 과정에서 (가)에 알맞은 수를 p 라 하고, (나), (다)에 알맞은 식을 각각 $f(n), g(n)$ 이라 할 때, $p + f(4) + g(4)$ 의 값은?

- ① 54 ② 55 ③ 56
- ④ 57 ⑤ 58

[출처] 2015 모의_공공 경찰대 고3 07월 19

5. $\triangle ABC$ 에서 $\overline{AB} = x, \overline{BC} = x+1, \overline{AC} = x+2$ 이고

$\angle B = 2\theta, \angle C = \theta$ 일 때, $\cos \theta$ 의 값은?

- ① $\frac{2}{3}$ ② $\frac{3}{5}$ ③ $\frac{3}{4}$
- ④ $\frac{4}{5}$ ⑤ $\frac{5}{6}$

[출처] 2015 모의_공공 평가원 고3 06월 30

6. 2 이상의 자연수 n 에 대하여 다음 조건을 만족시키는

자연수 a, b 의 모든 순서쌍 (a, b) 의 개수가 300 이상이 되도록 하는 가장 작은 자연수 k 의 값을 $f(n)$ 이라 할 때, $f(2) \times f(3) \times f(4)$ 의 값을 구하시오.

(가) $a < n^k$ 이면 $b \leq \log_n a$ 이다.

(나) $a \geq n^k$ 이면 $b \leq -(a - n^k)^2 + k^2$ 이다.

[출처] 2016 모의_공공 교육청 고2 03월 30

7. 두 등차수열 $\{a_n\}$, $\{b_n\}$ 과 실수 전체의 집합의 두 부분집합 $A = \{a_k | 1 \leq a_k \leq 60, a_k \text{는 수열 } \{a_n\} \text{의 항}\}$
 $B = \{b_k | 1 \leq b_k \leq 60, b_k \text{는 수열 } \{b_n\} \text{의 항}\}$
 이 다음 조건을 만족시킨다.

- (가) $a_1 = 1, a_{10} = 55$
- (나) $n(A \cap B) = n(A \cap B^c) = \frac{1}{2} \times n(A^c \cap B)$
- (다) 집합 $A \cap B$ 의 모든 원소의 합은 125이다.

집합 B 의 모든 원소의 합을 구하시오.
 (단, 수열 $\{b_n\}$ 의 항은 유한개가 아니다.)

[출처] 2017 모의_공공 교육청 고2 06월 29

8. 일반항이 $a_n = 2n + 1$ 인 등차수열 $\{a_n\}$ 에 대하여
 집합 $A_k (k = 1, 2, 3, \dots)$ 는 $A_1 = \{3, 5, 7, 9, 11\}$ 이고 다음
 조건을 만족시킨다.

- (가) 집합 A_k 는 수열 $\{a_n\}$ 의 항들 중 $(2k+3)$ 개의 연속한 항들을 원소로 하는 집합이다.
- (나) 집합 A_{k+1} 의 가장 작은 원소는 집합 A_k 의 가장 작은 원소보다 크다.
- (다) $n(A_k - A_{k+1}) = 3$

예를 들어 $A_2 = \{9, 11, 13, \dots, 21\}$ 이다. $A_{15} \cap A_p = \emptyset$ 을 만족하는 15보다 큰 자연수 p 의 최솟값을 구하시오.

[출처]

2018 모의_공공 교육청 고3 03월 30

9. n 이 자연수일 때, 함수 $f(x) = \frac{x+2n}{2x-p}$ 이

$$f(1) < f(5) < f(3)$$

을 만족시키도록 하는 자연수 p 의 최솟값을 m 이라 하자.
자연수 n 에 대하여 $p=m$ 일 때의 함수 $f(x)$ 와 함수

$$g(x) = \frac{2x+n}{x+q}$$
 이

$$g(f(5)) < g(f(3)) < g(f(1))$$

을 만족시키도록 하는 자연수 q 의 개수를 a_n 이라 하자.

$\sum_{k=1}^{20} a_k$ 의 값을 구하시오.

[출처]

2018 모의_공공 교육청 고2 06월 21

10. 구간 $(0, \infty)$ 에서 정의된 함수 $f(x)$ 를

$$f(x) = \frac{(k+1)x+3k+6}{3(x+1)}$$

이라 할 때, 자연수 n 에 대하여 다음 조건을 만족시키는 모든 자연수 k 의 값의 합을 a_n 이라 하자.

함수 $f(x)$ 의 치역의 원소 중 정수의 개수는 $4n$ 이다.

$\sum_{n=1}^{10} a_n$ 의 값은?

- ① 600 ② 610 ③ 620
④ 630 ⑤ 640

[출처] 2018 모의_공공 평가원 고3 11월 29

11. 첫째항이 자연수이고 공차가 음의 정수인 등차수열 $\{a_n\}$ 과 첫째항이 자연수이고 공비가 음의 정수인 등비수열 $\{b_n\}$ 이 다음 조건을 만족시킬 때, $a_7 + b_7$ 의 값을 구하시오.

$$\begin{aligned} \text{(가)} \quad & \sum_{n=1}^5 (a_n + b_n) = 27 \\ \text{(나)} \quad & \sum_{n=1}^5 (a_n + |b_n|) = 67 \\ \text{(다)} \quad & \sum_{n=1}^5 (|a_n| + |b_n|) = 81 \end{aligned}$$

[출처] 2019 모의_공공 교육청 고2 06월 30

12. $2 \leq k < 500$ 인 자연수 k 에 대하여 네 자연수 a, b, c, d 가 다음 조건을 만족시킨다.

$$\begin{aligned} \text{(가)} \quad & a, b, c, d \text{는 } 2 \text{이상 } k \text{이하이다.} \\ \text{(나)} \quad & a^{\frac{1}{b}} \times c^{\frac{1}{d}} = 24^{\frac{1}{5}} \end{aligned}$$

모든 순서쌍 (a, b, c, d) 의 개수가 59가 되도록 하는 k 의 최댓값과 최솟값을 각각 M, m 이라 할 때, $M+m$ 의 값을 구하시오.

[출처] 2019 모의_공공 교육청 고2 06월 30

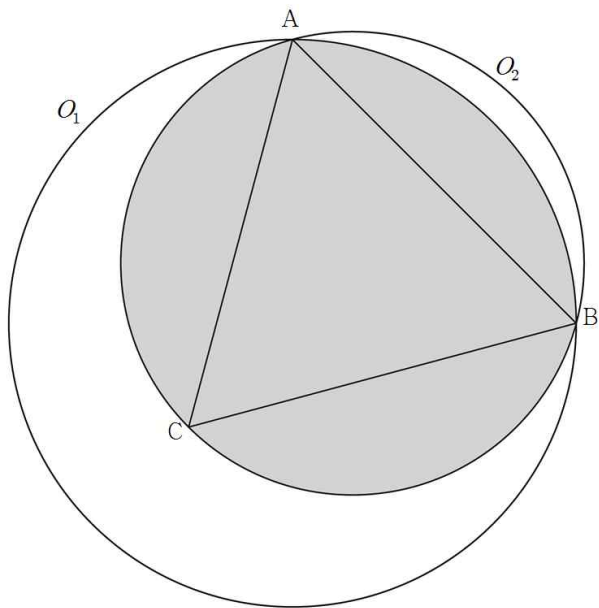
13. 두 양수 a, k ($k \neq 1$)에 대하여 함수

$$f(x) = \begin{cases} 2\log_k(x-k+1) + 2^{-a} & (x \geq k) \\ 2\log_{\frac{1}{k}}(-x+k+1) + 2^{-a} & (x < k) \end{cases}$$

가 있다. $f(x)$ 의 역함수를 $g(x)$ 라 할 때, 방정식 $f(x) = g(x)$ 의 해는 $-\frac{3}{4}, t, \frac{5}{4}$ 이다. $30(a+k+t)$ 의 값을 구하시오. (단, $0 < t < 1$)

[출처] 2019 모의_공공 교육청 고2 09월 29

14. 그림과 같이 반지름의 길이가 6인 원 O_1 이 있다. 원 O_1 위에 서로 다른 두 점 A, B를 $\overline{AB}=6\sqrt{2}$ 가 되도록 잡고, 원 O_1 의 내부에 점 C를 삼각형 ACB가 정삼각형이 되도록 잡는다. 정삼각형 ACB의 외접원을 O_2 라 할 때, 원 O_1 과 원 O_2 의 공통부분의 넓이는 $p+q\sqrt{3}+r\pi$ 이다. $p+q+r$ 의 값을 구하시오. (단, p, q, r 는 유리수이다.)



[출처] 2019 모의_공공 교육청 고3 03월 29

15. 자연수 m 에 대하여 다음 조건을 만족시키는 모든 자연수 k 의 값의 합을 $A(m)$ 이라 하자.

3×2^m 은 첫째항이 3이고 공비가 2 이상의 자연수인 등비수열의 제 k 항이다.

예를 들어, 3×2^2 은 첫째항이 3이고 공비가 2인 등비수열의 제 3항, 첫째항이 3이고 공비가 4인 등비수열의 제 2항이 되므로 $A(2)=3+2=5$ 이다. $A(200)$ 의 값을 구하시오.

[출처] 2019 모의_공공 교육청 고2 09월 30

16. 자연수 n 에 대하여 함수 $f(x)$ 는

$$f(x) = x^2 + n$$

이다. 함수 $y=f(x)$ 의 그래프와 직선 $y=mx$ 가 만나도록 하는 자연수 m 의 최솟값을 a_n 이라 하자. $a_n < a_{n+1}$ 을 만족시키는 33 이하의 모든 n 의 값의 합을 구하시오.

[출처] 2019 모의_공공 교육청 고2 11월 30

17. 두 정수 l, m 에 대하여 두 등차수열 $\{a_n\}, \{b_n\}$ 의

일반항이

$$a_n = 12 + (n-1)l, b_n = -10 + (n-1)m$$

일 때, $\sum_{k=1}^{10} |a_k + b_k| = \sum_{k=1}^{10} (|a_k| - |b_k|) = 31$ 을 만족시키는

모든 순서쌍 (l, m) 의 개수를 구하시오.

[출처] 2020 모의_공공 교육청 고2 11월 30

18. 두 실수 $a(a \neq 0), b$ 에 대하여 함수 $f(x)$ 를

$$f(x) = a \sin \frac{\pi}{6}(x-1) + b$$

라 하고, 양수 t 에 대하여 $0 < x < t$ 에서 함수 $y = |f(x)|$ 의 그래프가 직선 $y = 4$ 와 만나는 점의 개수를 $g(t)$ 라 하자.

$f(0) = 8, g(18) = 5$ 일 때, $g(\alpha) = |a - b|$ 를 만족시키는 양수 α 의 최댓값을 구하시오.

[출처] 2020 모의_공공 교육청 고2 06월 30

19. 두 실수 $a(0 < a < 2\pi)$ 와 k 에 대하여 $0 \leq x \leq 2\pi$ 에서

정의된 함수 $f(x)$ 는

$$f(x) = \begin{cases} \sin x - \frac{1}{2} & (0 \leq x < a) \\ k \sin x - \frac{1}{2} & (a \leq x \leq 2\pi) \end{cases}$$

이고, 다음 조건을 만족시킨다.

(가) 함수 $|f(x)|$ 의 최댓값은 $\frac{1}{2}$ 이다.

(나) 방정식 $f(x) = 0$ 의 실근의 개수는 3이다.

방정식 $|f(x)| = \frac{1}{4}$ 의 모든 실근의 합을 S 라 할 때,

$20\left(\frac{a+S}{\pi} + k\right)$ 의 값을 구하시오.

[출처]

2020 모의_공공 교육청 고3 04월 30

20. 두 수열 $\{a_n\}$, $\{b_n\}$ 이 모든 자연수 n 에 대하여 다음 조건을 만족시킨다.

(가) $a_{2n} = b_n + 2$

(나) $a_{2n+1} = b_n - 1$

(다) $b_{2n} = 3a_n - 2$

(라) $b_{2n+1} = -a_n + 3$

$a_{48} = 9$ 이고 $\sum_{n=1}^{63} a_n - \sum_{n=1}^{31} b_n = 155$ 일 때, b_{32} 의 값을 구하시오.

[출처]

2021 모의_공공 교육청 고2 06월 21

21. 상수 k 에 대하여 정의역과 공역이 각각 실수 전체의 집합인 함수

$$f(x) = \begin{cases} 2^{-x-2} & (x < k) \\ -\log_2(x+2) - 2 & (x \geq k) \end{cases}$$

가 일대일 대응이다. 함수 $g(x)$ 를

$$g(x) = \begin{cases} \log_2(2-x) + 2 & (x < -k) \\ -2^{x-2} + 2 & (x \geq -k) \end{cases}$$

라 할 때, $f(a) \leq b \leq g(a)$ 를 만족시키는 정수 a, b 의 모든 순서쌍 (a, b) 의 개수는? (단, $-2 \leq a \leq 2$)

① 31 ② 33 ③ 35

④ 37 ⑤ 39

[출처] 2021 모의_공공 교육청 고2 06월 30

22. 두 자연수 a, b 에 대하여 세 함수

$$f(x) = \cos \pi x, g(x) = \sin \pi x, h(x) = ax + b$$

가 다음 조건을 만족시킨다.

(가) $0 \leq x \leq 4$ 일 때, 방정식 $(f \circ h)(x) = (h \circ g)\left(\frac{3}{2}\right)$ 의 서로 다른 실근의 개수는 홀수이다.

(나) $0 \leq x \leq 4$ 일 때, 방정식 $(f \circ h)(x) = (h \circ g)(t)$ 의 서로 다른 모든 실근의 합이 56이 되도록 하는 실수 t 가 존재한다.

$\frac{a \times b}{\cos^2 \pi t}$ 의 값을 구하시오.

[출처] 2021 모의_공공 경찰대 고3 07월 25

23. 두 집합 X, Y 를

$$X = \{ \{a_n\} \mid \{a_n\} \text{은 모든 항이 자연수인 수열이고, } \log a_n + \log a_{n+1} = 2n \},$$

$$Y = \{ a_4 \mid \{a_n\} \in X \}$$

라 하자. 집합 Y 의 모든 원소의 합이 $p \times 100$ 일 때, p 의 값을 구하시오.

[출처] 2021 모의_공공 교육청 고2 11월 21

24. 수열 $\{a_n\}$ 이 다음 조건을 만족시킨다.

- (가) a_1 은 1이 아닌 양수이다.
 (나) 모든 자연수 n 에 대하여 $a_{2n-1} + a_{2n} = 1$ 이고 $a_{2n} \times a_{2n+1} = 1$ 이다.

$\sum_{n=1}^{14} (|a_n| - a_n) = 10$ 이 되도록 하는 모든 a_1 의 값의 합은?

- ① $\frac{10}{3}$ ② 4 ③ $\frac{14}{3}$
 ④ $\frac{16}{3}$ ⑤ 6

[출처] 2021 모의_공공 평가원 고3 09월 공통범위 15

25. 수열 $\{a_n\}$ 은 $|a_1| \leq 1$ 이고, 모든 자연수 n 에 대하여

$$a_{n+1} = \begin{cases} -2a_n - 2 & \left(-1 \leq a_n < -\frac{1}{2}\right) \\ 2a_n & \left(-\frac{1}{2} \leq a_n \leq \frac{1}{2}\right) \\ -2a_n + 2 & \left(\frac{1}{2} < a_n \leq 1\right) \end{cases}$$

을 만족시킨다. $a_5 + a_6 = 0$ 이고 $\sum_{k=1}^5 a_k > 0$ 이 되도록 하는모든 a_1 의 값의 합은?

- ① $\frac{9}{2}$ ② 5 ③ $\frac{11}{2}$
 ④ 6 ⑤ $\frac{13}{2}$

[출처] 2022 모의_공공 사관학교 고3 07월 공통범위 15

26. 함수

$$f(x) = \left| 2a \cos \frac{b}{2}x - (a-2)(b-2) \right|$$

가 다음 조건을 만족시키도록 하는 10 이하의 자연수 a, b 의 모든 순서쌍 (a, b) 의 개수는?

- (가) 함수 $f(x)$ 는 주기가 π 인 주기함수이다.
 (나) $0 \leq x \leq 2\pi$ 에서 함수 $y = f(x)$ 의 그래프와 직선 $y = 2a - 1$ 의 교점의 개수는 4이다.

- ① 11 ② 13 ③ 15
 ④ 17 ⑤ 19

[출처] 2022 모의_공공 교육청 고2 06월 30

27. 두 실수 a, b 와 두 함수

$$f(x) = \sin x, g(x) = a \cos x + b$$

에 대하여 $0 \leq x \leq 2\pi$ 에서 정의된 함수

$$h(x) = \frac{|f(x) - g(x)| + f(x) + g(x)}{2}$$

가 다음 조건을 만족시킨다.

(가) 함수 $h(x)$ 의 최솟값은 $-\frac{\sqrt{3}}{2}$ 이다.

(나) $0 < c < \frac{\pi}{2}$ 인 어떤 실수 c 에 대하여

$$h(c) = h(c + \pi) = \frac{1}{2}$$

상수 $k \left(k > \frac{1}{2} \right)$ 에 대하여 방정식 $h(x) = k$ 가 서로 다른 세

실근을 가질 때, $a + 20 \left(\frac{k}{b} \right)^2$ 의 값을 구하시오.

[출처] 2022 모의_공공 교육청 고2 09월 30

28. $\frac{12}{5} < k \leq 4$ 인 상수 k 와 자연수 n 에 대하여 수열

$\{a_n\}$ 이 다음 조건을 만족시킨다.

(가) n 이 짝수이면

$$a_n \text{은 } 0 \leq x \leq 2 \text{에서 직선 } y = -\frac{k}{2n} \text{와}$$

$$\text{곡선 } y = 2\sin\left(n\pi x + \frac{\pi}{2}\right) + |k \sin^2(n\pi x) - (k-1)| \text{이}$$

만나는 서로 다른 점의 개수와 같다.

(나) n 이 홀수이면

$$a_n \text{은 } 0 \leq x \leq 2 \text{에서 직선 } y = \frac{k+1}{n} \text{과}$$

$$\text{곡선 } y = 2\sin\left(n\pi x + \frac{\pi}{2}\right) + |k \sin^2(n\pi x) - (k-1)| \text{이}$$

만나는 서로 다른 점의 개수와 같다.

$0 < a_2 < 6$ 일 때, $\sum_{n=1}^5 a_n$ 의 값을 구하시오.

[출처]

2022 모의_공공 교육청 고2 09월 21

29. 양수 a 와 0이 아닌 실수 d 에 대하여 첫째항이 모두 a 이고, 공차가 각각 $d, -2d$ 인 두 등차수열 $\{a_n\}$ 과 $\{b_n\}$ 이 다음 조건을 만족시킨다.

$$(가) |a_1| = |b_7|$$

(나) $S_n = \sum_{k=1}^n (|a_k| - |b_k|)$ 라 할 때, 모든 자연수 n 에 대하여 $S_n \leq 108$ 이고, $S_p = 108$ 인 자연수 p 가 존재한다.

$S_n \geq 0$ 을 만족시키는 자연수 n 의 최댓값을 m 이라 할 때, a_m 의 값은?

- ① 46 ② 50 ③ 54
 ④ 58 ⑤ 62

수1킬러 29제(빠른 정답)

프로젝트

2023.01.03

1. [정답] ④
2. [정답] 15
3. [정답] 196
4. [정답] ①
5. [정답] ③

6. [정답] 120
7. [정답] 435
8. [정답] 26
9. [정답] 320
10. [정답] ④

11. [정답] 117
12. [정답] **359**
13. [정답] **75**
14. [정답] **13**
15. [정답] **477**

16. [정답] **125**
17. [정답] **7**
18. [정답] **49**
19. [정답] 110
20. [정답] **79**

21. [정답] ①
22. [정답] **686**
23. [정답] **217**
24. [정답] ③
25. [정답] ①

26. [정답] ⑤
27. [정답] 59
28. [정답] 53
29. [정답] ③

수1킬러 29제(해설)

프로젝트

2023.01.03

1) [정답] ④

[해설]

S 중 가장 작은 수는 $1+3+\dots+19=100$

S 중 가장 큰 수는 $81+83+\dots+99=900$

수열 $\{a_n\}$ 은 첫째항이 100, 마지막항이 900이고, 공차가 2인 등차수열을 이룬다.

따라서 구하는 값은

$$a_{100} = 100 + 99 \times 2 = 298$$

2) [정답] 15

[해설]

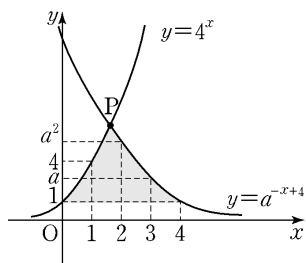
두 지수함수 $y=4^x, y=a^{-x+4}$ 의 교점을 P($\alpha, 4^\alpha$)이라 하면

$$4^\alpha = a^{-\alpha+4}, \alpha = \frac{4 \log a}{\log 4a}$$

경우로 나누어 생각하면

i) $1 \leq \alpha < 2$ 일 때

$$1 \leq \frac{4 \log a}{\log 4a} < 2 \text{를 풀면 } \sqrt[3]{4} \leq a < 4 \dots \textcircled{1}$$



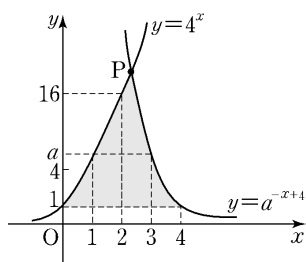
영역내 x좌표가 0, 1, 2, 3, 4인 점의 개수의 합은

$$1+4+a^2+a+1 \text{이므로 } 20 \leq a^2+a+6 \leq 40 \dots \textcircled{2}$$

①, ②을 모두 만족하는 자연수 a는 없다.

ii) $2 \leq \alpha < 3$ 일 때

$$2 \leq \frac{4 \log a}{\log 4a} < 3 \text{을 풀면 } 4 \leq a < 64 \dots \textcircled{3}$$

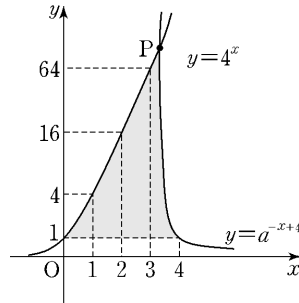


영역내 x좌표가 0, 1, 2, 3, 4인 점의 개수의 합은

$$1+4+16+a+1 \text{이므로 } 20 \leq a+22 \leq 40 \dots \textcircled{4}$$

③, ④을 모두 만족하는 a의 범위는 $4 \leq a \leq 18$ 이므로 자연수 a의 개수는 15개이다.

iii) $3 \leq \alpha < 4$ 일 때



영역내 x좌표가 0, 1, 2, 3인 점의 개수의 합이

$$1+4+16+64 \text{이므로 조건을 만족하지 않는다.}$$

i), ii), iii)으로부터 a의 개수는 15개이다.

3) [정답] 196

[해설]

$$(x-a)^2 + (y-b)^2 = 1 = 2^0 \dots \textcircled{1}$$

$$(x-a)^2 + (y-b)^2 = 4 = 2^2 \dots \textcircled{2}$$

곡선 $y=2^x$ 이 원과 만나지 않는다. (다) 곡선 $y=2^x$ 이 원 ①과는 만나지 않고 원 ②과 적어도 한 점에서 만나므로

$$a=1 \text{일 때, } 2^2 < b \leq 2^3$$

$$a=2 \text{일 때, } 2^0 < b \leq 2^1 \text{ 또는 } 2^3 < b \leq 2^4$$

$$a=3 \text{일 때, } 2^1 < b \leq 2^2 \text{ 또는 } 2^4 < b \leq 2^5$$

$$a=4 \text{일 때, } 2^2 < b \leq 2^3 \text{ 또는 } 2^5 < b \leq 2^6$$

$$a=5 \text{일 때, } 2^3 < b \leq 2^4 \text{ 또는 } 2^6 < b \leq 100$$

$$a=6 \text{일 때, } 2^4 \leq b < 2^5$$

$$a=2 \text{일 때, } 2^5 \leq b < 2^6$$

$$a=2 \text{일 때, } 2^6 \leq b < 100$$

이어야 한다.

따라서 구하는 순서쌍 (a, b)의 개수는

$$\begin{aligned} &2^2 + (2^0 + 2^3) + (2^1 + 2^4) + (2^2 + 2^5) + (2^3 + 36) + 2^4 + 2^5 + 37 \\ &= (2^0 + 2^1 + 2^2 + \dots + 2^5) + 37 + (2^2 + 2^3 + 2^4 + 2^5) + 36 \\ &= \frac{1(2^6 - 1)}{2 - 1} + \frac{2^2(2^4 - 1)}{2 - 1} + 73 = 63 + 60 + 73 = 196 \end{aligned}$$

수학비서

수1킬러 29제

4) [정답] ①

[해설]

점 B_n 이 직선 $x = a_n$ 과 $y = b_n x$ 의 교점이므로

$$\overline{A_n B_n} = a_n b_n \text{이고}$$

$$\overline{OB_n} = \sqrt{\overline{OA_n}^2 + \overline{A_n B_n}^2} = \sqrt{(a_n)^2 + (a_n b_n)^2} = a_n \sqrt{1 + b_n^2}$$

$$\therefore (가) = p = 1$$

원 T_n 이 x 축에 접하므로 $\overline{A_n C_n} = r_n$ 이다.

$$\begin{aligned} \overline{OD_n} &= \overline{OB_n} + \overline{B_n D_n} \\ &= \overline{OB_n} + \overline{B_n C_n} \\ &= \overline{OB_n} + (\overline{A_n B_n} - \overline{A_n C_n}) \\ &= a_n \sqrt{1 + b_n^2} + a_n b_n - r_n \end{aligned}$$

$$\overline{OE_n} = a_n + r_n$$

$$\overline{OD_n} = \overline{OE_n} \text{이므로}$$

$$a_n \sqrt{1 + b_n^2} + a_n b_n - r_n = a_n + r_n$$

$$\therefore r_n = \frac{a_n (b_n - 1 + \sqrt{1 + b_n^2})}{2}$$

$$\begin{aligned} \therefore a_{n+1} &= a_n + 2r_n \\ &= (b_n + \sqrt{1 + b_n^2}) \times a_n \end{aligned}$$

그런데 $b_n = \frac{1}{2} \left(n + 1 - \frac{1}{n+1} \right)$ 이므로

$$\sqrt{1 + b_n^2} = \frac{1}{2} \left(n + 1 + \frac{1}{n+1} \right)$$

$$\therefore b_n + \sqrt{1 + b_n^2} = n + 1$$

$$\therefore a_{n+1} = (b_n + \sqrt{1 + b_n^2}) \times a_n$$

$$= \boxed{n+1} \times a_n \quad (n \geq 1)$$

$$\therefore (나) = f(n) = n$$

이때 $a_1 = 2$ 이고

$$a_n = \boxed{n} \times a_{n-1}$$

$$= \boxed{n(n-1)} \times a_{n-2}$$

⋮

$$= \boxed{n(n-1)(n-2) \times \dots \times 2} \times a_1$$

이므로

$$a_n = \boxed{2n!}$$

$$\therefore (다) = g(n) = 2n!$$

$$\therefore p + f(4) + g(4) = 1 + 5 + 48 = 54$$

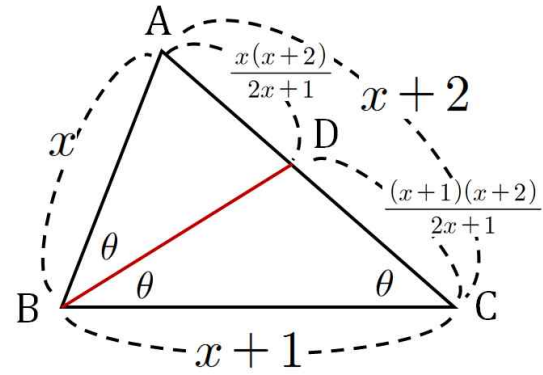
5) [정답] ③

[해설]

각 B 를 이등분하는 선을 그어 선분 AC 와 만나는 점을 D 라 하면, 삼각형의 각의 이등분선의 성질에 의하여

$$\text{선분 } AD = \frac{x(x+2)}{2x+1} \quad \text{선분 } CD = \frac{(x+1)(x+2)}{2x+1} \text{이다.}$$

이 때 삼각형 ABD 와 삼각형 ACB 가 AA 닮음 이므로



$x+2 : x = 2x+1 : x+2$ 이 성립하며

이를 풀면 $x=4$ 이다.

그러므로 삼각형 ABC 에 대하여 코사인 제이법칙을

사용하면, $\cos\theta = \frac{3}{4}$ 이다.

[다른 풀이]

사인법칙과 삼각함수의 덧셈정리를 사용하여 푸는것도 가능하다.

사인법칙에 의하여 $\frac{x}{\sin\theta} = \frac{x+2}{\sin 2\theta} = \frac{x+1}{\sin 3\theta}$ 이며,

$\frac{x}{\sin\theta} = \frac{x+2}{\sin 2\theta}$ 을 정리하면 $\cos\theta = \frac{x+2}{2x}$ 인 것을 알 수 있고,

$\frac{x}{\sin\theta} = \frac{x+1}{\sin 3\theta}$ 을 정리하면 $4\cos^2\theta = \frac{2x+1}{x}$ 인 것을 알 수 있다.

이 때 두식을 연립하면 $x=4$ 이고 따라서 $\cos\theta = \frac{3}{4}$ 이다.

6) [정답] 120

[해설]

자연수 n 에 대하여

$$g_n(x) = \log_n x,$$

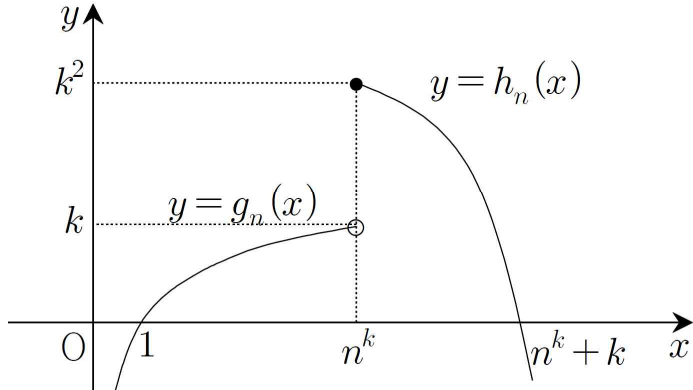
$$h_n(x) = -(x - n^k)^2 + k^2 \quad (k \text{는 상수})$$

이라 하자.

$g_n(n^k) = \log_n n^k = k, h_n(n^k) = k^2$ 이므로

$x < n^k$ 에서 $y = g_n(x)$ 의 그래프와

$x \geq n^k$ 에서 $y = h_n(x)$ 의 그래프는 그림과 같다.



(i) 조건 (가)를 만족시키는 자연수 a, b 의 순서쌍 (a, b) 의 개수는 부등식

$$1 \leq x < n^k, y \leq g_n(x)$$

를 만족시키는 자연수 x, y 의 순서쌍 (x, y) 의 개수와 같다.

$$1 \leq x < n \text{ 일 때, } 0(\text{개})$$

$$n \leq x < n^2 \text{ 일 때,}$$

$$1 \times (n^2 - n) = n^2 - n(\text{개})$$

$$n^2 \leq x < n^3 \text{ 일 때,}$$

$$2 \times (n^3 - n^2) = 2n^3 - 2n^2(\text{개})$$

$$n^3 \leq x < n^4 \text{ 일 때,}$$

$$3 \times (n^4 - n^3) = 3n^4 - 3n^3(\text{개})$$

.....

$$n^{k-1} \leq x < n^k \text{ 일 때,}$$

$$(k-1)(n^k - n^{k-1}) = (k-1)n^k - (k-1)n^{k-1}(\text{개})$$

이므로 개수의 총합은

$$(k-1)n^k - (n + n^2 + n^3 + \dots + n^{k-1})$$

$$= (k-1)n^k - \frac{n(n^{k-1} - 1)}{n-1}$$

$$= (k-1)n^k - \frac{n^k - n}{n-1}(\text{개})$$

(ii) 조건 (나)를 만족시키는 자연수 a, b 의 순서쌍 (a, b) 의 개수는 부등식

$$n^k \leq x < n^k + k, y \leq h_n(x)$$

를 만족시키는 자연수 x, y 의 순서쌍 (x, y) 의 개수와 같다.

$$x = n^k \text{ 일 때, } k^2(\text{개})$$

$$x = n^k + 1 \text{ 일 때, } k^2 - 1^2(\text{개})$$

$$x = n^k + 2 \text{ 일 때, } k^2 - 2^2(\text{개})$$

.....

$$x = n^k + k - 1 \text{ 일 때, } k^2 - (k-1)^2(\text{개})$$

이므로 개수의 총합은

$$k \times k^2 - \{1^2 + 2^2 + 3^2 + \dots + (k-1)^2\}$$

$$= k^3 - \frac{(k-1)k(2k-1)}{6}$$

$$= \frac{k(k+1)(4k-1)}{6}(\text{개})$$

두 조건 (가), (나)를 만족시키는 자연수 a, b 의 순서쌍 (a, b) 의 개수를 $A(n)$ 이라 하면 (i), (ii)에 의해

$$A(n) = (k-1)n^k - \frac{n^k - n}{n-1} + \frac{k(k+1)(4k-1)}{6}$$

이므로 $f(2), f(3), f(4)$ 의 값은 각각 다음과 같다.

① $n = 2$ 일 때,

$$A(2) = (k-1)2^k - (2^k - 2) + \frac{k(k+1)(4k-1)}{6}$$

$$= (k-2)2^k + 2 + \frac{k(k+1)(4k-1)}{6}$$

$k = 5$ 이면

$$A(2) = 96 + 2 + 95 = 193 < 300$$

$k = 6$ 이면

$$A(2) = 256 + 2 + 161 = 419 > 300$$

이므로 $A(2) > 300$ 을 만족시키는 자연수 k 의 최솟값은 6이다.

$$\therefore f(2) = 6$$

② $n = 3$ 일 때,

$$A(3) = (k-1)3^k - \frac{3^k - 3}{2} + \frac{k(k+1)(4k-1)}{6}$$

$k = 4$ 이면

$$A(3) = 243 - 39 + 50 = 254 < 300$$

$k = 5$ 이면

$$A(3) = 972 - 120 + 95 = 947 > 300$$

이므로 $A(3) > 300$ 을 만족시키는 자연수 k 의 최솟값은 5이다.

$$\therefore f(3) = 5$$

③ $n = 4$ 일 때,

$$A(4) = (k-1)4^k - \frac{4^k - 4}{3} + \frac{k(k+1)(4k-1)}{6}$$

$k = 3$ 이면

$$A(4) = 128 - 20 + 22 = 130 < 300$$

$k = 4$ 이면

$$A(4) = 768 - 84 + 50 = 734 > 300$$

수학비서

수1킬러 29제

이므로 $A(4) > 300$ 을 만족시키는 자연수 k 의 최솟값은 4이다.

$$\therefore f(4) = 4$$

$$\therefore f(2) \times f(3) \times f(4) = 6 \times 5 \times 4 = 120$$

7) [정답] 435

[해설]

등차수열 $\{a_n\}$ 의 공차를 d_1 이라 하자.

$$a_{10} = a_1 + 9d_1 \text{이므로 조건 (가)에서}$$

$$55 = 1 + 9d_1$$

$$d_1 = 6$$

따라서

$$a_n = 1 + (n-1)6$$

$$= 6n - 5$$

$$A = \{1, 7, 13, 19, 25, 31, 37, 43, 49, 55\} \text{이므로}$$

$$n(A) = 10$$

조건 (나)에서

$$n(A \cap B) = n(A \cap B^c) \text{이고,}$$

$$n(A) = n(A \cap B) + n(A \cap B^c)$$

이므로

$$n(A \cap B) = 5$$

만약 집합 A 의 원소를 작은 것부터 크기순으로 나열했을 때, 인접한 두 수가 $A \cap B$ 의 원소이면 수열 $\{b_n\}$ 은

등차수열이므로 집합 A 의 모든 원소는 집합 B 의 원소가 된다.

따라서 $n(A \cap B) = 10$ 이므로 $n(A \cap B) = 5$ 에 모순이다.

인접하지 않은 항으로 5개의 원소를 선택하는 경우는 다음 두 가지 경우이다.

(i) $A \cap B = \{7, 19, 31, 43, 55\}$ 인 경우 모든 원소의 합은

$$\frac{5(7+55)}{2} = 155 \text{이므로 조건 (다)에 모순이다.}$$

(ii) $A \cap B = \{1, 13, 25, 37, 49\}$ 인 경우 모든 원소의 합은

$$\frac{5(1+49)}{2} = 125 \text{이므로 조건 (다)를 만족시킨다.}$$

따라서 $A \cap B = \{1, 13, 25, 37, 49\}$ 이다.

$$\text{한편, } n(A \cap B) = \frac{1}{2} \times n(A^c \cap B) = 5 \text{이므로 } n(A^c \cap B) = 10$$

따라서

$$n(B) = n(A \cap B) + n(A^c \cap B)$$

$$= 5 + 10$$

$$= 15$$

공차가 6인 등차수열의 항을 원소로 갖는 집합 A 의 원소의 개수가 10이므로 수열 $\{b_n\}$ 의 공차가 6이상이면 집합 B 의

원소의 개수는 10 이하이다.

따라서 수열 $\{b_n\}$ 의 공차는 6보다 작다.

이때 $n(A \cap B) = 5$, $n(A^c \cap B) = 10$ 이고,

수열 $\{b_n\}$ 은 등차수열이므로 집합 B 의 원소를 작은 수부터 크기순으로 나열한 것을

$$1, c_1, c_2, 13, c_3, c_4, 25, c_5, c_6, 37, c_7, c_8, 49, c_9, c_{10}$$

이라 할 수 있다.

등차수열 $\{b_n\}$ 의 공차를 d_2 라 하면

$$13 - 1 = 12$$

$$= 3d_2 \text{이므로}$$

$$d_2 = 4$$

$$B = \{1, 5, 9, 13, \dots, 53, 57\}$$

따라서 집합 B 의 모든 원소의 합은 첫째항이 1이고

공차가 4인 등차수열의 제 1항부터 제 15항까지의 합과 같으므로

$$\frac{15(1+57)}{2} = 435$$

8) [정답] 26

[해설]

주어진 조건을 만족하는 집합 A_k 를 구하여 차례대로 나열해보면

$$A_1 = \{3, 5, 7, 9, 11\}$$

$$A_2 = \{9, 11, 13, \dots, 21\}$$

$$A_3 = \{15, 17, 19, \dots, 31\}$$

$$A_4 = \{21, 23, 25, \dots, 41\}$$

⋮

$$A_k = \{6k-3, 6k-1, 6k+1, \dots, 10k+1\} \text{ 이다.}$$

따라서 $A_{15} = \{87, 89, 91, \dots, 151\}$ 이다.

$p > 15$ 에서 $A_{15} \cap A_p = \emptyset$ 을 만족하려면 집합 A_p 의

가장 작은 원소 $(6p-3)$ 이 집합 A_{15} 의 가장 큰 원소 보다 커야 하므로 $6p-3 > 151$ 이어야 한다.

$$p > \frac{154}{6} = 25.6 \dots \text{이므로 자연수 } p \text{의 최솟값은 } 26 \text{이다.}$$

9) [정답] 320

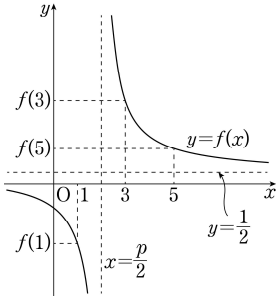
[해설]

$$f(x) = \frac{x+2n}{2x-p} = \frac{\frac{1}{2}(2x-p) + \frac{p}{2} + 2n}{2x-p} = \frac{1}{2} + \frac{\frac{p}{2} + 2n}{2x-p}$$

이고 $\frac{p}{2} + 2n > 0$ 이므로

$$f(1) < f(5) < f(3) \dots\dots \textcircled{1}$$

이 성립하려면 함수 $y=f(x)$ 의 그래프는 다음과 같아야 한다.



$1 < \frac{p}{2} < 3$ 이어야 하므로 $2 < p < 6$ 에서

자연수 p 의 최솟값 m 은 3

$$\text{함수 } g(x) = \frac{2x+n}{x+q} = \frac{2(x+q)+n-2q}{x+q} = 2 + \frac{n-2q}{x+q}$$

이므로 곡선 $y=g(x)$ 의 두 점근선의 방정식은

$$x = -q, y = 2$$

$p=3$ 일 때 $f(x) = \frac{x+2n}{2x-3}$ 에 대하여

$$x_1 = f(1) = -2n-1$$

$$x_2 = f(5) = \frac{2n+5}{7}$$

$$x_3 = f(3) = \frac{2n+3}{3}$$

이라 하면 $\textcircled{1}$ 으로부터 $x_1 < x_2 < x_3$

이때 문제의 조건에서

$g(x_2) < g(x_3) < g(x_1)$ 이 성립해야 하므로

함수 $y=g(x)$ 의 그래프는 다음과

같아야 한다.

그러므로 $x_1 < -q < x_2$ 이고

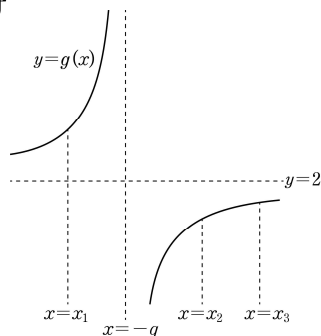
$n-2q < 0$ 이어야 한다.

$$\text{즉 } -2n-1 < -q < \frac{2n+5}{7} \text{ 이고}$$

$q > \frac{n}{2}$ 이어야 하므로

$$\frac{n}{2} < q < 2n+1$$

(i) $n=2l-1$ (l 은 자연수)일 때



$$\frac{2l-1}{2} < q < 2(2l-1)+1 \text{ 에서}$$

$$l - \frac{1}{2} < q < 4l-1 \text{ 이므로 } q=l, l+1, \dots, 4l-2$$

그러므로 정수 q 의 개수는 $3l-1$

(ii) $n=2l$ (l 은 자연수)일 때

$$\frac{2l}{2} < q < 2 \times 2l+1 \text{ 에서}$$

$$l < q < 4l+1 \text{ 이므로}$$

$$q=l+1, l+2, \dots, 4l$$

그러므로 정수 q 의 개수는 $3l$

(i), (ii)에 의하여 $a_{2l-1} = 3l-1, a_{2l} = 3l$

따라서

$$\sum_{k=1}^{20} a_k = \sum_{l=1}^{10} (a_{2l-1} + a_{2l})$$

$$= \sum_{l=1}^{10} (3l-1 + 3l)$$

$$= \sum_{l=1}^{10} (6l-1)$$

$$= 6 \sum_{l=1}^{10} l - \sum_{l=1}^{10} 1$$

$$= 6 \times \frac{10 \times 11}{2} - 10$$

$$= 330 - 10 = 320$$

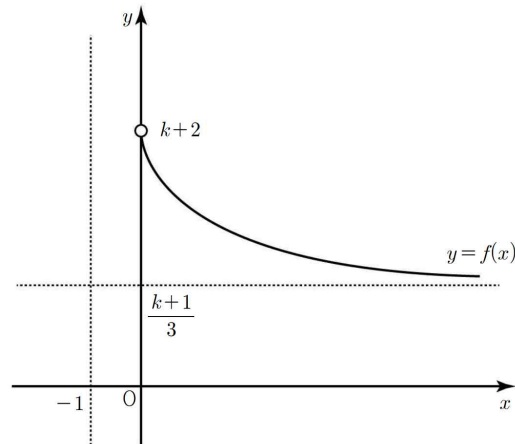
10) [정답] ④

[해설]

$$f(x) = \frac{(k+1)x+3k+6}{3(x+1)} = \frac{(k+1)(x+1)+2k+5}{3(x+1)}$$

$$= \frac{2k+5}{3(x+1)} + \frac{k+1}{3} \text{ 이므로}$$

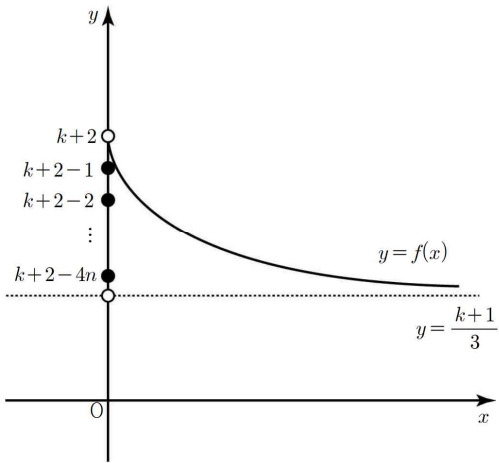
함수 $y=f(x)$ 의 그래프는 다음과 같다.



따라서 함수 $f(x)$ 의 치역은

$$\left\{ y \mid \frac{k+1}{3} < y < k+2 \right\}$$

이다. 함수 $f(x)$ 의 치역의 원소 중 정수의 개수는 $4n$ 이므로 $\frac{k+1}{3}$ 보다 크고 $k+2$ 보다 작은 정수의 개수가 $4n$ 이면 된다.



위의 그림에서

$$(k+2-4n)-1 \leq \frac{k+1}{3} < k+2-4n$$

이므로

$$6n - \frac{5}{2} < k \leq 6n - 1$$

이고, 함수 $f(x)$ 의 치역의 원소 중 정수의 개수가 $4n$ 이 되도록

하는 자연수 k 는 $6n-1, 6n-2$ 이다.

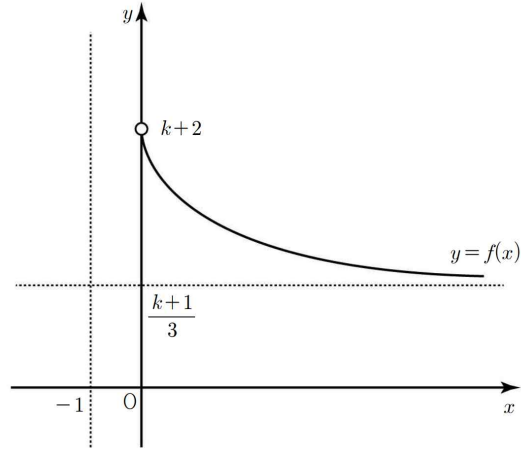
그러므로 모든 자연수 k 의 값의 합은 $(6n-1) + (6n-2) = 12n-3$ 이므로 $a_n = 12n-3$ 이다.

따라서 $\sum_{n=1}^{10} a_n = \sum_{n=1}^{10} (12n-3) = 630$ 이다.

[다른 풀이]

$$\begin{aligned} f(x) &= \frac{(k+1)x+3k+6}{3(x+1)} = \frac{(k+1)(x+1)+2k+5}{3(x+1)} \\ &= \frac{2k+5}{3(x+1)} + \frac{k+1}{3} \end{aligned}$$

함수 $y=f(x)$ 의 그래프는 다음과 같다.



따라서 함수 $f(x)$ 의 치역은

$$\left\{ y \mid \frac{k+1}{3} < y < k+2 \right\}$$

이다. 함수 $f(x)$ 의 치역의 원소 중 정수의 개수는 $4n$ 이므로 $\frac{k+1}{3}$

보다 크고 $k+2$ 보다 작은 정수의 개수가 $4n$ 이면 된다.

(i) $k=3m-1$ (m 은 자연수)

$\frac{k+1}{3}$ 보다 큰 가장 작은 정수는 $\frac{k+1}{3}+1 = \frac{k+4}{3}$ 이므로 함수 $f(x)$ 의 치역의 원소 중 정수의 개수는

$$k+2 - \left(\frac{k+4}{3} \right) = 4n$$

이다. $\frac{3k+6-k-4}{3} = 4n$ 에서 $\frac{2k+2}{3} = 4n$ 이므로

$k=6n-1$ 이다.

그러므로 함수 $f(x)$ 의 치역의 원소 중 정수의 개수가 $4n$ 이 되도록 하는 자연수 k 는 $6n-1$ 이다.

(ii) $k=3m-2$ (m 은 자연수)

$\frac{k+1}{3}$ 보다 큰 가장 작은 정수는 $\frac{k+1}{3} + \frac{1}{3} = \frac{k+2}{3}$ 이므로

함수 $f(x)$ 의 치역의 원소 중 정수의 개수는

$$k+2 - \left(\frac{k+2}{3} \right) = 4n$$

이다. $\frac{3k+6-k-2}{3} = 4n$ 에서 $\frac{2k+4}{3} = 4n$ 이므로

$k=6n-2$ 이다.

그러므로 함수 $f(x)$ 의 치역의 원소 중 정수의 개수가 $4n$ 이 되도록 하는 자연수 k 는 $6n-2$ 이다.

(iii) $k=3m$ (m 은 자연수)

$\frac{k+1}{3}$ 보다 큰 가장 작은 정수는 $\frac{k+1}{3} + \frac{2}{3} = \frac{k+3}{3}$ 이므로

함수 $f(x)$ 의 치역의 원소 중 정수의 개수는

$$k+2-\left(\frac{k+3}{3}\right)=4n$$

이다. $\frac{3k+6-k-3}{3}=4n$ 에서 $\frac{2k+3}{3}=4n$ 이므로

$$k=\frac{12n-3}{2}=6n-\frac{3}{2} \text{ 이다.}$$

따라서 함수 $f(x)$ 의 치역의 원소 중 정수의 개수가 $4n$ 이 되도록 하는 자연수 k 는 존재하지 않는다.

(i), (ii), (iii)에 의해 함수 $f(x)$ 의 치역의 원소 중 정수의 개수가 $4n$ 이 되도록 하는 자연수 k 의 값의 합은 $12n-3$ 이므로 $a_n=12n-3$ 이다.

따라서 $\sum_{n=1}^{10} a_n = \sum_{n=1}^{10} (12n-3) = 630$ 이다.

11) [정답] 117

[해설]

조건 (가)와 조건 (나)에서

$$\sum_{n=1}^5 (a_n + |b_n|) - \sum_{n=1}^5 (a_n + b_n) = 67 - 27 \text{ 이므로}$$

$$\sum_{n=1}^5 (|b_n| - b_n) = 40 \quad \dots\dots \textcircled{1}$$

한편, 등비수열 $\{b_n\}$ 의 공비를 r (r 는 음의 정수)라 하면

$b_1 > 0, b_2 < 0, b_3 > 0, b_4 < 0, b_5 > 0$ 이므로 $\textcircled{1}$ 에서

$$-2(b_2 + b_4) = 40$$

$$\text{즉, } b_1 r + b_1 r^3 = -20 \quad \dots\dots \textcircled{2}$$

$$b_1 r(1+r^2) = -20$$

이다. 이때 $b_1 r$ 는 음의 정수이고, $1+r^2$ 은 자연수이므로 $1+r^2$ 은 20의 양의 약수이어야 한다.

20의 양의 약수는 1, 2, 4, 5, 10, 20이고, r 가 음의 정수이므로

$$r = -1 \text{ 또는 } r = -2 \text{ 또는 } r = -3$$

이다. $\textcircled{2}$ 에서

$$r = -1 \text{ 일 때, } b_1 = 10$$

$$r = -2 \text{ 일 때, } b_1 = 2$$

$$r = -3 \text{ 일 때, } b_1 = \frac{2}{3}$$

이때, b_1 은 자연수이므로

$$b_1 = 10, r = -1 \text{ 또는 } b_1 = 2, r = -2$$

(i) $b_1 = 10, r = -1$ 일 때,

$$\sum_{n=1}^5 b_n = 10 \text{ 이므로}$$

조건 (가)에서

$$\sum_{n=1}^5 (a_n + b_n) = 27 \text{ 이므로}$$

$$\sum_{n=1}^5 a_n + \sum_{n=1}^5 b_n = 27$$

$$\sum_{n=1}^5 a_n + 10 = 27$$

$$\sum_{n=1}^5 a_n = 17$$

이때, $\sum_{n=1}^5 a_n = 5a_3 = 17$ 에서

$$a_3 = \frac{17}{5}$$

한편, 등차수열 $\{a_n\}$ 의 첫째항이 자연수이고 공차가 음의 정수이므로 등차수열 $\{a_n\}$ 의 모든 항의 정수이다.

따라서 $b_1 = 10, r = -1$ 은 주어진 조건을 만족시키지 못한다.

(ii) $b_1 = 2, r = -2$ 일 때

$$\sum_{n=1}^5 b_n = \frac{2\{1-(-2)^5\}}{1-(-2)} = 22$$

조건(가)에서

$$\sum_{n=1}^5 (a_n + b_n) = 27$$

이므로

$$\sum_{n=1}^5 a_n + 22 = 27$$

$$\sum_{n=1}^5 a_n = 5$$

이때, $\sum_{n=1}^5 a_n = 5a_3 = 5$ 에서

$$a_3 = 1$$

$$\text{또, } \sum_{n=1}^5 |b_n| = \frac{2\{1-|-2|^5\}}{1-|-2|} = 62$$

조건 (다)에서 $\sum_{n=1}^5 (|a_n| + |b_n|) = 81$

이므로

$$\sum_{n=1}^5 |a_n| + \sum_{n=1}^5 |b_n| = 81$$

$$\sum_{n=1}^5 |a_n| + 62 = 81$$

$$\sum_{n=1}^5 |a_n| = 19 \quad \dots\dots \textcircled{3}$$

한편, 등차수열 $\{a_n\}$ 의 공차를 $d(d$ 는 음의 정수)라 하면

$$a_3 = 1$$

$$\text{이므로 } a_1 > a_2 > a_3 > 0 \geq a_4 > a_5$$

이다. 이때,

$$a_1 = 1 - 2d$$

$$a_2 = 1 - d$$

$$a_4 = 1 + d$$

$$a_5 = 1 + 2d$$

이므로 ㉠에서

$$(1 - 2d) + (1 - d) + 1 - (1 + d) - (1 + 2d) = 19$$

$$1 - 6d = 19$$

$$d = -3$$

$$\text{따라서 } a_1 = 1 - 2 \times (-3) = 7$$

(i), (ii)에서

$$a_1 = 7, d = -3, b_1 = 2, r = -2$$

등차수열 $\{a_n\}$ 의 일반항 a_n

$$a_n = 7 + (n - 1) \times (-3) = -3n + 10$$

등비수열 $\{b_n\}$ 의 일반항 b_n 은

$$b_n = 2 \times (-2)^{n-1}$$

따라서

$$a_7 + b_7 = -11 + 128 = 117$$

12) [정답] 359

[해설]

(i) $a = c$ 일 때,

① $k < 24$ 일 때, 조건을 만족시키는 순서쌍은 존재하지 않는다.

② $24 \leq k < 500$ 일 때,

$$a^{\frac{1}{b}} \times c^{\frac{1}{d}} = 24^{\frac{1}{b}} \times 24^{\frac{1}{d}} = 24^{\frac{1}{b} + \frac{1}{d}} = 24^{\frac{1}{5}}$$

따라서 $\frac{1}{b} + \frac{1}{d} = \frac{b+d}{bd} = \frac{1}{5}$ 이므로 $bd = 5(b+d)$ 이고

$bd - 5b - 5d = 0$ 이 되어 $(b-5)(d-5) = 25$ 이다.

$b-5$	1	5	25
$d-5$	25	5	1

$(b, d) = (6, 30), (10, 10), (30, 6)$ 이다.

$24 \leq k < 30$ 이면 조건을 만족시키는 순서쌍

(a, b, c, d) 는 $(24, 10, 24, 10)$ 이므로 모든 순서쌍

(a, b, c, d) 의 개수는 1이다.

$30 \leq k < 500$ 이면 조건을 만족시키는 순서쌍

(a, b, c, d) 는 $(24, 6, 24, 30), (24, 10, 24, 10),$

$(24, 30, 24, 6)$ 이므로 모든 순서쌍 (a, b, c, d) 의

개수는 3이다.

(ii) $a \neq c$ 일 때,

$$\begin{aligned} 24^{\frac{1}{5}} &= (2 \times 12)^{\frac{1}{5}} = 2^{\frac{1}{5}} \times 12^{\frac{1}{5}} \\ &= (2^p)^{\frac{1}{5p}} \times (12^q)^{\frac{1}{5q}} \end{aligned} \quad \dots \text{㉠}$$

$$\begin{aligned} 24^{\frac{1}{5}} &= (3 \times 8)^{\frac{1}{5}} = 3^{\frac{1}{5}} \times 8^{\frac{1}{5}} \\ &= (3^p)^{\frac{1}{5p}} \times (8^q)^{\frac{1}{5q}} \end{aligned} \quad \dots \text{㉡}$$

$$\begin{aligned} 24^{\frac{1}{5}} &= (4 \times 6)^{\frac{1}{5}} = 4^{\frac{1}{5}} \times 6^{\frac{1}{5}} \\ &= (4^p)^{\frac{1}{5p}} \times (6^q)^{\frac{1}{5q}} \end{aligned} \quad \dots \text{㉢}$$

의 세 가지 경우가 있다.

한편, 두 자연수 p, q 의 값이 커지면 순서쌍 (a, b, c, d) 의 개수도 증가한다.

$2^p, 3^p, 4^p, 6^p, 8^p, 12^p$ 의 값은 각각 2이상 k 이하이므로 ㉠, ㉡, ㉢에서

$$3^4 = 81, 2^7 = 128, 12^2 = 144, 6^3 = 216,$$

$$3^5 = 243, \dots$$

을 이용하여 조건을 만족하는 모든 순서쌍 (a, b, c, d) 의 개수가 59인 경우를 찾아보자.

① $81 \leq k < 128$ 일 때,

㉠에서 $p = 1, 2, 3, 4, 5, 6, q = 1,$

즉, $5p = 5, 10, 15, 20, 25, 30, 5q = 5$ 이다.

그런데 $a = 2^p, c = 12^q$ 인 경우와 $a = 12^q, c = 2^p$ 인 경우가 있고 각각의 경우 순서쌍의 개수는 같으므로 모든 순서쌍 (a, b, c, d) 의 개수는 $6 \times 1 \times 2 = 12$ 이다.

㉡에서 $p = 1, 2, 3, 4, q = 1, 2,$

즉, $5p = 5, 10, 15, 20, 5q = 5, 10$ 이다.

그런데 $a = 3^p, c = 8^q$ 인 경우와 $a = 8^q, c = 3^p$ 인 경우가 있고 각각의 경우 순서쌍의 개수는 같으므로 모든 순서쌍 (a, b, c, d) 의 개수는 $4 \times 2 \times 2 = 16$ 이다.

㉢에서 $p = 1, 2, 3, q = 1, 2,$

즉, $5p = 5, 10, 15, 5q = 5, 10$ 이다.

그런데 $a = 4^p, c = 6^q$ 인 경우와 $a = 6^q, c = 4^p$ 인 경우가 있고 각각의 경우 순서쌍의 개수는 같으므로 모든 순서쌍 (a, b, c, d) 의 개수는 $3 \times 2 \times 2 = 12$ 이다.

따라서 (i)과 (ii)의 ①에서 모든 순서쌍

(a, b, c, d) 의 개수는 $3 + 12 + 16 + 12 = 43$ 이므로

조건에 맞지 않다.

마찬가지의 방법으로 구하면

② $128 \leq k < 144$ 일 때,

㉠에서 $p=1, 2, 3, 4, 5, 6, 7, q=1,$

즉, $5p=5, 10, 15, 20, 25, 30, 35, 5q=5$ 이다.

그러므로 조건에 맞는 모든 순서쌍 (a, b, c, d) 의 개수는 $7 \times 1 \times 2 = 14$ 이다.

㉡에서 $p=1, 2, 3, 4, q=1, 2,$

즉, $5p=5, 10, 15, 20, 5q=5, 10$ 이다.

그러므로 조건에 맞는 모든 순서쌍 (a, b, c, d) 의 개수는 $4 \times 2 \times 2 = 16$ 이다.

㉢에서 $p=1, 2, 3, q=1, 2,$

즉, $5p=5, 10, 15, 5q=5, 10$ 이다.

그러므로 조건에 맞는 모든 순서쌍 (a, b, c, d) 의 개수는 $3 \times 2 \times 2 = 12$ 이다.

따라서 (i)과 (ii)의 ②에서 모든 순서쌍 (a, b, c, d) 의

개수는 $3+14+16+12=45$ 이므로 조건에 맞지 않다.

③ $144 \leq k < 216$ 일 때,

㉠에서 $p=1, 2, 3, 4, 5, 6, 7, q=1, 2,$

즉, $5p=5, 10, 15, 20, 25, 30, 35,$

$5q=5, 10$ 이다.

그러므로 조건에 맞는 모든 순서쌍 (a, b, c, d) 의 개수는 $7 \times 2 \times 2 = 28$ 이다.

㉡에서 $p=1, 2, 3, 4, q=1, 2,$

즉, $5p=5, 10, 15, 20, 5q=5, 10$ 이다.

그러므로 조건에 맞는 모든 순서쌍 (a, b, c, d) 의 개수는 $4 \times 2 \times 2 = 16$ 이다.

㉢에서 $p=1, 2, 3, q=1, 2,$

즉, $5p=5, 10, 15, 5q=5, 10$ 이다.

그러므로 조건에 맞는 모든 순서쌍 (a, b, c, d) 의 개수는 $3 \times 2 \times 2 = 12$ 이다.

따라서 (i)과 (ii)의 ③에서 모든 순서쌍 (a, b, c, d) 의 개수는 $3+28+16+12=59$ 이다.

그러므로 k 의 최솟값 m 은 144이다.

④ $216 \leq k < 243$ 일 때,

㉠에서 $p=1, 2, 3, 4, 5, 6, 7, q=1, 2,$

즉, $5p=5, 10, 15, 20, 25, 30, 35,$

$5q=5, 10$ 이다.

그러므로 조건에 맞는 모든 순서쌍 (a, b, c, d) 의 개수는 $7 \times 2 \times 2 = 28$ 이다.

㉡에서 $p=1, 2, 3, 4, q=1, 2,$

즉, $5p=5, 10, 15, 20, 5q=5, 10$ 이다.

그러므로 조건에 맞는 모든 순서쌍 (a, b, c, d) 의 개수는 $4 \times 2 \times 2 = 16$ 이다.

㉢에서 $p=1, 2, 3, q=1, 2, 3,$

즉, $5p=5, 10, 15, 5q=5, 10, 15$ 이다.

그러므로 조건에 맞는 모든 순서쌍 (a, b, c, d) 의 개수는 $3 \times 3 \times 2 = 18$ 이다.

따라서 (i)과 (ii)의 ④에서 모든 순서쌍 (a, b, c, d) 의 개수는 $3+28+16+18=65$ 이므로 조건에 맞지 않다.

그러므로 k 의 최댓값 M 은 215이다.

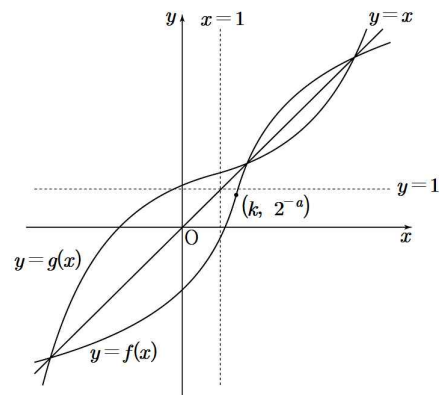
따라서 $M+m=215+144=359$ 이다.

13) [정답] 75

[해설]

(i) $k > 1$ 일 때,

$0 < \frac{1}{k} < 1$ 이고 $0 < 2^{-a} < 1 < k$ 이므로 두 함수 $y=f(x)$ 와 $y=g(x)$ 의 그래프는 그림과 같다.



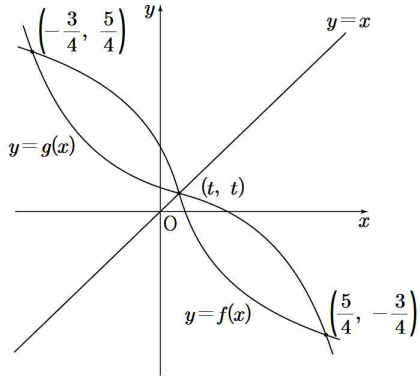
방정식 $f(x)=g(x)$ 의 해는 $y=f(x)$ 의 그래프와 직선 $y=x$ 의 세 교점의 x 좌표이다. 그림에서 함수 $y=f(x)$ 의 그래프는 점 $(k, 2^{-a})$ 을 지나며 $1 < k < t$ 이므로 $0 < t < 1$ 을 만족시키지 않는다.

(ii) $0 < k < 1$ 일 때

$\frac{1}{k} > 1$ 이고 방정식 $f(x)=g(x)$ 의 해가 $-\frac{3}{4}, t, \frac{5}{4}$ 이므로

$f(-\frac{3}{4})=\frac{5}{4}, f(t)=t, f(\frac{5}{4})=-\frac{3}{4}$ 이다.

두 함수 $y=f(x)$ 와 $y=g(x)$ 의 그래프는 그림과 같다.



$$2\log_{\frac{1}{k}}\left(\frac{7}{4}+k\right)+2^{-a}=\frac{5}{4} \quad \dots\dots \textcircled{㉑}$$

$$2\log_k\left(\frac{9}{4}-k\right)+2^{-a}=-\frac{3}{4} \quad \dots\dots \textcircled{㉒}$$

$$\textcircled{㉒}-\textcircled{㉑} \text{에서 } 2\log_k\left(\frac{9}{4}-k\right)\left(\frac{7}{4}+k\right)=-2$$

$$\left(\frac{9}{4}-k\right)\left(\frac{7}{4}+k\right)=\frac{1}{k}, \quad 16k^3-8k^2-63k+16=0$$

$$\begin{aligned} &16k^3-8k^2-63k+16 \\ &=16k^3-8k^2+k-64k+16 \\ &=(16k^3-8k^2+k)-(64k-16) \\ &=k(4k-1)^2-16(4k-1) \\ &=(4k-1)(4k^2-k-16) \\ &=0 \end{aligned}$$

$$\therefore k=\frac{1}{4}, \quad \frac{1\pm\sqrt{257}}{8}$$

$0 < k < 1$ 이므로 $k = \frac{1}{4}$ 이고

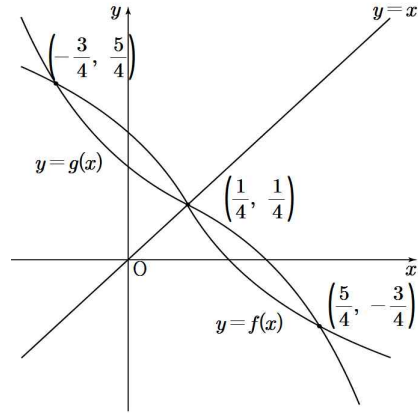
$$f\left(\frac{5}{4}\right)=2\log_{\frac{1}{4}}\left(\frac{5}{4}-\frac{1}{4}+1\right)+2^{-a}=-\frac{3}{4}$$

$2^{-a} = \frac{1}{4}$ 이므로 $a = 2$ 이다.

따라서 함수

$$f(x)=\begin{cases} 2\log_{\frac{1}{4}}\left(x+\frac{3}{4}\right)+\frac{1}{4} & \left(x \geq \frac{1}{4}\right) \\ 2\log_4\left(-x+\frac{5}{4}\right)+\frac{1}{4} & \left(x < \frac{1}{4}\right) \end{cases}$$

이다. $y=f(x)$ 의 그래프는 $\left(\frac{1}{4}, \frac{1}{4}\right)$ 을 지나므로 $t = \frac{1}{4}$ 이다.



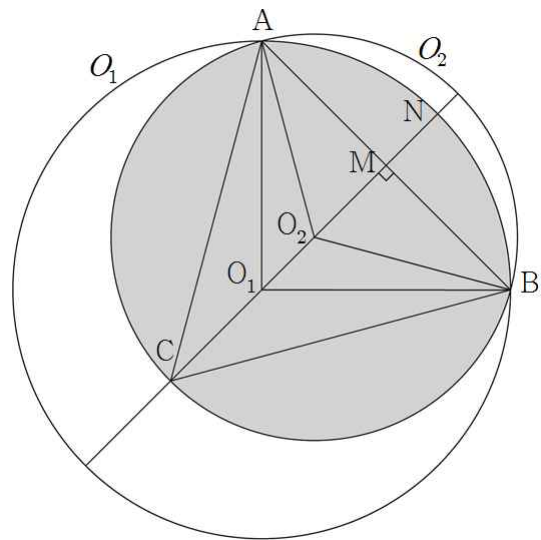
그러므로 $30(a+k+t)=30\times\left(2+\frac{1}{4}+\frac{1}{4}\right)=75$ 이다.

[참고]

$$\begin{aligned} &16k^3-8k^2-63k+16 \\ &=16k^3-4k^2-4k^2-63k+16 \\ &=4k^2(4k-1)-(4k^2+63k-16) \\ &=4k^2(4k-1)-(4k-1)(k+16) \\ &=(4k-1)(4k^2-k-16) \end{aligned}$$

14) [정답] 13

[해설]



원 O_1 의 중심을 O_1 , 원 O_2 의 중심을 O_2 , 직선 O_1O_2 가 선분 AB 와 만나는 점을 M 이라 하고, 직선 O_1O_2 가 원 O_1 과 만나는 두 점 중에서

점 M 에 가까운 점을 N 이라 하자.

$$\overline{O_1A} = 6, \quad \overline{AM} = 3\sqrt{2}$$

$$\overline{O_1A} : \overline{AM} = \sqrt{2} : 1 \text{ 이므로 } \quad \angle MO_1A = \frac{\pi}{4}$$

원 O_1 에서 점 B를 포함하지 않는 부채꼴 O_1NA 의 넓이는

$$\frac{1}{2} \times 6^2 \times \frac{\pi}{4} = \frac{9}{2} \pi \dots \text{㉠}$$

$\angle MO_2A = \frac{\pi}{3}$ 이므로 $\overline{O_2A} = 2\sqrt{6}$

원 O_2 에서 점 B를 포함하지 않는 부채꼴 O_2AC 의 넓이는

$$\frac{1}{2} \times (2\sqrt{6})^2 \times \frac{2}{3} \pi = 8\pi \dots \text{㉡}$$

$\overline{O_1O_2} = \overline{O_1M} - \overline{O_2M} = 3\sqrt{2} - \sqrt{6}$ 이므로

삼각형 AO_1O_2 의 넓이는

$$\frac{1}{2} \times 6 \times (3\sqrt{2} - \sqrt{6}) \times \sin \frac{\pi}{4} = 9 - 3\sqrt{3} \dots \text{㉢}$$

㉠, ㉡, ㉢에 의하여

$$\begin{aligned} p + q\sqrt{3} + r\pi &= 2 \times \left\{ \frac{9}{2} \pi + 8\pi - (9 - 3\sqrt{3}) \right\} \\ &= -18 + 6\sqrt{3} + 25\pi \end{aligned}$$

따라서 $p + q + r = 13$

15) [정답] 477

[해설]

$A(200)$ 은 조건의 등비수열에서 제 k 항이 3×2^{200} 이 되는 모든 k 의 값의 합이다.

공비를 2^p 이라 하면 $2^{200} = (2^p)^{\frac{200}{p}}$ 이고 $\frac{200}{p}$ 은 자연수이어야 하므로 p 는 200의 양의 약수이다.

그러므로 $3 \times 2^{200} = 3 \times (2^p)^{\frac{200}{p}}$ 은 첫째항이 3이고 공비가 2^p 인 등비수열의 제 $\left(\frac{200}{p} + 1\right)$ 항이다.

$200 = 2^3 \times 5^2$ 이므로 200의 모든 양의 약수는

$$1, 2, 2^2, 2^3, 5, 2 \times 5, 2^2 \times 5, 2^3 \times 5, 5^2,$$

$$2 \times 5^2, 2^2 \times 5^2, 2^3 \times 5^2$$

따라서

$$\begin{aligned} A(200) &= (2^3 \times 5^2 + 1) + (2^2 \times 5^2 + 1) + \dots + (2 + 1) + (1 + 1) \\ &= (2^3 \times 5^2 + 2^2 \times 5^2 + \dots + 2 + 1) + 12 \\ &= 465 + 12 \\ &= 477 \end{aligned}$$

16) [정답] 125

[해설]

함수 $f(x) = x^2 + n$ 의 그래프와 직선 $y = mx$ 가 만나기 위해서는

이차방정식 $x^2 - mx + n = 0$ 의 판별식

$$D = m^2 - 4n \geq 0 \text{에서 } m^2 \geq 4n$$

$n = 1$ 이면 $m^2 \geq 4$ 이므로 $a_1 = 2$

$n = 2$ 이면 $m^2 \geq 8$ 이므로 $a_2 = 3$

$n = 3$ 이면 $m^2 \geq 12$ 이므로 $a_3 = 4$

$n = 4$ 이면 $m^2 \geq 16$ 이므로 $a_4 = 4$

이를 바탕으로 추론하면

$$4 \times 5 < 5^2 < 4 \times 7 \text{이므로}$$

$a_n = 5$ 를 만족시키는 n 은 5, 6

$$4 \times 7 < 6^2 \leq 4 \times 9 \text{이므로}$$

$a_n = 6$ 을 만족시키는 n 은 7, 8, 9

⋮

$$4 \times 26 < 11^2 < 4 \times 31 \text{이므로 } a_n = 11 \text{을 만족시키는}$$

n 은 26, 27, 28, 29, 30

$$4 \times 31 < 12^2 \leq 4 \times 36 \text{이므로 } a_n = 12 \text{를 만족시키는}$$

n 은 31, 32, 33, 34, 35, 36

$a_n < a_{n+1}$ 을 만족시키는 33 이하의 모든 n 의 값은

$$1, 2, 4, 6, 9, 12, 16, 20, 25, 30$$

따라서 모든 n 의 값의 합은 125

17) [정답] 7

[해설]

$a_n + b_n = 2 + (n-1)(l+m)$ 이므로 수열 $\{a_n + b_n\}$ 은 첫째항이 2이고 공차가 정수 $l+m$ 인 등차수열이다.

$l+m \geq 0$ 이라 하면 수열 $\{|a_n + b_n|\}$ 은 첫째항이 2이고 공차가 $l+m$ 인 등차수열이다.

공차 $l+m$ 이 정수이므로

$$\sum_{k=1}^{10} |a_k + b_k| = \frac{10\{2 \times 2 + 9(l+m)\}}{2} = 31 \text{에서 } l+m = \frac{11}{45} \text{을}$$

만족시키는 두 정수 l, m 은 존재하지 않는다.

$l+m \leq -2$ 라 하면 수열 $\{|a_n + b_n|\}$ 은 첫째항과 제2항이 각각 2, $|a_2 + b_2|$ 이고, 제 2항부터 공차가 $|l+m|$ 인 등차수열이다.

공차 $|l+m|$ 이 정수이므로

$$\sum_{k=1}^{10} |a_k + b_k| = 2 + \frac{9(2|a_2 + b_2| + 8|l+m|)}{2} = 31 \text{에서}$$

$|a_2 + b_2| + 4|l+m| = \frac{29}{9}$ 를 만족시키는 두 정수 l, m 은 존재하지 않는다.

$l+m = -1$ 이라 하면 수열 $\{|a_n + b_n|\}$ 은 첫째항, 제 2항, 제 3항이 각각 2, 1, 0이고, 제 3항부터 공차가 1인 등차수열이다.

$$\text{이때 } \sum_{k=1}^{10} |a_k + b_k| = 2 + 1 + \frac{8 \times (2 \times 0 + 7 \times 1)}{2} = 31$$

따라서 $l+m = -1$

$$m = -l - 1 \text{에서 } b_n = -10 + (n-1)(-l-1)$$

$|a_3| = |12 + 2l|$, $|b_3| = |-12 - 2l|$ 이므로 두 정수 l, m 에 관계없이 $|a_3| = |b_3|$ 이 성립한다.

(i) $l \geq 0$ 일 때

$m < 0$ 이고 모든 자연수 k 에 대하여 $a_k > 0, b_k < 0$ 이다.

$$|a_k| - |b_k| = a_k + b_k = 3 - k \text{이므로}$$

$$\sum_{k=1}^{10} (|a_k| - |b_k|) = \sum_{k=1}^{10} (3 - k) = -25$$

(ii) $-4 \leq l \leq -1$ 일 때

① $l = -1$ 인 경우

$$\begin{aligned} \sum_{k=1}^{10} (|a_k| - |b_k|) &= 2 + 1 + (-1) + (-2) + (-3) + (-4) \\ &\quad + (-5) + (-6) + (-7) \\ &= -25 \end{aligned}$$

② $l = -2$ 인 경우

$$\begin{aligned} \sum_{k=1}^{10} (|a_k| - |b_k|) &= 2 + 1 + (-1) + (-2) + (-3) + (-4) \\ &\quad + (-1) + 2 + 5 \\ &= -1 \end{aligned}$$

③ $l = -3$ 인 경우

$$\sum_{k=1}^{10} (|a_k| - |b_k|)$$

$$= 2 + 1 + (-1) + (-2) + 3 + 4 + 5 + 6 + 7 = 25$$

④ $l = -4$ 인 경우

$$\begin{aligned} \sum_{k=1}^{10} (|a_k| - |b_k|) &= 2 + 1 + (-1) + 2 + 3 + 4 + 5 + 6 + 7 \\ &= 29 \end{aligned}$$

(iii) $-11 \leq l \leq -5$ 일 때

$$|a_1| - |b_1| = 2, |a_2| - |b_2| = (12+l) - (11+l) = 1$$

이고, $k \geq 3$ 인 자연수 k 에 대하여

$$\begin{aligned} |a_k| - |b_k| &= \{-12 - (k-1)l\} + \{10 + (k-1)(l+1)\} \\ &= k - 3 \sum_{k=1}^{10} (|a_k| - |b_k|) \\ &= 2 + 1 + \sum_{k=3}^{10} (k-3) = 31 \end{aligned}$$

(iv) $l \leq -12$ 일 때

$$|a_1| - |b_1| = 2,$$

$$|a_2| - |b_2| = (-12-l) - (-11-l) = -1$$

이고, $k \geq 3$ 인 자연수 k 에 대하여

$$\begin{aligned} |a_k| - |b_k| &= \{-12 - (k-1)l\} - \{-10 - (k-1)(l+1)\} \\ &= k - 3 \end{aligned}$$

이므로

$$\sum_{k=1}^{10} (|a_k| - |b_k|) = 2 + (-1) + \sum_{k=3}^{10} (k-3) = 29$$

(i)~(iv)에서 구하는 모든 순서쌍 (l, m) 은

$$(-11, 10), (-10, 9), (-9, 8), \dots, (-5, 4)$$

이므로 개수는 7이다.

18) [정답] 49

[해설]

$$\text{함수 } f(x) \text{의 주기는 } \frac{2\pi}{\left|\frac{\pi}{6}\right|} = 12 \text{이고,}$$

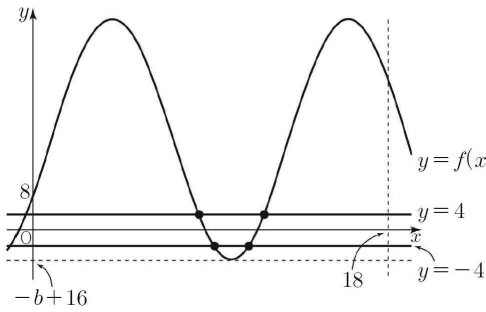
$$f(0) = -\frac{1}{2}a + b = 8 \text{에서}$$

$$a = 2b - 16$$

$g(t)$ 의 값은 $0 < x < t$ 에서 함수 $y = |f(x)|$ 의 그래프가 직선 $y=4$ 와 만나는 점의 개수이므로 $g(t)$ 의 값은 $0 < x < t$ 에서 함수 $y=f(x)$ 의 그래프가 직선 $y=4$ 와 만나는 점의 개수와 $0 < x < t$ 에서 함수 $y=f(x)$ 의 그래프가 직선 $y=-4$ 와 만나는 점의 개수의 합과 같다.

(i) $a > 0$ 일 때

$b > 8$ 이므로 $f(18) = 2b - 8 > 8$ 이고, 함수 $f(x)$ 의 주기는 12이므로 함수 $y=f(x)$ 의 그래프의 개형은 그림과 같다.

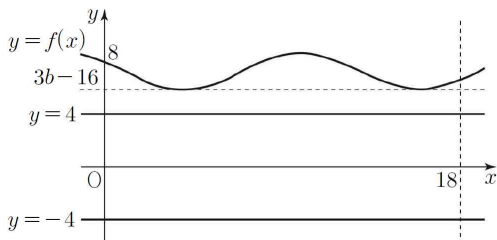


그러므로 함수 $f(x)$ 의 최솟값인 $-b+16$ 이 -4 보다 작을 때 $g(18)$ 의 값은 최대이고 그 값은 4이다. 따라서 $a > 0$ 일 때 $g(18) = 5$ 를 만족시키는 두 실수 a, b 가 존재하지 않는다.

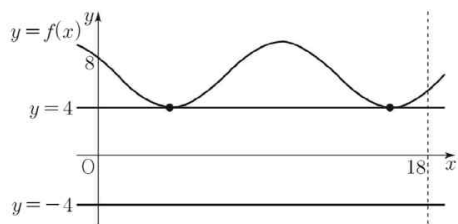
(ii) $a < 0$ 일 때

$b < 8$ 이고, 함수 $f(x)$ 의 최솟값인 $3b-16$ 의 범위에 따른 $g(18)$ 의 값은 다음과 같다.

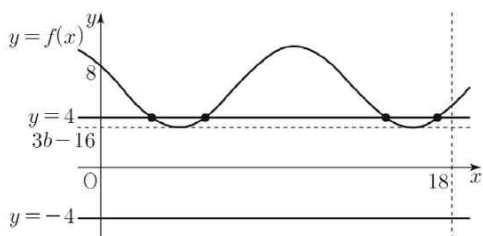
(a) $4 < 3b-16 < 8$ 일 때 $g(18) = 0$



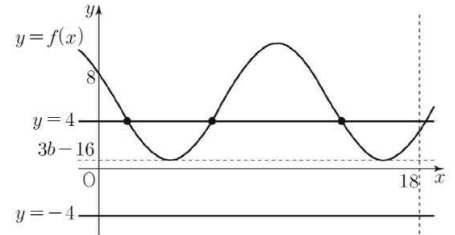
(b) $3b-16 = 4$ 일 때 $g(18) = 2$



(c) $2 < 3b-16 < 4$ 일 때 $f(18) > 4$ 이므로 $g(18) = 4$

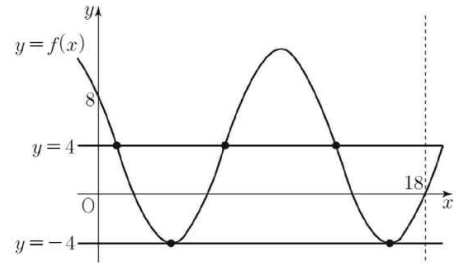


(d) $-4 < 3b-16 \leq 2$ 일 때 $0 < f(18) \leq 4$ 이므로



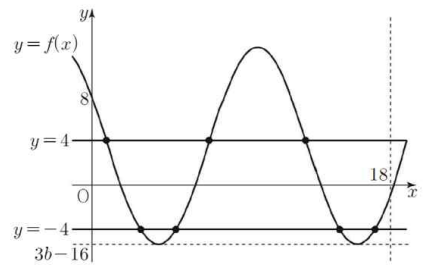
$g(18) = 3$

(e) $3b-16 = -4$ 일 때 $f(18) = 0$ 이므로 $g(18) = 5$

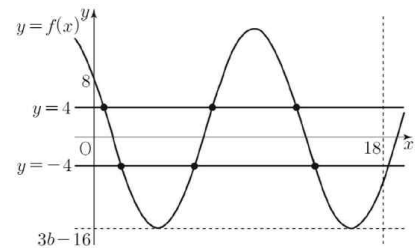


(f) $-19 < 3b-16 < -4$ 일 때 $-4 < f(18) < 0$ 이므로

$g(18) = 7$

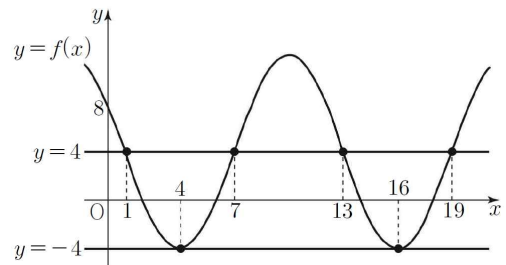


(g) $3b-16 \leq -10$ 일 때 $f(18) \leq -4$ 이므로 $g(18) = 6$



(i), (ii)에서 $3b-16 = -4$, 즉 $a = -8, b = 4$ 일 때 $g(18) = 5$ 이다.

그러므로 $f(x) = -8\sin\frac{\pi}{6}(x-1) + 4$ 이고, 함수 $y=f(x)$ 의 그래프는 그림과 같다.



$f(1) = f(7) = f(13) = 4$ 이고 $f(4) = -4$ 이므로 $7 < p \leq 13$ 인 실수 p 에 대하여 $0 < x < p$ 에서 함수 $y=f(x)$ 의 그래프가 두 직선 $y=4, y=-4$ 와 만나는 점의 개수는 각각 2, 1이다.

그러므로 $g(\alpha) = |a-b| = 12$, 즉 $0 < x < \alpha$ 에서 함수 $y=f(x)$ 의 그래프가 직선 $y=4$ 와 만나는 점의 개수와 $0 < x < \alpha$ 에서 함수 $y=f(x)$ 의 그래프가 직선 $y=-4$ 와 만나는 점의 개수의 합이 12가 되도록 하는 양수 α 의 값의 범위는

$$7 + 12 \times 3 < \alpha \leq 13 + 12 \times 3$$

$$43 < \alpha \leq 49$$

따라서 양수 α 의 최댓값은 49이다.

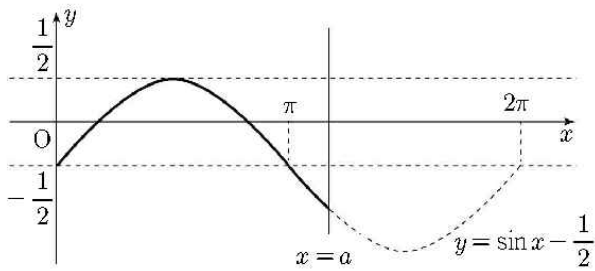
19) [정답] 110

[해설]

$\pi < a < 2\pi$ 라 하면 함수 $y = \sin x - \frac{1}{2}$ 의 그래프에서

$\pi < x < a$ 일 때 $\sin x - \frac{1}{2} < -\frac{1}{2}$ 이므로 $\left| \sin x - \frac{1}{2} \right| > \frac{1}{2}$ 이다.

따라서 조건 (가)를 만족시키지 않는다.

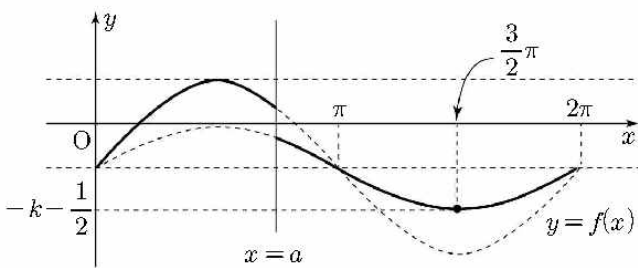


따라서 $0 < a \leq \pi$ 이다.㉠

(i) $k > 0$ 인 경우

$a \leq x \leq 2\pi$ 에서 함수 $y = k \sin x - \frac{1}{2}$ 은 $x = \frac{3}{2}\pi$ 일

때 최솟값 $k \sin \frac{3}{2}\pi - \frac{1}{2} = -k - \frac{1}{2}$ 을 갖는다.



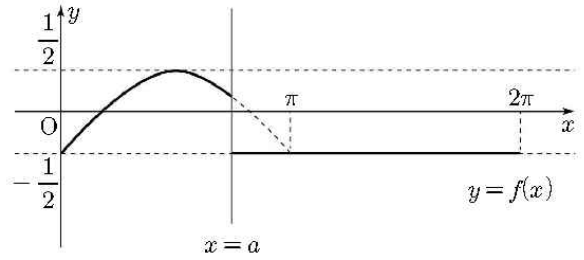
따라서 함수 $|f(x)|$ 의 최댓값은 $k + \frac{1}{2}$ 이고, $k + \frac{1}{2} > \frac{1}{2}$ 이므로

조건 (가)를 만족시키지 않는다.

(ii) $k = 0$ 인 경우

$$\text{함수 } f(x) = \begin{cases} \sin x - \frac{1}{2} & (0 \leq x < a) \\ -\frac{1}{2} & (a \leq x \leq 2\pi) \end{cases} \text{ 이고}$$

방정식 $f(x) = 0$ 의 실근의 개수는 2 이하이므로 조건 (나)를 만족시키지 않는다.



(iii) $k < 0$ 인 경우

$0 < a < \pi$ 이면 $\sin a > 0$ 이므로

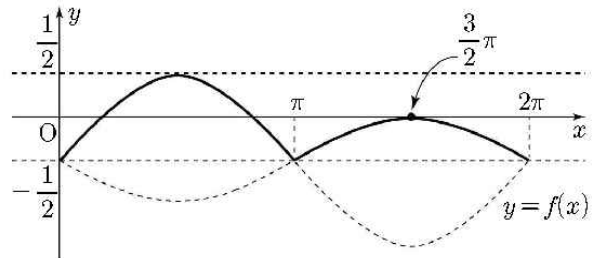
$$f(a) = k \sin a - \frac{1}{2} < -\frac{1}{2} \text{ 이다.}$$

따라서 $|f(a)| > \frac{1}{2}$ 이고 조건 (가)를 만족시키지 않

으므로 ㉠에 의해 $a = \pi$ 이다.

조건 (나)에 의해 방정식 $f(x) = 0$ 의 서로 다른 실근

의 개수가 3이므로 $f\left(\frac{3}{2}\pi\right) = 0$ 이다.



즉 $k \times (-1) - \frac{1}{2} = 0$ 이므로 $k = -\frac{1}{2}$ 이다. 따라서 구하는 함수

$f(x)$ 는

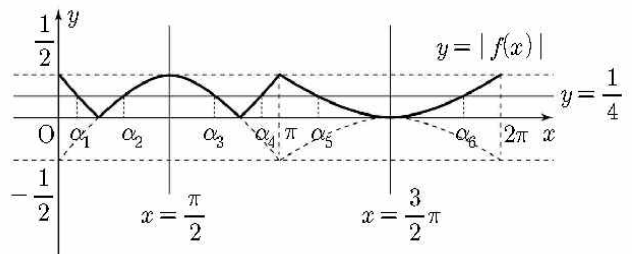
$$f(x) = \begin{cases} \sin x - \frac{1}{2} & (0 \leq x < \pi) \\ -\frac{1}{2} \sin x - \frac{1}{2} & (\pi \leq x \leq 2\pi) \end{cases}$$

이다.

함수 $y = |f(x)|$ 의 그래프와 직선 $y = \frac{1}{4}$ 이 만나는 점의

x 좌표를 작은 수부터 크기순으로 $\alpha_1, \alpha_2, \alpha_3, \alpha_4, \alpha_5,$

α_6 이라고 하자.



$$\frac{\alpha_1 + \alpha_4}{2} = \frac{\pi}{2}, \quad \frac{\alpha_2 + \alpha_3}{2} = \frac{\pi}{2}, \quad \frac{\alpha_5 + \alpha_6}{2} = \frac{3\pi}{2} \text{ 이므로}$$

$$S = \alpha_1 + \alpha_2 + \alpha_3 + \alpha_4 + \alpha_5 + \alpha_6 = \pi + \pi + 3\pi = 5\pi$$

이다. 따라서

$$20 \left(\frac{a+S}{\pi} + k \right) = 20 \left(\frac{\pi+5\pi}{\pi} - \frac{1}{2} \right) = 20 \times \frac{11}{2} = 110$$

이다.

20) [정답] 79

[해설]

두 조건 (가)와 (나)로부터 $a_{2n} + a_{2n+1} = 2b_n + 1$

두 조건 (다)와 (라)로부터 $b_{2n} + b_{2n+1} = 2a_n + 1$

$$\begin{aligned} & \sum_{n=1}^{63} a_n - \sum_{n=1}^{31} b_n \\ &= a_1 + \sum_{n=1}^{31} (a_{2n} + a_{2n+1}) - \sum_{n=1}^{31} b_n \\ &= a_1 + \sum_{n=1}^{31} (2b_n + 1) - \sum_{n=1}^{31} b_n \\ &= a_1 + \sum_{n=1}^{31} b_n + 31 \\ &= a_1 + b_1 + \sum_{n=1}^{15} (b_{2n} + b_{2n+1}) + 31 \\ &= a_1 + b_1 + \sum_{n=1}^{15} (2a_n + 1) + 31 \\ &= a_1 + b_1 + 2 \sum_{n=1}^{15} a_n + 15 + 31 \\ &= a_1 + b_1 + 2a_1 + 2 \sum_{n=1}^7 (2b_n + 1) + 46 \\ &= a_1 + b_1 + 2a_1 + 4 \sum_{n=1}^7 b_n + 14 + 46 \\ &= a_1 + b_1 + 2a_1 + 4b_1 + 4 \sum_{n=1}^3 (2a_n + 1) + 60 \\ &= a_1 + b_1 + 2a_1 + 4b_1 + 8 \sum_{n=1}^3 a_n + 12 + 60 \\ &= a_1 + b_1 + 2a_1 + 4b_1 + 8a_1 + 8(2b_1 + 1) + 72 \\ &= a_1 + b_1 + 2a_1 + 4b_1 + 8a_1 + 16b_1 + 8 + 72 \\ &= 11a_1 + 21b_1 + 80 = 155 \end{aligned} \quad \dots \textcircled{7}$$

조건 (가)와 (다)에서

$$a_{4n} = b_{2n} + 2 = (3a_n - 2) + 2 = 3a_n,$$

$$b_{4n} = 3a_{2n} - 2 = 3(b_n + 2) - 2 = 3b_n + 4$$

이므로

$$a_{48} = 3a_{12} = 9a_3 = 9(b_1 - 1) = 9, \quad b_1 = 2$$

⑦에 의하여 $a_1 = 3$

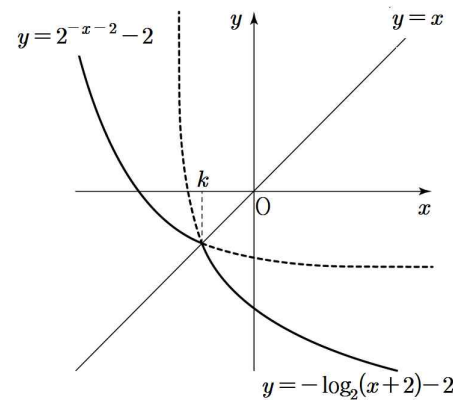
따라서 $b_{32} = 3b_8 + 4 = 9b_2 + 16 = 9(3a_1 - 2) + 16 = 79$

21) [정답] ①

[해설]

두 곡선 $y = -\log_2(x+2) - 2$ 와 $y = 2^{-x-2} - 2$ 는 직선 $y = x$ 에 대하여 대칭이다.

정의역과 공역이 각각 실수 전체의 집합인 함수 $f(x)$ 가 일대일대응이므로 상수 k 의 값은 두 곡선의 교점의 x 좌표이다.



곡선 $y = -\log_2(x+2) - 2$ 와 x 축의 교점의 x 좌표가

$-\frac{7}{4}$ 이므로 $k > -\frac{7}{4}$ 이다.

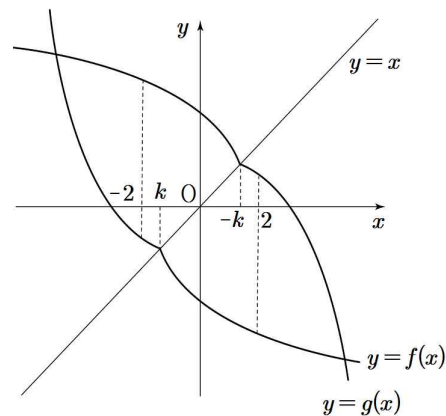
$k \geq -1$ 이라 가정하면 $k = -\log_2(k+2) - 2$ 이므로

$$k = -\log_2(k+2) - 2 \leq -\log_2\{(-1)+2\} - 2 = -2$$

가 되어 모순이므로 $k < -1$ 이다.

따라서 k 의 값의 범위는 $-\frac{7}{4} < k < -1$ 이다.

두 함수 $y = f(x)$ 와 $y = g(x)$ 의 그래프는 그림과 같다.



(i) $-2 \leq x < k$ 일 때,

$$f(x) = 2^{-x-2} - 2, \quad g(x) = \log_2(2-x) + 2 \text{이고}$$

$$f(-2) = -1, \quad g(-2) = 4 \text{이므로}$$

$(-2, -1), (-2, 0), (-2, 1), (-2, 2), (-2, 3), (-2, 4) : 6$ 개

(ii) $k \leq x < -k$ 일 때,

$$f(x) = -\log_2(x+2) - 2, \quad g(x) = \log_2(2-x) + 2 \text{이고}$$

- ① $f(-1)=-2, 3 < g(-1) < 4$ 이므로
 $(-1, -2), (-1, -1), (-1, 0), (-1, 1),$
 $(-1, 2), (-1, 3) : 6$ 개
- ② $f(0)=-3, g(0)=3$ 이므로
 $(0, -3), (0, -2), (0, -1), (0, 0), (0, 1),$
 $(0, 2), (0, 3) : 7$ 개
- ③ $-4 < f(1) < -3, g(1)=2$ 이므로
 $(1, -3), (1, -2), (1, -1), (1, 0), (1, 1),$
 $(1, 2) : 6$ 개

(iii) $-k \leq x \leq 2$ 일 때,
 $f(x)=-\log_2(x+2)-2, g(x)=-2^{x-2}+2$ 이고
 $f(2)=-4, g(2)=1$ 이므로
 $(2, -4), (2, -3), (2, -2), (2, -1),$
 $(2, 0), (2, 1) : 6$ 개

(i), (ii), (iii)에서 $6+6+7+6+6=31$
 따라서 $f(a) \leq b \leq g(a)$ 를 만족시키는 정수 a, b 의 모든
 순서쌍 (a, b) 의 개수는 31

22) [정답] 686

[해설]

$$(f \circ h)(x) = \cos(a\pi x + b\pi) \\ = \begin{cases} \cos a\pi x & (b \text{는 짝수}) \\ -\cos a\pi x & (b \text{는 홀수}) \end{cases}$$

이고 $(h \circ g)(x) = a \sin \pi x + b$ 이다.

두 자연수 a, b 에 대하여

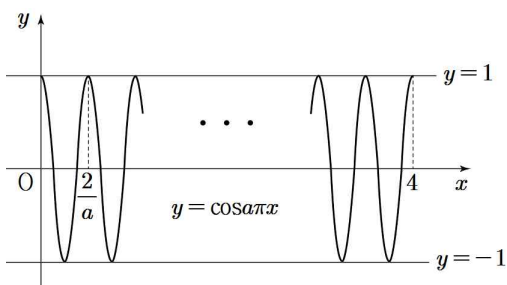
$$(h \circ g)\left(\frac{3}{2}\right) = a \sin \frac{3}{2}\pi + b = -a + b$$

는 정수이므로 조건 (가)의 방정식의 실근이 존재하기 위한
 $-a+b$ 의 값은 -1 또는 0 또는 1 이다.

함수 $(f \circ h)(x) = \begin{cases} \cos a\pi x & (b \text{는 짝수}) \\ -\cos a\pi x & (b \text{는 홀수}) \end{cases}$ 의 그래프는

주기가 $\frac{2}{a}$ 이므로

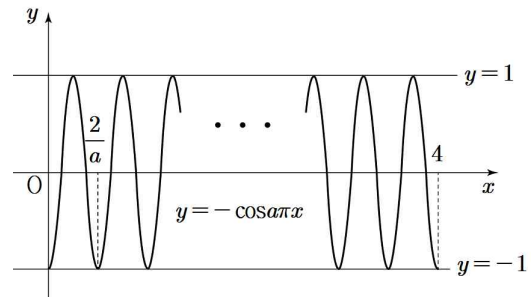
(i) b 가 짝수인 경우



- ① $-a+b=1$ 일 때
 두 함수 $y=(f \circ h)(x)=\cos a\pi x$ 와 $y=-a+b$ 의
 그래프의 교점의 개수는 $2a+1$
- ② $-a+b=0$ 일 때
 두 함수 $y=(f \circ h)(x)=\cos a\pi x$ 와 $y=-a+b$ 의
 그래프의 교점의 개수는 $4a$
- ③ $-a+b=-1$ 일 때
 두 함수 $y=(f \circ h)(x)=\cos a\pi x$ 와 $y=-a+b$ 의
 그래프의 교점의 개수는 $2a$

따라서 두 함수 $y=(f \circ h)(x)=\cos a\pi x$ 와 $y=-a+b$ 의
 그래프의 교점의 개수가 홀수이려면 $-a+b=1$ 이다.
 $b=a+1$ 이므로 a 는 홀수이다.

(ii) b 가 홀수인 경우



- ① $-a+b=1$ 일 때
 두 함수 $y=(f \circ h)(x)=\cos a\pi x$ 와 $y=-a+b$ 의
 그래프의 교점의 개수는 $2a$
- ② $-a+b=0$ 일 때
 두 함수 $y=(f \circ h)(x)=\cos a\pi x$ 와 $y=-a+b$ 의
 그래프의 교점의 개수는 $4a$
- ③ $-a+b=-1$ 일 때
 두 함수 $y=(f \circ h)(x)=\cos a\pi x$ 와 $y=-a+b$ 의
 그래프의 교점의 개수는 $2a+1$

따라서 두 함수 $y=(f \circ h)(x)=\cos a\pi x$ 와 $y=-a+b$ 의
 그래프의 교점의 개수가 홀수이려면 $-a+b=-1$ 이다.

$b=a-1$ 이므로 a 는 짝수이다.

조건 (나)에서 방정식 $(f \circ h)(x)=(h \circ g)(t)$ 의 해는

(i) a 가 홀수, b 가 짝수인 경우

$b=a+1$ 이므로 (나)의 방정식은

$$\cos a\pi x = a \sin \pi t + (a+1) = a(\sin \pi t + 1) + 1$$

이고 $a(\sin \pi t + 1) + 1 \geq 1$ 이므로 $\cos a\pi t = 1$ 이다.

$0 \leq x \leq 4$ 일 때, 서로 다른 실근의 개수는 $2a+1$ 이고
 함수 $y = \cos a\pi x$ 의 그래프는 직선 $x=2$ 에 대하여
 대칭이다.

따라서 $0 \leq x \leq 4$ 일 때, 서로 다른 모든 실근의 합은
 $(2a+1) \times 2 = 4a+2 = 56$ 이 되어 자연수 a 는 존재하지

않는다.

(ii) a 가 짝수, b 가 홀수인 경우

$b = a - 1$ 이므로 (나)의 방정식은

$$-\cos a\pi x = a \sin \pi t + (a-1) = a(\sin \pi t + 1) - 1$$

이고 $a(\sin \pi t + 1) - 1 \geq -1$ 이므로 서로 다른 실근의 개수에

따라 다음과 같이 세 가지 경우로 나눌 수 있다.

① $a \sin \pi t + (a-1) = -1$ 인 경우

$0 \leq x \leq 4$ 일 때, $-\cos a\pi x = -1$ 의 서로 다른 실근의 개수는 $2a+1$ 이고 함수 $y = -\cos a\pi x$ 의 그래프는 직선 $x=2$ 에 대하여 대칭이다.

따라서 $0 \leq x \leq 4$ 일 때, 서로 다른 모든 실근의 합은 $(2a+1) \times 2 = 4a+2 = 56$ 이 되어 자연수 a 는 존재하지 않는다.

② $-1 < a \sin \pi t + (a-1) < 1$ 인 경우

$0 \leq x \leq 4$ 일 때, $-\cos a\pi x = a \sin \pi t + (a-1)$ 의 서로 다른 실근의 개수는 $4a$ 이고 함수 $y = -\cos a\pi x$ 의 그래프는 직선 $x=2$ 에 대하여 대칭이다.

따라서 $0 \leq x \leq 4$ 일 때, 서로 다른 모든 실근의 합은 $4a \times 2 = 8a = 56$ 이 되어 짝수 a 는 존재하지 않는다.

③ $a \sin \pi t + (a-1) = 1$ 인 경우

$0 \leq x \leq 4$ 일 때, $-\cos a\pi x = 1$ 의 서로 다른 실근의 개수는 $2a$ 이고 함수 $y = -\cos a\pi x$ 의 그래프는 직선 $x=2$ 에 대하여 대칭이다.

따라서 $0 \leq x \leq 4$ 일 때, 서로 다른 모든 실근의 합은 $2a \times 2 = 4a = 56$ 이다.

그러므로 $a = 14$, $b = 13$ 이다.

$(h \circ g)(t) = a \sin \pi t + b = 14 \sin \pi t + 13 = 1$ 에서 방정식

$(f \circ h)(x) = (h \circ g)(t)$ 의 서로 다른 모든 실근의 합이 56이

되도록 하는 실수 t 는 $\sin \pi t = -\frac{6}{7}$ 을 만족시키므로

$$\cos^2 \pi t = \frac{13}{49} \text{이다.}$$

$$\text{따라서 } \frac{a \times b}{\cos^2 \pi t} = \frac{14 \times 13}{\frac{13}{49}} = 686$$

23) [정답] 217

[해설]

$$\log a_n + \log a_{n+1} = 2n \text{에서 } a_n a_{n+1} = 10^{2n}$$

$$a_1 a_2 = 10^2, a_2 a_3 = 10^4, a_3 a_4 = 10^6 \text{에서}$$

$$a_2 = 10^2 \times \frac{1}{a_1}, a_3 = 10^2 \times a_1, a_4 = 10^4 \times \frac{1}{a_1}$$

조건에서 $\{a_n\}$ 는 모든 항이 자연수이므로 a_2 가 자연수가 되려면 a_1 은 $100 = 2^2 \times 5^2$ 의 약수이므로 가능한 a_1 은 총 9가지다.

$$(i) a_1 = 1 \text{일 때 } a_4 = 10^4 \times 1 = 10000$$

$$(ii) a_1 = 2 \text{일 때 } a_4 = 10^4 \times \frac{1}{2} = 5000$$

$$(iii) a_1 = 2^2 \text{일 때 } a_4 = 10^4 \times \frac{1}{2^2} = 2500$$

$$(iv) a_1 = 5 \text{일 때 } a_4 = 10^4 \times \frac{1}{5} = 2000$$

$$(v) a_1 = 2 \times 5 \text{일 때 } a_4 = 10^4 \times \frac{1}{10} = 1000$$

$$(vi) a_1 = 2^2 \times 5 \text{일 때 } a_4 = 10^4 \times \frac{1}{20} = 500$$

$$(vii) a_1 = 5^2 \text{일 때 } a_4 = 10^4 \times \frac{1}{25} = 400$$

$$(viii) a_1 = 2 \times 5^2 \text{일 때 } a_4 = 10^4 \times \frac{1}{50} = 200$$

$$(ix) a_1 = 2^2 \times 5^2 \text{일 때 } a_4 = 10^4 \times \frac{1}{100} = 100$$

(i)~(ix)에서 만족하는 값을 모두 더하면 21700

즉, $p \times 100 = 217 \times 100$ 에서 $p = 217$

24) [정답] ③

[해설]

조건 (가), (나)에 의해

$$a_2 = 1 - a_1$$

$$a_3 = \frac{1}{a_2} = \frac{1}{1 - a_1}$$

$$a_4 = 1 - a_3 = -\frac{a_1}{1 - a_1}$$

$$a_5 = \frac{1}{a_4} = 1 - \frac{1}{a_1}$$

$$a_6 = 1 - a_5 = \frac{1}{a_1}$$

$$a_7 = \frac{1}{a_6} = a_1$$

$$a_8 = 1 - a_7 = 1 - a_1 = a_2$$

⋮

그러므로 수열 $\{a_n\}$ 은 모든 자연수 n 에 대하여 $a_{n+6} = a_n$ 을 만족시킨다.

$$|a_n| - a_n = \begin{cases} 0 & (a_n \geq 0) \\ -2a_n & (a_n < 0) \end{cases} \text{이므로}$$

$\sum_{n=1}^{14} (|a_n| - a_n) = 10$ 이 되기 위해서는

a_1, a_2, \dots, a_{14} 중에서 음수인 모든 항의 합이 -5 이어야 한다.

(i) $0 < a_1 < 1$ 일 때

$$a_2 > 0, a_3 > 0, a_4 < 0, a_5 < 0, a_6 > 0$$

이므로

$$a_4 + a_5 + a_{10} + a_{11} = -5$$

$a_4 = s$ 라 하면

$$a_4 + a_5 + a_{10} + a_{11} = s + \frac{1}{s} + s + \frac{1}{s}$$

$$= 2s + \frac{2}{s} = -5$$

$$2s^2 + 5s + 2 = 0, (2s+1)(s+2) = 0$$
에서

$$s = -\frac{1}{2} \text{ 또는 } s = -2$$

$$s = -\frac{a_1}{1-a_1} \text{ 이므로 } a_1 = \frac{1}{3} \text{ 또는 } a_1 = \frac{2}{3}$$

(ii) $a_1 > 1$ 일 때

$$a_2 < 0, a_3 < 0, a_4 > 0, a_5 > 0, a_6 > 0$$

이므로

$$a_2 + a_3 + a_8 + a_9 + a_{14} = -5$$

$a_2 = t$ 라 하면

$$a_2 + a_3 + a_8 + a_9 + a_{14} = t + \frac{1}{t} + t + \frac{1}{t} + t$$

$$= 3t + \frac{2}{t} = -5$$

$$3t^2 + 5t + 2 = 0, (3t+2)(t+1) = 0$$
에서

$$t = -\frac{2}{3} \text{ 또는 } t = -1$$

$$t = 1 - a_1 \text{ 이므로 } a_1 = \frac{5}{3} \text{ 또는 } a_1 = 2$$

따라서 모든 a_1 의 값의 합은 $\frac{1}{3} + \frac{2}{3} + \frac{5}{3} + 2 = \frac{14}{3}$

25) [정답] ①

[해설]

먼저 a_5 의 값을 구해보자.

(i) $-1 \leq a_5 < -\frac{1}{2}$ 일 때, $a_6 = -2a_5 - 2$ 이므로

$$a_5 + a_6 = 0 \text{에서 } -a_5 - 2 = 0$$

즉, $a_5 = -2$ 이고 이것은 조건을 만족시키지 않는다.

(ii) $-\frac{1}{2} \leq a_5 \leq \frac{1}{2}$ 일 때, $a_6 = 2a_5$ 이므로 $a_5 + a_6 = 0$ 에서

$$3a_5 = 0 \text{ 즉, } a_5 = 0$$

(iii) $\frac{1}{2} < a_5 \leq 1$ 일 때, $a_6 = -2a_5 + 2$ 이므로 $a_5 + a_6 = 0$ 에서 $-a_5 + 2 = 0$ 즉, $a_5 = 2$ 이고 이것은 조건을 만족시키지 않는다.

(i), (ii), (iii)에서 $a_5 = 0$

이때 $a_4 = -1$ 또는 $a_4 = 0$ 또는 $a_4 = 1$ 이다.

한편 $0 \leq a_{n+1} \leq 1$ 일 때,

$$a_n = \frac{1}{2}a_{n+1} \text{ 또는 } a_n = 1 - \frac{1}{2}a_{n+1}$$

(i) $a_4 = -1$ 인 경우

$a_3 < 0, a_2 < 0, a_1 < 0$ 이므로 조건을 만족시키지 않는다.

(ii) $a_4 = 0$ 인 경우

㉠ $a_3 = -1$ 인 경우

$a_2 < 0, a_1 < 0$ 이므로 조건을 만족시키지 않는다.

㉡ $a_3 = 0$ 인 경우

$a_2 = 0$ 또는 $a_2 = 1$ 이고,

$a_2 = 0$ 일 때 $a_1 = 1$ 이면 조건을 만족시키고,

$a_2 = 1$ 일 때, $a_1 = \frac{1}{2}$ 이고 이 경우도 조건을

만족시킨다.

㉢ $a_3 = 1$ 인 경우

$a_2 = \frac{1}{2}$ 이고 이때 $a_1 = \frac{1}{4}$ 또는 $a_1 = \frac{3}{4}$ 이며,

이것은 조건을 만족시킨다.

(iii) $a_4 = 1$ 인 경우

$a_3 = \frac{1}{2}$ 이고 이때 $a_2 = \frac{1}{4}$ 또는 $a_2 = \frac{3}{4}$

㉠ $a_2 = \frac{1}{4}$ 인 경우

$a_1 = \frac{1}{8}$ 또는 $a_1 = \frac{7}{8}$ 이고 이것은 조건을 만족시킨다.

㉡ $a_2 = \frac{3}{4}$ 인 경우

$a_1 = \frac{3}{8}$ 또는 $a_1 = \frac{5}{8}$ 이고 이것은 조건을 만족시킨다.

따라서 조건을 만족시키는 모든 a_1 의 값의 합은

$$1 + \frac{1}{2} + \frac{1}{4} + \frac{3}{4} + \frac{1}{8} + \frac{7}{8} + \frac{3}{8} + \frac{5}{8} = \frac{9}{2}$$

26) [정답] ⑤

[해설]

(i) $(a-2)(b-2) = 0$ 일 때,

함수 $f(x) = \left| 2a \cos \frac{b}{2}x \right|$ 의 주기는 $\frac{\pi}{b} = \frac{2\pi}{b}$ 이므로

조건 (가)에서

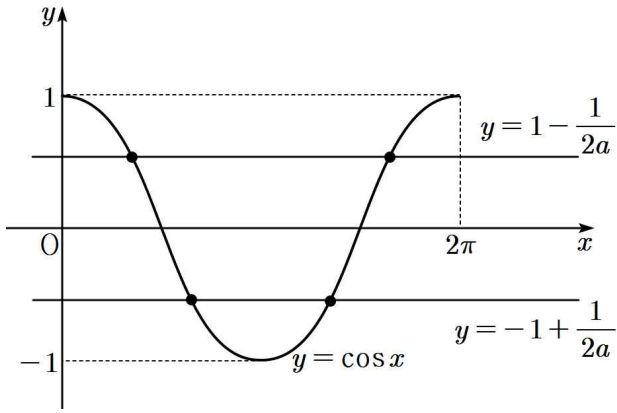
$$\frac{2\pi}{b} = \pi \quad \therefore b = 2$$

$|2a\cos x| = 2a - 1$ 에서

$$2a\cos x = 2a - 1 \quad \text{또는} \quad 2a\cos x = -2a + 1$$

이므로

$$\cos x = 1 - \frac{1}{2a} \quad \text{또는} \quad \cos x = -1 + \frac{1}{2a}$$



자연수 a 에 대하여 $0 < 1 - \frac{1}{2a} < 1$,

$-1 < -1 + \frac{1}{2a} < 0$ 이므로 $0 \leq x \leq 2\pi$ 에서

$\cos x = 1 - \frac{1}{2a}$ 와 $\cos x = -1 + \frac{1}{2a}$ 은 각각 2개의 근을

가지므로 10 이하의 자연수 a 에 대하여 항상 4개의 실근을 갖는다.

따라서 순서쌍 (a, b) 의 개수는 10이다.

(ii) $(a-2)(b-2) \neq 0$ 일 때,

함수 $f(x) = \left| 2a\cos \frac{b}{2}x - 2(a-2) \right|$ 의 주기는

$$\frac{2\pi}{\frac{b}{2}} = \pi \quad \text{에서} \quad b = 4$$

$f(x) = |2a\cos 2x - 2(a-2)|$ 이므로

$|2a\cos 2x - 2(a-2)| = 2a - 1$ 에서

$$2a\cos 2x - 2a + 4 = -2a + 1 \quad \text{또는}$$

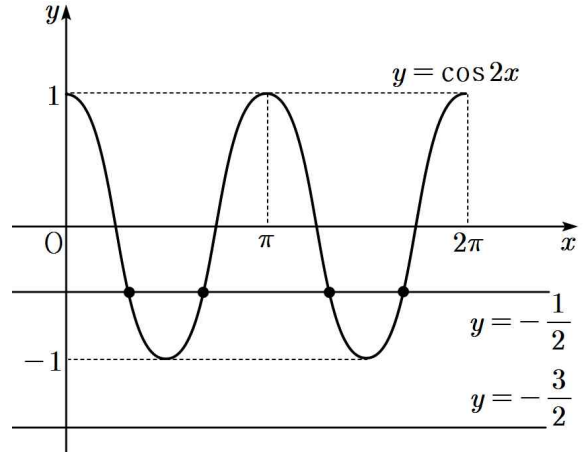
$$2a\cos 2x - 2a + 4 = 2a - 1$$

$$\therefore 2a\cos 2x = -3 \quad \text{또는} \quad 2a\cos 2x = 4a - 5 \quad \dots\dots \textcircled{1}$$

①에서

(1) $a = 1$ 일 때,

$$\cos 2x = -\frac{3}{2} \quad \text{또는} \quad \cos 2x = -\frac{1}{2}$$

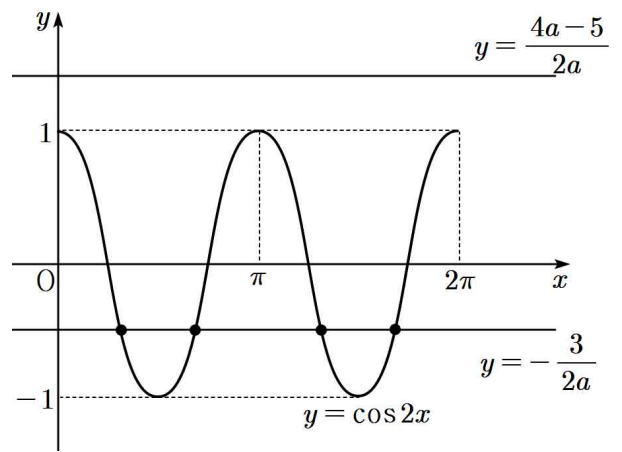


$\cos 2x = -\frac{3}{2}$ 을 만족하는 x 의 값은 존재하지 않고,

$\cos 2x = -\frac{1}{2}$ 을 만족하는 x 의 값은 4개 존재하므로 조건을 만족한다.

(2) $a \geq 3$ 일 때,

$$\cos 2x = -\frac{3}{2a} \quad \text{또는} \quad \cos 2x = \frac{4a-5}{2a}$$



$4a - 5 > 2a$ 에서 $\frac{4a-5}{2a} > 1$ 이므로

$\cos 2x = \frac{4a-5}{2a}$ 를 만족하는 x 의 값은 존재하지 않는다.

$2a > 3$ 에서 $-1 < -\frac{3}{2a} < 0$ 이므로 $\cos 2x = -\frac{3}{2a}$ 를 만족하는 x 의 값은 4개 존재한다.

모두 4개의 실근을 가지므로 조건을 만족한다.

따라서 $b = 4$ 이고 $a = 1, 3, 4, 5, \dots, 10$ 이므로 순서쌍 (a, b) 의 개수는 9개다.

(i), (ii)에서 자연수 a, b 의 모든 순서쌍 (a, b) 의 개수는 $10 + 9 = 19$ 개다.

27) [정답] 59

[해설]

$f(x) = \sin x$ 이고 $g(x) = a\cos x + b$ 이다.

함수 $h(x)$ 는

$$h(x) = \begin{cases} g(x) & (f(x) \leq g(x)) \\ f(x) & (f(x) > g(x)) \end{cases} \text{이다.}$$

조건 (나)에서 $0 < c < \frac{\pi}{2}$ 인 어떤 실수 c 에 대하여

$$h(c) = h(c + \pi) = \frac{1}{2} \text{이므로}$$

$$f(c) = \frac{1}{2} \text{ 또는 } g(c) = \frac{1}{2} \text{이고}$$

$$f(c + \pi) = \frac{1}{2} \text{ 또는 } g(c + \pi) = \frac{1}{2} \text{이다.}$$

한편, $0 < c < \frac{\pi}{2}$ 이면

$$f(c + \pi) = \sin(c + \pi) = -\text{sinc} < 0 \text{이므로}$$

$$f(c + \pi) \neq \frac{1}{2} \text{이다.}$$

따라서 $g(c + \pi) = \frac{1}{2}$ 이다.㉠

함수 $y = g(x)$ 의 그래프는 직선 $x = \pi$ 에 대하여

대칭이므로 $g(\pi - c) = \frac{1}{2}$ 이다.㉡

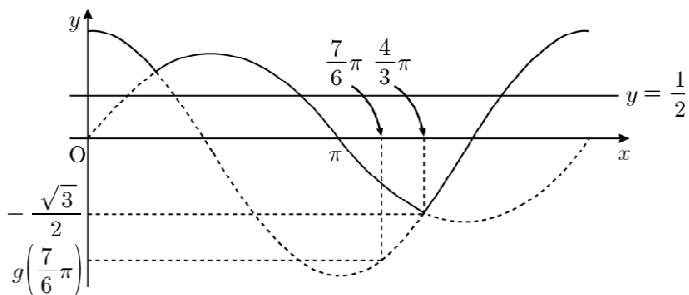
$0 \leq x \leq 2\pi$ 에서 방정식 $g(x) = \frac{1}{2}$ 의 실근의 개수는

최대 2이므로 ㉠, ㉡에 의하여 $g(c) \neq \frac{1}{2}$ 이다.

따라서 $f(c) = \frac{1}{2}$ 이고 $\text{sinc} = \frac{1}{2}$ 에서 $c = \frac{\pi}{6}$ 이다.

㉠에 의하여 $g\left(\frac{7}{6}\pi\right) = \frac{1}{2}$ 이다.㉢

(i) $a > 0$ 인 경우



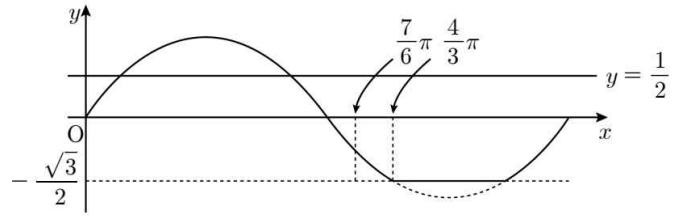
함수 $h(x)$ 의 최솟값이 $-\frac{\sqrt{3}}{2}$ 이 되기 위하여 함수

$y = g(x)$ 의 그래프가 점 $\left(\frac{4}{3}\pi, -\frac{\sqrt{3}}{2}\right)$ 을 지나야 한다.

$g\left(\frac{4}{3}\pi\right) = -\frac{\sqrt{3}}{2}$ 이고 $a > 0$ 일 때 $g\left(\frac{4}{3}\pi\right) > g\left(\frac{7}{6}\pi\right)$ 이므로

$g\left(\frac{7}{6}\pi\right) < -\frac{\sqrt{3}}{2}$ 이다. 이는 ㉢과 모순이다.

(ii) $a = 0$ 인 경우 ($g(x) = b$)



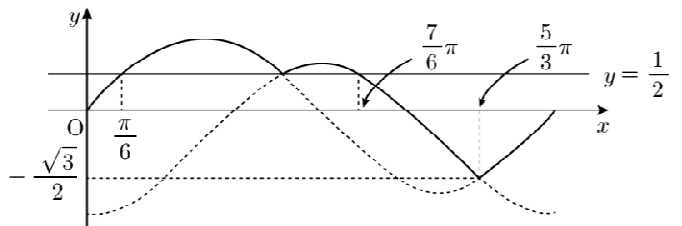
함수 $h(x)$ 의 최솟값이 $-\frac{\sqrt{3}}{2}$ 이 되기 위하여 함수

$y = g(x)$ 의 그래프가 점 $\left(\frac{4}{3}\pi, -\frac{\sqrt{3}}{2}\right)$ 을 지나야 하므로

$g(x) = -\frac{\sqrt{3}}{2}$ 이다. 함수 $g(x)$ 가 상수함수이므로

$g\left(\frac{7}{6}\pi\right) = -\frac{\sqrt{3}}{2}$ 이다. 이는 ㉢과 모순이다.

(iii) $a < 0$ 인 경우



함수 $h(x)$ 의 최솟값이 $-\frac{\sqrt{3}}{2}$ 이 되기 위하여 함수

$y = g(x)$ 의 그래프가 점 $\left(\frac{5}{3}\pi, -\frac{\sqrt{3}}{2}\right)$ 을 지나야 한다. 즉

$g\left(\frac{5}{3}\pi\right) = -\frac{\sqrt{3}}{2}$ 이다.㉣

㉢, ㉣에 의하여 연립방정식

$$\begin{cases} a \cos\left(\frac{7\pi}{6}\right) + b = \frac{1}{2} \\ a \cos\left(\frac{5\pi}{3}\right) + b = -\frac{\sqrt{3}}{2} \end{cases}$$

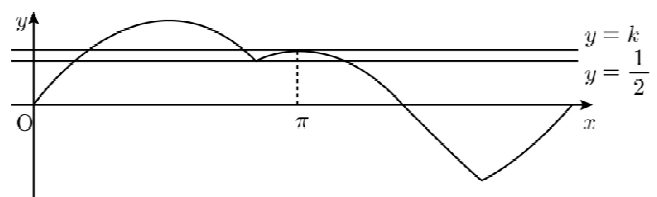
을 풀면 $a = -1, b = \frac{1 - \sqrt{3}}{2}$ 이다.

따라서 $g(x) = -\cos x + \frac{1 - \sqrt{3}}{2}$ 이다.

(i), (ii), (iii)에 의하여

방정식 $h(x) = k \left(k > \frac{1}{2}\right)$ 가 서로 다른 세 실근을 가지는

경우는 그림과 같이 직선 $y = k$ 가 점 $(\pi, g(\pi))$ 를 지날 때이다.



$$g(\pi) = -\cos\pi + \frac{1 - \sqrt{3}}{2} = \frac{3 - \sqrt{3}}{2}$$

즉 $k = \frac{3 - \sqrt{3}}{2}$ 이다. 따라서

$$\frac{k}{b} = \frac{\frac{3-\sqrt{3}}{2}}{\frac{1-\sqrt{3}}{2}} = \frac{2\sqrt{3}}{-2} = -\sqrt{3}$$

이므로 $a + 20\left(\frac{k}{b}\right)^2 = -1 + 20 \times 3 = 59$

28) [정답] 53

[해설]

$$\begin{aligned} y &= 2\sin\left(n\pi x + \frac{\pi}{2}\right) + |k\sin^2(n\pi x) - (k-1)| \\ &= 2\cos(n\pi x) + |k\{1 - \cos^2(n\pi x)\} - (k-1)| \\ &= 2\cos(n\pi x) + |1 - k\cos^2(n\pi x)| \end{aligned}$$

$0 \leq x \leq 2$ 에서 $t = \cos(n\pi x)$ 라 할 때,
함수 $f(t) = 2t + |1 - kt^2|$ ($-1 \leq t \leq 1$)이라 하자.

$$1 - kt^2 = 0, t = -\frac{1}{\sqrt{k}} \text{ 또는 } t = \frac{1}{\sqrt{k}}$$

$$f(t) = \begin{cases} -kt^2 + 2t + 1 & \left(-\frac{1}{\sqrt{k}} \leq t \leq \frac{1}{\sqrt{k}}\right) \\ kt^2 + 2t - 1 & \left(-1 \leq t < -\frac{1}{\sqrt{k}} \text{ 또는 } \frac{1}{\sqrt{k}} < t \leq 1\right) \end{cases}$$

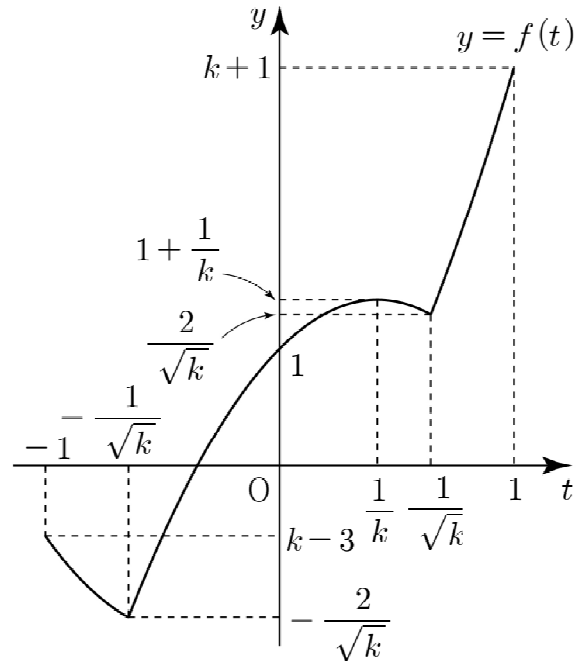
$$= \begin{cases} -k\left(t - \frac{1}{k}\right)^2 + \left(1 + \frac{1}{k}\right) & \left(-\frac{1}{\sqrt{k}} \leq t \leq \frac{1}{\sqrt{k}}\right) \\ k\left(t + \frac{1}{k}\right)^2 - \left(1 + \frac{1}{k}\right) & \left(-1 \leq t < -\frac{1}{\sqrt{k}} \text{ 또는 } \frac{1}{\sqrt{k}} < t \leq 1\right) \end{cases}$$

$$f(-1) = k - 3, f\left(-\frac{1}{\sqrt{k}}\right) = -\frac{2}{\sqrt{k}},$$

$$f\left(\frac{1}{\sqrt{k}}\right) = \frac{2}{\sqrt{k}}, f(1) = k + 1$$

$$k \leq 4 \text{ 이므로 } 1 \leq \frac{2}{\sqrt{k}}$$

함수 $y = f(t)$ 의 그래프의 개형은 다음과 같다.



조건 (가)에 의하여 a_2 는

$f(t) = -\frac{k}{4}$ 인 실수 t_0 ($-1 \leq t_0 \leq 1$)에 대하여

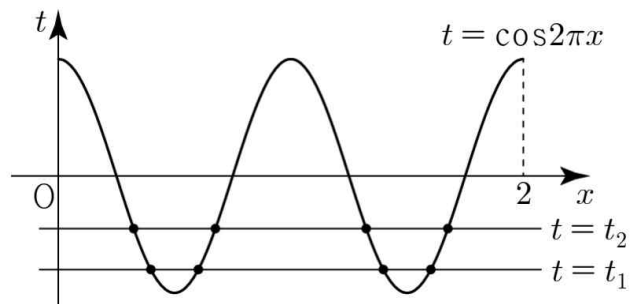
곡선 $t = \cos 2\pi x$ 와 직선 $t = t_0$ 이 만나는 서로 다른 점의 개수와 같다.

$$\frac{12}{5} < k \leq 4 \text{에서 } -\frac{2}{\sqrt{k}} \leq -\frac{k}{4} < k - 3$$

(I) $-\frac{2}{\sqrt{k}} < -\frac{k}{4}$ 인 경우

$f(t) = -\frac{k}{4}$ 인 실수 t 를

t_1, t_2 ($-1 < t_1 < t_2 < 0$)이라 하면



$0 \leq x \leq 2$ 에서

주기가 1인 곡선 $t = \cos 2\pi x$ 와 두 직선 $t = t_1, t = t_2$ 가

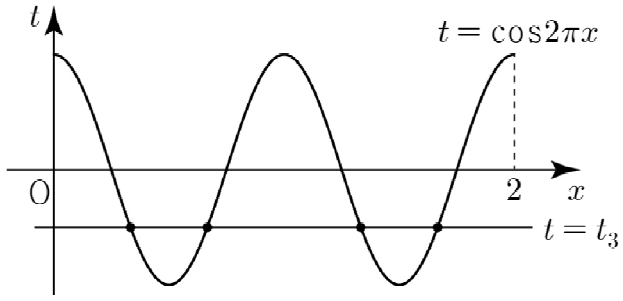
만나는 서로 다른 점의 개수 $a_2 = (2+2) \times 2 = 8$

$0 < a_2 < 6$ 을 만족시키지 않는다.

(II) $-\frac{2}{\sqrt{k}} = -\frac{k}{4}$ 인 경우

$f(t) = -\frac{k}{4}$ 인 실수 t 를

$t_3 = -\frac{1}{\sqrt{k}}$ ($-1 < t_3 < 0$)이라 하면



$0 \leq x \leq 2$ 에서
 주기가 1인 곡선 $t = \cos 2\pi x$ 와 직선 $t = t_3$ 이 만나는 서로 다른 점의 개수 $a_2 = 2 \times 2 = 4 \dots \textcircled{7}$

(I), (II)에 의하여

$0 < a_2 < 6$ 을 만족시키는 k 의 값은

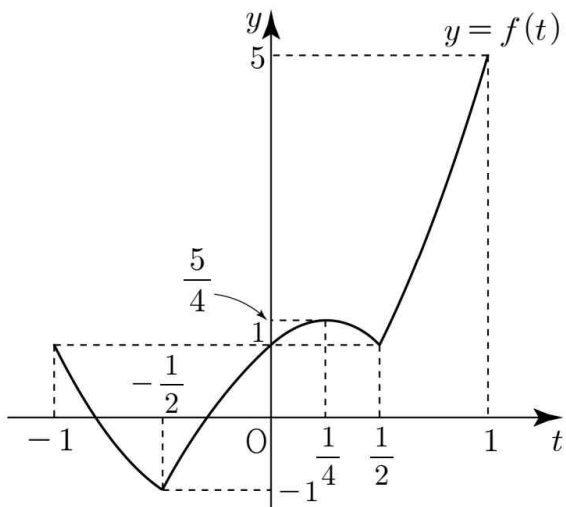
$$-\frac{2}{\sqrt{k}} = -\frac{k}{4}, k=4$$

따라서 모든 자연수 n 에 대하여

$0 \leq x \leq 2$ 에서 $t = \cos(n\pi x) (-1 \leq t \leq 1)$ 일 때,

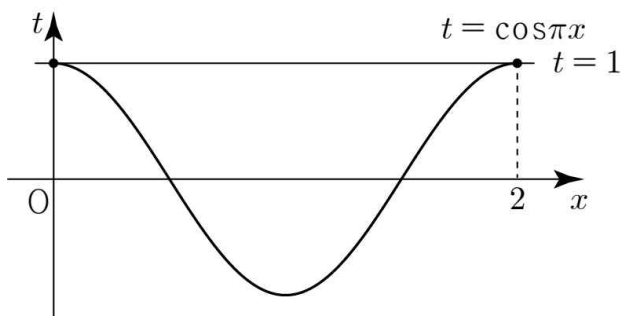
$$f(t) = \begin{cases} -4\left(t - \frac{1}{4}\right)^2 + \frac{5}{4} & \left(-\frac{1}{2} \leq t \leq \frac{1}{2}\right) \\ 4\left(t + \frac{1}{4}\right)^2 - \frac{5}{4} & \left(-1 \leq t < -\frac{1}{2}, \frac{1}{2} < t \leq 1\right) \end{cases}$$

함수 $y = f(t)$ 의 그래프의 개형은 다음과 같다.



(i) $n=1$ 인 경우

조건 (나)에 의하여 $f(t) = 5$ 인 실수 t 는 1



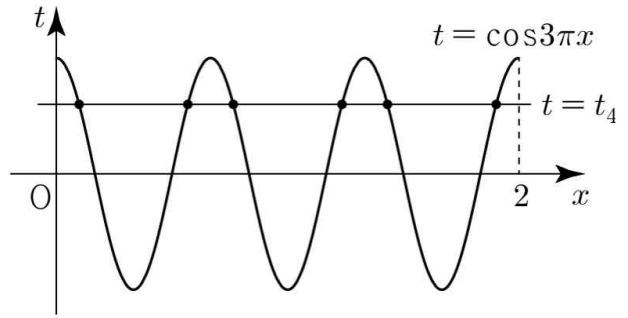
$0 \leq x \leq 2$ 에서
 주기가 2인 곡선 $t = \cos \pi x$ 와
 직선 $t = 1$ 이 만나는 서로 다른 점의 개수 $a_1 = 2$

(ii) $n=2$ 인 경우

$\textcircled{7}$ 에 의하여 $a_2 = 4$

(iii) $n=3$ 인 경우

조건 (나)에 의하여 $f(t) = \frac{5}{3}$ 인 실수 t 를 $t_4 (0 < t_4 < 1)$ 이라 하면



$0 \leq x \leq 2$ 에서

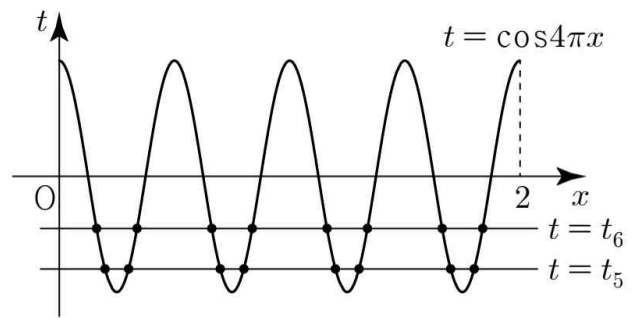
주기가 $\frac{2}{3}$ 인 곡선 $t = \cos 3\pi x$ 와

직선 $t = t_4$ 가 만나는 서로 다른 점의 개수 $a_3 = 2 \times 3 = 6$

(iv) $n=4$ 인 경우

조건 (가)에 의하여 $f(t) = -\frac{1}{2}$ 인 실수 t 를

$t_5, t_6 (-1 < t_5 < t_6 < 0)$ 이라 하면



$0 \leq x \leq 2$ 에서

주기가 $\frac{1}{2}$ 인 곡선 $t = \cos 4\pi x$ 와

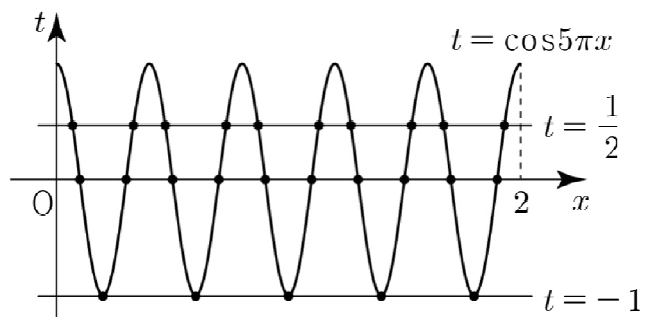
두 직선 $t = t_5, t = t_6$ 이 만나는

서로 다른 점의 개수 $a_4 = (2 \times 4) \times 2 = 16$

(v) $n=5$ 인 경우

조건 (나)에 의하여

$f(t) = 1$ 인 실수 t 는 $-1, 0, \frac{1}{2}$



$0 \leq x \leq 2$ 에서

주기가 $\frac{2}{5}$ 인 곡선 $t = \cos 5\pi x$ 와

세 직선 $t = -1, t = 0, t = \frac{1}{2}$ 이 만나는

서로 다른 점의 개수 $a_5 = 5 + (2 \times 5) \times 2 = 25$

(i)~(v)에 의하여

$$\sum_{n=1}^5 a_n = 2 + 4 + 6 + 16 + 25 = 53$$

29) [정답] ③

[해설]

$$a_n = a + (n-1)d, \quad b_n = a + (n-1)(-2d)$$

조건 (가)에서 $|a| = |a - 12d|$

$$a = a - 12d \quad \text{또는} \quad a = -a + 12d$$

$$d \neq 0 \text{이므로 } a = -a + 12d, \quad a = 6d$$

$$a_n = 6d + (n-1)d = (n+5)d$$

$$b_n = 6d - 2(n-1)d = (-2n+8)d$$

a 는 양수이므로 $d > 0$

모든 자연수 n 에 대하여 $a_n > 0$

$1 \leq n \leq 3$ 일 때, $b_n > 0$

$n \geq 4$ 일 때, $b_n \leq 0$ 이므로

수열 $\{c_n\}$ 을 $c_n = |a_n| - |b_n|$ 이라 하면

$$c_n = \begin{cases} (n+5)d - (-2n+8)d & (1 \leq n \leq 3) \\ (n+5)d - (2n-8)d & (n \geq 4) \end{cases}$$

$$c_n = \begin{cases} 3(n-1)d & (1 \leq n \leq 3) \\ (13-n)d & (n \geq 4) \end{cases}$$

$1 \leq n \leq 13$ 일 때 $c_n \geq 0$ 이고 $c_{13} = 0$

$n \geq 14$ 일 때 $c_n < 0$ 이므로

$$S_n = \sum_{k=1}^n (|a_k| - |b_k|) = \sum_{k=1}^n c_k \text{의 값이 최대가 되는}$$

$n = 12$ 또는 $n = 13$

$$\begin{aligned} S_{12} = S_{13} &= \sum_{n=1}^{13} c_n \\ &= \sum_{n=1}^3 3(n-1)d + \sum_{n=4}^{13} (13-n)d \end{aligned}$$

수열 $\{c_n\}$ 은

$$c_n = \begin{cases} 6(n-1) & (1 \leq n \leq 3) \\ 2(13-n) & (n \geq 4) \end{cases}$$

$$c_1 = 0, \quad c_2 = 6, \quad c_3 = 12$$

$$c_4 = -c_{22}, \quad c_5 = -c_{21}, \quad c_6 = -c_{20}, \quad \dots,$$

$$c_{12} = -c_{14}, \quad c_{13} = 0,$$

$$c_{23} = -20,$$

$n \geq 24$ 에서 $c_n < 0$ 이므로

$$\begin{aligned} S_{22} &= (c_1 + c_2 + c_3) + (c_4 + c_5 + c_6 + \dots + c_{22}) \\ &= (0 + 6 + 12) + 0 = 18 \end{aligned}$$

$$S_{23} = S_{22} + c_{23} = 18 + (-20) = -2$$

$n \geq 23$ 일 때 $S_n < 0$

따라서 $S_n \geq 0$ 을 만족시키는 자연수 n 의

최댓값 $m = 22$ 이고 $a_{22} = (22+5) \times 2 = 54$