

「수학Ⅱ」 Ⅱ.미분법

연구01 함수 $y = f(x)$ 에서 x 의 값이 a 에서 b 까지 변할 때 평균변화율을 구하시오.


미리 알아야 할 단원
수학2 - 1.함수의 극한

1 평균변화율

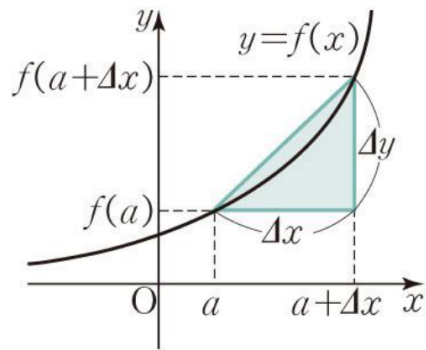
연구
01

함수 $y = f(x)$ 에서 x 의 값이 a 에서 b 까지 변할 때의 평균변화율은

$$\frac{\Delta y}{\Delta x} = \frac{f(b) - f(a)}{b - a} = \frac{f(a + \Delta x) - f(a)}{a + \Delta x - a}$$

 x 의 증분 Δx 에 대한 y 의 증분 Δy 의 비율
($\Delta x = b - a$, $\Delta y = f(b) - f(a)$)

 평균변화율



연구02 함수 $f(x)$ 의 $x = a$ 에서의

①미분계수 ②좌미분계수 ③우미분계수

를 쓰시오.

2 미분계수

함수 $f(x)$ 의 $x = a$ 에서의

연구
02

①미분계수 (순간변화율)

$$\begin{aligned} f'(a) &= \lim_{\Delta x \rightarrow 0} \frac{\Delta y}{\Delta x} \\ &= \lim_{\Delta x \rightarrow 0} \frac{f(a+\Delta x) - f(a)}{a+\Delta x - a} \\ &= \lim_{x \rightarrow a} \frac{f(x) - f(a)}{x - a} \end{aligned}$$

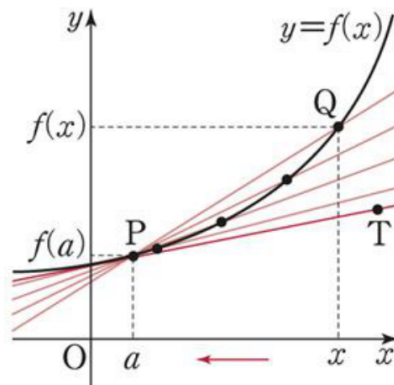
②좌미분계수: $\lim_{x \rightarrow a^-} \frac{f(x) - f(a)}{x - a}$ (왼쪽접선)

③우미분계수: $\lim_{x \rightarrow a^+} \frac{f(x) - f(a)}{x - a}$ (오른쪽접선)

기하학적인 의미:

곡선 $y = f(x)$ 위의 점 $(a, f(a))$ 에서의 접선의 기울기

미분계수



함수 $f(x)$ 의 $x = a$ 에서의 좌극한

= 함수값의 좌극한 = $\lim_{x \rightarrow a^-} f(x)$

다르다!

함수 $f(x)$ 의 $x = a$ 에서의 좌미분계수

= 함수의 변화율의 좌극한 = $\lim_{x \rightarrow a^-} \frac{f(x) - f(a)}{x - a}$

같다!

함수 $g(x) = \frac{f(x) - f(a)}{x - a}$ 의 $x = a$ 에서의 좌극한

= $\lim_{x \rightarrow a^-} g(x) = \lim_{x \rightarrow a^-} \frac{f(x) - f(a)}{x - a}$

연구03 함수 $f(x)$ 의 $x=a$ 에서의 미분가능하다는 것의

- ①정의를 쓰고
- ②조건을 쓰고
- ③조건을 유도하시오.

연구04 함수 $y=f(x)$ 가 $x=a$ 에서

- ①미분가능하면 연속인가?
아니라면 예를 드시오.
- ②연속이면 미분가능한가?
아니라면 예를 드시오.

3 미분 가능성

연구 03 ①정의: 극한값 $f'(a)$ 가 존재

②조건:

- (1) 함수 $f(x)$ 가 $x=a$ 에서 연속이다
- (2) 좌미분계수와 우미분계수가 같다

☞ 함수 $f(x)$ 가 $x=a$ 에서의 미분계수 $f'(a)$ 가 존재할 때, 함수 $f(x)$ 는 $x=a$ 에서 미분가능하다고 말한다.

☞ 함수 $f(x)$ 가 어떤 구간에 속하는 모든 x 값에서 미분가능할 때, 함수 $f(x)$ 는 그 구간에서 미분가능하다고 한다.

☞ 함수 $f(x)$ 가 정의역에 속하는 모든 x 값에서 미분가능할 때, 함수 $f(x)$ 는 미분가능한 함수라고 한다.

연구 04 ☞ $y=f(x)$ 가 $x=a$ 에서

미분가능 \Leftrightarrow 연속

반례) $f(x) = |x-a|$ (연속함수)

$f'(a) = \lim_{x \rightarrow a} \frac{f(x)-f(a)}{x-a}$ 존재 \times (미분불가)
 ↪ 좌극한, 우극한 값이 다르기 때문에 극한값이 존재하지 않는다.

미분 가능성

③조건 유도하기

극한값 $f'(a) = \lim_{x \rightarrow a} \frac{f(x)-f(a)}{x-a}$ 가 존재하면

조건 (1)

(방법 1)

$\{분모\} = \{x-a\} \rightarrow 0$ 이므로

$\{분자\} = \{f(x)-f(a)\} \rightarrow 0$ 이다. ∞ 방지!

따라서 $\lim_{x \rightarrow a} \{f(x)-f(a)\} = 0$

결국 $\lim_{x \rightarrow a} f(x) = f(a)$ 이므로

함수 $f(x)$ 는 $x=a$ 에서 연속이다.

조건 (1)

(방법 2)

$\lim_{x \rightarrow a} \frac{f(x)-f(a)}{x-a} \times \lim_{x \rightarrow a} (x-a) = f'(a) \times 0$

$= \lim_{x \rightarrow a} \left\{ \frac{f(x)-f(a)}{x-a} \times (x-a) \right\} = 0$

$= \lim_{x \rightarrow a} \{f(x)-f(a)\} = 0$

결국 $\lim_{x \rightarrow a} f(x) = f(a)$ 이므로

함수 $f(x)$ 가 $x=a$ 에서 연속이다

연구05 미분가능한 함수 $g(x)$ 와 $h(x)$ 에 대하여, 함수

$$f(x) = \begin{cases} g(x) & (x \leq a) \\ h(x) & (x > a) \end{cases}$$

가 실수 전체에서 미분가능할 조건을 쓰고 이를 유도하시오.

연구06 함수 $y = f(x)$ 의 도함수의 기호와 정의를 쓰시오.

연구 05

조건 ① $g(a) = h(a)$ ($\because f(x)$ 가 연속)

조건 ② $g'(a) = h'(a)$

$$\lim_{x \rightarrow a^-} \frac{f(x) - f(a)}{x - a} = \lim_{x \rightarrow a^-} \frac{g(x) - g(a)}{x - a} = g'(a)$$

($\because g(x)$ 가 미분가능)

$$\lim_{x \rightarrow a^+} \frac{f(x) - f(a)}{x - a} = \lim_{x \rightarrow a^+} \frac{h(x) - h(a)}{x - a} = h'(a)$$

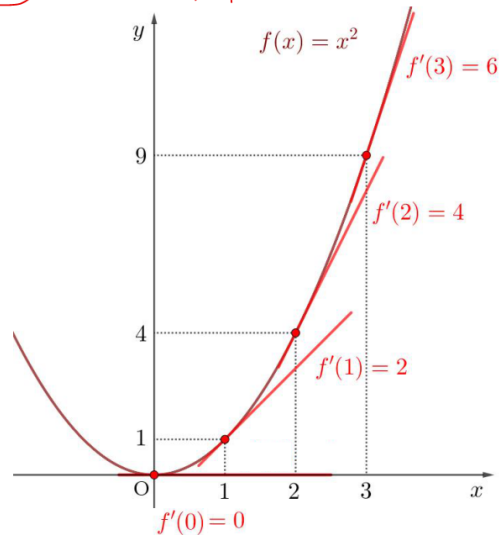
($\because h(x)$ 가 미분가능)

연구 06

$y = f(x)$ 가 미분가능한 함수일 때

$$\begin{aligned} \lim_{\Delta x \rightarrow 0} \frac{f(x + \Delta x) - f(x)}{x + \Delta x - x} &= \lim_{\Delta x \rightarrow 0} \frac{\Delta y}{\Delta x} \\ &= \frac{d}{dx} f(x) = \frac{df(x)}{dx} = \frac{dy}{dx} \\ &= f'(x) = y' \end{aligned}$$

idea 기울기의 함수



(2) $\frac{f(x) - f(a)}{x - a}$ 의 $x = a$ 에서의

좌극한과 우극한이 같다.

$$\lim_{x \rightarrow a^-} \frac{f(x) - f(a)}{x - a} = \lim_{x \rightarrow a^+} \frac{f(x) - f(a)}{x - a}$$

|| ||

$x = a$ 에서 $\left(\frac{f(x) - f(a)}{x - a} \right)$ 의 좌극한 || $\left(\frac{f(x) - f(a)}{x - a} \right)$ 의 우극한

|| ||

$\left(f(x) \right)$ 의 좌미분계수 || $\left(f(x) \right)$ 의 우미분계수

x	\xrightarrow{f}	y	x	$\xrightarrow{f'}$	y
0	\rightarrow	0	0	\rightarrow	$0 = f'(0)$
1	\rightarrow	1	1	\rightarrow	$2 = f'(1)$
2	\rightarrow	4	2	\rightarrow	$4 = f'(2)$
3	\rightarrow	9	3	\rightarrow	$6 = f'(3)$
x	\rightarrow	$x^2 = f(x)$	x	\rightarrow	$2x = f'(x)$

연구07 미분가능한 두 함수 $f(x), g(x)$ 에 대하여

아래 식이 성립함을 유도하시오.

① $\{c\}' = 0$

② $\{x^n\}' = nx^{n-1}$

③ $\{cf(x)\}' = cf'(x)$

5 미분법의 공식

연구 07 미분가능한 두 함수 $f(x), g(x)$ 에 대하여

① $\{c\}' = 0$

② $\{x^n\}' = nx^{n-1}$

③ $\{cf(x)\}' = cf'(x)$

④ $\{f(x) + g(x)\}' = f'(x) + g'(x)$

⑤ $\{f(x) - g(x)\}' = f'(x) - g'(x)$

⑥ $\{f(x)g(x)\}' = f'(x)g(x) + f(x)g'(x)$

⑦ $\{f(x)g(x)h(x)\}' = f'(x)g(x)h(x) + f(x)g'(x)h(x) + f(x)g(x)h'(x)$

⑧ $\{f(x)^n\}' = n\{f(x)\}^{n-1}f'(x)$

미분법의 공식

① $y = f(x) = c$

$$f'(x) = \lim_{\Delta x \rightarrow 0} \frac{\Delta y}{\Delta x} = \lim_{\Delta x \rightarrow 0} \frac{f(x+\Delta x) - f(x)}{x+\Delta x - x}$$

$$= \lim_{\Delta x \rightarrow 0} \frac{c - c}{\Delta x} = 0$$

② $y = f(x) = x^n$

$$f'(x) = \lim_{\Delta x \rightarrow 0} \frac{\Delta y}{\Delta x} = \lim_{\Delta x \rightarrow 0} \frac{f(x+\Delta x) - f(x)}{x+\Delta x - x}$$

$$= \lim_{\Delta x \rightarrow 0} \frac{(x+\Delta x)^n - x^n}{x+\Delta x - x}$$

$$= \lim_{\Delta x \rightarrow 0} \frac{\{(x+\Delta x) - x\} \{(x+\Delta x)^{n-1} + (x+\Delta x)^{n-2}x + \dots + x^{n-1}\}}{\Delta x}$$

$$= \lim_{\Delta x \rightarrow 0} \{(x+\Delta x)^{n-1} + (x+\Delta x)^{n-2}x + \dots + x^{n-1}\}$$

$$= \underbrace{x^{n-1} + x^{n-1} + x^{n-1} + \dots + x^{n-1}}_{n\text{회}} = n \cdot x^{n-1}$$

③ $y = cf(x)$

$$\{cf(x)\}' = \lim_{\Delta x \rightarrow 0} \frac{\Delta y}{\Delta x}$$

$$= \lim_{\Delta x \rightarrow 0} \frac{cf(x+\Delta x) - cf(x)}{x+\Delta x - x}$$

$$= c \lim_{\Delta x \rightarrow 0} \frac{f(x+\Delta x) - f(x)}{x+\Delta x - x} = cf'(x)$$

④ $\{f(x) + g(x)\}' = f'(x) + g'(x)$

⑤ $\{f(x) - g(x)\}' = f'(x) - g'(x)$

⑥ $\{f(x)g(x)\}' = f'(x)g(x) + f(x)g'(x)$

④ $y = f(x) + g(x)$

$$\begin{aligned} \{f(x) + g(x)\}' &= \lim_{\Delta x \rightarrow 0} \frac{\Delta y}{\Delta x} \\ &= \lim_{\Delta x \rightarrow 0} \frac{\{f(x+\Delta x) + g(x+\Delta x)\} - \{f(x) + g(x)\}}{x+\Delta x - x} \\ &= \lim_{\Delta x \rightarrow 0} \frac{\{f(x+\Delta x) - f(x)\} + \{g(x+\Delta x) - g(x)\}}{x+\Delta x - x} \\ &= \lim_{\Delta x \rightarrow 0} \frac{f(x+\Delta x) - f(x)}{x+\Delta x - x} + \lim_{\Delta x \rightarrow 0} \frac{g(x+\Delta x) - g(x)}{x+\Delta x - x} \\ &= f'(x) + g'(x) \end{aligned}$$

⑤ $y = f(x) - g(x)$

$$\begin{aligned} \{f(x) - g(x)\}' &= \lim_{\Delta x \rightarrow 0} \frac{\Delta y}{\Delta x} \\ &= \lim_{\Delta x \rightarrow 0} \frac{\{f(x+\Delta x) - g(x+\Delta x)\} - \{f(x) - g(x)\}}{x+\Delta x - x} \\ &= \lim_{\Delta x \rightarrow 0} \frac{\{f(x+\Delta x) - f(x)\} - \{g(x+\Delta x) - g(x)\}}{x+\Delta x - x} \\ &= \lim_{\Delta x \rightarrow 0} \frac{f(x+\Delta x) - f(x)}{x+\Delta x - x} - \lim_{\Delta x \rightarrow 0} \frac{g(x+\Delta x) - g(x)}{x+\Delta x - x} \\ &= f'(x) - g'(x) \end{aligned}$$

⑥ $y = f(x)g(x)$

$$\begin{aligned} \{f(x)g(x)\}' &= \lim_{\Delta x \rightarrow 0} \frac{\Delta y}{\Delta x} \quad \begin{array}{l} -f(x)g(x+\Delta x) \\ +f(x)g(x+\Delta x) \end{array} \\ &= \lim_{\Delta x \rightarrow 0} \frac{f(x+\Delta x)g(x+\Delta x) - f(x)g(x)}{x+\Delta x - x} \\ &= \lim_{\Delta x \rightarrow 0} \frac{f(x+\Delta x)g(x+\Delta x) - f(x)g(x+\Delta x)}{x+\Delta x - x} \\ &\quad + \lim_{\Delta x \rightarrow 0} \frac{f(x)g(x+\Delta x) - f(x)g(x)}{x+\Delta x - x} \\ &= \lim_{\Delta x \rightarrow 0} \frac{f(x+\Delta x) - f(x)}{x+\Delta x - x} \times g(x+\Delta x) \\ &\quad + \lim_{\Delta x \rightarrow 0} f(x) \times \frac{g(x+\Delta x) - g(x)}{x+\Delta x - x} \\ &= \lim_{\Delta x \rightarrow 0} \frac{f(x+\Delta x) - f(x)}{x+\Delta x - x} \times \lim_{\Delta x \rightarrow 0} g(x+\Delta x) \\ &\quad + \lim_{\Delta x \rightarrow 0} f(x) \times \lim_{\Delta x \rightarrow 0} \frac{g(x+\Delta x) - g(x)}{x+\Delta x - x} \\ &= f'(x)g(x) + f(x)g'(x) \end{aligned}$$

연구08 곡선 $y = f(x)$ 위의 점 $(a, f(a))$ 에서의 접선의 방정식을 쓰시오.

연구09 최대·최소의 정리를 쓰시오.

연구10 사이값 정리를 쓰시오.

6 접선의 방정식

연구 08 곡선 $y = f(x)$ 위의 점 $P(a, f(a))$ 에서의 접선의 방정식은

$$y - f(a) = f'(a)(x - a)$$

! '사이값의 정리'가

'롤의 정리'와 '평균값의 정리'와는 관계가 없지만, 'c가 열린구간 (a, b) 에 적어도 하나 존재한다'는 결론이 비슷하니 잘 비교해서 보자. 그래야 실전에서 잘 쓸 수 있다!

연구 09 **최대·최소의 정리** → 롤의 정리 조건 ① 관련

함수 $f(x)$ 가 폐구간 $[a, b]$ 에서 연속이면 $f(x)$ 는 이 구간에서 반드시 최대값과 최솟값을 가진다

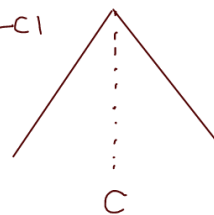
연구 10 **사이값 정리**

함수 $f(x)$ 가 폐구간 $[a, b]$ 에서 연속이고 $f(a) \neq f(b)$ 이면, $f(a)$ 와 $f(b)$ 사이의 임의의 값 K 에 대하여 다음을 만족하는 c 가 열린구간 (a, b) 에 적어도 하나 존재한다.

$$f(c) = K$$

* 미분 불가능하면 → 롤의 정리 조건 ② 관련

$$f(x) = -|x - c|$$



$$0 \leq \lim_{x \rightarrow c^-} \frac{f(x) - f(c)}{x - c} \neq \lim_{x \rightarrow c^+} \frac{f(x) - f(c)}{x - c} \leq 0$$

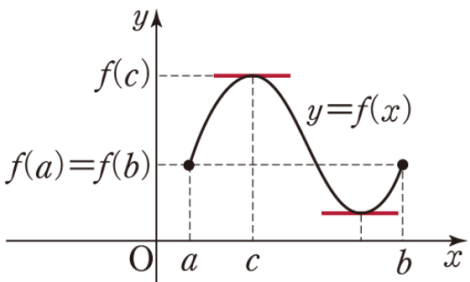
||
↑
||
+1
다를 수 있다!
-1

연구11 롤의 정리를 쓰시오

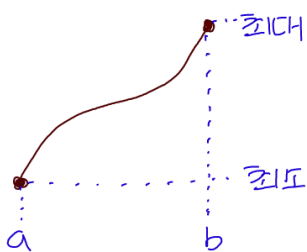
연구12 롤의 정리를 유도하시오.

7 롤의 정리

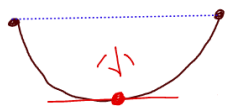
연구 11 조건① 함수 $f(x)$ 가 폐구간 $[a, b]$ 에서 연속이고
 조건② 개구간 (a, b) 에서 미분가능할 때, **최대최소 정리**
 조건③ $f(a) = f(b)$ 이면
 $\lim_{\Delta x \rightarrow 0} \frac{\Delta y}{\Delta x} = f'(c) = 0$ ($a < c < b$)인 c 가 개구간 (a, b) 에 적어도 하나 존재한다. **최대 or 최소**



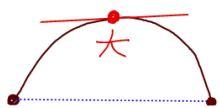
롤의 정리 조건③관련
 $\times f(a) \neq f(b)$ VS $f(a) = f(b)$



최대가 양끝점이면
 최소는 중간에



최소가 양끝점이면
 최대는 중간에



↓ VS ↓
 최대 최소가 양끝점에서 양끝점을 제외한 구간에서
 중간에 최대와 최소가 반드시 최대나 최소를
 없을 수 있다 갖는다

롤의 정리

연구 12 (i) 함수 $f(x)$ 가 상수함수
 개구간 (a, b) 의 모든 점에서 $f(x) = C$ 이므로
 개구간 (a, b) 에 속하는 모든 x 에 대하여
 $f'(x) = 0$
 (ii) 함수 $f(x)$ 가 상수함수가 아닌 경우
 $f(a) = f(b)$ 이므로 양끝점 제외함 (\because 조건②)
 $x = c$ ($a < c < b$)에서 최대값 또는 최솟값을
 갖는다 (\because 조건①)
 (7) $x = c$ 에서 최댓값일때
 $f(x) \leq f(c)$ ($a < x < b$)
 $\Delta y = f(x) - f(c) \leq 0$
 \downarrow i) $x < c$ ($x - c < 0$) ii) $x > c$ ($x - c > 0$)
 $0 \leq \lim_{x \rightarrow c^-} \frac{f(x) - f(c)}{x - c} = \lim_{x \rightarrow c^+} \frac{f(x) - f(c)}{x - c} \leq 0$
 ↑ 미분가능 하므로 (\because 조건②)
 $0 \leq \lim_{x \rightarrow c} \frac{f(x) - f(c)}{x - c} \leq 0$
 $\therefore f'(c) = 0$
 (4) $x = c$ 에서 최솟값일때:
 (7)과 같은 방법으로 한다

연구13 평균값의 정리를 쓰시오.

연구14 평균값의 정리를 유도하시오.

연구15 함수 $f(x)$ 가 어떤 구간에서

①증가한다는 것의 정의를 쓰시오.

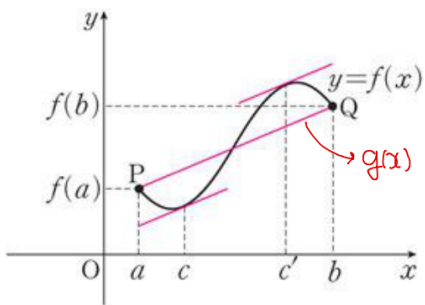
②감소한다는 것의 정의를 쓰시오.

8 평균값의 정리

연구 13 함수 $f(x)$ 가 폐구간 $[a, b]$ 에서 연속이고
개구간 (a, b) 에서 미분가능하면

$$\frac{f(b) - f(a)}{b - a} = f'(c) \quad (\text{단, } a < c < b)$$

인 c 가 개구간 (a, b) 안에 적어도 하나
존재한다.



연구 14 평균값의 정리

연구 14 (단계1) $(a, f(a)), (b, f(b))$ 를 지나는
직선의 방정식을 $y=g(x)$ 라고 하자

$$\frac{f(b) - f(a)}{b - a} = k \quad \text{일때}$$

$$g(x) = k(x - a) + f(a)$$

$$(g(a) = f(a), g(b) = f(b), g'(x) = k)$$

$$\text{(단계 2)} \quad F(x) = f(x) - g(x)$$

$F(x)$ 는 폐구간 $[a, b]$ 에서 연속이다.

($\because f(x)$ 는 폐구간 $[a, b]$ 에서 연속
 $g(x)$ 는 폐구간 $[a, b]$ 에서 연속)

$F(x)$ 는 개구간 (a, b) 에서 미분가능이다.

($\because f(x)$ 는 개구간 (a, b) 에서 미분가능
 $g(x)$ 는 개구간 (a, b) 에서 미분가능)

$$F(a) = F(b)$$

$$(\because F(a) = f(a) - g(a) = 0$$

$$F(b) = f(b) - g(b) = 0)$$

(결론) $F'(c) = 0$ 인 c 가 개구간 (a, b) 에
적어도 하나 존재 (롤의 정리)

$$F(x) = f(x) - g(x) \text{ 이므로}$$

$$F'(x) = f'(x) - g'(x) \rightarrow F'(c) = f'(c) - g'(c) = 0$$

$$f'(c) = g'(c) = k = \frac{f(b) - f(a)}{b - a}$$

연구16 함수 $f(x)$ 가 어떤 구간에서 미분가능하고, 그 구간의 모든 x 에 대하여 $f'(x) > 0$ 이면 $f(x)$ 는 이 구간에서 증가함을 유도하시오.

연구17 다음 명제의 참 거짓을 판별하시오.

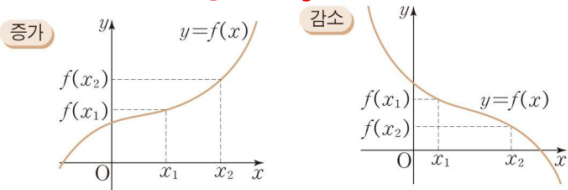
- ① $y=f(x)$ 가 증가함수이면 $f'(x) > 0$ 이다.
- ② $f'(x) > 0$ 이면 $y=f(x)$ 가 증가함수이다.
- ③ $y=f(x)$ 가 증가함수이면 $f'(x) \geq 0$ 이다.
- ④ $f'(x) \geq 0$ 이면 $y=f(x)$ 가 증가함수이다.

9 함수의 증가와 감소

함수 $f(x)$ 가 어떤 구간의 임의의 두 수 x_1, x_2 에 대하여

연구 15 함수의 증가: $x_1 < x_2$ 이면 $f(x_1) < f(x_2)$
 왼 오른 아래 위

함수의 감소: $x_1 < x_2$ 이면 $f(x_1) > f(x_2)$
 왼 오른 위 아래



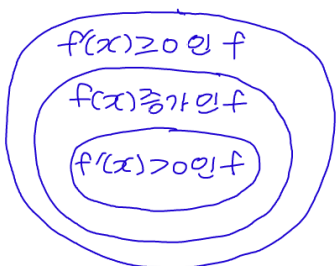
함수 $f(x)$ 가 어떤 구간에서 미분가능하고, 그 구간에서

연구 16 ① $f'(x) > 0$ 이면 $f(x)$ 는 그 구간에서 증가

② $f'(x) < 0$ 이면 $f(x)$ 는 그 구간에서 감소

연구 17 $f(x)$ 증가 $\Leftrightarrow f'(x) > 0$

$f(x)$ 증가 $\Leftrightarrow f'(x) \geq 0$



함수의 증가와 감소

유도

① 구간의 임의의 두 수

x_1, x_2 에 대하여 $x_1 < x_2$ 라고 하자
 평균값의 정리에 의하여

$$\frac{f(x_2) - f(x_1)}{x_2 - x_1} = f'(c) \text{ 인 } c \text{ 가}$$

구간에 적어도 하나 존재한다.

$f'(x) > 0$ 이므로 $f'(c) > 0$ 이고

$x_2 - x_1 > 0$ 이므로

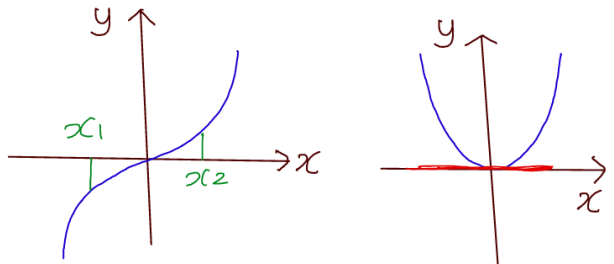
$f(x_2) - f(x_1) > 0$ 이다.

결국 $x_1 < x_2$ 일때, $f(x_1) < f(x_2)$ 정의

반례

* $f(x) = x^3$ 증가함수 $\rightarrow f'(x) = 3x^2 > 0$

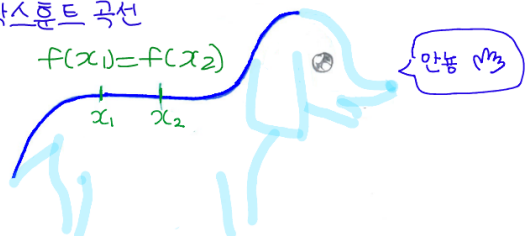
$x_1 < x_2 \Rightarrow f(x_1) < f(x_2)$ $f'(0) = 0$ 모순
 $x_1^3 < x_2^3$



* $f'(x) \geq 0 \rightarrow f(x)$ 증가함수 모순!

ex) 닥스톤트 곡선

$$f(x_1) = f(x_2)$$



연구18 삼차함수 $y = f(x)$ 에 대하여 도함수 $y = f'(x)$ 의 그래프가 다음과 같을 때 알맞은 그래프 개형을 그리시오.

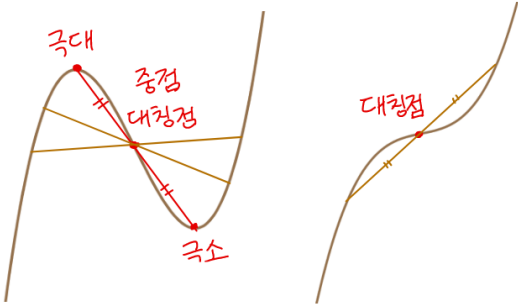
연구 18 3차함수의 그래프 개형

$f(x) = ax^3 + bx^2 + cx + d$ 일 때, $f'(x) = 3ax^2 + 2bx + c$ 이므로

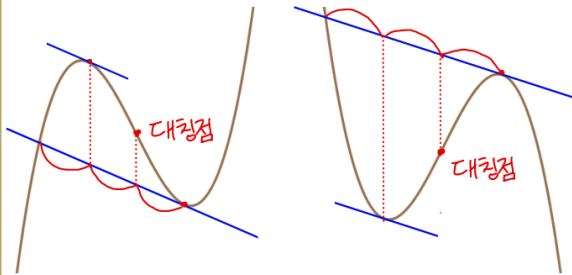
$(a > 0)$	$D > 0$	$D = 0$	$D < 0$
$y = f'(x)$ 그래프 도함수를 보고 원래 함수를 그릴 수 있어야 해			
$y = f(x)$ 그래프			

$(a < 0)$	$D > 0$	$D = 0$	$D < 0$
$y = f'(x)$ 그래프			
$y = f(x)$ 그래프			

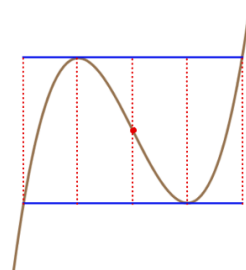
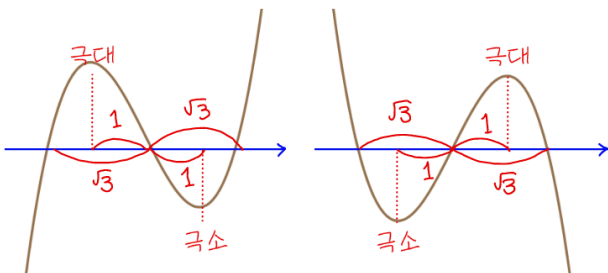
① 대칭성



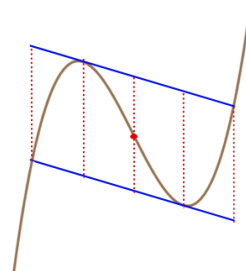
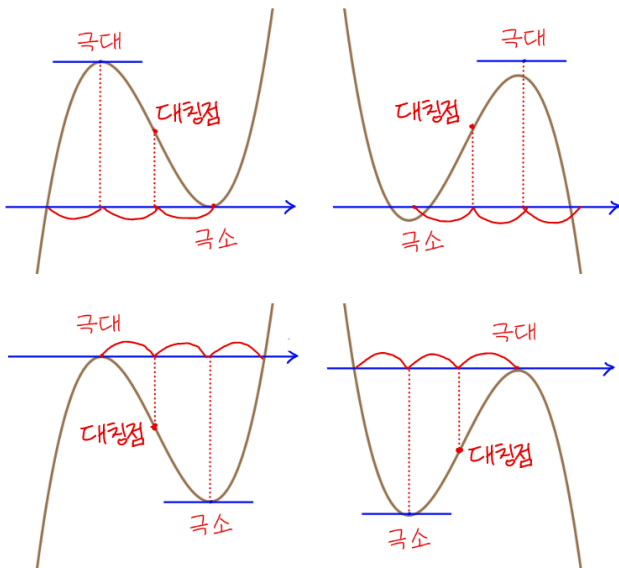
④ 확장



② $\sqrt{3}:1$

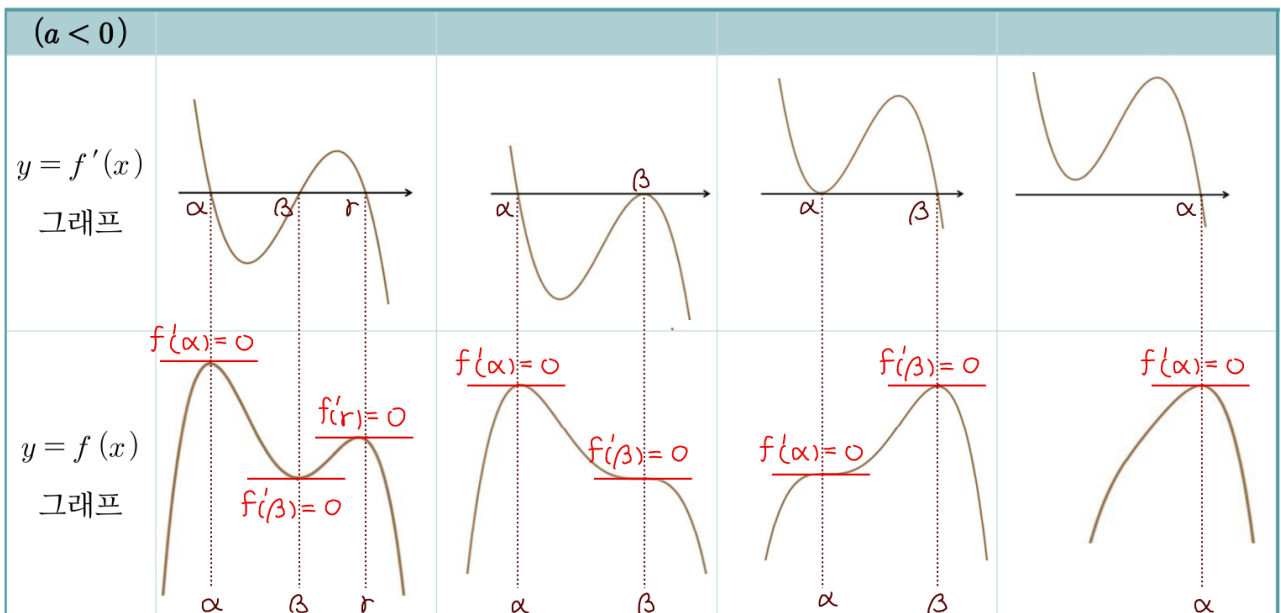
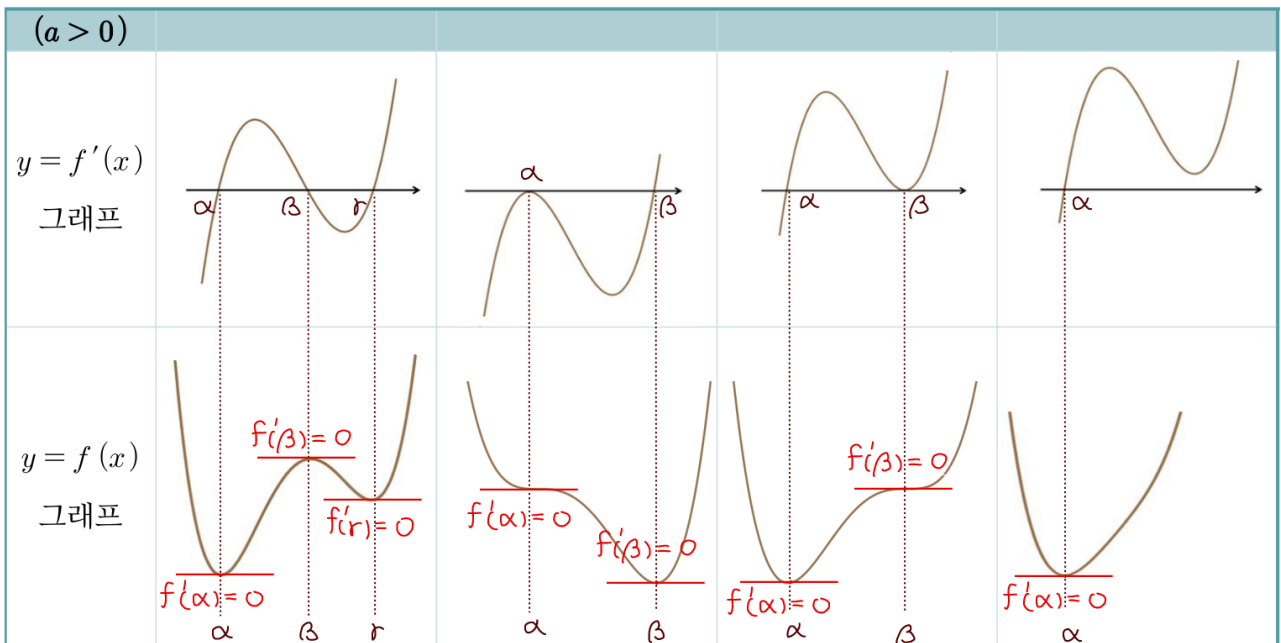


③ 2:1



4차함수의 그래프 개형

$f(x) = ax^4 + bx^3 + cx^2 + dx + e$ 일 때, $f'(x) = 4ax^3 + 3bx^2 + 2cx + d$ 이므로

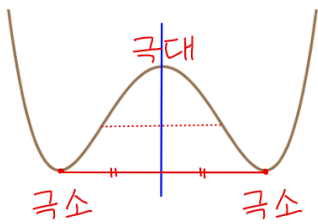


연구19 다항함수 $f(x)$ 가 아래와 같이 표현될 때, $x = \alpha$ 좌우에서 $f(x)$ 그래프의 부호변화 여부를 쓰시오. (단, $g(\alpha) \neq 0$)

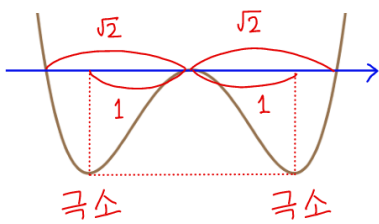
- ① $f(x) = (x - \alpha)^{\text{짝}} g(x)$
- ② $f(x) = (x - \alpha)^{\text{홀}} g(x)$

연구20 다항함수 $f(x)$ 의 그래프가 $x = a$ 에서 x 축에 접할 때, $f(x) = (x - a)^2 g(x)$ 이 성립함을 유도하시오.

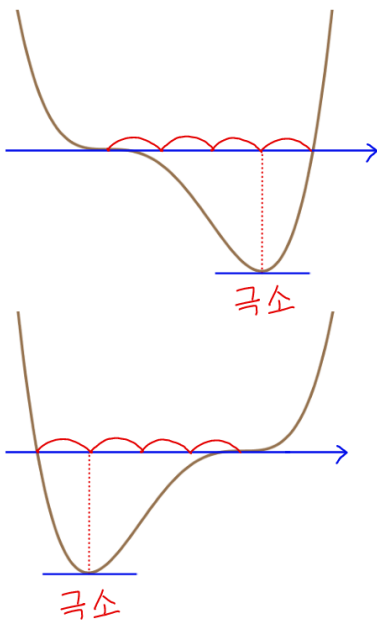
① 대칭성



② $\sqrt{2}:1$

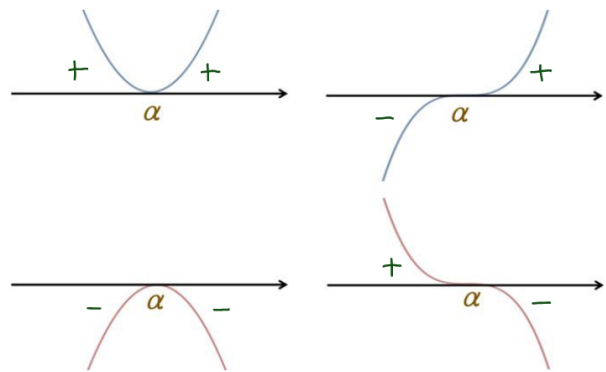


③ 3:1



연구 19 인수의 차수와 그래프 부호 변화

$f(x) = (x - \alpha)^{\text{짝}} g(x)$ vs $f(x) = (x - \alpha)^{\text{홀}} g(x)$
 ↙ $x = \alpha$ 좌우에서 부호변화 \times ↘ $x = \alpha$ 좌우에서 부호변화 0



연구 20 $f(x)$ 의 그래프가 $x = a$ 에서 x 축에 접한다.

$\Leftrightarrow f(a) = 0, f'(a) = 0$

$\Leftrightarrow f(x) = (x - a)^2 g(x)$ (단, $f(x)$ 는 다항함수)

$f(a) = 0$ 이므로

$f(x) = (x - a) h(x)$

$f'(x) = 1 \cdot h(x) + (x - a) h'(x)$

$f'(a) = 0$ 이므로

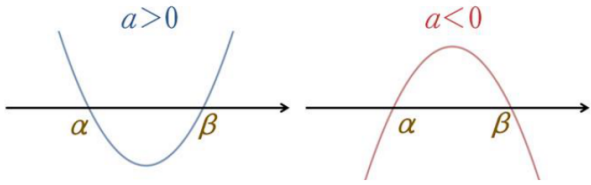
$f'(a) = h(a) + 0 \cdot h'(a) = h(a) = 0$

$\therefore h(x) = (x - a) g(x)$

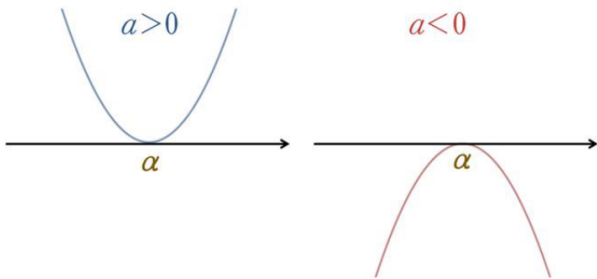
$\therefore f(x) = (x - a)^2 g(x)$

부호를 활용한 그래프 개형

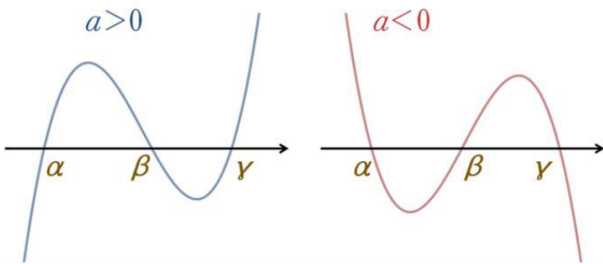
(1) $y = a(x - \alpha)(x - \beta)$



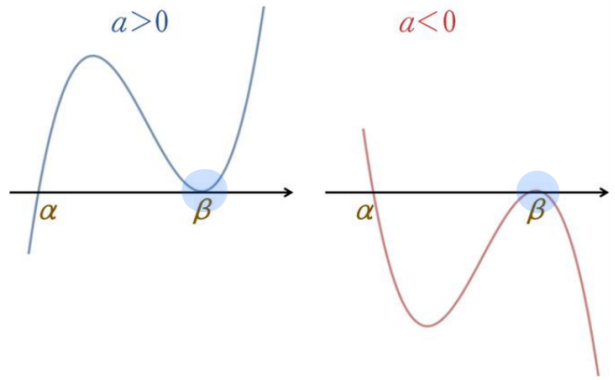
(2) $y = a(x - \alpha)^2$



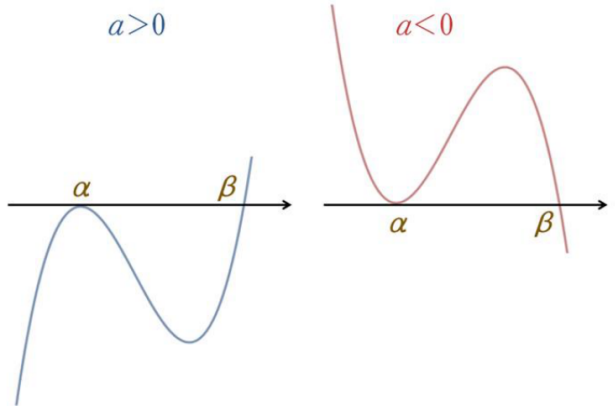
(3) $y = a(x - \alpha)(x - \beta)(x - \gamma)$



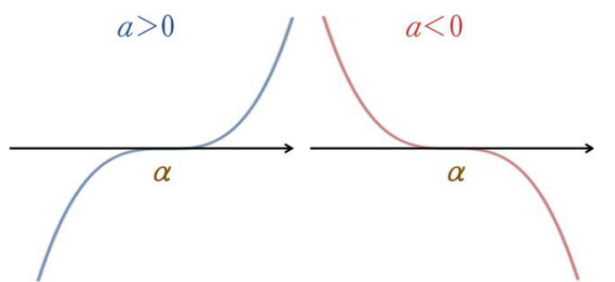
(4) $y = a(x - \alpha)(x - \beta)^2$ ↙ 2차 이상이면
x축에 접해야 해!



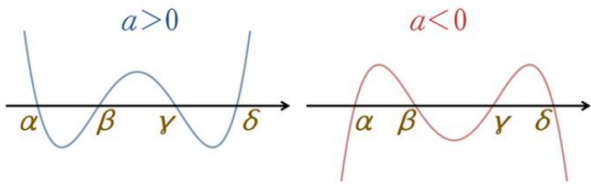
(5) $y = a(x - \alpha)^2(x - \beta)$



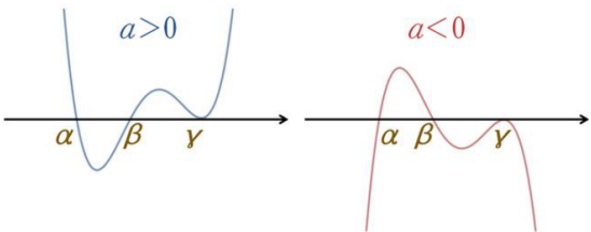
(6) $y = a(x - \alpha)^3$



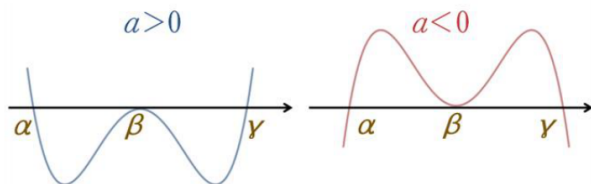
(7) $y = a(x - \alpha)(x - \beta)(x - \gamma)(x - \delta)$



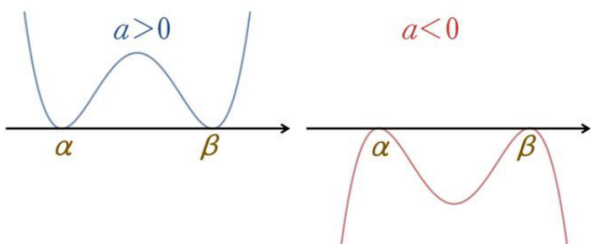
(8) $y = a(x - \alpha)(x - \beta)(x - \gamma)^2$



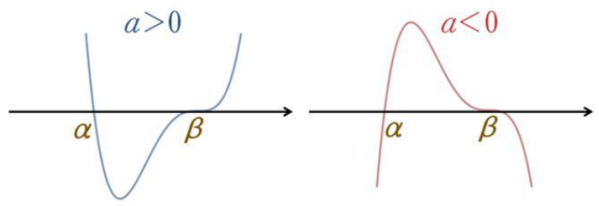
(9) $y = a(x - \alpha)(x - \beta)^2(x - \gamma)$



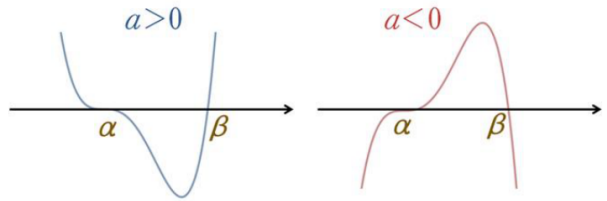
(10) $y = a(x - \alpha)^2(x - \beta)^2$



(11) $y = a(x - \alpha)(x - \beta)^3$

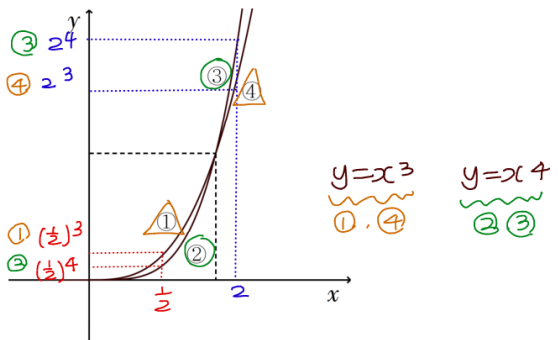


(12) $y = a(x - \alpha)^3(x - \beta)$



(13) 다음은 $y = x^3$ 과 $y = x^4$ 의 그래프의 일부이다.

$y = x^3$ 에 해당되는 부분과 $y = x^4$ 에 해당되는 부분으로 알맞은 것을 짝지으시오.



연구21 함수의 극대와 극소의 정의를 쓰시오.

연구22 함수 $f(x)$ 가 $x=a$ 에서 미분가능하고, $x=a$ 에서 극값을 가지면 $f'(a)=0$ 임을 유도하시오.

10 함수의 극대와 극소

함수 $f(x)$ 가 $x=a$ 를 포함하는 어떤 열린구간에 속하는 모든 x 에 대하여

연구 21 극대 : $f(a) \geq f(x)$ 일 때,

$f(x)$ 는 $x=a$ 에서 극대라고 한다.

극댓값 : 극대일 때의 함수값. $f(a)$

극소 : $f(a) \leq f(x)$ 일 때,

$f(x)$ 는 $x=a$ 에서 극소라고 한다.

극솟값 : 극소일 때의 함수값. $f(a)$

극값 : 극댓값과 극솟값을 통틀어

극값이라 한다.

(함수의 증감이 바뀌는 점에서의 값)

연구 22 ① 함수 $y=f(x)$ 가 $x=a$ 에서 미분가능하고, $x=a$ 에서 극값을 가지면 $f'(a)=0$

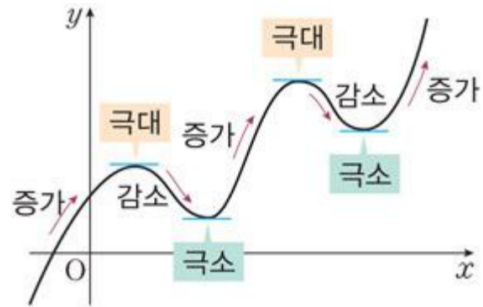
② $f'(a)=0$ 이고,

$x=a$ 의 좌우에서 $f'(x)$ 의 부호가

(1) \oplus 에서 \ominus 변하면 $f(a)$ 는 극댓값

(2) \ominus 에서 \oplus 변하면 $f(a)$ 는 극솟값

함수의 극대와 극소



① $f(a)$ 가 극댓값이라 가정

$f(x)$ 는 $x=a$ 포함하는 충분히 작은 개구간에서 최댓값

$$f(x) \leq f(a)$$

$$f(x) - f(a) \leq 0$$

i) $x < a$ ($x-a < 0$) ii) $x > a$ ($x-a > 0$)

$$0 \leq \lim_{x \rightarrow a^-} \frac{f(x) - f(a)}{x-a} \stackrel{\text{미분가능하므로}}{=} \lim_{x \rightarrow a^+} \frac{f(x) - f(a)}{x-a} \leq 0$$

$$0 \leq f'(a) \leq 0$$

$$\therefore f'(a) = 0$$

연구23 다음 명제의 참 거짓을 판별하시오.

- ① $x = a$ 에서 $f(x)$ 가 극값을 가지면 $f'(a) = 0$ 이다.
- ② $f'(a) = 0$ 이면 $x = a$ 에서 $f(x)$ 가 극값을 가진다.

연구 20

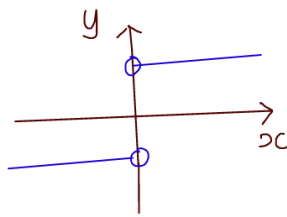
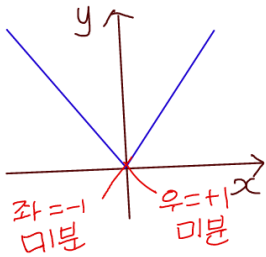
$x = a$ 에서 $f(x)$ 가 극값 \nrightarrow $f'(a) = 0$

\nrightarrow 반례

$$f(x) = |x| = \begin{cases} -x & (x \leq 0) \\ x & (x > 0) \end{cases} \quad f'(x) = \begin{cases} -1 & (x < 0) \\ 1 & (x > 0) \end{cases}$$

$x = 0$ 에서 극값

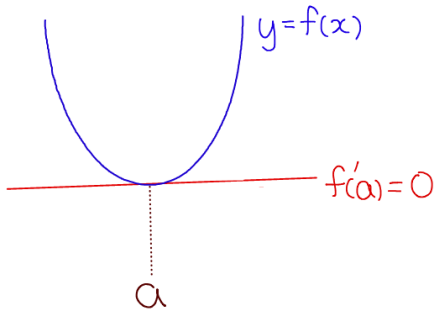
$f'(0)$ 없다



<추가조건>

$y = f(x)$ 미분가능하면

$x = a$ 에서 $f(x)$ 가 극값 $\rightarrow f'(a) = 0$

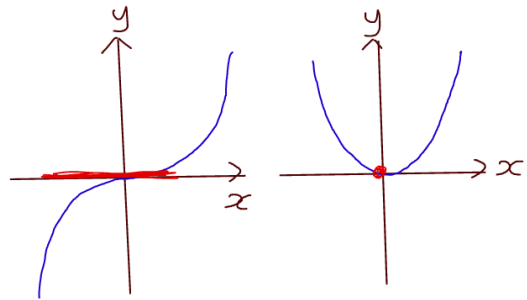


$x = a$ 에서 $f(x)$ 가 극값 \nleftarrow $f'(a) = 0$

\nleftarrow 반례

$$f(x) = x^3 \rightarrow f'(x) = 3x^2$$

$x = 0$ 에서 극값 $\nleftarrow f'(0) = 0$



$x = a$ 에서 $f(x)$ 가 극값 $\overset{0}{\rightleftharpoons}$ $f'(x)$ 부호변화

대체로 ($f'(x)$ 영등)
 $f'(a) = 0$

연구24 삼차함수 $f(x)$ 가 극값을 가질 때,
아래 경우마다 $f(x)=0$ 의 근의 종류를 쓰시오.

- ① (극댓값)×(극솟값) < 0
- ② (극댓값)×(극솟값) = 0
- ③ (극댓값)×(극솟값) > 0

11 방정식에의 활용

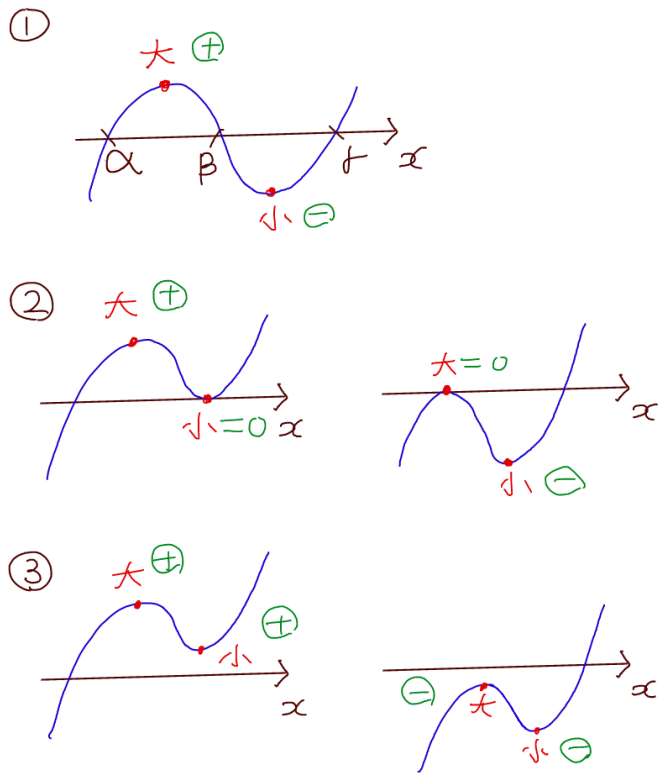
방정식 $f(x)=0$ 의 실근은
함수 $y=f(x)$ 의 그래프와
 x 축($y=0$)과의 교점의 x 좌표이다.
방정식 $f(x)=g(x)$ 의 실근은 두 함수
 $y=f(x)$, $y=g(x)$ 의 그래프의 교점의
 x 좌표이다.

- 연구 21** 삼차함수 $f(x)$ 가 극값을 가질 때,
- ① (극댓값)×(극솟값) < 0 서로 다른 세 실근
 - ② (극댓값)×(극솟값) = 0 한 실근과 중근
 - ③ (극댓값)×(극솟값) > 0 한 실근과 두 허근

12 부등식에의 활용

- ① 어떤 구간에서 부등식 $f(x) > 0$ 이
성립함을 보이려면
주어진 구간에서 $y=f(x)$ 의
최솟값 > 0임을 보이면 된다.
- ② 어떤 구간에서 부등식 $f(x) > g(x)$ 이
성립함을 보이려면
 $h(x) = f(x) - g(x)$ 로 놓고,
주어진 구간에서 $y=h(x)$ 의
최솟값 > 0임을 보이면 된다.

방정식에의 활용



! 교과서 미분 단원 후반부에 있는 <속도와 가속도> 내용은 학습의 효율성을 위해 적분 단원의 <속도와 거리>내용과 통합하여 적분단원 마지막에 배치하였다.