

문항에 따라 배점이 다르니, 각 물음의 끝에 표시된 배점을 참고하십시오. 3점 문항에만 점수가 표시되어 있습니다. 점수 표시가 없는 문항은 모두 2점입니다.

▶22063-0157

▶22063-0159

## 1 정치를 바라보는 관점 A, B에 대한 설명으로 옳은 것은?

정치를 바라보는 관점에는 A, B가 있다. A는 정치권력을 획득하고 유지하고 행사하는 것과 관련된 활동으로 국가만의 고유한 현상을 정치로 본다. B는 개인이나 집단 간 이해관계의 대립과 갈등을 합리적으로 조정하고 해결하는 활동으로 국가를 포함한 모든 사회 집단에서 나타나는 현상을 정치로 본다.

- ① A는 국회에서 의원의 입법 활동 과정을 정치로 본다.
- ② B는 국가 형성 이전의 정치 현상을 설명할 수 없다.
- ③ A와 달리 B는 소수 통치 엘리트의 활동을 정치로 본다.
- ④ B와 달리 A는 개인, 정당, 이익 집단을 정치의 주체로 본다.
- ⑤ A, B 모두 학생회에서 학생들 간의 축제 논의 과정을 정치로 본다.

## 3 우리나라 지방 자치 단체의 기관 A, B에 대한 옳은 설명만을 <보기>에서 고른 것은?

**학습 주제: 우리나라 지방 자치 단체의 기관**

- A의 권한: 조례의 제·개정 및 폐지권, 주민 청원에 대한 수리 및 처리권 등
- B의 권한: 규칙 제·개정 및 폐지권, 소속 직원에 대한 임면권 및 지휘·감독·징계권 등

【보기】

- ㄱ. A는 지역구 의원과 비례 대표 의원으로 구성된다.
- ㄴ. B는 주민 소환의 대상이 될 수 있다.
- ㄷ. A와 달리 B는 지방 자치 단체 예산 심의 및 확정권을 갖는다.
- ㄹ. A는 집행 기관, B는 의결 기관이다.

- ① ㄱ, ㄴ                      ② ㄱ, ㄷ                      ③ ㄴ, ㄷ
- ④ ㄴ, ㄹ                      ⑤ ㄷ, ㄹ

▶22063-0158

▶22063-0160

## 2 법치주의의 유형 (가), (나)에 대한 설명으로 옳은 것은? [3점]

법치주의의 유형에 대하여 설명해 볼까요?



〔가〕에 따르면 의회가 법을 제정하면서 합법적인 절차를 거친다면 법의 목적, 내용과는 관계없이 제정된 법의 효력이 인정됩니다.

〔나〕에 따르면 의회가 법을 제정하면서 합법적인 절차를 거치고 법의 목적과 내용이 정의에 합치되어야 법의 효력이 인정됩니다.

- ① (가)와 달리 (나)는 국가 권력의 자의적 통치를 가져올 수 있다는 비판을 받는다.
- ② (가)와 달리 (나)는 독재자의 합법적인 통치를 강화하는 수단으로 이용될 수 있다.
- ③ (나)와 달리 (가)는 위헌 법률 심사제 도입을 옹호할 것이다.
- ④ (나)와 달리 (가)는 형식적 합법성 이외에도 실질적인 정당성을 중시한다.
- ⑤ 현대 사회로 오면서 법치주의는 (가)에서 (나)로 의미가 확장되고 있다.

## 4 다음 자료에 대한 옳은 분석 및 추론만을 <보기>에서 있는 대로 고른 것은? [3점]

갑국은 전형적인 대통령제, 을국은 전형적인 의원 내각제인 정부 형태를 취하고 있다. 단, T 시기와 T+1 시기에 갑국과 을국의 정부 형태는 변화가 없고, 갑국과 을국의 무소속 의원은 없다.

구분		갑국		을국	
		T 시기	T+1 시기	T 시기	T+1 시기
의회	정당	A당	B당	C당	D당
제1당	의석률(%)	40	60	40	60

【보기】

- ㄱ. 갑국은 T 시기에 행정부 수반이 A당일 경우, 여소야대 현상이 나타난다.
- ㄴ. 갑국은 T+1 시기에 의회에서 B당 대표를 행정부 수반으로 선출할 수 있다.
- ㄷ. 을국은 T 시기에 비해 T+1 시기에 의회가 내각을 불신임할 가능성이 높다.
- ㄹ. 을국은 T+1 시기에 비해 T 시기에 연립 내각이 구성될 가능성이 높다.

- ① ㄱ, ㄷ                      ② ㄱ, ㄹ                      ③ ㄴ, ㄷ
- ④ ㄱ, ㄴ, ㄹ                  ⑤ ㄴ, ㄷ, ㄹ

▶ 22063-0161

5 정치 참여 집단 A~C에 대한 설명으로 옳은 것은? (단, A~C는 각각 정당, 이익 집단, 시민 단체 중 하나에 해당하는 집단이다.) [3점]

○○ 도로 개발 정책 토론

정부의 ○○ 도로 개발에 대한 의견을 말씀해 주시기 바랍니다.

○○ 도로 개발이 완료되면 수산 식품을 빠르게 운송할 수 있어서 저희 C에 속해 있는 회원들에게 이익이 되므로 개발을 찬성합니다.



○○ 도로 개발에 대해서 저희 A는 내부에서 의견이 엇갈려 여론을 수렴한 후에 이번 선거 공약으로 결정할 것인지 판단하려고 합니다.

○○ 도로 개발 과정에서 생태 환경 파괴로 다양한 생물의 종이 감소될 것으로 우려되어 저희 B는 '생태계 보호'라는 공약을 이유로 개발을 반대합니다.

- ① A는 공익보다 특수한 이익을 추구한다.
- ② B는 행정부와 의회를 매개하는 역할을 한다.
- ③ C는 정권 획득을 목적으로 한다.
- ④ B와 달리 A는 정치적 책임을 진다.
- ⑤ C와 달리 A는 대의 민주주의의 한계를 보완하는 역할을 한다.

▶ 22063-0162

6 기본권 유형 A, B에 대한 설명으로 옳은 것은?

- A는 국가 기관의 형성적 기능을 갖는다. 국민은 정당 설립 및 참여 등 여러 가지 방법을 통해 국가 권력의 형성에 적극적으로 참여함으로써 국가 권력이 국민적 정당성을 인정받을 수 있는 기초를 마련한다.
- B는 기본권 보장의 실효성을 높이는 기능을 갖는다. 우리나라 헌법은 공권력의 작위 또는 부작위에 의해서 국민의 자유와 권리가 침해된 경우에 권리 구제를 받을 수 있도록 구체적인 제도를 마련한다.

- ① A는 정치적 기본권으로 능동적인 성격의 권리이다.
- ② B는 바이마르 헌법에서 처음으로 규정된 권리이다.
- ③ A와 달리 B는 인간다운 생활의 보장을 국가에 요구할 수 있는 권리이다.
- ④ B와 달리 A는 다른 기본권을 보장하기 위한 수단적 권리이다.
- ⑤ A, B 모두 헌법에 열거되지 않아도 보장받을 수 있는 포괄적 성격을 가지는 권리이다.

▶ 22063-0163

7 다음 사례에 대한 법적 판단으로 옳지 않은 것은?

○○ 회사는 “○○ 회사 노동조합의 ㉠단체 교섭 요구를 거부한 것은 부당 노동 행위에 해당한다.”라는 A의 재심 판정에 불복해 법원에 소송을 제기했다. ○○ 회사 노동조합은 ○○ 회사 측이 단체 교섭을 거부하자 B에 부당 노동 행위 구제를 신청했었다.

- ① ○○ 회사가 제기한 소송은 행정 소송이다.
- ② ○○ 회사 사용자가 ㉠을 거부하는 상태가 방치된다면 근로 3권 보장의 실효성은 떨어지게 된다.
- ③ ○○ 회사 근로자는 노동조합을 통해 근로 조건의 유지 및 개선과 관련하여 사용자 측과 ㉠을 할 수 있는 권리가 있다.
- ④ A와 달리 B는 ‘○○ 회사가 ○○ 회사 노동조합의 단체 교섭 요구를 거부한 것’을 부당 노동 행위로 보았다.
- ⑤ A는 ‘중앙 노동 위원회’, B는 ‘지방 노동 위원회’이다.

▶ 22063-0164

8 우리나라 국가 기관 A~D에 대한 설명으로 옳은 것은? [3점]

뉴스 한눈에 보기

- A는 내년도 국가 예산안을 심의·확정
- B는 지난해 국가의 세입·세출의 결산 검사를 실시
- C는 D의 장(長)을 임명
- D는 ○○ 사건 관련 상고심을 열어 원심 내용 확정

- ① B는 행정부 최고 심의 기관에서 부의장이다.
- ② C는 국정 감사 및 조사권을 갖는다.
- ③ D는 법관 자격을 가진 9인의 재판관으로 구성된다.
- ④ A는 조약 체결 및 비준권, C는 조약 체결 및 비준에 대한 동의권을 갖는다.
- ⑤ B의 장(長)이 임명되기 위해서는 반드시 A의 동의가 필요하다.

▶ 22063-0165

9 다음에서 설명하는 우리나라 헌법의 기본 원리를 실현하는 방안으로 가장 적절한 것은?

우리나라 헌법 제1조 제2항에는 “대한민국의 주권은 국민에게 있고, 모든 권력은 국민으로부터 나온다.”라고 명시되어 있다. 이는 국가의 최고 의사 결정권은 국민에게 있으며, 모든 국가 권력은 국민으로부터 나온다는 우리나라 헌법의 기본 원리가 구현된 것이다.

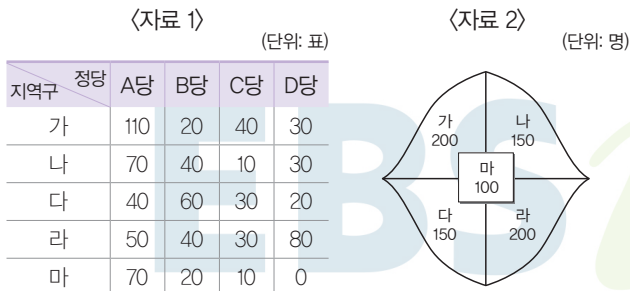
- ① 남북 교류 협력 추진 정책을 수립하고 실천한다.
- ② 국제법과 조약에 따라 외국인의 지위를 보장한다.
- ③ 대표자를 선출하기 위한 민주적 선거 제도를 운영한다.
- ④ 근로자에 대한 적정 임금의 보장과 최저 임금제를 실시한다.
- ⑤ 전통문화 발전을 위해 무형 문화재를 지원하는 제도를 시행한다.

**10** 다음 자료에 대한 분석 및 추론으로 옳은 것은? [3점]

갑국의 현재 의회 의원 정수는 총 10명이며, 5개의 지역구(가, 나, 다, 라, 마)에서 단순 다수 대표제로 각각 2명을 의원으로 선출하고 있다. 갑국은 다음과 같은 개편안을 논의하고 있다.

- 유권자 1인은 1표를 행사하며, 지역구 의원 4명, 비례 대표 의원 8명을 선출한다.
- 5개의 지역구를 지역구 간 통합하여 4개의 지역구로 축소하며, 각 지역구의 유권자 수는 2배 이상 차이가 나지 않도록 한다. 지역구에서는 다른 후보자에 비해 1표라도 더 많은 표를 얻은 후보자 1명을 지역구 의원으로 선출한다.
- 비례 대표 의원을 선출하기 위해 각 지역구의 정당 득표를 합하여 계산한 정당 총 득표율에 비례 대표 의원 정수를 곱하여 산출된 수의 정수(整數)만큼 정당의 의석으로 배분한다. 이후 잔여 의석은 소수점 이하의 수가 큰 순서대로 각 정당에 1석씩 배분한다.

〈자료 1〉은 갑국의 최근 의회 의원 선거에서 각 정당 후보자의 득표 결과이며, 〈자료 2〉는 갑국의 지역구 및 지역별 유권자 수이다.



\* 투표율은 100%이며, 무효표는 없음.  
 \*\* 현행 제도와 개편안 모두 각 정당은 지역구별로 1인의 후보자를 공천함.  
 \*\*\* 개편안에 따른 선거 결과는 〈자료 1〉을 근거로 판단하며, 각 정당 후보자에 대한 지지는 해당 정당에 대한 지지로 간주함.

- ① 현행 선거에서 D당이 C당보다 의석수를 더 많이 확보하였다.
- ② 개편안의 지역구 선거는 절대다수 대표제를 채택하고 있다.
- ③ 개편안의 경우 B당이 C당보다 비례 대표 의원 의석수를 더 많이 확보할 수 있다.
- ④ A당은 지역구 '다'와 '마'를 통합할 경우 과반 의석을 얻는다.
- ⑤ B당은 지역구 '나'와 '마'를 통합할 경우보다 지역구 '다'와 '마'를 통합할 경우 의석수를 확보하는 데 더 유리하다.

**11** 다음은 대법원 판결 중 일부이다. ㉠에 들어갈 민법의 기본 원칙에 대한 진술로 가장 적절한 것은?

**【판결 요지】**

[다수 의견] 변호사의 소송 위임 사무 처리 보수에 관하여 변호사와 의뢰인 사이에 약정이 있는 경우 위임 사무를 완료한 변호사는 원칙적으로 약정 보수액 전부를 청구할 수 있다. 다만 의뢰인과의 평소 관계, 사건 수입 경위, 사건 처리 경과와 난이도, 노력의 정도, 소송물 가액, 의뢰인이 승소로 인하여 얻게 된 구체적 이익, 그 밖에 변론에 나타난 여러 사정을 고려하여, 약정 보수액이 부당하게 과다하여 신의 성실의 원칙이나 형평의 관념에 반한다고 볼 만한 특별한 사정이 있는 경우에는 예외적으로 적당하다고 인정되는 범위 내의 보수액만을 청구할 수 있다. 그런데 이러한 보수 청구의 제한은 어디까지나 ㉠에 대한 예외를 인정하는 것이므로, 법원은 그에 관한 합리적인 근거를 명확히 밝혀야 한다.

- ① 소유권은 공공복리를 위하여 제한될 수 있다.
- ② 고의나 과실이 없을 때에도 일정한 경우 손해 배상 책임을 질 수 있다.
- ③ 자신이 소유하는 재산을 배타적으로 사용·수익 또는 처분할 수 있다.
- ④ 법률관계의 형성은 개인의 자유로운 의사에 맡겨야 하고 국가가 개입해서는 안 된다.
- ⑤ 계약 내용이 사회 질서에 반하거나 현저하게 공정성을 잃으면 법적 효력이 인정되지 않는다.

**12** 다음 사례에 대한 법적 판단으로 옳은 것은? [3점]

• 갑(17세)은 법정 대리인인 부모님의 동의를 얻어 ○○ 연예 기획사 대표 A와 5년 전속 계약을 체결하였다. 갑은 20세가 되는 해 미성년자일 때 맺은 전속 계약을 취소하고 더 유리한 조건으로 다른 연예 기획사와 계약을 체결하려 한다.

• 을(16세)은 법정 대리인인 부모님 몰래 동의서를 위조하여 B로 하여금 위조된 동의서를 믿게 하여 B가 운영하는 전자 대리점에서 고가의 노트북을 구매하는 매매 계약을 체결하였다.

- ① 갑이 성년이 되었다면 미성년자일 때 체결한 전속 계약을 취소할 수 있다.
- ② 갑과 갑의 부모는 모두 A와 맺은 전속 계약을 갑이 성년이 되기 전에 취소할 수 있다.
- ③ 을과 을의 부모는 모두 계약을 취소할 수 있다.
- ④ B는 을에게 계약 체결의 의사 표시를 철회할 수 없다.
- ⑤ B는 을에게 계약을 취소할 것인지에 대한 확답을 촉구할 권리가 있다.

▶ 22063-0169

### 13 다음 사례에 대한 법적 판단으로 옳은 것은? [3점]

갑은 2019년 10월 서울의 한 마트에서 자율 포장대 위에 놓인 사과 1봉지를 절취한 혐의로 기소 유예 처분을 받았다. 이에 헌법 재판소는 절도의 고의 등을 인정할 증거가 부족하다며 ㉠ 기소 유예 처분을 취소하는 결정을 내렸다. 헌법 재판소는 “갑이 사건 당시 노령이고 정신과 신체가 몹시 불편했던 점을 함께 고려하면, 갑이 자율 포장대에서 식료품을 포장하면서 순간적으로 이 사건 사과 봉지를 자신이 구입한 사과로 착각했을 가능성을 충분히 생각해 볼 수 있다.”라고 밝혔다. 이어 “피의자 신문 조서를 제외할 경우 갑에게 절도의 고의 및 불법 영득 의사\*를 인정할 수 있는 유일한 증거로는 CCTV 영상 캡처 사진이 있으나, 사진을 보더라도 갑이 주변에 다른 사람이 있는지 둘러본다거나, 이 사건 사과 봉지를 유심히 살펴보거나, 자신이 구입한 사과와 비교해 보는 등 갑에게 미필적으로라도 절도의 고의를 인정할 사정은 찾아볼 수 없다.”라고 설명했다.

\*불법 영득 의사: 권리자를 배제하고 타인의 물건을 자기의 소유물과 같이 그 경제적 용법에 따라 이용 또는 처분하려는 의사

- ① 갑은 법원의 판결에 불복하여 위헌 심사형 헌법 소원 심판을 제기하였다.
- ② 헌법 재판소는 갑의 행위가 절도죄의 구성 요건에 해당한다고 판단하였다.
- ③ 헌법 재판소의 결정으로 갑은 배상 명령 제도를 통해 정신적 손해를 배상받을 수 있다.
- ④ ㉠은 판사가 내린 것이다.
- ⑤ ㉠은 형식상 불기소 처분에 해당하지만, 실질적으로는 범죄 혐의가 있다고 보는 것이다.

▶ 22063-0170

### 14 다음 사례에 대한 법적 판단으로 옳은 것은? [3점]

갑이 운영하는 꽃집에서 일하는 종업원 을은 파티 준비를 위해 꽃을 주문한 병에게 배달을 가던 중이었다. 이때 A 소유의 건물 1층에서 화장품 가게를 운영하는 B의 가게 간판이 떨어지면서 을은 전치 5주의 부상을 입었다. 이 사고로 인해 꽃을 배달받지 못한 병은 결국 파티를 하지 못했다.

- ① A와 B는 을에게 공동 불법 행위자의 책임을 진다.
- ② 갑과 을은 병의 손해에 대해 공동 불법 행위자의 책임을 진다.
- ③ 갑과 A는 을이 입은 손해에 대해 특수 불법 행위 책임을 질 수 있다.
- ④ 을과 달리 갑은 병에게 채무 불이행에 따른 손해 배상 책임을 질 수 있다.
- ⑤ B의 면책 여부와 무관하게 A는 을에게 손해 배상 책임을 진다.

▶ 22063-0171

### 15 다음 사례에 대한 옳은 법적 판단만을 <보기>에서 있는 대로 고른 것은?

○○ 법원은 A가 □□ 음료 회사를 상대로 낸 손해 배상 청구 소송에서 “□□ 음료 회사는 A에게 3,000만 원을 지급하라.”며 최근 원고 일부 승소 판결을 내렸다. □□ 음료 회사는 A가 허위 사실을 유포해 회사의 명예가 실추되었다며 A를 해고하였다. ○○ 법원은 부당 해고를 당한 직원을 원직에 복직시키라는 중앙 노동 위원회 명령에도 원직이 아닌 다른 부서 과장으로 복직시킨 것은 불법 행위에 해당하므로 고용주가 ㉠ 손해 배상 책임을 져야 한다고 판결하였다.

【 보기 】

- ㄱ. □□ 음료 회사는 A의 근로 3권을 침해하였다.
- ㄴ. □□ 음료 회사는 중앙 노동 위원회 재심 판정에 불복할 경우 행정 소송을 제기할 수 있었다.
- ㄷ. A의 해고에 대해 지방 노동 위원회와 중앙 노동 위원회 모두 부당 해고를 인정하였다.
- ㄹ. ㉠에는 재산적 손해뿐만 아니라 정신적 손해도 포함된다.

- ① ㄱ, ㄴ                      ② ㄱ, ㄷ                      ③ ㄴ, ㄹ
- ④ ㄱ, ㄷ, ㄹ                ⑤ ㄴ, ㄷ, ㄹ

▶ 22063-0172

### 16 다음 사례에 대한 법적 판단으로 옳은 것은? [3점]

갑과 을은 법률혼 상태에서 을이 A를 출산하였다. 갑은 혼인 후 주식 투자를 해서 거액의 채무를 부담하게 되었다. 또한 이 문제로 다투는 과정에서 갑은 을에게 폭언과 폭행을 하였고, 을은 소송을 제기하여 혼인 관계를 해소하였다. 이혼 후 을은 A를 혼자 양육하고 있었다. 이후 갑은 병을 만나 결혼식을 하고 혼인 신고를 하지 않은 상태에서 병이 B를 출산하였다. 그 후 갑은 B를 인지하지 않은 상황에서 교통사고로 갑자기 사망하였다. 사망 당시 갑은 채무 없이 10억 원의 재산을 남겼고, “모든 재산을 병에게 준다.”라는 취지의 유언장이 발견되었다.

- ① 갑과 을의 이혼은 원칙적으로 이혼 숙려 기간을 거쳐야 한다.
- ② 이혼에 책임이 있는 갑은 이혼 판결과 동시에 A에 대한 친권이 박탈된다.
- ③ 갑의 유언이 유효한 경우라도 사실혼 관계인 병은 갑의 재산을 받을 수 없다.
- ④ 갑의 유언이 무효인 경우 병과 달리 A는 갑의 재산을 상속받을 수 있다.
- ⑤ 갑의 유언이 유효한 경우 을과 A, B는 모두 병에게 유류분의 반환을 청구할 수 있다.

▶ 22063-0173

### 17 밑줄 친 ㉠~㉢에 대한 옳은 설명만을 <보기>에서 있는 대로 고른 것은?

정치 과정의 ㉠투입에서는 개인이나 집단이 정부 정책을 요구하거나 불만을 표출하고, ㉡산출에서는 ㉢정책 결정 기구가 정부 정책을 수립하고 집행한다. ㉣환류에서는 정치 주체가 정부 정책을 평가하고, 이에 기반하여 기존 정부 정책의 수정 또는 보완을 요구하거나 새로운 정부 정책을 요구한다.

보기

- ㄱ. ㉠에 개인의 청원 활동이 포함된다.
- ㄴ. 선거의 참여는 ㉡에 해당한다.
- ㄷ. ㉢에 시민 단체가 포함된다.
- ㄹ. ㉣은 개인과 집단 모두 참여할 수 있다.

- ① ㄱ, ㄴ                      ② ㄱ, ㄹ                      ③ ㄴ, ㄷ
- ④ ㄱ, ㄷ, ㄹ                ⑤ ㄴ, ㄷ, ㄹ

▶ 22063-0175

### 19 국제 관계를 바라보는 갑, 을의 관점에 대한 설명으로 옳은 것은?

갑: 인간은 근본적으로 선하고 상호 협력이 가능해, 국제법과 국제기구는 인류 평화를 위한 중요한 수단이야. 전쟁 역시 국가들의 집단적 협력을 통해 억제가 가능해.

을: 도덕적인 옳고 그름보다 외교 정책의 결과가 국가의 이익에 도움이 되었는가 더욱 중요해. 국제 평화를 달성하는 것은 국가의 힘을 극대화하여 적이 자신을 공격할 수 없게 하는 것이지.

- ① 갑의 관점은 국제 사회에서 국가는 자국 이익의 배타적 추구를 중시한다고 본다.
- ② 을의 관점은 국가 간 힘의 균형을 통해 국가의 안전 보장이 가능하다고 본다.
- ③ 갑의 관점과 달리 을의 관점은 국가 간 이해관계의 조화가 가능하다고 본다.
- ④ 을의 관점과 달리 갑의 관점은 자국의 안보를 위해 동맹 및 군사력 강화를 강조한다.
- ⑤ 갑과 을의 관점 모두 국제 사회에서 힘의 논리보다 상호 협력을 강조한다.

▶ 22063-0174

### 18 다음 사례에 대한 법적 판단으로 옳은 것은? [3점]

표는 정에 대한 상해죄 혐의로 형사 절차를 거쳐 판결이 확정된 갑, 을, 병의 상황을 질문에 대한 답변을 통해 구분한 것이다. 판결이 확정될 때까지 한 번도 구속된 적이 없는 갑과 달리 을과 병은 구속 수사를 받았다. (답변은 ‘예’, ‘아니요’로만 응답한다.)

질문	같은 답변	
구속 전 피의자 심문 제도를 거쳤습니까?	갑, 을, 병	-
판결이 확정됨에 따라 구금이 집행되었습니까?	병	갑, 을
형사 보상 제도를 활용할 수 있습니까?	을	갑, 병

- ① ‘구속 전 피의자 심문 제도를 거쳤습니까?’라는 질문에 갑, 을, 병 모두 ‘아니요’로 같은 답변을 하였다.
- ② 갑, 을은 판결이 확정된 이후 구금되지 않았다.
- ③ 갑, 병과 달리 을은 형사 미성년자이다.
- ④ 갑, 병과 달리 을은 무죄 판결이 확정되었다.
- ⑤ 갑과 달리 을과 병은 재판 과정에서 무죄 추정의 원칙을 적용받지 못했을 것이다.

▶ 22063-0176

### 20 국제 연합의 주요 기관 A~C에 대한 설명으로 옳은 것은?

A와 B의 관계는 처음부터 예민한 문제였다. A는 국제 평화와 안전에 대한 제1차적 책임 기관이고, 회원국에 대해 구속력 있는 결정을 내릴 수 있기 때문에, 그 점에서는 B에 대한 A의 실질적 우위가 인정된다. 그러나 모든 회원국으로 구성된 B의 형식적 권한은 광범위하다. 회원국의 국내 문제가 아닌 한 국제 정치상의 대부분의 문제는 B의 권한 범위를 벗어나기 어렵다. 국가 간 분쟁을 사법적으로 해결하기 위한 기관인 C는 A와 B에서 선출된 15인의 국적이 다른 재판관으로 구성되어 있다.

- ① A는 국제 연합의 최고 의결 기관으로 주권 평등의 원칙이 적용된다.
- ② B에는 5개의 상임 이사국이 존재한다.
- ③ C는 판결에 불복하는 당사국을 직접 제재할 수 없다.
- ④ 국제 관습법과 달리 조약은 C에서 재판의 준거로 활용될 수 있다.
- ⑤ A는 총회, B는 안전 보장 이사회, C는 국제 사법 재판소이다.

문항에 따라 배점이 다르니, 각 물음의 끝에 표시된 배점을 참고하시오. 3점 문항에만 점수가 표시되어 있습니다. 점수 표시가 없는 문항은 모두 2점입니다.

▶ 22063-0177

**1** 다음 글에서 필자가 정치에 바라보는 관점에 대한 설명으로 옳은 것은?

일반적으로 정치에 대해 생각할 때 입법부, 행정부 등 국가 기관과 관련된 활동, 그리고 정치권력이라는 용어를 떠올린다. 그런데 그러한 활동의 핵심적인 내용을 보면 정치의 의미를 국가 기관 및 정치권력에만 국한하여 고려할 필요는 없다. 즉 기존에 우리가 생각하던 정치의 의미의 핵심적인 내용은 권력이 형성·분배되는 과정과 관련되어 있으며, 이는 국가 기관 이외의 다양한 사회 집단에서도 발견되고 있다.

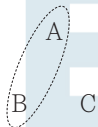
- ① 국가 형성 이전의 정치 현상을 설명하지 못한다.
- ② 의회의 입법 과정을 정치 현상으로 보지 않는다.
- ③ 다원화된 현대 사회의 갈등 현상을 설명하는 데 적합하다.
- ④ 시민 단체가 정부 정책을 감시하는 것은 정치 현상이 아니라고 본다.
- ⑤ 국가의 정치 현상과 사회 집단의 정치 현상은 본질적으로 다르다고 본다.

▶ 22063-0178

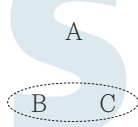
**2** 다음 자료에 대한 옳은 설명만을 <보기>에서 고른 것은?(단, A~C는 각각 고대 아테네 민주 정치, 근대 민주 정치, 현대 민주 정치 중 하나이다.) [3점]

그림은 <질문 1>, <질문 2>에 대해 '예', '아니요' 중 같은 답을 할 수 있는 것끼리 점선으로 묶은 것이다.

<질문 1> 보통 선거권이 인정되는가?



<질문 2> 대의 민주주의 제도를 실시하는가?



보기

- ㄱ. A는 계몽사상의 영향을 받아 나타났다.
- ㄴ. C에서는 대의 민주주의의 한계를 극복하기 위해 직접 민주주의 요소를 도입하였다.
- ㄷ. A와 달리 B에서는 여성들의 정치 참여가 보장되었다.
- ㄹ. B, C 모두 국민 주권주의를 기초로 한다.

- ① ㄱ, ㄴ    ② ㄱ, ㄷ    ③ ㄴ, ㄷ    ④ ㄴ, ㄹ    ⑤ ㄷ, ㄹ

▶ 22063-0179

**3** 표는 기본권 유형 A~C를 질문에 따라 구분한 것이다. 이에 대한 설명으로 옳지 않은 것은? (단, A~C는 각각 사회권, 자유권, 청구권 중 하나이다.)

질문 \ 유형	A	B	C
적극적 성격의 권리인가?	예	예	아니요
(가)	예	아니요	아니요

- ① (가)에는 '수단적 성격의 권리인가?'가 들어갈 수 있다.
- ② (가)에 '현대에 들어와 강조되는가?'가 들어가면, A는 독일 바이마르 헌법에서 최초로 규정되었다.
- ③ A가 사회권이면 B의 내용으로 재판 청구권을 들 수 있다.
- ④ B는 C와 달리 포괄적 성격의 권리이다.
- ⑤ C는 A, B와 달리 국가의 성립과 무관하게 인정되는 권리이다.

▶ 22063-0180

**4** 갑국과 을국의 정치적 상황에 대한 설명으로 옳은 것은?(단, 갑국과 을국은 서로 다른 전형적인 정부 형태를 채택하고 있다.) [3점]

갑국과 을국은 최근 동일 시기에 의회 의원 선거를 치렀다. 선거 결과 갑국의 정당별 의회 의석 점유율은 A당 53%, B당 32%, C당 11%, D당 4%였고, 선거 결과에 따라 A당 대표가 행정부 수반으로 선출되었다. 을국의 정당별 의석 점유율은 a당 42%, b당 37%, c당 21%였고, 행정부 수반은 b당 소속이다.

- ① 갑국은 의회 의원이 각료를 겸직할 수 없다.
- ② 을국은 b당과 c당이 연립 내각을 구성할 수 있다.
- ③ 갑국과 달리 을국은 행정부도 의회에 법률안을 제출할 수 있다.
- ④ 을국과 달리 갑국은 입법부와 행정부의 대립 발생 시 조정이 곤란하다.
- ⑤ 갑국보다 을국이 행정부 수반의 임기 동안 정책의 계속성 확보에 유리하다.

**5** 법치주의의 유형 A, B에 대한 설명으로 옳은 것은?

법치주의는 A, B 2가지 유형으로 나뉜다. A는 법이란 의회에서 제정되고 국가 전체에 적용되는 강제 규범을 의미하는 것이므로 의회를 거쳐 제정된 법은 그 목적이나 내용에 상관없이 지켜져야 한다고 본다. B는 법을 의회에서 제정된 강제 규범으로 보는 것은 법에 대한 최소한의 정의(定義)이며, 제정된 법이 그 목적과 내용 역시 법의 이념 중 하나인 정의(正義)에 합치해야만 법으로 인정할 수 있다고 본다.

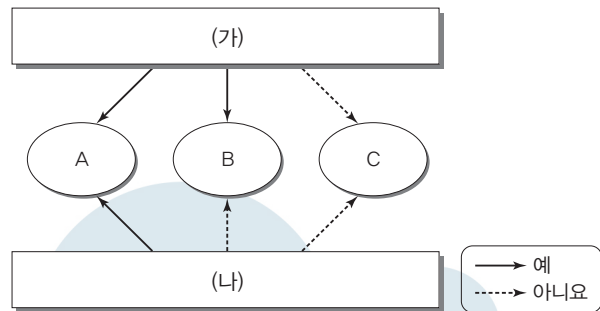
- ① A는 정의를 법적 안정성보다 우선시한다.
- ② B는 절차적 정당성과 관계없이 실질적 정당성만 확보하면 법의 효력을 인정한다.
- ③ A와 달리 B는 위헌 법률 심사제가 필요 없다고 본다.
- ④ B와 달리 A는 독재 정치를 정당화하는 논리로 악용될 수 있다는 비판을 받는다.
- ⑤ A, B는 모두 국민의 자유와 권리를 보장하는 것보다 통치의 합법성을 중시한다.

**7** 우리나라 헌법의 기본 원리 (가), (나)에 대한 설명으로 옳은 것은?

구분	관련 헌법 조항
(가)	제5조 ① 대한민국은 국제 평화의 유지에 노력하고 침략적 전쟁을 부인한다. 제6조 ② 외국인은 국제법과 조약이 정하는 바에 의하여 그 지위가 보장된다.
(나)	제34조 ① 모든 국민은 인간다운 생활을 할 권리를 가진다. 제35조 ① 모든 국민은 건강하고 쾌적한 환경에서 생활할 권리를 가지며, 국가와 국민은 환경 보전을 위하여 노력하여야 한다.

- ① (가)에 따라 우리나라는 일체의 전쟁을 부인한다.
- ② (가)에 따르면 국내 거주 외국인은 모든 기본권을 내국인과 동일하게 보장받는다.
- ③ (나)를 실현하기 위한 방안으로 상향식 의사 결정 과정의 확립을 들 수 있다.
- ④ (나)는 자본주의 발달 과정에서 나타난 경제적 불평등과 같은 문제점을 해결하기 위한 노력과 관련이 있다.
- ⑤ (가)와 달리 (나)의 실현을 위해서는 국가의 간섭을 최소화하는 것이 필요하다.

**8** 그림은 (가), (나) 질문에 따라 정치 참여 집단 A~C를 구분한 것이다. 이에 대한 옳은 설명만을 <보기>에서 고른 것은? (단, A~C는 각각 시민 단체, 이익 집단, 정당 중 하나이다.) [3점]



- 【 보기 】
- ㄱ. (가)에 '특수 이익보다 공익을 우선시하는가?'가 들어갈 수 있다.
  - ㄴ. (나)에 '자기 집단의 활동에 정치적 책임을 지는가?'가 들어갈 수 있다.
  - ㄷ. (가)에 '일반적으로 한정된 쟁점에 치중하여 활동하는가?'가 들어가면, (나)에 '정당 정치의 한계를 보완하는가?'가 들어갈 수 있다.
  - ㄹ. (나)에 '정치적 충원 기능을 하는가?'가 들어가면, (가)에 '정부와 의회를 매개하는가?'가 들어갈 수 있다.

**6** 주민 참여 제도 A, B에 대한 옳은 설명만을 <보기>에서 있는 대로 고른 것은? [3점]

- ○○시와 △△도는 행정 구역을 통합하기로 하고 통합안에 대한 주민들의 의사를 확인하는 A를 통해 그 내용을 확정하기로 하였다.
- □□시 주민들은 지역 특산물을 알리고 지역 경제를 활성화하기 위한 방안을 내용으로 하는 조례 제정을 위해 B를 이용하기로 하고 조례안을 직접 만들어 지방 의회에 제출하였다.

【 보기 】

- ㄱ. A는 지방 자치 행정의 민주성과 책임성을 제고하고 주민의 복리를 증진하는 것을 목적으로 한다.
- ㄴ. 지방 의회는 B를 통해 제출된 조례안을 원안대로 조례로 제정해야 한다.
- ㄷ. A와 달리 B는 기초 자치 단체에서는 실시할 수 없다.
- ㄹ. A, B는 모두 직접 민주 정치 요소에 해당한다.

- ① ㄱ, ㄷ                      ② ㄱ, ㄹ                      ③ ㄴ, ㄷ
- ④ ㄱ, ㄴ, ㄹ                ⑤ ㄴ, ㄷ, ㄹ

- ① ㄱ, ㄴ                      ② ㄱ, ㄷ                      ③ ㄴ, ㄷ                      ④ ㄴ, ㄹ                      ⑤ ㄷ, ㄹ

▶ 22063-0185

**9** 시대별로 강조된 헌법의 의미 A~C에 대한 설명으로 옳은 것은? (단, A~C는 각각 고유한 의미의 헌법, 근대 입헌주의 헌법, 현대 복지 국가 헌법 중 하나이다.)

구분	특징
A	사회권의 보장을 통해 국민이 인간다운 삶을 영위할 수 있도록 함
B	국가 기관을 조직·구성하고 이들 기관의 권한과 상호 관계 등을 규정함
C	자유권을 중심으로 국민의 기본권을 보장하기 위해 국가 권력을 제한함

- ① A-B-C의 순서대로 등장하였다.  
 ② A는 국가의 소극적인 역할을 강조한다.  
 ③ B는 국가 통치 체제에 대한 기본적인 내용을 규정하고 있다.  
 ④ A와 달리 C는 국가 권력을 제한하는 내용을 담고 있다.  
 ⑤ C와 달리 B는 입헌주의를 확립하는 데 기여하였다.

▶ 22063-0186

**10** 다음 자료에 대한 옳은 분석 및 추론만을 <보기>에서 고른 것은? [3점]

갑국의 의회 의원 정수는 총 5명이며, 5개의 선거구에서 단순 다수 대표제로 선출한다. 표는 갑국의 최근 의회 의원 선거에서 각 선거구의 정당별 투표 결과이다. 단, 투표율은 100%이며, 무효표는 없다.

(단위: 표)

선거구	정당	A당	B당	C당	D당	합계
1		50	20	10	20	100
2		35	40	20	5	100
3		30	35	10	25	100
4		20	25	20	35	100
5		40	15	30	15	100

갑국은 의회 의원 정수를 유지한 채 선거구를 하나로 통합하는 선거 제도 개편안을 도입하려 한다. 이때 의석 배분은 각 정당 득표율에 총의석수를 곱하여 산출된 수의 정수(整数)만큼 의석을 각 정당에 먼저 배분하고, 잔여 의석은 소수점 이하 수가 큰 순서대로 각 정당에 1석씩 배분한다.

\*위 표에서 각 정당 후보자에 대한 지지는 해당 정당에 대한 지지로 간주하고, 개편안에 따른 선거 결과는 위 표를 근거로 판단한다.

| 보기 |

- ㄱ. 최근 의회 의원 선거 결과 A당과 D당의 의석수는 동일하다.  
 ㄴ. 최근 의회 의원 선거 결과 B당은 과대 대표되었다.  
 ㄷ. 의회 의석수 확보를 고려하면, C당은 개편안의 도입을 반대할 것이다.  
 ㄹ. 개편안을 도입하면 현행 선거 제도에 비해 더 많은 정당이 의석을 확보하게 된다.

- ① ㄱ, ㄴ    ② ㄱ, ㄷ    ③ ㄴ, ㄷ    ④ ㄴ, ㄹ    ⑤ ㄷ, ㄹ

▶ 22063-0187

**11** 다음 사례에서 법원의 판단 근거가 된 민법의 기본 원칙에 부합하는 진술로 옳은 것은?

법원은 ○○ 백화점(이하 '갑')과 의류를 납품하는 ◇◇ 주식 회사(이하 '을') 간에 체결한 계약이 무효라고 판결하였다. 갑과 을 사이에 체결된 계약에 따르면 갑은 납품된 을의 물품에 대한 대금을 모두 치르되 재고는 을이 회수해 가며, 이때 정상적으로 팔렸다면 갑이 얻을 수 있었던 이윤이 재고로 인해 실현되지 않은 부분에 대해서는 을이 보상해 주어야 했다.

- ① 소유권은 공공복리에 적합하도록 행사해야 한다.  
 ② 개인은 자율적인 판단에 기초하여 법률관계를 형성해 나갈 수 있다.  
 ③ 개인 소유의 재산에 대한 사적 지배에 대해 국가나 타인은 간섭할 수 없다.  
 ④ 개인이 다른 사람에게 가한 손해에 대해서는 자신에게 고의나 과실이 없으면 책임지지 않는다.  
 ⑤ 계약의 내용이 사회 질서에 위반되거나 현저하게 공정하지 못한 경우에는 법적 효력이 인정되지 않는다.

▶ 22063-0188

**12** 다음 자료에 대한 옳은 분석만을 <보기>에서 고른 것은? [3점]

갑은 친구인 을에게 500만 원을 빌려 달라고 했다. 을은 기꺼이 빌려주겠다고 하면서 인터넷 बैं킹을 통해 송금을 하였다. 그리고 갑과 을은 다음 날인 9월 1일에 만나 아래와 같은 차용 증서를 썼다.

## 차용 증서

갑(인적 사항) / 을(인적 사항)

금액: 금 오백만 원

이율: 연 2.5%

갑은 을에게 위 금액을 빌렸으며, 2022년 2월 28일에 원금과 이자를 일시불로 변제하기로 함.

2022년 9월 1일

갑(갑) / 을(을)

| 보기 |

- ㄱ. 갑은 채권자, 을은 채무자이다.  
 ㄴ. 갑과 을의 계약은 2022년 9월 1일에 성립되었다.  
 ㄷ. 이 증서를 작성하지 않아도 갑과 을에게는 권리와 의무가 발생한다.  
 ㄹ. 갑은 변제일에 차용한 금액을 변제하지 못하면 손해 배상 책임을 질 수 있다.

- ① ㄱ, ㄴ    ② ㄱ, ㄷ    ③ ㄴ, ㄷ    ④ ㄴ, ㄹ    ⑤ ㄷ, ㄹ



▶ 22063-0189

### 13 다음 사례에 대한 법적 판단으로 옳은 것은? [3점]

- 갑의 자녀 을(8세)이 키포드를 타다가 행인 A를 들이받아 전치 6주의 상해를 입혔다.
- 병(40세)은 정(60세) 소유의 건물에서 세탁소를 운영하고 있다. 어느 날 이 세탁소의 간판이 떨어져 지나가던 B의 승용차 앞유리를 파손시켰다.

- ① 을은 책임 능력이 없어 손해 배상 책임을 지지 않으므로 갑이 사용자 배상 책임을 진다.
- ② 갑에게 배상 책임을 묻기 위해 A는 갑이 감독자의 의무를 게을리하였음을 증명해야 한다.
- ③ B는 병과 정에게 공동 불법 행위자의 책임을 물을 수 있다.
- ④ 을과 병은 모두 특수 불법 행위 책임을 질 수 있다.
- ⑤ 병이 손해 방지를 위한 주의를 다하였음을 증명하면 정은 공작물의 소유자 책임을 진다.

▶ 22063-0190

### 14 다음 사례에 대한 법적 판단으로 옳지 않은 것은? [3점]

갑(18세)과 을(18세)은 법적으로 유효한 혼인을 하고, 같은 해 자녀 병을 낳았다. 그러나 2년 뒤 갑과 을은 성격상의 차이를 이유로 협의상 이혼을 하였고, 병에 대한 친권과 양육권은 을이 가지기로 하였다. 이후 을은 정을 만나 결혼식을 하고 혼인 신고를 하였다.

- ① 갑과 을은 각각 법정 대리인의 동의를 얻어 혼인했을 것이다.
- ② 병의 출생 시 친권은 갑과 을이 행사했을 것이다.
- ③ 갑과 을은 이혼하면서 3개월의 이혼 숙려 기간을 거쳤을 것이다.
- ④ 을의 재혼으로 인해 갑과 병의 친자 관계는 소멸한다.
- ⑤ 갑이 사망할 경우 병은 갑의 법정 상속인이 된다.

▶ 22063-0191

### 15 다음 근로 계약과 관련한 진술로 옳지 않은 것은?

#### 근로 계약서

사용자 갑과 고등학생인 근로자 을(17세)은 다음과 같이 근로 계약을 체결한다.

1. 근로 계약 기간: 2022. 7. 1. ~ 2022. 12. 31.
2. 근무 장소 및 내용: 창고에서 물품 정리 및 물품 입출 보조
3. 근로 시간: 10:00 ~ 18:00(휴게 시간: 13:00 ~ 14:00)
4. 근무일: 월요일 ~ 금요일
5. 임금: 시간당 10,000원

\*2022년 법정 최저 임금은 시간당 9,160원임.

- ① 을은 법정 대리인의 동의 없이도 임금을 청구할 수 있다.
- ② 이 계약이 유효하기 위해서는 법정 대리인의 동의가 필요하다.
- ③ 을은 근로 계약서상의 근로 시간을 일한다면 하루 70,000원의 임금을 받는다.
- ④ 갑과 을이 합의하면 을의 연장 근로는 1일 1시간, 1주일 7시간까지 가능하다.
- ⑤ 갑은 을의 연령을 증명하는 가족 관계 기록 사항에 관한 증명서를 사업장에 갖추어 놓아야 한다.

▶ 22063-0192

### 16 다음 자료에 나타난 죄형 법정주의의 파생 원칙 A, B에 대한 설명으로 옳은 것은? [3점]

- (가) ○○ 법원은 저작권법 제2조 제24호의 '발행은 저작물 또는 음반을 공중의 수요를 충족시키기 위하여 복제·배포하는 것을 말한다.'라는 조항에 따르면 발행이란 저작물이나 음반을 복제하고 배포한 행위로 보아야 함에도 불구하고, 단지 복제만 한 행위에 대해서도 발행으로 인정하려는 것은 A에 위배된다고 판결하였다.
- (나) △△ 법원은 1972. 10. 17.자 비상계엄 선포에 따른 계엄포고 제1호에 제시된 '유언비어를 날조·유포하는 일체의 행위'라는 문구는 범죄의 구성 요건이 추상적이고 모호할 뿐만 아니라, 그 적용 범위가 너무 광범위하고 포괄적이어서 통상의 판단 능력을 가진 국민이 법률에 의하여 금지되는 행위가 무엇인지를 예견하기 어려우므로 B에 위배된다고 판결하였다.

- ① A는 피고인에게 유리할 경우에는 적용되지 않을 수도 있다.
- ② A에 따르면 범죄와 형벌 간에 적정한 균형이 이루어져야 한다.
- ③ B는 비례성의 원칙이라고도 한다.
- ④ B는 범죄와 형벌은 미리 성문의 법률에 규정되어 있어야 함을 강조한다.
- ⑤ A와 달리 B는 현대적 의미의 죄형 법정주의에서는 중시되지 않는다.

▶ 22063-0193

### 17 다음 사례에 대한 옳은 법적 판단만을 <보기>에서 있는 대로 고른 것은? [3점]

갑과 을은 고의로 남의 차량을 파손한 혐의(형법상 재물 손괴 등)로 수사를 받았다. 그중 갑은 ㉠경찰서장에 의해 직접 〇〇 지방 법원 소년부로 송치되었으며, 심판을 통해 ㉡소년법상 보호 처분을 받았다. 한편 을은 ㉢구속 적부 심사 절차에서 석방된 후 재판을 받았는데, 〇〇 지방 법원은 을에게 징역 2년에 ㉣집행 유예 3년을 선고하였다.

#### 보기

- ㄱ. ㉠으로 보아 갑은 14세 미만자일 것이다.
- ㄴ. ㉡은 형벌이 아닌 대안적 제재 수단에 해당한다.
- ㄷ. ㉢의 결정을 하는 주체는 검사이다.
- ㄹ. ㉣ 확정 후 형이 실효되거나 취소되지 않고 유예 기간이 경과하면 형 선고의 효력이 상실된다.

- ① ㄱ, ㄷ                      ② ㄱ, ㄹ                      ③ ㄴ, ㄷ
- ④ ㄱ, ㄴ, ㄹ                ⑤ ㄴ, ㄷ, ㄹ

▶ 22063-0194

### 18 다음 사례에 대한 옳은 법적 판단만을 <보기>에서 고른 것은? [3점]

갑은 얼마 전 질병으로 사망하였는데, 사망 직전 자신이 가진 재산을 〇〇 대학교에 모두 기부한다는 내용으로 자필 증서에 의한 유언장을 작성하였다. 사망 당시 갑의 가족으로는 배우자인 을, 자녀인 병과 정, 갑의 부모인 A와 B가 있었으며, 상속 재산으로는 재산 16억 원과 채무 2억 원이 있었다.

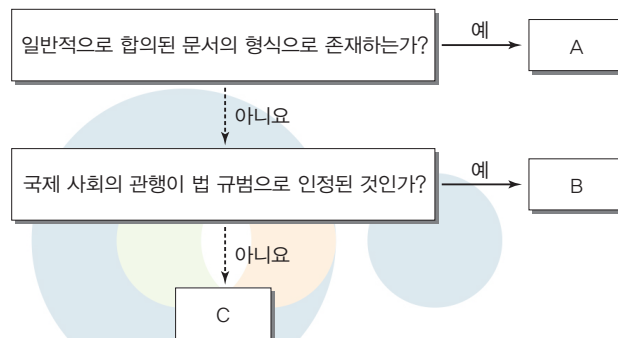
#### 보기

- ㄱ. 유언장이 유효할 때 을이 받을 수 있는 유류분액은 6억 원이다.
- ㄴ. 유언장이 유효할 때 병과 정이 받을 수 있는 유류분액은 각각 2억 원이다.
- ㄷ. 유언장이 무효일 때 병과 정은 각각 4억 원을 상속받는다.
- ㄹ. 유언장이 무효일 때 A와 B는 각각 을의 1/2에 해당하는 액수를 상속받는다.

- ① ㄱ, ㄴ                      ② ㄱ, ㄷ                      ③ ㄴ, ㄷ                      ④ ㄴ, ㄹ                      ⑤ ㄷ, ㄹ

▶ 22063-0195

### 19 국제법의 법원(法源) A~C에 대한 설명으로 옳지 않은 것은? (단, A~C는 각각 조약, 국제 관습법, 법의 일반 원칙 중 하나이다.)



- ① A는 국가 간에만 체결할 수 있다.
- ② B는 별도의 체결 절차 없이도 국제 사회의 국가들에 대해 법적 구속력이 발생한다.
- ③ C의 사례로 권리 남용 금지의 원칙을 들 수 있다.
- ④ A, B는 국제 사법 재판소에서 재판 규범으로 인정된다.
- ⑤ B나 C를 위반한 국가를 제재할 수 있는 중앙 정부가 없다.

▶ 22063-0196

### 20 국제 연합의 주요 기관 A, B에 대한 설명으로 옳지 않은 것은?

- 미국의 쿠바에 대한 경제 제재가 지속되는 가운데 미국의 제재 철회를 촉구하는 결의안이 A에서 채택되었다. 이번 결의안에는 184개국이 찬성하였고, 2개국이 반대하였다.
- 이스라엘과 팔레스타인 간의 분쟁 상황이 악화됨에 따라 평화적 해결 방안을 마련하기 위해 열린 B에서 공동 성명이 채택되지 못하였다. 15개 이사국 중 대부분이 성명 채택에 찬성하였지만 1개국이 반대하였기 때문이다.

- ① A는 모든 회원국이 참여하는 최고 의사 결정 기관이다.
- ② B에서의 의결 정족수는 이사국 2/3 이상의 찬성이다.
- ③ A와 달리 B의 표결 방식은 합의의 논리에 바탕을 두고 있다.
- ④ B의 비상임 이사국은 모두 A에서 투표로 선출된다.
- ⑤ A, B 모두 국제 사법 재판소의 재판관을 선출하는 권한을 가진다.

문항에 따라 배점이 다르니, 각 물음의 끝에 표시된 배점을 참고하시오. 3점 문항에만 점수가 표시되어 있습니다. 점수 표시가 없는 문항은 모두 2점입니다.

▶22063-0197

▶22063-0199

## 1 다음 자료에 대한 설명으로 옳지 않은 것은?

교사: 정치를 바라보는 관점 A, B에 대해 설명해 볼까요?  
 갑: A는 국가 공동체의 의사를 결정하고 이해관계를 조정해 나가는 국가만의 활동을 정치라고 봅니다.  
 을: B는 국가뿐만 아니라 모든 사회 집단에서 나타나는 이해관계를 조정해 가는 과정을 정치라고 봅니다.  
 병:  (가)  
 교사: 갑, 을은 옳게 설명하였지만, 병은 틀리게 설명했네요.

- ① A는 국가의 정치 현상과 국가 이외 사회 집단의 정치 현상은 본질적으로 다르다고 본다.
- ② B는 다원화된 현대 사회의 정치 현상을 설명하기에 적합하다.
- ③ A, B는 모두 대통령을 선출하기 위한 국가의 선거 관리 활동을 정치로 본다.
- ④ (가)에 'A와 달리 B는 국가 형성 이전의 정치 현상을 설명하기에 적합합니다.'가 들어갈 수 있다.
- ⑤ (가)에 'B와 달리 A는 국가 권력과 무관한 정치 현상을 설명하기에 적합합니다.'가 들어갈 수 있다.

▶22063-0198

## 2 그림은 질문 (가)를 통해 A와 B를 구분한 것이다. 이에 대한 설명으로 옳은 것은? (단, A, B는 각각 우리나라 국회, 대통령 중 하나이고, ㉠, ㉡은 각각 '예', '아니요' 중 하나이다.) [3점]



- ① (가)에 '헌법 개정안을 발의할 수 있는가?'가 들어갈 수 있다.
- ② (가)에 '사면권을 갖는가?'가 들어가고, ㉠이 '예'라면, A는 국회, B는 대통령이다.
- ③ (가)에 '탄핵 소추권을 갖는가?'가 들어가고, ㉠이 '아니요'라면, A는 행정부 최고 심의 기관의 의장이 된다.
- ④ (가)에 '국무 위원에 대한 해임 건의권을 갖는가?'가 들어가고, ㉠이 '예'라면, B는 국가의 세입·세출의 결산 심사를 담당한다.
- ⑤ A에서 의결된 법률안에 대해 B가 재의를 요구할 수 있고, (가)에 '감사원장에 대한 임명권을 갖는가?'가 들어가면, ㉠은 '예', ㉡은 '아니요'이다.

## 3 우리나라 헌법의 기본 원리 A, B에 대한 설명으로 옳은 것은?

사회자: 올해 우리나라 정부의 주요 국정 과제에 대해 헌법의 기본 원리와 관련하여 말씀해 주세요.  
 발표자: 헌법의 기본 원리 중 A를 실현하기 위하여 국제적 분쟁이 있는 ○○ 지역에 우리나라 군대를 파견하여 평화 유지 활동을 하는 것은 올해 국정 과제 중 하나입니다. 또한 헌법의 기본 원리 중 B를 실현하기 위해서 의료 지원을 받지 못한 소외 계층이 의료 지원을 받을 수 있도록 하는 것도 올해 국정 과제 중 하나입니다.

- ① A에 따라 우리나라는 침략적 전쟁을 부인한다.
- ② B에 따라 국민은 국가 기관의 주요 공무원을 선출할 수 있는 선거권을 가진다.
- ③ A와 달리 B는 개인의 사적 영역에 대한 국가의 간섭을 최소화해야 한다는 원리이다.
- ④ B와 달리 A는 남북 분단이라는 특수한 상황에 따라 우리나라 헌법만이 가지는 원리이다.
- ⑤ 의무 교육 제도 실시는 A, B 모두의 실현 방안에 해당한다.

▶22063-0200

## 4 법치주의의 유형 A, B에 대한 설명으로 옳은 것은?

초기의 법치주의는 의회가 합법적인 절차를 거쳐 제정한 법에 따른 통치를 강조하였다. 즉 외형상의 합법성만을 강조하면서 법률 자체의 목적이나 내용을 문제 삼지 않는 A를 강조한 것이다. 그러나 이는 국민의 자유와 권리를 침해할 수 있다는 비판을 받으면서 법률의 목적과 내용이 국민의 자유와 권리 보장이 라는 헌법 이념에 부합해야 한다는 B가 등장하게 되었다.

- ① A는 합법적으로 제정된 법률이 인간의 존엄성이나 실질적 평등에 부합해야 한다는 원리이다.
- ② B는 법률이 헌법에 위반되었을 때 이를 심사할 수 있는 제도를 인정한다.
- ③ A와 달리 B는 법률의 목적과 내용이 정의에 합치될 때 법의 권위가 발생한다는 점을 간과한다.
- ④ B와 달리 A는 국가 권력의 자의적 행사를 방지한다.
- ⑤ A, B는 모두 독재 정치가 합법적으로 이루어지면 정당하다고 본다.

▶ 22063-0201

**5** 다음 자료에 대한 설명으로 옳은 것은? (단, A, B는 각각 전형적인 대통령제, 의원 내각제 중 하나이다.) [3점]

서술형 문항	
A와 구별되는 B의 특징을 3가지만 서술하시오. (옳은 답을 쓴 경우 하나당 1점씩이고, 틀린 답을 쓴 경우 하나당 0점을 부여함.)	
답안	채점 결과
내각은 의회에 대해 연대 책임을 진다.	1점
(가)	㉠
(나)	㉡
총점	㉢

- A는 선거를 통해 의회를 구성하고 의회에서 선출된 총리가 내각을 구성한다.
- B는 행정부 수반의 임기가 보장되어 있어 정국 안정을 이룰 수 있다.
- ㉠이 1점이고, ㉢이 2점이면, (나)에 '의회 의원은 각료를 겸직할 수 있다.'가 들어갈 수 있다.
- ㉡이 1점이고, (가)가 '행정부 수반의 법률안 거부권 행사로 의회를 견제할 수 있다.'라면, ㉢은 3점이다.
- ㉢이 2점이고, (나)가 '행정부 수반은 의회 해산권을 갖는다.'라면, (가)에 '행정부는 법률안을 제출할 수 없다.'가 들어갈 수 있다.

▶ 22063-0202

**6** 기본권 유형 A, B에 대한 설명으로 옳은 것은?

- 갑은 대통령 선거에 투표를 하러 갔으나 투표 마감 시간이 지났다는 이유로 투표를 할 수가 없었다. 하지만 투표 마감 시간이 지나지 않았음에도 불구하고 담당 공무원의 실수로 투표를 하지 못하였다고 판단한 갑은 A가 침해당했다고 주장하였다.
- 을은 수사 기관에 의해서 체포를 당하였다. 아무런 범죄를 저지른 적이 없는 을은 수사 기관에 의해 체포의 이유와 변호인의 조력을 받을 권리 등을 고지받지 못하였으므로, B가 침해당했다고 주장하였다.

- A와 달리 B는 입법자에 의한 구체적 형성을 필요로 한다.
- A와 달리 B는 국가가 사적 생활 영역을 존중하고 침해하지 않으므로써 보장되는 권리이다.
- B와 달리 A는 인간다운 생활의 보장을 국가에 적극적으로 요구할 수 있는 권리이다.
- B와 달리 A는 국민의 기본권이 국가나 타인에 의해 침해당하였을 때 그 구제를 청구할 수 있는 권리이다.
- A, B는 모두 본질적 권리로서 다른 기본권 보장의 전제 조건이 된다.

▶ 22063-0203

**7** 다음 자료에 대한 옳은 설명만을 <보기>에서 고른 것은?

[3점]

○○법 □□조 위반 혐의로 기소된 갑에 대해 △△ 지방 법원 단독 판사는 유죄 판결을 하였다. 1심 판결에 불복한 갑은 A에 ㉠ 하였지만, A는 이를 기각하면서 원심과 같은 판결을 하였다. 2심 판결에도 불복한 갑은 B에 ㉡ 하였다. 갑은 ㉢ 심 계속 중 B에 해당 법률 조항이 헌법에 위반된다며 위헌 법률 심판 제청 신청을 하였고, B는 제청 신청에 따라 해당 사건에 대해 C에 위헌 법률 심판을 제청하였다. C는 해당 법률 조항에 대해 수단의 적합성을 인정할 수 없으며, 침해의 최소성 원칙에도 어긋나고, 기본권 제한의 정도가 매우 중대하여 법익의 균형성 요건도 갖추지 못하여 기본권을 침해한다고 결정하였다.

| 보기 |

- ㉠은 '상고', ㉡은 '항소'이다.
- ㉢. A는 '고등 법원'이다.
- ㉣. B의 장(長)은 C의 재판관 중 3인에 대해 지명할 수 있는 권한을 가진다.
- ㉤. C는 해당 법률 조항이 과잉 금지 원칙에 위배된다고 보았다.

- ㉠, ㉢
- ㉠, ㉢
- ㉢, ㉤
- ㉢, ㉤
- ㉣, ㉤

▶ 22063-0204

**8** 다음 사례에 대한 법적 판단으로 옳은 것은? [3점]

갑과 을은 법률상 혼인을 하였고, 혼인 중에 을이 A, B를 출산하였다. 갑과 을은 성격 차이로 협의상 이혼을 하였고, 이혼하면서 A에 대한 양육권은 갑이, B에 대한 양육권은 을이 갖기로 하였다. 1년 후 을은 정과 재판상 이혼을 한 병과 법률상 혼인을 하였다. 혼인 후 2년이 지나서 병은 B를 친양자가 아닌 양자로 입양하였다. 어느 날 갑이 출장을 가던 중 교통사고로 사망하였는데, 갑은 사망하기 며칠 전 전 재산을 ○○ 재단에 기부한다는 유언을 남겼다.

- 갑과 을의 이혼과 달리 병과 정은 행정 관청에 이혼 신고를 하면 이혼의 효력이 발생한다.
- 을과 병의 혼인으로 을과 A의 친자 관계는 종료된다.
- 병이 유언 없이 사망한다면, 을과 B는 병의 재산을 상속받을 수 있다.
- 갑의 유언이 무효라면, 을은 A, B 상속분의 50%를 가산하여 상속받을 수 있다.
- 갑의 유언이 유효하다면, B와 달리 A는 ○○ 재단을 상대로 유류분 반환을 청구할 수 있다.

**9** 정치 참여 집단 A~C에 대한 설명으로 옳은 것은? (단, A~C는 각각 정당, 이익 집단, 시민 단체 중 하나에 해당하는 집단이다.)

최근 전동 키포드 이용자가 늘어나면서 이에 따른 안전사고도 증가하고 있다. 이에 대해 보행자들의 안전을 위해 공익 캠페인을 추진해 온 A는 전동 키포드에 의한 안전사고가 급증하고 있으므로 자전거 도로 출입을 제한하는 등 현재보다 규제를 강화해야 한다고 주장하고 있다. 반면, 전동 키포드 업계 종사자들로 구성된 B는 2인 이상 탑승 금지, 음주 운전 시 처벌 등 안전 운행에 위협을 주는 내용들을 제외하고는 규제를 완화해야 한다고 주장하고 있다. 이에 C는 A와 B의 의견을 수렴하여 차기 의회 의원 선거에서 전동 키포드 관련 공약을 제시하기로 하였다.

- ① A와 달리 B는 정부와 의회를 매개한다.
- ② B와 달리 C는 정치권력을 획득하여 정당을 실현하고자 한다.
- ③ C와 달리 A는 사익보다 공익을 추구한다.
- ④ A와 달리 B, C는 정책 결정 및 집행 과정에 영향력을 행사한다.
- ⑤ B와 달리 A, C는 대의 정치의 한계를 보완하는 역할을 한다.

**10** 표는 국제 연합의 주요 기관 A~C를 구분할 수 있는 질문과 구분할 수 없는 질문으로 나타낸 것이다. 이에 대한 설명으로 옳은 것은? (단, A~C는 각각 총회, 안전 보장 이사회, 국제 사법 재판소 중 하나이다.)

구분	A와 B	B와 C
구분할 수 있는 질문	국가 간 분쟁에 대해 국제법에 따른 판결을 내리는가?	(가)
구분할 수 없는 질문	(나)	모든 회원국이 참여하는 의사 결정 기관인가?

- ① A는 국제 평화와 안전 유지에 관한 국제 연합의 실질적 의사 결정 기관이다.
- ② A와 달리 C는 분쟁 당사국이 합의하여 분쟁 해결을 요청한 사건에 대해서만 관할권을 행사한다.
- ③ A, C는 모두 B의 재판관 선출 권한을 갖는다.
- ④ (가)에 '분쟁 지역에 평화 유지군을 파견할 수 있는가?'가 들어갈 수 없다.
- ⑤ (나)에 '주권 평등의 원칙에 따른 1국 1표의 표결 방식이 적용되는가?'가 들어갈 수 있다.

**11** 밑줄 친 ㉠~㉣에 대한 설명으로 옳은 것은? [3점]

㉠ 청원은 국민이 국가 기관에 대해 일정한 사안에 관한 자신의 의견이나 희망을 진술하는 것을 말한다. 청와대에 청원을 하는 것과 국회에 청원을 하는 것은 청원 방법 중 하나이다. ㉡ 청와대 국민 청원은 청원을 원하는 국민이 청와대 누리집(홈페이지)에 청원 의견을 제시하여 30일 동안 20만 명 이상의 추천을 받으면 ㉢ 정부 및 청와대 책임자가 답을 하게 된다. 국회에 청원을 하는 방법은 2가지가 있는데, ㉣ 국민 동의 청원은 국민 동의 청원 누리집(홈페이지)을 통하여 30일 동안 10만 명의 국민의 동의를 받아 제출하는 방식이며, ㉤ 의원 소개 청원은 국회 의원 소개를 받아 제출 양식에 맞게 청원서를 작성하여 국회 사무처 국회 민원 지원 센터에 직접 방문 제출하거나 소개 의원실을 경유하여 제출하는 방식이다.

- ① ㉠은 실질적 평등의 보장을 국가에 요구할 수 있는 권리를 실현하기 위한 방안 중 하나이다.
- ② ㉡은 정책 결정 과정 중 환류에 해당한다.
- ③ ㉢은 ㉣과 달리 국민의 정치적 효능감 향상에 기여할 수 있다.
- ④ ㉣, ㉤ 모두 집단적 정치 참여 유형에 해당한다.
- ⑤ ㉢, ㉣이 ㉤에 비해 공간적 제약을 극복하는 데 유리하다.

**12** 다음 사례에 대한 법적 판단으로 옳은 것은? [3점]

○○ 회사는 갑이 상사의 승인 없이 상품 34개를 임의로 할인 판매했다는 이유로 갑을 해고하였다. 갑은 회사의 해고가 부당 해고라고 판단하여 ㉠ 지방 노동 위원회에 구제 신청을 하였다. ㉡ 지방 노동 위원회는 갑에 대한 해고가 부당 해고라고 판정했으며, 재심을 맡은 ㉢ 중앙 노동 위원회 역시 부당 해고라고 판정하였다. ○○ 회사는 이 판정이 잘못됐다고 중앙 노동 위원회 위원장을 상대로 소송을 냈지만, 1심과 2심 모두 패소하였다. ㉣ △△ 법원은 ○○ 회사가 근로자 갑을 해고한 것은 부당 해고라고 판결한 원심을 인정하여 원고의 상고를 기각하였다. △△ 법원은 실제로 갑이 임의로 할인한 경우는 3회에 불과하고, 피해 금액도 2만 5천 원에 불과해 해고를 하기에는 징계가 과하다고 보았다.

- ① ○○ 회사의 근로 3권 침해 여부가 구제 절차의 쟁점이 되었다.
- ② ㉢은 행정 법원이다.
- ③ 갑은 ㉠, ㉢을 거쳐야만 해고 무효 확인의 소를 제기할 수 있다.
- ④ ㉠에 구제 신청을 한 당사자와 ㉢에 재심을 신청한 당사자는 동일하다.
- ⑤ 해고 처분의 정당성 여부에 대해 ㉢과 ㉣이 동일하게 판단하였다.

▶ 22063-0209

### 13 다음 사례에 대한 법적 판단으로 옳은 것은?

- 갑(17세)은 법정 대리인인 을의 동의 없이 A로부터 고가의 오토바이를 구매하는 계약을 체결하였다.
- 병(16세)은 B로부터 고가의 스마트폰을 구매하는 계약을 체결하였다. B는 병과의 계약 당시 병의 법정 대리인인 정 의 동의를 확인하였다.
- 무(18세)는 C로부터 고가의 스마트 TV를 구매하는 계약을 체결하였다.

- ① A가 계약 당시 갑이 미성년자인 것을 알았다면, A는 갑에게 계약 체결의 의사 표시를 철회할 수 있다.
- ② A가 계약 당시 갑이 미성년자인 것을 몰랐어도 A는 을에게 갑과의 계약을 취소할 것인지 여부에 대한 확답을 촉구할 수 있다.
- ③ 병이 정 의 동의를 위조한 것이라면, 정은 병과 B의 계약을 취소할 수 있다.
- ④ 병이 정 의 동의를 위조하지 않았다면, B는 정에게 계약 체결의 의사 표시를 철회할 수 있다.
- ⑤ 무가 C와의 계약 당시 성년 의제 상태라면, 무는 C와의 계약을 취소할 수 없지만 C는 취소할 수 있다.

▶ 22063-0210

### 14 표는 범죄 성립 요건 중 A, B 조각 사례를 나타낸 것이다. 이에 대한 설명으로 옳은 것은? [3점]

A 조각 사례	(가) 저항할 수 없는 폭력에 의해서 어쩔 수 없이 편의점의 물건을 훔친 경우 (나) 자신을 향해 돌진하는 자동차를 피하려다가 상가 진열장을 파손한 경우 (다) 칼로 자신을 찌르려는 사람에게 저항하는 과정에서 상처를 입힌 행위가 현재의 부당한 법익 침해를 방위하기 위한 상당한 이유가 있는 행위로 인정된 경우
B 조각 사례	(라) 13세인 자가 학교에서 친구를 폭행한 경우 (마) 심신 상실 상태인 자가 지나가던 행인을 폭행한 경우 (바) 회사 동료와 거액의 도박을 하기로 약속을 하고 도박을 한 경우

\*각각의 사례 중 A, B가 조각되지 않는 경우가 하나씩 존재함.

- ① A는 위법 행위를 하였다는 데 대하여 행위자에게 가해지는 비난 가능성이 있다.
- ② 구성 요건에 해당하고 A가 인정되며 B가 조각되는 경우라도 보안 처분의 대상이 될 수 있다.
- ③ (가)는 정당 행위, (나)는 정당방위에 해당하는 사례이다.
- ④ (다), (마)는 모두 범죄 행위에 해당한다.
- ⑤ (라), (바)는 B 조각 사례에 해당한다.

▶ 22063-0211

### 15 다음 사례에 대한 법적 판단으로 옳은 것은? [3점]

갑은 을의 건물 1층을 임차하여 식당을 운영하고 있다. 어느 날 갑의 식당에서 아르바이트 하고 있던 병(17세)이 음식을 나르던 중 음식을 실수로 손님 A에게 었질렀다. A는 자신이 입고 있는 옷이 고가의 제품인데 더 이상 입을 수 없게 되었다며 손해 배상을 청구하려 한다. 한편 갑은 식당 조리 기구가 고장이 나자 B가 운영하는 업체에 맡겼고, B는 직원 C에게 수리를 지시하였다. C는 수리하는 과정에서 실수로 조리 기구를 파손시켰으며, 이에 갑은 일주일 동안 영업을 하지 못하는 손해가 발생하였다.

- ① 을은 A의 손해에 대해 무과실 책임을 진다.
- ② 병의 법정 대리인은 책임 무능력자의 감독자 책임을 진다.
- ③ 갑과 병은 A의 손해에 대해 공동 불법 행위자의 책임을 진다.
- ④ C가 불법 행위 책임을 지지 않으면 B가 불법 행위 책임을 진다.
- ⑤ 갑과 B가 각각 병과 C의 선의 및 사무 감독에 상당한 주의를 다하였음을 증명하면 특수 불법 행위 책임이 면제된다.

▶ 22063-0212

### 16 다음 자료에 대한 설명으로 옳은 것은?

**수업 주제: 우리나라의 지방 자치 단체 기관**

1.

- 구성: 주민의 선거에 의해 선출된 ㉠ 지역구 의원과 ㉡ 비례대표 의원으로 구성
- 지위:

2.

- 구성: 주민의 선거에 의해 선출
- 지위: 지방 자치 단체 대표

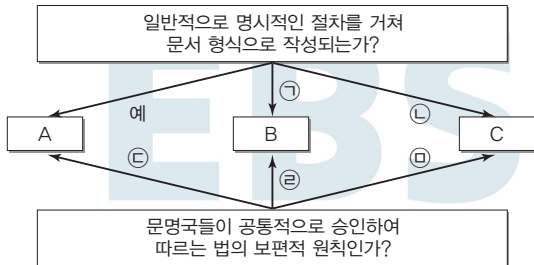
- ① ㉠, ㉡은 모두 주민 소환의 대상이 된다.
- ② '지방 자치 단체의 의결 기관'은 (가)에 들어갈 수 없다.
- ③ A의 주요 의결 사항은 주민 투표로 결정해야 한다.
- ④ B는 집행 기관으로서 법령 또는 조례의 범위에서 규칙을 제정할 수 있다.
- ⑤ B는 지방 자치 단체의 예산에 관한 심의·확정권으로 A를 견제할 수 있다.

**17** 다음 사례에 대한 설명으로 옳은 것은?

갑은 음주 상태에서 1km 구간을 역주행하다가 맞은 편 차량을 들이받고 상대 운전자를 다치게 한 혐의로 구속되었지만, ㉠ 구속 적부 심사 제도를 활용하여 석방되었다. 1심은 ㉡ 도로교통법상 음주 운전 혐의와 ㉢ 교통사고 처리 특례법상 치상 혐의를 모두 인정하여 징역 8월에 집행 유예 2년을 선고하면서, 준법강의 수강 40시간과 사회봉사 명령 120시간도 함께 부과하였다. 하지만 2심은 음주 운전 혐의는 인정하였지만, 치상 혐의는 무죄라고 판단하면서도 음주 운전 전력 등을 인정해 1심과 같은 징역 8월에 집행 유예 2년을 선고하였고, 준법 강의 수강 40시간도 부과하였다. 이후 대법원은 원심의 선고 내용을 확정했다.

- ① ㉠은 공소 제기 이전에 이루어졌다.
- ② ㉡은 형식적 의미의 형법, ㉢은 실질적 의미의 형법이다.
- ③ 1심은 2심과 달리 대안적 제재 수단을 부과하였다.
- ④ 대법원 선고 결과 갑은 형사 보상을 청구할 수 있다.
- ⑤ 갑에게 부과된 선고는 유예 기간을 받은 날로부터 일정 기간이 경과하면 면소된 것으로 간주한다.

**18** 그림은 국제법의 법원(法源) A~C를 질문에 따라 구분한 것이다. 이에 대한 설명으로 옳은 것은? (단, A~C는 각각 조약, 국제 관습법, 법의 일반 원칙 중 하나이다.) [3점]



\*㉠~㉢은 '예' 또는 '아니요' 중 하나이다.

- ① ㉠, ㉡은 '아니요', ㉢은 '예'이다.
- ② 우리나라에서 A에 대한 체결·비준권은 국회가 갖는다.
- ③ 국제기구는 B, C와 달리 A의 당사자가 될 수 없다.
- ④ ㉢이 '예', ㉠이 '아니요'라면, C는 A와 달리 국제 사회의 모든 국가에 대하여 포괄적 구속력을 갖는다.
- ⑤ 신의 성실의 원칙이 B의 사례라면, ㉢은 '아니요', ㉠은 '예'이다.

**19** 민법의 기본 원칙 A, B에 대한 설명으로 옳은 것은?

금전 대차\*에 대한 이자를 A에 따라 당사자 간에 자유롭게 정할 수 있을까? 그렇지 않다. 기본적으로 당사자 간에 이자를 자유롭게 정할 수 있지만 법령에 따라 금전 대차에 관한 계약상의 최고 이자율을 정하고 있다. 따라서 B에 따라 최고 이자율을 초과하는 부분은 무효로 하고 있다.

\*금전 대차: 당사자 한쪽이 금전의 소유권을 상대방에게 이전할 것을 약정하고, 상대방은 일정한 기일에 금전을 반환할 것을 약정함으로써 성립하는 계약

- ① A는 사회적 약자의 보호 필요성이 대두되면서 등장하였다.
- ② A에 따라 소유권 행사는 공공복리에 적합해야 한다고 본다.
- ③ B에 따라 개인의 사유 재산에 대한 절대적 지배권을 인정한다.
- ④ B에 따라 계약 내용이 사회 질서에 반하거나 현저하게 공정성을 잃으면 법적 효력을 인정하지 않는다.
- ⑤ A, B 모두 근대 민법의 기본 원칙이 수정·보완된 원칙이다.

**20** 다음 자료에 대한 설명 및 분석으로 옳지 않은 것은? [3점]

갑국의 의회는 비례 대표 의원 18명으로만 구성되며, 비례 대표 의석은 각 정당이 얻은 의석 할당 정당 득표율에 총의석수를 곱하여 산출된 수의 정수(整數)만큼 의석을 각 정당에 먼저 배분하고, 잔여 의석은 소수점 이하 수가 큰 순서대로 각 정당에 1석씩 배분한다. 단, 정당 득표율 5% 이상을 획득한 정당(의석 할당 정당)에 대해서만 각 정당의 '의석 할당 득표율'에 따라 의석을 배분한다. 각 정당의 의석 할당 득표율은 다음과 같다.

$$\text{각 정당의 의석 할당 득표율(\%)} = (\text{각 정당의 득표수} / \text{모든 의석 할당 정당의 득표수 합}) \times 100$$

표는 최근 갑국 의회 의원 선거 결과에 따른 정당 투표 결과를 나타낸 것이며, 투표율은 100%이고, 무효표는 없다.

구분	A당	B당	C당	D당	E당
(가) 지역	300표	800표	1,000표	900표	0표
(나) 지역	600표	300표	700표	400표	0표
(다) 지역	50표	1,050표	700표	1,100표	100표
(라) 지역	970표	250표	288표	192표	300표
합계	1,920표	2,400표	2,688표	2,592표	400표

갑국은 차기 선거부터 선거 제도를 다음과 같이 변경하고자 한다. 변경안의 경우 현행 선거 결과를 보고 판단하며, 지역구 의원 선거에서 유권자는 자신이 지지하는 정당 후보자에게 투표를 한다.

- 의회 의원 정수는 유지하되 지역구 의원 8명, 비례 대표 의원 10명으로 하며, 비례 대표 의원 선출 방식은 현행과 동일함.
- 지역구 의원 선거는 (가)~(라)의 4개 지역으로 나누어 선거구를 확정하며, 선거구당 선출된 의원 수는 동일함.
- 각 정당은 선거구별로 1명씩만 공천함.

- ① 변경안의 경우 지역구 선거에서 선거구 내 당선자 간 표의 등가성 문제가 나타난다.
- ② B당은 현행보다 변경안이 유리하다.
- ③ D당은 현행, 변경안 모두 정당 득표율이 의석률보다 낮다.
- ④ 변경안이 현행보다 의석이 배분된 정당 수가 많다.
- ⑤ 현행, 변경안 모두 과반 의석을 차지한 정당이 존재하지 않는다.

문항에 따라 배점이 다르니, 각 물음의 끝에 표시된 배점을 참고하시오. 3점 문항에만 점수가 표시되어 있습니다. 점수 표시가 없는 문항은 모두 2점입니다.

▶ 22063-0217

**1** 표는 정치를 바라보는 관점을 파악하기 위한 질문과 답변이다. 좁은 의미로 정치를 바라보는 관점과 넓은 의미로 정치를 바라보는 관점 중 하나의 관점에서 일관되게 응답한 학생은?

구분	갑	을	병	정	무
국가 형성 이전에 나타나는 정치 현상을 설명하는 데 적합한가?	○	○	×	×	×
국무 회의에서 주요 정책을 심의하는 것을 정치로 보는가?	×	○	○	×	○
정치권력을 획득, 유지, 행사하는 국가 고유의 활동만을 정치로 보는가?	○	○	×	○	○
다원화된 현대 사회의 정치 현상을 설명하는 데 적합한가?	×	○	○	○	×
국가의 정치 현상과 사회 집단의 정치 현상은 본질적으로 같다고 보는가?	○	○	×	×	×

(○: 예, ×: 아니오)

- ① 갑    ② 을    ③ 병    ④ 정    ⑤ 무

▶ 22063-0218

**2** 법치주의를 바라보는 갑, 을의 관점에 대한 설명으로 옳은 것은?

이번에 의회에서 통과된 A법에 대해 논란이 많지만 적법한 절차를 거쳐 제정된 법이므로 법의 목적이나 내용과 관계없이 그 법에 따른 정치권력 행사는 인정되어야 합니다.

아닙니다. 비록 A법은 적법한 절차를 거쳐 제정되었지만 법의 목적이나 내용이 인간의 존엄성과 정의에 부합하지 않으므로 그 법에 따른 정치권력 행사는 정당성을 갖기 어렵습니다.



- ① 갑의 관점과 달리 을의 관점은 국가 권력의 자의적 행사 방식을 강조한다.  
 ② 갑의 관점과 달리 을의 관점은 독재 정치를 정당화하는 논리로 악용될 수 있다.  
 ③ 을의 관점과 달리 갑의 관점은 통치의 합법성을 중시한다.  
 ④ 을의 관점과 달리 갑의 관점은 위헌 법률 심사제의 도입을 옹호한다.  
 ⑤ 갑, 을의 관점은 모두 법에 근거하여 국민의 기본권 제한이 이루어져야 한다고 본다.

▶ 22063-0219

**3** 표는 우리나라 헌법의 기본 원리를 정리한 것이다. 이에 대한 옳은 설명만을 <보기>에서 고른 것은?

기본 원리	관련 헌법 내용	실현 방안
A	국가는 균형 있는 국민 경제의 성장 및 안정과 적정한 소득의 분배를 유지하고 ……	• <input type="text"/> (가)
B	<input type="text"/> (나)	• 상호주의 원칙에 따른 외국인의 지위 보장 • <input type="text"/> (다)
C	대한민국의 주권은 국민에게 있고, 모든 권력은 국민으로부터 나온다.	• <input type="text"/> (라)

【 보기 】

- ㄱ. (가)에 ‘최저 임금제 실시’가 들어갈 수 없다.  
 ㄴ. (나)에 ‘헌법에 의하여 체결·공포된 조약과 일반적으로 승인된 국제 법규는 국내법과 같은 효력을 가진다.’가 들어갈 수 있다.  
 ㄷ. (다)에 ‘모든 전쟁을 부인함’이 들어갈 수 있다.  
 ㄹ. (라)에 ‘언론·출판·집회·결사의 자유 보장’이 들어갈 수 있다.

- ① ㄱ, ㄴ    ② ㄱ, ㄷ    ③ ㄴ, ㄷ    ④ ㄴ, ㄹ    ⑤ ㄷ, ㄹ

▶ 22063-0220

**4** 우리나라 헌법 기관 A~E에 대한 설명으로 옳은 것은?

- A는 국가 세입·세출의 결산 감사권, B는 국가 세입·세출의 결산 심사권을 갖는다.
- 상고심을 관할하는 C의 장(長)은 D가 임명한다.
- 위헌 정당 해산 심판을 담당하는 E의 재판관은 9명으로 구성된다.

- ① A는 D의 직속으로 국정 감사권을 갖는다.  
 ② B는 탄핵 소추권, E는 탄핵 심판권을 갖는다.  
 ③ B는 국가 예산안을 편성하고, A는 국가 예산안을 심의 및 확정한다.  
 ④ B는 A의 장(長), C의 장(長) 및 E의 재판관 9인의 임명에 대한 동의권을 갖는다.  
 ⑤ E는 위헌·위법한 명령, 규칙, 처분에 대한 최종 심사권을 갖는다.



**5** 다음 자료에 대한 설명으로 옳은 것은? (단, A~C는 각각 사회권, 자유권, 청구권 중 하나이다.) [3점]

[게임 규칙] 기본권 유형 A~C의 특징이 적혀 있는 카드가 6장 있으며, 각각 3장씩 카드를 선택할 수 있다. 카드에 적혀 있는 내용이 A~C 중 1개의 특징에만 해당하면 1점, 2개의 공통된 특징에 해당하면 2점, 3개의 공통된 특징에 해당하면 3점을 얻는다. A~C 중 어느 하나의 기본권 유형의 특징에도 해당되지 않으면 1점을 감점한다. 3장의 카드로 획득한 총점이 높은 사람이 이긴다.

[카드 내용]

〈카드 1〉 법률로 제한할 수 있음	〈카드 2〉 (가)	〈카드 3〉 적극적 권리임
〈카드 4〉 헌법에 열거되지 않아도 보장될 수 있음	〈카드 5〉 (나)	〈카드 6〉 다른 기본권 보장의 전제 조건이 됨

[선택한 카드]

갑	을	병	정	무
1, 2, 3	1, 3, 4	2, 3, 4	3, 4, 6	4, 5, 6

- ① (가)에 '국가의 존재를 전제로 인정되는 권리임'이 들어가면, 병의 총점과 정의 총점은 같다.
- ② (가)에 '기본권 보장을 위한 수단적 성격의 권리임'이 들어가면, 갑의 총점이 을의 총점보다 1점 높다.
- ③ (나)에 '국가의 정치 과정에 참여할 수 있는 권리임'이 들어가면, 무의 총점은 0점이다.
- ④ (나)에 '소극적·방어적 권리임'이 들어가면 을의 총점은 무의 총점보다 6점 높다.
- ⑤ 〈카드 2〉가 3점, 〈카드 5〉가 3점이라면, 갑~무 중 정의 총점이 가장 낮다.

**6** 다음 사례에 대한 옳은 설명만을 <보기>에서 고른 것은?

○○ 회사에 다니는 갑, 을은 ○○ 회사의 노동조합에 가입한 후 얼마 지나지 않아 ○○ 회사로부터 해고를 통보받았다. 갑의 해고 사유는 '근무 태만'이고, 을의 해고 사유는 '○○ 회사 노동조합의 파업 주도'이다. 갑과 을은 자신의 해고가 부당하다고 판단하여 권리 구제 절차를 진행하려고 한다.

【 보기 】

- ㄱ. 을과 달리 갑은 해고 무효 확인 소송을 제기할 수 있다.
- ㄴ. ○○ 회사의 노동조합은 갑의 해고와 달리 을의 해고에 대해서 지방 노동 위원회에 구제 신청을 할 수 있다.
- ㄷ. 갑, 을 모두 지방 노동 위원회에 구제 신청을 할 수 있다.
- ㄹ. 갑, 을 모두 중앙 노동 위원회의 재심 결정에 불복하는 상황이라면 ○○ 회사를 상대로 행정 소송을 제기할 수 있다.

- ① ㄱ, ㄴ    ② ㄱ, ㄷ    ③ ㄴ, ㄷ    ④ ㄴ, ㄹ    ⑤ ㄷ, ㄹ

**7** 밑줄 친 ㉠~㉣에 대한 설명으로 옳지 않은 것은?

- ㉠○○군수는 새로운 군청 청사 이전 대상지를 ㉡주민 투표로 확정하기로 하였다.
- □□시의 주민들은 지속 가능한 생태 도시 조성을 위해 시민의 삶과 일상까지 생태 친화적으로 변화시키는 것을 내용으로 한 ㉢조례 제정을 청구하였다.
- ㉣◇◇군의 주민들은 지방 선거 당시 내세웠던 공약을 성실히 이행하지 않는 ◇◇군수에 대해 ㉤주민 소환을 추진하고 있다.

- ① ㉠은 규칙 제정권을 갖는다.
- ② ㉡, ㉢은 직접 민주제의 요소에 해당한다.
- ③ ㉣은 지방 의회의 권한이다.
- ④ ㉤의 지방 의회 지역구 의원은 소선거구제에서 선출된다.
- ⑤ 비례 대표 의원을 제외한 지방 의회 의원은 ㉤의 대상이 된다.

**8** 밑줄 친 ㉠~㉣에 대한 설명으로 옳지 않은 것은? [3점]

갑은 자동차 운전 중 휴대 전화를 사용한 혐의로 경찰로부터 범칙금 통고서를 받았지만 이를 납부하지 않아 기소되었다. 갑은 재판장을 받던 중 법원에 ㉠위헌 법률 심판 제청을 신청했으나 기각되자 ㉡도로 교통법 제49조 제1항 제10호 등에 대해 ㉢헌법 소원 심판을 청구했다. 도로 교통법 제49조 제1항 제10호는 운전자 준수 사항 중 하나로 긴급 자동차 운전 시 등을 제외하고는 운전 중 휴대 전화(자동차용 전화 포함) 사용을 금지하고 있다. 헌법 재판소는 "국민의 생명·신체·재산 보호라는 입법 목적의 달성을 위해서는 운전 중 휴대 전화 사용을 원칙적으로 금지할 필요가 있으며, 긴급 자동차를 운전하는 경우 등에는 휴대 전화를 이용할 수 있도록 정하고 있어 휴대 전화 사용 금지로 인한 불편함은 최소화되고 있다. 또한 도로 교통법 관련 조항으로 청구인은 운전 중 휴대 전화 사용의 편익을 누리질 못하고 위반할 경우 20만 원 이하의 벌금 등에 처해질 수 있으나 이러한 부담은 크지 않다. 이에 비해 교통사고 발생을 줄임으로써 보호되는 국민의 생명·신체·재산 등 공익은 중대하다."라며 ㉣합헌 결정을 하였다.

- ① 절차상으로 ㉠이 없어도 법원은 헌법 재판소에 위헌 법률 심판 제청을 할 수 있다.
- ② ㉠이 법원에서 인용되었다면 헌법 재판소에서 위헌 법률 심판이 이루어졌을 것이다.
- ③ ㉡은 실질적 의미의 형법에 해당한다.
- ④ ㉢은 위헌 심사형 헌법 소원 심판이다.
- ⑤ ㉣로 보아 헌법 재판소는 도로 교통법 해당 조항이 과잉 금지의 원칙에 어긋난다고 판단하였다.

▶ 22063-0225

### 9 다음 자료에 대한 설명으로 옳은 것은? (단, A~C는 각각 시민 단체, 이익 집단, 정당 중 하나이다.)

- ‘공직 선거에서 후보자를 공천하는가?’라는 질문에 대해 A의 응답 내용은 ‘아니요’이다.
- ‘집단의 특수 이익보다 공익을 우선시하는가?’라는 질문에 대해 B의 응답 내용은 ‘아니요’이다.
- 라는 질문에 대해 A의 응답 내용은 C와 달리  이다.

- ① A와 달리 B는 비영리성, 비당파성을 특징으로 한다.
- ② B와 달리 C는 대의 정치의 한계를 보완하는 역할을 한다.
- ③ A~C는 정치 과정에서 산출 기능을 담당한다.
- ④ (가)에 ‘정부와 의회를 매개하는 역할을 하는가?’가 들어가면, ㉠은 ‘아니요’이다.
- ⑤ (가)에 ‘자신들의 활동에 대해 정치적 책임을 지는가?’가 들어가면, ㉠은 ‘예’이다.

▶ 22063-0226

### 10 다음 사례에 대한 법적 판단으로 옳은 것은?

- 갑(22세)은 심신 상실의 상태에서 부모님이 물려준 고가의 귀금속을 A에게 판매하는 계약을 체결하였다.
- 을(17세)은 법정 대리인인 부모의 동의를 얻지 않은 상태에서 부모의 동의서를 위조하여 전자 제품 매장에서 고가의 노트북을 구매하는 계약을 판매업자 B와 체결하였다.
- 병(16세)은 법정 대리인인 부모의 동의 없이 오토바이 매장에서 고가의 오토바이를 구매하는 계약을 판매업자 C와 체결하였는데, 계약 체결 당시 C는 병이 미성년자임을 알았다.
- 정(15세)은 법정 대리인인 부모의 동의하에 자전거 매장에서 고가의 자전거를 구매하는 계약을 판매업자 D와 체결하였는데, 이 계약은 D의 사기에 의해 체결된 것이다.

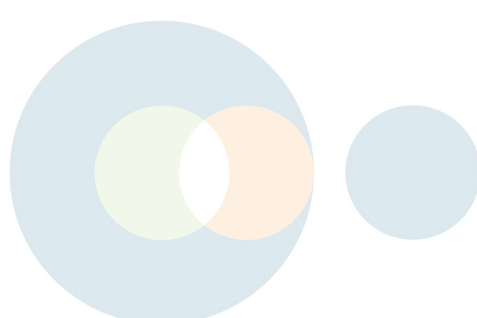
- ① 갑이 체결한 계약과정이 체결한 계약은 모두 무효이다.
- ② 을과 달리 을의 부모는 계약을 취소할 수 있다.
- ③ C는 계약 체결의 의사 표시를 철회할 수 있다.
- ④ 병과 병의 부모는 계약을 취소할 수 있다.
- ⑤ D는 계약을 취소할 수 있다.

▶ 22063-0227

### 11 다음 자료에 대한 설명으로 옳지 않은 것은? [3점]

형성 평가		
다음 각 사례에 대한 법적 판단을 각각 2가지씩 쓰시오. (단, 법적 판단이 옳으면 1개당 1점이며, 총점은 6점이다.)		
사례	법적 판단	점수
갑이 운영하는 식당에서 아르바이트를 하는 을(17세)은 실수로 뜨거운 음식을 손님 A에게 쏟아 화상을 입혔다.	<ul style="list-style-type: none"> <li>• 을의 행위가 불법 행위로 성립해야 A는 갑에게 사용자의 배상 책임을 물을 수 있다.</li> <li>• <input type="text" value="(가)"/></li> </ul>	1점
병(12세)은 길가에 주차되어 있는 B의 차량에 돌을 던져 차량을 훼손하였다.	<ul style="list-style-type: none"> <li>• 병이 책임 능력이 없다면 B는 병의 감독자인 부모에게 일반 불법 행위 책임을 물을 수 있다.</li> <li>• <input type="text" value="(나)"/></li> </ul>	㉠
정은 무의 건물을 임차하여 식당을 개업하였는데 건물에 부착되어 있던 식당의 창틀이 떨어져 C가 다쳤다.	<ul style="list-style-type: none"> <li>• C의 손해에 대해 정이 1차적 책임을 진다.</li> <li>• <input type="text" value="(다)"/></li> </ul>	㉡
총점		3점

- ① ㉠이 ‘1점’이면, (나)에 ‘병이 책임 능력이 있다면 B는 병에게 손해 배상 책임을 물을 수 있다.’가 들어갈 수 있다.
- ② ㉠이 ‘1점’이면, (다)에 ‘정이 자신에게 과실이 없음을 증명하면 C는 손해 배상을 받을 수 있는 방법이 없다.’가 들어갈 수 있다.
- ③ ㉡이 ‘2점’이면, (다)에 ‘정이 면책되면 C의 손해에 대해 무는 무과실 책임을 진다.’가 들어갈 수 없다.
- ④ (가)에 ‘을의 행위가 불법 행위로 성립하면, A는 을의 부모에게 일반 불법 행위 책임을 물을 수 있다.’가 들어갈 수 없다.
- ⑤ (가)에 ‘을의 행위가 불법 행위로 성립하면, 갑과 을은 특수 불법 행위 중 공동 불법 행위자의 책임을 진다.’가 들어갈 수 있다.



**12** (가)~(라)에 들어갈 수 있는 옳은 법적 판단만을 <보기>에서 고른 것은? [3점]

<사례> 갑과 을은 혼인 신고 후 A와 B를 낳고 살다가 이혼하였고, A는 갑이, B는 을이 양육하기로 하였다. 갑은 혼인 신고를 하지 않은 상태로 병과 살다가 둘 사이에 C가 태어났고, 갑, 병과 C 사이에는 친자 관계가 형성되었으나, 병은 A를 입양하지 않았다. 을은 정과 혼인 신고를 하였고 둘 사이에 D가 태어났으며, 정은 B를 친양자로 입양하였다.

<상황에 따른 법적 판단>

상황	법적 판단
갑이 유언 없이 사망한 경우	(가)
을이 유언 없이 사망한 경우	(나)
병이 모든 재산을 C에게 물려준다는 내용의 유효한 유언을 남기고 사망한 경우	(다)
정이 모든 재산을 ○○ 복지 재단에 물려준다는 내용의 유효한 유언을 남기고 사망한 경우	(라)

\*갑~정은 각각 10억 원씩의 상속 재산을 남기고 사망하였음.

보기

- ㄱ. (가)-A, C는 각각 10억 원의 1/2씩 상속받는다.
- ㄴ. (나)-법정 상속권자는 A, B, D, 정 4명뿐이다.
- ㄷ. (다)-갑은 C에게 유류분 반환을 청구할 수 있다.
- ㄹ. (라)-유류분 반환을 청구할 수 있는 사람은 을, D 2명뿐이다.

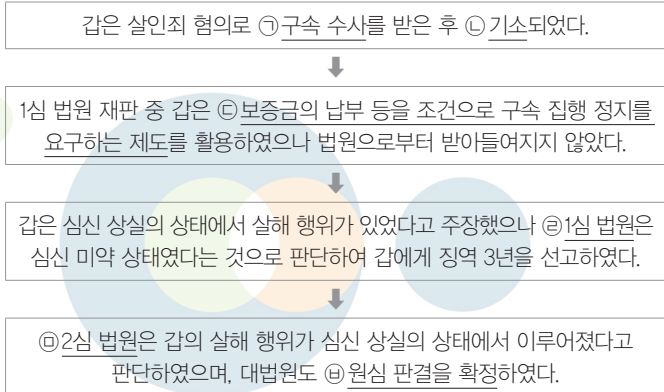
- ① ㄱ, ㄴ    ② ㄱ, ㄷ    ③ ㄴ, ㄷ    ④ ㄴ, ㄹ    ⑤ ㄷ, ㄹ

**13** 밑줄 친 ㉠, ㉡에 대한 설명으로 옳은 것은?

- 갑과 을은 혼인 후 병을 낳고 살고 있었으나 을이 사업 실패 후 도박에 빠져 가정에 소홀하게 되었다. 이에 갑은 을에게 이혼을 요구하였고, 을이 이를 받아들여 ㉠이혼을 하게 되었다.
- A와 B는 혼인 후 C를 낳고 살고 있었으나 B가 사업 실패 후 잦은 음주를 하고 급기야 A와 C를 폭행하기까지 했다. 이에 A는 B에게 이혼을 요구하였으나 거부하자 이혼 청구 소송을 제기하였고, 법원의 판결로 ㉡이혼을 하게 되었다.

- ① ㉠ 이후 을이 병에 대한 양육권과 친권을 갖는다면 갑과 병은 면접 교섭권을 갖는다.
- ② ㉡으로 인해 A, B, C 간에 형성되었던 친족 관계는 모두 종료된다.
- ③ ㉠과 달리 ㉡에서는 원칙적으로 이혼 숙려 기간을 거쳐야 한다.
- ④ ㉡과 달리 ㉠에서는 이혼 귀책 사유가 있는 배우자에게 손해 배상을 청구할 수 없다.
- ⑤ ㉠, ㉡의 효력은 모두 행정 기관에 이혼 신고를 한 때에 발생한다.

**14** 밑줄 친 ㉠~㉣에 대한 설명으로 옳지 않은 것은? [3점]



- ① ㉠을 위해서는 검사의 청구로 법관이 발부한 영장이 필요하다.
- ② ㉡에도 불구하고 ㉢ 이전까지는 갑에게 무죄 추정의 원칙이 적용된다.
- ③ ㉢은 구속 적부 심사 제도이다.
- ④ ㉢은 갑에 대해 노역이 부과되는 자유형을 선고하였다.
- ⑤ ㉣은 갑의 행위에 대해 책임이 조각되는 사유에 해당한다고 판단하였다.

### 15 다음은 판결문의 일부를 나타낸 것이다. 이에 대한 옳은 설명만을 <보기>에서 있는 대로 고른 것은? [3점]

【상 고 인】 ㉠피고인 갑  
 【변 호 인】 을  
 【원심 판결】 ㉡○○ 지방 법원 2020. ××. ××. 선고 2019노×××× 판결  
 【주 문】 ㉢상고를 기각한다.  
 【이 유】 상고 이유를 판단한다.  
 1. ㉣도로 교통법 음주 운전 처벌 조항이 죄형 법정주의의 파생 원칙 중 (가)에 위반되는지 여부  
 도로 교통법 제44조 제1항에서 누구든지 술에 취한 상태에서 자동차 등 노면 전차 또는 자전거를 운전해서는 안 된다고 정하고, 개정된 도로 교통법 제148조의2 제1항은 ‘도로 교통법 제44조 제1항 또는 제2항을 2회 이상 위반한 사람’을 2년 이상 5년 이하의 징역이나 1,000만 원 이상 2,000만 원 이하의 벌금에 처하도록 정하고 있다. 위 규정의 문언과 입법 취지에 비추어 ‘도로 교통법 제44조 제1항 또는 제2항을 2회 이상 위반한 사람’에 위와 같이 개정된 도로 교통법이 시행된 2019. 6. 25. 이전에 구 도로 교통법 제44조 제1항 또는 제2항을 위반한 전과가 포함된다고 보아야 한다. 이와 같이 해석하더라도 (가)이나 일사 부재리의 원칙에 위배되지 않는다.

【 보 기 】  
 가. (가)에는 ‘소급효 금지의 원칙’이 들어갈 수 있다.  
 나. ㉠은 ㉢에 대해 헌법 재판소에 헌법 소원 심판을 청구할 수 없다.  
 다. ㉡으로 보아 1심은 지방 법원 합의부가 담당했을 것이다.  
 라. ㉢은 실질적 의미의 형법에 해당한다.

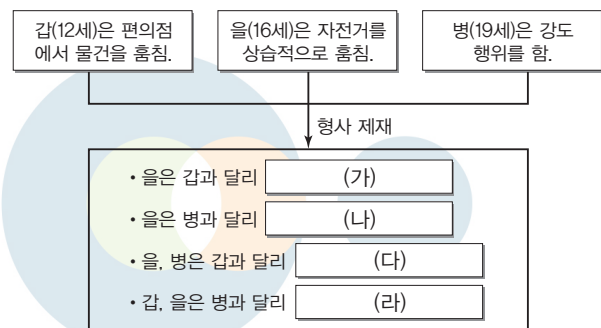
- ① 가, 다                      ② 가, 라                      ③ 나, 다
- ④ 가, 나, 라                ⑤ 나, 다, 라

### 16 밑줄 친 ㉠~㉣에 대한 설명으로 옳은 것은? [3점]

헌법 재판소는 폭행 혐의로 검찰에서 ㉠기소 유예 처분을 받은 갑이 기소 유예 처분은 위헌이라며 낸 ㉡헌법 소원 심판에서 ㉢재판관 전원 일치 의견으로 인용하였다. 갑과 을은 지하철 내에서 실랑이를 벌이다가 갑이 을을 폭행 혐의로 신고하였다. 이에 을이 현장을 떠나려 하자 오른손으로 그의 겨드랑이와 가슴 사이 옷을 잡았다. 이 행동에 대해 을이 갑을 폭행 혐의로 고소하였고, 이에 검찰은 갑의 폭행 혐의에 대해 기소 유예 처분을 했다. 한편 을은 폭행 혐의로 ㉣벌금형을 받았다. 헌법 재판소는 “갑이 을의 옷을 잡고 현장에서 이탈하지 못하도록 한 행위는 ㉤사회 상규에 위배되지 아니하는 행위에 해당한다.”라고 판단하였다.

- ① ㉠으로 인해 갑에 대한 형사 재판이 진행되었을 것이다.
- ② ㉡은 위헌 심사형 헌법 소원 심판이다.
- ③ ㉢으로 인해 갑은 무죄 판결을 받게 된다.
- ④ ㉣은 구금을 전제로 하지 않는 자유형에 해당한다.
- ⑤ ㉤으로 보아 헌법 재판소는 갑의 행위가 위법성 조각 사유 중 정당 행위에 해당한다고 판단하였다.

### 17 (가)~(라)에 들어갈 수 있는 옳은 내용만을 <보기>에서 있는 대로 고른 것은? [3점]



【 보 기 】  
 가. (가)–형벌을 받을 수 있다.  
 나. (나)–소년법상 보호 처분을 받을 수 있다.  
 다. (다)–기소 유예 처분을 받을 수 있다.  
 라. (라)–경찰서장이 가정 법원 소년부로 송치할 수 있다.

- ① 가, 다                      ② 가, 라                      ③ 나, 라
- ④ 가, 나, 다                ⑤ 나, 다, 라

### 18 다음 자료에 대한 설명으로 옳은 것은?

교사: 국제 연합의 주요 기관 A~C에 대해 발표해 보세요.  
 갑: A는 모든 회원국이 참여하는 최고 의결 기관입니다.  
 을: B의 비상임 이사국은 C에서 정기적으로 선출됩니다.  
 병:  (가)  
 정: B, C는 A의 재판관을 선출하는 권한을 갖습니다.  
 교사: 3명만 옳게 발표했어요.

- ① 옳게 답한 3명의 학생은 갑, 병, 정이다.
- ② A는 원칙적으로 국가 간 법적 분쟁에 대하여 강제적 관할권을 가진다.
- ③ C는 국제 평화와 안전의 책임을 지고 있는 실질적 의사 결정 기관이다.
- ④ (가)에 'B와 달리 C의 표결 방식은 1국 1표주의가 적용됩니다.'가 들어갈 수 있다.
- ⑤ (가)에 'B의 상임 이사국의 거부권 행사는 현실주의적 관점으로 설명할 수 있습니다.'가 들어갈 수 있다.

### 20 다음 자료에 대한 설명으로 옳지 않은 것은? [3점]

갑국 의회는 단순 다수 대표제로 선출된 지역구 의원 8명으로 구성되어 있으며, 각 정당은 선거구당 1명씩만 후보자를 공천할 수 있다. 다음은 갑국의 최근 의회 의원 선거 결과이다.

〈최근 의회 의원 선거 결과〉 (단위: %)

구분	A당	B당	C당	D당	E당
1선거구	10	15	30	40	5
2선거구	15	40	30	15	0
3선거구	20	25	20	15	20
4선거구	15	5	15	45	20
5선거구	20	25	45	5	5
6선거구	30	40	15	15	0
7선거구	30	45	10	15	0
8선거구	25	20	50	5	0

\*투표율은 100%이고, 무효표는 없으며, 출수 선거구의 유권자 수는 각 200명씩이고, 짝수 선거구의 유권자 수는 각 100명씩임.

갑국에서는 다음과 같이 선거 제도를 개편하려고 한다. 개편안의 경우 최근 의회 의원 선거 결과를 토대로 판단한다.

〈1안〉 의회 의원 정수 8석은 유지한 상태에서 선거구를 4개로 줄이며, 선거구당 당선자 수를 같게 한다. 단, 선거구는 1-2, 3-4, 5-6, 7-8 선거구로 나눈다. 각 정당은 선거구당 1명씩만 후보자를 공천할 수 있다.

〈2안〉 비례 대표 의원만 8명을 선출하되 전국 단위의 정당 투표를 통한 정당 득표율 7%를 초과하는 정당(이하 의석 할당 정당)에게 다음과 같은 방식에 따라 배분한다.

$$\text{각 의석 할당 정당 득표율(\%)} = (\text{각 의석 할당 정당 득표수} / \text{모든 의석 할당 정당의 득표수 합}) \times 100$$

각 의석 할당 정당의 의석 할당 정당 득표율에 비례 대표 의석수를 곱하여 산출된 수의 정수(整數)만큼 의석을 각 의석 할당 정당에 먼저 배분하고, 이후 잔여 의석은 소수점 이하의 수가 큰 순서대로 각 의석 할당 정당에 1석씩 배분한다.

- ① 〈1안〉의 지역구 선거구제에서는 지역구 의석수의 50%를 초과하는 정당이 나타날 수 없다.
- ② A당은 현행에 비해 〈1안〉과 〈2안〉 모두 유리하다.
- ③ C당은 현행, 〈1안〉, 〈2안〉 모두 의석률이 같다.
- ④ E당은 현행, 〈1안〉, 〈2안〉 중 〈1안〉이 가장 유리하다.
- ⑤ 현행에서 B당과 달리 D당은 과대 대표된다.

### 19 다음 자료에 대한 설명으로 옳은 것은? (단, 갑국은 전형적인 정부 형태를 채택하고 있다.) [3점]

〈갑국의 정치 상황 변화〉

구분	T대	T+1대	T+2대	T+3대
의회 제1당	A당	A당	B당	B당
행정부 수반 소속 정당	A당	B당	B당	A당
과반수 의석 정당	A당	A당	없음	없음

\*T대~T+3대 중 정부 형태는 1회 바뀌었으며, 연립 내각은 1회 구성되었음.

- ① T대와 달리 T+1대에는 행정부 수반의 법률안 거부권이 인정된다.
- ② T+1대와 달리 T+2대에는 의회의 내각 불신임권이 인정된다.
- ③ T+2대와 달리 T+3대에는 행정부 수반이 의회에서 선출된다.
- ④ T+3대와 달리 T대에는 행정부 수반의 법률안 제출권이 인정된다.
- ⑤ T대~T+3대 중 여소야대 현상은 1회 나타난다.

문항에 따라 배점이 다르니, 각 물음의 끝에 표시된 배점을 참고하시오. 3점 문항에만 점수가 표시되어 있습니다. 점수 표시가 없는 문항은 모두 2점입니다.

▶ 22063-0237

**1** 다음은 정치의 의미에 대한 대화이다. (가), (나)에 들어갈 차례로 옳은 것은?

갑: 정치란 정치권력을 획득·유지·행사하는 활동으로 국가 고유의 활동입니다. 따라서  (가) 와/과 달리  (나) 은/는 정치로 볼 수 없습니다.  
 을: 그렇지 않습니다. 정치란 이해관계의 대립이나 갈등을 조정하고 해결해 가는 활동으로 모든 사회 집단에서 나타날 수 있습니다. 따라서  (가) 와/과  (나) 은/는 모두 정치라고 볼 수 있습니다.

	(가)	(나)
①	국회의 공직 선거법 개정안 의결	정부의 재난 지원금 집행
②	교내 댄스 동아리의 곡 선정 및 역할 배분	학급 내 스마트폰 이용 자율 실천 규칙 제정
③	아파트 도색 디자인 선정을 위한 입주민 투표	국회의 공직 선거법 개정안 의결
④	학급 내 스마트폰 이용 자율 실천 규칙 제정	교내 댄스 동아리의 곡 선정 및 역할 배분
⑤	정부의 재난 지원금 집행	아파트 도색 디자인 선정을 위한 입주민 투표

▶ 22063-0238

**2** 법치주의의 유형 A, B에 대한 설명으로 옳은 것은?

‘의회에서 제정된 법률에 따라 국가의 통치 행위가 이루어진다.’라고 할 때  A 은/는 법률이 적법한 절차를 거쳐 제정된 것이라면 이에 따른 통치 행위를 문제 삼지 않는다. 하지만  B 은/는 국가의 통치 행위가 인정되기 위해서는 해당 통치 행위의 근거가 되는 법률이 절차적 적법성을 갖출 뿐만 아니라 법률의 목적과 내용도 국민의 기본권 보장이라는 헌법의 이념에 부합해야 한다고 본다.

- A는 국가의 통치 행위가 형식적 합법성뿐만 아니라 실질적 정당성도 갖추어야 한다고 본다.
- 위헌 법률 심사제는 B의 실현을 위한 제도이다.
- 국가의 통치 행위가 독재 정치에 해당할 경우 B는 이를 정당화하는 논리로 악용될 수 있다.
- A와 달리 B는 국민의 기본권을 제한하는 국가의 통치 행위는 법률에 근거해야 한다고 본다.
- B와 달리 A는 인치(人治)를 강조한다.

▶ 22063-0239

**3** 밑줄 친 ‘헌법 조항’에 해당하는 내용으로 가장 적절한 것은?

우리나라 헌법의 기본 원리 중 A는 국민의 의사에 따라 국가 권력의 조직 및 국가 의사 결정이 이루어져야 한다는 것을 의미하는데, 이를 위해서는 국민이 정치 과정에 참여하는 기회가 폭넓게 보장될 것이 요구되며, 그중 대표적인 것이 선거권의 보장이다. 헌법 제24조는 모든 국민에게 ‘법률이 정하는 바에 의하여 선거권을 보장하고 있는데, 이것은 선거권을 제한하기 위한 것이라기보다 이를 실현하고 보장하기 위한 것이다. 그러므로 선거권의 내용과 절차를 법률로 규정하는 경우에도 A를 선언하고 있는 헌법 조항에 부합해야 하며, 필요하고 불가피한 예외적인 경우에만 그 제한이 정당화될 수 있다.

- 모든 국민은 신체의 자유를 가진다.
- 모든 국민은 인간다운 생활을 할 권리를 가진다.
- 외국인은 국제법과 조약이 정하는 바에 의하여 그 지위가 보장된다.
- 대한민국의 주권은 국민에게 있고, 모든 권력은 국민으로부터 나온다.
- 국가는 전통문화의 계승·발전과 민족 문화의 창달에 노력하여야 한다.

▶ 22063-0240

**4** 다음 자료에 대한 설명으로 옳은 것은? (단, 갑국과 을국의 정부 형태는 각각 전형적인 대통령제, 의원 내각제 중 하나이다.)

[3점]

• 갑국의 최근 의회 의원 선거에서 과반 의석을 확보한 A당은 행정부 수반이 추진 중인 정책에 제동을 거는 ○○ 법률안을 의회에서 의결하였고, 이에 행정부 수반은 법률안 거부권을 행사하였다.  
 • 을국의 행정부는 △△ 법률안을 발의하였으나 야당뿐만 아니라 행정부 수반의 소속 정당인 B당 내에서도 해당 법률안에 대해 반대하는 의원들이 많아 결국 해당 법률안은 부결되었다.

- 갑국에서 A당은 행정부 수반을 견제하기 위해 내각 불신임을 추진할 수 있다.
- 을국에서 B당 소속 의원은 행정부 각료를 겸직할 수 없다.
- 갑국과 달리 을국의 행정부 수반은 임기가 보장된다.
- 갑국과 달리 을국의 행정부 수반은 국민에 의해 직접 선출된다.
- 을국과 달리 갑국의 행정부 수반은 국가 원수와 동일인이다.

▶ 22063-0241

**5 기본권 유형 A, B에 대한 설명으로 옳은 것은?**

갑은 판결이 확정된 뒤 사유를 안 날로부터 30일 이내에 재심을 제기하도록 한 민사 소송법 제456조 제1항이 자신의 A와 B를 침해한다며 헌법 소원 심판을 청구하였다. 이에 대해 헌법 재판소는 이미 소를 제기하였던 당사자는 소송상 제출된 내용에 대한 검토를 마친 상태이므로 30일이라는 재심 제기 기간이 민사 소송 당사자의 재심 제기를 어렵게 하여 A를 침해한다고 볼 수 없다고 판단하였다. 또한 형사 소송법과 민사 소송법은 그 제도적 성격이나 취지가 상이하며, 심판 대상 조항이 확정 판결을 받은 당사자의 법적 불안 상태가 장기간 계속되는 것을 방지함을 감안한다면 그 차별 취급에 합리적 이유가 있으므로 민사 소송 당사자의 B를 침해하지 않는다고 판단하였다.

- ① A는 다른 기본권을 보장하기 위한 수단적·절차적 권리이다.
- ② B는 선천적·후천적 차이를 고려하지 않고 동등하게 대우되어야만 보장되는 권리이다.
- ③ A와 달리 B는 인간다운 생활을 국가에 요구할 수 있는 적극적 권리이다.
- ④ B와 달리 A는 헌법에 열거되지 않아도 보장받을 수 있는 포괄적 권리이다.
- ⑤ A, B는 모두 국가 권력의 부당한 침해를 배제하는 방어적 권리이다.

▶ 22063-0242

**6 다음 자료에 대한 설명으로 옳은 것은? [3점]**

㉠〇〇시 사무의 민간 위탁 촉진 및 관리 조례에 따르면 A가 자치 사무를 민간 위탁할 때 B의 동의를 얻도록 규정하고 있다. 그런데 A가 B의 동의 없이 □□ 복지 재단과 위탁 갱신 계약을 체결하자 B는 A가 B의 동의권 및 의결권을 침해한 것이라며 해당 계약의 무효 확인을 구하는 권한 쟁의 심판을 청구하였다. 이에 대해 헌법 재판소는 지방 자치 단체의 집행 기관인 A와 의결 기관인 B 간의 내부적 분쟁은 헌법 재판소가 관장하는 지방 자치 단체 상호 간의 권한 쟁의 심판의 범위에 속하지 아니한다며 이 사건의 심판 청구를 각하하였다.

- ① A는 지방 의회, B는 지방 자치 단체장이다.
- ② A는 ㉠을 폐지할 수 있는 권한을 가진다.
- ③ B는 〇〇시 예산안의 심의·확정권을 가진다.
- ④ 헌법 재판소는 A의 권한 행사가 B의 권한을 침해한 것이 아니라고 판단하였다.
- ⑤ 〇〇시 주민은 A의 직을 상실하도록 하는 주민 소환을 하기 위해 B의 의결을 거쳐야 한다.

▶ 22063-0243

**7 우리나라 국가 기관 A~D에 대한 설명으로 옳은 것은? [3점]**

A와 B, 그리고 국무 위원으로 구성된 국무 회의는 행정부 최고의 심의 기관이다. 그런데 국무 회의의 구성원이 직무 집행에 있어 헌법이나 법률을 위배한 때에 C는 탄핵의 소추를 의결할 수 있다. 이후 해당 국무 회의 구성원의 파면 여부는 탄핵 심판을 담당하는 D가 결정하는데, D의 장(長)은 C의 동의를 얻어 A가 임명한다. 한편 B는 국무 위원의 해임을 A에게 건의할 수 있다.

- ① B는 국무 회의의 의장이며 행정 각부를 통할한다.
- ② D는 위헌·위법한 명령과 규칙 및 처분이 재판의 전제가 된 경우 이를 최종적으로 심사할 권한을 가진다.
- ③ D의 재판관 중 3인은 C에서 선출한다.
- ④ C의 장(長)과 D의 장(長)은 모두 탄핵 소추의 대상이 될 수 있다.
- ⑤ 국무 위원은 B의 제청으로 C의 동의를 얻어 A가 임명한다.

▶ 22063-0244

**8 다음 자료는 우리나라 입법 과정을 설명한 것이다. 이에 대한 설명으로 옳은 것은?**

- 국회 재적 의원 과반수 또는 대통령의 발의로 제안된 A는 20일 이상의 기간을 ㉠공고해야 하며, 국회는 A가 공고된 날부터 60일 이내에 의결해야 한다. A는 국회가 ㉡의결한 후 30일 이내에 국민 투표를 거쳐 확정되며, 대통령이 이를 공포한다.
- 국회 의원과 정부는 B를 제출할 수 있다. 제출된 B가 상임 위원회 심사를 거쳐 ㉢본회의에 상정되면 재적 의원 과반수의 출석과 출석 의원 과반수의 찬성으로 ㉣의결된다. 본회의에서 B가 의결되면 정부로 이송되어 대통령이 공포한다.

- ① 헌법 재판소는 A를 제안할 수 있다.
- ② 국회의 위원회는 B를 제출할 수 있다.
- ③ 정부로 이송된 B에 대해 대통령은 재의를 요구할 수 없다.
- ④ ㉠과 ㉡은 모두 국회 의장이 한다.
- ⑤ ㉢과 달리 ㉣을 위해 국회 재적 의원 과반수의 찬성이 필요하다.

▶ 22063-0245

**9** (가)~(마)는 미세 먼지 대책을 둘러싼 정치 과정의 일부분이다. 이에 대한 설명으로 옳은 것은?

- (가) 갑은 미세 먼지 대책을 촉구하는 청원을 국가 기관에 문서로 제출하였다.
- (나) 갑은 선거에 참여하여 미세 먼지 대책을 공약에 포함시킨 후보자에게 투표하였다.
- (다) 갑은 시민 단체에 가입하여 미세 먼지 대책 마련을 위한 정책 제안서 제작에 참여하였다.
- (라) '미세 먼지 저감 및 관리에 관한 특별법'이 국회에서 의결되었다.
- (마) 정부(환경부)는 '미세 먼지 고농도 계절 공공 2부제'를 시행하였다.

- ① (가)와 달리 (나)에는 갑의 청구권 행사가 나타나 있다.
- ② (나)와 (다)에서 갑은 집단적 정치 참여 방법을 활용하였다.
- ③ (나)와 달리 (라)는 정치 과정에서 투입의 사례에 해당한다.
- ④ (다)와 달리 (마)는 정치 과정에서 산출의 사례에 해당한다.
- ⑤ (다), (라), (마)에는 정책 결정 기구가 나타나 있다.

▶ 22063-0246

**10** 표는 정치 참여 집단 A~C를 질문에 따라 구분한 것이다. 이에 대한 설명으로 옳은 것은? (단, A~C는 각각 시민 단체, 이익 집단, 정당 중 하나이다.) [3점]

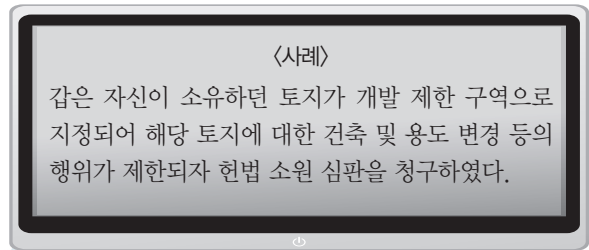
질문	A	B	C
정치적 책임을 지는가?	㉠	㉡	㉢
집단의 특수한 이익보다 공익의 실현을 중시하는가?	㉣	㉤	㉥
(가)	예	아니요	아니요

\* 질문에 대해 '예' 또는 '아니요'로만 대답한다.

- ① ㉠~㉥에 들어갈 대답 중 '예'는 4개이다.
- ② A가 정당이라면, ㉣, ㉥에 들어갈 대답은 같다.
- ③ ㉡, ㉤에 들어갈 대답이 같고 ㉢, ㉥에 들어갈 대답이 다르다면, B는 공직 선거에 후보자를 공천한다.
- ④ ㉡, ㉣, ㉥에 들어갈 대답이 같다면, C는 B와 달리 대의제의 한계를 보완한다.
- ⑤ (가)에 '정치 사회화 기능을 수행하는가?'가 들어갈 수 있다.

▶ 22063-0247

**11** 민법의 기본 원칙 A, B에 대한 설명으로 옳은 것은?



A에 따르면 개인 소유의 재산에 대해 사회적 지배를 인정해야 해. 따라서 개발 제한 구역으로 지정되기 전부터 소유하고 있던 해당 토지에 대해 갑이 자유롭게 건축할 수 있는 권리를 허락해 줘야 해.

그렇지 않아. B에 따라 개인의 소유권도 공공복리에 적합하도록 행사되어야 해. 그러므로 갑의 토지에 대한 건축 행위는 필요한 경우 법률로써 제한될 수 있어.



- ① A는 계약의 내용이 사회 질서에 위반된 경우 법적 효력이 발생하지 않는다는 원칙이다.
- ② B는 개인이 자율적 판단에 기초하여 법률관계를 형성해 나갈 수 있다는 원칙이다.
- ③ A와 달리 B는 개인 소유의 재산에 대해 절대적 지배권을 인정하는 원칙이다.
- ④ B와 달리 A는 행위자에게 고의나 과실이 없더라도 그 행위로 발생한 손해에 대해 배상할 책임이 인정된다는 원칙이다.
- ⑤ A와 B는 모두 현대의 개인 간 법률관계에 적용된다.



▶ 22063-0248

12 다음 자료에 대한 법적 판단으로 옳은 것은? [3점]

갑(18세)은 고가의 가방을 구매하는 계약을 판매업자 을과 체결하였다. 계약 체결 당시 을은 갑의 나이를 알고 있었다.  
 <상황 1> 갑이 법정 대리인의 동의 없이 계약을 체결한 경우  
 <상황 2> 갑이 법정 대리인의 동의서를 위조하여 을을 속이고 계약을 체결한 경우  
 <상황 3> 법률혼을 한 갑이 계약을 체결한 경우

- ① <상황 1>에서 갑과 달리 갑의 법정 대리인은 계약을 취소할 수 있다.
- ② <상황 1>에서 을은 갑에게 계약의 취소 여부에 대한 응답을 요구할 수 없다.
- ③ <상황 2>에서 갑은 법정 대리인의 동의 없이 계약을 취소할 수 있다.
- ④ <상황 3>에서 을과 달리 갑은 계약을 취소할 수 있다.
- ⑤ <상황 1>과 달리 <상황 2>의 계약은 무효이다.

▶ 22063-0250

14 다음 자료에 대한 옳은 분석만을 <보기>에서 고른 것은? [3점]

<카드 1>	<카드 2>
갑(45세)은 자신의 신체에 대한 위해를 방어할 방법이 없는 협박에 못이겨 회사 비밀을 경쟁업체에 누설하였다.	심신 장애로 인하여 사물을 변별할 능력이 없는 을이 이유 없이 지나가는 행인을 폭행하였다.
<카드 3>	<카드 4>
(가)	(나)

학생 1: 위법성 조각 사유가 나타난 카드는 2개입니다.  
 학생 2: 범죄 성립 여부에 따라 <카드 2>와 <카드 3>을 구분할 수 있습니다.  
 교사: 두 사람 중 한 사람만 옳은 대답을 하였습니다.

보기

- ㄱ. <카드 2>는 <카드 1>과 달리 책임 조각 사유가 나타난 카드이다.
- ㄴ. (가)에 '병(12세)이 전자 제품 판매점에서 이어폰을 훔쳤다.'는 들어갈 수 없다.
- ㄷ. (가)에 긴급 피난에 해당하는 사례가 들어가면, (나)에 정당방위에 해당하는 사례가 들어갈 수 없다.
- ㄹ. (나)에 '정(40세)이 자녀의 병원비를 마련하기 위해 고객의 개인 정보를 대가를 받고 판매하였다.'가 들어가면, 범죄 성립 여부에 따라 <카드 3>과 <카드 4>를 구분할 수 없다.

▶ 22063-0249

13 다음 사례에 대한 법적 판단으로 옳은 것은? [3점]

갑과 을은 혼인하여 A를 낳고 함께 생활하던 중 성격 차이로 협의 이혼하면서 A는 갑이 양육하기로 하였다. 병은 정과 혼인하여 B를 낳고 함께 생활하던 중 정의 부정한 행위를 알고 재판상 이혼하면서 B는 병이 양육하기로 하였다. 이후 갑과 정은 재혼하였으며, 정은 A를 친양자로 입양하였다. 몇 년 후 을과 정은 각각 교통사고로 사망하였고, 두 사람 모두 유언은 남기지 않았다.  
 \*사례의 혼인은 모두 법률혼임.

- ① 갑과 을의 이혼과 달리 병과 정의 이혼은 이혼 숙려 기간이 필요하다.
- ② 갑과 을의 이혼으로 인해 을과 A의 친자 관계는 종료된다.
- ③ 정은 이혼 사유에 해당하는 행위를 하였으므로 혼인 중 공동으로 취득한 재산에 대해 분할을 청구할 수 없다.
- ④ 정이 A를 입양한 이후 A는 갑과 정의 혼인 외의 출생자로 간주된다.
- ⑤ B는 정의 재산을 상속받을 수 있지만, A는 을의 재산을 상속받을 수 없다.

- ① ㄱ, ㄴ                      ② ㄱ, ㄷ                      ③ ㄴ, ㄷ
- ④ ㄴ, ㄹ                      ⑤ ㄷ, ㄹ

▶ 22063-0251

### 15 다음 사례에 대한 법적 판단으로 옳은 것은?

갑(50세)은 을을 폭행하여 사망에 이르게 한 혐의로 체포되었다. 이후 ㉠갑에 대한 구속 영장이 발부되어 갑은 ㉡구속된 상태에서 수사를 받게 되었다. 수사 기관은 ㉢갑을 기소하였고 〇〇 지방 법원은 갑에게 징역 2년을 선고하였다. 이에 대해 갑은 항소를 하였고, 〇〇 고등 법원은 갑의 행위는 위법성이 조각된 행위에 해당한다며 무죄를 선고하였다.

- ① 〇〇 지방 법원의 판결 이후에 갑에게는 무죄 추정의 원칙이 적용되지 않는다.
- ② 〇〇 고등 법원의 판결이 확정되면 갑은 형사 보상을 청구할 수 있다.
- ③ ㉡에서 갑은 구속 영장 실질 심사를 통해 석방될 수 있다.
- ④ ㉠과 ㉢은 모두 수사 기관이 담당한다.
- ⑤ ㉢ 이후에 갑에게 변호인의 조력을 받을 권리는 인정되지만 진술 거부권은 인정되지 않는다.

▶ 22063-0253

### 17 다음 사례에 대한 법적 판단으로 옳은 것은? [3점]

□□ 회사(사장 갑) 내 A 노동조합은 같은 회사의 B 노동조합과 달리 A 노동조합 조합원들만 근로 시간을 제한하여 임금의 불이익을 발생시키는 것은 근로자의 단결권을 침해한 부당 노동 행위에 해당한다며 〇〇 지방 노동 위원회에 구제 신청을 하였다. 이후 〇〇 지방 노동 위원회의 판정에 불복한 갑이 중앙 노동 위원회에 재심을 신청하였으며, 중앙 노동 위원회는 갑이 합리적 이유 없이 노동조합 간 근로 시간을 다르게 하는 것은 부당 노동 행위에 해당한다고 판정하였다.

- ① 갑은 재심 결과에 불복하여 A 노동조합을 상대로 행정 소송을 제기할 수 있다.
- ② A 노동조합과 달리 A 노동조합 소속 근로자들은 〇〇 지방 노동 위원회에 구제 신청을 할 수 없다.
- ③ 〇〇 지방 노동 위원회는 갑이 A 노동조합 조합원들의 근로 3권을 침해했다고 판단하였다.
- ④ 갑의 부당 노동 행위 여부에 대해 〇〇 지방 노동 위원회와 중앙 노동 위원회는 서로 다르게 판정하였다.
- ⑤ 중앙 노동 위원회의 판정에 따라 B 노동조합 조합원들의 근로 시간도 A 노동조합 조합원들의 근로 시간과 동일하게 제한된다.

▶ 22063-0252

### 16 다음은 헌법 재판소 결정문의 일부이다. 밑줄 친 ㉠, ㉡에 대한 옳은 설명만을 <보기>에서 고른 것은?

외교 기관에 대한 보호는 항구적인 세계 평화를 유지하기 위한 기초가 되는 것으로 우리나라가 체결·공포한 ㉠외교 관계에 관한 빈 협약에도 외교 기관 업무의 평화가 방해되거나 그 존엄이 침해되는 것을 방지할 의무가 가입국에게 있음이 규정되어 있다. 따라서 외교 기관 인근에서의 집회를 금지하고 있는 ㉡집회 및 시위에 관한 법률의 해당 조항은 외교 기관의 기능 보장과 안전 보호를 달성하고자 하는바 그 목적의 정당성이 인정된다.

【 보기 】

- ㄱ. ㉠과 같은 국제법의 법원(法源)은 국가뿐만 아니라 국제기구도 체결 주체가 될 수 있다.
- ㄴ. ㉠과 달리 ㉡은 성문화된 형태로 존재한다.
- ㄷ. ㉠과 달리 ㉠은 강제로 집행할 집행 기구가 없다.
- ㄹ. ㉠의 비준과 ㉡의 제정은 모두 국회의 권한이다.

- ① ㄱ, ㄴ                      ② ㄱ, ㄷ                      ③ ㄴ, ㄷ
- ④ ㄴ, ㄹ                      ⑤ ㄷ, ㄹ

### 18 국제 연합의 주요 기관 A~C에 대한 설명으로 옳은 것은? [3점]

국제 평화와 안보에 대한 주요한 책임을 지는 A는 5개의 상임 이사국과 10개의 비상임 이사국으로 구성된다. A의 비상임 이사국은 국제 연합의 모든 회원국이 참여하는 B에서 지역별 배분을 고려하여 선출되며 임기는 2년이다. A와 B는 법적 문제에 관한 권고적 의견을 줄 것을 15인의 재판관으로 구성된 사법 기관 C에 요청할 수 있다.

- ① A에서 상임 이사국은 절차 사항을 포함한 모든 안건에 대해 거부권을 행사할 수 있다.
- ② B에서는 표결 시 주권 평등의 원칙을 반영하여 모든 회원국은 1표의 투표권을 행사한다.
- ③ C는 국제 사회에서 국가와 개인 간에 발생하는 법적 분쟁에 대해 관할권을 가진다.
- ④ A와 달리 B는 국제 평화와 안전 유지를 위해 군사적 제재를 결정할 수 있다.
- ⑤ B와 달리 A는 C의 재판관을 선출하는 권한을 가진다.

### 19 다음 사례에 대한 법적 판단으로 옳은 것은?

- 갑이 운영하는 식당의 종업원으로 근무하는 을(17세)은 실수로 뜨거운 국물을 쏟아 고객 A가 화상을 입었다.
- 친구 병 소유의 개를 산책시키던 정(20세)은 부주의로 개의 목줄을 놓쳤고, 개가 지나가던 행인 B를 물어 B가 크게 다쳤다.

- ① 을의 법정 대리인은 A에게 책임 무능력자의 감독자 책임을 진다.
- ② 갑이 을의 선임 및 그 사무 감독에 상당한 주의를 다하였음을 증명하면 갑은 A에게 사용자의 배상 책임을 지지 않는다.
- ③ 병은 과실이 없더라도 B에게 손해 배상 책임을 진다.
- ④ 병과 정은 모두 B에게 공동 불법 행위자의 책임을 진다.
- ⑤ 을은 A에게 특수 불법 행위 책임을 지고, 정은 B에게 일반 불법 행위 책임을 진다.

### 20 다음 자료에 대한 분석으로 옳은 것은? [3점]

갑국의 의회는 지역구 의원 6인과 비례 대표 의원 6인으로 구성되며 유권자는 1인 2표(지역구 의원 선거에 1표, 비례 대표 의원 선거에 1표)를 행사한다. 지역구 의원은 6개의 선거구에서 단순 다수 대표제로 선출하며, 비례 대표 의석은 비례 대표 의원 선거에서 각 정당이 얻은 득표율에 비례 대표 의석수를 곱하여 산출된 수의 정수(整數)만큼을 각 정당에 먼저 배분하고 잔여 의석은 소수점 이하의 수가 큰 순서대로 각 정당에 1석씩 배분한다. 갑국은 지역구 선거구별 인구 편차를 줄이기 위해 다음과 같은 개편안을 검토하고 있다.

〈개편안〉 비례 대표 의원 선거는 그대로 유지하되, 지역구 의원 선거에서 선거구1-2, 3-4, 5-6을 통합하여 선거구를 3개로 축소하고 각 선거구에서 득표순으로 2인의 대표를 선출한다. 정당은 각 선거구별로 1인의 후보만 공천한다. 현행 선거 제도에서 실시된 갑국의 최근 의회 의원 선거 결과는 다음과 같다.

〈지역구 의원 선거 정당별 득표 결과〉 (단위: %)

구분	A당	B당	C당	D당
선거구1 (1,000명)	30	40	10	20
선거구2 (2,000명)	50	10	30	10
선거구3 (2,000명)	60	10	20	10
선거구4 (1,000명)	20	10	30	40
선거구5 (2,000명)	30	40	20	10
선거구6 (2,000명)	20	50	20	10

\* ( ) 안은 유권자 수를 나타냄.

〈비례 대표 의원 선거 정당별 득표율〉 (단위: %)

A당	B당	C당	D당
50	20	20	10

\* A당~D당만 존재하고 무소속 후보는 없으며, 투표율은 100%이고, 무효표는 없음.

\*\* 개편안 적용 시 최근 의회 의원 선거 결과만을 근거로 판단함.

- ① 개편안에서 지역구 의원 선거는 소선거구제가 적용되었다.
- ② 최근 의회 의원 선거 결과 선거구3에 비해 선거구4에서 사표가 더 많이 발생하였다.
- ③ 최근 의회 의원 선거 결과 C당의 비례 대표 의석수는 D당의 비례 대표 의석수의 2배이다.
- ④ 개편안 적용 시 A당은 비례 대표 의원 선거에서 얻은 정당 득표율과 총의석률이 같다.
- ⑤ 개편안 적용 시 C당은 비례 대표 의석수와 지역구 의석수가 동일하다.

문항에 따라 배점이 다르니, 각 물음의 끝에 표시된 배점을 참고 하시오. 3점 문항에만 점수가 표시되어 있습니다. 점수 표시가 없 는 문항은 모두 2점입니다.

▶21063-0161

1 표를 바탕으로 A국~C국의 정치적 상황을 옳게 이해한 학생 만을 <보기>에서 고른 것은?

구분		형식적 합법성을 중시하는가?	
		예	아니요
실질적 법치주의가 실현되고 있는가?	예	A국	-
	아니요	B국	C국

보기

갑 : A국은 합법을 명분으로 독재 정치를 정당화할 우려가 있네.  
 을 : C국은 '법(法)의 지배'가 아닌 '인(人)의 지배'가 나타나겠는걸!  
 병 : 위헌 법률 심사 제도가 실시되고 있을 나라는 A국보다는 B 국이겠어.  
 정 : A국, B국 모두 국가 권력 행사의 법적 근거를 중시하고 있군.

- ① 갑, 을                      ② 갑, 병                      ③ 을, 병
- ④ 을, 정                      ⑤ 병, 정

▶21063-0162

2 밑줄 친 ㉠~㉣에 대한 설명으로 옳은 것은? [3점]

오늘날 대부분의 민주 국가에서는 ㉠ 헌법에 국민의 기본적인 인 권을 규정하여 보장하고 있는데, 이를 기본권이라고 한다. 우리 헌법은 ㉡ 제10조 규정을 토대로 하여 ㉢ 자유권, ㉣ 평등권, ㉤ 참정권, ㉥ 사회권, ㉦ 청구권 등을 기본권으로 보장하고 있다.

제10조 모든 국민은 인간으로서의 존엄과 가치를 가지며, 행복을 추구할 권리를 가진다. 국가는 개인이 가지는 불가 침의 기본적 인권을 확인하고 이를 보장할 의무를 진다.

- ① ㉠은 국가 통치 구조를 밝히고 국민의 권리를 제한하기 위 해 만들어졌다.
- ② ㉡은 가장 최근에 등장한 현대적 권리이다.
- ③ ㉢은 ㉣과 달리 소극적·방어적 권리에 해당한다.
- ④ ㉢의 예로 근로의 권리, ㉣의 예로 재판 청구권을 들 수 있다.
- ⑤ ㉣은 ㉢~㉣의 내용을 구체화한 것이다.

▶21063-0163

3 다음 헌법 조항들에서 공통적으로 나타나 있는 우리 헌법의 기본 원리를 실현하기 위한 방안만을 <보기>에서 고른 것은?

- 대한민국은 민주 공화국이다.
- 대한민국의 주권은 국민에게 있고, 모든 권력은 국민으로부터 나온다.

보기

- ㄱ. 국민 투표제 실시
- ㄴ. 복수 정당 제도의 보장
- ㄷ. 최저 임금 제도의 실시
- ㄹ. 평생 교육의 진흥 및 의무 교육 제도의 실시

- ① ㄱ, ㄴ    ② ㄱ, ㄷ    ③ ㄴ, ㄷ    ④ ㄴ, ㄹ    ⑤ ㄷ, ㄹ

▶21063-0164

4 밑줄 친 ㉠~㉣에 대한 설명으로 옳은 것은? [3점]

○○신문                      2000년 00월 00일

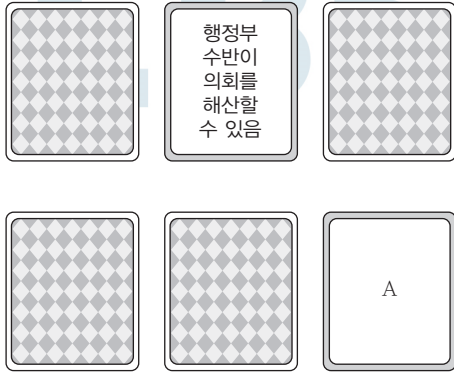
㉠ ○○도 의회는 어제 제3차 본회의 시정 질문에서 ㉡ 지방 선거에 서 압도적인 표로 당선되었던 ㉢ ○○ 도지사를 상대로 ○○도 방 문외 해, 지역 발전 등 주요 현안에 대해 질의하였으며, 코로나 사 태와 관련하여 ㉣ ○○도 교육감을 상대로 안정적인 교육 시스템 구축을 주문하였다.

- ① ㉠은 지방 자치 단체의 집행 기관이다.
- ② ㉠은 조례를, ㉡은 규칙을 제정할 수 있다.
- ③ ㉢과 달리 ㉣은 주민 소환의 대상이 아니다.
- ④ ㉣은 중앙 정부의 권력 남용을 막는 수평적 권력 분립을 위한 것이다.
- ⑤ ㉠의 의원과 ㉡은 ㉢과 달리 ㉣에서 선출된다.

▶21063-0165

### 5 다음은 정부 형태를 학습하기 위한 게임 정보이다. 카드 A에 들어갈 수 있는 옳은 내용만을 <보기>에서 고른 것은? [3점]

- 게임 방법 : 각 카드에 적힌 내용은 전형적인 정부 형태로서 대통령제와 의원 내각제 중 하나에 해당한다. 이들 카드 중 두 장의 카드를 뒤집어 카드에 적힌 내용이 같은 유형의 정부 형태에 해당하는 카드이면 두 장을 모두 가져간다.
- 갑은 다음과 같이 카드를 뒤집어 게임 규칙에 따라 두 장을 가져갔다.



#### 보기

- ㄱ. 의회 의원이 각료를 겸직할 수 있음
- ㄴ. 의회에서 선출된 총리가 내각을 구성함
- ㄷ. 의회와 달리 내각은 법률안을 제출할 수 없음
- ㄹ. 행정부 수반이 법률안 거부권을 행사할 수 있음

- ① ㄱ, ㄴ    ② ㄱ, ㄷ    ③ ㄴ, ㄷ    ④ ㄴ, ㄹ    ⑤ ㄷ, ㄹ

▶21063-0166

### 6 다음의 형성 평가에서 가장 높은 점수를 받을 학생은?

#### <형성 평가>

※ A, B의 정치 참여 주체에 대한 각 항목의 설명이 옳으면 ○, 틀리면 ×로 표시하시오. (각 항목당 맞으면 1점, 틀리면 0점)

A : 정치적 견해를 같이하는 사람들이 정권 획득을 목표로 결성한 단체

B : 특정한 이해관계나 목표를 같이하는 사람들이 자신의 특수 이익을 실현하기 위해 결성한 단체

#### <학생 답안>

항목	갑	을	병	정	무
(1) A는 법률을 제정하는 권한을 가진다.	○	×	×	×	×
(2) A는 공익 추구라는 점에서 B와 다르다.	○	○	○	×	×
(3) A와 달리 B는 정부와 의회를 매개하는 기능이 있다.	○	○	×	×	×
(4) A와 B는 모두 정치 사회화 기능이 있다.	○	○	○	○	×

- ① 갑    ② 을    ③ 병    ④ 정    ⑤ 무

▶21063-0167

### 7 다음 두 사례에 대한 옳은 설명만을 <보기>에서 있는 대로 고른 것은? [3점]

- 갑은 마음껏 다리를 뻗기 어려울 정도로 구치소에 많은 사람을 수용한 행위가 인간의 존엄과 가치를 침해한 행위라며 헌법 소원을 청구하여, 구치소장의 행위에 대해 위헌 결정을 받았다.
- ○○법 위반으로 기소되어 실형을 선고받은 을은 상고심에서 해당 조항이 명확성의 원칙에 어긋난다며 A에 위헌 법률 심판 제청 신청을 하였으나 기각되자, 직접 헌법 소원을 청구하여 해당 조항에 대해 위헌 결정을 받았다.

#### 보기

- ㄱ. 갑은 권리 구제형 헌법 소원 심판, 을은 위헌 심사형 헌법 소원 심판을 청구하였다.
- ㄴ. 갑과 을이 청구한 헌법 소원에 위헌 결정을 내린 기관의 권한에는 탄핵 소추권이 포함된다.
- ㄷ. 대법관을 제외한 법관은 A의 장(長)이 임명한다.
- ㄹ. A의 장(長)은 국회의 동의를 얻어 대통령이 임명한다.

- ① ㄱ, ㄴ    ② ㄱ, ㄹ    ③ ㄴ, ㄷ  
④ ㄱ, ㄷ, ㄹ    ⑤ ㄴ, ㄷ, ㄹ

▶21063-0168

### 8 자료는 청소년증 도입 과정 및 이후 경과를 정리한 것이다. 이에 대해 옳게 이해한 학생만을 <보기>에서 있는 대로 고른 것은?

- ㉠ 언론 : 학교에 다니지 않는 청소년(비학생 청소년)은 교통비나 문화생활 등에서 할인 혜택을 받지 못하는 현실을 보도
- ㉡ 시민 단체 : 학교에 다니지 않는 청소년에게도 재학생과 동일한 혜택을 주도록 개선해야 한다고 주장
- ㉢ ○○시 의회 : (가) 비학생 청소년에게 할인 혜택을 주는 청소년증 발급 조례 제정
- 시장 : 13~18세의 비학생 청소년들에게 청소년증 발급 실시 발표
- 청소년들 : (나) 청소년증 할인을 해 주지 않는 국립 공원이 있다는 불만 표출
- 시민 단체 : 13세 미만의 비학생 청소년도 있다는 점을 지적
- 시 : 9~18세의 비학생 청소년들에게 청소년증 발급

#### 보기

- 갑 : ㉠이 여론 형성에 기여하는 보도를 하였다.
- 을 : ㉡은 정당과 달리 공익을 추구하지.
- 병 : ㉢은 정책 결정 기구라고 볼 수 있겠네.
- 정 : (가)는 산출 과정, (나)는 환류 과정으로 볼 수 있겠네.

- ① 갑, 을    ② 갑, 병    ③ 을, 정  
④ 갑, 병, 정    ⑤ 을, 병, 정

▶21063-0169

9 다음은 모두 우리나라의 특정 국가 기관이 한 일이다. 이에 대한 설명으로 옳지 않은 것은?

- ㉠ 국무 회의 주재
- ㉡ 국회 초청 연설
- ㉢ 법률안 거부권 행사
- ㉣ 헌법 재판소 재판관 임명

- ① 이 기관은 대통령이다.
- ② ㉠은 행정부의 최고 심의 기관이다.
- ③ ㉡은 국정 감사 및 조사권을 가진다.
- ④ ㉢은 행정부도 제출할 수 있다.
- ⑤ ㉣ 중 3명은 대법원장이 임명한다.

▶21063-0170

10 다음 자료에 대한 옳은 분석만을 <보기>에서 고른 것은? [3점]

갑국은 선거구 (가)~(바)에서 단순 다수 대표제로 각각 1명의 의회 의원을 선출하고 있다. 다음은 갑국의 선거구 분포와 최근 의회 의원 선거의 정당별 득표 결과를 나타낸다. 단, 무소속 후보자는 없고, 투표율은 100%이며 무효표는 없다.

<선거구 분포>

<정당별 득표 결과>

(단위: 표)

선거구	정당						합계
	A당	B당	C당	D당	E당	합계	
(가)	(가)	0	0	0	40	80	120
	(나)	0	0	30	60	30	120
	(다)	10	0	20	20	70	120
	(라)	0	0	10	0	30	40
(라)	(마)	30	40	0	10	0	80
	(바)	0	80	0	30	10	120
	합계	40	120	60	160	220	600

갑국은 현행 선거구의 문제점을 개선하기 위해 현재의 의원 정수를 유지하면서 다음과 같은 선거 제도로 개편할 예정이다. 개편안의 경우 최근 의회 의원 선거의 정당별 득표 결과만을 근거로 판단한다.

<개편안> 2개의 선거구를 하나로 통합하여 선거구를 3개로 축소하고, 각 선거구에서 득표순으로 2인의 대표를 선출한다. 정당이 후보자를 공천할 때 2인이 당선 가능한 경우 2인을, 그렇지 않은 경우 1인을 공천한다. 선거구는 경계선이 접한 경우에만 통합이 가능하며, 대각선 방향으로의 통합은 고려하지 않는다. 통합 후 하나의 선거구 유권자 수가 다른 선거구 유권자 수의 2배 이상이 되지 않도록 한다.

**보기**

- ㄱ. 개편안으로 바뀌더라도 A당과 C당의 의석수는 변화가 없다.
- ㄴ. 현행에서 C당은 D당과 달리 과소 대표되었다.
- ㄷ. 개편안에서 D당이 얻을 수 있는 최소 의석수는 1석, 최대 의석수는 3석이다.
- ㄹ. 개편안에서 선거구가 '가-라', '나-다', '마-바'로 통합된다면 E당의 의석수는 현행보다 증가한다.

- ① ㄱ, ㄴ    ② ㄱ, ㄷ    ③ ㄴ, ㄷ    ④ ㄴ, ㄹ    ⑤ ㄷ, ㄹ

▶21063-0171

11 민법의 기본 원칙 A, B에 대한 설명으로 옳은 것은?

저는 ○○ 공항 근처에 20층짜리 상가 건물을 지으려고 하는데, 이 지역은 고도 제한 지역이라고 하여 4층까지만 가능하다고 합니다. 상가 건물을 지으려는데 높이를 제한하는 것은 저의 재산권 행사를 제한하는 것이며, 이는 A에 위반되었다고 봅니다. 저는 어떻게 해야 하나요?

공항 근처에 고도 제한을 하는 것은 항공기 이착륙에 따른 안전 문제를 고려한 것이므로 B에 따라 소유권 행사를 제한할 수 있습니다. 따라서 귀하께서 원하는 높이의 상가 건물을 지을 수 없습니다.

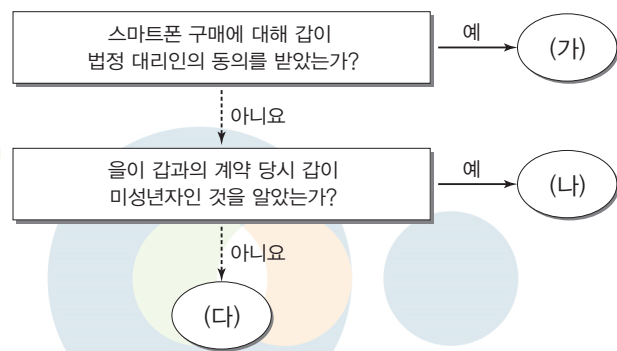


- ① A는 국가를 포함한 타인의 간섭을 받지 않고 자기의 법률 관계를 스스로 정할 수 있다는 원칙이다.
- ② B는 고의나 과실이 없는 경우에도 일정한 요건에 따라 배상 책임을 질 수 있다는 원칙이다.
- ③ A는 B와 달리 사인(私人) 간 분쟁 해결의 기준이 된다.
- ④ B는 A와 달리 개인의 소유권도 공공의 이익을 위해서라면 경우에 따라 제한될 수 있는 상대적 권리라고 본다.
- ⑤ A는 근대 자본주의의 문제점을 보완하기 위하여 B로 수정되어 현대 사회에서는 적용되지 않는다.

▶21063-0172

12 다음 자료에 대한 법적 판단으로 옳은 것은? [3점]

갑(17세)은 고가의 스마트폰을 구매하기 위해 판매자 을과 계약을 맺었다. 계약 당시 갑의 사기 행위는 없었다.



- ① (가)의 경우 갑의 법정 대리인은 계약을 취소할 수 있다.
- ② (나)의 경우 을은 갑에게 일정 기간을 정해 계약을 취소할 것인지에 대한 응답을 요구할 수 있다.
- ③ (다)의 경우 을은 갑의 법정 대리인의 추인이 있을 때까지 거래의 의사 표시를 철회할 수 있다.
- ④ (가), (나)의 경우 모두 갑은 을과의 계약을 취소할 수 있다.
- ⑤ (나), (다)에서 계약이 취소된 경우 모두, 갑은 을에 대해 채무 불이행 책임을 진다.

▶ 21063-0173

### 13 다음 사례에 대한 법적 판단으로 옳은 것은? [3점]

• 음식점을 운영하는 갑은 배달 사원으로 을(23세)을 고용하고 있다. 어느 날 을이 오토바이를 이용하여 배달을 가던 중 길을 건너던 어린이를 치어 크게 다치게 하였다.

• 고등학교 동갑내기 친구인 A, B, C(17세)는 하교 후에 식당에서 밥을 먹다가 같은 학교 친구인 D와 시비가 붙었다. A, B는 C를 망을 보도록 하고, D를 때려 크게 상처를 입혔다. A, B는 D에 대한 폭행과 관련하여 자신들의 행위로 일정한 결과가 발생한다는 것을 인식하고 있는 상태였다.

- ① 을의 행위가 고의가 아니라면 을은 불법 행위 책임을 지지 않는다.
- ② 을에게 불법 행위 책임이 인정되면, 갑은 사용자의 배상 책임을 질 수 있다.
- ③ A, B의 법정 대리인은 책임 무능력자의 감독자 책임을 진다.
- ④ C는 망을 보았기 때문에 D에 대한 손해 배상 책임을 지지 않는다.
- ⑤ A, B는 을과 달리 일반 불법 행위 책임을 진다.

▶ 21063-0174

### 14 죄형 법정주의의 내용 A에 대한 설명으로 옳은 것은?

A는 법률 만능주의를 배제하기 위해 마련된 실질적 죄형 법정주의에서 유래하였다. 이에 따라 형벌 법규의 목적과 내용은 인간의 존엄과 가치를 존중하는 헌법 이념과 자연적 정의에 합치되어야 하고, 구성 요건과 형벌은 내용상 합리성을 갖추어야 하므로 지나치게 가혹한 형벌을 규정하는 것은 A에 위반한다. 헌법 재판소는 A와 관련하여, 법정형의 종류와 범위를 정할 때 과잉 금지의 원칙에 따라 법정형을 설정하여 실질적 법치 국가의 원리를 구현하도록 하여야 하며, 형벌이 죄질과 책임에 상응하도록 적절한 비례성을 지켜야 한다고 하였다.

- ① 일반 국민이 이해할 수 있도록 범죄와 형벌을 명확하게 규정해야 한다.
- ② 법률에 규정이 없는 사항에 대해 그것과 유사한 규정을 적용해서는 안 된다.
- ③ 범죄로 규정되는 행위와 이에 대한 형벌 간에 적절한 균형이 이루어져야 한다.
- ④ 관습법에 의하여 범죄와 형벌을 규정할 수 없고, 의회가 제정한 성문의 법률에 의해야 한다.
- ⑤ 범죄와 형벌은 행위 시 법률에 규정되어 있어야 하고, 행위 이후 제정한 법률로 소급하여 처벌할 수 없다.

▶ 21063-0175

### 15 다음 사례에 대한 법적 판단으로 옳지 않은 것은?

갑(남)과 을(여)은 혼인을 한 후 병과 정을 출산하여 살고 있었다. 그런데 갑과 을은 혼인 중 갑의 부정한 행위를 이유로 법원의 판결을 통한 이혼을 하였고, 이혼 후 병은 갑이 양육하기로 하였고, 정은 을이 양육하기로 하였다. 이후 갑은 A와 재혼을 하였고, A가 미성년자인 병에 대해 친양자가 아닌 양자로 입양을 하였으며, 1년 후 갑과 A 사이에서 C가 출생하였다. 또한 을은 B와 재혼을 하였으며, B가 정을 친양자로 입양을 하였다. 어느 날 갑은 출장 중 교통사고로 사망을 하였으며, 을은 평소에 앓고 있던 질병으로 사망을 하였다.

\* 단, 위에 나타난 혼인은 모두 법률혼이며, 혼인 시 자녀의 성(姓)은 부(夫)의 성을 따르기로 함

- ① 갑과 을은 이혼 숙려 기간을 필요로 하지 않는 이혼을 하였다.
- ② A가 병을 입양하기 위해서는 가정 법원의 허가를 받아야 한다.
- ③ 정은 B의 성과 본으로 변경해야 한다.
- ④ 갑과 C의 친자 관계가 형성되기 위해서는 갑이 C에 대한 인지 절차를 거쳐야 한다.
- ⑤ 병은 을의 재산을 상속받을 수 있지만, 정은 갑의 재산을 상속받을 수 없다.

▶ 21063-0176

### 16 표는 범죄 성립에 대한 질문과 답변을 나타낸 것이다. 이에 해당하는 적절한 사례만을 <보기>에서 고른 것은? [3점]

질문	답변	
	예	아니오
범죄의 구성 요건에 해당하는가?	✓	
행위자의 행위가 법질서 전체의 관점에서 부정적인가?	✓	
행위자의 행위가 법적 비난 가능성이 있는가?		✓

#### 보기

- ㄱ. 갑(13세)이 상습적으로 친구를 때린 경우
- ㄴ. 을(21세)이 살해 위협 때문에 어쩔 수 없이 회사의 기밀을 훔친 경우
- ㄷ. 병(32세)이 골목에서 맹견에게 쫓기다가 피할 길이 없어 어쩔 수 없이 인근 주택으로 들어간 경우
- ㄹ. 정(45세)이 딸을 위협한 사람에게 폭행을 행사한 것이 현재의 부당한 침해를 방위하기 위한 상당한 이유로 인정된 경우

- ① ㄱ, ㄴ    ② ㄱ, ㄷ    ③ ㄴ, ㄷ    ④ ㄴ, ㄹ    ⑤ ㄷ, ㄹ

▶ 21063-0177

### 17 다음 자료에 대한 법적 판단으로 옳은 것은? [3점]

갑은 자신의 물건을 훔친 을을 고소하였다. 을은 구속 수사를 받았으며, (가), (나)는 을에 대해 진행된 각각 1심과 2심 재판 결과의 일부이다.

(가)

(나)

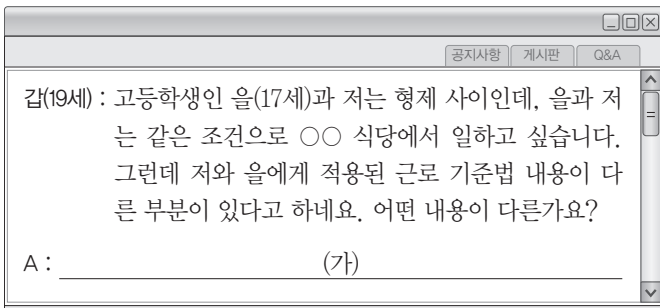
피고인 : 을  
 검사 : 병  
 주문 : 피고인 을을 징역 1년에 처한다. 다만, 이 판결 확정일로부터 3년간 피고인에 대한 위 형의 집행유예한다.  
 판사 : □□□

피고인 : 을  
 검사 : 병  
 원심 판결 : ○○ 지방 법원 2019. 11. 14. 선고 2019고단 △△ 판결  
 주문 : 원심 판결을 파기한다. 피고인은 무죄  
 판사 : ☆☆☆, ◇◇◇, ◎◎◎

- ① 1심 재판 이후 을은 법원에 구속 적부 심사를 신청할 수 있다.
- ② 1심 재판 결과 을은 일정 기간이 지나면 면소된 것으로 간주하는 판결을 받았다.
- ③ 2심 재판은 고등 법원에서 이루어졌다.
- ④ 2심 재판 결과가 확정되면 을은 형사 보상을 청구할 수 있다.
- ⑤ 1심, 2심 재판 과정에서 갑, 을, 병은 모두 재판 당사자이다.

▶ 21063-0178

### 18 (가)에 들어갈 내용으로 옳은 것은?



- ① 갑과 달리 을은 고용 노동부 장관이 발급한 취직 인허증이 있어야 합니다.
- ② 을과 달리 갑의 근로 시간은 1주일에 35시간을 초과할 수 없습니다.
- ③ 을과 달리 갑은 연장 근로를 제외하고 근로 시간을 하루에 8시간으로 정할 수 있습니다.
- ④ 사용자는 을과 달리 갑에게 임금을 직접 지급해야 합니다.
- ⑤ 사용자는 을과 달리 갑에게 1주 동안 소정의 근로일을 개근한다면 1주에 평균 1회 이상의 유급 휴일을 주어야 합니다.

▶ 21063-0179

### 19 다음 자료에 대한 옳은 설명만을 <보기>에서 고른 것은? [3점]

국제 연합 주요 기관 중 하나인 A는 니카라과-콜롬비아 간 영토 및 영해 분쟁에 관한 재판에서 동경 82도 영해는 니카라과에 귀속된다고 판결을 하였으며, 1928년 양국이 체결했던 ㉠ 에스게라-바르세나스 협정에 근거하여 카리브해에 위치한 섬들 중 일부의 소유권은 콜롬비아에 귀속된다는 판결을 하였다.

보기

- ㄱ. A는 판결을 이행하지 않은 국가에 대해 직접적인 제재를 가할 수 있다.
- ㄴ. A는 국제 연합 총회와 안전 보장 이사회에서 선출된 15인의 재판관으로 구성된다.
- ㄷ. 우리나라에서 ㉠과 같은 국제법 법원(法源)의 체결·비준권은 대통령에게 있다.
- ㄹ. ㉠과 같은 국제법 법원(法源)은 원칙적으로 국제 사회에서 행위 주체들에 대하여 포괄적 구속력을 갖는다.

- ① ㄱ, ㄴ    ② ㄱ, ㄷ    ③ ㄴ, ㄷ    ④ ㄴ, ㄹ    ⑤ ㄷ, ㄹ

▶ 21063-0180

### 20 국제 관계를 바라보는 갑, 을의 관점에 대한 설명으로 옳지 않은 것은?

국제 사회에서 국가들은 자국의 이익을 배타적으로 추구하기 때문에 자국에 피해가 발생할 가능성이 있는 문제에 대해서는 우선적으로 나서지 않아서 잘 해결되지 않고 있어.

그렇지 않아. 국제 사회에서 발생하는 문제들에 대해서 국가 간 연합이나 협력을 통해서 평화적으로 해결할 수 있어.



- ① 갑의 관점은 국제 사회를 무정부 상태로 본다.
- ② 을의 관점은 국제 사회에서 힘의 논리가 지배하고 있는 현실을 간과한다.
- ③ 갑의 관점은 을의 관점과 달리 외교 정책 수단으로 위협보다 설득과 타협을 중시한다.
- ④ 을의 관점은 갑의 관점과 달리 개별 국가의 이익과 국제 사회 전체의 이익은 조화될 수 있다고 본다.
- ⑤ 갑의 관점은 세력 균형을 통한 안정을 강조하지만, 을의 관점은 국제법이나 국제기구를 통한 평화를 중시한다.

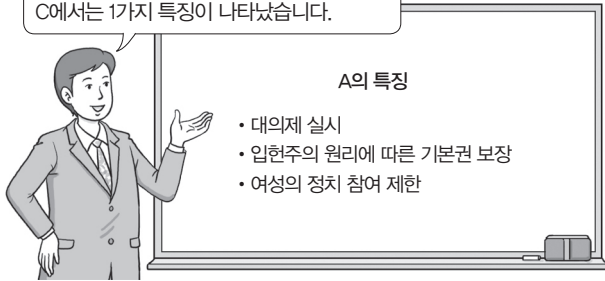


문항에 따라 배점이 다르니, 각 물음의 끝에 표시된 배점을 참고 하시오. 3점 문항에만 점수가 표시되어 있습니다. 점수 표시가 없 는 문항은 모두 2점입니다.

▶21063-0181

1 그림의 A~C에 대한 설명으로 옳은 것은? (단, A~C는 각각 고대 아테네 민주 정치, 근대 민주 정치, 현대 민주 정치 중 하나 이다.)

제시된 A의 특징 3가지 중 B에서는 2가지, C에서는 1가지 특징이 나타났습니다.



- ① A와 달리 B에서는 보통 선거가 확립되었다.
- ② A와 달리 C에서는 국민 주권에 기반을 둔 민주 정치가 실시되었다.
- ③ 차티스트 운동은 B에서 A로 발전하는 데 기여하였다.
- ④ B와 달리 A에서는 대의제를 보완하기 위해 직접 민주제 요소를 도입하였다.
- ⑤ C와 달리 B에서는 추천제와 운번제를 통해 모든 시민에게 공직 참여 기회를 보장하였다.

▶21063-0182

2 표는 우리나라 지방 자치 단체의 유형을 구분한 것이다. ㉠~ ㉢에 대한 설명으로 옳은 것은?

구분	광역 자치 단체	기초 자치 단체
의결 기관	㉠	㉡
집행 기관	㉢	㉣

- ① ㉡의 지역구 의원은 중·대선거구제에 의해 선출된다.
- ② ㉢은 지방 자치 단체의 예산을 심의·확정한다.
- ③ ㉡과 달리 ㉠은 조례 제·개정 및 폐지권을 가진다.
- ④ ㉢과 달리 ㉠의 지역구 의원은 주민 소환의 대상이다.
- ⑤ ㉢은 ㉠의 동의를 얻어 ㉢이 임명한다.

▶21063-0183

3 다음 자료는 헌법 재판소 결정문의 일부이다. 자료에 나타난 기본권 유형 A, B에 대한 설명으로 옳은 것은? [3점]

- □□법 제△△조는 즉시 항고 제기 기간을 지나치게 짧게 정 함으로써 실질적으로 즉시 항고 제기를 어렵게 하고, 즉시 항 고 제도를 단지 형식적이고 이론적인 권리로서만 기능하게 함 으로서 헌법상 재판 청구권을 공허하게 하므로 A를 침해한다.  
\* 즉시 항고 : 신속하게 결정할 필요가 있는 사항에 대하여 일정한 불변 기간 내 에 제기해야 하는 항고
- ○○법 제◇◇조는 국회 의사당의 경계 지점으로부터 100미터 이내의 장소에서 옥외 집회 또는 시위를 할 경우 형사 처벌 한다고 규정하고 있다. 해당 조항은 국회의 헌법적 기능을 무 력화시키거나 저해할 우려가 있는 집회를 금지하는 데 머무르 지 않고, 그 밖의 평화적이고 정당한 집회까지 전면적으로 제 한함으로써 B를 침해한다.

- ① A는 인간다운 생활의 보장을 국가에 요구할 수 있는 권리 이다.
- ② B는 방어적·소극적 성격의 권리이다.
- ③ A와 달리 B는 기본권 보장을 위한 수단적 권리이다.
- ④ B와 달리 A는 다른 기본권 보장의 전제 조건이다.
- ⑤ A, B는 모두 원칙적으로 내국인에게만 보장되는 권리이다.

▶21063-0184

4 다음 자료에 대한 분석으로 옳은 것은? [3점]

갑국과 을국은 서로 다른 전행적인 정부 형태를 채택하고 있으 며 두 국가 모두 ㉠ 의회가 행정부를 견제하는 수단과 ㉡ 행정부 가 의회를 견제하는 수단을 갖추고 있다. 표는 현재 갑국과 을 국 의회의 정당별 의석률을 나타낸다.

갑국	A당	B당	C당	D당
	55%	30%	10%	5%
을국	E당	F당	G당	H당
	30%	45%	10%	15%

- ① 갑국의 행정부 수반이 B당 소속이라면 을국의 행정부 수 반은 국가 원수와 동일인이다.
- ② 갑국이 ㉠으로 내각 불신임권을 가진다면 을국의 행정부 수반은 임기가 보장된다.
- ③ 을국이 ㉡으로 법률안 거부권을 가진다면 갑국에서는 현 재 여소야대 현상이 발생하고 있다.
- ④ 갑국의 A당 의원이 각료를 겸직하고 있다면 을국과 달리 갑국은 ㉠으로 탄핵 소추권을 가진다.
- ⑤ 을국에서 F당과 G당이 연립하여 정부부를 구성하였다면 갑국과 달리 을국은 ㉡으로 각종 동의·승인권력을 가진다.

5 우리 헌법의 기본 원리 (가), (나)에 대한 설명으로 옳은 것은?

우리 헌법은 전문에 “자유와 조화를 바탕으로 자유 민주적 기본 질서를 더욱 확고히 하여……”라고 선언하여 (가)의 실현을 헌법의 지향 이념으로 삼고 있다. 한편 우리 헌법은 제119조 제2항에서 “국가는 균형 있는 국민 경제의 성장 및 안정과 적정한 소득의 분배를 유지하고…… 경제에 관한 규제와 조정을 할 수 있다.”라고 규정하여 (나)를 실현하고자 한다. 이는 (가)에 따른 자유 민주적 기본 질서 및 시장 경제 질서를 기본으로 하면서 위 질서들에 수반되는 모순을 제거하기 위해 (나)를 수용하여 실질적인 자유와 평등을 달성하고자 하는 것이다.

- ① 근로자에 대한 적정 임금 보장과 최저 임금제의 실시는 (가)의 실현 방안이다.
② 인간다운 생활을 국가에 요구할 수 있는 권리 보장은 (나)의 실현 방안이다.
③ (가)와 달리 (나)는 권력 분립을 위한 국가 기관 간의 상호 견제 수단을 강조한다.
④ (나)와 달리 (가)는 개인의 경제 활동에 대한 국가의 적극적 개입을 강조한다.
⑤ (가), (나)는 모두 근대 입헌주의 헌법에서부터 강조되었다.

6 우리나라 헌법 기관 A~D에 대한 설명으로 옳은 것은? [3점]

• A는 법관의 자격을 가진 9인의 재판관으로 구성하며, 재판관은 B가 임명한다.
• A의 재판관 중 3인은 C에서 선출하는 자를, 3인은 D의 장이 지명하는 자를 임명한다.
• A의 장은 C의 동의를 얻어 재판관 중에서 B가 임명한다.

- ① A는 위헌 법률 심판 제청권을 가진다.
② A는 B가 헌법이나 법률을 위반하여 직무를 집행하였을 때 탄핵 소추할 수 있다.
③ C는 국가의 세입·세출의 결산 검사 및 공무원의 직무 감찰을 담당한다.
④ D는 위헌·위법한 명령·규칙·처분에 대한 최종 심사권을 가진다.
⑤ A의 장(長)과 달리 D의 장(長)을 임명할 때 B는 C의 동의를 얻지 않아도 된다.

7 밑줄 친 ㉠~㉣에 대한 옳은 설명만을 <보기>에서 고른 것은?

- ㉠ 선상 투표는 대한민국 국민이 선장을 맡고 있는 원양 어선, 외항 여객선·화물선 등에 승선하고 있어서 투표소에서 투표할 수 없는 선원들이 선박 위에서 투표할 수 있는 제도로 선상 투표자가 투표 후 팩스로 투표지를 전송하면 시·도 선관위는 ㉡ 기표 부분이 봉합된 상태로 수신되는 이른바 쉴드 팩스를 통해 투표지를 수신한다.
• 중앙 선거 관리 위원회는 ㉢ 선거권자 연령 하향으로 교육 현장의 혼란을 우려하는 목소리가 커짐에 따라 선거 교육 교재 제작·배부 및 전담 인력 양성·확보 등 ‘교복 입은 유권자’의 자유롭고 공정한 선거 참여 환경 조성을 위한 대책을 마련하였다.

보기

- ㄱ. ㉠을 통해 선거권을 가진 유권자의 수가 증가한다.
ㄴ. ㉡을 통해 비밀 선거의 원칙을 보장할 수 있다.
ㄷ. 평등 선거의 원칙을 보장하기 위해 ㉣이 도입되었다.
ㄹ. ㉠, ㉢은 모두 정치 과정에서 투입이 증가하는 데 기여한다.

- ① ㄱ, ㄴ ② ㄱ, ㄷ ③ ㄴ, ㄷ ④ ㄴ, ㄹ ⑤ ㄷ, ㄹ

8 다음 자료는 갑국과 을국의 정당별 의회 의석률의 변화를 나타낸 것이다. 이에 대한 추론으로 옳은 것은? (단, 갑국과 을국은 모두 전형적인 의원 내각제를 채택하고 있다.) [3점]

Table with 2 main columns: <갑국> and <을국>. Each column has a sub-column for '구분' (T대, T+1대, T+2대) and four party columns (A당, B당, C당, D당 for 甲; E당, F당, G당, H당 for 乙). Percentages are provided for each cell.

- ① 갑국과 달리 을국에서는 정당 간 대립 시 중재가 어려울 것이다.
② 갑국에 비해 을국에서는 정치적 책임 소재가 명확할 것이다.
③ 갑국에 비해 을국에서는 다수당의 횡포를 견제하기 어려울 것이다.
④ 을국에 비해 갑국에서는 안정된 국정 운영 가능성이 높을 것이다.
⑤ 을국에 비해 갑국에서는 다양한 국민의 의견이 국정에 반영될 것이다.

▶ 21063-0189

### 9 다음 자료에 나타난 정치 참여 집단 A, B에 대한 설명으로 옳은 것은? (단, A, B는 각각 시민 단체, 정당 중 하나이다.)

교육 분야의 공공선을 실현하기 위해 시민들이 자발적으로 결성한 A는 사교육 비용 증가에 따른 가계 부담 증가와 학교 서열에 따른 대입 결과 격차 등을 문제 삼으며 공교육의 가치와 공익이 실현될 수 있는 교육 정책과 입시 제도를 마련해 줄 것을 정부에 요구하며 입법 청원 활동을 펼치고 있다. 이에 B는 불공정한 대입 제도 개편, 대학의 교육의 질 향상, 사교육비 경감 등을 공약으로 내세우며 관련 분야 전문가를 영입하여 다가오는 선거에서 후보자로 공천할 예정이다.

- ① A는 로비 활동을 통한 사익 실현을 중시한다.
- ② B는 자신들의 행위에 대한 정치적 책임을 진다.
- ③ A와 달리 B는 대의 민주 정치의 한계를 보완하기 위해 등장하였다.
- ④ B와 달리 A는 정치 사회화 기능을 수행한다.
- ⑤ A, B는 모두 의회와 정부를 매개하는 기능을 수행한다.




▶ 21063-0190

### 10 민법의 기본 원칙 A, B에 대한 설명으로 옳은 것은?

심청전에서 심청이가 상인에게 공양미 삼백 석을 받고 자신의 몸을 바다에 던져 죽기로 한 계약은 각자의 자율적인 판단에 기초하여 법률관계를 형성하였으므로 A에 따라 효력이 발생해.

아니야. 그러한 계약은 사회 질서에 위반되거나 현저히 공정성을 잃은 계약이므로 B에 따라 법적 효력이 없어.



- ① A는 개인의 자율적 의사에 기초하여 체결된 계약의 부작용을 강조한다.
- ② B는 계약 체결에 있어서 경제적 약자를 보호하고자 한다.
- ③ A와 달리 B는 개인 소유의 재산에 대한 절대적인 지배권을 인정한다.
- ④ B와 달리 A는 고의나 과실이 없더라도 일정한 요건에 따라 배상 책임을 질 수 있다는 원칙이다.
- ⑤ 자본주의 발달 과정에서 나타난 문제점으로 인해 현대 민법에서 A는 B로 대체되었다.


▶ 21063-0191

### 11 다음 사례에 대한 법적 판단으로 옳은 것은? [3점]

갑(17세)은 법정 대리인의 동의를 받은 것처럼 동의서를 위조하여 카메라 판매업자 을(25세)을 속이고 고가의 카메라를 구매하는 계약서를 작성하였다. 이후 갑은 자신의 집에 있던 부모님 소유의 고가의 캠코더를 남편의 생일 선물을 찾고 있던 병(18세)에게 판매하는 계약을 체결하였다. 갑은 법정 대리인의 동의 없이 병과 계약을 체결하였으며 별도의 계약서는 작성하지 않았다.

\* 병과 병의 남편은 법률혼 관계이다.

- ① 갑의 법정 대리인은 갑과 을의 계약을 취소할 수 있다.
- ② 을은 갑의 법정 대리인에게 계약 체결의 의사 표시를 철회할 수 있다.
- ③ 갑과 병이 체결한 계약을 병은 취소할 수 없지만 갑의 법정 대리인은 취소할 수 있다.
- ④ 갑은 을과 체결한 계약과 병과 체결한 계약 모두 취소할 수 없다.
- ⑤ 갑과 을의 계약과 달리 갑과 병의 계약은 계약서를 작성하지 않았기 때문에 효력이 발생하지 않는다.



▶ 21063-0192

### 12 A에 해당하는 사례만을 <보기>에서 있는 대로 고른 것은? [3점]

일반 불법 행위의 성립 요건과 달리 특수한 성립 요건이 정하여져 있는 불법 행위 중 A는 타인의 가해 행위 또는 물건에 의해 발생한 손해에 대하여 배상 책임을 지우는 점에서 자기의 가해 행위에 의한 손해에 대해서 책임을 지우는 일반 불법 행위와 다르다.

보기

- ㄱ. 책임 능력이 있는 미성년자 갑이 타인의 차량을 파손하여 갑의 법정 대리인이 손해 배상 책임을 진 경우
- ㄴ. 을이 운영하는 가게 직원이 업무상 부주의로 타인에게 부상을 입혀 을이 손해 배상 책임을 진 경우
- ㄷ. 병이 운영하는 식당의 건물의 간판이 떨어지면서 지나가던 행인이 다쳐 병이 손해 배상 책임을 진 경우
- ㄹ. 정과 무가 공동으로 행인을 폭행한 후 정과 무가 연대하여 손해 배상 책임을 진 경우

- ① ㄱ, ㄴ                      ② ㄱ, ㄹ                      ③ ㄴ, ㄷ
- ④ ㄱ, ㄷ, ㄹ                ⑤ ㄴ, ㄷ, ㄹ

▶ 21063-0193

▶ 21063-0195

### 13 다음 자료에 대한 법적 판단으로 옳은 것은?

### 15 죄형 법정주의의 내용 A에 대한 설명으로 가장 적절한 것은?

○○ 가정 법원

판 결

사건 ○○○○드단○○○○ 이혼 및 위자료 등  
원고 갑  
피고 을

주 문

1. 원고와 피고는 이혼한다.  
2. 피고는 원고에게 위자료로 2,000만 원을 지급하라.  
3. A(15세)의 친권자 및 양육자로 원고를 지정한다.

○○법 ○○조항은 ‘중요한 회의’가 있었음에도 속기록 등을 작성하지 아니하면 처벌한다고만 규정하고 있는바, 조합의 어떤 회의체 기관의 회의가 중요한 ‘회의’에 해당하는지 명시하지 않았고, ‘중요한’이라는 용어는 그 자체만으로 독자적인 판정 기준이 될 수 없어 그 해당 여부가 안전에 따라 정해지는지, 실제의 결된 내용에 따라 정해지는지 여부조차 예측할 수 없다. 따라서 해당 조항은 범죄의 구성 요건을 지나치게 추상적이고 모호하게 규정함으로써 통상의 판단 능력을 가진 국민이 무엇이 금지되는지를 예견하기 어렵게 하여 A를 위반하였다고 할 것이다.

- ① A가 미성년자이므로 갑이 청구한 이혼은 이혼 속리 기간을 거쳐야 한다.
- ② ○○ 가정 법원이 A의 친권자로 갑을 지정하였으므로 을의 A에 대한 면접 교섭권은 인정되지 않는다.
- ③ 갑은 위자료와 별도로 A의 양육비를 을에게 청구할 수 있다.
- ④ 갑과 을은 행정 관청에 신고를 해야 효력이 발생하는 이혼을 하였다.
- ⑤ ○○ 가정 법원의 판결이 확정된 이후 을이 사망한다면 A는 을의 재산을 상속받을 수 없다.

- ① 관습법을 근거로 처벌해서는 안 된다는 원칙이다.
- ② 범죄와 형벌의 내용이 법률에 명확히 규정되어 있어야 한다는 원칙이다.
- ③ 형벌 법규는 시행 이전의 행위에 소급하여 적용되어서는 안 된다는 원칙이다.
- ④ 범죄 행위의 경중과 행위자가 부담해야 할 책임 사이에 균형을 갖추어야 한다는 원칙이다.
- ⑤ 범죄 행위가 형법에 명확히 규정되어 있지 않은 때에 유사한 규정을 적용해서는 안 된다는 원칙이다.

▶ 21063-0194

▶ 21063-0196

### 14 A, B에 대한 설명으로 옳은 것은?

### 16 다음 자료에 대한 법적 판단으로 옳은 것은? [3점]

공지사항    게시판    Q&A

교사 : 범죄 성립 요건에는 구성 요건 해당성, A, B가 있습니다. 이 중 A가 조각되는 사례를 말해 볼까요?

↳ 갑 : 심각한 정신 질환으로 심신 상실 상태에서 행인에게 돌을 던져 다치게 한 경우입니다.

↳ 을 : 친구의 승낙을 받고 친구 아버지의 노트북을 훔쳐 타인에게 판매한 경우입니다.

↳ 병 : 자신에게 돌진하는 맹견을 피하기 위해 근처에 있는 가정집으로 뛰어든 경우입니다.

↳ 정 : 변호사가 어린 딸의 생명을 해치겠다는 협박을 받아 불가피하게 의뢰인의 비밀을 상대방에게 알려 준 경우입니다.

교사 : A가 조각되는 사례를 말한 사람은 한 사람입니다. 두 사람은 B가 조각되는 사례를 말했네요.

<p style="text-align: center;">○○ 지방 법원</p> <p style="text-align: center;">판 결</p> <p>사건 ◇◇◇◇고단◇◇◇◇ 피고인 갑</p> <p style="text-align: center;">... (중략) ...</p> <p style="text-align: center;">주 문</p> <p>피고인을 벌금 30만 원에 처한다. 피고인이 위 벌금을 납입하지 아니하는 경우 돈 10만 원을 1일로 환산한 기간 피고인을 노역장에 유치한다. 다만, 이 판결 확정일로부터 1년간 위 형의 집행을 유예한다.</p>	<p style="text-align: center;">□□ 지방 법원</p> <p style="text-align: center;">판 결</p> <p>사건 △△△△고단△△△△ 피고인 을, 병</p> <p style="text-align: center;">... (중략) ...</p> <p style="text-align: center;">주 문</p> <p>피고인 을을 징역 10월에 처한다. 다만, 피고인 을에 대하여 이 판결 확정일로부터 2년간 위 형의 집행을 유예한다. 피고인 병에 대한 형의 선고를 유예한다.</p>
------------------------------------------------------------------------------------------------------------------------------------------------------------------------------------------------------------------------------------------------------------------------------------------------------------------------------------	-------------------------------------------------------------------------------------------------------------------------------------------------------------------------------------------------------------------------------------------------------------------------------------------------------------

- ① A는 책임, B는 위법성이다.
- ② 을이 제시한 사례는 A가 조각되는 경우에 해당한다.
- ③ 정이 제시한 사례는 B가 조각되는 경우에 해당한다.
- ④ 어린이(9세)가 편의점에서 사탕을 훔친 경우는 A가 조각되는 경우에 해당한다.
- ⑤ 권투 선수가 경기 중에 상대 선수를 때린 경우는 B가 조각되는 경우에 해당한다.

- ① 갑은 자유형에 해당하는 형벌을 선고받았다.
- ② ○○ 지방 법원의 판결이 확정된 후 갑이 벌금을 납입하지 않으면 3일간 노역장에 유치된다.
- ③ □□ 지방 법원의 판결이 확정되면 을은 2년간의 유예기간이 지난 후에 교도소에 수감된다.
- ④ 병은 유예를 받은 날로부터 일정 기간이 지나면 형 선고의 효력이 상실된다.
- ⑤ 갑, 을, 병은 모두 유죄 판결을 받았다.

### 17 다음 사례에 대한 법적 판단으로 옳은 것은? [3점]

갑(19세)은 주 5일(월~금), 을(17세)은 주 5일(수~일)을 근무일로 하는 근로 계약을 각각 병과 체결한 후 병이 운영하는 대형 음식점에서 일하고 있다. 근로 계약서에 따른 갑과 을의 임금은 각각 시간당 10,000원이며, 근로 시간은 10시부터 18시까지(휴게 시간은 13시부터 14시까지)이다. 또한 갑과 을의 근로 계약서에는 연장 근로 및 휴일 근로의 경우 임금의 50%를 가산하여 지급받는다는 내용이 포함되어 있다.

\* 단, 갑과 을의 근로 계약 기간 동안 법정 최저 임금은 시간당 8,720원이다.

- ① 을과 달리 갑은 독자적으로 임금을 청구할 수 있다.
- ② 갑과 달리 을은 근무일을 모두 개근하더라도 유급 휴일을 보장받을 수 없다.
- ③ 을의 토요일과 일요일 근무에 대해 병은 임금의 50%를 가산하여 지급하여야 한다.
- ④ 갑이 근무일에 근로 계약에 따라 일한 경우 병은 갑에게 하루 임금으로 80,000원을 지급해야 한다.
- ⑤ 당사자 간 합의가 있더라도 갑과 달리 을은 근무일에 20시까지 근로 시간을 연장해서 일할 수 없다.

### 18 국제 연합의 주요 기관인 A, B에 대한 설명으로 옳은 것은?

○○신문

A는 교전 발생 지역 국가들의 모든 적대적 행위 중단을 요구하는 '코로나19 팬데믹에 따른 인도주의 휴전' 결의문을 15개 이사국 전원 합의로 채택하였다. 해당 결의문은 상임 이사국인 갑국과 비상임 이사국인 을국이 함께 초안을 작성하였다.

○○신문

국제 포경 규제 협약 가입국인 병국은 B가 '남극해에서 포경을 하지 말라'는 판결을 내린 후에도 고래잡이를 계속하였다. 이에 국제 포경 위원회(WC)는 고래의 상업적 이용 금지 선언을 채택하였다.

- ① A는 국제 연합의 형식상 최고 의결 기관이다.
- ② 갑국과 을국은 모두 A의 의사 결정 과정에 거부권을 행사할 수 있다.
- ③ 국제 포경 위원회는 병국을 B에 제소할 수 있다.
- ④ B는 국제 포경 규제 협약을 국제법의 법원(法源)으로 활용할 수 없다.
- ⑤ A는 B의 판결을 이행하지 않는 병국에 적절한 조치를 취할 수 있다.

### 19 밑줄 친 ㉠, ㉡에 대한 설명으로 옳은 것은? [3점]

국내 법인인 A사는 영국 법인인 B사가 생산한 물품을 싱가포르 법인인 C사를 통해 수입하였고, A사가 ㉠ 대한민국과 유럽 연합 및 그 회원국 간의 자유 무역 협정에 따른 협정 세율(0%)을 적용하는 내용의 수입 신고를 하였다. 그런데 판매 회사인 C사가 작성한 원산지 신고서는 인증 수출자인 B사가 작성한 것이 아니므로 관할 세관장은 자유 무역 협정에 따른 협정 세율의 적용을 배제하고, ㉡ 관세법에 따라 관세율 8%를 적용하여 산출한 관세 등을 결정·고지하였다.

- ① 우리나라에서 대통령은 ㉠에 대한 비준권을 가진다.
- ② ㉠은 국제 사회의 모든 국가에 대하여 포괄적 구속력을 가진다.
- ③ ㉡은 강제적으로 집행할 집행 기구가 없다.
- ④ ㉡은 ㉠과 달리 성문화된 형식으로 존재한다.
- ⑤ ㉠은 ㉡과 달리 우리나라에서 헌법과 동등한 효력을 가진다.

### 20 다음 자료에 대한 분석 및 추론으로 옳은 것은? [3점]

갑국 의회는 지역구 의원 6인과 비례 대표 의원 5인으로 구성되며 지역구 의원은 각 선거구마다 최대 득표한 1인이 선출된다. 비례 대표 의석은 각 정당의 지역구 후보자들이 선거구 전체에서 얻은 득표율에 비례 대표 총 의석수를 곱하여 산출된 정수(整数)만큼 의석을 정당에 먼저 배분하고, 잔여 의석은 소수점 이하 수가 큰 순서대로 각 정당에 1석씩 배분한다. 갑국의 최근 의회 선거 결과는 다음과 같다.

구분	총 유권자 수 (명)	지역구 의원 선거 정당별 득표율(%)					계
		A당	B당	C당	D당	계	
선거구 1	1,000	20	10	50	20	100	
선거구 2	2,000	20	20	20	40	100	
선거구 3	1,000	20	30	40	10	100	
선거구 4	2,000	20	30	10	40	100	
선거구 5	2,000	20	50	20	10	100	
선거구 6	2,000	20	30	40	10	100	

\* 투표율은 100%이고, 무소속 후보자는 없으며 무효표는 없다.

- ① 지역구 의원 선거는 중·대 선거구제를 채택하고 있다.
- ② B당 소속 당선자 수는 A당 소속 당선자 수의 3배이다.
- ③ C당과 달리 D당은 지역구 의석률이 정당 득표율에 비해 높다.
- ④ 유권자는 지역구 의원 선출과 비례 대표 의원 선출을 위해 1인 2표를 행사하였다.
- ⑤ 선거구 1에서 C당 후보자는 선거구 4에서 B당 후보자보다 더 많은 수의 표를 얻었다.

문항에 따라 배점이 다르니, 각 물음의 끝에 표시된 배점을 참고 하시오. 3점 문항에만 점수가 표시되어 있습니다. 점수 표시가 없 는 문항은 모두 2점입니다.

▶21063-0201

1 우리나라 국가 기관 A~C에 대한 옳은 설명만을 <보기>에서 고른 것은?

A의 최근 동향 중 두드러진 것은 신입 대법원장에게 임명장을 수여한 것과, B의 심의를 거쳐 ○○ 법률안에 대한 거부권을 행사한 것이다. 한편 A의 법률안 거부권 행사에 대해 C는 임시회를 열어 ○○ 법률안을 재의결하려는 움직임을 보이고 있다.

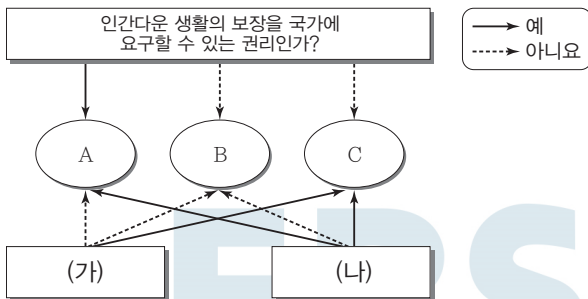
보기

- ㄱ. A는 헌법 개정안을 제안할 수 있다.
- ㄴ. C는 국가 예산안에 대한 심의·의결권을 가진다.
- ㄷ. B의 심의 내용은 A를 구속한다.
- ㄹ. C의 구성원은 B의 구성원을 겸할 수 없다.

- ① ㄱ, ㄴ    ② ㄱ, ㄷ    ③ ㄴ, ㄷ    ④ ㄴ, ㄹ    ⑤ ㄷ, ㄹ

▶21063-0202

2 그림은 기본권 유형 A~C를 구분한 것이다. 이에 대한 설명으로 옳지 않은 것은? (단, A~C는 각각 사회권, 자유권, 청구권 중 하나이다.) [3점]



- ① A는 B, C에 비해 최근에 등장한 현대적 권리이다.
- ② B가 국가의 존재를 전제로 하지 않아도 보장되는 권리라면 C는 수단적 성격의 권리이다.
- ③ C가 자유권이라면 (가)에는 '소극적·방어적 권리인가?'가 들어갈 수 있다.
- ④ (가)가 '국가 권력의 간섭이나 침해받지 않아야 실현되는 성격의 권리인가?'라면 B는 헌법에 열거되지 아니한 이유로 경시되어서는 안 될 권리이다.
- ⑤ (나)가 '적극적 권리인가?'라면 국가 배상 청구권은 C에 포함된다.

▶21063-0203

3 다음 글에 나타난 정치를 바라보는 관점에 대한 옳은 설명만을 <보기>에서 있는 대로 고른 것은?

기업 내에서는 동료 간의 갈등과 협력, 상급자와 하급자 간의 위계적 권력관계 등의 여러 가지 양상이 나타나는데, 이러한 경쟁과 갈등, 권력관계 등은 기업 이외 인간 사회에서도 나타나는 것들이다. 즉, 인간 사회가 유지되는 가운데 어떤 조직이 형성되면 그 조직 내에서는 권력 구조, 경쟁과 갈등 등과 같은 현상이 나타나는 것이 일반적이며, 다만 조직의 특성에 따라 그 양상이 달리 나타날 뿐이다.

보기

- ㄱ. 행정부와 입법부의 갈등 해결 과정도 정치로 본다.
- ㄴ. 국가 형성 이전의 정치 현상을 설명하는 데 한계가 있다.
- ㄷ. 다원화된 현대 사회의 정치 현상을 설명하는 데 한계가 있다.
- ㄹ. 사회 구성원 간 이해관계의 대립과 갈등을 조정하고 해결하는 활동을 정치로 본다.


- ① ㄱ, ㄷ    ② ㄱ, ㄹ    ③ ㄴ, ㄷ
- ④ ㄱ, ㄴ, ㄹ    ⑤ ㄴ, ㄷ, ㄹ

▶21063-0204

4 법치주의를 바라보는 갑, 을의 관점에 대한 설명으로 옳은 것은?

의회를 통과하여 공포된 법률은 내용과 무관하게 법률로서 존중되고 지켜져야 합니다. 적법하게 제정된 법률을 지키지 않는 것은 법치주의를 훼손하는 행위입니다.

의회에서 제정된 법률일지라도 그 내용이 정당하지 않을 경우에는 그 효력을 인정할 수 없어요. 오히려 그러한 법률을 부인하는 것이 진정한 법치주의라고 생각해요.



- ① 갑은 내용과 목적이 정의에 어긋난 법이라도 효력이 있다고 본다.
- ② 을은 의회의 입법권에는 제한이 없어야 한다고 본다.
- ③ 갑과 달리 을은 정치권력의 자의적 행사를 경계한다.
- ④ 을과 달리 갑은 법에 근거한 정치권력 행사를 강조한다.
- ⑤ 갑과 을 모두 인간의 존엄성을 침해하는 법에 대해서는 저항할 수 있다고 본다.

▶21063-0205

**5** 다음 자료에 대한 설명으로 옳은 것은?

교사 : 우리 헌법의 기본 원리 A의 실현 방안에 대해 각자 두 가지씩 이야기해 보세요.  
 갑 : 권력 분립 제도 도입과 상향식 의사 결정 과정 확립을 들 수 있어요.  
 을 : 적법 절차의 원리 준수와 전통문화의 진흥을 들 수 있어요.  
 교사 : ㉠ 한 사람은 두 가지 모두 적절한 답을 하였는데, ㉡ 다른 한 사람은 적절하지 않은 방안을 한 가지 포함하여 대답하였네요.

- ① ㉠은 을, ㉡은 갑이다.
- ② A의 실현 방안에 국제법의 존중도 해당한다.
- ③ A는 자유주의와 민주주의가 결합된 정치 원리이다.
- ④ A는 국가 의사를 최종 결정하는 주권이 국민에게 있다는 원리이다.
- ⑤ A 관련 헌법 조항으로 '모든 국민은 인간다운 생활을 할 권리를 가진다.'를 들 수 있다.

**[7~8]** 다음 자료를 보고 물음에 답하시오.

갑국의 의회 의원 정수는 6명이며 선거구당 선출 의원 수는 동일하고 단순 다수 대표제를 통해 선출한다. 최근 의회 의원 선거를 통해 다음과 같은 득표 현황이 나타났다. 한편 갑국은 ㉠ 현행 선거구 제도에서 나타나는 문제점을 극복하기 위해 선거 제도를 개편하려고 한다.

〈개편안〉 의회 의원 수와 대표 선출 방식은 현행대로 유지하고, 선거구는 현행 선거구를 두 개씩으로 분할하여 조정한다.

〈최근 선거 득표 현황 및 선거 제도 개편 예정 내용〉

(단위 : %)

현행 선거구	정당	A당	B당	C당	D당	E당	분할 예정 선거구
		가	22 14	12 12	6 16	8 6	
나		10 15	15 5	8 7	14 13	3 10	나-1 나-2
	다	8 10	12 14	20 10	6 6	4 10	다-1 다-2

\* 각 정당은 선거구별로 후보자를 1명씩만 공천한다.

\*\* 분할 예정 선거구별 유권자 수는 동일하며, 투표율은 100%이고, 무효표는 없다.

▶21063-0207

**7** 밑줄 친 ㉠에 해당하는 옳은 내용만을 <보기>에서 고른 것은? [3점]

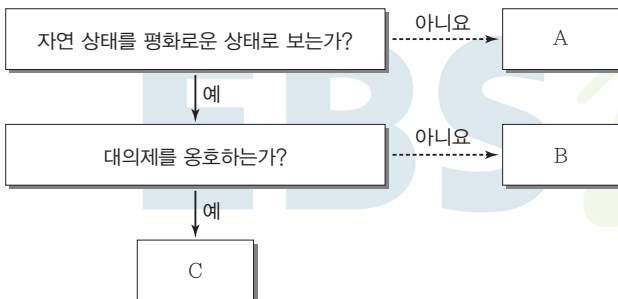
보기

- ㉠. 입법 과정에 다양한 민의 반영이 어렵다.
- ㉡. 소수당이나 신인 정치인의 의회 진출에 불리하다.
- ㉢. 군소 정당이 난립할 경우 정국이 불안정해질 수 있다.
- ㉣. 동일 선거구 내에서 당사자 간 투표 가치의 차등 문제가 발생할 수 있다.

- ① ㉠, ㉡    ② ㉠, ㉢    ③ ㉡, ㉣    ④ ㉡, ㉣    ⑤ ㉢, ㉣

▶21063-0206

**6** 그림의 근대 사회 계약론자 A~C에 대한 설명으로 옳은 것은? (단, A~C는 각각 홉스, 로크, 루소 중 하나이다.)



- ① A는 국가를 수단이 아닌 목적으로 본다.
- ② B는 국가 권력의 제한을 위해 2권 분립을 주장한다.
- ③ C는 자연권의 일부 신탁이 필요하다고 본다.
- ④ A와 달리 C는 저항권을 인정하지 않는다.
- ⑤ B와 달리 C는 일반 의지에 입각한 정치 공동체 구성을 주장한다.

▶21063-0208

**8** 개편안을 최근 선거에 적용했을 때 현행에 비해 나타날 수 있는 상황에 대한 분석으로 옳은 것은? (단, 다른 조건의 변화는 없다고 전제한다.) [3점]

- ① A당의 의석수는 증가한다.
- ② 의회 의석을 차지한 정당의 수가 증가한다.
- ③ B당과 달리 C당은 의석수가 증가한다.
- ④ D당은 선거 제도 개편과 상관없이 A당과의 의석수 격차가 유지된다.
- ⑤ E당의 의석수는 감소한다.

▶21063-0209

9 표는 서로 다른 전형적인 정부 형태를 가진 갑국과 을국의 정치 제도 및 상황을 비교한 것이다. 이에 대한 옳은 분석 및 추론만을 <보기>에서 고른 것은? [3점]

구분	갑국	을국
행정부 수반 소속 정당이 의회에서 과반수 의석을 차지하였는가?	예	아니요
(가)	예	아니요
(나)	아니요	예

**보기**

- ㄱ. (가)에는 '사법부의 독립이 보장되는가?'가 들어갈 수 없다.
- ㄴ. (가)가 '행정부 수반이 법률안 거부권을 가지는가?'라면 갑국에서는 여소야대 현상이 나타나고 있을 것이다.
- ㄷ. 갑국에서 행정부가 법률안 제출권을 가진다면 (나)에는 '국가 원수와 행정부 수반이 동일인인가?'가 들어갈 수 있다.
- ㄹ. 을국에서 연립 내각이 구성된다면 (나)에는 '의회 의원이 각료를 겸직할 수 있는가?'가 들어갈 수 없다.

- ① ㄱ, ㄴ    ② ㄱ, ㄷ    ③ ㄴ, ㄷ    ④ ㄴ, ㄹ    ⑤ ㄷ, ㄹ

▶21063-0211

11 다음 사례에 대한 옳은 법적 판단만을 <보기>에서 고른 것은? [3점]

- 갑(18세)은 을(19세)과 결혼식은 하지 않았지만, 부모의 동의를 얻어 혼인 신고를 마치고 함께 살고 있다.
- 병(32세)은 정(29세)과 결혼식을 올리고 부부 공동생활을 하고 있지만, 아직 혼인 신고는 하지 않았다.

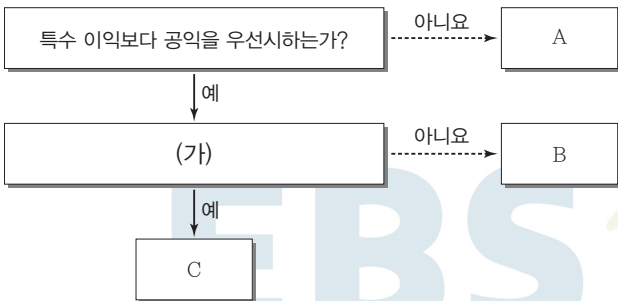
**보기**

- ㄱ. 갑은 민법상 성년으로 의제된다.
- ㄴ. 병과 정의 혼인은 실질적 요건과 달리 형식적 요건이 충족되어 있다.
- ㄷ. 갑과 을 사이에는 상속권이 발생하지만, 병과 정 사이에는 상속권이 발생하지 않는다.
- ㄹ. 갑과 을은 서로에 대한 부양의 의무를 지지만, 병과 정은 서로에 대한 부양 의무를 지지 않는다.

- ① ㄱ, ㄴ    ② ㄱ, ㄷ    ③ ㄴ, ㄷ    ④ ㄴ, ㄹ    ⑤ ㄷ, ㄹ

▶21063-0210

10 정치 참여 집단 A~C에 대한 설명으로 옳은 것은? (단, A~C는 각각 시민 단체, 이익 집단, 정당 중 하나이다.)



- ① A는 공직 선거에서 후보자를 공천하는 기능을 한다.
- ② (가)에는 '정치 과정에서 주로 투입 기능을 수행하는가?'가 들어갈 수 있다.
- ③ (가)가 '정부와 의회를 매개하는 역할을 하는가?'이면 B는 정권 획득을 목표로 한다.
- ④ B가 정당이라면 (가)에는 '정치 사회화 기능을 수행하는가?'가 들어갈 수 있다.
- ⑤ C가 시민 단체라면 (가)에는 '정치권력을 추구하지 않는가?'가 들어갈 수 있다.

▶21063-0212

12 다음 사례에 대한 법적 판단으로 옳은 것은? [3점]

갑은 전 배우자인 을과의 사이에 낳은 자녀 병이 있고, 병에 대한 친권은 갑에게 있다. 을과 이혼 후 갑은 정과 재혼을 하였는데 정 역시 전 배우자와 사이에서 낳고 친권을 가진 자녀 무가 있다. 갑은 무를 양자로 들이지는 않았지만 친자처럼 길렀는데, 어느 날 교통사고로 갑이 사망하였다. 사망 후 갑이 미리 작성해 놓은 자필 유언장이 발견되었다. 유언장에서 갑은 자신의 전 재산 10억 원을 ○○ 복지 재단에 기부한다고 의사를 표명하였으며, 유족들은 유언장의 법적 효력 여부를 확인하고 있다.

- ① 유언장이 유효하고 갑과 정이 혼인 신고를 한 경우라면 유류분 반환을 청구할 수 있는 사람은 병, 정, 무이다.
- ② 유언장이 유효하고 갑과 정이 혼인 신고를 하지 않은 경우라면 유류분 반환을 청구할 수 있는 사람은 을과 병이다.
- ③ 유언장이 무효이고 갑과 정이 혼인 신고를 한 경우라면 병과 무의 법정 상속액은 동일하다.
- ④ 유언장이 무효이고 갑과 정이 혼인 신고를 한 경우라면 병의 법정 상속분에 50%를 가산한 것이 정의 법정 상속분이다.
- ⑤ 유언장이 무효이고 갑과 정이 혼인 신고를 하지 않은 경우라면 정과 무의 법정 상속액을 합산한 것은 병의 법정 상속액의 2배이다.



▶ 21063-0213

### 13 민법의 기본 원칙 ㉠~㉢에 대한 옳은 설명만을 <보기>에서 고른 것은?

근대 민법의 기본 원칙	수정된 민법의 기본 원칙
㉠	㉡
㉢	소유권 공공복리의 원칙
과실 책임의 원칙	㉣

**보기**

- ㄱ. ㉠은 개인이 자율적인 판단에 기초하여 법률관계를 형성해 나갈 수 있다는 원칙이다.
- ㄴ. ㉡이 등장하면서 현재 우리나라 민법에서 ㉠은 적용되지 않는다.
- ㄷ. ㉢은 서구의 자유주의와 개인주의 사상이 반영되어 정착된 법 원칙이다.
- ㄹ. ㉣에 따르면 타인에게 끼친 손해에 대해서 자신의 직접적인 고의나 과실이 없는 경우에는 책임을 지지 않는다.

- ① ㄱ, ㄴ    ② ㄱ, ㄷ    ③ ㄴ, ㄷ    ④ ㄴ, ㄹ    ⑤ ㄷ, ㄹ

▶ 21063-0214

### 14 다음 사례에 대한 법적 판단으로 옳지 않은 것은? [3점]

갑(35세)은 을의 슈퍼마켓에서 소형 트럭으로 물건을 배달하는 사원이다. 어느 날 을의 지시로 물건을 배달하던 갑은 전방을 제대로 살피지 못하고 정차 중이던 병의 승용차를 추돌하였고, 이로 인하여 병은 중상을 입고 병원에서 입원 치료를 받았다.

- ① 갑은 사고로 인한 피해에 대해 일반 불법 행위 책임을 질 수 있다.
- ② 갑의 과실로 인한 피해에 대해 을은 손해 배상 책임을 질 수 있다.
- ③ 갑과 을은 상호 연대하여 공동 불법 행위자의 책임을 진다.
- ④ 갑의 행위가 불법 행위로 성립해야 병은 을에게 손해 배상을 요구할 수 있다.
- ⑤ 을은 갑의 선임 및 그 사무 감독에 상당한 주의를 다하였음을 증명하면 배상 책임을 면제받을 수 있다.

▶ 21063-0215

### 15 다음 사례에 대한 법적 판단으로 옳은 것은? [3점]

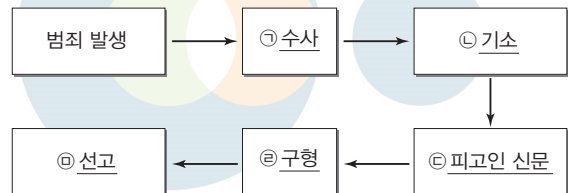
갑(17세)은 자전거 판매점 주인 을(40세)에게서 법정 대리인인 병의 동의 없이 고가의 자전거를 구입하였다. 갑은 병 몰래 친구들과 자전거를 타고 다니다가 병에게 들리게 되었다. 병은 자전거 매매 계약의 취소 여부에 대해 고민하고 있다.

- ① 갑과 을의 매매 계약에 대한 취소권은 병에게만 있다.
- ② 갑과 을의 매매 계약은 미성년자와의 계약이므로 무효이다.
- ③ 매매 계약 당시 갑이 병의 동의를 위조하여 계약을 체결하였다면 매매 계약은 무효이다.
- ④ 갑이 미성년자임을 을이 모르고 매매 계약을 체결하였다면 을은 병이 계약을 추인하기 전에 갑에게 그 계약의 철회를 통보할 수 있다.
- ⑤ 매매 계약 당시 갑이 자신이 성년인 것처럼 위조된 신분증을 제시하고 계약을 체결하였다면 갑은 병의 동의가 있어야만 계약을 취소할 수 있다.

▶ 21063-0216

### 16 다음 사례와 관련한 형사 절차 ㉠~㉣에 대한 설명으로 옳은 것은?

갑(25세)은 회사 동료 을과 술집에서 술을 마시다가 말다툼 끝에 폭행한 혐의로 체포되어 조사를 받고 구속된 상태에서 재판 을 받았다.



- ① 을의 고소가 없으면 ㉠은 개시되지 않는다.
- ② 갑은 ㉡ 이후부터 변호인의 조력을 받을 수 있다.
- ③ ㉢에서 갑은 자신에게 불리한 진술을 거부할 수 있다.
- ④ ㉤ 이후 갑은 구속 적부심을 청구할 수 있다.
- ⑤ ㉥에서 벌금형 선고 이후 갑이 항소하지 않으면 형벌이 확정된다.



▶ 21063-0217

**17** 다음 사례에 대한 옳은 분석만을 <보기>에서 고른 것은?

○○ 지방 법원은 부하 직원을 무고한 혐의로 기소된 회사원 갑에게 징역 6월에 집행 유예 2년을 선고하고, 120시간의 사회봉사 이행도 명령했다. 갑은 자신이 부하 직원 을에 대해 폭력을 행사한 사실을 을이 폭로하자, 해당 주장이 거짓이라며 을을 허위 고소한 혐의로 재판에 넘겨졌었다.

**보기**

- ㄱ. 갑에게 선고된 형벌은 자유형에 해당한다.
- ㄴ. 법원은 갑에게 대안적 형사 제재 수단을 부과하였다.
- ㄷ. 갑은 2년의 유예 기간이 지나면 면소된 것으로 간주되는 판결을 받았다.
- ㄹ. ○○ 지방 법원의 판결이 확정되면 갑은 6개월간 교도소에 구금되어 정역에 종사하게 된다.

- ① ㄱ, ㄴ    ② ㄱ, ㄷ    ③ ㄴ, ㄷ    ④ ㄴ, ㄹ    ⑤ ㄷ, ㄹ

▶ 21063-0218

**18** 밑줄 친 ㉠~㉣에 대한 설명으로 옳은 것은? [3점]

**근로 계약서**

사용자 갑과 근로자 을(17세, 고등학생)은 다음과 같이 ㉠ 근로 계약을 체결한다.

- 1. 계약 기간 : 2021.3.1.~8.31.
- 2. ㉡ 근로 시간 : 09:00~17:00
- 3. 임금 및 지급 방법
  - 임금 : ㉢ 시간당 8,500원
  - 지급 방법 : ㉣ 친권자에게 지급함

※ 특약 사항 : 필요한 경우에는 ㉤ 연장 근로를 할 수 있음

\* 단, 2021년의 시간당 법정 최저 임금은 8,720원이다.

- ① 을의 친권자는 을을 대리하여 ㉠을 체결할 수 있다.
- ② 갑은 ㉡ 도중에 휴게 시간을 주지 않고 그 종료 후 휴게 시간을 줄 수 있다.
- ③ ㉢은 관계 법령에 어긋나므로 갑과 을의 근로 계약 전체가 무효이다.
- ④ ㉣은 근로 기준법을 위반하였다.
- ⑤ ㉤은 1일 2시간까지 가능하다.

▶ 21063-0219

**19** 표는 국제법의 법원(法源)을 비교한 것이다. 이에 대한 설명으로 옳은 것은? (단, A, B는 각각 조약, 국제 관습법 중 하나이다.) [3점]

질문 \ 법원	A	B
(가)	예	아니요
(나)	아니요	예
(다)	아니요	아니요

- ① A가 조약이면 (가)에는 ‘국제 사회의 모든 국가에 포괄적 구속력을 가지는가?’가 들어갈 수 있다.
- ② B가 국제 관습법이면 (나)에는 ‘문명국들이 공통적으로 승인하여 따르는 법의 보편적인 원칙인가?’가 들어갈 수 있다.
- ③ (가)가 ‘문서 형식의 합의가 일반적인가?’라면 A의 사례로 교토 의정서를 들 수 있다.
- ④ (나)가 ‘국가나 국제기구 상호 간에 체결하는 법적 구속력을 가진 합의인가?’라면 B의 사례로 국내 문제 불간섭 원칙을 들 수 있다.
- ⑤ (다)에는 ‘국제 사법 재판소의 판결 근거로 활용할 수 있는가?’가 들어갈 수 있다.

▶ 21063-0220

**20** 국제 연합의 주요 기관 A~C에 대한 설명으로 옳은 것은?

- A는 국가 간의 법적 분쟁을 국제법에 따라 해결하는 사법 기관이다.
- B는 국제 평화와 안전 유지에 일차적 책임을 지며, 분쟁 지역에 평화 유지군을 파견할 수 있다.
- C는 국제 연합의 최고 의결 기관으로서 국제 연합의 활동 범위에 속하는 문제에 대해 토의, 권고하는 권한을 가진다.

- ① A의 판결은 분쟁 당사국에 대한 법적 구속력이 없다.
- ② B에서 어떤 안전에 2/3 이상의 구성원이 찬성하더라도 부결될 수 있다.
- ③ C에서의 의결 방식은 국가 간 힘의 차이를 반영한다.
- ④ A와 달리 B는 국가 간 합의가 있을 때에만 국제 분쟁에 개입할 수 있다.
- ⑤ 국가는 물론 개인도 B, C의 구성원이 될 수 있다.

문항에 따라 배점이 다르니, 각 물음의 끝에 표시된 배점을 참고 하시오. 3점 문항에만 점수가 표시되어 있습니다. 점수 표시가 없 는 문항은 모두 2점입니다.

▶21063-0221

1 정치를 바라보는 갑, 을의 관점과 관련한 다음 자료에 대한 설명으로 옳지 않은 것은?

정치는 국가만의 고유한 현상으로 정치권력의 획득, 유지, 행사와 관련한 활동입니다. 따라서 (가) 은 정치에 해당하지 않습니다.

정치는 국가를 포함한 모든 사회 집단에서 나타나는 현상입니다. (가) 은 정치에 해당합니다.

- ① (가)에 '국무총리가 명령을 발표하는 것'이 들어갈 수 없다.
- ② (가)에 '시장 상인 조합회에서 회원들이 조합 규칙을 만드는 것'이 들어갈 수 있다.
- ③ 갑의 관점에 비해 을의 관점은 다원화된 현대 사회의 정치 현상을 설명하기에 적합하다.
- ④ 을의 관점과 달리 갑의 관점은 국가 형성 이전의 정치 현상을 설명하기에 적합하다.
- ⑤ 갑의 관점, 을의 관점은 모두 소수의 통치 엘리트에 의한 통치 행위를 정치로 본다.

▶21063-0222

2 법치주의의 유형 A, B에 대한 설명으로 옳은 것은?

갑국에서는 최근에 ○○법이 제정되었는데 이 법에 대한 의견 이 분분하다. ○○법의 내용이 헌법에 보장된 기본권을 과도하 게 침해하므로 무효라고 주장하는 사람들이 있는 반면에 ○○ 법은 의회에서 적법한 절차를 거쳐 제정되었으므로 그 내용과 상관없이 지켜져야 한다고 주장하는 사람들이 팽팽하게 맞서고 있는 것이다. 전자는 법치주의의 유형 중 A를 강조하고, 후자는 법치주의의 유형 중 B를 강조한다.

- ① A는 B와 달리 입법 절차의 합법성을 강조한다.
- ② A는 B와 달리 독재 정치를 정당화하는 논리로 악용될 수 있다.
- ③ B는 A와 달리 위헌 법률 심사제의 필요성을 강조한다.
- ④ B는 A와 달리 국가 권력의 자의적 행사를 방지해야 한다고 본다.
- ⑤ A, B는 모두 기본권 제한 시 법률에 근거가 있어야 한다고 본다.

▶21063-0223

3 그림에 대한 옳은 설명만을 <보기>에서 있는 대로 고른 것은? (단, 갑, 을은 모두 17세이다.) [3점]

이 자전거가 어제 구매한 비싼 자전거야?

응, 위조한 부모님 동의를 보여 주었는데도 자전거를 판매했어.

난 며칠 전에 그 상점에서 부모님 동의 없이 고가의 자전거를 샀어.

그런데 우리가 체결한 자전거 구매 계약이 왠지 불안해 보여.

보기

- ㄱ. 갑과 달리 을은 자전거 구매 계약을 취소할 수 없다.
- ㄴ. 갑의 부모와 을의 부모는 모두 자전거 구매 계약을 취소할 수 있다.
- ㄷ. 계약 당시 갑이 미성년자임을 자전거 판매업자가 몰랐다면 자전거 판매업자는 자전거 구매 계약에 대한 철회권을 행사할 수 있다.
- ㄹ. 자전거 판매업자는 을의 부모와 달리 갑의 부모에게 자전거 구매 계약을 취소할 것인지 여부에 대한 확답을 촉구할 권리가 있다.

- ① ㄱ, ㄴ                      ② ㄱ, ㄹ                      ③ ㄴ, ㄷ
- ④ ㄱ, ㄷ, ㄹ                ⑤ ㄴ, ㄷ, ㄹ

▶21063-0224

4 다음 자료에 대한 설명으로 옳은 것은? (단, A~C는 각각 사회권, 자유권, 청구권 중 하나이다.) [3점]

• '역사적으로 가장 오래된 권리인가?'라는 질문에 대한 응답은 B와 C가 같다.

• '인간다운 생활의 보장을 국가에 요구할 수 있는 권리인가?'라는 질문에 대한 응답은 A와 C가 다르다.

• (가)라는 질문에 대한 응답은 A와 B가 같다.

- ① (가)에 '적극적 성격의 권리인가?'가 들어갈 수 있다.
- ② (가)에 '다른 기본권 보장의 전제가 되는 본질적 권리인가?'가 들어갈 수 없다.
- ③ B와 달리 C는 국가의 존재를 전제로 보장되는 권리이다.
- ④ A, C와 달리 B는 기본권 보장을 위한 수단적 권리이다.
- ⑤ C와 달리 A, B는 헌법에 열거되지 않아도 보장받을 수 있는 권리이다.

▶ 21063-0225

**5** 다음은 전형적인 정부 형태를 채택하고 있는 갑국의 정치 상황 변화를 나타낸 것이다. 이에 대한 옳은 설명만을 <보기>에서 고른 것은? [3점]

구분	T대	T+1대	T+2대
행정부 수반 소속 정당	A당	A당	A당
의회 제1당	A당	A당	B당
의회 과반수 의석 정당	A당	없음	B당

\* 갑국의 정부 형태는 T대~T+2대에서 1회 변경되었음

**보기**

- ㄱ. T+2대와 달리 T대에는 행정부 수반의 법률안 제출권이 인정된다.
- ㄴ. T대에 비해 T+2대에 행정부와 의회 간 원활한 협조가 이루어졌을 것이다.
- ㄷ. T대와 T+1대의 정부 형태가 같다면 T+1대에는 연립 내각이 구성되었을 것이다.
- ㄹ. T+1대와 T+2대의 정부 형태가 같다면 T+1대와 달리 T+2대에는 여소야대 현상이 나타났을 것이다.

- ① ㄱ, ㄴ    ② ㄱ, ㄷ    ③ ㄴ, ㄷ    ④ ㄴ, ㄹ    ⑤ ㄷ, ㄹ

▶ 21063-0226

**6** 밑줄 친 ㉠~㉣에 대한 옳은 설명만을 <보기>에서 있는 대로 고른 것은?

종업원이 부당 노동 행위를 했을 때 법인에 대해서도 벌금형을 부과하도록 정한 노동조합 및 노동관계 조정법(이하 노동조합법)은 ㉠ 위헌이라는 헌법 재판소 결정이 나왔다. 헌법 재판소는 ○○ 지방 법원이 노동조합법 제94조가 위헌 소지가 있다며 ㉡ 위헌 법률 심판 제청 사건에서 재판관 전원 일치 의견으로 위헌을 결정하였다. 여객 자동차 운송업을 하는 A 법인은 대표이사과 종업원이 부당 노동 행위를 했다는 혐의로 함께 기소되어 벌금 300만 원의 약식 명령을 받고 정식 재판을 청구했다. A 법인은 재판 진행 중 양벌 규정인 노동조합법 제94조에 대해 ㉢ 위헌 법률 심판 제청을 신청하였고, 법원은 이를 받아들여 현재에 위헌 법률 심판을 제청하였다. 노동조합법 제94조는 법인의 대표자, 종업원이 부당 노동 행위를 한 때에는 행위자를 처벌하는 것 외에도 법인에 ㉣ 벌금형을 부과하도록 하는 양벌 규정을 두고 있다.

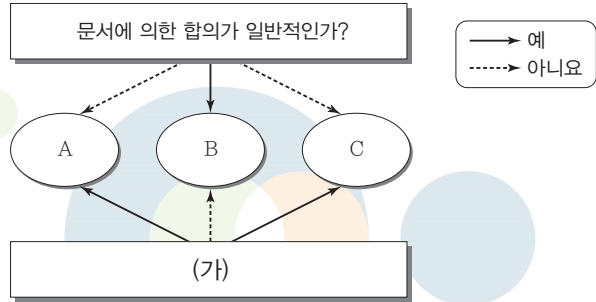
**보기**

- ㄱ. ㉠에 따라 A 법인은 종업원의 부당 노동 행위에 대한 벌금을 내지 않아도 된다.
- ㄴ. ㉡은 해당 법률의 위헌 여부가 재판의 전제가 된 경우에 가능하다.
- ㄷ. 법원은 ㉢이 없으면 위헌 법률 심판 제청을 할 수 없다.
- ㄹ. ㉣은 재산형에 해당하며 구금되지 않는다.

- ① ㄱ, ㄷ    ② ㄱ, ㄹ    ③ ㄴ, ㄷ  
 ④ ㄱ, ㄴ, ㄹ    ⑤ ㄴ, ㄷ, ㄹ

▶ 21063-0227

**7** 그림은 국제법의 법원(法源) A~C를 구분한 것이다. 이에 대한 설명으로 옳지 않은 것은? (단, A~C는 각각 조약, 국제 관습법, 법의 일반 원칙 중 하나이다.) [3점]



- ① ‘국내 문제 불간섭’이 A의 예라면 ‘신의 성실의 원칙’은 C의 예이다.
- ② A~C는 모두 우리나라에서 헌법보다 하위법에 해당한다.
- ③ (가)에 ‘국제 사회에서 포괄적 구속력을 갖는가?’가 들어갈 수 있다.
- ④ (가)에 ‘국제 사법 재판소에서 재판의 준거로 활용될 수 있는가?’가 들어갈 수 있다.
- ⑤ (가)에 ‘우리나라에서는 국회의 동의를 거쳐야 법적 효력을 갖는가?’가 들어갈 수 없다.

▶ 21063-0228

**8** 우리나라 주민 참여 제도 A~C에 대한 옳은 설명만을 <보기>에서 있는 대로 고른 것은?

주민 참여 제도	요약한 관련 법률 조항
A	주민은 그 지방 자치 단체의 장 및 지방 의회 의원을 소환할 권리를 가진다.
B	지방 자치 단체의 장은 주민에게 과도한 부담을 주거나 중대한 영향을 미치는 지방 자치 단체의 주요 결정 사항 등에 대하여 주민 투표에 부칠 수 있다.
C	주민은 지방 자치 단체의 조례를 제정하거나 개정하거나 폐지할 것을 청구할 수 있다.

**보기**

- ㄱ. A는 지방 의회 지역구 의원과 달리 비례 대표 의원에게는 적용되지 않는다.
- ㄴ. 지방 자치 단체장은 B를 거쳐야 규칙을 제정할 수 있다.
- ㄷ. 주민이 C를 활용하면 청구 내용대로 조례가 제정, 개정, 폐지된다.
- ㄹ. A~C는 모두 직접 민주제의 요소에 해당한다.

- ① ㄱ, ㄴ    ② ㄱ, ㄹ    ③ ㄴ, ㄷ  
 ④ ㄱ, ㄷ, ㄹ    ⑤ ㄴ, ㄷ, ㄹ

### 9 다음 자료에 대한 옳은 설명만을 <보기>에서 있는 대로 고른 것은? [3점]

<게임 방법> <카드 1>~<카드 6>에는 정치 참여 집단 중 시민 단체, 이익 집단, 정당의 특징이 적혀 있다. 게임 참여자는 <카드 1>~<카드 3>에서 2장, <카드 4>~<카드 6>에서 2장 총 4장을 선택한다. 선택한 카드에 적힌 특징이 정치 참여 집단 중 1개의 특징에만 해당하면 1점, 2개의 공통된 특징에 해당하면 2점, 3개의 공통된 특징에 해당하면 3점을 부여한다. 4장의 총점이 가장 높은 사람이 게임에서 이긴다.

<카드 내용>

<카드 1> 자신들의 활동에 대해 정치적 책임을 짐	<카드 2> 정권 획득을 목표로 함	<카드 3> 정치 사회화 기능을 수행함	<카드 4> (가)	<카드 5> 사익보다 공익을 우선시함	<카드 6> 정부와 의회 매개 기능을 수행함
---------------------------------	------------------------	--------------------------	---------------	-------------------------	-----------------------------

<카드 선택 결과>

구분	선택한 카드
갑	<카드 1>, <카드 2>, <카드 5>, <카드 6>
을	<카드 1>, <카드 3>, <카드 4>, <카드 5>
병	<카드 2>, <카드 3>, <카드 5>, <카드 6>
정	<카드 2>, <카드 3>, <카드 4>, <카드 6>

**보기**

- ㄱ. (가)에 '공직 선거에 후보자를 공천함'이 들어가면 총점은 정 이 갑보다 높다.
- ㄴ. (가)에 '비영리성, 비권력성, 자발성을 특징으로 함'이 들어가면 총점은 병보다 을이 높다.
- ㄷ. (가)에 '정치 과정에서 투입 기능을 담당함'이 들어가면 총점은 을이 가장 높다.
- ㄹ. (가)에 '여론 형성 기능을 함'이 들어가면 <카드 1>~<카드 6>은 모두 정당의 특징에 해당한다.

- ① ㄱ, ㄴ                      ② ㄱ, ㄹ                      ③ ㄴ, ㄷ
- ④ ㄱ, ㄷ, ㄹ                ⑤ ㄴ, ㄷ, ㄹ

### 10 다음 두 법률 조항을 통해 공통적으로 파악할 수 있는 우리나라 헌법의 기본 원리를 실현하는 방안으로 가장 적절한 것은?

- 국가와 지방 자치 단체는 보호자와 더불어 영유아를 건전하게 보육할 책임을 지며, 이에 필요한 재원을 안정적으로 확보하도록 노력하여야 한다.
- 국가와 지방 자치 단체는 일·가정의 양립을 위한 근로자와 사업주의 노력을 지원하여야 하며 일·가정의 양립 지원에 필요한 재원을 조성하고 여건을 마련하기 위하여 노력하여야 한다.

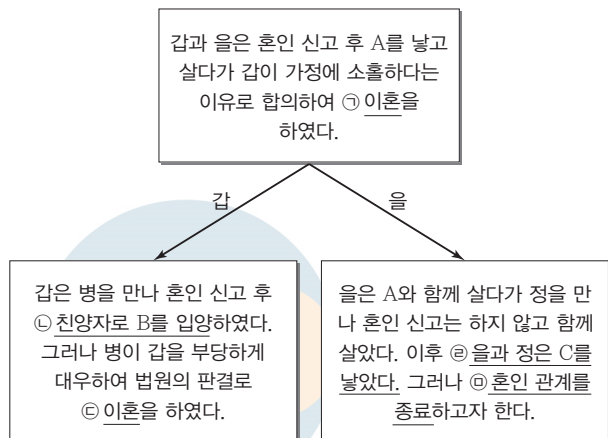
- ① 재외 국민의 선거권을 보장한다.
- ② 침략적 전쟁을 허용하지 않는다.
- ③ 국민의 인간다운 생활을 보장한다.
- ④ 언론·출판·집회·결사의 자유를 보장한다.
- ⑤ 복수 정당제 및 자유로운 정당 활동을 보장한다.

### 11 다음 사례에 대한 법적 판단으로 옳은 것은?

- 미성년자 갑은 자전거를 타다가 길을 걷던 사람을 치어 전치 4주의 상해를 입혔다.
- 을의 음식점에 고용되어 일하던 병이 손님에게 뜨거운 음식을 쏟아 전치 4주의 상해를 입혔다.
- 정은 무가 소유한 건물을 임차하여 음식점을 운영하였는데, 음식점의 창틀이 건물 밑으로 떨어져 지나가던 행인이 전치 4주의 상해를 입었다.

- ① 갑의 책임 능력 유무와 상관없이 갑의 부모는 특수 불법 행위 책임을 진다.
- ② 미성년자인 갑에게 책임 능력이 있어도 갑은 손해 배상 책임을 지지 않는다.
- ③ 을과 병은 공동 불법 행위자의 책임을 진다.
- ④ 병에게 일반 불법 행위 책임이 있으면 을은 사용자의 배상 책임을 지지 않는다.
- ⑤ 정이 손해 방지를 위한 주의 의무를 다하였음을 증명하면 무는 손해에 대한 무과실 책임을 진다.

### 12 밑줄 친 ㉠~㉣에 대한 설명으로 옳은 것은? [3점]



- ① 자녀 A가 있으므로 ㉠을 할 경우 갑과 을은 1개월의 이혼 숙려 기간을 거쳤을 것이다.
- ② ㉡으로 인해 B와 B의 친생부모와의 친족 관계는 종료된다.
- ③ ㉠과 ㉢은 모두 행정 기관에 이혼 신고를 한 때에 이혼의 효력이 발생한다.
- ④ ㉣ 이후 C는 을과 정 의 혼인 중 출생자가 된다.
- ⑤ ㉣을 위해서는 법원에서의 절차를 거쳐야 한다.

▶21063-0233

13 다음 사례에 대한 법적 판단으로 옳지 않은 것은? [3점]

고등학교 동창인 갑과 A는 함께 등산을 갔다가 실족하여 사망하였다. 갑은 '모든 재산을 자녀 병에게 물려준다.'라는 내용의 유언을 남겼으나 A는 유언을 남기지 않았다. 갑은 14억 원, A는 10억 원의 재산을 남겼다. 갑의 유가족으로는 법률혼 배우자 을, 자녀 병과 정, 홀어머니 무가 있으며, A의 유가족으로는 사실혼 배우자 B, 인지 절차를 거친 자녀 C, 홀어머니 D가 있다.

- ① C의 법정 상속액은 10억 원이다.
- ② B는 A의 재산에 대한 법정 상속권자가 아니다.
- ③ 무는 갑의 재산, D는 A의 재산에 대한 법정 상속권자가 아니다.
- ④ 갑의 유언이 효력이 있다면 을, 병, 정이 유류분 반환을 청구할 수 있다.
- ⑤ 갑의 유언이 효력이 없다면 자녀 병보다 배우자 을의 법정 상속액이 2억 원 많다.

▶21063-0234

14 다음 자료에 대한 옳은 설명만을 <보기>에서 있는 대로 고른 것은? [3점]

사례	법원 판단 시 주요 쟁점	판결 내용
(가)	갑의 폭행 행위가 갑의 법익에 대한 부당한 침해를 방위하기 위한 상당한 이유가 있는 행위인지 여부	무죄
(나)	폭행 당시 을이 심신 상실 상태였는지 심신 미약 상태였는지 여부	유죄
(다)	병의 폭행 행위가 피할 수 없는 강요된 행위에 의한 것인지 여부	무죄
(라)	정의 폭행 행위가 업무로 인한 행위에 해당하는지 여부	무죄

보기

- ㄱ. (가)의 법원과 달리 (라)의 법원은 폭행 행위가 위법성 조각 사유에 해당한다고 판단하였다.
- ㄴ. (나)에서의 쟁점은 을에게 법적 비난 가능성이 있느냐 여부이다.
- ㄷ. (다)의 법원은 병의 행위가 책임 조각 사유에 해당한다고 판단하였다.
- ㄹ. 갑~정의 폭행 행위는 모두 폭행죄의 구성 요건에는 해당되었을 것이다.

- ① ㄱ, ㄴ                      ② ㄱ, ㄹ                      ③ ㄴ, ㄷ
- ④ ㄱ, ㄷ, ㄹ                ⑤ ㄴ, ㄷ, ㄹ

▶21063-0235

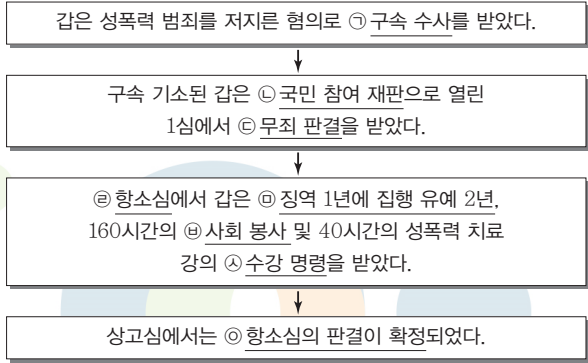
15 그림의 (가)에 들어갈 을의 답변 중 법적으로 옳은 것은?



- ① A에게 소년법상 보호 처분을 내릴 수 있어요.
- ② B는 경찰서장이 가정 법원 소년부로 송치할 수 있어요.
- ③ 형사 재판에서 C에게 형벌과 소년법상 보호 처분을 동시에 부과할 수 있어요.
- ④ B, C와 달리 A에게 형벌을 부과할 수 없어요.
- ⑤ B는 C와 달리 검사가 선도 조건부 기소 유예 처분을 내릴 수 있어요.

▶21063-0236

16 밑줄 친 ㉠~㉤에 대한 설명으로 옳은 것은?



- ① ㉡으로 보아 ㉢은 지방 법원 본원 합의부에서 열렸을 것이다.
- ② ㉢으로 인해 갑에게는 무죄 추정의 원칙이 적용되지 않는다.
- ③ ㉤은 정역을 부과하는 자유형의 집행을 유예하여 일정 기간 후 면소된 것으로 간주하는 것을 내용으로 한다.
- ④ ㉥, ㉦은 범죄자의 사회 복귀와 사회 질서의 보호라는 목적을 달성하기 위한 대안적 제재 수단에 해당한다.
- ⑤ ㉧으로 인해 갑은 ㉠에 대한 형사 보상을 청구할 수 있다.

▶ 21063-0237

### 17 다음 대화의 (가)에 들어갈 내용으로 가장 적절한 것은?

교사 : 청소년 근로에 대해 발표해 보세요.  
 갑 : 15세 미만인 자는 원칙적으로 근로자로 고용할 수 없어요.  
 을 : 15세 미만인 자도 부모가 계약을 체결하면 근로가 가능해요.  
 병 : 사용자는 18세 미만인 자를 보건상 유해한 사업에 사용할 수 없어요.  
 정 :  (가)  
 교사 : 2명만 옳게 답했어요.

- ① 미성년 근로자는 독자적으로 임금을 청구할 수 있어요.
- ② 미성년 근로자와 성인 근로자는 모두 최저 임금 제도의 적용을 받아요.
- ③ 18세 미만인 자의 근로 시간은 원칙적으로 1일 8시간, 1주 40시간을 초과하지 못해요.
- ④ 18세 미만인 자는 사용자와 합의하면 1일 1시간, 1주 5시간을 한도로 연장 근로할 수 있어요.
- ⑤ 사용자는 18세 미만인 자와 근로 계약을 체결하는 경우 근로 조건을 서면으로 명시하여 교부하여야 해요.

▶ 21063-0238

### 18 다음 사례에 대한 옳은 법적 판단 및 추론만을 <보기>에서 있는 대로 고른 것은? [3점]

갑과 을은 ○○ 회사에 다니며 ○○ 회사의 노동조합 조합원이다. 갑과 을은 최근에 해고를 당하였다. 갑은 노동조합의 간부로 활동하면서 정당한 파업을 주도했지만 ○○ 회사는 이것을 이유로 해고하였고, 을은 근무 태도가 좋지 않다는 이유로 ○○ 회사로부터 해고를 당하였다. 갑과 을은 모두 자신에 대한 해고가 부당하다고 판단하고 있으며 이에 대한 구제 절차를 거치려고 한다.

#### 보기

- ㄱ. 갑과 을은 모두 해고 무효 확인 소송을 제기할 수 있다.
- ㄴ. 갑과 을은 모두 부당 노동 행위에 대해 지방 노동 위원회에 구제 신청을 할 수 있다.
- ㄷ. 중앙 노동 위원회의 재심 판정에 불복할 경우 ○○ 회사는 갑 또는 을을 상대로 행정 소송을 제기할 수 있다.
- ㄹ. 갑에 대한 해고와 달리 을에 대한 해고에 대해서는 ○○ 회사의 노동조합이 지방 노동 위원회에 구제 신청을 할 수 없다.

- ① ㄱ, ㄴ                      ② ㄱ, ㄹ                      ③ ㄴ, ㄷ
- ④ ㄱ, ㄷ, ㄹ                ⑤ ㄴ, ㄷ, ㄹ

▶ 21063-0239

### 19 우리나라 헌법 기관 A~E에 대한 설명으로 옳은 것은?

- 국무 회의 의장 A는 부의장 B를 C의 동의를 얻어 임명함
- 상고심을 담당하는 D의 장(長)이 지명한 E의 재판관을 A가 임명함

- ① A가 E의 재판관을 임명하는 것은 행정부 수반으로서의 권한에 해당한다.
- ② C는 국가의 세입·세출의 결산 검사권을 갖는다.
- ③ B, C는 모두 국무 위원에 대한 해임 건의를 할 수 있다.
- ④ D의 장(長)과 달리 E의 장(長)에 대해서는 C의 동의 없이 A가 임명할 수 있다.
- ⑤ E의 재판관은 E의 장(長)을 포함하여 10인이다.

▶ 21063-0240

### 20 다음 자료에 대한 분석으로 옳은 것은? [3점]

갑국은 현행 선거 제도를 개편하려고 한다. 개편안에 대한 판단은 최근 의회 의원 선거 결과를 바탕으로 하며, 정당 득표 비율은 지역구 의원 선거에서의 정당 득표 비율로 한다.

현행	의회 의석 정수는 18명으로 지역구 의원 8명은 8개의 선거구에서 선출하며, 10명의 비례 대표 의원은 정당 득표 비율에 비례 대표 의석 정수를 곱하여 산출된 수의 정수(整數)만큼 각 정당의 의석으로 배분하고, 이후 잔여 의석은 소수점 이하의 수가 큰 순서대로 각 정당에 1석씩 배분한다. 소수점 이하의 수가 같으면 지역구 의석수가 많은 정당 순으로 1석씩 배분한다.
1안	지역구 의원 수, 비례 대표 의원 수, 비례 대표 의원 선출 방식은 현행을 유지한다. 지역구 의원은 선거구당 2명씩 선출하되 선거구는 <1-2>, <3-4>, <5-6>, <7-8>와 같이 4개로 나눈다.
2안	의회 의석 정수를 늘려 20명으로 하고 모두 비례 대표 의원으로 선출한다. 전국을 I 권역(1-2-7-8), II 권역(3-4-5-6)으로 나누고, 각 권역별로 10명씩 현행 비례 대표 의원 선출 방식으로 선출한다. 다만, 권역별 정당 득표 비율에 권역별 비례 대표 의원 정수를 곱한다.

<갑국의 최근 의회 의원 선거 결과>

(단위: 표)

구분	A당	B당	C당	D당	E당	계
1 선거구	40	30	10	10	10	100
2 선거구	50	60	70	10	10	200
3 선거구	20	10	50	10	10	100
4 선거구	70	0	50	60	20	200
5 선거구	10	10	10	10	60	100
6 선거구	80	70	10	30	10	200
7 선거구	30	40	10	10	10	100
8 선거구	60	20	30	70	20	200

\* 투표율은 100%이며, 무효표는 없다.  
 \*\* 각 정당은 후보자를 선거구당 1명씩만 공천한다.

- ① 현행 지역구 선거구제보다 1안의 지역구 선거구제가 사표가 많이 발생한다.
- ② C당은 현행보다 2안에서의 의석 점유율이 높다.
- ③ 2안의 경우 의석수는 I 권역, II 권역 모두에서 E당이 가장 적다.
- ④ A당과 B당은 1안보다 2안이 불리하다.
- ⑤ D당과 달리 E당은 현행과 1안 모두에서 과소 대표된다.

문항에 따라 배점이 다르니, 각 물음의 끝에 표시된 배점을 참고 하시오. 3점 문항에만 점수가 표시되어 있습니다. 점수 표시가 없 는 문항은 모두 2점입니다.

▶21063-0241

**1** 표는 질문을 통해 정치를 바라보는 관점 A, B를 구분한 것이 다. 이에 대한 옳은 설명만을 <보기>에서 고른 것은?

구분	A	B
정치를 국가가 독점하는 현상으로 강제력으로 사회 질서를 유지하는 활동으로 보는가?	아니요	예
(가)	㉠	예
(나)	예	아니요

**보기**

- ㄱ. A는 국가 형성 이전의 정치 현상을 설명할 수 있다.
- ㄴ. A와 달리 B는 국가 수준에서 일어나는 현상을 정치로 본다.
- ㄷ. (가)가 '의회의 입법 활동을 정치로 보는가?'라면, ㉠의 답변 은 '예'이다.
- ㄹ. (나)에 '다원화된 현대 사회의 정치 현상을 설명하기에 용이 한가?'가 들어갈 수 없다.

- ① ㄱ, ㄴ    ② ㄱ, ㄷ    ③ ㄴ, ㄷ    ④ ㄴ, ㄹ    ⑤ ㄷ, ㄹ

▶21063-0242

**2** 법치주의의 유형 A, B에 대한 설명으로 옳은 것은?

A는 형식적인 절차에 의해 국가가 제정한 실정법이라면 법 자 체의 내용에 대한 판단은 내리지 않는다. 즉, 국가 작용의 합법 성을 중시하는 이념이다. 이에 반해 B는 법 제정 과정의 절차적 적법성뿐만 아니라, 법의 목적과 내용이 정의와 헌법 이념에 합 치해야 함을 강조한다.

- ① A는 법의 내용이 정의에 부합해야 한다고 본다.
- ② B는 법의 내용이 국민의 기본권 보장에 부합해야 함을 강 조한다.
- ③ A와 달리 B는 국가 권력은 의회가 제정한 법률에 근거하 여 행사되어야 한다고 본다.
- ④ B와 달리 A는 위헌 법률 심사제가 필요하다고 본다.
- ⑤ A, B는 모두 합법적 절차를 거쳐 제정된 법이 국민의 자 유를 억압할 수 있다는 점을 간과한다.

▶21063-0243

**3** 밑줄 친 우리 헌법의 기본 원리 ㉠에 대한 설명으로 옳은 것 은? [3점]

자유권을 중시하는 근대 헌법은 거대한 국가 권력의 제한을 강 조하여 개개인의 천부적 인권을 확인하고 보장하는 데에는 크 게 이바지하였으나, 자본주의의 발달과 맞물려 발생한 현대 사 회의 모순을 해결하는 데에는 무기력하였다. 20세기 이르러서 야 본격적으로 헌법의 기본 원리로 대두된 ㉠이 원리를 어떻 게 실현시킬 것인가는 가장 최근에 등장한 현대적 권리의 보장 을 얼마나 할 것인가에 달려 있다. 자본주의가 심화되어 갈수록 국가에 사회 보장 및 사회 복지 증진 의무의 부여가 적극적으로 이루어져야 이 원리가 실현될 수 있다.

- ① 자유주의와 민주주의가 결합된 원리이다.
- ② 국가 역할을 형식적 자유의 보장으로 이해한다.
- ③ 민주적인 선거 제도의 규정을 실현 방안으로 들 수 있다.
- ④ 최소한의 인간다운 생활과 실질적 평등 보장을 강조한다.
- ⑤ 언론·출판·집회·결사의 자유 보장을 실현 방안으로 들 수 있다.

▶21063-0244

**4** 정치 참여 집단 A~C에 대한 설명으로 옳은 것은? (단, A~ C는 각각 시민 단체, 이익 집단, 정당 중 하나이다.)

구분	공직 선거에서 후보자를 공천하는가?	
	예	아니요
특수 이익보다 공익을 추구하는가?	예	A
	아니요	C
		B

- ① A는 정치 후원금 제공, 로비 활동 등의 방법으로 집단의 다양한 요구를 표출한다.
- ② B는 자신의 활동에 대해 정치적 책임을 진다.
- ③ C는 정부와 의회를 매개하는 기능을 담당한다.
- ④ C는 A, B와 달리 정치 사회화 기능을 수행하지 않는다.
- ⑤ A, B, C 모두 정치 과정에서 투입 기능을 담당한다.



▶ 21063-0245

### 5 다음 자료에 대한 설명으로 옳은 것은? [3점]

〈우리나라 국가 기관 A의 권한〉

- 입법 : ㉠ 헌법 개정안 제안·의결권, ㉡ 법률 제정·개정권, 조약 체결·비준 동의권
- 재정 : 국가 예산안 심의·의결권, ㉢
- 일반 국정 : 국정 감사·조사권, ㉣ 국가 기관 구성권, 탄핵 소추권 등

- ① ㉠은 A 재적 의원 3분의 2 이상의 동의가 필요하다.
- ② ㉡을 위해서 A 의원 9인 이상 또는 위원회가 법률안을 제출할 수 있다.
- ③ ㉢에는 국가의 세입·세출의 결산 검사권이 들어갈 수 있다.
- ④ 국무총리, 대법원장에 대한 임명 동의권은 ㉣에 해당한다.
- ⑤ A의 장(長)은 탄핵 소추의 대상이 된다.

▶ 21063-0247

### 7 다음 자료는 수행 평가 문항과 학생 답안에 대한 채점 결과이다. 이에 대한 설명으로 옳은 것은? (단, A와 B는 각각 전형적인 대통령제와 의원 내각제 중 하나이다.) [3점]

〈수행 평가 문항〉

A와 구별되는 B의 특징을 4가지 서술하시오. [하나당 2점씩 총 8점]

답안	배점	점수
<ul style="list-style-type: none"> <li>• 국민에 의해 의회가 구성된다.</li> <li>• 행정부 수반에게 법률안 거부권이 있다.</li> <li>• 국가 원수와 행정부 수반이 동일인이다.</li> <li>• _____ (가)</li> </ul>	8점	6점

- ① A는 입법부와 행정부의 긴밀한 협조가 어렵다.
- ② B는 연립 내각이 구성될 경우 정국 불안이 초래될 수 있다.
- ③ A와 달리 B는 행정부의 입법부 견제 권한이 있다.
- ④ B와 달리 A는 의회 의원이 각료를 겸직할 수 있다.
- ⑤ (가)에는 ‘입법부와 행정부가 상호 독립적으로 조직된다.’가 들어갈 수 없다.

▶ 21063-0248

### 8 밑줄 친 ㉠~㉣에 대한 설명으로 옳은 것은? [3점]

### 6 기본권 유형 A, B에 대한 설명으로 옳은 것은?

회사원 갑은 “2017. 8. 1.부터 시행된 ‘전동 키포드는 최고 속도가 25km/h를 넘지 않아야 한다.’는 기존 규제로 인해 제한 속도 없이 전동 키포드를 사용할 일반적 행동 자유권이 침해되고, 자신의 자유로운 영역에서 국가 권력에 의한 간섭이나 침해를 받지 않을 권리인 A이/가 침해된다. 또한 최고 속도 제한 기준이 다르거나 존재하지 않는 오토바이나 전기 자전거, 전동 모터보드, 해외 제조 전동 키포드에 비추어 합리적 이유 없이 불평등한 대우를 받아 B이/가 침해된다.”라고 주장하며 헌법 소원 심판을 청구하였다.

- ① A는 능동적이고 적극적인 성격을 가진다.
- ② B는 국가의 정치 과정에 적극적으로 참여할 수 있는 권리이다.
- ③ A와 달리 B는 사회적 특수 계급 제도의 금지, 법 앞의 평등을 내용으로 한다.
- ④ B와 달리 A는 헌법에 열거되지 않아도 보장받을 수 있는 포괄적 권리이다.
- ⑤ A, B는 모두 국민이 국가에 일정한 행위를 요구할 수 있는 권리이다.

공지사항    게시판    Q&A

Q : 주민 조례 제·개폐 청구 제도란 무엇인가요?  
A : 조례란 지방 자치 단체에서 정하는 법 규범의 일종으로 주민의 대표인 ㉠ 지방 의회의 의결을 거쳐 만들어집니다. 지방 자치법에서는 ㉡ 지방 자치 단체장과 지방 의회 의원만이 지방 의회에 조례안을 제출할 수 있도록 규정하고 있습니다. 다만, ㉢ 주민 자치 및 ㉣ 직접 민주주의 제도의 하나로 주민들이 필요하다고 판단하는 내용을 포함한 조례의 제정, 개정, 폐지를 청구할 수 있는 제도를 마련하고 있습니다. 이러한 제도를 ㉤ 주민 조례 제·개폐 청구 제도라고 합니다.

- ① ㉠의 의원은 ㉡과 달리 주민의 선거에 의해 선출된다.
- ② ㉡은 지방 자치 단체의 의결 기관이다.
- ③ ㉢은 중앙 정부의 권력을 지방으로 분할하는 지방 분권을 의미한다.
- ④ ㉣의 실현 방안으로 주민 투표 제도, 주민 소환 제도를 들 수 있다.
- ⑤ ㉤은 주민의 의견 반영을 통한 국가 정책 결정의 신속성을 목적으로 한다.

▶ 21063-0249

**9** 다음 두 사례에 대한 옳은 법적 판단만을 <보기>에서 고른 것은?

- 편의점 주인 갑은 최근 아르바이트생으로 A(19세)를 고용하였다. A는 부모의 동의 없이 갑과 근로 계약을 체결하였다.
- 대형 마트 주인 을은 아르바이트생으로 B(17세)를 고용하였다. 을은 B를 채용하기 전에 친권자의 근로 동의서를 받았고, B는 아르바이트를 시작하였다.

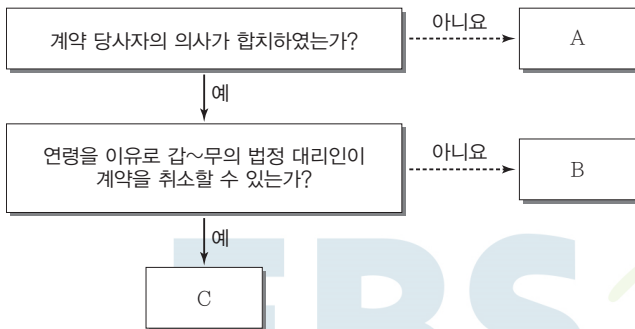
**보기**

- ㄱ. A가 부모의 동의 없이 갑과 직접 체결한 근로 계약은 무효이다.
- ㄴ. B의 근로 시간은 원칙적으로 1일 8시간, 1주일 30시간을 넘지 못한다.
- ㄷ. A, B 모두 사업주에게 독자적으로 임금을 청구할 수 있다.
- ㄹ. 을은 B의 연령을 증명하는 가족 관계 기록 사항에 관한 증명서와 친권자 또는 후견인의 동의서를 사업장에 갖추어야 한다.

- ① ㄱ, ㄴ    ② ㄱ, ㄷ    ③ ㄴ, ㄷ    ④ ㄴ, ㄹ    ⑤ ㄷ, ㄹ

▶ 21063-0250

**10** 다음 자료의 A~C 상황에 부합하는 사례로 옳은 것은? (단, 갑~무와 계약한 상대방은 의사 능력과 행위 능력을 갖추고 있다.) [3점]



- ① 갑(17세)이 매매 계약서를 작성하지 않고 고가의 노트북을 구매한 경우는 A에 해당한다.
- ② 을(15세)이 부모의 동의를 얻지 않고 고가의 게임기를 구매한 경우는 B에 해당한다.
- ③ 병(18세)이 부모의 동의를 얻어 매매 계약서를 작성한 후 고가의 컴퓨터를 구매한 경우는 B에 해당한다.
- ④ 정(17세)이 부모의 동의서를 위조하여 고가의 가방을 구매한 경우는 C에 해당한다.
- ⑤ 무(15세)가 부모의 동의를 얻어 고가의 최신 자전거를 구매한 경우는 C에 해당한다.

▶ 21063-0251

**11** 다음 사례에 대한 옳은 법적 판단만을 <보기>에서 있는 대로 고른 것은? [3점]

갑(여)과 을(남)은 결혼 후 자녀 병(3세)과 함께 살던 중 협의상 이혼을 하였다. 이후 갑은 병을 혼자서 양육하다가 2년 뒤 정과 법률혼을 하였다. 이혼한 후 을은 병에 대한 양육비 지급과 면접 교섭권 행사를 게을리하지 않았다. 정은 혼인 후 3년이 지나 병과 친밀한 유대 관계가 형성되었다고 느껴 A, B의 제도 중 하나를 활용하여 법률상 친자 관계를 형성하려 한다. 표는 질문을 통해 A와 B 제도를 구분한 것이다.

구분	A	B
병이 정의 성과 본을 따를 수 있는가?	예	아니요
을이 병에 대한 친권을 행사할 수 있는가?	㉠	㉡

**보기**

- ㄱ. 갑과 을의 이혼을 이유로 을과 병의 친자 관계가 종료되지 않는다.
- ㄴ. A를 활용하여 정과 병이 친자 관계를 형성하려 할 때, 가정 법원에 이를 청구하여야 한다.
- ㄷ. B를 활용하면 을과 병의 친족 관계는 종료된다.
- ㄹ. ㉠과 ㉡의 답변은 서로 다르다.

- ① ㄱ, ㄴ    ② ㄱ, ㄷ    ③ ㄷ, ㄹ  
 ④ ㄱ, ㄴ, ㄷ    ⑤ ㄴ, ㄷ, ㄹ

▶ 21063-0252

**12** 범죄 성립에 대한 법적 판단으로 옳은 것은?

기준	유형	A	B	C
범죄의 구성 요건에 해당하는가?		예	예	예
법질서 전체의 관점에서 부정적이라는 판단이 있는가?		아니요	예	예
행위자가 사회적으로 비난받을 만한 책임이 있는가?			예	아니요

- ① 갑(15세)이 배고픔을 참지 못하고 식당에서 음식물을 훔친 행위는 A에 해당한다.
- ② 을(34세)이 심신 미약 상태에서 차량을 훔친 행위는 B에 해당한다.
- ③ 병(23세)이 달려드는 맹견을 피하기 위해 막다른 골목에서 옆집 대문을 부수고 대피한 행위는 C에 해당한다.
- ④ 경찰관 정이 도로에 주차되어 있던 자동차를 부수고 도망가는 현행범인 무(19세)를 그 자리에서 영장 없이 체포하는 과정에서 경미한 초과상을 가한 행위는 A~C에 해당하지 않는다.
- ⑤ C와 달리 B에서 보안 처분이 내려질 수 있다.

▶ 21063-0253

### 13 민법의 원칙 A, B에 대한 설명으로 옳은 것은?

□ A □란 민법의 양대 책임 체계인 계약 책임과 불법 행위 책임이 성립하기 위해서는 채무자 또는 가해자에게 고의 또는 과실이라는 주관적 귀책 요건이 필요하다는 원칙을 의미한다. 이는 개인의 자유로운 경제 활동을 보장함으로써 자유 경쟁에 의한 자본주의의 발전에 기여한 바가 컸지만, 자본주의의 심화에 수반하여 과실이 전제되지 않은 기업 활동이나 각종 위험 시설로부터의 피해를 구제하는 데에는 역부족이었다. 이러한 □ A □의 한계를 극복하기 위하여 □ B □가 제한적으로 수용되었다.

- ① A는 개인의 사유 재산에 대한 절대적 지배권을 인정한다.
- ② B에 따르면 특정한 영역에서 가해자의 고의·과실을 묻지 않고 손해 배상 책임을 물을 수 있다.
- ③ A와 달리 B는 사회적 강자가 자신의 책임을 회피하는 수단으로 악용될 수 있다.
- ④ B와 달리 A는 재산권과 관련 있다.
- ⑤ 현대 민법에서 A는 B로 완전히 대체되었다.

▶ 21063-0255

### 15 다음 자료의 (가)에 들어갈 수 있는 적절한 내용만을 <보기>에서 있는 대로 고른 것은? [3점]

교사 : 사용자가 근로 3권을 침해하는 행위인 A의 사례에 대해 발표해 보세요.  
 갑 : 사용자가 특정 노동조합 가입, 탈퇴를 조건으로 근로자를 고용하는 경우예요.  
 을 : □ (가) □  
 병 : 사용자가 단체 교섭을 정당한 이유 없이 거부하거나 해태하는 경우예요.  
 정 : 사용자가 해고를 함에 있어 남녀를 차별하는 경우예요.  
 교사 : 3명만 옳은 답을 했어요.

#### 보기

- ㄱ. 사용자가 휴대 전화 문자 메시지로 근로자에게 해고 통보를 하는 경우예요.
- ㄴ. 사용자가 근로자의 정당한 노동조합 활동을 이유로 해고, 징계 등을 하는 경우예요.
- ㄷ. 사용자가 적법한 쟁의 행위에 참가한 근로자를 해고, 징계 하는 경우예요.
- ㄹ. 사용자가 해고를 함에 있어서 합리적 이유 없이 연령을 이유로 근로자를 차별한 경우예요.

- ① ㄱ, ㄴ                      ② ㄱ, ㄹ                      ③ ㄴ, ㄷ
- ④ ㄱ, ㄷ, ㄹ                ⑤ ㄴ, ㄷ, ㄹ

▶ 21063-0254

### 14 밑줄 친 ㉠~㉣에 대한 옳은 설명만을 <보기>에서 고른 것은? [3점]

A 회사의 노동조합 위원장 갑은 법정 근로 시간 준수를 명목으로 A 회사 근로자들에게 휴일 근로 및 연장 근로를 집단적으로 거부하도록 선동하고, 위력으로 회사의 업무를 방해하였다는 이유로 ㉠ 형사 재판을 받고 있었다. 갑은 재판을 받던 중 재판의 전제가 된 형법 제314조 제1항이 기본권을 침해한다는 이유로 ㉡ 법원에 위헌 법률 심판 제청 신청을 하였으나 기각되자, ㉢ 헌법 소원 심판을 청구하였다. 헌법 재판소는 ㉣ 해당 조항은 헌법에 위반되지 않는다는 결정을 내렸다.

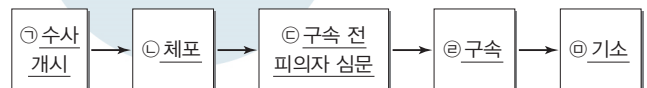
#### 보기

- ㄱ. ㉠의 당사자는 갑과 검사이다.
- ㄴ. 법률 조항의 위헌 여부에 관해 ㉠의 판단 결과와 헌법 재판소의 판단 결과는 달랐다.
- ㄷ. ㉢은 위헌 심사형 헌법 소원 심판이다.
- ㄹ. ㉣로 인해 갑은 해당 조항에 의해 처벌받지 않는다.

- ① ㄱ, ㄴ    ② ㄱ, ㄷ    ③ ㄴ, ㄷ    ④ ㄴ, ㄹ    ⑤ ㄷ, ㄹ

▶ 21063-0256

### 16 그림은 갑에 대한 형사 절차 진행 상황을 나타낸 것이다. 밑줄 친 ㉠~㉣에 대한 설명으로 옳은 것은?



- ① ㉠은 고소, 고발, 범인의 자수에 의해서만 이루어진다.
- ② ㉡을 위해서는 원칙적으로 판사로부터 영장을 발부받아야 한다.
- ③ ㉢의 주체는 검사이다.
- ④ ㉣이 이루어지면 갑은 피의자에서 피고인의 신분이 된다.
- ⑤ ㉣ 이후 갑은 형사 보상 청구권을 행사할 수 없다.

▶ 21063-0257

**17** 다음 자료에 대한 옳은 설명만을 <보기>에서 고른 것은? [3점]

특수 불법 행위 유형	면책 가능 여부	사례
책임 무능력자의 감독자의 책임	책임 무능력자의 감독자 : 면책 가능	(가)
사용자의 배상 책임	사용자 : ㉠	(나)
공작물 등의 점유자, 소유자의 책임	점유자 : 면책 가능 소유자 : ㉡	(다)

**보기**

- ㄱ. (가)에 '대학생 갑(21세)이 던진 돌에 차량이 파손된 경우 갑의 부모가 지는 손해 배상 책임'이 들어갈 수 있다.
- ㄴ. (나)에 '사용자 을이 고용한 병(23세)이 업무상 오토바이로 피자를 배달하던 중 운전 부주의로 행인에게 부상을 입힌 경우 을이 지는 손해 배상 책임'이 들어갈 수 있다.
- ㄷ. (다)에 '정의 건물 1층에서 꽃가게를 하는 무(32세)의 꽃가게 건물 외벽 일부가 떨어져서 행인이 다쳤을 때 정과 무가 공동으로 연대하여 지는 손해 배상 책임'이 들어갈 수 없다.
- ㄹ. ㉠과 ㉡에 들어갈 내용은 동일하다.

- ① ㄱ, ㄴ    ② ㄱ, ㄷ    ③ ㄴ, ㄷ    ④ ㄴ, ㄹ    ⑤ ㄷ, ㄹ

▶ 21063-0258

**18** 다음은 헌법 재판소 결정문 중 일부이다. 빈칸 ㉠에 들어갈 죄형 법정주의의 파생 원칙에 대한 설명으로 옳은 것은?

심판 대상 조항은 외국인에게 대한민국 국적을 부여하는 '귀화'의 요건을 정한 것인데, '품행', '단정' 등 용어의 사전적 의미가 명백하고, 심판 대상 조항의 입법 취지와 용어의 사전적 의미 및 법원의 일반적인 해석 등을 종합해 보면, '품행이 단정할 것'은 '귀화 신청자를 대한민국의 새로운 구성원으로서 받아들이는데 지장이 없을 만한 품성과 행실을 갖춘 것'을 의미하고, 구체적으로 이는 귀화 신청자의 성별, 연령, 직업, 가족, 경력, 전과 관계 등 여러 사정을 종합적으로 고려하여 판단될 것임을 예측할 수 있다. 따라서 심판 대상 조항은 ㉠에 위배되지 아니한다.

- ① 범죄와 그에 따른 처벌이 균형을 갖추어야 한다는 원칙이다.
- ② 행위 당시의 형벌 법규를 재판의 기준으로 삼아야 한다는 원칙이다.
- ③ 사회적으로 비난을 받는 행위라도 관습에 의해 처벌할 수 없다는 원칙이다.
- ④ 범죄와 형벌은 누구나 이해할 수 있도록 법률로 명확하게 규정해야 한다는 원칙이다.
- ⑤ 어떤 사항에 대하여 직접 규정한 법규가 없을 때 그와 비슷한 사항에 대하여 규정한 법률을 행위자에게 불리하게 적용하지 못한다는 원칙이다.

▶ 21063-0259

**19** 국제법의 법원(法源) A, B에 대한 설명으로 옳지 않은 것은? (단, A와 B는 각각 국제 관습법, 조약 중 하나이다.)

A는 국가나 국제기구를 당사자로 하여 상호 간에 체결하는 법적 구속력을 가진 합의이며, B는 국제 사회의 반복적인 관행이 법 규범으로 승인되어 효력을 가지게 된 유형이다. B는 A에 미처 규정되지 못한 부족분을 채워 주고, A는 B의 증거가 되기도 한다.

- ① A는 원칙적으로 체결 당사자에 대해 법적 구속력을 갖는다.
- ② 국내 문제 불간섭은 B에 해당한다.
- ③ A와 달리 B는 우리나라에서 효력이 발생하려면 별도의 입법 절차가 필요하다.
- ④ B와 달리 A는 일반적으로 성문화된 형식으로 존재한다.
- ⑤ A, B는 모두 국제 사법 재판소의 재판 준거가 된다.

▶ 21063-0260

**20** 다음 자료에 대한 옳은 분석만을 <보기>에서 있는 대로 고른 것은? [3점]

갑국의 의회 의원 정수(定數)는 4명이다. 현재 갑국은 4개의 선거구에서 선거구마다 최다 득표자 1인을 의원으로 선출하고 있다. 차기 선거를 앞두고 의원 정수를 현재의 2배로 하고 전국을 하나의 선거구로 통합하고자 한다. 의석수는 정당 득표율에 비례하여 각 정당에 배분한다. 아래 표는 현행 선거 제도에서 실시된 갑국의 의회 의원 선거 결과이다.

<정당별 득표 결과>

(단위 : 표)

정당	선거구	가	나	다	라
A당		40	50	70	100
B당		80	40	30	50
C당		60	100	60	20
D당		20	10	40	30

- \* 유권자 1인은 1표를 행사하고, 전체 유권자 수는 800명임
- \*\* 개편안의 경우 위 표를 근거로 차기 선거 결과를 판단함
- \*\*\* 개편안의 경우 각 정당 득표율에 의석수를 곱하여 산출된 정수(整数)만큼 의석을 각 정당에 배분하고, 잔여 의석은 소수점 이하 수가 큰 순서대로 각 정당에 1석씩 배분함

**보기**

- ㄱ. 선거 제도 개편 전 B당과 C당의 의석수는 같다.
- ㄴ. 선거 제도 개편 전보다 개편 후에 전체 의석에서 D당이 차지하는 비율이 높다.
- ㄷ. 선거 제도 개편 후 A당과 달리 B당은 과대 대표된다.
- ㄹ. 선거 제도 개편 후 A당과 C당의 의석수는 다르다.

- ① ㄱ, ㄴ    ② ㄱ, ㄷ    ③ ㄷ, ㄹ  
④ ㄱ, ㄴ, ㄹ    ⑤ ㄴ, ㄷ, ㄹ

문항에 따라 배점이 다르니, 각 물음의 끝에 표시된 배점을 참고 하시오. 3점 문항에만 점수가 표시되어 있습니다. 점수 표시가 없 는 문항은 모두 2점입니다.

▶20058-0161

## 1 A, B에 대한 옳은 설명만을 <보기>에서 있는 대로 고른 것은?

지방 자치란 일정한 지역의 주민이 스스로 자치 단체를 구성하 여 그 지역의 사무를 자율적으로 처리하는 제도이다. 우리나라 의 경우 지방 자치 단체는 A와 B로 구성된다. A는 해당 지방의 최고 의사 결정 기관인 B와 달리 지방 자치 단체를 대표하는 집 행 기관이다.

**보기**

- ㄱ. A와 달리 B는 지방 자치 단체 예산에 대해 심의하고 확정한다.
- ㄴ. B의 구성원과 달리 A는 주민 소환의 대상이 된다.
- ㄷ. A는 규칙을 제정할 수 있고, B는 조례를 제정할 수 있다.
- ㄹ. A, B는 모두 지역 주민의 선거에 의해서 구성된다.

- ① ㄱ, ㄴ                      ② ㄱ, ㄹ                      ③ ㄴ, ㄷ
- ④ ㄱ, ㄷ, ㄹ                ⑤ ㄴ, ㄷ, ㄹ

▶20058-0162

## 2 다음 자료에 대한 설명으로 옳지 않은 것은? (단, A, B는 각 각 전형적인 대통령제, 의원 내각제 중 하나이다.) [3점]

교사 : 정부 형태 A에 대해서 설명해 보세요.  
 갑 : 행정부 수반은 법률안 거부권을 통해서 입법부를 견제할 수 있어요.  
 을 : 행정부 수반과 국가 원수가 동일인이예요.  
 병 : 의회 의원이 각료를 겸직할 수 있어요.  
 교사 : ㉠ 정확히 답변한 학생이 두 명 있어요. 다른 한 명의 학 생은 B에 대해서 설명했습니다.

- ① ㉠은 갑과 을이다.
- ② A와 달리 B에서는 행정부 수반의 임기가 보장된다.
- ③ B와 달리 A에서는 의회 의원만이 법률안을 제출할 수 있다.
- ④ A, B는 모두 사법부 독립이 보장된다.
- ⑤ 우리나라에서 '대통령을 국민이 직접 선출'하는 것은 A의 요소에 해당하고, '국무 회의 제도'는 B의 요소에 해당한다.

▶20058-0163

## 3 A에 대한 옳은 설명만을 <보기>에서 고른 것은?

고대 아테네 이후 절대 왕정 시기까지 오랫동안 흐름이 단절되 었던 민주주의는 A를 거치면서 다시 등장하였다. A는 절대 왕 정기를 통해 성장한 부르주아 계급이 봉건 제도의 모순을 극복 하고, 국가 권력을 획득하여 사회의 주도권을 잡으려 한 역사적 사건이다. 이후 시민들은 정치적 자유와 법 앞의 평등을 획득할 수 있게 되었다.

**보기**

- ㄱ. 천부 인권 사상, 계몽사상의 영향을 받았다.
- ㄴ. 시민의 자유와 권리가 확대되는 계기가 되었다.
- ㄷ. 직접 민주주의 확립을 통해 시민이 주권을 행사할 수 있게 되었다.
- ㄹ. 여자, 노예, 외국인을 제외한 모든 사람이 선거에 참여할 수 있게 되었다.

- ① ㄱ, ㄴ                      ② ㄱ, ㄷ                      ③ ㄴ, ㄷ                      ④ ㄴ, ㄹ                      ⑤ ㄷ, ㄹ

▶20058-0164

## 4 다음 헌법 재판소 결정문에서 강조하는 우리 헌법의 기본 원 리에 대한 설명으로 옳은 것은?

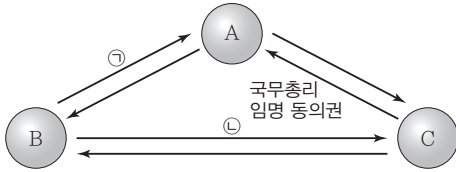
국민 투표는 국가의 중요 정책이나 헌법 개정안에 대해 국민이 그 승인 여부를 결정하는 절차이다. 그런데 주권자인 국민의 지 위에 아무런 영향을 미칠 수 없는 주민 등록 여부만을 기준으로 하여, 주민 등록을 할 수 없는 재외 국민의 국민 투표권 행사를 전면적으로 배제하고 있는 관련 법 조항은 국민의 기본권을 침 해한다.

- ① 현대 복지 국가의 헌법에서부터 강조되었다.
- ② 국가의 의사를 결정할 수 있는 주권이 국민에게 있다는 원 리이다.
- ③ 남북 분단이라는 현실을 반영한 우리나라 헌법 특유의 원 리이다.
- ④ 상호주의 원칙에 따라 외국인의 지위를 보장하는 것을 그 내용으로 한다.
- ⑤ 국민의 인간다운 생활 보장을 위한 노력을 국가의 의무로 규정하고 있다.



▶ 20058-0165

5 그림은 우리나라 입법부, 행정부, 사법부 간의 견제와 균형의 관계를 나타낸 것이다. 이에 대한 설명으로 옳은 것은? [3점]



\* 화살표는 국가 기관 간 견제 방향을 나타냄

- ① A는 위헌·위법 명령·규칙·처분에 대한 심사권을 가진다.
- ② B는 국민의 대표 기관으로서 입법권을 가진다.
- ③ C의 장(長)은 대통령이 임명한다.
- ④ ㉠에는 법률안 거부권이 들어갈 수 있다.
- ⑤ ㉤에는 위헌 법률 심판 제청권이 들어갈 수 있다.

▶ 20058-0166

6 다음 자료에 대한 분석으로 옳지 않은 것은? [3점]

갑국의 의회 의원 정수는 18명으로, 지역구 의원과 비례 대표 의원으로 구성된다. 지역구 의원은 (가), (나) 선거구에서는 각 선거구당 3명의 의원을 다수 대표제로 선출하고, (다), (라) 선거구에서는 각 선거구당 2명의 의원을 다수 대표제로 선출하며, 각 정당은 선거구별로 1인의 후보만 공천한다. 비례 대표 의원은 각 정당이 지역구 선거에서 얻은 득표율에 비례 대표 의원 정수를 곱하여 산출된 수의 정수(整數)만큼 각 정당에 의석을 먼저 배분하고, 잔여 의석은 소수점 이하 수가 큰 순서대로 각 정당에 1석씩 배분한다. 갑국의 의회는 18명의 의원을 모두 각 정당이 얻은 득표율에 비례해서 전체 의석을 각 정당에 배분하는 개편안에 대해서 검토를 하고 있다. 표는 갑국의 최근 의회 의원 선거의 정당별 득표 결과이다. 개편안을 적용하더라도 최근 의회 의원 선거 결과의 정당별 득표 결과만을 근거로 판단하며, 비례 대표 의석 배분 방식도 현행과 같다.

(단위: 천 명)

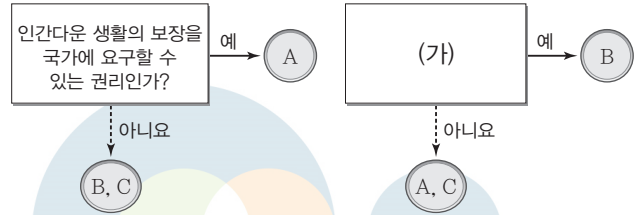
정당	A당	B당	C당	D당	E당
선거구 (가)	1,350	1,400	1,750	2,200	300
(나)	550	750	650	450	600
(다)	900	1,100	2,700	2,000	300
(라)	200	750	900	350	800
합계	3,000	4,000	6,000	5,000	2,000

\* 득표율은 100%이고, 무효표는 없으며, 무소속 후보도 없다.

- ① 현행 의회 의원 선거에서 유권자는 1인당 1표씩 행사하였다.
- ② 현행 지역구 선거에서는 동일 선거구 내 당선자 간 표의 등가성 문제가 발생할 수 있다.
- ③ A당과 달리 C당은 개편안에 대해서 찬성할 것이다.
- ④ 현행 지역구 선거에서 B당과 달리 D당은 과소 대표되었다.
- ⑤ D, E당은 모두 개편안을 적용하더라도 총 의석수는 변함이 없다.

▶ 20058-0167

7 그림은 기본권 유형 A~C를 구분한 것이다. 이에 대한 설명으로 옳지 않은 것은? (단, A~C는 각각 자유권, 사회권, 청구권 중 하나이다.) [3점]



- ① A는 B, C에 비해 최근에 등장한 현대적 권리이다.
- ② B가 수단적 성격의 권리라면, C는 헌법에 열거되지 아니한 이유로 경시되지 않는 권리이다.
- ③ C가 자유권이라면, (가)에는 '소극적이고 방어적 성격의 권리인가?'가 들어갈 수 없다.
- ④ (가)가 '다른 기본권을 보장하기 위한 권리인가?'라면, 헌법과 법률이 정하는 법관에 의해 공정하고 신속한 재판을 받을 수 있는 권리는 B의 내용에 해당된다.
- ⑤ (가)가 '개인의 자유로운 생활에 대하여 국가의 간섭이나 침해받지 않을 권리인가?'라면, 신체의 자유는 C의 내용에 해당된다.

▶ 20058-0168

8 다음 자료에 대한 설명으로 옳은 것은? (단, A~C는 각각 정당, 이익 집단, 시민 단체 중 하나이다.)

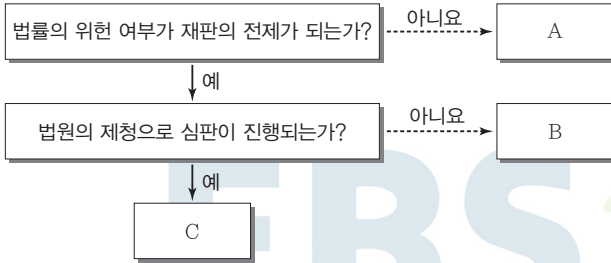
- '정치권력 획득을 목적으로 하는가?'라는 질문으로 A와 C를 구분할 수 있다.
- '이익보다는 공익을 우선시하는가?'라는 질문으로 A와 B를 구분할 수 없다.
- (가) 라는 질문으로 B와 C를 구분할 수 있다.

- ① A는 이해관계나 목표를 같이하는 사람들이 자신들의 특수 이익을 실현하기 위해 결성한 집단이다.
- ② A는 B와 달리 공직 선거에서 후보자를 공천하여 정치적 책임을 진다.
- ③ B는 C와 달리 대의제의 한계를 보완하는 역할을 한다.
- ④ C는 A와 달리 여론을 형성하는 활동을 한다.
- ⑤ (가)에는 '정부와 의회를 매개하는 역할을 수행하는가?'가 들어갈 수 있다.



▶20058-0169

9 A~C에 대한 옳은 설명만을 <보기>에서 고른 것은? (단, A~C는 각각 위헌 법률 심판, 권리 구제형 헌법 소원 심판, 위헌 심사형 헌법 소원 심판 중 하나이다.) [3점]



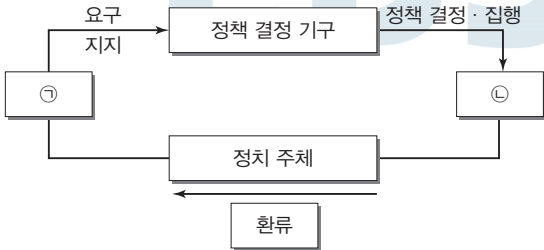
보기

- ㄱ. C는 당사자의 신청이 없어도 법원이 제청할 수 있다.
- ㄴ. A와 달리 B는 공권력에 의해 기본권이 침해된 당사자가 심판을 청구하는 제도이다.
- ㄷ. B, C를 통해 위헌으로 결정된 법률은 효력을 상실한다.
- ㄹ. B, C와 달리 A는 대법원에서 심판한다.

- ① ㄱ, ㄴ    ② ㄱ, ㄷ    ③ ㄴ, ㄷ    ④ ㄴ, ㄹ    ⑤ ㄷ, ㄹ

▶20058-0170

10 그림은 정치 과정을 나타낸 것이다. ㉠, ㉡에 해당하는 사례만을 <보기>에서 고른 것은?



보기

- ㄱ. 통학 버스 내 어린이 방치 사고가 잇따르자, 통학 버스의 어린이 하차 확인 장치를 의무화해야 한다는 국민 청원이 증가하였다.
- ㄴ. 보건 복지부는 어린이 하차 확인 장치에 대한 의무화를 포함한 대책을 발표하였다.
- ㄷ. ○○ 협회는 어린이 하차 확인 장치에 대한 의무화를 내년부터 실시해 달라고 보건 복지부에 요청하였다.
- ㄹ. 국회는 어린이 통학 버스 차량에 대해 어린이 하차 확인 장치를 설치하도록 관련 법을 개정하였다.

- ① ㉠, ㄴ    ㉡, ㄷ
- ② ㉠, ㄷ    ㄴ, ㄹ
- ③ ㉠, ㄹ    ㄴ, ㄷ
- ④ ㄴ, ㄷ    ㉠, ㄹ
- ⑤ ㄴ, ㄹ    ㉠, ㄷ

▶20058-0171

11 다음 글의 밑줄 친 부분에 반영된 민법의 원칙에 대한 설명으로 가장 적절한 것은?

○○ 위원회는 모바일 게임 표준 약관을 제정하였다. 제정된 약관의 주요 내용으로는 회원에게 불리하거나 중대한 사항을 포함하는 약관의 변경은 개정 약관 적용일부터 30일 전에 공지하고, 이와는 별도로 전자 우편, 문자 메시지 등을 통한 개별 통지를 하도록 하였다. 또한 서비스 중단 사유는 사업자의 영업 폐지 등 중대한 경영상의 사유로 제한하고, 사용하지 않았거나 사용 기간이 남아 있는 유료 아이템은 규정에 따라 환급하도록 하였다. ○○ 위원회는 제정된 모바일 게임 표준 약관을 사업자 단체 등에 통보하여 사용을 적극 권장할 계획이다.

- ① 재산권의 행사는 공공복리에 적합하도록 하여야 한다.
- ② 개인은 자신의 자유로운 의사에 따라 계약을 형성할 수 있다.
- ③ 현저하게 공정성을 잃은 내용의 계약은 법적 효력이 발생하지 않는다.
- ④ 개인 소유의 재산에 대해 국가나 다른 개인은 간섭하거나 제한하지 못한다.
- ⑤ 손해를 발생시킨 위법한 행위라도 가해자에게 고의나 과실이 인정되는 경우에만 책임을 진다.

▶20058-0172

12 범죄의 성립 여부와 관련하여 밑줄 친 ㉠~㉣에 대한 옳은 설명만을 <보기>에서 고른 것은?

(가) 갑(14세)은 도서관에서 공부하다가 옆 사람이 자리를 비운 사이 물건을 훔치곤 하였다. 얼마 전 여름 방학에 갑은 또 다시 도서관에 들어가 옆자리에 앉아 있던 A가 자리를 비운 사이 ㉠ A의 지갑을 훔쳤다.

(나) 을(23세)은 B에게 빌려준 돈 100만 원을 받기 위해 여러 차례 B에게 독촉하였으나 B가 계속하여 돈을 갚지 않자, ㉡ B의 집에 몰래 침입하여 B의 현금과 물건을 가지고 나왔다.

(다) 경찰관 병은 도로에 주차되어 있던 자동차를 부수고 도망가는 C를 현장에서 목격하고 ㉢ 그 자리에서 영장 없이 C를 체포하였다. 이 과정에서 병은 C에게 경미한 초과상을 입혔다.

보기

- ㄱ. ㉠을 할 당시 갑에게는 책임 조각 사유가 존재하였다.
- ㄴ. ㉡은 범질서 전체의 관점에서 허용되지 않는다.
- ㄷ. ㉢은 구성 요건에 해당하지만, 위법성 조각 사유에 해당한다.
- ㄹ. ㉠, ㉢과 달리 ㉣은 범죄가 성립된다.

- ① ㉠, ㄴ    ② ㉠, ㄷ    ③ ㄴ, ㄷ    ④ ㄴ, ㄹ    ⑤ ㄷ, ㄹ



▶ 20058-0173

### 13 다음 사례에 대한 법적 판단으로 옳은 것은?

갑과 을은 결혼을 하고 3년 후, 자녀 병을 출산하였다. 을은 병을 출산하고 회사를 그만두었는데 가정의 경제권을 갑이 모두 가져간 후 갑의 태도가 달라졌다. 술에 취한 갑이 을에게 폭언과 폭행을 하는 날이 수차례 지속되자 을은 결혼 5년 만에 이혼을 결심하고 갑과 재판상 이혼을 하였다.

- ① 경제권이 없는 을은 갑에게 재산 분할을 청구할 수 없다.
- ② 이혼의 책임이 있는 갑은 병에 대한 친권을 행사할 수 없다.
- ③ 재판상 이혼을 하기 위해서는 갑, 을의 이혼 의사 합치가 필요하였다.
- ④ 을은 갑에게 재산상의 손해 배상뿐만 아니라 위자료도 청구할 수 있다.
- ⑤ 을이 병에 대한 양육권을 가질 경우, 갑은 병에게 면접 교섭권을 행사할 수 없다.

▶ 20058-0175

### 15 다음 사례에 대한 옳은 법적 판단만을 <보기>에서 있는 대로 고른 것은? [3점]

- (가) 갑이 운영하는 건설 회사의 근로자 을은 건축 공사에 필요한 물품을 트럭으로 운반하면서 병 소유의 토지에 있는 농작물을 트럭 바퀴로 밟아 모두 죽게 만들었다.
- (나) A의 자녀 B(5세)는 집에서 놀던 중 거실 창문에서 돌을 던졌는데 길을 지나던 대학생이 이 돌에 맞아 전치 2주의 부상을 입었다.

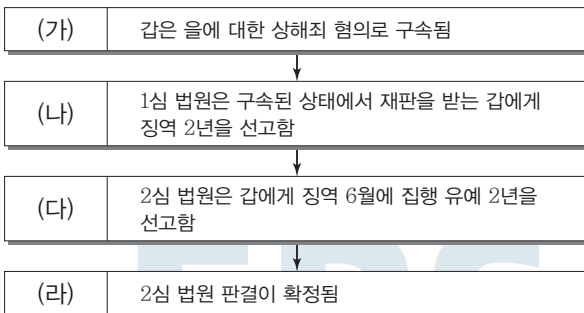
#### 보기

- ㄱ. 갑의 사용자 배상 책임이 성립하기 위해서는 을의 가해 행위가 불법 행위의 성립 요건을 갖추어야 한다.
- ㄴ. 갑이 을의 선임 및 그 사무 감독에 대해 과실이 없음을 증명해도 갑은 병의 손해를 배상할 책임을 진다.
- ㄷ. A는 B에 대한 감독 의무를 소홀히 한 과실이 있으므로 일반 불법 행위 책임을 진다.
- ㄹ. A는 B에 대한 감독 의무를 게을리하지 않았음을 증명하면 불법 행위 책임을 지지 않는다.

- ① ㄱ, ㄴ                      ② ㄱ, ㄹ                      ③ ㄷ, ㄹ
- ④ ㄱ, ㄴ, ㄷ                ⑤ ㄴ, ㄷ, ㄹ

▶ 20058-0174

### 14 (가)~(라) 단계에 대한 법적 판단으로 옳은 것은? [3점]



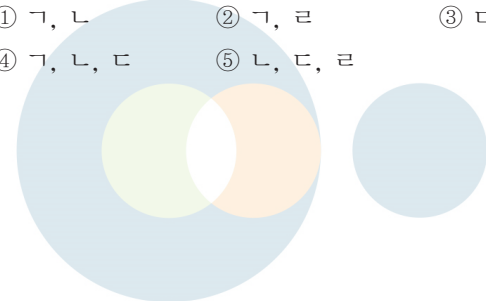
- ① (가) 단계 이후 법원은 구속 전 피의자 심문 제도를 통해 구속 사유의 인정 여부를 판단한다.
- ② (나) 단계의 재판 중에 갑은 법원에 구속 적부 심사를 청구할 수 없다.
- ③ (나) 단계부터 갑에게 변호인의 조력을 받을 권리가 발생한다.
- ④ (다) 단계의 2심 법원 선고로 갑은 징역 6월을 복역한 후 가석방될 수 있다.
- ⑤ (라) 단계 이후 갑은 일정 기간이 지난 후 면소된 것으로 간주된다.

▶ 20058-0176

### 16 국제법의 법원(法源) A, B에 대한 설명으로 옳은 것은? (단, A와 B는 각각 국제 관습법, 조약 중 하나이다.)

오늘날 국제법의 법원으로서 A의 역할은 과거에 비해 많이 축소되었다. 제2차 세계 대전 이후 등장한 제3 세계 국가들은 A의 불명확성이 자신들에게 불리하게 작용한다고 생각했다. 법이 불분명한 곳에서는 현실의 권력 정치가 더 힘을 발휘한다고 믿었기 때문이다. 이들은 당사자들의 목소리가 직접 반영될 수 있도록 B를 통한 국제법의 변화를 선호한다. 현대 사회에서 새로운 분야에 관한 국제법은 거의 예외 없이 성문화된 형식인 B의 형태로 출범한다.

- ① A는 원칙적으로 이를 승인한 국가에만 법적 구속력이 발생한다.
- ② 우리나라에서 B의 체결·비준권은 대통령, 체결·비준에 대한 동의권은 국회에 있다.
- ③ A와 달리 B는 강제적으로 집행할 국제기구가 있다.
- ④ B와 달리 A는 당사국 간 명시적 합의 절차를 거쳐야 성립된다.
- ⑤ A, B 모두 국내에서 헌법과 동일한 지위를 갖는다.







▶ 20058-0177

▶ 20058-0179

**17** 다음 자료에 대한 법적 판단으로 옳은 것은? [3점]

**19** 빈칸 (가)에 들어갈 죄형 법정주의 파생 원칙에 대한 설명으로 옳은 것은?

**근로 계약서**

갑(사업주)과 고등학생 을(17세, 근로자)은 다음과 같이 근로 계약을 체결한다.

1. 계약 기간 : 2020년 1월 2일부터 2020년 2월 28일까지
2. 근로 시간 : 10시 ~ 18시(휴게 시간 : 12시 ~ 13시)
3. 근무일 : 매주 월요일부터 금요일까지 / (유급 휴일 : 매주 일요일)
4. 임금 및 지급 방법 : 시간당 9,500원 / 매달 15일에 을의 친권자 병(53세) 명의의 예금 통장에 입금
5. 근무 장소 및 담당 업무 : ○○매장 상품 판매 및 매장 청소

이 계약에 정함이 없는 사항은 근로 기준 법령에 의함  
... (후략) ...

전기통신기본법 제47조 제1항은 “공익을 해할 목적으로 전기통신 설비에 의하여 공연히 허위의 통신을 한 자는 5년 이하의 징역 또는 5천만 원 이하의 벌금에 처한다.”라고 규정하고 있었다. 헌법 재판소는 위 법률 조항에서 ‘공익’은 헌법 제37조 제2항의 ‘국가의 안전 보장·질서 유지’와 헌법 제21조 제4항의 ‘공중도덕이나 사회 윤리’와 비교하여 볼 때 동어 반복이라고 할 수 있을 정도로 전혀 구체화되어 있지 않고 추상적이어서 (가)에 위반되어 헌법에 위반된다고 판단하였다.

\* 2020년 최저 임금은 시간당 8,590원임

- ① 임금 및 지급 방법은 근로 기준법을 준수하였다.
- ② 을은 미성년자이므로 친권자 병이 대신 근로 계약을 체결해야 한다.
- ③ 을의 근로 시간은 1일 7시간을 초과하였으므로 근로 기준법을 위반하였다.
- ④ 을은 미성년자이므로 친권자 병의 동의가 있어야만 갑에게 임금을 청구할 수 있다.
- ⑤ 을이 근로 계약을 체결할 때 고용 노동부 장관이 발급한 취직 인허증은 필요하지 않다.

- ① 형벌 법규는 명확하게 규정되어야 한다는 원칙이다.
- ② 범죄와 형벌은 미리 성문의 법률에 규정되어 있어야 한다는 원칙이다.
- ③ 형법을 해석함에 있어서 법조문의 문장과 표현대로 엄격히 해석해야 한다는 원칙이다.
- ④ 범죄 행위의 경중과 행위자가 부담해야 할 형사 책임 사이에 균형을 갖추어야 한다는 원칙이다.
- ⑤ 범죄와 그 처벌은 행위 당시의 법률에 의해야 하고, 행위 후에 법률을 제정하여 그 법으로 이전의 행위를 처벌해서는 안 된다는 원칙이다.

▶ 20058-0178

**18** 다음 사례에 대한 옳은 분석만을 <보기>에서 있는 대로 고른 것은? [3점]

▶ 20058-0180

○○회사에 근무하는 갑, 을은 모두 사용자의 해고에 의해 근로관계의 종료가 이루어졌다. 사용자의 해고에 대해 을과 달리 갑은 갑뿐만 아니라 갑이 속한 ○○회사 노동조합도 노동 위원회에 구제 신청이 가능하다. 이후 갑, 을은 법원에 해고 무효 확인 소송을 제기하였고 갑에 대한 사용자의 해고는 위법하게 이루어져 부당하다는 법원의 판결이 확정되었다. 반면 을에 대한 사용자의 해고는 적법하다는 법원의 판결이 확정되었다.

\* 갑, 을은 모두 ○○회사 노동조합에 가입되어 있었다.

**20** 다음 사례에 대한 법적 판단으로 옳은 것은? [3점]

갑(17세)은 최신 온라인 게임을 하기 위해 부모님 몰래 전자 제품 대리점 사장 을(32세)에게서 300만 원 상당의 컴퓨터를 구입하였다. 계약 당시 을은 갑이 미성년자임을 알았지만 컴퓨터를 판매하였다. 다음 날 아침 갑은 자신이 체결한 컴퓨터 매매 계약에 대해 심각하게 고민한 후에 부모님께 이 사실을 알렸다.

**보기**

- ㄱ. ○○회사 노동조합은 사용자가 갑의 정당한 근로 3권 행사를 침해한 것으로 보았다.
- ㄴ. 갑이 법원에 해고의 효력을 다투는 소를 제기한 이후에는, 노동 위원회에 구제 신청을 할 수 없다.
- ㄷ. 을에 대한 해고의 사유와 시기는 서면으로 통지되었다.
- ㄹ. 사용자는 을의 정당한 근로 3권 행사를 침해하지 않았다.

- ① 갑의 부모가 계약 사실을 알았으므로 이 계약은 확정적으로 유효하다.
- ② 갑이 을과의 컴퓨터 매매 계약을 취소하기 위해서는 부모의 동의를 얻어야 한다.
- ③ 갑이 부모의 동의 없이 컴퓨터를 구매하였지만, 을은 먼저 판매 의사 표시를 철회할 수 없다.
- ④ 을은 컴퓨터 매매 계약 체결 당사자인 갑에게 계약을 취소할 것인지의 응답을 요구할 수 있다.
- ⑤ 갑이 을과의 컴퓨터 매매 계약을 취소할 경우 갑에게는 채무 불이행에 따른 손해 배상 책임이 발생한다.

- ① ㄱ, ㄴ                      ② ㄱ, ㄷ                      ③ ㄴ, ㄹ
- ④ ㄱ, ㄷ, ㄹ                ⑤ ㄴ, ㄷ, ㄹ

문항에 따라 배점이 다르니, 각 물음의 끝에 표시된 배점을 참고 하시오. 3점 문항에만 점수가 표시되어 있습니다. 점수 표시가 없 는 문항은 모두 2점입니다.

▶ 20058-0181

### 1 다음 자료의 교사 질문에 대한 학생의 답변으로 옳은 것은?

두 조항이 공동적으로 추구하는 법의 이념에 대해 발표해 보세요.



- 헌법 제13조 ① 모든 국민은 행위 시의 법률에 의하여 범죄를 구성하지 아니하는 행위로 소추되지 아니하며, 동일한 범죄에 대하여 거듭 처벌받지 아니한다.
- 민법 제162조 ① 채권은 10년간 행사하지 아니하면 소멸 시효가 완성한다.  
② 채권 및 소유권 이외의 재산권은 20년간 행사하지 아니하면 소멸 시효가 완성한다.

- ① 실질적 평등과 배분적 정의를 강조합니다.
- ② 법이 실현하고자 하는 궁극적 목표입니다.
- ③ 법 내용이 명확하고 실현 가능해야 구현됩니다.
- ④ “민중이 원하는 것이 법이다.”라는 법언에 부합합니다.
- ⑤ 해당 시대가 지향하는 목적에 부합하는 것을 의미합니다.

▶ 20058-0182

### 2 법치주의를 바라보는 갑, 을의 관점에 대한 설명으로 옳은 것은? [3점]

A국 의회에서는 행정부 수반이 법률을 제정할 수 있도록 하는 ○○법률을 통과 시켰습니다. 이에 대한 논란이 커지고 있는 가운데 …….(이하 생략)

권력 분립 원칙에 위배되는 ○○법률은 국민의 기본권을 심각하게 침해하므로 효력을 인정할 수 없어.

○○법률은 적법한 절차를 거쳐 의회를 통과했으므로 이에 따르는 것이 당연해.



갑

을

- ① 갑의 관점은 을의 관점과 달리 통치의 합법성을 중시한다.
- ② 갑의 관점은 을의 관점과 달리 통치의 정당성을 중시한다.
- ③ 을의 관점은 갑의 관점과 달리 정의에 어긋난 법이라도 효력이 있다고 본다.
- ④ 을의 관점은 갑의 관점과 달리 독재자의 통치권을 강화하는 수단으로 사용될 수 있다.
- ⑤ 갑, 을의 관점 모두 국가의 자의적 지배를 인정하지 않는다.

▶ 20058-0183

### 3 다음 자료는 우리 헌법의 기본 원리 A를 정리한 것이다. 이에 대한 설명으로 옳지 않은 것은?

의미	국가 의사를 최종적으로 결정하는 주권이 국민에게 있다는 원리
관련 헌법 규정	(가)
실현 방안	• 국민 투표제 실시 • (나)

- ① A는 국가 권력 행사의 한계와 정책 결정의 방향을 제시한다.
- ② (가)에 ‘대한민국은 민주 공화국이다.’가 들어갈 수 있다.
- ③ (가)에 ‘모든 국민은 인간다운 생활을 할 권리를 가진다.’가 들어갈 수 없다.
- ④ (나)에 ‘복수 정당제 및 정당 활동의 자유’가 들어갈 수 있다.
- ⑤ (나)에 ‘근로자에 대한 적정 임금의 보장과 최저 임금제 실시’가 들어갈 수 있다.

▶ 20058-0184

### 4 다음 자료에 대한 옳은 설명만을 <보기>에서 고른 것은? (단, A~C는 각각 시민 단체, 이익 집단, 정당 중 하나이다.) [3점]

<자료1>

- ‘집단의 특수 이익보다 공익을 우선시하는가?’라는 질문으로 A와 B를 구분할 수 없다.
- ‘정부와 의회를 매개하는 역할을 하는가?’라는 질문으로 A와 C를 구분할 수 있다.

<자료2>

구분	A	B	C
(가)	예	㉠	㉡
(나)	㉢	예	㉣

<보기>

- ㉠. (가)에 ‘공직 선거에 후보자를 공천하는가?’가 들어가면, ㉠, ㉡의 답은 같다.
- ㉡. ㉠이 ‘예’, ㉡이 ‘아니요’이면, (가)에 ‘정치 사회화 기능을 수행하는가?’가 들어갈 수 있다.
- ㉢. (나)에 ‘정권 획득을 목적으로 하는가?’가 들어갈 수 없다.
- ㉣. ㉢, ㉣이 모두 ‘예’이면, (나)에 ‘정치 과정에서 산출 기능을 수행하는가?’가 들어갈 수 있다.

- ① ㉠, ㉡    ② ㉠, ㉢    ③ ㉡, ㉣    ④ ㉠, ㉣    ⑤ ㉢, ㉣

5 다음 자료에 대한 설명으로 옳은 것은?

헌법 재판소는 ○○ 지방 법원이 군복 및 군용 장구의 단속에 관한 법률(이하 군복 단속법) 제8조 제2항의 위헌 여부를 심판해 달라며 낸 위헌 법률 심판 제청 사건에서 ㉠ 합헌으로 결정했다. ○○ 지역에서 유사 군복을 판매하던 갑은 군복 단속법 위반 혐의로 재판을 받던 중 재판부에 ㉡ 위헌 법률 심판 제청을 신청했고 재판부가 이를 받아들였다. ㉢ 재판부는 “유사 군복의 개념이 주관적이어서 죄형 법정주의의 파생 원칙인 A 원칙에 위배될 소지가 있고, 유사 군복을 제조·판매하는 사람이 이를 판매하지 못하도록 하는 것은 기본권의 유형 B를 침해할 가능성이 있다.”라고 보았다. 그러나 헌법 재판소는 “유사 군복은 군복과 형태·색상·구조가 비슷해 외관상 식별이 어려운 것으로, 유사 군복이 어떤 물품에 해당하는지 예측할 수 있다.”라며 A 원칙에 위배되지 않는다고 판단했다. 또한 “유사 군복이 모방하고 있는 전투복은 군인의 전투 용도로 세심하게 고안되어 제작된 특수 물품이므로 이를 소지하지 못해 판매가 제한되어 침해되는 기본권의 유형 B는 국가 안전 보장이라는 공익보다 중하다고 볼 수 없다.”라고 판단했다.

- ① A 원칙은 범죄 행위의 경중과 행위자가 부담해야 할 형사 책임 사이에 균형을 갖추어야 한다는 원칙이다.
- ② B는 국가의 정치 과정에 적극 참여할 수 있는 권리이다.
- ③ ㉠은 위헌 법률 심판에 의한 것이다.
- ④ ㉠으로 인해 갑은 군복 단속법으로 처벌을 받지 않는다.
- ⑤ ㉡이 있어야 ㉢은 위헌 법률 심판 제청을 할 수 있다.

▶20058-0186

6 다음은 갑~병의 수행평가 답안지이다. 이에 대한 설명으로 옳지 않은 것은? (단, A~C는 각각 사회권, 자유권, 청구권 중 하나이다.) [3점]

〈수행평가〉			
〈과제〉 기본권 유형 A~C를 구분하는 질문에 대한 답을 적으시오. (각 1점씩)			
질문	갑	을	병
A와 달리 B는 적극적 권리인가?	예	예	아니요
C는 수단적 권리인가?	아니요	예	㉠
A~C 중 B가 역사상 가장 오래된 권리인가?	㉡	㉢	㉣
합계	2점	3점	1점

- ① ㉠이 ‘예’이면, ㉣도 ‘예’이다.
- ② ㉡과 달리 ㉣은 ‘아니요’이다.
- ③ A는 C와 달리 헌법에 열거되지 않아도 보장받을 수 있다.
- ④ B, C는 국가의 존재를 전제로 인정되는 권리이다.
- ⑤ A~C 중 가장 최근에 등장한 권리는 B이다.

7 〈자료 1〉, 〈자료 2〉에 대한 설명으로 옳은 것은? (단, 갑국은 전형적인 정부 형태를 채택하고 있다.) [3점]

〈자료 1〉 행정부 수반 소속 정당과 연립 정부 구성 여부

구분	T대	T+1대	T+2대	T+3대
행정부 수반 소속 정당	B당	B당	B당	A당
연립 정부 구성 여부	㉠	㉡	㉢	구성됨

\* 여소야대 현상은 1번만 나타나며, 정부 형태도 1번만 변화됨

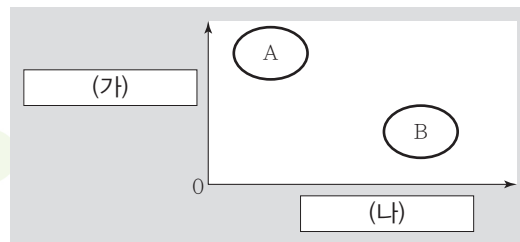
〈자료 2〉 각 정당의 의석 점유율 변화

구분	T대	T+1대	T+2대	T+3대
A당	28%	55%	45%	35%
B당	52%	30%	40%	30%
C당	15%	5%	10%	25%
D당	5%	10%	5%	10%

- ① ㉡, ㉢에는 ㉠과 달리 ‘구성됨’이 들어간다.
- ② T+3대에는 A당과 B당이 연립 정부를 구성하였다.
- ③ T대는 T+1대와 달리 각료와 의회 의원 겸직이 가능하지 않다.
- ④ T+1대는 T+2대와 달리 고위 공직자에 대한 의회의 탄핵 소추권이 인정된다.
- ⑤ T대~T+3대 중 의원 내각제 정부 형태는 3번 나타난다.

▶20058-0188

8 다음 자료는 정당 제도 A, B를 구분한 것이다. 이에 대한 옳은 설명만을 〈보기〉에서 고른 것은? (단, A, B는 각각 다당제와 양당제 중 하나이다.)



\* 0에서 멀어질수록 그 정도가 높거나 큼

보기

- ㄱ. (가)에 ‘정국 안정 가능성’이 들어가면, A는 B보다 국민의 다양한 의견이 반영될 수 있다.
- ㄴ. (가)에 ‘정치적 책임 소재의 명확성’이 들어가면, B는 A보다 유권자의 정당 선택의 폭이 넓다.
- ㄷ. (나)에 ‘정당 간 대립 시 중재 용이성’이 들어가면, B는 A보다 다수당의 횡포가 나타날 가능성이 높다.
- ㄹ. (가)에 ‘강력한 정책 추진 가능성’, (나)에 ‘소수의 이익 보호 가능성’이 들어갈 수 있다.

- ① ㄱ, ㄴ    ② ㄱ, ㄷ    ③ ㄴ, ㄷ    ④ ㄴ, ㄹ    ⑤ ㄷ, ㄹ



▶ 20058-0189

### 9 우리나라 국가 기관 A~E에 대한 설명으로 옳은 것은?

- A는 국무 회의의 부의장인 B의 해임 건의를 C에게 할 수 있다.
- 법관의 자격을 가진 9인의 재판관으로 구성된 헌법 수호 기관의 장인 D는 재판관 중에서 C가 임명한다.
- E는 상고심 및 재항고심을 담당하는 기관의 장이다.

- ① A는 국가의 세입·세출의 결산 검사권을 갖는다.
- ② C는 위헌·위법 명령·규칙·처분에 대한 최종 심사권이 있는 기관의 장이다.
- ③ A는 B~E 모두에 대해 탄핵 소추를 의결할 수 있다.
- ④ B는 D, E와 달리 국회의 동의를 얻지 않고 C가 임명한다.
- ⑤ D와 달리 A, E는 헌법 개정안을 제안할 수 있다.

▶ 20058-0190

### 10 다음 자료에 대한 분석으로 옳은 것은? (단, 개편안에 따른 선거 결과는 최근 선거에서의 득표 현황으로 판단한다.) [3점]

갑국의 의회 의원 정수는 6명인데 선거 제도를 다음과 같이 개편하려고 한다.

〈개편안〉 의회 의원수는 현행대로 유지하고, 선거구를 조정하되 선거구당 동일한 수의 의원을 선출하는 것은 유지한다. 선거구는 인접한 선거구와 통합하여 3개로 획정하는데 각 선거구당 유권자 수를 같게 한다.

〈최근 선거에서의 득표 현황〉

(단위: %)

선거구	가	나	다	라	마	바
A당	35	20	5	10	10	10
B당	15	20	10	10	45	10
C당	25	10	35	10	25	30
D당	20	10	20	40	15	40
E당	5	40	30	30	5	10
합계	100	100	100	100	100	100

〈갑국의 선거구〉

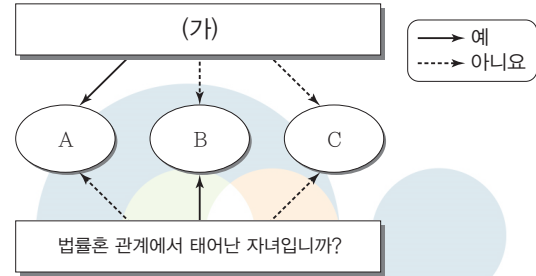
선거구	가	나	다
선거구	선거구	선거구	선거구
라	마	바	
선거구	선거구	선거구	

- \* 각 정당은 선거구별로 후보자를 1명씩만 공천한다.
- \*\* 전체 유권자 수는 9,000명, 투표율 100%, 무효표는 없다.
- \*\*\* 가, 다, 마 선거구의 유권자 수의 합이 나, 라, 바 선거구의 유권자 수의 합보다 2배 많다. 가, 다, 마 각 선거구의 유권자 수는 동일하고, 나, 라, 바 각 선거구의 유권자 수도 동일하다.

- ① 현행 선거구 제도는 개편되는 선거구 제도에 비해 사표가 적게 발생한다.
- ② A당은 B당과 달리 선거 제도 개편으로 인해 유불리가 발생하지 않는다.
- ③ D당은 선거 제도가 개편되면 선거구 획정 결과와 상관없이 현행보다 유리하다.
- ④ '가라/나마/다바'로 선거구가 획정되면 E당은 현행과 동일한 의석수를 확보한다.
- ⑤ C당은 선거 제도가 개편되면 선거구 획정 결과와 상관없이 B당보다 1석 많은 의석수를 확보한다.

▶ 20058-0191

### 11 다음 자료에 대한 옳은 설명만을 <보기>에서 고른 것은? (단, A~C는 각각 일반 입양에 의한 양자, 친양자, 혼인 중 출생자 중 하나이다.)



보기

- ㄱ. (가)에 '양부모의 성과 본을 따라야 하는가?'가 들어갈 수 없다.
- ㄴ. (가)에 '친부모와의 친족 관계가 단절되는가?'가 들어갈 수 있다.
- ㄷ. A, C는 B와 달리 인지 절차를 거쳐야 친자 관계가 인정된다.
- ㄹ. C가 일반 입양에 의한 양자라면 A는 양부모의 B로 본다.

- ① ㄱ, ㄴ
- ② ㄱ, ㄷ
- ③ ㄴ, ㄷ
- ④ ㄴ, ㄹ
- ⑤ ㄷ, ㄹ

▶ 20058-0192

### 12 다음 사례에 대한 옳은 법적 판단만을 <보기>에서 고른 것은? (단, A~C는 모두 16세이다.) [3점]

- A는 부모의 동의를 얻지 않고 고가의 노트북을 구매하는 계약을 갑과 체결하였다. 갑은 판매 당시 A가 미성년자임을 알고 있었다.
- B는 부모의 동의를 얻지 않고 고가의 노트북을 구매하는 계약을 을과 체결하였다. 을은 판매 당시 B가 미성년자임을 알지 못했다.
- C는 부모의 동의서를 위조하여 고가의 노트북을 구매하는 계약을 병과 체결하였다.

보기

- ㄱ. 갑과 달리 병은 철회권을 행사할 수 있다.
- ㄴ. 을은 확답을 촉구할 권리를 행사할 수 없다.
- ㄷ. A의 부모는 노트북 구매 계약을 취소할 수 있다.
- ㄹ. B의 부모와 달리 C의 부모는 노트북 구매 계약을 취소할 수 없다.

- ① ㄱ, ㄴ
- ② ㄱ, ㄷ
- ③ ㄴ, ㄷ
- ④ ㄴ, ㄹ
- ⑤ ㄷ, ㄹ



▶ 20058-0193

**13** 다음은 학생의 서술형 답지이다. (가)에 들어갈 수 있는 적절한 내용만을 <보기>에서 있는 대로 고른 것은? [3점]

▶ 20058-0195

**15** 다음 사례에 대한 법적 분석 및 추론으로 옳은 것은? [3점]

<문제> 다음 사례에 대한 법적 판단을 적으시오. (맞으면 사례당 1점으로 총 3점)

사례	법적 판단
A의 음식점에 고용되어 주차 대행 업무를 하던 B는 실수로 손님 차를 훼손하였다.	손님은 B에게 손해 배상 책임 물을 수 있다.
C가 소유한 건물에서 D는 음식점을 운영하였는데, 음식점 간판이 떨어져 행인을 다치게 하였다.	(가)
E는 F의 개를 대신 산책시키다가 개가 지나가던 사람을 물어 상해를 입혔다.	E가 아닌 F가 특수 불법 행위 책임을 진다.
합계 점수	2점

**보기**

- ㄱ. 행인이 입은 손해에 대해 D는 2차적 책임을 진다.
- ㄴ. 행인은 정신적 손해에 대해서는 손해 배상을 요구할 수 없다.
- ㄷ. C가 손해 배상 책임을 지게 되면 무과실 책임의 원칙이 적용된다.
- ㄹ. D는 자신이 주의 의무를 다했음을 증명하면 손해 배상 책임을 지지 않는다.

- ① ㄱ, ㄴ                      ② ㄱ, ㄹ                      ③ ㄷ, ㄹ
- ④ ㄱ, ㄴ, ㄷ                ⑤ ㄴ, ㄷ, ㄹ

▶ 20058-0194

**14** 다음 자료에 대한 법적 판단으로 옳은 것은?

- 갑과 을은 혼인 후 병을 낳고 살고 있었다. 그러나 갑이 사업에 실패하여 술을 먹는 날이 많아지고 심지어 을과 병을 폭행하는 경우도 있었다. 결국 갑과 을은 법원의 판결을 통해 ① 이혼을 하게 되었다.
- A와 B는 혼인 후 C를 낳고 살고 있었다. 그러나 어느 날부터 A가 B에게 생활비를 주지 않고, 외박을 하는 경우도 잦아졌다. 결국 A와 B는 합의하여 ② 이혼을 하게 되었다.

- ① 배우자에 대한 손해 배상 청구는 을과 달리 B만 가능하다.
- ② C가 성인이라면 A와 B는 이혼 숙려 기간을 거치지 않을 것이다.
- ③ 병이 미성년자라면 ①을 통해 병에 대한 갑의 친권은 상실된다.
- ④ 병과 C가 미성년자라면 ①, ② 이후 병과 C에게 면접 교섭권이 발생하지 않는다.
- ⑤ ①, ② 모두 법원에서의 절차를 거쳐야 이혼이 가능하다.

갑은 A와 협의상 이혼을 한 후 B와 부부 공동생활을 하였다. 갑과 B는 C, D, E, F와 함께 살았는데, C는 갑의 노모, D와 E는 갑과 A 사이의 자녀, F는 B의 자녀이다. 이후 E는 갑의 친구 부부에게 친양자 입양되었다. 어느 날 갑은 여행 중 교통사고를 당해 사망하였는데 갑의 재산은 10억 원이며, 채무는 없다.

\* 주어진 조건 이외에는 고려하지 않음

- ① 갑이 유효한 유언을 남기지 않고, 갑과 B가 혼인 신고를 하지 않은 상태라면 D는 10억 원을 상속받는다.
- ② 갑이 유효한 유언을 남기지 않고, 갑과 B가 혼인 신고를 한 상태라면 B는 F의 법정 상속분의 50%를 가산하여 상속받는다.
- ③ 갑이 유효한 유언을 남기지 않고, 갑이 F를 입양하였더라도 갑과 B가 혼인 신고를 하지 않았다면 F는 법정 상속을 받을 수 없다.
- ④ 갑이 “모든 재산을 ○○ 복지 재단에 물려준다.”라는 유효한 유언을 남기고, 갑과 B가 혼인 신고를 하지 않은 상태라면 D, F가 유류분 반환을 청구할 수 있다.
- ⑤ 갑이 “모든 재산을 C에게 물려준다.”라는 유효한 유언을 남기고, 갑과 B가 혼인 신고를 하지 않은 상태라면 D, E는 동일한 금액의 유류분 반환을 청구할 수 있다.

▶ 20058-0196

**16** 다음 자료에 대한 설명으로 옳은 것은? [3점]

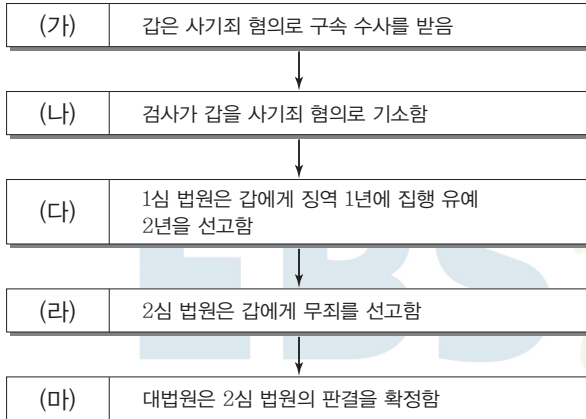
컴퓨터 게임을 그만하라고 꾸짖는 모(母)를 흥기로 때려 숨지게 한 조현병 환자인 아들에게 심신 미약이 인정됐다. ① 법원은 존속 살해 혐의로 기소된 ㉠ A 씨에 대한 ㉡ 국민 참여 재판에서 A 씨의 심신 상실 주장은 받아들여지지 않고, 심신 미약만 인정하여 ㉢ 징역 7년과 ㉣ 치료 감호를 선고했다. A 씨는 범행 당시 심신 상실 상태에 있었기 때문에 (가)는 이유로 무죄를 주장했다. 재판부는 A 씨에게 심신 미약만 인정해 징역 7년 등을 선고했다. 재판부는 “지계 존속을 살해하는 것은 자신을 낳고 길러준 부모의 생명을 앗아가는 것이라는 점에서 용납될 수 없는 반사회적·반인륜적 범죄”라고 지적하고, “다만, 피고인이 가벼운 정도의 지적 장애와 조현병으로 인한 심신 미약 상태에서 우발적으로 범행을 저지른 점을 고려했다.”라고 양형 사유를 설명했다.

- ① (가)에 ‘구성 요건에 해당하지 않는다’가 들어갈 수 있다.
- ② (가)에 ‘위법성이 조각된다’가 들어갈 수 있다.
- ③ ㉠이 ㉡의 판결에 대해 불복하면 2심은 지방 법원 합의부에서 담당한다.
- ④ ㉢은 형사 사건뿐만 아니라 민사 사건에도 적용된다.
- ⑤ ㉢은 정역을 부과하고, ㉣은 범죄자의 재범 방지를 위한 대안적 제재 수단이다.



▶ 20058-0197

### 17 갑에 대한 형사 절차 (가)~(마)에 대한 법적 판단 및 추론으로 옳은 것은?



- ① (가)의 구속 수사를 위해서는 검사가 발부한 영장이 필요하다.
- ② (나)로 인해 갑에게는 무죄 추정의 원칙이 적용되지 않는다.
- ③ (다)에서 1심 법원은 일정한 범죄를 저지르지 않고 유예 기간이 지나면 면소되는 선고를 하였다.
- ④ (라)의 판결에 대해 상고한 재판의 당사자는 피고인이 아니라 검사일 것이다.
- ⑤ (마) 이후 갑은 형사 보상 청구를 할 수 없다.

▶ 20058-0198

### 18 다음 자료에 대한 법적 판단으로 옳은 것은? [3점]

〈자료1〉  
민법상 미성년자인 갑, 을, 병은 아파트 지하 주차장에서 호기심에 불량난을 하다가 차량 여러 대를 태웠다. 이에 차량 주인들은 갑~병에 대한 형사 절차와 민사 절차를 진행하려고 한다.

〈자료2〉

구분	갑	을	병
경찰서장이 가정 법원 소년부로 송치할 수 있는가?	아니요	아니요	예
검사가 기소할 수 있는 연령인가?	예	아니요	아니요

- ① 갑과 달리 을에게 불법 행위 성립 요건 중 책임 능력이 없다면 을의 부모와 달리 갑의 부모는 손해 배상 책임을 지지 않는다.
- ② 을과 달리 갑, 병은 형벌을 받을 수 있다.
- ③ 갑과 달리 병은 소년법상 보호 처분을 받을 수 있다.
- ④ 갑, 병과 달리 을에게 불법 행위 성립 요건 중 책임 능력이 없어도 갑~병은 공동 불법 행위자 책임을 진다.
- ⑤ 갑~병 중 갑만 선도 조건부 기소 유예 처분을 받을 수 있다.

▶ 20058-0199

### 19 밑줄 친 ㉠, ㉡에 대한 옳은 법적 판단만을 <보기>에서 고른 것은?

- 갑은 ○○회사에 다니며 ○○회사의 노동조합에 가입되어 있다. 그러나 ○○회사를 비방하는 글을 인터넷에 올린 것에 대한 징계로 회사로부터 해고를 당하였다. 갑은 자신에 대한 해고가 부당하다고 판단하여 ㉠ 구제 절차를 진행하려고 한다.
- ◇◇회사에 다니는 을은 ◇◇회사의 노동조합 간부로 활동하였다. 그러나 ◇◇회사는 을의 주도로 ◇◇회사의 노동조합이 파업을 결정했다고 판단하여 이를 이유로 을을 해고하였다. 을은 자신에 대한 해고가 부당하다고 판단하여 ㉡ 구제 절차를 진행하려고 한다.

보기

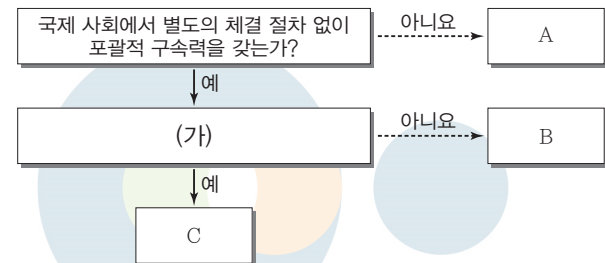
- ㉠. ㉠에서 갑은 ○○회사를 상대로 행정 소송을 제기할 수 있다.
- ㉡. ㉡에서 을은 부당 노동 행위가 아니라 부당 해고에 대한 구제 신청을 해야 한다.
- ㉢. ㉡에서는 ㉠에서와 달리 회사의 노동조합이 노동 위원회에 구제 신청을 할 수 있다.
- ㉣. ㉠, ㉡에서 갑과 을은 모두 해고 무효 확인 소송을 제기할 수 있다.

- ① ㉠, ㉡    ② ㉠, ㉢    ③ ㉡, ㉣    ④ ㉡, ㉣    ⑤ ㉢, ㉣

▶ 20058-0200

### 20 다음 자료는 국제법의 법원(法源) A~C와 이를 구분하기 위한 것이다. 이에 대한 옳은 설명만을 <보기>에서 고른 것은?

A	국제 사회 당사자 상호 간에 체결하는 법적 구속력을 가진 합의
B	국제 사회의 반복적인 관행이 국제 사회에서 법 규범으로 승인되어 효력을 가지게 된 국제법
C	문명국들이 공통적으로 승인하여 따르는 법의 보편적인 원칙



보기

- ㉠. (가)에 '국내 문제 불간섭이 사례입니까?'가 들어갈 수 없다.
- ㉡. (가)에 '국제 사법 재판소의 재판 준거로 활용됩니까?'가 들어갈 수 없다.
- ㉢. 우리나라에서 A에 대한 체결권은 대통령, 비준권은 국회에 있다.
- ㉣. B, C는 우리나라에서 헌법보다 상위의 지위를 갖는다.

- ① ㉠, ㉡    ② ㉠, ㉢    ③ ㉡, ㉣    ④ ㉡, ㉣    ⑤ ㉢, ㉣

문항에 따라 배점이 다르니, 각 물음의 끝에 표시된 배점을 참고 하시오. 3점 문항에만 점수가 표시되어 있습니다. 점수 표시가 없는 문항은 모두 2점입니다.

▶ 20058-0201

**1** 다음 자료에 대한 옳은 설명만을 <보기>에서 있는 대로 고른 것은? (단, A와 B는 각각 정치를 좁은 의미와 넓은 의미로 바라보는 관점 중 하나이다.)

질문	A	B
근로 조건의 개선을 요구하는 ○○ 회사의 노동조합의 집회 활동은 정치 현상입니까?	아니오	예
(가)	예	예

**보기**

- ㄱ. A는 B와 달리 다원화된 사회의 정치 현상 설명에 불리하다.
- ㄴ. B는 A와 달리 국가 형성 이전의 정치 현상을 설명하기 용이하다.
- ㄷ. A, B 모두 국가의 권력 현상과 연관된 것만을 정치 현상으로 본다.
- ㄹ. (가)에는 '국회의 입법 과정을 정치 현상으로 봄니까?'가 들어갈 수 있다.

- ① ㄱ, ㄴ                      ② ㄱ, ㄷ                      ③ ㄷ, ㄹ
- ④ ㄱ, ㄴ, ㄹ                ⑤ ㄴ, ㄷ, ㄹ

▶ 20058-0202

**2** 다음 자료에 대한 설명으로 옳은 것은? (단, 갑~병은 각각 로크, 루소, 흄스 중 하나이다.)

사회 계약론자 갑~병은 공통으로 (가) 을/를 주장하지만 갑은 절대 군주제를 옹호한 반면, 병은 입헌 군주제를 지지하기도 하였다. 이들이 근대 민주주의 발달에 끼친 영향은 매우 큰데, 특히 ( ㉠ )은 통치 권력을 나누어야 함을 주장하였고, ( ㉡ )은 국민의 의사가 대표될 수 없다는 주장을 펼치기도 하였다.

- ① 갑은 일반 의지에 의한 국가 수립을 주장하였다.
- ② 을은 정부가 국민의 신탁을 배반할 경우 저항권을 행사할 수 있음을 주장하였다.
- ③ 병은 을과 달리 대의제를 비판하였다.
- ④ (가)에는 '자연권 보전을 위한 국가 권력의 확대'가 들어갈 수 있다.
- ⑤ ㉠은 '병', ㉡은 '을'이다.

▶ 20058-0203

**3** 표는 전형적인 정부 형태를 취하였던 ○○국의 상황이다. 이를 토대로 한 추론으로 옳은 것은? (단, (가)~(라) 시기 동안 한 번의 정부 형태의 교체와 한 번의 연립 내각 구성이 있었다.) [3점]

시기	(가)	(나)	(다)	(라)
의회 제1당 (의석수)	A당 (102석)	B당 (95석)	C당 (101석)	A당 (132석)
행정부 수반 (소속 정당)	갑 (A당)	을 (B당)	병 (A당)	정 (A당)

\* ○○국 의회 의석수는 200석이며, (가)~(라) 기간 동안 변함이 없었다.

- ① 갑은 정과 달리 국가 원수의 지위에 있었을 것이다.
- ② 병은 을과 달리 법률안 거부권을 가졌을 것이다.
- ③ 정은 병과 달리 국민의 직접 선거로 선출되었을 것이다.
- ④ (나) 시기에는 (가) 시기와 달리 여소야대 정국이 나타났을 것이다.
- ⑤ (다) 시기보다 (라) 시기에 의회와 행정부의 협조가 어려웠을 것이다.

▶ 20058-0204

**4** 표는 정치 참여 집단을 구분한 것이다. 이에 대한 옳은 설명만을 <보기>에서 있는 대로 고른 것은? (단, A~C는 각각 시민 단체, 이익 집단, 정당 중 하나이다.) [3점]

질문	응답	㉠	㉡
		공직 선거에 후보자를 공천하는가?	A, B
(가)		A, C	B

\* ㉠, ㉡은 각각 '예', '아니오' 중 하나임

**보기**

- ㄱ. C는 정부와 의회를 매개하는 기능을 수행한다.
- ㄴ. B는 C와 달리 정치 과정에서 투입 기능을 수행한다.
- ㄷ. A에 환경 단체가 속하면, B는 활동 결과에 정치적 책임을 진다.
- ㄹ. (가)에 '공익보다 자기 집단의 사익을 우선하는가?'가 들어가면, A는 시민 단체이다.

- ① ㄱ, ㄷ                      ② ㄱ, ㄹ                      ③ ㄴ, ㄷ
- ④ ㄱ, ㄴ, ㄹ                ⑤ ㄴ, ㄷ, ㄹ



▶ 20058-0205

### 5 법치주의를 바라보는 갑, 을의 관점에 대한 설명으로 옳은 것은?



- ① 갑은 법 제정에서 절차적 정당성을 경시한다.
- ② 을은 악법에 대한 저항권 행사를 인정하지 않는다.
- ③ 갑과 달리 을은 권력의 자의적 행사를 경계한다.
- ④ 을과 달리 갑은 기본권 제한에서 법적 근거를 강조한다.
- ⑤ 갑과 을 모두 법에 근거한 권력 행사를 강조한다.

▶ 20058-0206

### 6 밑줄 친 ㉠~㉣에 담겨 있는 우리 헌법의 기본 원리에 대한 설명으로 옳지 않은 것은?

... 자율과 조화를 바탕으로 ㉠ 자유 민주적 기본 질서를 더욱 확고히 하여 ... 안으로는 ㉡ 국민 생활의 균등한 향상을 기하고 ㉢ 밖으로는 항구적인 세계 평화와 인류 공영에 이바지함으로써 ... ㉣ 헌법을 이제 국회의 의결을 거쳐 국민 투표에 의하여 개정한다.

- ① ㉠에 담긴 헌법의 기본 원리는 위헌 정당을 판단하는 근거가 될 수 있다.
- ② ㉡에 담긴 헌법의 기본 원리의 실현 방안으로 사회 보험의 확충을 들 수 있다.
- ③ ㉢에 담긴 헌법의 기본 원리의 실현 방안으로 내국인과 동일한 외국인의 참정권 보장을 들 수 있다.
- ④ ㉣에 담긴 헌법의 기본 원리를 실현하기 위해서는 민주적 선거 제도가 필요하다.
- ⑤ 복수 정당제의 헌법상 보장은 ㉠과 ㉣에 담긴 헌법의 기본 원리 실현에 기여한다.

▶ 20058-0207

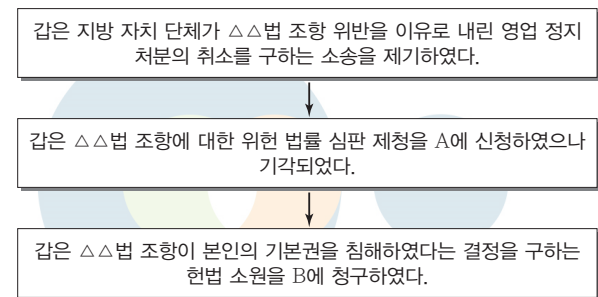
### 7 표는 기본권 유형 A~C에 관한 것이다. 이에 대한 설명으로 옳지 않은 것은? (단, A~C는 각각 사회권, 자유권, 청구권 중 하나이다.)

구분	헌법 조항 예시
A	제17조 모든 국민은 사생활의 비밀과 자유를 침해받지 아니한다.
B	제26조 ① 모든 국민은 법률이 정하는 바에 의하여 국가 기관에 문서로 청원할 권리를 가진다. (가)
C	제36조 ③ 모든 국민은 보건에 관하여 국가의 보호를 받는다.

- ① A는 방어적, 소극적 성격을 가진다.
- ② B는 A나 C의 실현을 위한 수단적 권리의 성격을 가진다.
- ③ C는 A와 달리 복지 국가의 등장과 함께 형성된 것이다.
- ④ C는 B와 달리 국가의 존재를 전제로 보장되는 기본권이다.
- ⑤ (가)에는 '신속한 재판을 받을 권리'를 규정한 헌법 조항이 들어갈 수 있다.

▶ 20058-0208

### 8 자료에 대한 옳은 설명만을 <보기>에서 고른 것은? [3점]



#### 보기

- ㄱ. △△법은 사적 생활 관계를 규율한다.
- ㄴ. A는 위헌·위법한 명령·규칙·처분에 대한 심사권을 가진다.
- ㄷ. 갑은 B에 위헌 심사청 헌법 소원을 제기하였다.
- ㄹ. B가 △△법 조항이 합헌이라고 결정하면 A는 갑에게 승소 판결을 내려야 한다.

- ① ㄱ, ㄴ    ② ㄱ, ㄷ    ③ ㄴ, ㄷ    ④ ㄴ, ㄹ    ⑤ ㄷ, ㄹ



▶ 20058-0209

9 다음 A~D에 대한 옳은 설명만을 (보기)에서 고른 것은?

우리나라의 지방 자치 단체는 A, B로 나뉘며, 지방 자치 단체의 기관은 C, D가 있다. A, B는 각각 광역 지방 자치 단체와 기초 지방 자치 단체 중 하나에 해당하며, C, D는 각각 의결 기관(지방 의회)이나 집행 기관(지방 자치 단체장) 중 하나에 해당한다. 만일 ○○ 광역시의 △△구 자치 단체장이 제출한 예산안을 해당 자치 단체의 의회에서 심의·의결하였다면, B의 C가 제출한 예산안을 D에서 심의·의결한 것이라고 말할 수 있다.

보기

- ㄱ. B와 달리 A는 D가 구성되지 않는다.
- ㄴ. A, B의 C는 모두 주민의 직접 선거로 선출된다.
- ㄷ. D의 장은 C의 제청을 받아서 대통령이 임명한다.
- ㄹ. C는 규칙 제정권, D는 조례의 제·개정 및 폐지권을 갖는다.

- ① ㄱ, ㄴ    ② ㄱ, ㄷ    ③ ㄴ, ㄷ    ④ ㄴ, ㄹ    ⑤ ㄷ, ㄹ

▶ 20058-0210

10 다음 자료에 대한 분석이나 추론으로 옳은 것은? [3점]

○○국 의회 의원은 총 8명으로 <자료 1>과 같이 각 선거구별 선출 인원은 동일하게 다수 대표제로 선출한다. 그런데 차기 의회 의원 선거부터는 개편안을 만들어 단순 다수 대표제 선출 방식은 유지하되 <자료 2>와 같이 a~f의 개편 선거구에서 선거구당 1명씩 총 6명의 의회 의원을 선출하려고 한다. 단, 각 정당은 후보자를 선거구당 1명씩만 공천한다. 또 차기 의회 의원 선거에서도 정당과 유권자의 수는 변함없고, 이 선거구들이 분할되더라도 분할된 선거구의 각 정당 후보자에 대한 득표율은 현행 정당 후보자 득표율이 그대로 반영된다고 가정한다.

<자료 1> 현행 의회 의원 선거에서의 정당 후보자 득표율

선거구	정당	득표율 (단위: %)			
		갑	을	병	정
A		30	40	20	10
B		20	35	30	15
C		45	10	25	20
D		20	15	25	40

<자료 2> 선거구 개편안

현행 선거구	선거구 분할	개편 선거구
A	A1	a
	A2	b
B	B1	c
	B2	d
C	C1	e
	C2	f
D	D1	
	D2	

- ① 선거구 개편안은 병당에 유리할 것이다.
- ② 선거구 분할은 평등 선거를 실현하기 위한 것이다.
- ③ 차기 의회 의원 선거에서 을당은 3석을 확보할 것이다.
- ④ 현행과 차기 의회 의원 선거에서 갑당이 확보하는 의석수는 같을 것이다.
- ⑤ 현행과 달리 차기 의회 의원 선거에서는 선거구 내 당선자간 투표 가치의 차이가 발생할 것이다.

▶ 20058-0211

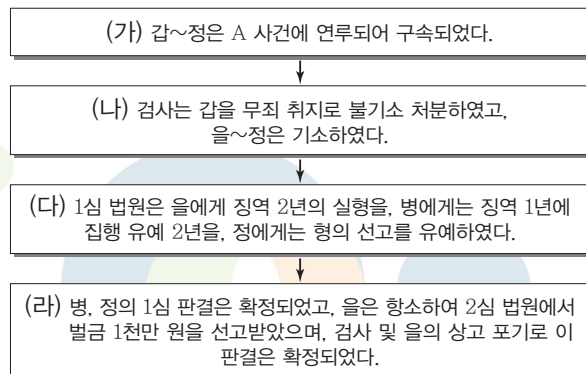
11 민법의 원칙 적용과 관련하여 밑줄 친 ㉠과 ㉡의 판단에 대한 설명으로 옳은 것은?

- ○○ 위원회는 온라인 게임 회사의 약관 중 이용자의 경미한 의무 위반에도 사전 통보 없이 계약을 해지할 수 있도록 한 조항은 고객에게 현저히 불리하여 무효라는 ㉠ 결정을 내렸다.
- 법원은 원고가 공박한 상태에 있음을 이용하여 피고의 토지를 시세보다 현저히 높은 가격으로 매수하도록 체결한 계약은 공정성을 잃어서 무효라고 ㉡ 판결하였다.

- ① ㉠은 고의나 과실이 없더라도 일정한 경우 배상 책임을 질 수 있다는 원칙이 적용되었다.
- ② ㉡은 소유권의 행사는 공공복리에 맞게 행사되어야 한다는 원칙이 적용되었다.
- ③ ㉠은 ㉡과 달리 사회적 약자의 보호를 위해 대두된 민법의 원칙이 적용되었다.
- ④ ㉡은 ㉠과 달리 개인주의, 자유주의 이념을 반영한 민법 원칙이 적용되었다.
- ⑤ ㉠, ㉡ 모두 사적 자치의 원칙을 수정하는 민법의 원칙이 적용되었다.

▶ 20058-0212

12 그림의 형사 절차에 대한 법적 분석으로 옳지 않은 것은? [3점]

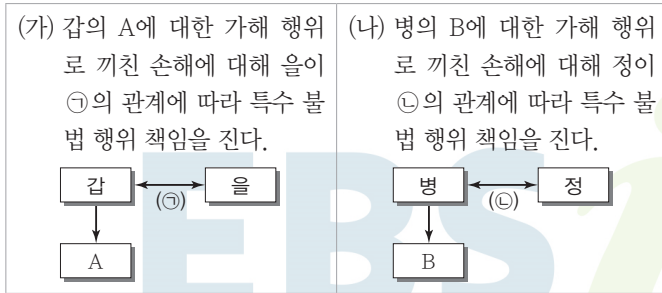


- ① (가)에서 (나) 사이에 갑~정 모두 구속 적부 심사를 청구할 수 있다.
- ② (나)로 인해 갑은 구금에 대한 형사 보상을 청구할 수 있다.
- ③ (다)에서 을~병 모두 구금 상태였다면 을을 제외한 병, 정은 형의 선고에 따라 석방된다.
- ④ (라)에서 을은 1심과 달리 항소심에서 재산형을 선고받았다.
- ⑤ (라) 이후 병은 정과 달리 유예 기간 동안 일정한 범죄를 저지르지 않으면 면소된 것으로 간주된다.



▶ 20058-0213

13 다음 (가), (나)의 불법 행위 책임에 대한 옳은 법적 분석만을 <보기>에서 고른 것은? (단, 을과 정이 지는 특수 불법 행위 책임은 서로 다른 유형이다.) [3점]



**보기**

- ㄱ. 을과 정이 손해 배상 책임을 진다면 이는 모두 무과실 책임에 해당한다.
- ㄴ. 갑이 책임 능력이 없고, 정이 특수 불법 행위 책임을 지는 상황이면, 병은 일반 불법 행위 책임을 진다.
- ㄷ. ㉠이 갑, 을 간 업무와 관련된 관계이면, ㉡은 책임 무능력자 병과 그를 감독할 법정 의무가 있는 정 간의 관계이다.
- ㄹ. 갑이 피용자이고 을이 사용자라면, 갑의 행위가 불법 행위가 아니더라도 을이 갑의 행위에 대한 책임을 질 수 있다.

- ① ㄱ, ㄴ    ② ㄱ, ㄷ    ③ ㄴ, ㄷ    ④ ㄴ, ㄹ    ⑤ ㄷ, ㄹ

▶ 20058-0214

14 다음 사례에 대한 법적 판단으로 옳은 것은? (단, 갑은 17세의 고등학교생이다.) [3점]



- ① 갑은 병의 동의를 얻어야 계약을 취소할 수 있다.
- ② (가)에는 '갑에게 확답을 촉구'가 들어갈 수 있다.
- ③ 을은 갑이 미성년자임을 알고 있었지만 계약 철회는 가능하다.
- ④ 갑, 병은 모두 노트북을 현 상태로 돌려주고 계약을 취소할 수 있다.
- ⑤ (나)에는 '의사 능력이 없는 자와의 계약이므로 무효'가 들어갈 수 있다.

▶ 20058-0215

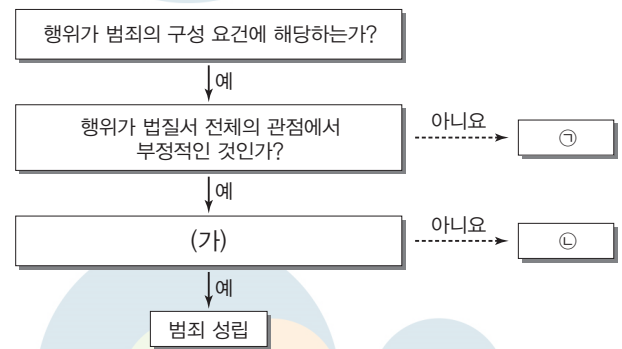
15 표는 갑, 을 간에 형성될 수 있는 (가)~(라)의 상황을 나타낸 것이다. 이에 대한 설명으로 옳은 것은?

구분	혼인의 실질적 요건을 갖추었나요?	
	예	아니요
혼인의 형식적 요건을 갖추었나요?	예	(가)
	아니요	(나)
		(다)
		(라)

- ① 갑, 을 간 법정 상속은 (가), (다)에서 가능하다.
- ② (가), (나)에서 출생한 자녀는 혼인 중 자녀로 간주된다.
- ③ (가), (나) 모두 갑, 을 간에 일상 가사 대리권이 인정된다.
- ④ (나)는 (가)와 달리 갑, 을 간에 상호 부양 및 협조 의무가 인정된다.
- ⑤ (라)는 (나), (다)와 달리 갑, 을 간에 이혼을 위한 법적 절차가 요구되지 않는다.

▶ 20058-0216

16 그림은 갑의 일정한 행위가 범죄로 성립하는지 판단하기 위한 것이다. 이에 대한 옳은 설명만을 <보기>에서 있는 대로 고른 것은? [3점]



**보기**

- ㄱ. 갑의 행위가 현재의 위난을 피하기 위한 상당한 이유가 있는 것이라면, ㉠에 해당될 수 있다.
- ㄴ. 갑이 심신 미약 상태에서 위법한 행위를 한 경우라면, ㉡에 해당하여 범죄가 성립되지 않는다.
- ㄷ. 갑의 행위가 위법하지만 강요에 의한 것이라면, ㉠에는 해당되지 않으나 ㉡에는 해당될 수 있다.
- ㄹ. (가)에는 갑에게 책임을 물을 수 있는지 판단하는 질문이 들어간다.

- ① ㄱ, ㄴ    ② ㄱ, ㄷ    ③ ㄴ, ㄹ  
 ④ ㄱ, ㄷ, ㄹ    ⑤ ㄴ, ㄷ, ㄹ



▶ 20058-0217

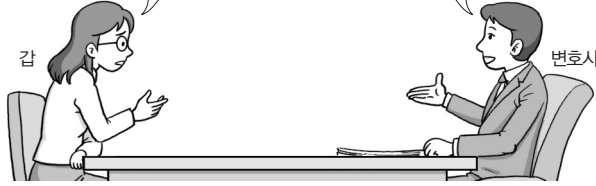
▶ 20058-0219

**17** 다음 (가)~(라)에 대한 옳은 설명만을 (보기)에서 고른 것은? [3점]

**19** 다음 자료에 대한 법적 분석으로 옳지 않은 것은? [3점]

회사가 저에게 연고도 전혀 없는 곳에 근무하도록 인사 발령을 낸 것은 완전 보복성 인사입니다. 회사는 인사 규정에 따른 정당한 것이라고 하지만 저는 제가 노동조합 대표를 맡고 있어서 조합 활동을 무력화시키기 위한 부당한 조치라고 생각합니다. 전문가의 의견을 듣고 싶습니다.

정기 전보 인사이더라도 노동조합 활동에 대한 탄압이라면 (가)에 해당합니다. 따라서 (나)에 구제 신청을 할 수 있고, 여기에 불복하면, (다)에 재심 판정을 구할 수 있습니다. 여기에서도 구제가 행해지지 않으면, 이 재심 판정의 취소를 구하는 사법 절차를 (라)에서 밟을 수 있습니다.



**보기**

ㄱ. (가)는 '부당 노동 행위'이다.  
 ㄴ. (나)는 '지방 노동 위원회', (다)는 '중앙 노동 위원회'이다.  
 ㄷ. (나)에 (가)에 대한 구제 신청은 갑이 아니라 노동조합만 할 수 있다.  
 ㄹ. (라)는 '고등 법원'으로 2심제가 적용된다.

- ① ㄱ, ㄴ    ② ㄱ, ㄷ    ③ ㄴ, ㄷ    ④ ㄴ, ㄹ    ⑤ ㄷ, ㄹ

갑은 지병으로 14억 원 상당의 재산을 남기고 사망하였다. 가족으로는 이혼한 전처 사이에 둔 자녀 을, 재혼한 배우자 병, 병이 전남편과의 사이에 둔 자녀 정(갑과 병의 친양자로 입양됨)이 있다. 사망한 직후 갑이 자필로 작성한 유언장 (가), (나)가 발견되었다.

(가) 유언장	(나) 유언장
유언자 : 갑(인적 사항) 내가 죽으면 나의 전 재산(14억 원)을 을에게 준다. 작성일자 : 2018년 9월 15일 성명 : 갑 (갑) 서명 날인	유언자 : 갑(인적 사항) 내가 죽으면 나의 전 재산(14억 원)을 △△ 복지 재단에 기부한다. 작성일자 : 2019년 10월 15일 성명 : 갑 (갑) 서명 날인

- ① (가), (나) 모두 유효이면, (나)에 따라 유언에 의한 상속이 진행된다.  
 ② (가), (나) 모두 무효이면, 병의 상속분은 을 상속분의 1.5배이다.  
 ③ (가)가 유효하고 (나)가 무효이면, 을의 상속 금액은 병의 법정 상속분에 해당하는 금액보다 많다.  
 ④ (가), (나)의 유효와 무관하게 갑의 전처와 병의 전남편은 상속을 받을 수 없다.  
 ⑤ (가), (나) 어느 쪽에 따라 상속되더라도 병은 정과 달리 유류분 반환을 청구할 수 있다.

▶ 20058-0218

▶ 20058-0220

**18** 표는 국제 사회를 바라보는 관점 A, B를 구분하기 위한 것이다. 이에 대한 설명으로 옳은 것은? (단, A와 B는 각각 자유주의적 관점과 현실주의적 관점 중 하나이다.)

**20** 국제법의 법원 A~C에 대한 설명으로 옳은 것은? (단, A~C는 각각 국제 관습법, 법의 일반 원칙, 조약 중 하나이다.)

질문	A	B
국가 간 이해관계의 충돌을 국제기구가 원활하게 해결할 수 있다고 보십니까?	아니요	예
(가)	예	아니요

질문	같은 응답
다른 국제법이 존재하지 않을 경우 보조적으로 적용되는가?	A와 B
일반적으로 문서 형식을 갖추어서 만들어지는가?	B와 C

- ① A는 국가 간 힘의 균형이 국제 평화 유지의 근간이라고 본다.  
 ② B는 국가 간 상호 의존 관계를 간과한다는 비판을 받을 수 있다.  
 ③ 안전 보장 이사회의 표결에서 상임 이사국의 거부권을 인정하는 것은 B가 반영된 것이다.  
 ④ B는 A와 달리 국가의 이익은 국제 규범에 우선한다고 전제한다.  
 ⑤ (가)에는 '집단 안보가 국제 평화 유지에 기여한다고 보니까?'가 들어갈 수 있다.

- \* 응답은 '예' 또는 '아니요'로만 함
- ① A는 원칙적으로 국가와 국제기구 간에는 체결할 수 없다.  
 ② 우리나라의 경우 B가 법적 효력을 가지려면, 국회의 비준동의 절차가 필요하다.  
 ③ C의 대표적 예로 '국내 문제 불간섭의 원칙'을 들 수 있다.  
 ④ A와 달리 C는 국제 문제의 해결 기준으로는 활용되지 않는다.  
 ⑤ B는 A와 달리 원칙적으로 국제 사회에서 포괄적 구속력을 가진다.

문항에 따라 배점이 다르니, 각 물음의 끝에 표시된 배점을 참고 하시오. 3점 문항에만 점수가 표시되어 있습니다. 점수 표시가 없 는 문항은 모두 2점입니다.

▶ 20058-0221

### 1 다음 두 사례를 종합하여 도출할 수 있는 정치의 기능으로 가장 적절한 것은?

- 송전 선로를 지하에 설치해 달라는 지역 주민의 요구를 A사가 받아들임으로써 ○○지역 송전 선로 갈등이 5년 만에 해결되었다. 최근 지역 주민과 A사는 지방 자치 단체의 중재로 산악 구간의 일부인 1.5km를 지하에 설치하기로 합의했다.
- B사 노동조합이 회사 측과 합의하면서 이달 말 예고했던 전면 파업 계획도 철회했다. 노사는 정부의 중재하에 노조가 제시했던 임금 4% 인상 요구를 3% 선에서 인상하기로 합의했다. 대신 설과 추석에 명절 격려금을 지급하기로 했다.

- ① 공동체의 장기적 목표를 설정한다.
- ② 법의 강제력으로 사회적 갈등을 해소한다.
- ③ 이해관계를 조정하여 사회 안정을 도모한다.
- ④ 삶의 질 향상을 위해 사회적 조건을 개선한다.
- ⑤ 정책 추진의 효율성을 위해 시민 참여를 확대한다.

▶ 20058-0222

### 2 밑줄 친 부분에 부각된 법의 이념에 대한 설명으로 옳은 것은?

A고등학교는 학년 초에 경시대회 시상 기준을 발표하면서 응시자의 20%까지 시상하기로 했다. 그런데 올해 경시대회를 실시해 보니 응시자의 수준이 너무 낮아 100점 만점에 30점을 받은 경우도 수상자에 포함되는 일이 발생했다. A고등학교는 이런 학생들까지 시상하는 것이 과연 옳은 일일까를 고민했으나 결국 시상하기로 결정했다. 이미 응시자의 20%를 수상자로 정하겠다는 발표를 신뢰한 학생들의 기대를 저버릴 수 없었기 때문이다.

- ① 법이 실현하고자 하는 궁극적 목표를 의미한다.
- ② 원칙적으로 일체의 차별적 대우를 부정하는 것을 의미한다.
- ③ ‘같은 것은 같게, 다른 것은 다르게’ 대우하는 것을 말한다.
- ④ 국민이 법의 권위를 믿고 법에 따라 안심하고 생활할 수 있는 상태를 의미한다.
- ⑤ 시대와 국가에 따라 법의 구체적인 내용이 다르게 나타나게 한다는 점을 전제로 한다.

▶ 20058-0223

### 3 법치주의의 유형 A, B에 대한 설명으로 옳은 것은? [3점]

근대 법치주의 전개 과정에서 A는 법 자체의 내용과 목적보다는 의회가 합법적으로 제정했다는 점을 강조하였다. 그러나 A는 통치의 합법성만 지나치게 강조한 나머지 인권을 침해하고 독재를 정당화하는 법이 제정되는 문제가 발생하기도 하였다. 이에 따라 형식적인 합법성뿐만 아니라 법의 목적과 내용도 인간 존엄, 자유, 평등과 같은 헌법 이념에 부합해야 법이 정당성을 가진다는 B가 대두되었다.

- ① A를 보장하기 위한 수단으로 저항권도 하나의 방법이 된다.
- ② B는 법 제정의 합법성을 배제하고 법 내용의 정당성을 중시한다.
- ③ 법률에 근거해 국민의 기본권을 제한하는 것은 B에 위배된다.
- ④ A는 B와 달리 법의 이념 중 정의를 가장 중시한다.
- ⑤ 위헌 법률 심사제는 A보다 B를 실현하기 위한 제도이다.

▶ 20058-0224

### 4 대화에서 갑과 을이 공통적으로 언급하는 정당의 기능으로 가장 적절한 것은?

이번에 아는 사람 소개로 ○○당이 주최하는 유권자 워크숍에 참석했다. 1박 2일간 워크숍에 참석해 보니 정당이 하는 일이 많더라고. 시민 여론 수렴, 정부 정책 검토, 입법 청원 분석 등 정당의 업무에 대해 배우는 계기가 됐다.

우리 아들이 ◇◇당 사무국에서 일하고 있어서 정당에 대해 조금 알게 되었어. 아들이 얼마 전까지는 회원이었는데, 정당에 들어가서 일을 한 뒤부터 나도 덩달아 ◇◇당 홈페이지에 들어가서 살펴보는 일이 많아졌어. 덕분에 정강이니 국민 경선이니 하는 말을 알게 되었어.

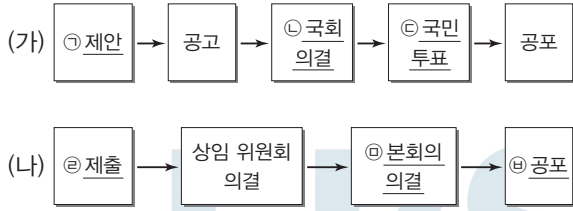


- ① 정치 사회화
- ② 정부와 의회의 매개
- ③ 정치 엘리트의 충원
- ④ 여론의 형성과 조직화
- ⑤ 정부 정책에 대한 비판과 견제



▶ 20058-0225

5 밑줄 친 ㉠~㉣에 대한 설명으로 옳은 것은? (단, (가), (나)는 각각 우리나라의 헌법 개정 절차와 법률의 제정 및 개정 절차 중 하나이다.)

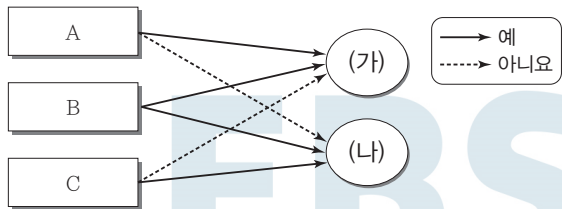


- ① ㉠은 국회 의원 10인 이상이면 가능하다.
- ② ㉢을 통과하기 위해서는 국회 의원 선거권자 과반수의 찬성이 필요하다.
- ③ ㉡은 정부에 의해서도 가능하다.
- ④ ㉢과 ㉡의 의결 정족수는 동일하다.
- ⑤ ㉡은 국무총리의 고유 권한이다.

▶ 20058-0226

6 기본권의 유형 (가), (나)를 그림과 같이 비교할 때, A~C에 들어갈 적절한 질문만을 <보기>에서 고른 것은? [3점]

기본권의 유형	관련 헌법 조항
(가)	모든 국민은 건강하고 쾌적한 환경에서 생활할 권리를 가지며, 국가와 국민은 환경 보전을 위하여 노력하여야 한다.
(나)	모든 국민은 고문을 받지 아니하며, 형사상 자기에게 불리한 진술을 강요당하지 아니한다.



보기

- ㄱ. 국가의 존재를 전제로 하는가?
- ㄴ. 필요시 법률로써 제한 가능한가?
- ㄷ. 다른 기본권 보장을 위한 수단적 권리인가?
- ㄹ. 국가로부터의 간섭을 배제하는 성격의 권리인가?

- |   |          |          |          |   |          |          |          |
|---|----------|----------|----------|---|----------|----------|----------|
|   | <u>A</u> | <u>B</u> | <u>C</u> |   | <u>A</u> | <u>B</u> | <u>C</u> |
| ① | ㄱ        | ㄴ        | ㄷ        | ② | ㄱ        | ㄴ        | ㄹ        |
| ③ | ㄴ        | ㄱ        | ㄷ        | ④ | ㄴ        | ㄱ        | ㄹ        |
| ⑤ | ㄹ        | ㄷ        | ㄴ        |   |          |          |          |

▶ 20058-0227

7 헌법 재판소가 밑줄 친 부분과 같이 판단한 근거로 가장 적절한 것은?

PC방이나 공공시설 등을 전면 금연 구역으로 지정한 법 조항은 헌법에 위반되지 않는다는 헌법 재판소 결정이 나왔다. 국민 건강 증진법 제9조 제4항은 공공 기관과 학교, PC방, 교통 관련 시설 대합실 등 26곳에 대해 시설 전체를 금연 구역으로 지정하고 흡연실을 따로 설치하도록 규정하고 있다. 재판부는 결정문에서 “기존의 금연·흡연 구역의 분리 운영만으로는 담배 연기를 물리적으로 완전히 차단하기 어렵다는 점을 고려해 공공 장소에서 전면 금연을 실시함으로써 비흡연자의 간접흡연을 방지하고 흡연자 수를 감소시켜 국민 건강을 증진하기 위해 만들어진 것”이라며 “흡연실을 별도로 설치할 수 있고 우리나라 성인과 청소년의 흡연율은 여전히 높은 점 등을 고려할 때 헌법에 위반하지 않는다.”라고 밝혔다.

- ① 흡연자의 흡연권을 보호할 필요가 없다.
- ② 금연 구역의 지정은 그 입법 목적이 정당하다.
- ③ 금연 구역의 지정은 국민의 여론에 의한 것이다.
- ④ 해당 법률 조항은 적법한 절차에 의해 제정되었다.
- ⑤ 금연은 국민이 지켜야 할 기본적인 의무에 해당한다.

▶ 20058-0228

8 다음 자료에 대한 분석 및 추론으로 옳은 것은? [3점]

갑국과 을국은 각각 서로 다른 전형적인 정부 형태를 채택하고 있으며, T기와 T+1기 모두 갑국과 을국의 정부 형태는 변함이 없다. 또한 T기와 T+1기 모두 갑국과 을국의 의회 의석수는 200석으로 동일하고, 무소속 의원은 없다. 갑국과 을국은 T기와 T+1기 사이에 의회 의원 선거만 있었다. 표는 갑국과 을국의 T기와 T+1기의 정치 변화를 나타낸 것이다.

구분	T기		T+1기	
	갑국	을국	갑국	을국
제1당의 의석수	102석	90석	90석	120석
제2당의 의석수	45석	58석	60석	48석
행정부 수반의 소속 정당	A당	㉠	㉡	㉢

- ① 갑국에서 국가 원수와 행정부 수반이 다른 사람이라면 ㉡에는 A당이 들어간다.
- ② 을국에서 의회 의원이 내각의 각료를 겸직할 수 있다면 T기의 갑국은 A당이 제1당이 된다.
- ③ 갑국에서 행정부 수반이 법률안 거부권을 가진다면 T+1기에 갑국의 A당은 야당이 되었을 것이다.
- ④ 갑국에서 행정부 수반이 의회 해산권을 지니고 있다면 ㉠과 ㉢은 같은 정당이 될 것이다.
- ⑤ 을국에서 행정부 수반이 국민에 의해 선출된다면 을국은 T기에 연립 내각이 수립되었을 것이다.



▶ 20058-0229

### 9 교사의 질문에 옳게 대답한 학생만을 고른 것은?

교사 : 우리나라의 주민 참여 제도를 발표해 볼까요?  
 갑 : 주민이 조례 제정안이나 개정안, 폐지안을 직접 지방 의회에 발의할 수 있습니다.  
 을 : 주민은 지방 자치 단체의 예산 편성 과정에 참여하여 사업 제안 등 의견을 제시할 수 있습니다.  
 병 : 지방 자치 단체장을 제외하고 지방 의회 의원을 주민이 투표를 통해 해임하는 주민 소환 제도가 있습니다.  
 정 : 지방 자치 단체장의 사무 처리가 공익을 현저히 해칠 경우 주민 감사를 청구할 수 있습니다.

- ① 갑, 을    ② 갑, 병    ③ 을, 병    ④ 을, 정    ⑤ 병, 정

▶ 20058-0230

### 10 다음 자료에 대한 분석으로 옳은 것은? [3점]

갑국은 100개의 선거구에서 단순 다수제로 의회 의원 200명을 선출한다. 표는 최근 의회 의원 선거에서 나타난 정당별 득표율과 의석률이다. 단, 갑국의 의회는 지역구 의원으로만 구성되어 있으며, 모든 정당은 각 선거구에 후보자를 1명씩만 공천하며, 각 선거구에서 선출하는 의원수는 같다.

구분	A당	B당	C당	D당	계
득표율	40	38	12	10	100
의석률	35	40	15	10	100

갑국은 다음과 같이 선거 제도를 개편하고자 한다.

〈1안〉 현재 의석수는 유지하되 지역구 선거구 수는 그대로 둔 채 지역구 의회 의원 정수를 100명으로 줄인다. 비례 대표 제도를 도입하여 100석을 추가한다. 비례 대표 의원은 전국을 단위로 하는 정당 투표를 실시하여 나타나는 정당별 득표율에 따라 선출되는데, 모든 의석 할당 정당의 득표율의 합에서 해당 의석 할당 정당의 득표율이 차지하는 비율에 의원 정수를 곱하여 산출된 수의 정수(整數)만큼 정당의 의석으로 배분한다. 이후 잔여 의석은 소수점 이하의 수가 큰 순서대로 각 의석 할당 정당에 1석씩 배분한다. 단, 득표율이 10%를 초과하지 못하는 정당은 비례 대표 의석 할당 정당이 될 수 없다.

〈2안〉 지역구 선거구 제도를 폐지하고 200석을 모두 비례 대표 의원으로 구성한다. 이 경우 비례 대표 의원 선출 방식은 〈1안〉과 같다.

\* 〈1안〉의 지역구 의석률은 최근 의회 의원 선거의 정당별 의석률과 같고, 〈1안〉과 〈2안〉의 정당별 득표율은 최근 의회 의원 선거의 정당별 득표율을 근거로 판단한다.

- ① D당은 〈1안〉보다 〈2안〉을 선호할 것이다.
- ② C당은 〈1안〉과 〈2안〉 모두에서 현행보다 유리할 것이다.
- ③ 〈1안〉과 〈2안〉의 의석수 격차는 A당보다 B당이 클 것이다.
- ④ 현행보다 〈1안〉에서 지역구 선거에서의 사표가 더 많다.
- ⑤ 〈1안〉과 달리 〈2안〉에서 B당은 과대 대표된다.

▶ 20058-0231

### 11 사례에서 도출할 수 있는 민법의 원칙 (가)~(다)에 대한 설명으로 옳은 것은?

원칙	사례
(가)	갑은 자기 소유의 토지가 개발 제한 구역으로 지정되는 바람에 전원주택을 지으려던 계획을 포기할 수밖에 없었다.
(나)	을은 A에게서 1억 원을 빌리면서 자신의 집을 담보로 제공했다. A는 이자는 받지 않겠지만 대신 1년 안에 꼭 갚으라고 하면서 돈을 빌려주었다.
(다)	병은 압력밥솥을 정상적으로 사용하던 중 폭발하자 제조물 책임법에 규정된 제조물의 결함을 근거로 제조업자로부터 손해 배상을 받았다.

- ① (가)는 재산권 행사의 공공성이 강조됨에 따라 등장하였다.
- ② (나)는 경제적 약자를 보호하기 위해 현대 사회에서 강조된다.
- ③ (다)는 자신의 고의나 과실 없이는 책임을 부담하지 않는다는 원칙이다.
- ④ (가)와 달리 (나)는 불공정 약관을 무효로 하는 근거가 된다.
- ⑤ (가)와 (나)는 (다)와 달리 신의 성실의 원칙을 전제로 한다.

▶ 20058-0232

### 12 다음 질문에 옳은 댓글을 단 사람만을 고른 것은? [3점]

공지사항    게시판    Q&A

질문 : 저희 집 부엌 인테리어 공사를 A에게 맡겼는데, A가 정당한 이유도 없이 약속한 날짜에 공사를 하지 않거나 계약 내용과 다르게 공사하였습니다. 이에 따라 계약 내용대로 다시 공사를 해달라고 요구했는데, A는 공사가 끝났다고 하며 대금을 달라고 합니다. 공사를 맡길 때 계약서는 쓰지 않았습니다. 어떻게 해야 하나요?

↳ 갑 : 계약서를 쓰지 않았다면 계약이 성립하지 않은 것입니다. 지금까지의 공사는 무효이므로 대금을 지급할 필요가 없다고 봅니다.

↳ 을 : 계약서를 쓰지 않았더라도 두 사람이 합의했으므로 계약은 성립했습니다. 다만, 계약한 내용대로 공사를 하지 않은 부분에서는 A에게 채무 불이행 책임이 발생할 수 있습니다.

↳ 병 : A가 공사를 다시 하여 합의한 수준으로 완료할 때까지는 공사 대금을 지급할 필요가 없다고 생각합니다.

↳ 정 : A가 계약한 내용대로 공사를 하지 않았더라도 A가 공사를 마친 상태이므로 A로서는 의무를 이행한 상태입니다. 따라서 공사 대금을 지급해야 합니다.

- ① 갑, 을    ② 갑, 병    ③ 을, 병    ④ 을, 정    ⑤ 병, 정



▶ 20058-0233

▶ 20058-0235

13 다음 사례에 해당하는 상황으로 적절한 것은? [3점]

15 다음 사례에 대한 옳은 법적 판단만을 <보기>에서 고른 것은? [3점]

갑(17세)이 을(30세)과 ○○ 상품 매매 계약을 체결했다.

- 갑은 이 계약을 취소할 수 있다.
- 갑의 법정 대리인인 갑의 부모는 이 계약을 취소할 수 있다.
- 갑과 거래한 을은 거래 의사 표시를 철회할 수 있다.
- 갑과 거래한 을은 갑의 부모에게 계약의 추인 여부의 확인을 촉구할 수 있다.

갑은 아들 병(17세)과 함께 여행을 하던 중 사고를 당해 사망하였다. 갑은 그 자리에서 사망하였지만, 병은 치료를 받다 6개월 후 사망하였다. 사고 당시 갑에게는 10억 원, 병에게는 2억 원의 재산이 있었으며, 갑과 병 모두 별도의 유언은 없었다. 유족으로는 갑의 처 을, 갑의 아버지 A, 갑의 어머니 B가 있다. 병의 친생부모는 C와 D인데 병은 합법적인 절차를 거쳐 갑과 을의 친양자가 되었다.

- ① 갑이 부모의 동의를 얻어 계약을 체결하였다.
- ② 갑이 신분증을 위조하여 자신을 성인으로 믿게 하고 계약을 체결하였다.
- ③ 을은 갑이 미성년자이고 부모의 동의를 받지 않았음을 거래 당시에 모르고 있었다.
- ④ 갑이 을에게 자신은 미성년자이며, 부모의 동의를 받지 않았음을 거래 당시에 밝혔다.
- ⑤ 갑이 부모로부터 처분을 허락받은 용돈의 범위 내에서 부모의 동의 없이 계약을 체결하였다.

보기

- ㄱ. 갑의 사망으로 인한 상속인은 을과 병이다.
- ㄴ. 갑과 병의 사망으로 을은 모두 12억 원을 상속받게 된다.
- ㄷ. 병의 사망으로 인해 C, D는 각각 3억 원씩을 상속받는다.
- ㄹ. 갑과 병의 사망으로 상속을 받는 사람은 을, A, B, C, D이다.

- ① ㄱ, ㄴ
- ② ㄱ, ㄷ
- ③ ㄴ, ㄷ
- ④ ㄴ, ㄹ
- ⑤ ㄷ, ㄹ

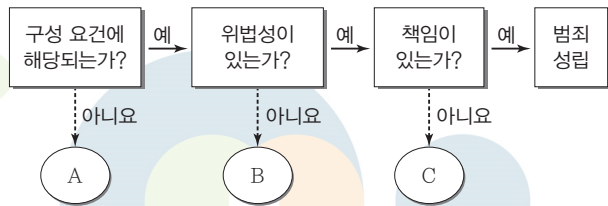
▶ 20058-0234

▶ 20058-0236

14 다음 사례에 대한 법적 분석으로 옳지 않은 것은?

16 그림은 범죄 성립의 요건을 나타낸 것이다. 이에 대한 설명으로 옳은 것은? [3점]

지하철 승강장에 낀 얼음에 미끄러져 다친 갑이 지하철 운행 회사 대표 을을 상대로 낸 소송에서 일부 승소 판결을 받았다. 법원은 “당일 평균 기온이 영하로 떨어져서 물을 사용해 청소할 경우 바닥에 살얼음이 형성될 수 있으므로 청소를 마친 후 물기를 완전히 제거해야 할 업무상 주의 의무가 있다.”라며 “을은 청소업무에 관해 과실을 저지른 병의 사용자로서 갑이 입은 손해를 배상할 책임이 있다.”라고 밝혔다. 다만, “갑도 사고 당시 굽이 있는 신발을 신고 걷다가 살얼음을 발견하지 못해 몸의 균형을 쉽게 잃어버리면서 스스로의 안전을 제대로 도모하지 못했다.”라며 을의 책임을 60%로 제한했다.



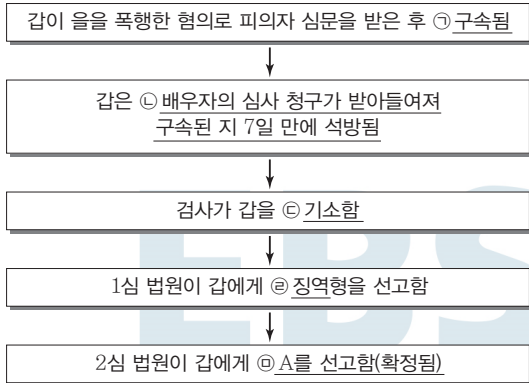
- ① 법원은 병의 행위가 불법 행위라고 판단하였다.
- ② 을은 병의 과실과 무관하게 갑에게 손해 배상 책임을 진다.
- ③ 을은 사용자로서 주의 의무를 다하였음을 증명하지 못하였을 것이다.
- ④ 법원은 갑에게도 손해의 40%에 해당하는 책임이 있다고 판단하였다.
- ⑤ 갑은 사고로 인하여 유발된 정신적 손해에 대해서도 손해 배상을 청구할 수 있다.

- ① 9세의 소년이 상습적으로 동네 가게에서 물건을 훔친 행위는 A에 해당한다.
- ② 40세의 회사원이 자녀의 생명에 대한 피할 수 없는 협박을 받아 회사 기밀을 넘긴 것은 B에 해당한다.
- ③ 투숙한 호텔에 화재가 발생하자 탈출하기 위해 호텔 창문을 깬 행위는 C에 해당한다.
- ④ 지하철에서 승객을 폭행하는 강도를 30세의 회사원이 붙잡아 경찰에 넘긴 행위는 B와 C 모두에 해당한다.
- ⑤ 18세의 대학생이 친구의 허락을 받고 친구 아버지의 오토바이를 훔쳐 처분한 행위는 A~C에 해당하지 않는다.



▶ 20058-0237

### 17 다음은 갑에 대한 형사 절차를 나타낸 것이다. 밑줄 친 ㉠~㉣에 대한 설명으로 옳은 것은? [3점]



- ① ㉠에서 갑의 구속 여부는 검사가 결정했을 것이다.
- ② ㉡에서 갑은 구속 영장 실질 심사를 통해 석방되었다.
- ③ ㉢으로 인해 갑에 대해 무죄 추정 원칙은 적용되지 않는다.
- ④ ㉣은 정역(定役)을 부과하지 않는 자유형에 해당한다.
- ⑤ ㉤에서 A가 '벌금형'이라면 갑은 형사 보상을 청구할 수 없다.

▶ 20058-0238

### 18 밑줄 친 ㉠~㉣에 대한 옳은 법적 판단 및 추론만을 <보기>에서 고른 것은? [3점]

○○ 회사에 근무하던 갑은 고객과 마찰이 있었다는 이유로 회사로부터 해고를 당하였다. 회사는 ㉠ 해고의 사유와 해고의 시기를 명시하여 갑에게 30일 전에 서면으로 통지하였다. 그러나 해고가 부당하다고 판단한 갑은 ㉡ △△ 지방 노동 위원회에 구제 신청을 하였다. 이에 △△ 지방 노동 위원회는 해고가 부당하다고 판정하였으나, ㉢ 중앙 노동 위원회는 갑의 해고가 정당하다고 판정하였다. 이 판정에 대해 갑은 ㉣ 행정 소송을 제기하였다. 1심 법원은 원고 승소 판결을 내렸다.

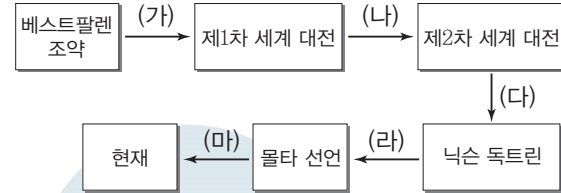
**보기**

- ㄱ. ㉠을 근거로 갑은 해고 절차가 위법하다고 주장하였을 것이다.
- ㄴ. ㉡의 구제 절차를 거치지 않고도 갑은 해고 무효 확인 소송을 제기할 수 있다.
- ㄷ. ㉢에 구제 신청을 한 당사자와 ㉣에 재심을 신청한 당사자는 다르다.
- ㄹ. ㉣에서 원고는 갑, 피고는 회사 측이었을 것이다.

- ① ㄱ, ㄴ    ② ㄱ, ㄷ    ③ ㄴ, ㄷ    ④ ㄴ, ㄹ    ⑤ ㄷ, ㄹ

▶ 20058-0239

### 19 국제 관계의 변천 과정과 관련하여 (가)~(마) 시기에 대한 설명으로 옳지 않은 것은?



- ① (가) - 유럽 열강들의 식민지 확보 경쟁이 치열했다.
- ② (나) - 미국과 소련을 중심으로 한 국제 연맹 활동이 활발했다.
- ③ (다) - 자유 진영과 공산 진영 간 냉전 체제가 심화되었다.
- ④ (라) - 자유주의와 공산주의 진영의 다원화로 양극 체제가 완화되었다.
- ⑤ (마) - 냉전 체제가 공식적으로 종식되었다.

▶ 20058-0240

### 20 밑줄 친 부분에 해당하는 국제법의 법원(法源)에 대한 옳은 설명만을 <보기>에서 고른 것은?

○○강은 A국에서 B국으로 흐른다. 얼마 전 A국에 비가 많이 와서 △△댐 수위가 높아지자 A국은 댐의 수문을 열어 ○○강으로 방류했다. 이 과정에서 B국에 방류 사실을 통보하지 않아 B국의 일부 주민이 피해를 입는 일이 발생했다. 이에 B국은 자국의 영토를 이용함에 있어 타국의 권리, 이익을 침해하지 말아야 한다는 것은 국제 사회에서 오랜 관행으로 법적 확신을 인정 받은 것이라며 A국에 손해 배상을 요구했다.

**보기**

- ㄱ. 국제 사법 재판소의 재판 준거로 활용될 수 있다.
- ㄴ. 명시적인 수용 절차를 거쳐야만 법적 효력이 부여된다.
- ㄷ. 우리 헌법에서는 국내법과 같은 효력을 갖는 것으로 인정하고 있다.
- ㄹ. 문명국들이 공통적으로 승인하여 따르는 법의 보편적 원칙에 해당한다.

- ① ㄱ, ㄴ    ② ㄱ, ㄷ    ③ ㄴ, ㄷ    ④ ㄴ, ㄹ    ⑤ ㄷ, ㄹ



문항에 따라 배점이 다르니, 각 물음의 끝에 표시된 배점을 참고 하시오. 3점 문항에만 점수가 표시되어 있습니다. 점수 표시가 없 는 문항은 모두 2점입니다.

▶20058-0241

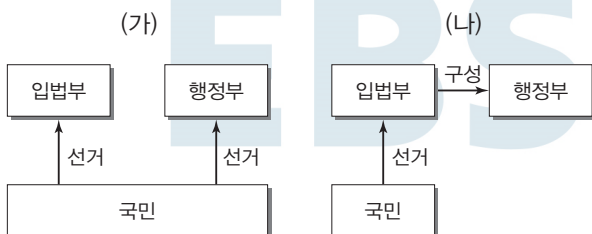
### 1 정치를 바라보는 다음 관점에 대한 설명으로 옳은 것은?

어떤 사회에서든 한 사람이 원하는 것은 대부분 다른 사람들도 원하기 때문에 이들 간에 갈등이 나타난다. 특히 부와 명예, 권 력, 지위 등은 많은 사람들이 원하지만 각자가 원하는 만큼 가 질 수는 없기 때문에 이를 얻기 위한 끊임없는 경쟁과 갈등이 나타난다. 그래서 우리는 그러한 갈등으로 인해 나타날 수 있는 최악의 사태를 막기 위해 갈등을 조정하고 해결할 수 있는 힘을 원한다. 정치란 이처럼 사회 구성원 간의 이해관계 대립과 갈등 을 조정하고 해결함으로써 사회를 유지하는 역할을 한다.

- ① 국회의 입법 활동을 정치 현상으로 보지 않는다.
- ② 국가 형성 이전에는 정치 현상이 나타나지 않았다고 본다.
- ③ 다원화된 현대 사회의 정치 현상을 설명하기에는 부적합 하다.
- ④ 사회적 희소가치의 권위적 배분 과정이 정치 현상이라고 본다.
- ⑤ 국가 기관이 공동체와 관련한 갈등을 해결해 나가는 활동 만을 정치로 본다.

▶20058-0242

### 2 전형적인 정부 형태 (가), (나)에 대한 설명으로 옳은 것은?



- ① (가)에서 내각은 입법부를 해산할 수 있다.
- ② (가)에서 국가 원수와 행정부 수반은 서로 다른 사람이다.
- ③ (나)에서 행정부 수반은 법률안 거부권을 가진다.
- ④ (나)에서 의회는 물론 내각도 법률안을 제출할 수 있다.
- ⑤ (가)와 달리 (나)에서는 의회 의원의 각료 겸직이 허용되지 않는다.

▶20058-0243

### 3 (가), (나)는 국가 성립에 관한 근대 정치 사상이다. 이에 대한 설명으로 옳은 것은? [3점]

(가) 자연 상태에서 모든 인간은 자신의 권리만을 추구하고 끊임없이 타인을 해치려 하기 때문에 늘 죽음의 공포 속에 살아간다. 이러한 상태를 벗어나기 위해 개인들은 주권을 양도하는 계약을 맺어 국가를 세운다.  
 (나) 인간은 원래 자유롭게 태어났지만 사유 재산의 등장 등으로 인해 자유롭게 살 수 없게 되었다. 이러한 상태를 벗어나기 위해 개인들은 계약을 통해 국가를 세우고 일반 의지에 따라 국가를 운영한다.

- ① (가)에서의 개인은 계약을 통해 자신의 모든 자연권을 포기한다.
- ② (나)에서 주권은 국가에 양도된다.
- ③ (가)는 군주 주권론, (나)는 국민 주권론과 연관된다.
- ④ (가)는 국가를 시민의 권리 보장 수단으로, (나)는 국가를 그 자체의 존립을 위한 목적으로 본다.
- ⑤ (가), (나) 모두 권력 분립의 중요성을 강조한다.

▶20058-0244

### 4 법치주의를 보는 갑, 을의 관점에 대한 옳은 추론만을 <보기>에서 고른 것은?



보기

- ㄱ. 갑은 정치권력의 합법성은 물론 정당성도 강조할 것이다.
- ㄴ. 을은 정의에 부합하는 법만이 권위를 가진다고 볼 것이다.
- ㄷ. 갑은 을과 달리 법의 절차 및 형식과 함께 그 목적과 내용도 중시할 것이다.
- ㄹ. 을은 갑과 달리 정당성을 지니지 못한 법률에 대한 국민의 불복종을 인정할 것이다.

- ① ㄱ, ㄴ    ② ㄱ, ㄷ    ③ ㄴ, ㄷ    ④ ㄴ, ㄹ    ⑤ ㄷ, ㄹ



▶ 20058-0245

### 5 밑줄 친 '헌법의 기본 원리'에 대한 옳은 설명만을 <보기>에서 고른 것은?

시대에 따라 요구되는 중점적 사회 가치는 달라지며 그에 따라 헌법에서 중시되는 내용도 달라진다. 절대 왕정에서 벗어난 근대 사회에서는 개인의 자유를 가장 중시하였으며 이를 보장하기 위해 헌법에서는 국가 권력의 제한, 개개인의 천부적 인권 보장을 강조하였다. 그러나 자본주의 발전 과정에서 나타난 빈부 격차의 심화, 경제 공황의 발생 등으로 인해 자유권 보장을 넘어 국민의 생존권 보장을 위한 국가의 역할이 요구되었는데, 이러한 요구는 우리나라에서도 헌법의 기본 원리로 구체화되어 있다.

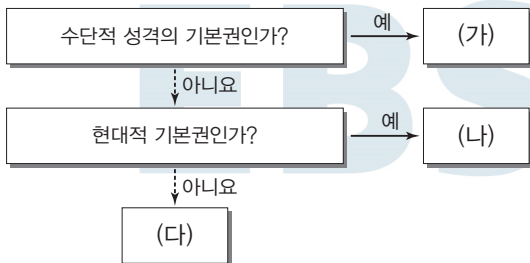
#### 보기

- ㄱ. 자유주의와 민주주의가 결합한 정치 원리이다.
- ㄴ. 최저 임금제, 공공 부조 제도 등이 구체적 실현 방안이다.
- ㄷ. 국가 의사를 결정할 수 있는 주권이 국민에게 있음을 의미한다.
- ㄹ. 모든 국민의 인간다운 생활 보장을 국가의 책임인 동시에 국민의 권리로 규정한다.

- ① ㄱ, ㄴ    ② ㄱ, ㄷ    ③ ㄴ, ㄷ    ④ ㄴ, ㄹ    ⑤ ㄷ, ㄹ

▶ 20058-0246

### 6 기본권의 유형 (가)~(다)에 대한 설명으로 옳은 것은? (단, (가)~(다)는 각각 자유권, 사회권, 청구권 중 하나이다.) [3점]



- ① (가)는 소극적, 방어적 성격을 가진다.
- ② (나)는 헌법에 열거되지 않아도 포괄적으로 보장된다.
- ③ (다)의 내용으로 청원권, 재판 청구권이 있다.
- ④ (가)는 (나)와 달리 기본권 보장을 위한 기본권으로서의 성격을 가진다.
- ⑤ (나)는 (다)와 달리 자연법상의 권리로 인정된다.

### [7~8] 자료를 보고 물음에 답하시오.

갑국의 ㉠ 종전 지역구 의회 의원 선출 방식은 선거구별로 1명씩 선출하되 다른 후보자보다 1표라도 더 얻은 후보자를 당선자로 결정하는 것이었다. 여기에서 나타난 문제점을 시정하기 위해 갑국은 ㉡ 다음과 같은 지역구 의회 의원 선출 방식을 도입하였다. 첫째, 1차 투표에서 40% 이상의 최다 득표 후보자가 나타나면 그 후보자를 당선자로 결정한다. 둘째, 1차 투표에서 40% 이상 득표자가 없고 30% 이상 40% 미만 득표 후보자가 2명 이상이면 득표 순위 2등까지를 대상으로 결선 투표를 실시하여 최다 득표 후보자를 당선자로 결정하고, 30% 이상 40% 미만 득표 후보자가 1명이거나 없을 경우에는 득표 순위 3등까지를 대상으로 결선 투표를 실시하고 최다 득표 후보자를 당선자로 결정한다.

▶ 20058-0247

### 7 ㉡과 대비되는 ㉠의 일반적 특징으로 옳은 것은? [3점]

- ① 군소 정당이 난립할 우려가 있다.
- ② 소수 정당의 의회 진입이 제한된다.
- ③ 정당별 득표율과 의석률의 괴리가 적다.
- ④ 선거구 내 당선자 간 표의 등가성 논란이 있다.
- ⑤ 당선자의 대표성 논란이 나타날 가능성이 크다.

▶ 20058-0248

8 표는 선거 방식 ㉡에 따라 치러진 갑국의 의회 의원 선거에서 (가), (나) 선거구의 1차 투표 결과 정당별 유효 득표수를 보여주고 있다. 이에 대한 옳은 분석 및 추론만을 <보기>에서 고른 것은? (단, 2차 투표에서 후보자 간 득표수가 동일한 경우는 없다.)

[3점]

(단위 : 명)

후보자 소속 정당	(가) 선거구	(나) 선거구
A당	15만	12만
B당	13만	7만
C당	5만	8만
D당	4만	5만
기타	3만	3만
합계	40만	35만

#### 보기

- ㄱ. (가) 선거구는 1차 투표에서 당선자가 결정된다.
- ㄴ. (가) 선거구의 당선자는 해당 투표 단계 유효 투표의 과반수 득표자일 것이다.
- ㄷ. (나) 선거구의 당선자는 A당 소속일 것이다.
- ㄹ. (나) 선거구의 당선자는 2차 투표 결과 유효 투표의 최소 3분의 1을 넘는 득표율을 얻은 후보자일 것이다.

- ① ㄱ, ㄴ    ② ㄱ, ㄷ    ③ ㄴ, ㄷ    ④ ㄴ, ㄹ    ⑤ ㄷ, ㄹ



▶ 20058-0249

**9** 우리나라 헌법 기관 A~C에 대한 설명으로 옳은 것은?

- A는 행정부의 최고 심의 기관인 B에 참석하여 의장으로서 주요 국정 현안에 대해 협의하였다.
- C는 서로 다른 지방 자치 단체 간의 다툼에 대하여 권한 쟁의 심판을 진행하고 있다.

- ① A는 국무 위원에 대한 임명 제청 및 해임 건의권을 행사할 수 있다.
- ② B의 결정 사항에 A는 반드시 따르지 않아도 된다.
- ③ C는 헌법에 정한 공무원에 대한 탄핵 소추를 의결할 수 있다.
- ④ A는 법률안 거부권을 통해 C를 견제할 수 있다.
- ⑤ C의 재판관들을 임명하기 위해서는 B의 동의가 필요하다.

▶ 20058-0250

**10** 표는 정치 참여 집단 A~C의 특징을 비교한 것이다. 이에 대한 설명으로 옳은 것은? (단, A~C는 각각 정당, 시민 단체, 이익 집단 중 하나이다.)

질문	A	B	C
사익보다 공익을 우선시하는가?	예	㉠	예
공직 선거에 후보자를 공천하는가?	예	아니요	아니요
(가)	㉡	㉢	㉣

- ① A는 B와 달리 정치 과정에서 투입 기능을 담당한다.
- ② B는 C와 달리 정치권력 획득을 목표로 하지 않는다.
- ③ C는 A와 달리 자신의 행위에 대해 정치적 책임을 지지 않는다.
- ④ ㉠에는 '예'가 들어간다.
- ⑤ (가)에 '행정부와 의회를 매개하는가?'가 들어가면 ㉡에는 '아니요', ㉢에는 '예', ㉣에는 '예'가 들어간다.

▶ 20058-0251

**11** 대법원의 판단 근거가 되는 민법 원칙에 대한 설명으로 가장 적절한 것은? [3점]

대법원의 판례에 따르면 법정 최고 이자율을 초과한 이자는 지급할 의무가 없다. 즉, 개인 간 혹은 개인과 금융업체 사이에서 자유로운 의사를 통해 법정 최고 이자율을 초과하는 이자를 지급하기로 약속하였다더라도 법정 최고 이자율을 초과하는 부분의 지급을 내용으로 하는 계약은 무효라는 것이다.

- ① 계약의 자유보다 계약의 공정성을 중시한다.
- ② 공공복리를 위해 소유권도 제한될 수 있다고 본다.
- ③ 경제적 강자가 경제적 약자를 지배하는 수단으로 악용되기도 한다.
- ④ 거래 당사자 간의 계약 내용에 대해 국가는 개입하지 말아야 한다고 본다.
- ⑤ 과실이 없을 때에도 일정한 경우 손해 배상 책임을 지게 하는 근거가 된다.

▶ 20058-0252

**12** 사례에 대한 법적 판단으로 옳은 것은? [3점]

- 갑(17세)은 법정 대리인인 부모의 동의 없이 고가의 최신 스마트폰을 대리점에서 구입했는데, 갑은 주민 등록증을 변조하여 21세의 성인자인 것처럼 속여 제시하였고, 대리점 측은 갑을 미성년자가 아닌 것으로 보고 거래를 하였다.
- 을(16세)은 법정 대리인인 부모의 동의 없이 옆집의 지인 병(30세)이 타던 고가의 산악 자전거를 구입하였다. 을과 병은 해당 자전거가 중고인 점, 또 을이 미성년자인 점을 고려하여 시세보다 20% 싸게 거래하였다.

- ① 갑은 스마트폰 매매 계약을 취소할 수 있다.
- ② 갑의 부모는 스마트폰 매매 계약을 취소할 수 있다.
- ③ 을의 자전거 매매 계약은 무효이다.
- ④ 을의 부모는 자전거 매매 계약을 취소할 수 있다.
- ⑤ 병은 자전거 매매 계약의 의사 표시에 대한 철회권을 행사할 수 있다.



▶ 20058-0253

### 13 사례에 대한 옳은 법적 판단만을 <보기>에서 고른 것은? [3점]

- 회사원 갑, 을, 병은 퇴근 후 회식을 하고 귀가하려다 행인 A와 시비가 붙었다. A를 가까운 골목으로 데려가 갑이 망을 보고 을, 병은 직접 폭행을 하였다.
- 음식점 종업원인 정은 음식을 나르던 도중 본인의 실수로 손님 B의 팔에 뜨거운 국물을 쏟았다. 음식점 주인 무가 급히 달려와 B가 화상을 입었음을 확인하였다.

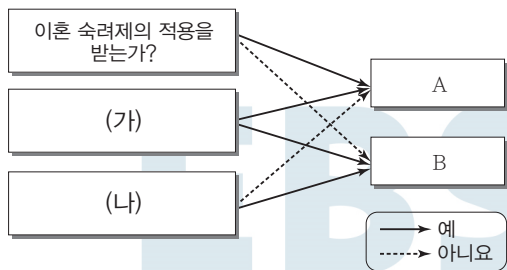
#### 보기

- ㄱ. 갑~무 모두 특수 불법 행위 책임을 질 수 있다.
- ㄴ. 갑은 직접 폭행에 가담하지 않았으므로 을, 병과 달리 A에 대한 손해 배상 책임이 없다.
- ㄷ. A는 갑~병 중 한 사람에게만 손해 배상을 청구할 수도 있다.
- ㄹ. 무는 정의 업무 관련 감독 등에 상당한 주의를 다하였음을 증명하면 B의 화상에 대한 특수 불법 행위 책임이 면제된다.

- ① ㄱ, ㄴ    ② ㄱ, ㄷ    ③ ㄴ, ㄷ    ④ ㄴ, ㄹ    ⑤ ㄷ, ㄹ

▶ 20058-0254

### 14 그림은 이혼의 유형을 나타낸 것이다. 이에 대한 옳은 설명만을 <보기>에서 고른 것은? [3점]



#### 보기

- ㄱ. A는 법률이 정한 이혼 사유가 필요하지 않다.
- ㄴ. B의 효력은 행정 기관에 이혼 신고를 하여야 발생한다.
- ㄷ. (가)에는 '자녀를 양육하지 않는 부모 일방에게 면접 교섭권이 주어지는가?'가 들어갈 수 있다.
- ㄹ. (나)에는 '유책 배우자도 재산 분할을 요구할 수 있는가?'가 들어갈 수 있다.

- ① ㄱ, ㄴ    ② ㄱ, ㄷ    ③ ㄴ, ㄷ    ④ ㄴ, ㄹ    ⑤ ㄷ, ㄹ

▶ 20058-0255

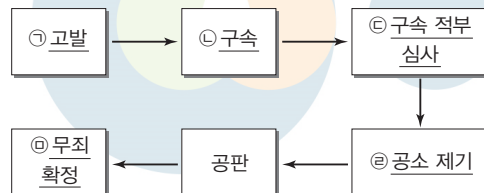
### 15 사례에서 시사하는 죄형 법정주의의 내용으로 적절한 것은? [3점]

의료인은 면허된 것 이외의 의료 행위를 하여서는 안 된다는 의료법 규정에도 불구하고 치과 의사인 갑은 보톡스 시술법을 이용하여 눈가와 미간의 주름 치료를 했고, 이에 면허된 것 이외의 의료 행위를 하였다는 혐의로 기소되었다. 그런데 의료법에서는 막상 각 의료인에게 '면허된 의료 행위'의 내용이 무엇인지, 어떠한 기준에 의하여 구분하는지 등에 관하여는 의료법 조항에 구체적으로 규정하지 않아 혼란이 빚어지고 있다.

- ① 범죄가 되는 행위와 그에 따른 형벌은 비례하여야 한다.
- ② 범죄와 형벌은 내용과 범위가 불명확한 관습법을 적용할 수 없다.
- ③ 형벌 법규는 범죄의 구성 요건과 그 형벌을 명확히 규정하여야 한다.
- ④ 특정 행위 후에 법률을 제정하여 그 법으로 이전의 행위를 처벌해서는 안 된다.
- ⑤ 형벌 법규에 처벌 대상으로 명시되지 않은 행위에 대해 비슷한 범죄 행위와 관련된 조항을 적용해서는 안 된다.

▶ 20058-0256

### 16 그림은 어떤 사건의 형사 절차를 나타낸 것이다. 밑줄 친 ㉠~㉤에 대한 설명으로 옳은 것은? [3점]



- ① ㉠은 직접적인 피해자나 그와 일정한 관계에 있는 사람이 할 수 있다.
- ② ㉡을 위한 영장 발부는 검사가 한다.
- ③ 구속된 피의자는 ㉢을 청구할 수 있다.
- ④ ㉣ 이후부터 피고인은 유죄로 추정된다.
- ⑤ ㉤은 대법원의 판결로만 가능하다.



▶ 20058-0257

**17** 인터넷 게시판의 질문에 옳은 댓글을 단 사람만을 고른 것은?

공지사황 게시판 Q&A

질문: 저는 커피 전문점을 운영하는 사람입니다. 열심히 일 하던 대학생 아르바이트생(22세)이 이번 달까지만 일 하겠다고 해서 후임을 구하는 중입니다. 그런데 아르 바이트생 지망자가 모두 17세의 고등학생이라서 어쩔 수 없이 그중에서 한 명을 채용해야 하는데, 이 경우 아르바이트생 채용과 관련하여 주의해야 할 점은 어떤 것이 있을까요?

↳ 갑: 친권자 또는 후견인의 동의서와 근로자의 연령을 증명하는 가족 관계 기록 사항에 관한 증명서를 받아 두세요.

↳ 을: 근로 계약의 체결은 법정 대리인이 아닌 근로자 본인과 직접 하여야 합니다.

↳ 병: 18세 미만인 자이므로 협의를 통해 법정 최저 임금보다 낮은 임금을 줄 수도 있어요. 협의 잘 해 보시기 바랍니다.

↳ 정: 임금을 근로자 본인에게 직접 주기보다는 법정 대리인 통장으로 입금하는 것이 연소 근로자 보호를 위해 바람직해요.

- ① 갑, 을    ② 갑, 병    ③ 을, 병    ④ 을, 정    ⑤ 병, 정

▶ 20058-0259

**19** 자료에 나타난 국제법의 법원(法源)에 대한 옳은 설명만을 <보기>에서 고른 것은?

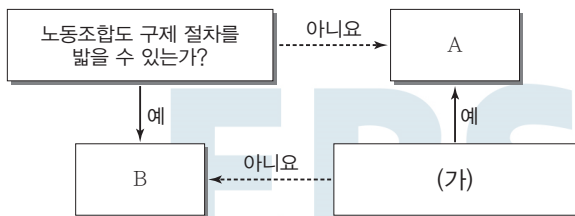
대한민국과 러시아 사이에 맺어진 일반 여권 사증 면제 협정이 2014년 1월 1일자로 발효되었다. 이 협정으로 인해 유효한 일반 여권을 소지한 양국 국민은 근로(취재, 공연 포함), 유학, 거주가 아닌 목적으로서 방문 기간이 60일을 초과하지 않는 경우 사증이 면제되며, 최초 입국일로부터 180일 기간 내에서는 30일을 추가로 사증 없이 방문할 수 있다.

**보기**

- ㄱ. 국제 사회에서 포괄적 구속력이 있다.  
 ㄴ. 국내 문제 불간섭의 원칙을 사례로 들 수 있다.  
 ㄷ. 국가는 물론 국제기구도 체결 주체가 될 수 있다.  
 ㄹ. 우리나라에서 헌법에 의하여 체결·공포된 조약은 국내법과 같은 효력을 가진다.

- ① ㄱ, ㄴ    ② ㄱ, ㄷ    ③ ㄴ, ㄷ    ④ ㄴ, ㄹ    ⑤ ㄷ, ㄹ

▶ 20058-0258

**18** 그림은 근로자 권리의 침해 유형을 나타내고 있다. 이에 대한 옳은 설명만을 <보기>에서 고른 것은? (단, A, B는 각각 부당 해고와 부당 노동 행위 중 하나이다.) [3점]**보기**

- ㄱ. (가)에는 '노동 위원회에 구제 신청을 할 수 있는가?'가 들어갈 수 있다.  
 ㄴ. A의 경우에는 노동 위원회 구제 절차를 거치지 않고 바로 법원에 권리 구제를 위한 소송을 제기할 수 있다.  
 ㄷ. B는 근로자의 근로 3권을 침해하는 사용자의 행위이다.  
 ㄹ. A, B의 경우 모두 지방 노동 위원회의 판정에 대해 사용자는 재심을 신청할 수 없다.

- ① ㄱ, ㄴ    ② ㄱ, ㄷ    ③ ㄴ, ㄷ    ④ ㄴ, ㄹ    ⑤ ㄷ, ㄹ

▶ 20058-0260

**20** 다음 글의 A에 대한 설명으로 옳은 것은?

○○신문

2000년 ○○월 ○○일

국제 연합의 사법 기관인 A는 이란이 미국의 경제 제재 복원에 대해 이를 유예해야 한다며 제기한 가처분 소송과 관련, 인도주의적 물품과 서비스에는 제재를 부과할 수 없다고 결정했다. A는 보도 자료를 통해 "재판부는 미국 행정부가 의약품, 의료 장비, 식료품, 농산물, 안전한 민간 비행을 보장하는 데 필요한 장비와 교체 부품을 이란으로 수출하는 데 장애가 되는 제재의 재개를 반드시 철회해야 한다는 데 모두 동의하였다."라고 밝혔다. 미국은 이러한 판결을 이행하지 않겠다는 뜻을 밝혔지만 A는 마땅한 대응 방안을 내놓고 있지 못하고 있다.

- ① 만장일치가 되어야 판결을 내릴 수 있다.  
 ② 국가 간 분쟁에 대해 강제적 관할권을 행사할 수 있다.  
 ③ 재판 규범으로 조약과 국제 관습법만 적용하여 심리한다.  
 ④ 판결을 이행하지 않는 국가를 제재할 자체적 수단이 없다.  
 ⑤ 국가 이외의 국제 사회 행위 주체들도 사안의 제소 당사자가 될 수 있다.

문항에 따라 배점이 다르니, 각 물음의 끝에 표시된 배점을 참고 하시오. 3점 문항에만 점수가 표시되어 있습니다. 점수 표시가 없 은 문항은 모두 2점입니다.

▶ 9058-0159

1 다음은 정치의 의미에 관한 대화이다. (가), (나)에 들어갈 율 은 내용만을 <보기>에서 있는 대로 고른 것은?

갑 : 정치를 무엇이라고 생각하니?  
 을 : 국가가 권력을 획득하거나 행사하는 활동이라고 생각해.  
 갑 : 그래, 정치를 그런 의미로 본다면 (가)와 같은 활동 만을 정치라고 하겠네.  
 을 : 그러면, 다른 의미의 정치도 있다는 뜻이야?  
 갑 : 응, 정치를 다양한 사회 집단에서 나타나는 사회적 회소 가 치를 배분하는 활동이라고 보는 의미도 있어.  
 을 : 아, (나)와 같은 활동도 모두 포함해서 정치라고 한 다는 거지?  
 갑 : 그래, 맞아.

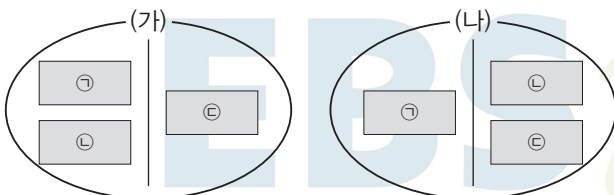
**보기**

- ㄱ. (가) - 새로운 복지 법안 마련을 위한 국무 회의
- ㄴ. (가) - 신규 사업 투자 여부 결정을 위한 그룹 이사회
- ㄷ. (나) - 현장 체험 학습 장소 선정을 위한 학급 회의
- ㄹ. (나) - 아파트 경비원 임금 인상안 협의를 위한 입주민 총회

- ① ㄱ, ㄴ                      ② ㄱ, ㄷ                      ③ ㄴ, ㄹ
- ④ ㄱ, ㄷ, ㄹ                ⑤ ㄴ, ㄷ, ㄹ

▶ 9058-0160

2 다음은 (가), (나) 기준에 따라 정치 참여 집단을 구분한 것이다. 이에 대한 옳은 설명만을 <보기>에서 있는 대로 고른 것은? (단, (가), (나)는 각각 공익 추구 여부와 정치적 책임 유무 중 하나이 다.) [3점]



\* ㉠~㉡은 각각 정당, 시민 단체, 이익 집단 중 하나이다.

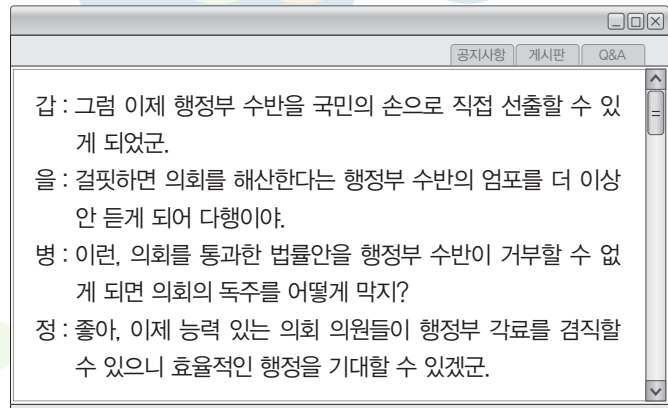
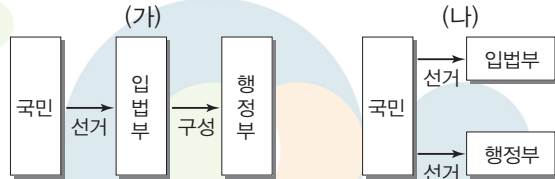
**보기**

- ㄱ. ㉠이 시민 단체이면 ㉡은 정당이다.
- ㄴ. ㉡이 이익 집단이면 ㉠은 정당이다.
- ㄷ. (가)가 공익 추구가면 ㉠은 정당이다.
- ㄹ. (나)가 정치적 책임이면 ㉡은 이익 집단이다.

- ① ㄱ, ㄷ                      ② ㄱ, ㄹ                      ③ ㄴ, ㄷ
- ④ ㄱ, ㄴ, ㄹ                ⑤ ㄴ, ㄷ, ㄹ

▶ 9058-0161

3 갑국은 정부 형태를 (가)에서 (나)로 변경하려 한다. 이에 대 한 여론 수렴 게시판에 타당한 내용을 작성한 사람을 고른 것은? (단, (가), (나)는 전형적인 정부 형태이다.) [3점]



- ① 갑, 을    ② 갑, 병    ③ 을, 병    ④ 을, 정    ⑤ 병, 정

▶ 9058-0162

4 다음은 어떤 민주 정치 형태를 설명하기 위한 사례들이다. 이 와 같은 민주 정치 형태에 대한 설명으로 옳은 것은?

타운 미팅[town meeting]

미국 식민지 시대의 주민 총회. 선거권을 가지는 모든 주민의 직접 참여 로 예산안의 확정, 공무원·학교 이사의 선출, 조례 제정 등의 주요 정책 에 대한 토론과 표결이 이루어지는 타운의 최고 의결 기관

란츠게마인데[Landsgemeinde]

스위스의 일부 주(州)의 최고 의결 기구. 지역의 모든 주민이 매년 한 번 씩 모여 주법을 표결하거나 주지사, 주 정부 각료 등을 선출함

- ① 중우 정치의 발생 가능성을 차단할 수 있다.
- ② 고대 아테네에서는 참여 대상을 제한하지 않고 실시되었다.
- ③ 현대 사회에서 전자 민주주의의 확산으로 점차 소멸되고 있다.
- ④ 일정 수의 국민이 헌법이나 법률의 제정·개정 또는 폐지에 관한 제안을 할 수 있는 제도는 이에 해당된다.
- ⑤ 대통령 등 주요 공직자가 직무상 중대한 비위를 범한 경우 이를 의회가 소추하여 파면하는 제도는 이에 해당된다.



▶ 9058-0163

5 다음은 갑국과 을국의 총선거에서 각 정당별 후보자가 얻은 득표율이다. 갑국의 의석 분포와 같은 정당제 유형을 (가), 을국의 의석 분포와 같은 정당제 유형을 (나)라고 할 때 (가), (나)의 일반적 특징으로 옳은 것을 <보기>에서 고른 것은? (단, (가), (나)는 각각 다당제와 양당제 중 하나이며, 정당제 유형은 정당별 득표율과 상관없이 의석수로만 판단한다.) [3점]

〈갑국〉				〈을국〉			
㉠당	㉡당	㉢당	㉣당	1선거구	2선거구	3선거구	4선거구
62	17	8	13	28	27	19	26
77	9	6	8	33	26	38	3
64	13	11	12	24	31	32	13
72	13	4	11	27	23	29	21
61	16	17	6	32	30	31	7
23	49	24	4	26	28	29	17
82	6	3	9	29	27	20	24
68	14	15	3	31	18	32	19

\* 갑국은 소수 대표제를 사용하며, 각 정당은 선거구당 1명의 후보자만 공천한다. 을국은 다수 대표제를 사용한다. 갑국의 의회 의원수는 을국의 2배이고, 갑국과 을국 의회 모두 8개의 지역구에서 선출되는 의원으로만 구성된다.

보기

- ㉠. (가)는 (나)에 비해 정치적 책임 소재가 명확할 것이다.
- ㉡. (가)는 (나)에 비해 정당 간 대립 시 중재가 용이할 것이다.
- ㉢. (나)는 (가)에 비해 소수의 이익 보호에 유리할 것이다.
- ㉣. (나)는 (가)에 비해 유권자의 정당 선택 범위가 좁을 것이다.

- ① ㉠, ㉡    ② ㉠, ㉢    ③ ㉡, ㉢    ④ ㉡, ㉣    ⑤ ㉢, ㉣

▶ 9058-0164

6 다음 글에서 필자가 경계하고 있는 언론의 모습을 <보기>에서 고른 것은?

대중은 늘 스스로 판단하고 있다고 믿는다. 자신의 사상과 양심에 의해 정치인과 정책을 지지한다고 생각한다. 그런 개인의 선택이 모여 민주 정치가 이루어진다고 여긴다. 그러나 대중은 실체가 보이지 않는 '익명'의 권위에 이끌려서 자신도 모르게 선동된다. 그러면 누가 익명의 실체인가? 대중 조작은 언론을 통해 이루어진다. 권력 집단은 언론을 통해 자신들에게 유리한 정보를 확산시켜 여론을 형성한다.

보기

- ㉠. 언론은 특정 집단에 권력이 집중되는 데 기여할 수 있다.
- ㉡. 언론은 존재하는 사회 현상을 있는 그대로 정확히 보도한다.
- ㉢. 언론은 정보의 왜곡을 통해 대중을 획일화시키는 수단으로 활용된다.
- ㉣. 언론은 대중의 다양한 의견이 정책 결정 과정에 반영되는 데 기여한다.

- ① ㉠, ㉡    ② ㉠, ㉢    ③ ㉡, ㉢    ④ ㉡, ㉣    ⑤ ㉢, ㉣

▶ 9058-0165

7 다음은 헌법의 법적 의의를 구분한 것이다. (가)~(다)에 대한 설명으로 옳은 것은? [3점]

헌법의 법적 의의	관련 헌법 내용
(가)	제40조 입법권은 국회에 속한다. 제101조 ① 사법권은 법관으로 구성된 법원에 속한다.
(나)	제107조 ① 법률이 헌법에 위반되는 여부가 재판의 전제가 된 경우에는 법원은 헌법 재판소에 제청하여 그 심판에 의하여 재판한다. 부칙 제5조 이 헌법 시행 당시의 법령과 조약은 이 헌법에 위배되지 아니하는 한 그 효력을 지속한다.
(다)	제47조 ① ... 국회의 임시회는 대통령 또는 국회 재적의원 4분의 1 이상의 요구에 의하여 집회된다. 제61조 ① 국회는 국정을 감사하거나 특정한 국정 사안에 대하여 조사할 수 있으며, ...

- ① (나)는 헌법이 법령의 정당성을 평가하는 기준이 된다는 의미이다.
- ② (다)는 현대 복지 국가에서 새롭게 등장한 헌법의 법적 의의이다.
- ③ (가)는 (다)와 달리 국민의 기본권을 보장하기 위해 공권력 행사의 요건을 엄격하게 규정하는 근거가 된다.
- ④ (다)는 (나)와 달리 우리나라의 헌법 재판소에서 이루어지고 있는 헌법 재판의 근거가 되는 헌법의 법적 의의이다.
- ⑤ (가)와 (나)는 고유한 의미의 헌법에서는 나타나지 않는 헌법의 법적 의의이다.

▶ 9058-0166

8 표는 어느 나라의 의회 의원 선거 결과이다. 이에 대한 분석으로 옳은 것은?

구분	정당	A당	B당	C당	D당	E당
지역구 득표율(%)		47.1	47.5	3.1	1.3	1.0
정당 득표율(%)		40.2	49.7	4.1	2.2	3.8
지역구 의석수(석)		96	99	2	2	1
비례 대표 의석수(석)		21	27	2	0	0

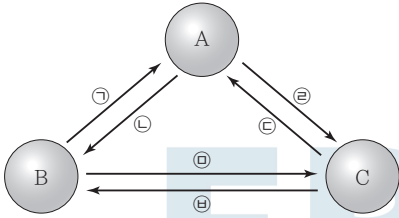
\* 지역구의 개수는 200개이며, 비례 대표 의석은 각 정당 득표율에 비례하여 배분한다.

- ① 정책 결정을 위한 정당 간의 연합이 반드시 필요하다.
- ② 지역구 선거구 간 표의 등가성 문제가 발생하지 않는다.
- ③ A당과 D당은 모두 정당 득표율에 비해 총 의석률이 높다.
- ④ B당은 C당과 달리 지역구 선거에서 유권자의 의사가 과소 대표되었다.
- ⑤ 비례 대표 의석 배분 시 일정 조건을 갖춘 정당에만 의석을 배분한다는 조항이 존재한다.



▶ 9058-0167

9 그림은 우리나라 국가 기관 간의 견제 관계를 나타낸 것이다. 이에 대한 설명으로 옳은 것은? (단, A~C는 각각 입법부, 사법부, 행정부 중 하나이다.) [3점]



\* 화살표는 견제 권한의 행사를 의미함

- ① ㉠이 '위헌 명령 심사권'이면 C는 행정부이다.
- ② ㉡이 '사면권'이면 A는 공무원의 직무 감찰권을 가진다.
- ③ ㉢이 '탄핵 소추권'이면 A는 국가 예산의 결산 심사권을 가진다.
- ④ ㉣이 '법률안 거부권'이면 ㉠에 '위헌 법률 심판 제청권'이 들어갈 수 있다.
- ⑤ B가 입법부이면 ㉤에는 '국정 감사·조사권', ㉥에는 '대법관 임명권'이 들어갈 수 있다.

▶ 9058-0169

11 다음은 국민의 의무에 관한 헌법 조항이다. 이에 대한 옳은 설명만을 <보기>에서 있는 대로 고른 것은? [3점]

- (가) 제23조 ② 재산권의 행사는 공공복리에 적합하도록 하여야 한다.
- (나) 제31조 ② 모든 국민은 그 보호하는 자녀에게 적어도 초등 교육과 법률이 정하는 교육을 받게 할 의무를 진다.
- (다) 제35조 ① 모든 국민은 건강하고 쾌적한 환경에서 생활할 권리를 가지며, 국가와 국민은 환경 보전을 위하여 노력하여야 한다.
- (라) 제38조 모든 국민은 법률이 정하는 바에 의하여 납세의 의무를 진다.

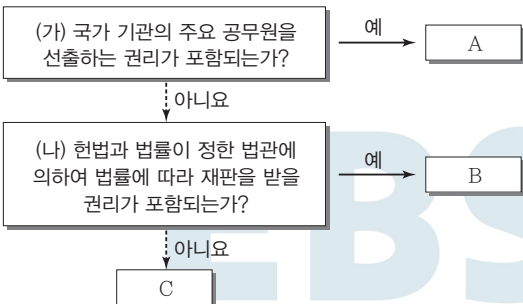
보기

- ㄱ. (나)는 (다)와 달리 이행하지 않을 시 법적 제재가 따른다.
- ㄴ. (다)와 (라)는 의무이자 동시에 권리의 성격도 갖고 있다.
- ㄷ. (라)는 (가)와 달리 현대 복지 국가 이전에도 존재했던 고전적 의무이다.
- ㄹ. (가)~(라)를 헌법에 규정한 이유는 국민에게 새로운 의무를 함부로 부과하지 못하게 하여 기본권을 보장하려는 것이다.

- ① ㄱ, ㄴ                      ② ㄱ, ㄷ                      ③ ㄷ, ㄹ
- ④ ㄱ, ㄴ, ㄹ                ⑤ ㄴ, ㄷ, ㄹ

▶ 9058-0168

10 그림은 기본권 A~C를 구분한 것이다. 이에 대한 설명으로 옳은 것은? (단, A~C는 각각 평등권, 참정권, 청구권 중 하나이다.)



- ① A는 현대 복지 국가의 성립과 함께 등장하였다.
- ② B는 다른 기본권 보장의 전제 조건이 된다.
- ③ C는 주권자로서 국가의 정치 과정에 참여할 수 있는 권리이다.
- ④ (가)를 “사회생활에서 합리적 이유 없이 불평등한 대우를 받지 않을 권리인가?”로 대체하여도 A~C는 변함이 없다.
- ⑤ (나)를 “기본권 보장을 위한 수단적 성격을 가지는가?”로 대체하여도 B, C는 변함이 없다.

▶ 9058-0170

12 다음은 갑이 운영하는 가전제품 매장에서 갑과 손님 을 사이에 나는 대화이다. 밑줄 친 ㉠~㉥에 대한 설명으로 옳은 것은?

갑 : 냉장고를 찾으시나요? 이 제품이 새롭게 출시된 ○○냉장고입니다.  
 을 : 어디 보자……, 이상하네요. ㉠ 소비 전력이 표기되어 있지 않네요. 다른 제품을 보여 주세요.  
 갑 : 그러면 절전 기능이 있는 이 □□제품은 어떠세요?  
 을 : 음……, 괜찮은 것 같네요. 가격은 얼마인가요?  
 갑 : 네, 할인해서 150만 원입니다. ㉡ 구입하시겠어요?  
 을 : ㉢ 네, 그렇게 하죠. 언제 배달이 가능한가요?  
 갑 : 내일모레 가능합니다. 이리 오셔서 ㉣ 계약서를 쓰고 배달할 주소를 알려 주세요.

- ① ㉠을 통해 소비자의 권리 중 '안전할 권리'가 침해되었음을 알 수 있다.
- ② ㉡으로 인해 갑에게는 제품 값을 받을 수 있는 권리가 발생한다.
- ③ ㉢은 '승낙'의 의사 표시에 해당한다.
- ④ ㉣의 작성 이후에 갑과 을 사이의 계약 성립이 확정된다.
- ⑤ ㉤을 작성하지 않으면 계약 이후 갑과 을 사이에 분쟁이 발생하여도 법적 처리 절차를 밟을 수 없다.





▶ 9058-0171

▶ 9058-0173

### 13 다음 사례에 대한 법적 판단으로 옳은 것은? [3점]

- 꽃집 사장 A는 종업원 B에게 트럭을 이용한 화분 배달을 지시하였고, 배달이 끝난 후 돌아오던 B는 교차로에서 트럭으로 C의 자동차를 들이받아 C의 자동차를 파손시켰다.
- D는 E가 소유한 건물을 임차하여 식당을 운영하고 있었는데, 어느 날 식당의 창문이 떨어져 지나가던 행인 F가 상처를 입었다.

- ① C는 A에게 손해 배상을 청구할 경우 치료비 이외에 정신적 피해에 대한 위자료는 청구할 수 없다.
- ② A가 C에 대한 손해 배상 책임을 인정하는 경우 B의 불법행위로 인한 손해 배상 책임은 면제된다.
- ③ B가 C의 자동차를 들이받은 행위에 고의성이 없음을 증명하면, A와 B 모두 C의 손해에 대해 배상하지 않아도 된다.
- ④ E가 아닌 D가 F의 손해에 대해 배상 책임을 지는 경우는 특수 불법 행위 책임이 성립되지 않는다.
- ⑤ A와 D는 주의를 다하였음을 증명하면 면책될 수 있지만, E는 고의나 과실이 없더라도 무과실 책임을 질 수 있다.

### 15 (가)~(바)는 일반적인 주택 매매 절차를 순서에 무관하게 나열한 것이다. 이에 대한 설명으로 옳은 것은?

(가)	계약금 지급
(나)	중도금 지급
(다)	매매 계약서 작성
(라)	잔금 지급 및 등기
(마)	등기사항 전부 증명서 확인
(바)	계약 당사자가 집주인이 맞는지 확인

- ① (나) 이전에 매수인이 매매 계약을 해제하기 위해서는 통상 계약금의 2배에 해당하는 금액을 해약금으로 매도인에게 지급해야 한다.
- ② (다)가 이루어져야만 주택 매매 계약이 법적으로 효력을 갖게 된다.
- ③ (마)에서 갑구에 기재된 소유권자와 매도인이 일치하는지 확인해야 한다.
- ④ (바)에서 집주인의 배우자는 위임 절차 없이 대리료 계약을 맺을 수 있다.
- ⑤ 일반적인 주택 매매 절차 순서는 (바)-(다)-(마)-(가)-(라)-(나)이다.

▶ 9058-0172

▶ 9058-0174

### 14 다음 사례에 대한 법적 판단으로 옳은 것은?

갑은 을과 결혼식은 올리지 않고 혼인 신고만 하고 살면서 자녀 병과 정을 낳았다. 그러나 갑의 외도로 인한 잦은 다툼 끝에 병이 20세, 정이 14세 되던 해에 갑과 을은 협의상 이혼을 하였다. 아버지 갑에게 실망한 정은 을과 함께 지내면서 갑과 인연을 끊고 지내다가, 3년 뒤 친할머니 무를 통해 갑이 사망했다는 소식을 들었다.

- ① 병과 정은 법정 상속액은 동일하다.
- ② 갑과 을은 이혼 시 숙려 기간을 거치지 않았을 것이다.
- ③ 갑과 을의 이혼이 성립된 이유는, 갑의 외도가 민법에 정해진 이혼 사유에 해당했기 때문이다.
- ④ 이혼 전에 갑이 사망했다라도 을은 사실혼 관계의 배우자이므로 법정 상속권이 없었다.
- ⑤ 갑이 전 재산을 A 기관에 기증한다는 법적으로 유효한 유언이 있었다면, 을을 제외한 무, 병, 정은 A 기관에 유류분의 반환을 청구할 수 있다.

### 16 다음은 범죄의 성립 요건에 관한 글이다. ㉠~㉣에 대한 설명으로 옳은 것은? [3점]

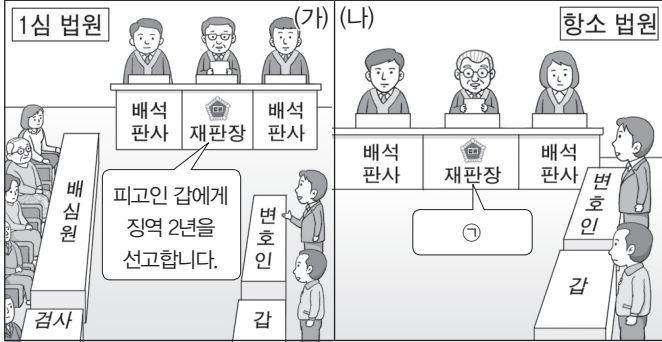
범죄가 성립되기 위해서는 해당 행위가 구성 요건 해당성, , 이라는 세 가지 요건을 갖추어야 한다. 해당 행위가 에서 규정하고 있는 구성 요건에 해당되더라도, 정당방위, 긴급 피난 등의 사유로 이 조각된다면 범죄가 성립하지 않는다. 이 인정되는 행위라 할지라도 이 조각되면 범죄가 성립하지 않는다.

- ① ㉠은 위법 행위를 했다는 데 대하여 행위자에게 가해지는 비난 가능성을 의미한다.
- ② ㉠ 조각 사유에는 법령에 의한 행위 또는 업무로 인한 행위, 기타 사회 상규에 위배되지 않는 행위가 포함된다.
- ③ ㉡은 해당 행위가 법질서 전체의 관점에서 부정적이라는 가치 판단이 가능한 경우이다.
- ④ ㉢ 조각 사유에는 처분할 수 있는 자의 승낙에 의하여 그 법익을 훼손한 행위가 포함된다.
- ⑤ ㉣에 들어갈 말은 “헌법”이다.



▶ 9058-0175

**17** 그림에 나타난 형사 절차에 대한 설명으로 옳은 것은? (단, 갑은 구속 상태에서 재판을 받고 있으며, (나)는 (가)에 대한 항소심이고, (나)에서 판결이 확정되었다.) [3점]



- ① (가)에서 재판부는 배심원의 평결을 따라야 한다.
- ② (가) 이후 갑의 청구가 있어야만 (나)가 열릴 수 있다.
- ③ (나)의 항소 법원은 지방 법원 합의부를 의미한다.
- ④ ㉠에서 피고인 갑에게 징역 6월에 집행 유예 1년을 선고했다면 갑은 즉시 석방된다.
- ⑤ ㉠에서 피고인 갑에게 형의 선고를 유예했다면 갑은 형사 보상을 청구할 수 있다.

▶ 9058-0177

**19** 국제 사회를 바라보는 갑, 을의 관점에 대한 옳은 설명만은 <보기>에서 있는 대로 고른 것은?

자국의 이익을 추구하기 위해 무력을 사용하는 것은 옳지 않다. 국가는 규범적 판단이 가능한 존재이므로 무력 사용이 아닌 대화와 타협을 통해 국제 사회의 질서를 유지할 수 있어.



그러나 국제 사회에는 힘의 불균형이 존재하며, 평화를 유지하기 위해서는 힘의 우위를 확보해야 한다고 생각해.



**보기**

- ㉠. 갑의 관점은 국제 사회의 문제 해결에 있어 국제기구의 역할을 기대한다.
- ㉡. 갑의 관점은 복잡한 국제 관계를 지나치게 단순화한다는 한계를 지닌다.
- ㉢. 을의 관점은 국제 사회에 보편적인 선(善)이 존재한다고 전제한다.
- ㉣. 을의 관점은 세력 균형 전략을 통해 자국의 안전을 확보할 수 있다고 본다.

- ① ㉠, ㉡                      ② ㉠, ㉣                      ③ ㉡, ㉣
- ④ ㉠, ㉢, ㉣                ⑤ ㉡, ㉢, ㉣

▶ 9058-0176

**18** (가)~(다)는 A법 영역에 해당하는 법률들의 일부 조항이다. A법에 대한 설명으로 옳은 것은?

(가) 근로 조건은 근로자와 사용자가 동등한 지위에서 자유의사에 따라 결정하여야 한다.  
 (나) 이 법은 국민의 노령, 장애 또는 사망에 대하여 연금 급여를 실시함으로써 국민의 생활 안정과 복지 증진에 이바지하는 것을 목적으로 한다.  
 (다) 국가 및 지방 자치 단체는 소비자의 불만이나 피해가 신속·공정하게 처리될 수 있도록 관련 기구의 설치 등 필요한 조치를 강구하여야 한다.

- ① 국가와 사회를 초월하여 실질적 평등을 추구하는 데 그 목적이 있다.
- ② 사법 영역에 국가가 개입하여 공법적 규제를 가할 수 있도록 제정되었다.
- ③ 사적 자치의 원칙을 폐기하고 소유권 공공복리의 원칙을 실현하고자 한다.
- ④ 개인의 자율적인 판단에 기초하여 법률관계를 형성해 나갈 수 있다는 원칙과 무관하다.
- ⑤ 개인의 법적 지위와 재산 관계를 전적으로 개인의 의사에 의하여 변동, 성립시킬 수 있다.

▶ 9058-0178

**20** 다음 글의 (가)와 (나)에 대한 설명으로 옳은 것은? [3점]

국제법의 법원(法源)에는 (가) 와/과 (나), 그리고 '법의 일반 원칙' 등이 있다. (가) 은/는 국가나 국제기구 간에 문서로 이루어진 합의로서, 서로가 일정한 행위를 하거나 하지 않을 것을 내용으로 하는 협약이다. (나) 은/는 국제 사회의 관행에 의하여 발생한 국제 사회 생활의 규범이 국제 사회에서 법적 효력을 가지게 된 것이다.

- ① 우리나라에서 (가)에 대한 체결·비준권은 국회에 있다.
- ② (나)에는 신의 성실의 원칙, 권리 남용 금지의 원칙이 포함된다.
- ③ (가)는 (나)와 달리 국제 사법 재판소 판결의 준거로 사용될 수 있다.
- ④ 우리나라에서 (나)는 (가)와 달리 국내법과 같은 효력을 가진다.
- ⑤ (나)는 (가)와 달리 별도의 체결 절차 없이 국제 사회에서 포괄적 구속력을 갖는다.

문항에 따라 배점이 다르니, 각 물음의 끝에 표시된 배점을 참고 하시오. 3점 문항에만 점수가 표시되어 있습니다. 점수 표시가 없 는 문항은 모두 2점입니다.

▶ 9058-0179

### 1 정치 현상을 바라보는 다음 글의 관점에 부합하는 진술로 옳은 것은?

사회에서는 지배하는 자와 지배받는 자 등의 권력관계가 발생 한다. 현실적으로 두 사람 이상이 모이면 권력관계가 발생하 는데, 대통령 등의 통치 행위만 권력관계로 볼 수는 없다. 국가의 통치 행위뿐만 아니라 권력관계는 학교, 직장, 마을 등 우리의 일상생활에서 나타나게 된다. 이렇듯 정치는 다양한 집단에서 나타나는 이해관계의 대립과 갈등을 조정하고 해결해 가는 과 정이라 할 수 있다.

- ① 선거에서 공직자를 선출하는 것도 정치라고 본다.
- ② 국가 형성 이전에는 정치 현상이 나타나지 않았다.
- ③ 위에서 아래로의 지배와 통제만이 정치의 기능이다.
- ④ 복잡하고 다원화된 현대 사회의 정치 현상을 설명하기 어 렵다.
- ⑤ 국가 수준에서 정치권력을 획득하고 행사하는 것만을 정 치라고 본다.

▶ 9058-0180

### 2 다음 자료를 통해 파악할 수 있는 고대 아테네 민주 정치에 대한 설명으로 옳은 것은? [3점]

기원전 5세기 도시 국가 아테네의 시민들은 직접 국가의 일에 참 여하고 정책을 결정했다. 그러나 이러한 권리는 18세 이상의 성 인 남성들만 누릴 수 있었으며, 노예·여성·외국인에게는 참정 권이 없었다. 고대 아테네의 민주주의는 모든 시민들이 1년에도 수차례 토론회장에 모여 정책을 결정했다. 민회는 모든 시민이 모 여서 주로 시민권 부여, 공직자 선출 등 중요 사안을 다루었다. 또한 500인회에서는 민회에서 논의할 법안을 마련했으며 경 우에 따라서 민회의 법안을 시행하기도 했다. 500인회의 구성원은 일생에 두 번 구성원으로 참여할 수 있었는데, 매년 추첨을 통해 선출되었고 30세 이상의 시민들에게만 자격이 주어졌다.

- ① 시민은 민회를 통해서만 정치에 참여할 수 있었다.
- ② 모든 사람들에게 공직 참여 기회가 평등하게 부여되었다.
- ③ 권력 기구 간의 견제와 균형의 원리에 충실한 정치 체제 이다.
- ④ 시민의 지위를 제한적으로 부여한 제한된 민주 정치 체제 이다.
- ⑤ 시민이 선출한 대표자를 통하여 주권을 행사하는 정치 체 제이다.

▶ 9058-0181

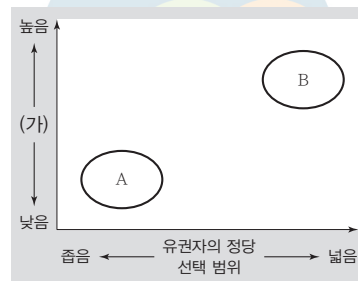
### 3 다음은 근대 사회 계약론자의 주장이다. 이에 대한 설명으로 옳은 것은? [3점]

자연 상태의 자연적 자유에 살고 있는 인간은 원천적으로 끊임 없이 무엇인가를 욕구하는 존재이며, 더 나아가 인간의 욕구는 점점 더 좋은 것을 선호하는 쪽으로 증가한다. 이러한 인간의 끊임없는 요구의 집합적 표현이 '자기 보존'이다. 생존을 위해 서로를 위협하고 투쟁하는 자연 상태에서의 인간은 항상 자기 의 몸과 재산을 외부의 위협으로부터 보존하고자 하는 본능적 욕구를 가지고 있으며, 이것을 보존하기 위해 국가를 설립한다.

- ① 주권은 대표될 수 없다고 보았다.
- ② 계약 목적에 충실하기 위해 국가 권력은 분립되어야 한다고 보았다.
- ③ 자연권 보장을 위해서는 국민 주권에 바탕을 두는 국가가 필요하다고 보았다.
- ④ 국가를 설립하는 계약을 맺기 위해 자연 상태에서 행사했 던 자연권을 스스로 양도한다고 보았다.
- ⑤ 국가가 권한을 남용하여 인민의 권리를 침해하는 경우 인 민은 정부를 재구성할 수 있다고 보았다.

▶ 9058-0182

### 4 그림은 일정한 기준에 따라 정당 제도 A, B를 비교한 것이다. (가)에 들어갈 내용으로 가장 적절한 것은? (단, A, B는 각각 양당 제, 다당제 중 하나이다.)



- ① 다수당의 횡포 가능성
- ② 소수 이익 보호 가능성
- ③ 강력한 정책 추진 가능성
- ④ 정치적 책임 소재의 명확성
- ⑤ 과반수 정당의 출현 가능성



[5~6] 다음 자료는 갑국의 의회 구성 방식과 최근 의회 의원 선거 결과이다. 이를 보고 물음에 답하시오.

▶ 9058-0185

전형적인 정부 형태 (가)를 취하고 있는 갑국의 의회는 300명의 의회 의원으로 구성되어 있다. 지역구 의원은 125개의 선거구에서 선출되며, 선거구마다 선출되는 의원의 수는 동일하다. 비례 대표 의원은 각 정당이 얻은 득표율에 비례하여 의석을 배분하는 방식으로 선출된다. 최근 행정부 수반이 의회를 해산하여 실시된 갑국의 ○○대 의회 의원 선거 결과는 아래와 같으며, A당은 현행 정부 형태를 국민의 선거로 행정부 수반을 직접 선출하는 전형적인 정부 형태 (나)로 변경하는 공약을 내세워 새로운 제1당이 되었다.

정당	지역구 선거		비례 대표 선거 정당 득표율(%)
	득표율(%)	의석수(석)	
A당	43.0	131	36.0
B당	24.0	84	30.0
C당	20.0	20	20.0
D당	13.0	15	14.0
합계	100.0	250	100.0

\* 갑국은 A~D당만 존재하며, 의회 의원은 지역구 의원과 비례 대표 의원으로만 구성된다.

▶ 9058-0183

5 정부 형태 (가), (나)에 대한 옳은 설명을 <보기>에서 고른 것은?

보기

- ㄱ. (가)에서는 의회 의원이 내각의 각료를 겸직할 수 있다.
- ㄴ. (나)에서 행정부 수반은 법률안 거부권을 통해 입법부를 견제할 수 있다.
- ㄷ. (가)와 달리 (나)에서 행정부 수반은 의회에 대해 정치적 책임을 진다.
- ㄹ. (나)보다는 (가)가 권력 분립의 원리에 충실하다.

- ① ㄱ, ㄴ    ② ㄱ, ㄷ    ③ ㄴ, ㄷ    ④ ㄴ, ㄹ    ⑤ ㄷ, ㄹ

▶ 9058-0184

6 자료에 대한 분석 및 추론으로 옳은 것은? [3점]

- ① C당은 정당 득표율과 총 의석률이 일치한다.
- ② 지역구 선거의 대표 결정 방식은 다수 대표제이다.
- ③ 지역구 선거 결과에 따라 비례 대표 의석을 배분한다.
- ④ 지역구 선거 결과 D당과 달리 A당은 유권자의 의사가 과소 대표되었다.
- ⑤ 지역구 선거에서 선거구 내 당선자 간 표의 등가성 문제가 발생할 수 있다.

7 정치 참여 집단 A, B에 대한 설명으로 옳은 것은? (단, A, B는 각각 정당, 이익 집단 중 하나이다.)

A와 B는 민주주의 국가에서 사회와 정부 사이의 중요한 소통 채널이 된다. 그러나 A는 특수한 이익을 추구하며, 정부에 참여하지 않으면서 정부에 대한 영향력을 시도한다. 또한 A는 상대하는 권력 구조가 어떤 형태이든 거기에 맞추어 정부에 영향력을 행사한다. 반면에 B는 공직 선거에서 공약을 제시하고 후보자를 공천하여 의회 정치 운영의 기반을 마련한다.

- ① A는 사익보다는 공익을 추구한다.
- ② B는 정부와 의회를 매개하는 기능을 수행한다.
- ③ A와 달리 B는 간접 민주 정치의 한계를 보완하는 기능을 수행한다.
- ④ B와 달리 A는 정치 사회화 기능을 수행한다.
- ⑤ A, B는 모두 자신들의 행위에 대해서 정치적 책임을 진다.

▶ 9058-0186

8 우리나라 헌법의 기본 원리 (가), (나)에 대한 설명으로 옳은 것은? [3점]

국제 사회는 인간 존엄성 말살에 대한 심각한 국제 분쟁을 야기하였고, 이에 대해 국제기구 등은 침략적 전쟁뿐만 아니라 분쟁 해결 수단으로서의 전쟁 또는 무력의 행사를 금지하고 있다. 이와 관련하여 우리나라 헌법은 [가]을/를 반영하여 국제법 존중 등의 내용을 보장하고 있다. 또한 우리나라 헌법에서는 [나]을/를 반영하여 통일을 평화적으로 추구하여 국제평화에 이바지하고자 한다.

- ① (가)를 실현하기 위하여 우리나라는 모든 전쟁을 부인하고 있다.
- ② (가)를 실현하기 위하여 일정한 요건을 갖춘 재외 국민의 대통령 선거권을 인정하고 있다.
- ③ (나)는 남북 분단이라는 현실을 반영한 우리나라 헌법 특유의 원리이다.
- ④ (나)에 의하면 우리나라의 국민과 외국인의 지위는 상호주의 원칙에 따라 동등하게 보장한다.
- ⑤ (나)와 달리 (가)는 현대 복지 국가의 헌법과 관련 있는 원리이다.



▶ 9058-0187

9 자료는 기본권 A, B의 일반적 특징을 비교한 것이다. (가)~(라)에 들어갈 적절한 질문을 <보기>에서 고른 것은?

A는 인간다운 생활의 보장을 국가에 요구할 수 있는 권리이며, B는 주권자로서 국가의 정치 과정에 적극 참여할 수 있는 권리이다.

질문 \ 기본권	A	B
(가)	예	예
(나)	예	아니오
(다)	아니오	예
(라)	아니오	아니오

**보기**

- ㄱ. (가) - 다른 기본권 보장의 전제 조건이 되는 권리인가?
- ㄴ. (나) - 복지 국가와 밀접한 연관이 있는 권리인가?
- ㄷ. (다) - 다른 기본권을 보장하기 위한 권리인가?
- ㄹ. (라) - 소극적이고 방어적 성격의 권리인가?

- ① ㄱ, ㄴ    ② ㄱ, ㄷ    ③ ㄴ, ㄷ    ④ ㄴ, ㄹ    ⑤ ㄷ, ㄹ



▶ 9058-0188

10 밑줄 친 ㉠ ~ ㉣에 대한 설명으로 옳은 것은? [3점]

○○신문    20○○년 ○○월 ○○일

국회, 본회의 열어 각종 안건 처리

㉠ 국회는 ㉡ 정기회 기간인 어제 본회의를 열어 각종 안건을 처리하였다. 이 중 ㉢ 정부가 제출한 ○○ 법률안과 ㉣ 국회의원 갑이 대표 발의한 △△ 법률안에 대해 의결하였으며, ㉤ 대통령이 재의 요구한 □□ 법률안에 대해서도 의결하였다.

.....

- ① ㉠의 장(長)은 국회에서 선출된 후 대통령이 임명한다.
- ② ㉡은 대통령 또는 국회 재적 의원 4분의 1 이상의 요구가 있을 경우 집회된다.
- ③ ㉢과 달리 ㉣은 상임 위원회를 거쳐야 한다.
- ④ ㉤과 달리 ㉤이 의결된 경우 대통령은 재의를 요구할 수 없다.
- ⑤ ㉢~㉤이 의결되기 위해서는 모두 재적 의원 과반수 출석에 출석 의원 과반수 찬성이 필요하다.

▶ 9058-0189

11 다음 글에서 강조하는 민법의 기본 원리가 적용된 적절한 사례를 <보기>에서 고른 것은?

계약이 제대로 작동되기 위해서는 양 당사자의 교섭력의 대등과 자유로운 경쟁이라는 전제가 충족되어야 한다. 그런데 이러한 전제가 충족되지 않은 상태에서 계약 자유의 원칙을 형식적으로 관찰한다면, 경제적 강자의 일방적 명령과 그에 대한 경제적 약자의 무조건적인 복종이라는 결과를 초래할 수 있다. 따라서 경제적 약자를 보호하기 위하여 경제적 강자의 계약 자유를 어느 정도 제한하여야 한다는 인식에 따라 경제적 약자의 보호를 위한 민법 원리로 수정·보완되었다.

**보기**

- ㄱ. 개발 제한 구역을 지정하여 개인의 사유 재산에 대해 일정 정도 제한하는 경우
- ㄴ. 공작물의 설치 및 보존상의 하자로 인한 손해에 대하여 소유자가 책임을 지는 경우
- ㄷ. 선량한 풍속 기타 사회 질서에 위반한 사항을 내용으로 하는 법률 행위에 대해서 효력을 인정하지 않는 경우
- ㄹ. 최저 임금에 못 미치는 금액으로 근로 계약을 하였더라도 사용자는 근로자에게 최저 임금 이상의 임금을 지급하는 경우

- ① ㄱ, ㄴ    ② ㄱ, ㄷ    ③ ㄴ, ㄷ    ④ ㄴ, ㄹ    ⑤ ㄷ, ㄹ

▶ 9058-0190

12 그림에 대한 법적 판단으로 옳은 것은? [3점]



\* 갑은 개의 점유자이며, 정은 병의 법정 대리인이다.

- ① 갑의 행위에는 위법성이 없으므로 갑은 불법 행위 책임을 지지 않는다.
- ② 갑은 개의 소유자가 자신이 아니라는 것을 입증하면 불법 행위 책임을 지지 않는다.
- ③ 을은 병의 감독자인 정에게 채무 불이행에 대한 손해 배상 책임을 물을 수 있다.
- ④ 정이 병에 대한 감독 의무를 게을리하지 않았다는 것을 증명할 경우 책임이 면제된다.
- ⑤ 정과 달리 갑은 특수 불법 행위 책임을 진다.



▶ 9058-0191

▶ 9058-0193

13 다음 자료에 대한 법적 판단으로 옳은 것은? [3점]

갑 : 저는 2018년 3월 6일에 을의 주택을 매수하는 계약을 맺고 계약금을 지불하였습니다. 그 후 중도금을 치른 다음 4월 9일에 잔금을 지불하고 바로 ㉠ 소유권 이전 등기도 마쳤지만, 당시 임차인 병이 거주하고 있어서 입주를 하지 않았습니다.

병 : 예, 저는 을과 2017년 4월 1일부터 2년간 거주하기로 한 임대차 계약을 맺었는데, ㉡ 이사 후 전입 신고를 마친 상태에서 계약 기간 동안 계속 거주하였고, 계약 종료일인 오늘 다른 곳으로 이사하게 되었습니다.

갑 : 병이 다른 곳으로 이사를 가게 되어서 매수한 집에 ㉢ 이사가 하게 되었고, 바로 전입 신고도 하였습니다.

- ① 을과 병의 계약과 달리 갑과 을의 계약은 반드시 계약서를 작성해야 한다.
- ② 병은 갑이 주택을 매입할 당시에 갑이 요구하면 주택을 비워 주어야 한다.
- ③ ㉠에 따라 갑의 소유권은 해당 주택의 등기사항 전부 증명서 갑구에 기재된다.
- ④ 병은 입주 당시 우선 변제권을 형성하였다.
- ⑤ 갑과 병은 각각 ㉡과 ㉢으로 인하여 모두 주택 임대차 보호법상 대항력을 형성하게 된다.

▶ 9058-0192

14 다음 사례에 대한 법적 판단으로 옳은 것은?

- 갑과 을은 혼인 후 아들(10세)과 같이 살고 있었다. 부부 관계가 점점 원만하지 않게 된 갑과 을은 서로 이혼하기로 합의를 하였고, 이혼 후 아들은 을이 양육하기로 하였다. 혼인 중에 형성된 재산으로는 을 명의의 집이 한 채 있다.
- A와 B는 혼인 후 딸(7세)과 살고 있었는데, A가 평소 B에게 폭행을 가하여 B는 고통을 호소하고는 하였다. B가 이혼 소송을 제기하여 이혼을 하였고, 딸은 B가 양육하기로 하였다. 혼인 중에 형성된 재산으로는 B 명의의 집이 한 채 있다.

- ① 갑과 을의 이혼은 법원의 확인으로써 효력이 발생한다.
- ② A와 B가 이혼을 하기 위해서는 이혼 숙려 기간을 거쳐야 한다.
- ③ 갑과 A는 자녀에 대한 면접 교섭권이 발생한다.
- ④ 갑과 달리 A는 상대 배우자에게 재산 분할을 청구할 수 없다.
- ⑤ A와 B의 이혼과 달리 갑과 을의 이혼의 경우 법에 정한 이혼 사유가 있어야 한다.

15 ㉠에 부합하는 진술로 옳은 것은?

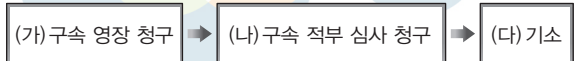
헌법 재판소는 (구)미성년자 보호법의 조항 내용 중 '잔인성'에 대하여 판례상 개념 규정이 확립되지 않은 상태이고, 여기에 '조장' 및 '우려'까지 덧붙여지면 사회 통념상 정당한 것으로 볼 여지가 많은 것까지 처벌의 대상으로 할 수 있어 법 집행자의 자의적인 판단을 허용할 여지가 높다고 보았다. 이와 같은 경우를 모두 처벌하게 되면 그 처벌 범위가 너무 광범위해지고, 일정한 경우에만 처벌하게 된다면 어느 경우가 그에 해당하는지 알 수 없다고 하여서 헌법 재판소는 해당 법률 조항이 죄형 법정주의에서 파생된 ㉠에 위배된다고 하였다.

- ① 범죄와 형벌은 미리 성문의 법률에 형식으로 규정되어 있어야 한다.
- ② 범죄 행위의 경중과 행위자가 부담해야 할 형사 책임 사이에 균형을 갖추고 있어야 한다.
- ③ 행위 당시 처벌 법규가 존재하지 않음에도 불구하고 사후 입법을 제정하는 것은 금지된다.
- ④ 어떤 사항에 대하여 직접 규정한 법규가 없더라도 그와 비슷한 사항에 대하여 규정한 법률을 적용해서는 안 된다.
- ⑤ 어떤 행위가 범죄이며 각각의 범죄에 대해 어떤 형벌이 부과되는지가 법률에 구체적으로 명확하게 규정되어야 한다.

▶ 9058-0194

16 자료에 대한 옳은 법적 판단을 <보기>에서 고른 것은? [3점]

갑은 집단 폭행에 가담한 혐의로 기소되었으며, 구금된 상태에서 재판이 진행되었다. 1심 법원에서 갑은 단순히 지나가는 행인에 불과하여 폭행에 가담하지 않았다는 이유로 무죄가 선고되었고, 이에 갑은 석방되었다. 그림은 갑에게 적용된 형사 절차의 일부이다.



보기

- ㄱ. (가)는 검사, (다)는 판사에 의해 이루어진다.
- ㄴ. 갑이 청구한 (나)는 법원에서 기각되었다.
- ㄷ. 갑은 (다) 이전은 피고인, (다) 이후는 피의자 신분이다.
- ㄹ. 1심 법원 판결이 확정된다면, 갑은 형사 보상을 청구할 수 있다.

- ① ㄱ, ㄴ    ② ㄱ, ㄷ    ③ ㄴ, ㄷ    ④ ㄴ, ㄹ    ⑤ ㄷ, ㄹ



▶ 9058-0195

### 17 다음 사례에 대한 옳은 법적 판단을 <보기>에서 고른 것은? [3점]

고등학생 갑(17세)은 방학 동안 을의 식당에서 아르바이트를 하려고 다음과 같이 근로 계약을 맺었다. 갑은 방학 기간 중 11시부터 17시까지 일하기로 하였으며, ㉠ 최저 임금인 시간당 8,350원을 받기로 하였다.

**보기**

- ㄱ. ㉠은 근로 계약서에 반드시 기재해야 한다.
- ㄴ. 갑과 을의 근로 계약 중 부당 노동 행위에 해당하는 내용이 있다.
- ㄷ. 을은 갑의 법정 대리인이 작성한 동의서를 사업장에 갖추어 두어야 한다.
- ㄹ. 근로 시간이 8시간 미만이므로 을은 갑에게 근로 시간 도중에 휴게 시간을 주지 않아도 된다.

- ① ㄱ, ㄴ    ② ㄱ, ㄷ    ③ ㄴ, ㄷ    ④ ㄴ, ㄹ    ⑤ ㄷ, ㄹ

▶ 9058-0197

### 19 밑줄 친 ㉠~㉣에 대한 옳은 설명만을 <보기>에서 있는 대로 고른 것은?

1989년 6월 말까지 시행되던 국내 ㉠ 소년법은 16세 미만의 소년에게는 사형이나 무기 징역이 선고될 수 없었다. 그런데 인권 조약 중 하나인 ㉡ 시민적 및 정치적 권리에 관한 국제 규약에서는 '18세 미만의 자가 범한 범죄'에 대하여는 사형을 선고할 수 없다고 규정하고 있다. 우리나라가 국제 규약에 가입하기 위해서는 소년법을 개정해야만 했고, 결국 사형 선고의 하향 연령을 18세 미만으로 올리는 소년법을 개정하여 1989년 7월부터 시행하였다. 그리고 1990년에 ㉢ 시민적 및 정치적 권리에 관한 국제 규약을 비준하여 당사국이 되었다.

**보기**

- ㄱ. ㉡과 같은 국제법의 법원(法源)은 국가와 국제기구 간에도 체결이 가능하다.
- ㄴ. ㉢부터 우리나라는 18세 미만 소년의 사형을 금지하였다.
- ㄷ. ㉠과 달리 ㉡은 국제 사회에서 포괄적인 구속력을 갖는다.
- ㄹ. ㉡은 ㉠과 달리 강제적 집행 기구가 없어 위반에 대한 제재가 어렵다.

- ① ㄱ, ㄴ    ② ㄱ, ㄹ    ③ ㄴ, ㄷ  
④ ㄱ, ㄷ, ㄹ    ⑤ ㄴ, ㄷ, ㄹ

▶ 9058-0196

### 18 다음 사례에 대한 법적 판단으로 옳은 것은?

소비자 분쟁 조정 위원회는 갑은 을에게 의류를 반환받은 날로부터 3일 이내에 27,000원을 지급해야 한다고 결정하였다. 을은 갑의 인터넷 쇼핑몰에서 의류 4벌을 구입하였는데, 이 중 2벌이 사이즈가 맞지 않아 갑에게 반송을 하였다. 그런데 갑은 을이 구입한 의류는 특가 상품으로 환불 불가를 사전에 고지하였다는 이유로 환불을 거절하였다.

- ① 을은 제조물의 결함으로 인한 피해에 대하여 구제를 청구하였다.
- ② 을은 소비자 8대 권리 중 안전한 권리를 침해받았다고 판단하였다.
- ③ 갑과 을의 합의를 통해서 소비자 분쟁 조정 위원회의 조정이 진행되었다.
- ④ 갑과 을이 이 결정을 수락하였다면, 재판상 화해와 동일한 효력이 부여된다.
- ⑤ 소비자 분쟁 조정 위원회 조정은 을이 갑을 상대로 민사 소송을 제기하기 위한 필수 절차이다.

▶ 9058-0198

### 20 국제 연합의 주요 기관 A~C에 대한 설명으로 옳은 것은? [3점]

국제 연합의 최고 의결 기관인 A의 결의를 통하여 파견된 평화 유지군의 활동 경비에 대하여 일부 회원국이 분담금 지불을 거부하였다. 이유 중 하나는 국제 연합 헌장에 근거하여 '조치'를 필요로 하는 것은 토의 전후에 15개 이사국으로 구성된 B에 회부되어야 하는데, 그렇게 하지 않았기 때문에 A에 의한 평화 유지군 설치의 헌장 위반의 결정이었다고 주장을 하고 있다. A는 이에 관한 해석을 국제 연합의 사법 기관인 C에 요청하였고, C는 국제 연합의 평화 유지 활동은 강제 조치가 아니므로 B에 회부되지 않아도 헌장 위반이 아니라고 판단하였다.

- ① A는 국제 평화와 안전 유지에 관한 국제 연합의 실질적 의사 결정 기관이다.
- ② B는 국제 분쟁에 개입할 때 군사력을 사용할 수 없다.
- ③ C에 제소하는 것은 국제 연합의 회원국만 가능하다.
- ④ A보다 B의 표결 방식이 국제 사회를 바라보는 자유주의적 관점에 부합한다.
- ⑤ C의 판결을 당사국이 이행하지 않을 경우, B는 판결의 이행을 위한 적절한 조치를 결정할 수 있다.

문항에 따라 배점이 다르니, 각 물음의 끝에 표시된 배점을 참고 하시오. 3점 문항에만 점수가 표시되어 있습니다. 점수 표시가 없 는 문항은 모두 2점입니다.

▶ 9058-0199

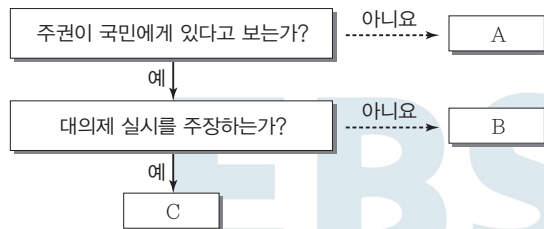
## 1 우리나라 헌법의 기본 원리 (가), (나)에 대한 설명으로 옳지 않은 것은?

기본 원리	관련 헌법 조항
(가)	제4조 ... 자유 민주적 기본 질서에 입각한 평화적 통일 정책을 수립하고 이를 추진한다. 제8조 ② 정당은 그 목적·조직과 활동이 민주적이어야 하며 ...
(나)	제5조 ① 대한민국은 국제 평화의 유지에 노력하고 침략적 전쟁을 부인한다. 제6조 ① 헌법에 의하여 체결·공포된 조약과 일반적으로 승인된 국제 법규는 국내법과 같은 효력을 가진다.

- ① (가)는 자유주의와 민주주의가 결합된 정치 원리이다.
- ② (가)를 실현하기 위한 방안으로 법치주의 수립을 들 수 있다.
- ③ (나)에 따르면 방어를 위한 전쟁은 허용된다.
- ④ (나)를 실현하기 위한 방안으로 국제 평화 유지 활동 참여 를 들 수 있다.
- ⑤ (가)와 달리 (나)는 국내 거주 외국인에게는 적용되지 않는다.

▶ 9058-0200

## 2 그림에 나타난 사회 계약론자 A~C에 대한 설명으로 옳은 것은? (단, A~C는 각각 홉스, 로크, 루소 중 하나이다.) [3점]



- ① A는 일반 의지에 따라 정치 공동체가 운영되어야 한다고 본다.
- ② B는 자연 상태는 자유롭고 평화롭지만 실정법, 재판관, 집행 권력 등이 없는 상태라고 본다.
- ③ C는 사회 계약을 통해 절대 권력을 가진 국가가 등장한다고 본다.
- ④ A와 달리 B는 국가를 목적이 아닌 수단으로 본다.
- ⑤ B와 C의 입장을 구분하는 질문으로 '개인의 권리를 특정 집단에 위임할 것을 주장하는가?'를 들 수 있다.

▶ 9058-0201

## 3 법치주의의 유형 (가), (나)에 대한 설명으로 옳지 않은 것은?

근대 법치주의 전개 과정에서 법치주의는 크게 두 가지 유형으로 구분되어 나타났다. (가)는 법률을 제정할 수 있는 공식적 권한은 의회에 있으며, 의회에서 제정된 모든 법률은 그 내용의 정당성 여부를 떠나 합법적인 것이므로 국민들은 이를 준수해야 한다고 본다. 이와 달리 (나)는 의회에서 제정된 법률일지라도 그 제정 과정의 절차적 합법성은 물론 내용의 정당성도 갖추어야 한다고 본다.

- ① (가)와 달리 (나)는 인치(人治)를 부정한다.
- ② 오늘날의 법치주의는 (가)보다 (나)를 지향한다.
- ③ 우리나라의 위헌 법률 심사제는 (가)보다 (나)의 실현을 위한 제도이다.
- ④ 독재 정치를 정당화하는 논리로 악용되기 쉬운 것은 (나)보다 (가)이다.
- ⑤ (가), (나) 모두 법을 통한 사회 질서 유지를 추구한다.

▶ 9058-0202

## 4 다음 글의 A, B에 대한 설명으로 옳지 않은 것은? (단, A, B는 각각 전형적인 정부 형태 중 하나이다.)

갑국의 행정부 수반은 국가 원수에게 현재의 정부 형태인 A로 인해 나타나는 문제점 수정의 필요성에 대한 국민의 여론을 전달하였다. 행정부 수반은 특히 A가 지닌 몇 가지 단점으로 인해 보완책이 필요하며 단순한 보완만으로는 문제의 해결에 제약이 많으므로 정부 형태를 B로 바꾸는 것을 진지하게 고려할 필요가 있다고 주장하였다.

- ① A에서는 의회 의원이 각료를 겸직할 수 있다.
- ② B에서는 행정부의 법률안 제출권이 인정되지 않는다.
- ③ A와 달리 B는 의회와 행정부가 융합된 정부 형태이다.
- ④ B와 달리 A에서는 내각이 의회에 대해 연대 책임을 진다.
- ⑤ A, B 모두 의회 의원을 유권자의 투표로 선출한다.





▶ 9058-0203

5 표는 정치를 바라보는 관점 A, B를 구분한 것이다. 이에 대한 옳은 설명을 <보기>에서 고른 것은? [3점]

질문	A	B
국가를 일반적 사회 집단의 한 유형으로 보는가?	예	아니요
정치를 오직 정치권력의 획득·행사·유지 활동으로 보는가?	㉠	예
(가)	아니요	㉡

보기

- ㄱ. A는 '의회에서의 법률 제정 활동'은 정치 현상으로 보지 않는다.
- ㄴ. B는 국가 형성 이전의 정치 현상을 설명할 수 없다.
- ㄷ. ㉠에 들어갈 답변은 '예'이다.
- ㄹ. (가)에 "정치를 국가와 관련된 활동만으로 보는가?"가 들어가면 ㉡에 들어갈 답변은 '예'이다.

- ① ㄱ, ㄴ    ② ㄱ, ㄷ    ③ ㄴ, ㄷ    ④ ㄴ, ㄹ    ⑤ ㄷ, ㄹ

▶ 9058-0205

7 국제 사회를 바라보는 갑, 을의 관점에 대한 추론으로 적절한 것은?

갑과 을은 국제 사회에서 평화를 어떻게 달성할 수 있는냐에 대해 다른 방향에서 접근한다. 갑에 따르면 국가는 이성적 판단이 가능하고 규범적인 존재로 그 국가들이 모여 구성되는 국제 사회는 이성적 판단에 따라 상호 협력과 공공선의 달성이 가능하다. 한편 을에 따르면 국가의 최우선 목표는 자국의 이익을 실현하는 것이며, 따라서 평화가 유지되기 위해서는 힘의 균형을 확보하는 것이 필요하다.

- ① 갑은 세력 균형 확보를 위한 국가 간 동맹 관계의 중요성을 강조할 것이다.
- ② 을은 복잡한 국제 관계를 정치적 권력 관계로 단순화하는 경향이 있다.
- ③ 갑과 달리 을은 국제 사회는 보편적 윤리나 규범에 의해 지배받는다고 볼 것이다.
- ④ 을과 달리 갑은 국제기구를 통한 국제 문제 해결이 어렵다고 볼 것이다.
- ⑤ 갑, 을 모두 국가 간의 군비 경쟁이 국제 평화를 위협한다고 볼 것이다.

▶ 9058-0204

6 밑줄 친 ㉠~㉢에 대한 옳은 설명을 <보기>에서 고른 것은?

○○신문 2018년 4월 ××일

생물 다양성 등을 촉진하기 위한 이른바 ㉠ 나고야 의정서가 오는 8월 정식 발효됨에 따라 대책 마련이 시급하다. 각국의 나고야 의정서 대응 현황을 보면, ㉡ 유럽 연합(EU)은 이미 EU 이사회 규칙과 EU 위원회 시행 규칙, EU 위원회 고시를 발표한 바 있고, 주변의 ㉢ 국가들도 관련 절차들을 거치고 있다. 우리나라도 동 의정서의 ㉣ 비준 관련 과정을 이미 마치는 등 노력을 하고 있지만, 그에 수반된 부속 조치들이 아직까지는 미흡하다.

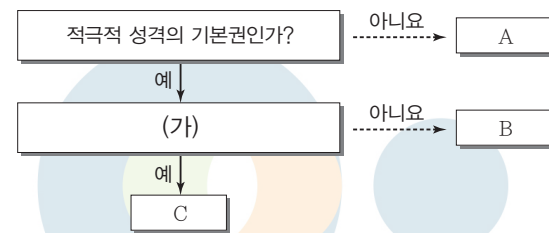
보기

- ㄱ. ㉠과 같은 국제법의 법원은 원칙적으로 체결 당사자에만 효력이 미친다.
- ㄴ. ㉡은 국가 내부적인 행위 주체이다.
- ㄷ. ㉢은 국제 사회의 가장 기본적인 행위 주체에 해당한다.
- ㄹ. 우리나라에서 ㉣은 국회의 권한이다.

- ① ㄱ, ㄴ    ② ㄱ, ㄷ    ③ ㄴ, ㄷ    ④ ㄴ, ㄹ    ⑤ ㄷ, ㄹ

▶ 9058-0206

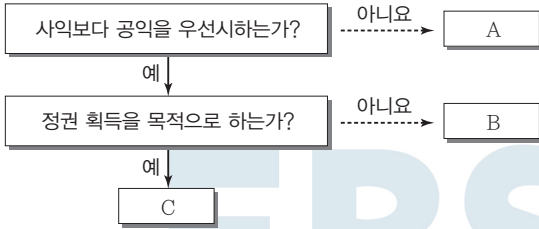
8 그림은 우리나라 헌법에 나타난 기본권을 구분한 것이다. 이에 대한 설명으로 옳은 것은? (단, A~C는 각각 사회권, 자유권, 청구권 중 하나이다.) [3점]



- ① A보다 B가 역사적으로 오래된 기본권이다.
- ② B, C는 국가 성립 이전에도 인정되는 자연권적 성격을 가진다.
- ③ (가)에는 "주권자로서 국가의 정치 과정에 참여할 수 있는 권리인가?"가 들어갈 수 있다.
- ④ B가 사회권이면 (가)에 "수단적 성격의 기본권인가?"가 들어갈 수 있다.
- ⑤ (가)에 "바이마르 헌법에서 처음 규정되었는가?"가 들어가면, C는 A의 침해에 대한 구제 절차도 포함된 기본권이다.

▶ 9058-0207

9 그림은 정치 참여 집단 A~C를 일정 기준에 따라 구분한 것이다. 이에 대한 옳은 설명을 <보기>에서 고른 것은? (단, A~C는 각각 정당, 시민 단체, 이익 집단 중 하나이다.)



보기

- ㄱ. A는 직능 대표 역할을 하기도 한다.
- ㄴ. B는 비영리성, 비권력성을 특징으로 한다.
- ㄷ. C의 활동은 사회 전체의 보편적 이익을 해칠 위험이 있다.
- ㄹ. B와 달리 C는 자신의 활동에 대해 정치적 책임을 지지 않는다.

- ① ㄱ, ㄴ    ② ㄱ, ㄷ    ③ ㄴ, ㄷ    ④ ㄴ, ㄹ    ⑤ ㄷ, ㄹ

▶ 9058-0209

11 다음 갑국의 선거 제도와 관련한 분석으로 옳은 것은? [3점]

갑국의 의회 의원 정수는 200명이며, 그중 120명은 소선거구제에 의해 선출되는 지역구 의원이고 80명은 전국을 하나의 선거구로 하는 정당 명부식 비례 대표제로 선출되는 비례 대표 의원이다. 정당별 의석수는 정당 명부식 비례 대표 선거의 정당별 득표율에 따라 결정되며, 지역구 의석수가 정당별 득표율에 따라 할당된 의석수보다 많을 경우에는 초과 의석수를 인정한다. 예를 들어 정당 득표율이 40%인 갑당의 의석수는 원칙적으로 200석의 40%인 80석이 된다. 이때 A당의 지역구 의석수가 60석이면 비례 대표 의석수는 20석이 배정되며, A당의 지역구 의석수가 85석이면 지역구 의석수는 그대로 인정되고 비례 대표 의석수는 0석이 배정된다.

- ① 지역구 의원은 절대 다수 대표제로 선출된다.
- ② 유권자는 의회 의원 선거에서 1인당 1표를 행사한다.
- ③ 의회 의원의 총수는 의회 의원 정수를 초과할 수 있다.
- ④ 정당별 의석수는 정당별 득표율에 따라 할당된 의석수를 넘을 수 없다.
- ⑤ 정당별 지역구 의원의 수와 비례 대표 의원의 수는 음(-)의 상관관계를 갖는다.

▶ 9058-0210

12 다음 자료에 대한 옳은 설명을 <보기>에서 고른 것은? [3점]

재판이 진행 중인 상황에서 관련 법률 조항의 위헌성 여부가 쟁점이 되어 헌법 재판소에 법률의 위헌성 여부를 가려 달라는 심판이 청구된 경우, 청구 주체에 따라 헌법 심판 유형을 두 가지로 구분할 수 있다.

헌법 심판 유형	(가)	(나)
청구 주체	㉠ 법원	㉡


보기

- ㄱ. (가)의 제청이 기각되면 재판 당사자는 관련 법률의 위헌성 여부를 가리기 위해 (나)를 청구할 수 있다.
- ㄴ. (나)는 위헌 심사형 헌법 소원 심판이다.
- ㄷ. ㉠은 상고심을 담당하는 법원을 의미한다.
- ㄹ. ㉡은 재판 당사자만 될 수 있다.

- ① ㄱ, ㄴ    ② ㄱ, ㄷ    ③ ㄴ, ㄷ    ④ ㄴ, ㄹ    ⑤ ㄷ, ㄹ

▶ 9058-0208

10 우리나라 헌법 기관 A~D에 대한 설명으로 옳은 것은?



- ① A는 상고심 담당 법원의 장(長)을 임명할 수 있다.
- ② D는 국회 직속의 헌법 기관이다.
- ③ B는 C의 구성원을 임명할 수 있는 권한이 있다.
- ④ C의 심의 결과에 A는 따라야 한다.
- ⑤ C와 D의 장(長)은 모두 국회의 동의를 얻어 A가 임명한다.



▶ 9058-0211

13 다음 사례에 대한 옳은 법적 판단을 <보기>에서 고른 것은? [3점]

△ △ 신문 2019년 ××월 ◇◇일

○○경찰서는 재물 손괴 혐의로 중학생 갑(13세)과 을(14세)을 붙잡아 조사하고 있다고 밝혔다. 갑과 을은 이달 1일 오후 6시 30분 경에 □□시의 한 아파트 10층 베란다에서 1층으로 어는 주먹 만 한 돌을 세 개 던졌는데, 그중 두 개가 주차되어 있던 승용차에 떨어져 승용차의 앞 유리를 파손한 혐의를 받고 있다.

보기

- ㄱ. 갑에게는 형벌을 부과할 수 없다.
- ㄴ. 갑의 혐의가 입증되면 경찰서장은 갑을 법원 소년부로 송치하여야 한다.
- ㄷ. 을의 행위에 대한 사건 처리는 소년 보호 사건 처리 절차를 거쳐야만 한다.
- ㄹ. 검사가 을에 대해 공소를 제기하면 을은 형벌과 소년법상 보호 처분을 동시에 받을 수 있다.

- ① ㄱ, ㄴ    ② ㄱ, ㄷ    ③ ㄴ, ㄷ    ④ ㄴ, ㄹ    ⑤ ㄷ, ㄹ

▶ 9058-0213

15 사례의 (가), (나)에 해당하는 민법의 기본 원칙으로 옳은 것은?

- 최근 갑이 살고 있는 마을을 포함한 주변 지역이 서민을 위한 공공 임대 주택 마련을 위한 공공 주택 지구로 선정되면서 갑의 땅도 강제로 수용될 상황에 처했다. 갑은 해당 지역 주민들과 함께 공공 주택 지구 사업 반대를 외쳤지만, (가)에 따라 결국 갑의 땅은 강제로 수용되었다.
- 을은 그동안 다니던 직장을 그만두고 편의점을 운영하려고 생각하였다. A 편의점 프랜차이즈에 가입하기 위하여 가입 조건을 알아본 결과 하루라도 쉬면 휴업에 따른 범칙금을 내야 하고 프랜차이즈 본사의 정책에 따르면 판매를 원하지 않는 상품도 받아야 되는 등 (나)에 어긋나는 내용이 많아 결국 포기하고 다른 사업을 하려고 고민 중이다.

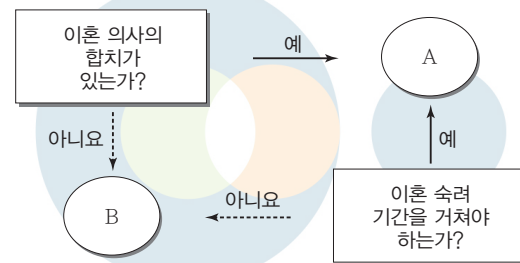
(가)

(나)

- |                |           |
|----------------|-----------|
| ① 계약 자유의 원칙    | 사적 자치의 원칙 |
| ② 계약 자유의 원칙    | 계약 공정의 원칙 |
| ③ 소유권 공공복리의 원칙 | 사적 자치의 원칙 |
| ④ 소유권 공공복리의 원칙 | 계약 공정의 원칙 |
| ⑤ 소유권 공공복리의 원칙 | 과실 책임의 원칙 |

▶ 9058-0214

16 그림은 이혼의 유형 A, B를 구분한 것이다. A, B에 대한 설명으로 옳은 것은?



- ① A의 이혼 속려 기간은 당사자 간 합의로 정한다.
- ② B는 법원이 이혼의 동기나 사유를 확인한다.
- ③ A와 달리 B에서 이혼에 책임이 있는 측은 상대방에게 공유 재산에 대한 분할을 청구할 수 없다.
- ④ A와 달리 B에서 이혼에 책임이 있는 측은 자녀에 대한 면접 교섭권을 주장할 수 없다.
- ⑤ A, B 모두 법원의 확정 판결로 이혼의 효력이 발생한다.

▶ 9058-0212

14 그림은 형사 절차의 일부분이다. 밑줄 친 ㉠~㉣에 대한 옳은 설명을 <보기>에서 고른 것은? [3점]



보기

- ㄱ. ㉠의 주체는 검사이다.
- ㄴ. ㉡의 인원은 사건의 경중에 따라 달라질 수 있다.
- ㄷ. ㉢이 진행될 동안 피고인은 원칙적으로 유죄로 추정된다.
- ㄹ. ㉣의 결과 유죄 판결이 내려지면 피고인은 교정 시설에 구금된다.

- ① ㄱ, ㄴ    ② ㄱ, ㄷ    ③ ㄴ, ㄷ    ④ ㄴ, ㄹ    ⑤ ㄷ, ㄹ



▶ 9058-0215

**17** 다음 사례의 (가), (나)에 대한 옳은 설명을 <보기>에서 고른 것은? [3점]

- 갑은 교통사고 뺑소니 혐의로 구속 기소되어 재판을 받던 중 진범이 잡혀 무죄로 석방되었다. 이에 갑은 (가) 을/를 이용하여 자신이 입은 피해를 보상받았다.
- 을은 길거리를 걷던 도중 이른바 '묻지마 폭행'을 가한 행인에게 칼로 찔려 중상을 입었다. 경찰에 붙잡힌 가해자는 상해에 대한 배상 능력 등이 전혀 없어 을은 (나) 을/를 이용하여 국가로부터 일정 액수의 구조금을 지급받았다.

**보기**

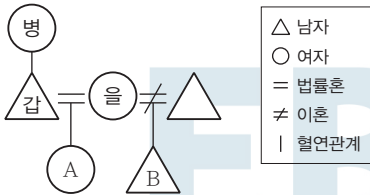
- ㄱ. (가)는 불구속 상태에서 수사를 받다가 무혐의 처리된 사람도 이용할 수 있다.
- ㄴ. 피해자가 사망한 경우 유족이 (나)를 이용하여 구조금을 받을 수 있다.
- ㄷ. (가)는 형사 보상 제도, (나)는 범죄 피해자 구조 제도이다.
- ㄹ. (가), (나) 모두 신체적 피해에 대해서만 이용할 수 있다.

- ① ㄱ, ㄴ    ② ㄱ, ㄷ    ③ ㄴ, ㄷ    ④ ㄴ, ㄹ    ⑤ ㄷ, ㄹ



▶ 9058-0216

**18** 다음 사례에 대한 법적 분석으로 옳은 것은? [3점]



\* B는 갑의 친양자임

갑은 급작스런 심장마비로 인해 병원으로 이송된 뒤 법적 요건을 갖춘 유언을 하지 못한 상황에서 3일만에 사망했다. 갑의 전 재산은 7억 원이며 부채는 없다.

- ① 법정 상속인은 을과 A이다.
- ② 병의 상속분은 을의 상속분의 1/2이다.
- ③ 을은 A보다 2억 원을 더 많이 상속받는다.
- ④ 을이 상속을 포기할 경우 상속인은 병, A, B이다.
- ⑤ A와 B는 각각 2억 원씩 상속받는다.

▶ 9058-0218

**20** 사례들에 대한 옳은 법적 판단을 <보기>에서 고른 것은? [3점]

- 길을 걷던 A는 갑자기 달려드는 맹견을 피하려다 옆을 지나던 행인과 충돌하여 상해를 입었다.
- B는 말다툼을 하던 상대방이 흥기를 휘두르자 방어하는 과정에서 상대방의 팔에 작은 상처를 입었다.
- C는 친구가 5천만 원을 빌려 가서 상환 기일이 1년 이상 지났음에도 갚지 않고 버티자, 친구의 집에 몰래 침입하여 통장과 비싼 가구 등을 자동차에 싣고 가 다른 장소에 옮겨 놓았다.

**보기**

- ㄱ. A의 행위는 긴급 피난의 사례로 볼 수 있다.
- ㄴ. B의 상해 행위는 정당방위에 해당한다.
- ㄷ. C의 행위는 청구권의 실행 불능 또는 현저한 실행 곤란을 피하기 위한 상당한 이유가 있는 행위이다.
- ㄹ. A~C의 행위는 모두 범죄로 성립되지 않는다.

- ① ㄱ, ㄴ    ② ㄱ, ㄷ    ③ ㄴ, ㄷ    ④ ㄴ, ㄹ    ⑤ ㄷ, ㄹ

문항에 따라 배점이 다르니, 각 물음의 끝에 표시된 배점을 참고 하시오. 3점 문항에만 점수가 표시되어 있습니다. 점수 표시가 없 는 문항은 모두 2점입니다.

▶ 9058-0219

### 1 다음 글에 부각된 정치를 바라보는 관점에 대한 옳은 설명을 <보기>에서 고른 것은?

아리스토텔레스는 “인간은 정치적 동물이다.”라고 표현하여 인 간이 폴리스를 형성하면서 정치 현상이 발생하게 된 것을 암시 하고 있다. 이처럼 인간 사회의 정치 현상은 국가가 조직되고 난 후 비로소 출현되었으며, 한 사람이 정상적인 인간으로서 존 재하기 위해서는 국가와 같은 정치 공동체가 필요하다.

**보기**

- ㄱ. 국가 형성 이전의 정치 현상을 설명하기에 적합하다.
- ㄴ. 개인이나 집단 수준에서 구성원의 이해관계를 조정하는 과 정을 정치라고 본다.
- ㄷ. 정치를 정치권력을 획득하고 유지·행사하는 것과 관련된 국가 고유의 활동으로 본다.
- ㄹ. 정치를 물리적 강제력을 독점한 국가가 사회적 갈등을 해결 하고 질서를 유지하는 과정으로 이해한다.

- ① ㄱ, ㄴ    ② ㄱ, ㄷ    ③ ㄴ, ㄷ    ④ ㄴ, ㄹ    ⑤ ㄷ, ㄹ

▶ 9058-0220

### 2 법치주의의 유형 A, B에 대한 설명으로 옳은 것은?

법치주의는 를 지향하기 때문에 형식적 합법성만으 로는 결코 완결적이라고 말할 수 없다. 법이 형식적 합법성을 갖 추었다고 하더라도 법의 실제적 내용이 정의의 원칙이나 기본적 인권에 반하는 경우에 독재에 봉사할 수 있기 때문이다. 2차 대 전 이전 독일에서는 형식적 합법성만을 강조한 결과 법이 독재 체제를 유지하기 위한 수단으로 사용되어 라는 비판 을 받게 되었다. 그리고 이에 대한 반성으로 법치주의의 본래 목 적인 국민의 자유와 권리를 실질적으로 보장하기 위해 가 대두하게 되었다.

- ① A는 국민의 자유와 권리 보장보다 법의 지배 자체에 목적 을 둔다.
- ② B는 정의의 실현을 목적과 내용으로 하는 법의 지배를 의 미한다.
- ③ A와 달리 B에서는 국민의 기본권을 제한하기 위해 법적 근거가 필요하다고 본다.
- ④ B와 달리 A는 외형상 통치의 합법성을 결여한 법치주의 유형이다.
- ⑤ A, B는 모두 ‘인(人)의 지배’를 배척하고, 국가 권력을 법 에 구속시킨다.

▶ 9058-0221

### 3 다음 자료에 나타난 갑국의 정부 형태와 정치적 상황에 대한 설명으로 옳은 것은? (단, 갑국은 전형적인 정부 형태를 채택하고 있다.) [3점]

총선 결과, 총 의석수 650석 중 A당 306석, B당 298석, 2010. 00. 00. C당 28석 순으로 A당의 승리로 총선이 끝났지만 형 의회(Hung Parliament)\*가 구성됨

의회에서 A당의 당수가 신임 총리로 지명되었고, 신임 총리가 원내 3당인 C당과 연립 정부 구성에 합의함으 로써 사실상 의회 과반 의석이 확보됨

\* 형 의회(Hung Parliament)는 과반 의석을 차지한 정당이 없는 의회이다.

\*\* 갑국 의회에 무소속 의원은 없고 총 의석은 모두 각 정당에 배분되어 있다.

- ① 신임 총리는 국가 원수로 의회의 신임에 구속을 받는다.
- ② 갑국 의회는 3개의 정당으로 구성되며, 국민에 대해 정치 적 책임을 진다.
- ③ 내각이 의회를 해산할 경우 총선거를 시행하여 새로운 의 회가 구성된다.
- ④ 의회 의원은 내각의 각료를 겸직할 수 있으며, 의회는 각료 에 대한 탄핵 소추권을 가진다.
- ⑤ 내각의 국정 운영에 문제가 있다고 판단되면 의회나 국민 이 내각에 대해 불신임권을 행사할 수 있다.

▶ 9058-0222

### 4 기본권 A, B에 대한 설명으로 옳은 것은? [3점]

A는 국가의 부당한 간섭을 배제하는 기본권으로 국가에 대한 방어권으로서의 성격을 갖고 있다. 권리의 보장을 위하여 국가 에 권리 구제 절차의 제공을 적극적으로 요구할 수 있는 수단적 성격의 기본권인 B와 달리 A는 원칙적으로 개인이 입법적 매개 를 필요로 하지 않고 스스로 기본권을 행사할 수 있다는 것을 전 제로 하고 있다.

- ① A는 고유한 의미의 헌법에서부터 보장되었던 권리이다.
- ② B는 자본주의의 모순을 극복하는 과정에서 등장한 권리 이다.
- ③ A는 B와 달리 소극적 성격의 권리로 ‘국가로부터의 자유’ 를 지향한다.
- ④ B는 A와 달리 본질적 권리로 기본권 보장의 전제 조건에 해당한다.
- ⑤ A, B는 모두 개별 기본권의 내용을 담은 포괄적인 권리로 국가의 존재를 전제로 인정된다.



▶ 9058-0223

▶ 9058-0225

5 다음 자료에 대한 분석으로 가장 적절한 것은? [3점]

정부는 오늘 부의장인 A의 주재로 B를 열어 행정부 수반인 C가 발의할 ㉠ 헌법 개정안과 국회에 제출될 법률안 등을 심의합니다. 이날 B에 상정된 ㉡ ○○○법 개정안에는 근로를 하는 저소득층에 보조금을 주는 근로 장려 세제를 30세 미만 단독 가구까지 확대하는 내용이 포함되어 있습니다. 이와 함께 필수적 국민 투표의 대상 확대를 내용으로 하는 개헌안도 함께 심의할 예정입니다.



\* A, B, C는 각각 우리나라의 국가 기관에 해당한다.

- ① 국무 위원은 A의 제청으로 국회의 동의를 얻어 C가 임명한다.
- ② B는 A와 달리 우리나라 정부 형태의 의원 내각제적 요소에 해당된다.
- ③ ㉠은 국회 재적 의원 3분의 2 이상의 찬성을 얻으면 확정된다.
- ④ ㉡은 국회에서 의결되면 정부로 이송되어 15일 이내에 대통령령이 공포한다.
- ⑤ ㉡에는 ㉠과 달리 국민 주권주의를 강화할 수 있는 방안이 포함되어 있다.

▶ 9058-0224

6 표는 갑국과 을국의 의회 의원 선거 결과의 일부이다. 갑국과 을국의 정치 상황에 대한 분석 및 추론으로 옳은 것은?

〈갑국의 의회 의원 선거 결과〉

정당	A	B	...	합계
의석률(%)	45	52	...	100

〈을국의 의회 의원 선거 결과〉

정당	a	b	...	합계
의석률(%)	29	36	...	100

\* 갑국과 을국은 각각 서로 다른 전형적인 정부 형태를 채택하고 있으며, 갑국과 을국에서 행정부 수반이 속한 정당은 원내 제당이다.

\*\* 갑국과 을국에는 네 개의 정당이 존재하고, 무소속 의원은 없다.

- ① 갑국의 정부 형태가 대통령제라면, 을국에서는 연립 내각이 구성될 가능성이 적다.
- ② 을국의 정부 형태가 대통령제라면, 갑국에서는 의회와 행정부가 대립할 가능성이 크다.
- ③ 의회 의원 선거 결과 나타난 갑국의 정당 제도는 을국에 비해 다양한 국민의 의견을 정부 정책에 반영할 수 있다는 장점이 있다.
- ④ 의회 의원 선거 결과 나타난 을국의 정당 제도는 갑국에 비해 정책 추진에 따른 정치적 책임 소재가 분명하다는 장점이 있다.
- ⑤ 을국에서 b당의 의원이 각료를 겸직할 수 있다면, 을국의 행정부 수반은 법률안 거부권을 행사할 수 없다.

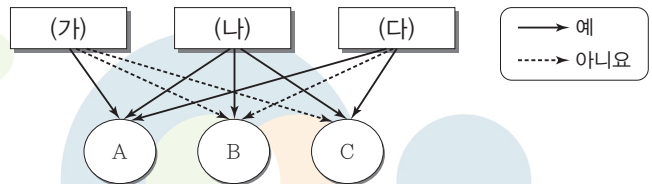
7 다음 사례에 대한 법적 판단으로 옳은 것은? [3점]

갑(17세)은 을이 운영하는 대리점에서 휴대 전화를 구매하였다. 다음날 을은 갑이 작성한 계약서를 살펴보다 갑이 미성년자라는 사실을 발견하고, 법정 대리인의 동의를 얻기 위해 갑의 부모에게 전화를 걸었다. 여러 번 전화를 했지만, 갑의 부모가 전화를 받지 않자 휴대 전화에 한 달 이내에 계약을 취소할지의 여부를 결정하여 알려 달라고 촉구하는 문자 메시지를 남겼다. 갑의 부모는 문자 메시지를 보자마자 갑에게 을과 체결한 계약을 취소하면 좋겠다고 말하였으나, 을에게 특별한 조치를 취하지는 않았다. ㉠ 한 달이 지난 다음, 갑이 계속 휴대 전화를 사용하는 것을 발견한 갑의 부모는 을과의 매매 계약을 취소하고자 한다.

- ① 갑의 부모는 ㉠의 상황에서 갑이 미성년자라는 이유로 을에게 계약의 무효를 주장할 수 있다.
- ② 갑의 부모가 갑에게 취소의 의사 표시를 하였으므로 을과 체결한 계약은 소급하여 무효가 된다.
- ③ 갑의 부모는 을에게 일정 기간 내 계약 취소 여부에 대한 응답을 하지 않았으므로 갑이 체결한 계약을 취소할 수 없다.
- ④ 갑의 부모가 을에게 계약 취소의 의사 표시를 하기 전에 을은 갑의 부모에게 계약 체결의 의사 표시를 철회할 수 없다.
- ⑤ 을이 갑에게는 계약 취소 여부에 대한 응답을 촉구하지 않았으므로 갑은 미성년자라는 이유로 을과 체결한 계약을 취소할 수 있다.

▶ 9058-0226

8 표는 정치 참여 집단 A~C를 질문 (가)~(다)에 따라 구분한 것이다. 이에 대한 설명으로 옳은 것은? (단, A~C는 각각 정당, 이익 집단, 시민 단체 중 하나이다.)



- ① (가)에 “정치적 책임을 지는가?”가 들어가면, B와 C는 모두 공익의 실현을 목적으로 한다.
- ② (나)에 “정부와 국민, 정부와 의회를 이어 주는 교량적 역할을 담당하는가?”가 들어갈 수 있다.
- ③ (다)에 “대의 민주주의의 한계를 보완하기 위해 등장하였는가?”가 들어가면, B는 정권 획득을 목적으로 한다.
- ④ B가 이익 집단이고 C가 시민 단체라면, (가)에 “국민의 정치의식을 향상시키는 데 기여하는가?”가 들어갈 수 있다.
- ⑤ A가 정당이고 B가 시민 단체라면, (다)에 “공직 선거에 후보자를 공천하는가?”가 들어갈 수 있다.



### 9 국제 사회를 바라보는 관점 A, B에 대한 옳은 설명만을 <보기>에서 있는 대로 고른 것은?

국제기구가 국제 사회의 안정과 평화에 긍정적이고 건설적인 역할을 할 수 있다는 가정에서 출발하는 A와 달리 B는 국제기구가 패권국이나 강대국의 이익을 대변한다고 본다. B는 국제기구가 크게 논쟁적이지 않은 분야에서 미미하게 협력을 증진할 수 있지만, 이해관계가 대치하고 있는 분야에서는 패권 국가나 강대국의 행위를 거의 통제할 수 없기 때문에 국제 평화와 안보를 유지하는 데 제 역할을 할 수 없다고 주장한다. 이에 반해 A는 국제기구가 국가 간 극단적인 충돌이 발생할 상황에 처했을 때 중재자가 되어 문제 해결에 도움을 줄 수 있다고 본다.

#### 보기

- ㄱ. A는 국제 사회에서 국가 간 상호 의존적 관계를 간과한다.
- ㄴ. B는 국제 사회에서 다른 나라의 배려나 양보를 기대하는 것이 어렵다고 본다.
- ㄷ. A와 달리 B는 국가 안보는 국가 간 세력 균형을 통해 잠재적인 공격자를 저지할 수 있는 조건이 형성될 때 가능하다고 본다.
- ㄹ. B와 달리 A는 국제 사회에는 이성과 보편적 윤리가 적용되므로 국제기구를 통해 규범적 질서 유지가 가능하다고 본다.

- ① ㄱ, ㄴ                      ② ㄱ, ㄷ                      ③ ㄷ, ㄹ
- ④ ㄱ, ㄴ, ㄹ                ⑤ ㄴ, ㄷ, ㄹ

### 10 다음 사례에 대한 옳은 법적 판단을 <보기>에서 고른 것은? [3점]

평상시에 정상적으로 생활하는 갑(19세)은 술만 마시면 정신을 잃고 자신도 모르게 물건을 훔치는 나쁜 버릇이 있다. 친구의 생일 파티에 참석한 갑은 술을 마시다 정신을 잃게 되었는데, 다음 날 일어나 보니 자신의 가방에 친구의 지갑이 들어 있었다. 기억을 되살리려 노력하던 갑은 어제도 술에 취해 ㉠ 친구의 지갑을 훔친 것을 깨닫게 되었고, ㉡ 친구에게 사과하고 이를 돌려주었다. 자신에게 나쁜 버릇이 있다는 것을 알고 있었던 갑은 며칠 후 평상시 갖고 싶었던 오토바이를 훔치기 위해 일부러 술을 마시고 만취 상태에서 ㉢ 오토바이를 훔치는 데 성공하였다.

#### 보기

- ㄱ. ㉠의 시점에 갑에게 고의와 사물을 변별할 능력이 인정되는 경우 범죄가 성립할 수 있다.
- ㄴ. ㉠은 구성 요건에 해당하는 행위이지만 ㉡으로 인해 위법성이 조각되어 범죄가 성립하지 않는다.
- ㄷ. ㉢은 갑이 심신 상실 상태에서 저지른 행위이지만 갑의 도적으로 심신 상실 상태를 야기한 경우에는 범죄가 성립될 수 있다.
- ㄹ. ㉠, ㉢은 모두 갑이 심신 장애 상태에서 저지른 행위이므로 법원은 갑에게 형벌이나 치료 감호 처분을 부과할 수 없다.

- ① ㄱ, ㄴ                      ② ㄱ, ㄷ                      ③ ㄴ, ㄷ                      ④ ㄴ, ㄹ                      ⑤ ㄷ, ㄹ

### 11 다음 사례에 대한 법적 판단으로 옳은 것은? [3점]

밤늦게 퇴근하던 중 갑은 을(18세)과 병(16세)이 길가에 세워 둔 정(23세)의 오토바이를 훔치는 것을 목격하고 도망가던 을과 병을 체포한 후 인근에서 순찰 중인 경찰관에게 인계하였다. 경찰은 을과 병을 구속 수사한 후 사건을 검찰에 송치하였고, 담당 검사는 을과 병의 품행, 경력, 생활 환경 등을 조사해 줄 것을 해당 검찰청 소재지를 담당하는 보호 관찰소장에 의뢰한 후, 조사 결과를 토대로 병을 가정(지방) 법원 소년부에 송치하고, 을을 특수 절도 혐의로 기소하였다.

- ① 갑이 을과 병을 체포한 행위는 구성 요건에 해당하지 않는다.
- ② 을은 구속된 상태에서 기소되었으므로 공판 절차에서 법원에 구속 적부 심사를 청구할 수 있다.
- ③ 을이 법원에서 징역 1년에 집행 유예 2년을 선고받으면 2년 경과 후 즉시 면소된 것으로 간주된다.
- ④ 법원 소년부에서 병에 대해 소년법상 보호 처분을 결정하면 병은 이에 불복하여 상급 법원에 항고할 수 있다.
- ⑤ 법원에서 을에 대한 유죄 판결이 확정되면, 정은 을에게 범죄 피해 배상을 위해 일정 한도의 구조금 지급을 청구할 수 있다.

### 12 그림의 (가)에 들어갈 옳은 법적 조언을 <보기>에서 고른 것은?

저는 사업자인 갑과 합의하고, 근무일에 휴게 시간을 보장받지 못한 채 계약 기간 내내 하루 9시간씩 결근하지 않고 일을 했습니다. 그런데 갑이 시급을 9,000원으로 계산하고 휴일은 모두 무급으로 한 후 임금을 지급하였어요. 법적으로 문제가 없나요?

(가)



<근로 계약서>  
 갑(사업자)과 을(근로자, 25세)은 다음과 같이 근로 계약을 체결한다.  
 1. 계약 기간 : 2019년 3월 7일부터 4월 3일까지  
 2. 근로 시간 : 09시~18시 (휴게 시간 : 13시~14시)  
 3. 근무일/휴일 : 매주 목요일부터 월요일까지(휴일 : 매주 화요일, 수요일)  
 4. 임금 : 시급 9,000원(연장 근로 시 임금의 50%를 연장 근로 수당으로 지급)  
 5. 업무 내용 : ○○마트 제품 진열 및 포장

\* 근로 기준법상 연장 근로 시간은 1주간 12시간 이내이며, 이에 대한 예외 규정은 고려하지 않는다.

#### 보기

- ㄱ. 갑의 부당 노동 행위를 이유로 노동 위원회에 구제 신청을 할 수 있어요.
- ㄴ. 근무일에 개근하였으므로 유급 휴일에 대한 임금을 추가로 갑에게 요구할 수 있어요.
- ㄷ. 근로 계약서에 기재된 을의 1일 근로 시간은 9시간이므로, 갑의 하루 임금 계산에는 문제가 없어요.
- ㄹ. 매일 1시간씩 연장 근로를 하였으므로, 갑에게 하루 임금으로 81,000원 이상을 요구할 수 있어요.

- ① ㄱ, ㄴ                      ② ㄱ, ㄷ                      ③ ㄴ, ㄷ                      ④ ㄴ, ㄹ                      ⑤ ㄷ, ㄹ



▶ 9058-0231

▶ 9058-0233

### 13 다음 자료에 대한 분석으로 옳은 것은? [3점]

지역구 의원으로만 구성된 갑국의 의회는 4개의 선거구(가~라)에서 각 선거구별로 동일하게 2명의 의원을 득표순으로 선출한다. 갑국은 아래 표의 최근 실시한 의회 의원 선거 시 각 선거구의 정당 후보별 득표율을 근거로 다음과 같은 선거 제도 개편안을 논의하고 있다.

(단위 : %)

정당 후보 \ 선거구	가	나	다	라
A당 후보	20	25	35	50
B당 후보	40	20	15	25
C당 후보	30	50	30	10
D당 후보	10	5	20	15

의회 전체 의석수를 현재의 1.5배로 하고 한 정당이 지역구 선거에서 지역구 전체 의석의 과반을 확보할 가능성이 있는 선거구제로 개편한다. 이와 함께 비례 대표제를 도입하여 전체 의석에서 지역구 의석을 제외한 남은 의석을 배분한다.

\* 비례 대표제 적용 시, 비례 대표 총 의석수에 각 정당의 지역구 후보들이 선거구 전체에서 얻은 득표율을 곱하여 산출된 수의 정수(整数)만큼 각 정당에 의석을 먼저 배분하고, 잔여 의석은 소수점 이하 수가 큰 순서대로 각 정당에 1석씩 배분한다.

\*\* 지역구 의원 선거에서 각 정당은 선거구별로 한 명의 후보자만 공천하며, 유권자는 자신이 지지하는 정당의 지역구 후보 중 한 명에게만 투표한다.

\*\*\* 모든 선거구에서 유권자 수는 동일하며, 투표율은 100%이고 무효표는 없다.

- ① 최근 선거 결과 '다' 선거구에서 사표가 가장 적게 나타났다.
- ② 선거 제도를 개편할 경우 A당과 B당은 모두 과대 대표된다.
- ③ 선거 제도 개편 전과 달리 개편할 경우, B당과 C당의 의석수는 동석이 된다.
- ④ 선거 제도 개편 전과 달리 개편할 경우, C당은 득표율과 의석률의 불일치 정도가 늘어난다.
- ⑤ A~D당 모두 현행 선거 제도보다 선거 제도를 개편할 경우 의석수 확보에 유리해진다.

▶ 9058-0232

### 14 A와 달리 B에 해당하는 법 영역에 대한 설명으로 옳은 것은?

근대 시민 사회에서 개인과 개인 간의 생활관계는  (으)로만 규율되었다. 하지만 사회적 강자와 약자 사이에 나타나는 불균형을 시정하기 위해 국가가 사적 영역에 개입할 필요성이 제기 되었고,  이/가 새로운 법 영역으로 등장하게 되었다.

- ① 형식적 평등을 실현하기 위한 법 영역에 해당한다.
- ② 공법과 사법의 중간 영역에 해당하는 제3의 법 영역이다.
- ③ 무과실 책임의 원칙과 사유 재산권 존중의 원칙이 적용된다.
- ④ 국가 권력으로부터 사회·경제적 약자를 보호하기 위해 등장하였다.
- ⑤ 법률 관계 형성을 개인의 자유로운 의사에 맡겨야 한다는 원칙을 인정한다.

### 15 국제법의 법원(法源) A, B에 대한 설명으로 옳은 것은? (단, A, B는 각각 조약과 국제 관습법 중 하나에 해당한다.)

국제법의 다양한 법원(法源) 중에서도  와/과  이/가 양대 법원을 형성한다는 점은 국제 사회에서 널리 인정되어 왔다. 그러나 제2차 세계 대전 이후 신생 독립국들은  이/가  에 비해 훨씬 더 명확하고 안정성이 있어 국제 사회의 규범 체계의 형성에 적합하다고 생각하고  의 법적 구속력을 인정하지 않으려고 하였다. 그러나  이/가 원칙적으로 체결 당사자만을 구속한다는 한계를 가진 데 반해,  은/는 별도의 체결 절차 없이 원칙적으로 국제 사회의 모든 국가에 대해 포괄적 구속력을 가지고 있어 현행 국제법 체계에서 여전히 중요한 위치를 차지한다고 할 수 있다.

- ① A는 우리나라에서 헌법과 같은 효력을 가진다.
- ② 우리나라에서 B는 대통령이 체결하고 국회가 비준한다.
- ③ A와 달리 B는 입법부와 같은 권위적인 제정 기구에 의해 만들어진다.
- ④ B와 달리 A가 성립되기 위해서는 국제 사회의 일반적 관행과 법적 확신이 있어야 한다.
- ⑤ A, B는 모두 우리나라에서 국회의 동의가 있어야 국내법적 효력을 가지게 된다.

▶ 9058-0234

### 16 다음 사례에 대한 법적 판단으로 옳은 것은? [3점]

갑(남)은 을(여)과 혼인하였는데 아이가 없어 병의 아들 A(2세)를 합법적으로 친양자가 아닌 양자로 입양하였다. 결혼 생활 내 성격 차이로 어려움을 겪던 갑과 을은 결혼 3년 만에 이혼을 하게 되었고, 을이 A에 대한 양육권과 친권을 가지기로 합의하였다. 그 후 을은 A를 데리고 사별한 정(남)과 재혼을 하였고, 합법적인 절차를 거쳐 정의 딸 B(8세)를 친양자로 입양하였다. 을과 정은 함께 여행을 떠났다가 교통사고로 둘 다 사망하였다. 사망 후 "모든 재산을 ○○ 재단에 기부한다."는 취지의 정의 유언장이 발견되었다. 사망 당시 정의 전 재산은 35억 원이며, 을의 전 재산은 7억 원이고, 둘 다 채무는 없었다.

\* 위 사례의 혼인은 모두 법률혼이다.

- ① A는 입양으로 갑과 을의 친생자와 같은 지위를 가지게 되므로, 병과의 친족 관계는 종료된다.
- ② 정의 유언이 유효한 경우, ○○ 재단은 최소 35억 원을 받을 수 있다.
- ③ 정의 유언이 유효한 경우, A, B는 모두 ○○ 재단에 유류분의 반환을 청구할 수 있다.
- ④ 정의 유언이 무효이고 정의 사망 후 을이 사망한 경우, A는 28억 원을 상속받는다.
- ⑤ 정의 유언이 무효이고 을의 사망 후 정의 사망한 경우, B는 40억 원을 상속받는다.





### 17 다음 사례에 대한 옳은 법적 판단을 <보기>에서 고른 것은?

갑은 임대차 기간을 2년으로 하고 보증금 2억 원에 A 주택을 임차하는 계약을 2017년 1월 9일에 을과 체결하였다. 갑은 2017년 2월 1일에 A 주택을 인도받아 전입 신고를 마치고, 다음 날 확정 일자를 받았다. 갑은 임대차 기간이 만료되기 1개월 전 A 주택의 등기사항 전부 증명서에서 아래의 내용을 확인하였다.

【갑 구】				
순위 번호	등기 목적	접수	등기 원인	권리자 및 기타 사항
1	소유권 보존	2010년 7월 19일 제○○○호		소유자 을 (이하 생략)
2	소유권 이전	2017년 2월 20일 제○○○호	2017년 1월 20일 매매	소유자 병 (이하 생략)

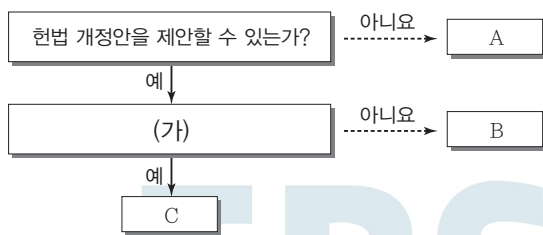
【을 구】				
순위 번호	등기 목적	접수	등기 원인	권리자 및 기타 사항
1	저당권 설정	2017년 2월 28일 제○○○호	2017년 2월 27일 설정계약	채권액 금300,000,000원 채무자 병 (이하 생략) 저당권자 정 (이하 생략)

#### 보기

- ㄱ. 갑은 2017년 2월 1일에 주택 임대차 보호법상의 우선 변제권을 취득한다.
- ㄴ. 갑과 병이 별도로 임대차 계약을 체결하지 않아도 갑은 남은 기간 동안 A 주택에 거주할 수 있다.
- ㄷ. 정은 저당권이 A 주택에 등기되어 있으므로 정은 병뿐만 아니라 갑과도 채권·채무 관계가 발생한다.
- ㄹ. 병이 정에게 채무를 전혀 갚지 않아 저당권이 실행되어 경매에서 A 주택이 3억 원에 매각된 경우, 정은 매각 대금에서 채권액 중 일부만 변제받을 수 있다.

- ① ㄱ, ㄴ    ② ㄱ, ㄷ    ③ ㄴ, ㄷ    ④ ㄴ, ㄹ    ⑤ ㄷ, ㄹ

### 18 그림에 대한 설명으로 옳은 것은? (단, A~C는 각각 대통령, 국회, 대법원 중 하나에 해당한다.) [3점]



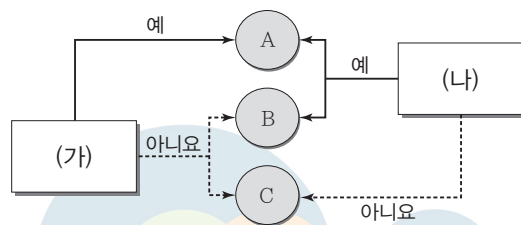
- ① A의 장은 대법관과 일반 법관에 대한 임명권을 가진다.
- ② (가)에 “국가 예산안을 심의·확정할 수 있는 권한을 가지는가?”가 들어가면, C는 정당 해산 심판 제소권을 가진다.
- ③ (가)에 “국무 위원의 해임을 건의할 수 있는가?”가 들어가면, B는 헌법 재판소 재판관 9인에 대한 임명권을 가진다.
- ④ (가)에 “조약의 체결·비준권을 가지는가?”가 들어가면, B는 A의 장이 헌법에 위반하여 직무를 집행한 경우 탄핵을 의결할 수 있다.
- ⑤ (가)에 “국가 안위에 관한 중요 정책에 대한 국민 투표 부의권을 가지는가?”가 들어가면, B는 위헌 법률 심판 제청권을 통해 C를 견제한다.

### 19 다음 사례에 대한 법적 판단으로 옳은 것은? [3점]

갑은 자신이 소유한 상가 건물에서 치킨 가게를 운영하고 있다. 갑은 손님이 많아지자 을(17세)과 병(19세)을 시간제로 고용하고 을은 가게에서 주문을 받고 병은 오토바이로 배달을 하도록 하였다. 을이 A로부터 치킨 5마리를 주문받고 병이 이를 배달 하러 나간 사이 주문이 폭주하였고, 을은 급한 마음에 갑의 허락을 받지 않고 치킨 배달을 가게 되었다. 을은 배달을 마치고 돌아오던 중 가게 앞을 지나가던 행인 B를 치어 3개월 정도 치료를 요하는 부상을 입혔다. 한편, 병은 A의 주소를 잘못 기재한 때문에 제대로 배달을 하지 못한 채 가게로 돌아왔다.

- ① 갑은 상가 건물 소유자이므로 공작물 소유자로서 B에게 특수 불법 행위 책임을 진다.
- ② 병이 고의로 A에게 배달을 하지 못한 것이 아니므로 갑은 A에게 채무 불이행 책임을 지지 않는다.
- ③ 을의 행위에 대해 업무 관련성이 인정되어도 갑은 B에게 특수 불법 행위 책임을 지지 않는다.
- ④ 을이 B에 대해 일반 불법 행위 책임을 지는 경우, 을의 부모는 B에게 특수 불법 행위 책임을 지지 않는다.
- ⑤ 갑, 을, 병이 A에게 공동 불법 행위자의 책임을 지므로 갑, 을, 병은 연대하여 A에게 손해 배상을 해야 한다.

### 20 그림은 국제 연합의 주요 기관 A~C를 질문에 따라 구분한 것이다. 이에 대한 옳은 설명을 <보기>에서 고른 것은? (단, A~C는 각각 총회, 안전 보장 이사회, 국제 사법 재판소 중 하나에 해당한다.)



#### 보기

- ㄱ. (가)에 “국제 연합의 최고 의결 기관에 해당하는가?”가 들어가면, A는 총회에 해당한다.
- ㄴ. (가)에 “원칙적으로 관할권을 승인한 국가들 간의 분쟁에 대해 국제법에 따른 판결을 내릴 수 있는가?”가 들어가면, B와 C는 A의 재판관을 선출하는 권한을 가진다.
- ㄷ. (나)에 “주권 평등의 원칙에 기초하여 국제 연합의 모든 회원국으로 구성되어 있는가?”가 들어갈 수 있다.
- ㄹ. (가)에는 “표결 방식에 강대국의 힘의 원리가 반영되어 있는가?”가 들어가고 (나)에는 “판결에 불복하는 당사국에 직접 제재를 가할 수 있는가?”가 들어갈 수 있다.

- ① ㄱ, ㄴ    ② ㄱ, ㄷ    ③ ㄴ, ㄷ    ④ ㄴ, ㄹ    ⑤ ㄷ, ㄹ

문항에 따라 배점이 다르니, 각 물음의 끝에 표시된 배점을 참고 하시오. 3점 문항에만 점수가 표시되어 있습니다. 점수 표시가 없 는 문항은 모두 2점입니다.

▶ 9058-0239

**1** 근대 사회 계약론자 A~C에 대한 설명으로 옳은 것은? (단, A~C는 각각 홉스, 로크, 루소 중 하나이다.)

- “주권이 국민에게 있습니까?”라는 질문으로 A, B를 구분할 수 있다.
- “이권 분립을 주장합니까?”라는 질문으로 B, C를 구분할 수 없다.

- ① A는 자연 상태를 만인에 대한 만인의 투쟁 상태로 본다.
- ② B는 왕권 신수설에 입각한 전제 군주제를 강조한다.
- ③ C는 자연권을 침해한 정부에 대한 저항권을 인정한다.
- ④ A와 달리 B는 국가를 목적이 아닌 수단으로 본다.
- ⑤ B와 달리 C는 일반 의지에 근거한 정치 공동체의 구성을 주장하였다.

▶ 9058-0240

**2** 법치주의 유형 A, B에 대한 옳은 설명을 <보기>에서 고른 것은?

법치주의는 인의 지배가 아닌 법의 지배를 의미하며, 법치주의의 유형에는 A, B가 있다. A는 법의 목적이나 내용에 관계없이 통치의 합법성만을 강조하는 B와 달리 법의 목적이나 내용도 인간의 존엄성이나 실질적 평등에 부합하는 법에 의해 통치가 이루어져야 한다고 본다.

**보기**

- ㄱ. 위헌 법률 심판 제도는 A가 아닌 B의 실현을 위한 대표적인 제도이다.
- ㄴ. A와 달리 B는 독재 정치를 정당화하는 논리로 악용되기도 하였다.
- ㄷ. B와 달리 A는 통치의 합법성보다 정당성을 중시한다.
- ㄹ. A, B는 모두 국민의 기본권을 제한하는 경우에는 법에 근거 해야 한다고 본다.

- ① ㄱ, ㄴ    ② ㄱ, ㄷ    ③ ㄴ, ㄷ    ④ ㄴ, ㄹ    ⑤ ㄷ, ㄹ

▶ 9058-0241

**3** 다음 자료에 대한 설명으로 옳은 것은? (단, 갑국과 을국은 전 형적인 정부 형태를 채택하고 있다.) [3점]

갑국은 의회 의원과 행정부 수반을 선출하는 선거를 각각 시행 하는 반면 을국은 의회 의원 선거만 실시하고 행정부 수반은 의 회에서 선출된다.

구분	행정부 수반 소속 정당과 의회 의석 과반수 정당 일치 여부 또는 의회 의석 과반수 정당 존재 여부	
	갑국	을국
t기	일치	의회 의석 과반수 정당 없음
t+1기	불일치	일치

- ① t기에 갑국에서는 여소야대 현상이 나타났다.
- ② t기와 달리 t+1기에 을국에서는 연립 정부가 구성되었다.
- ③ t기에 비해 t+1기에 갑국에서는 행정부 수반의 법률안 거 부권 행사 가능성이 높다.
- ④ 갑국에서는 을국에서와 달리 의회의 내각 불신임권 행사 가 가능하다.
- ⑤ 갑국과 을국 모두에서 행정부의 법률안 제출이 가능하다.

▶ 9058-0242

**4** 정치 참여 집단 A~C에 대한 설명으로 옳은 것은? (단, A~C는 각각 시민 단체, 이익 집단, 정당 중 하나에 해당하는 집 단이다.) [3점]



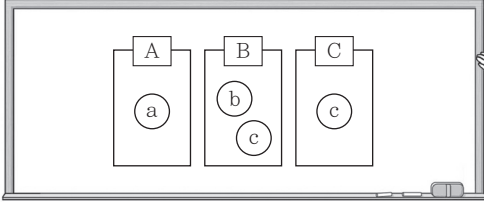
- ① A는 B와 달리 정치 사회화 기능을 한다.
- ② B는 C와 달리 여론을 형성하고 조직한다.
- ③ A는 B, C와 달리 자신들의 행위에 대한 정치적 책임을 진다.
- ④ C는 A, B와 달리 집단의 특수 이익보다 공익을 우선시한다.
- ⑤ A~C 모두 정부와 의회를 매개하는 역할을 한다.



▶ 9058-0243

### 5 그림에서 ㉠~㉢에 해당하는 내용을 <보기>에서 골라 바르게 연결한 것은?

㉠~㉢은 기본권 A~C의 특징에 해당합니다. ㉢은 B, C의 공통적인 특징입니다. 단, A는 역사적으로 가장 오래된 기본권이고, B는 수단적 권리이며, C는 인간다운 생활의 보장을 국가에 요구할 수 있는 권리입니다.



#### 보기

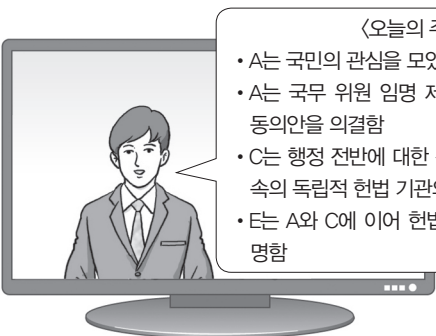
- ㄱ. 기본권 보장을 위한 기본권이다.
- ㄴ. 주권자로서 정치에 참여할 수 있는 권리이다.
- ㄷ. 국가의 존재를 전제로 하는 적극적 권리이다.
- ㄹ. 헌법에 열거되지 않아도 보장받는 포괄적 권리이다.

- |   |   |   |   |
|---|---|---|---|
|   | ㉠ | ㉡ | ㉢ |
| ① | ㄴ | ㄱ | ㄷ |
| ② | ㄷ | ㄱ | ㄹ |
| ③ | ㄷ | ㄴ | ㄹ |
| ④ | ㄹ | ㄱ | ㄷ |
| ⑤ | ㄹ | ㄷ | ㄱ |



▶ 9058-0244

### 6 우리나라 국가 기관 A~E에 대한 옳은 설명을 <보기>에서 고른 것은? [3점]



#### <오늘의 주요 뉴스>

- A는 국민의 관심을 모았던 ○○법률안을 의결함
- A는 국무 위원 임명 제청권자인 B에 대한 임명 동의안을 의결함
- C는 행정 전반에 대한 감시 및 감독을 하는 C 직속의 독립적 헌법 기관의 장인 D를 임명함
- E는 A와 C에 이어 헌법 재판소 재판관 1인을 지명함

#### 보기

- ㄱ. ○○법률안이 A에서 의결되기 위해서는 재적 의원 과반수의 찬성이 필요하다.
- ㄴ. B는 우리나라 정부 형태의 의원 내각제적 요소에 해당한다.
- ㄷ. D, E를 C가 임명하기 위해서는 A의 동의를 얻어야 한다.
- ㄹ. E는 대법관을 포함한 법관을 임명한다.

- ① ㄱ, ㄴ    ② ㄱ, ㄷ    ③ ㄴ, ㄷ    ④ ㄴ, ㄹ    ⑤ ㄷ, ㄹ

▶ 9058-0245

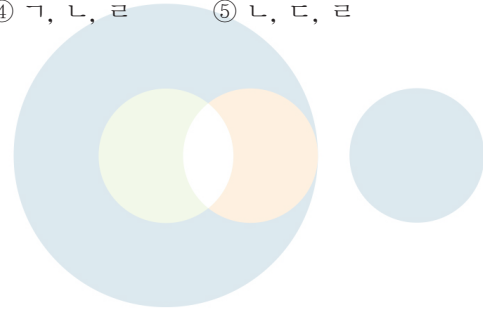
### 7 다음은 우리나라 헌법의 기본 원리 A를 정리한 것이다. 이에 대한 옳은 설명만을 <보기>에서 있는 대로 고른 것은?

1. 의미 : \_\_\_\_\_ (가)
2. 관련 규정
  - 대한민국은 민주 공화국이다.
  - 대한민국의 주권은 국민에게 있고, 모든 권력은 국민으로부터 나온다.
3. 실현 방안 : \_\_\_\_\_ (나)

#### 보기

- ㄱ. A는 국가 권력 행사의 한계와 정책 결정의 방향을 제시한다.
- ㄴ. A는 사회 문제 해결을 위한 국가의 적극적인 개입을 강조한다.
- ㄷ. (가)에는 '문화의 자율성을 인정하면서 국가가 문화를 보호하고 발전시켜야 한다는 원리'가 들어갈 수 있다.
- ㄹ. (나)에는 '언론·출판·집회·결사의 자유 보장'이 들어갈 수 있다.

- ① ㄱ, ㄷ                    ② ㄱ, ㄹ                    ③ ㄴ, ㄷ  
 ④ ㄱ, ㄴ, ㄹ                ⑤ ㄴ, ㄷ, ㄹ



▶ 9058-0246

### 8 자료는 헌법 재판소의 권한 중 A~C를 나타낸 것이다. 이에 대한 옳은 설명을 <보기>에서 고른 것은? (단, A~C는 각각 권리구제형 헌법 소원 심판, 위헌 심사형 헌법 소원 심판, 위헌 법률 심판 중 하나이다.) [3점]

구분	A	B	C
법률 위반 여부가 재판의 전제가 되었습니까?	예	아니요	예
국민이 직접 청구하니까?	예	예	아니요
(가)	아니요	아니요	예

#### 보기

- ㄱ. (가)에 “법원의 판결에 대해 청구할 수 있습니까?”가 들어갈 수 있다.
- ㄴ. B는 공권력의 행사 또는 불행사로 헌법상 보장된 기본권을 침해당한 국민이 청구하는 것이다.
- ㄷ. C는 당사자의 신청 없이 법원이 직권으로 제청할 수 있다.
- ㄹ. B와 달리 A에서는 법률의 위헌 여부를 심판한다.

- ① ㄱ, ㄴ    ② ㄱ, ㄷ    ③ ㄴ, ㄷ    ④ ㄴ, ㄹ    ⑤ ㄷ, ㄹ



▶ 9058-0247

▶ 9058-0249

9 다음 사례에 대한 옳은 법적 판단을 <보기>에서 고른 것은?

- 갑(8세)은 아파트 옥상에서 돌을 던져 지나가던 A에게 전치 6주의 상해를 입혔다. 이에 대해 A는 손해 배상 청구 소송을 제기하였고, 법원은 [가]에게 A의 손해에 대한 배상을 하라고 판결하였다.
- 대학생 을(18세)은 골목길을 지나가던 B가 자신의 어깨를 치고 갔다는 이유로 B를 폭행하여 전치 8주의 상해를 입혔다. 이에 대해 B는 손해 배상 청구 소송을 제기하였고, 법원은 [나]에게 B의 손해에 대한 배상을 하라고 판결하였다.

보기

- ㄱ. 가에는 갑의 부모가 들어갈 수 있다.
- ㄴ. 나에는 을이 들어갈 수 없다.
- ㄷ. A가 제기한 손해 배상 청구 소송에서 갑은 피고가 될 수 없다.
- ㄹ. B가 제기한 소송에서 법원은 을의 부모에게 특수 불법 행위 책임을 물을 수 있다.

- ① ㄱ, ㄴ    ② ㄱ, ㄷ    ③ ㄴ, ㄷ    ④ ㄴ, ㄹ    ⑤ ㄷ, ㄹ

11 밑줄 친 ㉠~㉣에 대한 법적 판단으로 옳은 것은? [3점]

갑은 을 소유의 A 주택에 대해 보증금 2억 원, 계약 기간 2년의 주택 임대차 계약을 을과 체결하였다. 갑은 잔금을 을에게 지급하고 A 주택을 ㉠ 인도 후 전입 신고를 하고 ㉡ 확정 일자를 받았다. 한 달 후 을은 ㉢ ○○은행에 저당권을 설정해 주고 1억 원을 빌렸다. 두 달 후 을은 사정이 생겨 병에게 ㉣ A 주택을 매도하기로 하는 계약을 병과 체결하였고, 병은 ㉤ 잔금을 지급하고 ㉥ A 주택에 대한 소유권 이전 등기를 하였다.

- ① ㉠ 없이 ㉡을 받기만 하면 갑은 우선 변제권을 갖는다.
- ② ㉢의 내용은 A 주택의 등기부 갑구에 기재된다.
- ③ ㉣에서 잔금 지급 이전에는 매도인, 매수인 모두 해약금을 지급하고 일방적으로 계약을 해제할 수 있다.
- ④ ㉤의 시점이 아니라 ㉥의 시점에서 병은 A 주택의 소유권을 갖는다.
- ⑤ ㉥에도 불구하고 갑은 병에게 남은 계약 기간 거주를 주장할 수 있다.

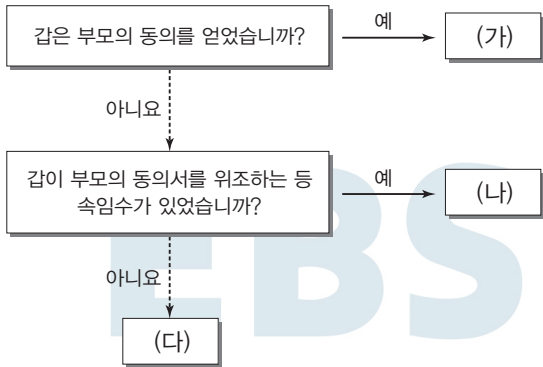


▶ 9058-0248

▶ 9058-0250

10 자료에 대한 법적 판단으로 옳은 것은? [3점]

갑(17세)은 고가의 자전거를 자전거 판매업자 을로부터 구입하였으며, 을은 계약 당시 갑이 미성년자임을 알고 있었다.



- ① 나)의 경우 갑은 자전거 매매 계약을 취소할 수 있다.
- ② 다)의 경우 을은 갑에게 확답을 촉구할 권리가 있다.
- ③ 다)의 경우 갑이 자전거 매매 계약을 취소할 경우 부모의 동의를 얻어야 한다.
- ④ 가)와 달리 다)의 경우 을은 철회권을 행사할 수 있다.
- ⑤ 가), 나)의 경우 모두 갑의 부모는 자전거 매매 계약을 취소할 수 없다.

12 다음 사례에 대한 법적 판단으로 옳은 것은? [3점]

갑과 을은 법률혼 관계에서 자녀 A를 낳았고, B를 친양자가 아닌 양자로 입양하였다. 병과 정은 혼인 신고를 하지 않은 상태에서 C를 낳았고, 병은 C를 인지하지 않았다. 갑은 회사에 다니던 갑과 병은 출장을 가다가 교통사고로 사망하였다. 갑과 병은 모두 노모를 모시고 살며, 갑은 “모든 재산을 B에게 물려준다.”라는 내용의 유언장을 남겼으나, 병은 유언을 남기지 않았다. 갑, 병 모두 채무 없이 재산을 남겼다.

\* 주어진 조건 이외에는 고려하지 않는다.

- ① B는 입양 당시 양부모의 성과 본을 따라야 했을 것이다.
- ② 갑의 유언장이 효력이 있는 경우 유류분 반환 청구를 위한 법정 상속분 산정 시 B는 법정 상속권자가 아니므로 고려하지 않는다.
- ③ 갑의 유언장이 효력이 없는 경우 갑의 노모는 A와 동일한 상속액을 받는다.
- ④ 병의 상속 재산에 대해서는 병의 노모가 단독으로 상속받는다.
- ⑤ 병이 C를 인지했다면 정과 C가 공동 상속인이 된다.



▶ 9058-0251

### 13 그림에 대한 법적 판단으로 옳은 것은?



- ① A는 피의자, B는 피고인이다.
- ② 갑의 판단에 따라 A는 형사 보상을 청구할 수 있다.
- ③ 검사와 달리 갑은 A에 대한 수사가 필요 없다고 본다.
- ④ 을의 판단에 따라 B는 기소된다.
- ⑤ 갑의 판단에 따라 A는 구속되지 않지만 을의 판단에 따라 B는 구속이 계속된다.

▶ 9058-0253

### 15 (가)~(라)는 갑에 대한 형사 절차를 순서대로 나타낸 것이 다. 이에 대한 옳은 법적 판단을 <보기>에서 고른 것은?



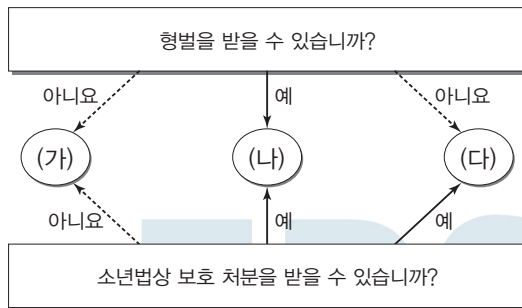
#### 보기

- ㄱ. (가)에서 갑이 자신의 죄를 인정하였으므로 갑에게는 무죄 추정의 원칙이 적용되지 않는다.
- ㄴ. (나)로 인해 (다)에서 피해자는 원고, 갑은 피고인이 된다.
- ㄷ. (다)에서 갑의 사기죄 혐의에 대한 증명은 검사가 해야 한다.
- ㄹ. (라)의 판결이 확정될 경우 갑에게 가석방 제도가 적용될 수 없다.

- ① ㄱ, ㄴ    ② ㄱ, ㄷ    ③ ㄴ, ㄷ    ④ ㄴ, ㄹ    ⑤ ㄷ, ㄹ

▶ 9058-0252

### 14 그림의 (가)~(다) 사례에 대한 설명으로 옳은 것은? [3점]



- ① '갑(10세)이 편의점에서 물건을 훔친 경우'는 (가)에 해당하는 사례이다.
- ② '을(17세)이 학교에서 다른 학생을 폭행한 경우'는 (나)에 해당하는 사례이다.
- ③ '심신 상실자 병(25세)이 지나가는 사람을 폭행한 경우'는 (다)에 해당하는 사례이다.
- ④ (나)에 해당하는 사례의 소년에 대해 형벌과 소년법상 보호 처분을 동시에 부과할 수 있다.
- ⑤ (다)에 해당하는 사례의 소년에 대해 선도 조건부 기소 유예 처분을 부과할 수 있다.

▶ 9058-0254

### 16 다음 사례에 대한 옳은 법적 판단만을 <보기>에서 있는 대로 고른 것은? [3점]

회사 입사 동기인 갑과 을은 최근에 ○○회사로부터 해고를 당하였다. 갑은 ○○회사 노동조합 활동을 적극적으로 하였다는 이유로 ○○회사로부터 해고를 당하였고, 을은 회사 정리 해고 시 여성이라는 이유만으로 해고를 당하였다. 이에 갑과 을은 해고와 관련한 구제 절차를 거치기로 하였다.

#### 보기

- ㄱ. 갑은 노동 위원회에 구제를 신청할 수 있다.
- ㄴ. 갑은 ○○회사를 상대로 하여 행정 소송을 제기하여 구제를 받을 수 있다.
- ㄷ. 을은 노동 위원회의 구제 절차를 거친 후에야 해고 무효 확인 소송을 제기할 수 있다.
- ㄹ. 을의 해고와 달리 갑의 해고에 대해 ○○회사 노동조합이 노동 위원회에 구제 신청을 할 수 있다.

- ① ㄱ, ㄴ    ② ㄱ, ㄹ    ③ ㄴ, ㄷ
- ④ ㄱ, ㄷ, ㄹ    ⑤ ㄴ, ㄷ, ㄹ



▶ 9058-0255

**17** 다음 자료에 대한 옳은 설명을 <보기>에서 고른 것은? (단, (가), (나)는 각각 국제 연합의 주요 기관인 안전 보장 이사회, 총회 중 하나이다.)

○○국 정부군의 □□민족을 상대로 한 군사 행동 중단을 촉구하는 (가)의 결의안이 채택됐다. (가)에서 57개 이슬람 국가로 구성된 이슬람협력기구(OIC)가 제출한 ○○국 관련 결의안을 표결에 부쳐 찬성 122표, 반대 10표로 가결 처리했다. 24개국은 기권했다. 한편 (나)에서도 지난달 ○○국 정부군의 □□민족 인종 청소를 규탄하는 성명을 채택했으나 A국의 거부권 행사로 결의안은 채택되지 않았다.

**보기**

- ㄱ. (가)는 모든 회원국이 참여하는 최고 의결 기관이다.
- ㄴ. A국은 (나)의 상임 이사국 중 하나에 해당하는 국가이다.
- ㄷ. (가)와 달리 (나)에서는 1국 1표 원칙이 적용되지 않는다.
- ㄹ. (가)와 달리 (나)는 국제 사법 재판소의 재판관을 선출하는 권한을 가지고 있다.

- ① ㄱ, ㄴ    ② ㄱ, ㄷ    ③ ㄴ, ㄷ    ④ ㄴ, ㄹ    ⑤ ㄷ, ㄹ

▶ 9058-0256

**18** 국제법의 법원(法源) A~C에 대한 옳은 설명을 <보기>에서 고른 것은? (단, A~C는 각각 국제 관습법, 법의 일반 원칙, 조약 중 하나이다.)

- A는 문명국들이 공통적으로 승인하여 따르는 법의 보편적인 원칙이다.
- B와 달리 C는 별도의 체결 절차 없이 국제 사회의 행위 주체에 대하여 법적 구속력을 갖는다.

**보기**

- ㄱ. 우리나라의 경우 B의 체결권은 대통령, 비준권은 국회가 가지고 있다.
- ㄴ. 국내 문제 불간섭은 C에 해당한다.
- ㄷ. A는 국제 분쟁 발생 시 관련 법규가 없을 경우 등에 재판의 준거로 활용될 수 있다.
- ㄹ. B와 달리 C는 문서 형식으로 존재하는 것이 일반적이다.

- ① ㄱ, ㄴ    ② ㄱ, ㄷ    ③ ㄴ, ㄷ    ④ ㄴ, ㄹ    ⑤ ㄷ, ㄹ

[19~20] 자료를 보고 물음에 답하시오.

- 갑국과 을국 모두 지역구 의원과 비례 대표 의원이 각각 100명이며, 갑국의 지역구 수는 50개, 을국은 100개이며, 각각 지역구당 당선자 수는 같다.
- 갑국의 비례 대표 의원은 지역구 선거에서의 정당 득표율에 비례하여 배분하나, 정당 득표율이 5% 미만인 경우에는 의석을 배분받지 못한다. 남은 의석은 비례 대표 의석을 배분받지 못한 정당을 제외하고 지역구 의석 점유율이 높은 순으로 각 정당에 순차적으로 반복하여 1석씩 배분한다.
- 을국의 비례 대표 의원은 정당 투표를 통한 정당 득표율에 비례하여 배분하나, 지역구 의석수가 5석 미만일 경우에는 비례 대표 의석을 배분받지 못한다. 남은 의석은 비례 대표 의석을 배분받지 못한 정당을 제외하고 정당 투표를 통한 정당 득표율 순으로 각 정당에 순차적으로 반복하여 1석씩 배분한다.

▶ 9058-0257

**19** 갑국과 을국의 선거 제도에 대한 설명으로 옳은 것은?

- ① 의회 의원 선거에서 갑국과 달리 을국의 유권자는 1인 1표를 행사한다.
- ② 지역구 선거에서 갑국의 대표 결정 방식은 을국의 대표 결정 방식에 비해 사표가 많이 발생한다.
- ③ 지역구 선거에서 갑국의 선거구 제도는 선거구 내 당선자 간 투표 가치의 차등 문제가 발생할 수 있다.
- ④ 지역구 선거에서 갑국의 선거구 제도는 을국의 선거구 제도에 비해 다수당에 유리하여 양당제를 촉진한다.
- ⑤ 비례 대표 의원을 배분하는 경우 갑국과 달리 을국은 지역구 선거 결과가 영향을 주지 않는다.

▶ 9058-0258

**20** 다음은 갑국과 을국의 의회 의원 선거 결과이다. 이에 대한 분석 및 추론으로 옳은 것은? [3점]

〈갑국 의회 의원 선거 결과〉					〈을국 의회 의원 선거 결과〉				
구분	a당	b당	c당	d당	구분	A당	B당	C당	D당
지역구 의석수	30	34	31	5	지역구 의석수	40	36	20	4
지역구 선거 정당 득표율	40	30	26	4	정당 투표 정당 득표율	50	40	5	5

- ① 갑국의 지역구 선거에서 c당은 a당과 달리 과소 대표되었다.
- ② 의회 의석 점유율은 A당이 C당의 3배보다 크다.
- ③ 을국의 D당과 달리 갑국의 d당은 비례 대표 의석을 배분받지 못하였다.
- ④ 의회 의석 점유율이 가장 높은 정당은 갑국의 경우 b당, 을국의 경우 A당이다.
- ⑤ 갑국과 을국이 모두 전형적인 의원 내각제 국가라면 을국과 달리 갑국에서는 연립 정부가 구성될 것이다.

문항에 따라 배점이 다르니, 각 물음의 끝에 표시된 배점을 참고 하시오. 3점 문항에만 점수가 표시되어 있습니다. 점수 표시가 없 는 문항은 모두 2점입니다.

▶ 8058-0159

## 1 다음 사례에 대한 법적 판단으로 옳은 것은? [3점]

도로 위에 있는 다리에서 갑(17세), 을(16세), 병(8세)이 동시에 아래로 지나가는 자동차에 돌을 던지는 놀이를 하고 있었다. 세 명이 각각 던진 돌 가운데 하나에 맞아 정 의 자동차가 파손되었다. 경찰 조사에 따르면, 갑, 을, 병 모두 서로에게 책임을 떠넘 겠기 때문에 이들의 진술만으로는 누가 던진 돌로 자동차가 파 손되었는지 드러나지 않았다. 갑과 을은 자기 행위의 책임을 인 식할 수 있는 능력이 있었지만, 병은 그렇지 않았다.

- ① 갑의 부모와 을의 부모는 공동 불법 행위 책임을 진다.
- ② 갑의 불법 행위 책임이 인정되는 경우 갑의 부모는 불법 행위 책임을 지지 않는다.
- ③ 을은 자기 행위와 손해의 발생 사이에 인과 관계가 없음을 증명한 경우에도 손해 배상 책임을 진다.
- ④ 병에게는 책임 능력이 없으므로 병의 가해 행위로 손해가 발생한 경우 병의 부모는 무과실 책임을 진다.
- ⑤ 정은 누구의 돌에 맞아 자동차가 파손되었는지 증명하지 않은 상태에서 갑에게 손해 배상을 청구할 수 있다.

▶ 8058-0160

## 2 다음 자료에 대한 설명으로 옳은 것은? [3점]

전형적인 정부 형태 중 하나인 [A]는 엄격한 권력 분립 으로 권력의 집중과 남용을 방지하고자 한다. 이러한 특징은 식 민지 미국인들이 독립하기까지의 과정에서 영국 국왕뿐 아니라 영국 의회로부터 매우 혹독한 억압을 받은 경험에서 비롯된 것 이다. 따라서 건국 초기부터 국가 기관 사이에서의 권력 분립뿐 만 아니라 연방 정부와 주 정부 사이에서도 권력 분립을 지켜 왔다. 이러한 배경하에서 탄생하게 된 [A]는 권력 기관 들이 힘의 균형을 이루도록 함으로써 어느 한 기관의 독주와 전 황을 예방할 수 있는 ㉠ 제도를 마련하고 있다.

- ① A에서는 의회를 중심으로 권력의 체계가 일원화되어 있다.
- ② A에서는 의회 의원을 선출하기 위한 선거가 실시되지 않 는다.
- ③ A에서 행정부 수반은 의회의 신임 여부와 관계없이 정해 진 임기를 가진다.
- ④ A에서 행정부는 의회 의원 임기 만료 전에 새로운 의회 구성을 위한 총선거를 요구할 수 있다.
- ⑤ ㉠에는 행정부가 법안을 발의할 수 있는 권한이 포함된다.

▶ 8058-0161

## 3 역사적 발전에 따른 헌법의 개념 (가), (나)에 대한 설명으로 옳은 것은? (단, (가), (나)는 각각 근대 입헌주의 헌법, 현대 복지 국가 헌법 중 하나이다.)

- 인간다운 생활 실현에 필요한 국가의 정책적 노력까지 포괄 하는 헌법으로 실질적인 민주화와 사회화의 요구를 수용한 근본 규범을 의미한다. [가]는 경제적 기본권을 상대 적 기본권으로 재조정하고, 실질적 평등 개념을 정립하였다.
- 근대 시민 혁명 이후에 비로소 등장한 헌법으로 법치주의, 국 민 주권주의 등을 기본 이념으로 하는 근본 규범을 의미한다. [나]는 개인주의와 자유주의를 지향하면서 국민의 기 본권 보장과 권력 분립을 규정하고 있다.

- ① (가)는 개인의 자유와 권리를 최대한 보장하기 위해 소극 국 가를 지향한다.
- ② (나)는 국민의 생존권적 기본권을 보장하기 위해 국가의 적 극적 역할을 인정한다.
- ③ (가)와 달리 (나)는 국가 기관의 조직·구성과 권한에 대해 규정하고 있다.
- ④ (나)와 달리 (가)는 국민의 자유와 권리를 보장하는 기본권 보장 규범이다.
- ⑤ (가)는 (나)의 기초 위에 복지 국가의 이념이 구현된 헌법을 의미한다.

▶ 8058-0162

## 4 밑줄 친 ㉠에 대한 설명으로 옳지 않은 것은? [3점]

법치주의는 국가와 시대에 따라 상이하게 발전되어 왔다. 그럼 에도 불구하고 변하지 않는 내용은 국가 권력을 법에 구속시킴 으로써 자의적 지배를 방지하고 개인의 자유와 권리를 보장하 는 것이다. 그러나 19세기 중반 이후 법치주의가 내용적으로 축 소되고 형식화되기 시작하면서 역사상 전무후무한 인권 유린을 가져왔다. 따라서 ㉠ 오늘날의 법치주의는 법이라는 형식에 의 한 통치가 내용적으로도 정당한 법을 통하여 이루어질 것을 요 청하고 있다.

- ① 국가 기관의 권력 남용을 통제하는 장치를 강조한다.
- ② 절차적 합법성을 확보하면 실질적 정당성은 충족될 수 있 다고 본다.
- ③ 자유와 권리의 본질적 내용은 법률에 의해서도 침해될 수 없다고 본다.
- ④ 법률이 자유와 평등뿐 아니라 인간의 존엄성 보장에 이바 지할 것을 요구하고 있다.
- ⑤ 위헌·위법적인 국가 작용에 의해 침해된 국민의 자유와 권리를 구제하는 장치가 마련되어야 한다고 본다.



### 5 밑줄 친 ㉠~㉣에 대한 설명으로 옳은 것은? [3점]

○○신문	
제○○○회 국회(정기회) 전체 의사 일정	국회, 인사 청문 보고서 채택
9. 4. 개회식	국회 인사 청문 특별 위원회는 오늘 전체 회의를 열고 ㉠ 국무총리 후보자에 대한 인사 청문
9. 5. ~9. 8. 국정에 관한 교섭 단체 대표 연설	심사 경과 보고서를 채택했다. 인사 청문 특위는 지난 ○○일부터
9. 11. ~9. 22. 대정부 질문	국무총리 후보자에 대한 인사 청문회를 열어 능력과 자질을 검증해 왔다. 청문 보고서가 채택됨에 따라 국회는 이날 오후 예정된
9. 25. ㉡ 헌법 재판소 재판관 선출	본회의에서 국무총리 후보자 임명 동의안에 대한 표결을 진행한다. ㉢ 국무총리 후보자 임명 동
9. 26. ~9. 29. 한국-○○국 형사 사법 공조 ㉣ 조약 비준 동의안 처리	의안은 국회 재적 의원 과반수의 출석과 출석 의원 과반수의 찬성으로 의결된다.
10. 10. ~10. 27. ㉤ 국정 감사	


- ① ㉠을 임명하는 권한은 국회 의장에게 있다.
- ② ㉡은 대통령이 행정부 수반으로서 행사하는 권한이다.
- ③ ㉢은 특정한 국정 사안이 발생할 경우 수시로 이루어진다.
- ④ ㉣은 국무 위원에 대한 임명 제청권 및 해임 건의권을 행사할 수 있다.
- ⑤ ㉤의 의결 정족수는 재의 요구된 법률안에 대한 의결 정족수와 동일하다.

### 6 다음 사례에 대한 법적 판단으로 옳은 것은? [3점]

갑은 봄을 맞아, 작년 겨울 내내 입었던 값비싼 패딩 점퍼를 을이 운영하는 세탁 편의점에 맡겼다. 일주일 후 세탁 편의점에서 점퍼를 찾아와 보니 패딩 점퍼의 색깔이 달라져 있었다. 갑은 패딩 점퍼를 맡겼던 세탁 편의점을 찾아가 피해 구제를 요구했지만, 세탁 편의점 사장인 을은 자신들이 직접 세탁을 하지 않고 수거 창구 역할만 하고 있다며 이를 거절하고 있다.

- ① 갑은 소비자로서 보호받아야 할 안전할 권리를 침해당하였다.
- ② 갑은 제조물 책임법에 따라 을에게 손해 배상 책임을 물을 수 있다.
- ③ 갑이 을을 상대로 민사 소송을 제기하려면 한국 소비자원에 피해 구제를 신청해야 한다.
- ④ 갑이 을을 상대로 손해 배상을 청구할 경우 손해에 대한 원상회복만 요구할 수 있다.
- ⑤ 한국 소비자원이 을에게 갑의 피해에 대한 구제를 권고한 경우 을은 이를 수락하지 않을 수 있다.

### 7 그림의 사례에 대한 법적 판단으로 옳은 것은? [3점]



- ① 갑은 전입 신고를 마쳤으므로 B의 퇴거 요구에 응하지 않아도 된다.
- ② 갑은 A가 연립 주택을 매도할 때 동의하지 않았으므로 새로운 소유자인 B에게 대항할 수 있다.
- ③ 을은 임대차 계약서에 확정 일자 받은 다음 날부터 임차인으로서의 권리와 의무를 가진다.
- ④ 을이 C의 요구에 따라 다른 곳에 전입 신고를 한 경우에는 주택 임대차 보호법상 우선 변제권이 유지될 수 없다.
- ⑤ 갑, 을은 모두 전입 신고를 마쳤으므로 주택 임대차 보호법상 대항력을 취득한 상태이다.

### 8 다음 자료에 대한 옳은 설명을 <보기>에서 고른 것은?

정치의 의미	내용	사례
(가)	정치는 정치권력의 획득, 유지, 행사와 관련된 국가의 고유한 현상이다.	㉠
(나)	정치는 모든 사회 집단에서 보편적으로 나타나는 현상으로, 다양한 집단에서 나타나는 이해관계 조정과 갈등 해결 과정도 정치에 포함된다.	㉡

#### 보기

- ㉠. (가)는 (나)에 비해 정치 주체를 포괄적으로 이해한다.
- ㉡. (나)는 (가)와 달리 국가가 형성되기 이전에는 정치 현상이 존재하지 않는다고 본다.
- ㉢. (가), (나)는 모두 공공의 이익과 관련된 국가 기관의 의견 조율 활동을 정치라고 본다.
- ㉣. '국회의 국정 감사 활동'은 ㉠, ㉡에, '축제 예산을 분배하는 학생회 활동'은 ㉡에 해당한다.

- ① 가, 나    ② 가, 다    ③ 나, 다    ④ 나, 라    ⑤ 다, 라





▶ 8058-0167

9 다음 자료에 대한 옳은 분석 및 추론을 <보기>에서 고른 것은?

전형적인 의원 내각제를 채택하고 있는 갑국의 의회는 지역구 의원과 비례 대표 의원으로 구성되어 있다. 지역구 의석수는 100석으로 총 100개의 선거구에서 선출되며, 갑국 의회의 총 의석수는 200석이다. 갑국에서 비례 대표 의석은 각 정당이 정당 투표를 통해 전국적으로 얻은 득표율에 비례하여 각 정당에 배분된다. 최근 의회 의원 선거를 실시한 갑국은 향후 총 의석수는 유지하지만 비례 대표 의원으로만 구성되도록 선거 제도를 변경하고자 한다. 단, 갑국의 모든 선거에서 후보자는 정당을 통해서만 공천되고, 선거 제도가 변경되어도 지지하는 정당과 득표율, 비례 대표 의석 배분 방식에는 변함이 없다.

<갑국의 최근 의회 의원 선거 결과>

구분	정당 득표율(%)	지역구 의석수(석)
A당	40	65
B당	35	30
C당	25	5

보기

- ㄱ. 최근 선거 결과 A당은 과반 의석을 확보하지 못하게 되었다.
- ㄴ. 최근 선거 결과 정당 득표율에 비해 의석률이 낮은 정당은 C당이 유일하다.
- ㄷ. 변경될 선거 제도를 최근 선거 결과에 적용하면, 갑국에서는 연립 정부가 구성될 것이다.
- ㄹ. 변경될 선거 제도를 최근 선거 결과에 적용하면 B당의 의석수는 5석 증가할 것이다.

- ① ㄱ, ㄴ    ② ㄱ, ㄷ    ③ ㄴ, ㄷ    ④ ㄴ, ㄹ    ⑤ ㄷ, ㄹ

▶ 8058-0168

10 (가), (나)에 대한 설명으로 옳은 것은? [3점]


(가) 경미한 범죄를 이유로 일정한 기간 형의 선고를 유예하는 것으로 경미한 초범자에 대하여 형을 부과하지 않고 자발적인 개선과 갱생을 촉진시키는 것을 목적으로 한다.  
(나) 선고한 형의 집행을 일정 기간 유예하는 것으로 자유형 선고와 집행 시에 발생할 수 있는 폐단을 방지하고 범죄자의 사회 복귀가 용이하도록 하는 것을 목적으로 한다.

- ① (나)는 (가)와 달리 유죄 판결에 해당된다.
- ② (가)는 피의자, (나)는 피고인을 대상으로 한다.
- ③ 형사 미성년자와 심신 상실자가 위법한 행위를 한 경우 (가), (나) 판결을 받을 수 있다.
- ④ (가)는 유예받은 날부터 죄를 짓지 않은 채 일정 기간을 경과하면 면소된 것으로 간주하는 제도이다.
- ⑤ 위법한 행위를 한 자가 14세 이상인 경우 (나)를 선고하면서 소년법상 보호 처분을 함께 부과할 수 있다.

▶ 8058-0169

11 다음 자료에 대한 설명으로 옳은 것은? (단, A, B는 각각 시민 단체, 정당 중 하나이다.)

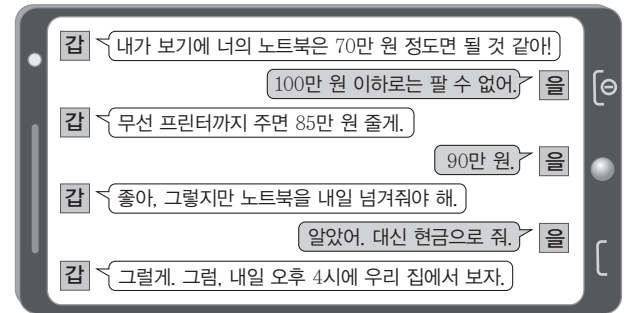
정치 참여 주체	
A	B
정치적 견해를 같이하는 사람들이 정강(政綱)을 만들고 이를 실현하기 위해 만든 단체로 정권 획득을 목표로 한다.	공공 문제 해결을 위해 자발적으로 결성한 단체로 정부의 한계를 보완하고 사회적 쟁점에 대한 관심을 유도한다.



- ① A는 B와 달리 기본적으로 공익 실현을 목적으로 한다.
- ② B는 A와 달리 정치적 결사체로 선거를 통해 정치적 책임을 진다.
- ③ A, B는 모두 정치 체계의 산출 과정에서 주도적 역할을 한다.
- ④ (가)에는 “대의 민주제에서 국민의 정치 참여를 돕는 역할을 수행하는가?”가 들어갈 수 있다.
- ⑤ (나)에는 “정부와 국민, 정부와 의회를 이어 주는 매개적 역할을 수행하는가?”가 들어갈 수 있다.

▶ 8058-0170

12 그림의 사례에 대한 법적 판단으로 옳은 것은? [3점]



\* 단, 갑은 18세이다.

- ① 갑은 자신이 먼저 계약 체결을 위한 의사 표시를 하였으므로 매매 계약을 취소할 수 없다.
- ② 갑이 매매 대금을 지급하지 않은 상태이지만 갑은 계약 체결에 따른 법적 권리와 의무를 부담한다.
- ③ 갑과 을이 계약에 대해 협의한 단계에 불과하므로 을이 소유한 노트북에 대한 매매 계약은 성립하지 않았다.
- ④ 갑이 약속 당일 을에게 취소의 의사 표시를 한 경우에도 갑은 채무 불이행에 따른 손해 배상 책임을 진다.
- ⑤ 을이 갑에게 다음 날 오후 4시까지 노트북을 넘겨주지 않은 경우 갑과 을의 계약은 확정적으로 무효가 된다.



▶ 8058-0171

### 13 다음의 선거 공약을 통해 실현하고자 하는 우리나라 헌법의 기본 원리에 대한 설명으로 가장 적절한 것은?

- 투명한 정부 운영과 국민 참여 확대  
‘정보 공개법’ 전면 개정으로 열린 정부 완성  
‘국민 참여 예산제’ 시행
- 국민의 참정권 확대  
18세로 선거 연령 인하, 피선거권 확대  
국민 투표 대상 확대, 국민 소환제 도입 등 국민 참여 확대

- ① 문화 발전을 위해 문화의 자율성을 보장해야 한다는 원리이다.
- ② 항구적인 세계 평화와 인류 공영에 이바지해야 한다는 원리이다.
- ③ 국가 권력의 정당성의 근원이 국민이라는 점을 강조하는 원리이다.
- ④ 개인주의를 바탕으로 국가 권력의 간섭을 최소화한다는 원리이다.
- ⑤ 실질적 평등을 구현하기 위한 적극적 평등 조치의 실시를 정당화할 수 있는 원리이다.

▶ 8058-0172

### 14 다음 사례에 대한 법적 판단으로 옳은 것은? [3점]

갑은 선반 가공을 하는 A 회사의 경력 사원 모집에 지원하여 채용되었다. 그런데 A 회사가 갑을 채용하고 상당 기간이 경과한 뒤 갑이 다른 선반 가공 회사에서 근무한 경력이 없었음에도 불구하고 수년간 경력이 있었던 것으로 이력서에 허위 기재한 사실을 알게 되었다. A 회사는 이를 이유로 갑을 징계 해고하였다. A 회사의 취업 규칙에는 근로자를 해고 내지 징계하는 경우에는 징계 위원회에서 해고 또는 징계의 대상이 되는 사람에게 변명의 기회를 부여하여야 한다는 규정을 두고 있다. 그러나 A 회사가 근로자 갑을 해고하면서 이 사실을 고지하지 않았고, 갑에게 변명의 기회를 처음부터 부여하지 않았다.

- ① A 회사의 갑에 대한 징계 해고는 부당 노동 행위에 해당한다.
- ② 갑은 A 회사의 부당 해고를 이유로 공정 거래 위원회에 구제 신청을 할 수 있다.
- ③ 갑이 노동조합에 가입한 경우 노동조합은 징계 해고에 대한 구제 신청을 대리할 수 있다.
- ④ 갑은 A 회사를 상대로 해고의 효력을 다투는 민사 소송을 제기하여 피해 구제를 받을 수 있다.
- ⑤ 갑이 노동 위원회에 구제 신청을 한 경우 A 회사는 갑에 대한 징계 해고가 정당하다고 주장하며 이의를 제기할 수 없다.

▶ 8058-0173

### 15 기본권의 유형 A, B에 대한 설명으로 옳은 것은?

- A는 국민이 국가에 대하여 일정한 행위를 요구할 수 있는 권리로 다른 기본권이 침해되거나 침해될 우려가 있을 때에 이를 보장하기 위한 권리이다. 실제적 기본권을 실현하기 위한 절차적 권리라는 성격을 가지며, 국가 기관에 문서로 자신의 의견을 진술할 수 있는 권리가 이에 포함된다.
- B는 국민이 국가의 정책 결정에 직접 참여하거나 대표 선출 과정에 참여할 수 있는 권리, 또는 자신이 공무원으로 선임될 수 있는 권리 등을 포함한다. 간접 민주제가 보편적인 상황에서 선거권과 공무 부담권을 기본으로, 국민 투표권 등이 보장되고 있다.

- ① A는 기본권 보장을 위한 수단적 권리이다.
- ② B는 근대 시민 혁명 직후에 확립된 권리이다.
- ③ A는 B와 달리 자본주의의 모순을 극복하는 과정에서 등장하였다.
- ④ B는 A와 달리 개별 기본권의 내용을 담은 포괄적 권리이다.
- ⑤ A, B는 모두 헌법에 명시되어 있지 않아도 보장되는 권리이다.

▶ 8058-0174

### 16 죄형 법정주의의 파생 원칙 A에 대한 설명으로 옳은 것은?

헌법은 “모든 국민은 행위 시의 법률에 의하여 범죄를 구성하지 아니하는 행위로 소추되지 아니하며, 동일한 범죄에 대하여 거듭 처벌받지 아니한다.”고 규정하고 있다. 형법 역시 “범죄의 성립과 처벌은 행위 시의 법률에 의한다.”고 하여 행위 시의 법률 규정을 전제로 범죄의 성립과 처벌이 가능함을 밝히고 있다. 이처럼 법체계 내에서 국가 형벌권의 남용으로부터 국민의 자유와 권리를 보장하기 위해 소급 형법의 제정과 법의 소급 적용을 금지하고 있는데, 이를 A이라고 한다. 그러나 형법은 일반 국민뿐만 아니라 범죄인의 대향장이라고 불리기도 하므로, 범죄인이 형법에서 규정된 것 이상의 처벌을 받지 않도록 하려는 목적에서 피고인에게 유리한 경우에는 예외를 인정하고 있다.

- ① 형법의 보호적 기능 실현을 위해 필요한 원칙이다.
- ② 형법은 그 시행 이후에 이루어진 행위에 대해서만 적용되어야 한다는 원칙이다.
- ③ 범죄와 형벌이 의회가 제정하는 성문의 법률에 규정되어 있어야 한다는 원칙이다.
- ④ 일정한 경우 나중에 정한 법률로 피고인의 형을 가중할 수 있는 예외를 인정하고 있다.
- ⑤ 범죄 행위의 경중과 행위자가 부담해야 할 형사 책임 사이에 균형을 갖추어야 한다는 원칙이다.



▶ 8058-0175

**17** 다음 자료의 A, B에 대한 설명으로 옳은 것은? (단, A, B는 각각 고대 아테네 민주 정치, 근대 민주 정치 중 하나이다.)

- 민주주의의 뿌리인 **A**는 시민이 직접 정책을 토론하며, 투표에 참가하는 정치 체제였다. 중요 의제에 대한 최종 결정 기관인 민회와 함께 입법과 행정에 있어 핵심적 역할을 담당했던 기구는 500인 평의회였다. 평의회는 민회의 의사 일정과 민회에 제출할 안건을 제안하는 임무를 맡았고, 민회는 평의회가 제출한 안건에 관해 결정을 내렸다.
- 절대 군주에 대한 반발로 탄생한 **B**는 국가 권력으로부터 개인의 자유를 어떻게 보장할 것인가를 관심사로 하여 개인의 자유와 재산 그리고 생명을 보장하려는 정치 체제였다. 개인의 자유와 권리에 대한 강조로 국가의 역할을 제한하는 소극적 정치를 지향하므로 당시의 국가를 야경 국가라고도 한다.

- ① 입헌주의 사상과 권력 분립의 원리는 A에서 등장하였다.
- ② B에서부터 보통 선거의 원칙이 보편적으로 적용되었다.
- ③ 영국의 차티스트 운동은 A에서 B로 발전하는 데 기여하였다.
- ④ A에서는 B와 달리 일정한 재산을 가진 시민들의 자유권을 확대시켜 나가는 데 관심이 집중되었다.
- ⑤ B에서는 A와 달리 시민이 대표를 선출하고 그들로 하여금 정치적 의사 결정을 하도록 위임하였다.

▶ 8058-0176

**18** 국제 연합의 주요 기관인 A에 대한 설명으로 옳지 않은 것은?

UN 헌장 제24조

1. UN의 신속하고 효과적인 조치를 확보하기 위하여, UN 회원국은 국제 평화와 안전의 유지를 위한 일차적 책임을 **A**에 부여하며, 또한 **A**가 그 책임하에 의무를 이행함에 있어 회원국을 대신하여 활동하는 것에 동의한다.

- ① 평화 유지 업무를 담당하는 국제 연합의 형식상 최고 의결 기관이다.
- ② UN 회원국인 5개의 상임 이사국과 10개의 비상임 이사국으로 구성되어 있다.
- ③ 채택된 표결 방식 중에 국제 사회를 바라보는 현실주의적 관점이 반영된 것이 존재한다.
- ④ UN 헌장에 규정되어 있는 일정한 절차를 거쳐 무력적 조치를 취할 수 있는 권한을 가지고 있다.
- ⑤ 국제 사법 재판소의 판결을 이행하지 않는 당사국에 이행을 위한 적절한 조치를 취할 수도 있다.

▶ 8058-0177

**19** 다음 사례에 대한 법적 판단으로 옳은 것은? [3점]

공무원인 갑은 뇌물 수수 혐의로 검사의 출석 요구가 있자 이에 응하여 검찰청에 출석하였다. 혐의를 극구 부인하던 갑은 자정이 다가오자 귀가를 요구하였으나 검사는 갑을 귀가시킬 경우 증거 인멸의 우려가 있다고 생각하고 갑을 긴급 체포하여 수사를 계속하였다. 검사는 갑을 체포한 직후 영장 없이 갑의 집을 압수·수색하여 뇌물로 받은 현금을 찾아 가지고 왔다. 그 후 갑은 심경의 변화를 일으켜 범죄를 자백하였고, 긴급 체포 후 40시간이 지나서 검사에 의해 구속 영장 등이 청구되었다.

- ① 검사가 갑을 긴급 체포한 행위는 정당방위로 위법성이 조각된다.
- ② 수사 과정에서 검사는 갑에게 불리한 진술을 거부할 권리를 고지해야 한다.
- ③ 갑은 구속 영장 청구 직후 법원에 구속 전 피의자 심문을 청구할 수 있다.
- ④ 갑에게 구속 영장이 발부될 경우 갑은 무죄 추정의 원칙의 적용을 받을 수 없게 된다.
- ⑤ 법원에서 갑에 대한 구속 영장이 발부되면 갑은 검사에게 구속 적부 심사를 청구할 수 있다.

▶ 8058-0178

**20** 다음 자료에 대한 옳은 법적 판단을 <보기>에서 고른 것은?

조약법의 가장 중요한 법원은 1969년 체결된 ① ‘조약에 관한 비엔나 협약(이하 ‘조약법 협약’)이다. 동 협약은 상당수 규정이 오랫동안 관습법으로 적용되어 오던 것을 성문화한 것으로 조약에 관한 모든 규정을 망라하고 있다. 1969년 조약법 협약에 따르면 ‘조약’이란 단일 문서, 2개의 문서 또는 그 이상의 관련 문서에 구현되고 있는가에 관계없이 또한 그 특성의 명칭에 관계없이, 서면 형식으로 국가 간 체결되며 또한 국제법에 의하여 규율되는 국제적 합의를 의미한다. 조약은 제3국에 대해 그 동의 없이는 의무 또는 권리를 창설하지 못하지만, 기존 국제 관습법을 성문화한 조약 또는 조약 체결 후 국제 관습법이 된 경우에는 제3국에 효력을 미칠 수 있다.

**보기**

- ㄱ. ①에 따라 협약이나 협정이라는 이름으로 체결된 국가 간의 합의만 조약으로 인정된다.
- ㄴ. 국제 관습법이 조약이 된 경우 국제 사회의 모든 국가에 법적 구속력을 가질 수 있다.
- ㄷ. 조약은 별도의 체결 절차 없이 국가들의 관행과 법적 확신이 있으면 구두로 성립 가능하다.
- ㄹ. 국가들은 국제 관습법으로 적용되던 것을 성문화를 통해 조약의 형태로 변화시킬 수 있다.

- ① ㄱ, ㄴ
- ② ㄱ, ㄷ
- ③ ㄴ, ㄷ
- ④ ㄴ, ㄹ
- ⑤ ㄷ, ㄹ

문항에 따라 배점이 다르니, 각 물음의 끝에 표시된 배점을 참고 하시오. 3점 문항에만 점수가 표시되어 있습니다. 점수 표시가 없 는 문항은 모두 2점입니다.

▶ 8058-0179

1 정치를 바라보는 관점 (가), (나)에 대한 설명으로 옳은 것은?

(가) 모든 사회 집단 곧 시민 단체, 경제 단체, 노동 단체 등에서 이해관계를 조정하고 갈등을 해결하는 활동도 정치로 포함 한다. 따라서 학교에서 선거를 통해 선출된 학생회장이 학 생회를 운영하는 행위도 정치로 볼 수 있다.

(나) 정치는 나라를 다스리는 일로 볼 수 있다. 즉, 정치는 권력 을 획득하고 유지하며 행사하는 활동으로 국민들이 인간다 운 삶을 영위하게 하고 국민 상호 간의 이해관계를 조정하 는 국가만의 고유한 활동을 의미한다.

- ① (가)에 따르면 정치 활동이 소수의 정치 엘리트에 의해서 이루어진다고 본다.
- ② (나)는 국가 형성 이전의 정치 현상을 설명하기에 적합하다.
- ③ (가)보다 (나)가 현대 사회의 정치 현상을 설명하기에 적합 하다.
- ④ (나)와 달리 (가)는 지방 자치 단체의 지역 사회 갈등 해결 을 정치로 보지 않는다.
- ⑤ (가), (나) 모두 대통령의 통치 행위를 정치라고 본다.

▶ 8058-0180

2 다음은 민주 정치의 유형을 서술한 것이다. 이에 대한 설명으 로 옳은 것은?

민주 정치의 유형은 크게 두 가지로 분류되고 있다. 하나는 중 간 매개자나 대표자 없이 개별 국민들이 의사 결정을 하는 정치 형태인 A이고, 다른 하나는 국민이 대표자를 통해 간접적으로 정치에 참여하는 정치 형태인 B이다. 현대 사회의 대부분 민주 주의 국가에서는 B가 일반적이지만, 부분적으로 ㉠ A의 요소를 도입하여 국민의 정치 참여 기회를 확대하고 있다.

- ① A보다 B에서 중우 정치가 나타날 가능성이 크다.
- ② A보다 B에서 국민의 의사가 정확히 반영될 수 있다.
- ③ B보다 A에서 정치적 무관심이 나타날 가능성이 크다.
- ④ A, B 모두 국민 주권주의를 바탕으로 하고 있다.
- ⑤ 우리나라에서 시행하는 ㉠의 예로는 국민 투표, 국민 발안 이 있다.

▶ 8058-0181

3 법치주의 유형 (가), (나)에 대한 옳은 설명을 <보기>에서 고 른 것은? [3점]

오늘날 법치주의는 법적 절차와 형식만 준수하고, 국민의 권 리·의무에 관한 사항을 법률로써 정하기만 하면 된다는 (가)에 그치는 것이 아니라 그 법률의 목적과 내용 또한 기본권 보장의 헌법 이념에 부합되어야 한다는 (나)를 의미한다.

보기

- ㄱ. (가)는 자연법 사상에 입각한 통치의 정당성을 강조한다.
- ㄴ. (나)는 인간의 존엄성 보장이나 정의 실현을 내용으로 해야 법률의 목적과 내용의 정당성을 확보할 수 있다고 본다.
- ㄷ. (가)와 달리 (나)는 통치자의 자의적인 의사를 실현하는 수 단으로 사용할 수 있다.
- ㄹ. (가), (나) 모두 국가가 국민의 기본권을 제한할 때 법에 근 거를 두어야 한다고 본다.

- ① ㄱ, ㄴ    ② ㄱ, ㄷ    ③ ㄴ, ㄷ    ④ ㄴ, ㄹ    ⑤ ㄷ, ㄹ

▶ 8058-0182

4 전형적인 정부 형태를 지닌 갑국과 을국에 대한 옳은 설명을 <보기>에서 고른 것은? [3점]

○○신문

갑국의 행정부 수반, 의회에서 의결된 법률안에 대해 거부권 행사함

○○신문

을국의 행정부 수반, 의회를 해 산하여 다시 선거를 실시하고 자 함

보기

- ㄱ. 갑국은 행정부 수반과 의회 의원이 각각 별도의 선거에 의 해서 선출된다.
- ㄴ. 을국은 의회 의원이 각료를 겸직할 수 없다.
- ㄷ. 갑국은 을국과 달리 정부가 법률안을 제출할 수 없다.
- ㄹ. 을국은 갑국과 달리 행정부 수반의 임기가 보장된다.

- ① ㄱ, ㄴ    ② ㄱ, ㄷ    ③ ㄴ, ㄷ    ④ ㄴ, ㄹ    ⑤ ㄷ, ㄹ



▶ 8058-0183

**5** 다음 자료에 대한 옳은 분석만을 <보기>에서 있는 대로 고른 것은? [3점]

갑국의 의회 의원은 지역구 의원과 비례 대표 의원으로 구성된다. 갑국의 지역구 선거구는 250개이며, 비례 대표 의석은 각 정당의 지역구 후보자들이 선거구 전체에서 얻은 득표율에 비례하여 배분한다. 표는 최근 치러진 갑국 의회 의원 선거 결과이다.

정당	지역구 선거		총 의석수(석)
	득표율(%)	의석수(석)	
A당	48	130	154
B당	24	73	85
C당	24	32	44
D당	4	15	17
합계	100	250	300

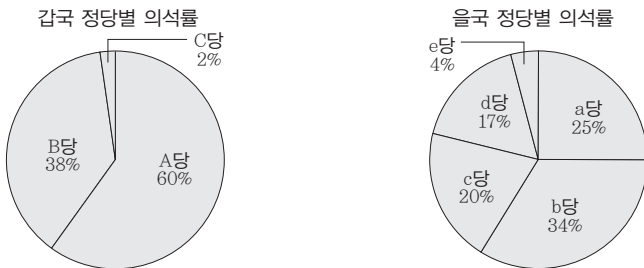
**보기**

- ㄱ. B당과 C당의 비례 대표 의석수는 동일하다.
- ㄴ. 지역구 선거의 대표 결정 방식은 다수 대표제이다.
- ㄷ. 지역구 선거에서 선거구 내 표의 등가성 문제가 발생할 수 있다.
- ㄹ. 갑국의 비례 대표 의석 배분 방식은 직접 선거 원칙에 위배된다.

- ① ㄱ, ㄴ                      ② ㄱ, ㄷ                      ③ ㄷ, ㄹ
- ④ ㄱ, ㄴ, ㄹ                ⑤ ㄴ, ㄷ, ㄹ

▶ 8058-0184

**6** 갑국과 을국의 의회 의원 선거 결과에 의해 나타날 수 있는 정치적 상황에 대한 옳은 분석 및 추론을 <보기>에서 고른 것은? (단, 갑국, 을국 모두 전형적인 의원 내각제를 채택하고 있다.)



**보기**

- ㄱ. 갑국의 정당 제도는 을국에 비해 정치적 책임 소재가 명확하다.
- ㄴ. 갑국의 정당 제도는 을국에 비해 정국이 불안정해질 수 있다는 우려가 있다.
- ㄷ. 을국의 정당 제도는 갑국에 비해 정당 간 대립 시 중재가 용이하다.
- ㄹ. 을국의 정당 제도는 갑국에 비해 다수당의 횡포로 소수의 이익이 무시될 수 있다.

- ① ㄱ, ㄴ                      ② ㄱ, ㄷ                      ③ ㄴ, ㄷ                      ④ ㄴ, ㄹ                      ⑤ ㄷ, ㄹ

▶ 8058-0185

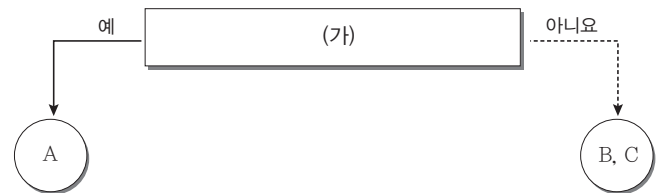
**7** 우리나라 헌법의 기본 원리 (가), (나)에 대한 설명으로 옳지 않은 것은?

헌법의 기본 원리	실현 사례
(가)	대만에 거주하는 재외 국민은 2017년 5월 치러진 대통령 선거에서 선거를 할 수 있게 되었다. 2012년부터 시작된 재외 국민 투표에서 대만에 거주하는 재외 국민은 제외되었는데, 공직선거법이 개정이 되면서 대만에 거주하는 재외 국민도 선거가 가능해졌다.
(나)	정부는 2015년부터 맞춤형 기초 생활 보장 제도를 시행하고 있다. 이로 인하여 스스로 생활을 감당하기 어려운 사람들에게 정부가 책임지고 기초 생활을 보장해주고 있다.

- ① (가)는 국가의 의사를 결정하는 주권이 국민에게 있다는 원리이다.
- ② (가)는 외국인에 대해서 그 지위를 보장하는 상호주의 원칙을 규정하고 있는 원리이다.
- ③ (나)는 인간다운 생활을 보장하기 위하여 실질적 평등을 구현하는 원리이다.
- ④ (나)는 자본주의의 발달과 더불어 나타난 문제를 해결하기 위하여 국가의 적극적 역할을 강조한다.
- ⑤ (가), (나) 모두 법령 제정과 해석의 기준이 된다.

▶ 8058-0186

**8** 그림은 (가)를 기준으로 기본권 A~C를 구분한 것이다. 이에 대한 설명으로 옳은 것은? (단, A~C는 각각 자유권, 사회권, 청구권 중 하나이다.) [3점]



- ① A가 자유권이면, (가)에는 ‘국가 성립 이후에 인정되는 권리인가?’가 들어갈 수 있다.
- ② A가 사회권이면, (가)에는 ‘다른 기본권을 보장하기 위한 권리인가?’가 들어갈 수 있다.
- ③ A가 청구권이면, (가)에는 ‘소극적·방어적 권리인가?’가 들어갈 수 있다.
- ④ 청원권이 B에 해당하는 권리이고, 근로의 권리가 C에 해당하는 권리이면, (가)에는 ‘인간다운 생활을 국가에 요구할 수 있는 권리인가?’가 들어갈 수 있다.
- ⑤ (가)가 ‘가장 최근에 등장한 현대적 권리인가?’이면, 신체의 자유를 내용으로 하는 기본권은 B, C 중 하나이다.



▶ 8058-0187

### 9 헌법 기관 A ~ E에 대한 설명으로 옳지 않은 것은? [3점]

A의 지난 일주일 일정을 정리해 보겠습니다.



5월 7일 국가의 세입·세출의 결산 검사를 담당하는 B의 장(長) 임명  
 5월 8일 C가 부의장인 행정부 최고 심의 기관인 D에 참석함  
 5월 9일 상고심 담당 법원인 E의 장(長) 임명

- ① A의 임기를 변경하기 위해서는 헌법을 개정해야 한다.
- ② B는 국가 및 법률이 정한 단체의 회계 검사를 담당한다.
- ③ E는 명령이 헌법이나 법률에 위반되는 여부가 재판의 전제가 된 경우 이에 대한 최종 심사권을 가진다.
- ④ B의 장(長)은 D의 구성원이 된다.
- ⑤ C와 E의 장(長)은 모두 국회의 동의를 받아 A가 임명한다.

▶ 8058-0188

### 10 다음 사례에 대한 옳은 법적 판단을 <보기>에서 고른 것은?

갑은 만취 상태에서 자신의 행위를 제지하는 경찰관을 모욕하였다는 이유로 현행범으로 체포된 후 모욕죄로 기소되어 법원에서 재판을 받게 되었다. 소송 중에 갑은 모욕죄를 규정하고 있는 형법 제○○조가 명확성의 원칙 등에 위반되어 기본권을 침해하였다고 주장하면서 위헌 법률 심판 제청 신청을 하였으나 기각되었다. 이에 갑은 헌법 소원 심판을 청구하였는데, 헌법 재판소는 “해당 형법 조항에 의하여 달성될 공익은 매우 중대한 반면, 제한되는 행위는 공연히 사람의 사회적 평가를 저하시킬 만한 추상적 판단이나 경멸적 감정을 표현하는 것이므로 공익과 제한되는 사익 사이에 현저한 불균형이 있다고 보기 어려워 헌법에 위반되지 않는다.”라고 판단하였다.

#### 보기

- ㄱ. 갑이 청구한 헌법 소원은 위헌 심사형 헌법 소원이다.
- ㄴ. 헌법 재판소는 해당 법률 조항이 과잉 금지 원칙에 위배되지 않는다고 보았다.
- ㄷ. 갑은 헌법 재판소의 결정으로 유죄가 확정되었다.
- ㄹ. 헌법 재판소의 결정에 대해 갑은 상급 법원에 상소할 수 있다.

- ① ㄱ, ㄴ    ② ㄱ, ㄷ    ③ ㄴ, ㄷ    ④ ㄴ, ㄹ    ⑤ ㄷ, ㄹ

▶ 8058-0189

### 11 다음 사례에 대한 법적 판단으로 옳은 것은?

갑(18세)은 자신이 사용하는 고가의 스마트폰을 직접 팔기 위하여 인터넷 중고 거래 사이트에 게시하였다. 이것을 본 을(25세)은 직접 만나 스마트폰을 받고 대금을 지급하기로 하였다. 갑은 자신이 미성년자라는 것을 속이기 위해서 형의 주민등록증을 위조하여 을에게 보여주었고, 두 사람은 계약서를 작성하지 않은 상태에서 거래를 하였다. 며칠 후 갑은 해당 스마트폰을 다른 중고 사이트에서 더 비싼 값에 팔 수 있다는 것을 알게 되었다.

- ① 갑은 을과의 계약을 취소할 수 없다.
- ② 갑의 법정 대리인은 갑과 을의 계약을 취소할 수 있다.
- ③ 을은 갑과의 계약에 대해 철회권을 행사할 수 없다.
- ④ 을은 갑의 법정 대리인에게 계약을 취소할 것인지에 대한 확인을 요구해야 한다.
- ⑤ 갑은 계약서 작성을 하지 않았다는 이유로 계약의 무효를 주장할 수 있다.

▶ 8058-0190

### 12 다음 사례에 대한 법적 판단으로 옳은 것은? [3점]

갑은 엄마 을과 함께 유치원 하원 후 병이 운영하는 키즈 카페에서 놀고 있었다. 갑은 동갑내기 정과 같이 놀던 중 정을 살짝 밀었는데, 마침 종업원이 가져다 놓은 의자에 정이 걸려 넘어져 크게 다치는 사고가 발생하였다. 정은 엄마인 무는 을이 부주의한 사이에 갑이 정을 밀어서 넘어진 것이라고 주장을 하였다. 반면 을은 자신은 갑을 잘 돌보고 있었으며, 오히려 병이 종업원 관리를 잘못하여 정이 다쳤다고 주장을 하였다.

- ① 갑의 행위에 위법성이 없다면, 을의 특수 불법 행위가 성립하지 않는다.
- ② 갑의 행위와 정은의 피해 사이에 인과 관계가 있다면, 무는 갑에게 배상을 청구할 수 있다.
- ③ 을과 병이 공동 불법 행위 책임을 질 수 있다.
- ④ 을의 주장이 맞다면, 병은 일반 불법 행위 책임을 질 수 있다.
- ⑤ 무의 주장이 맞다면, 무는 을에게 물질적 손해에 대해서만 배상을 청구할 수 있다.



▶ 8058-0191

▶ 8058-0193

**13** 다음 사례에서 변호사의 법적 조언으로 옳은 것은? [3점]

A : 제 아들(B)은 C와 혼인 후 이혼을 하였는데, 이혼 당시 자녀 D가 있었습니다. 이후 E와 재혼 후 혼인 신고를 하였고, F를 낳아 살고 있었습니다. 어느 날 B가 불의의 교통사고를 당해 사망하였습니다. 사망 당시 B에게는 아파트 한 채가 있었고 채무는 없었습니다. 그런데 B의 사망 후 전 재산을 ○○ 재단에 증여한다는 유언장이 발견되었습니다. 이에 대한 상속 문제는 어떻게 되나요?

변호사 : \_\_\_\_\_

- ① B의 유언이 유효하다면, A는 ○○ 재단을 상대로 유류분 반환을 청구할 수 있습니다.
- ② B의 유언이 유효하지 않다면, D와 F의 법정 상속분은 같습니다.
- ③ B의 유언이 유효하지 않더라도, ○○ 재단은 증여를 받을 수 있습니다.
- ④ B의 사망 당시 D가 미성년자라면, C가 대신 상속을 받을 수 있습니다.
- ⑤ E가 상속을 포기한다면, A, D, F가 공동 상속인이 됩니다.

**15** 다음 사례에서 ㉠, ㉡에 해당하는 위법성 조각 사유로 옳은 것은?

- 갑은 직장 동료 을과 말다툼을 벌이다 을이 술병으로 때리자 주먹으로 을의 얼굴 부위를 수차례 때려 중상해를 입힌 혐의로 불구속 기소되었다. 갑은 을을 때려 상해를 입히게 한 것은 맞지만, 을의 부당한 침해를 방위하기 위한 행위라고 주장하였다. 그러나 ○○ 법원은 ㉠ 을/를 인정하지 않았다.
- 병은 자신의 마을로 축사 신축 공사를 위한 레미콘 차량이 진입하려 하자, 자신 소유의 트랙터를 세워 놓아 공사장 진입을 가로막은 혐의로 기소되었다. ◇◇ 법원은 병의 행위가 정당한 동기와 목적에 의한 것이었다 하더라도 공사의 진행을 방해하는 등 방법이나 수단이 적절하지 못하여 사회 상규에 위배되므로 ㉡ 을/를 인정하지 않았다.

- |         |       |
|---------|-------|
| ㉠       | ㉡     |
| ① 정당방위  | 긴급 피난 |
| ② 정당방위  | 자구 행위 |
| ③ 정당방위  | 정당 행위 |
| ④ 긴급 피난 | 정당 행위 |
| ⑤ 긴급 피난 | 자구 행위 |

▶ 8058-0192

▶ 8058-0194

**14** 다음 자료에 대한 설명으로 옳은 것은? [3점]

갑은 을의 주택에 거주하기 위해 보증금 2억 원에 을과 ㉠ 임대차 계약을 체결하였다. 며칠 후 갑은 을에게 보증금을 지급한 후 ㉡ 입주와 동시에 주민 등록 이전을 마쳤다. 이후 을은 병에게 주택을 매도하였으며, 병은 해당 주택에 대해 ㉢ 소유권 이전 등기를 마쳤다.

- ① ㉠에서 계약 기간을 정하지 않았다면 2년으로 계약한 것으로 본다.
- ② ㉡에 의해 갑은 후순위 권리자보다 우선하여 보증금을 변제받을 수 있다.
- ③ 갑은 병에게 대항력을 주장할 수 없다.
- ④ 을이 병에게 주택을 매도하기 위해서는 갑의 동의가 있어야 한다.
- ⑤ ㉢에 따라 등기사항 전부 증명서 을구의 내용이 변경된다.

**16** 다음 사례에 대한 법적 판단으로 옳은 것은?

길을 지나던 갑은 울타리가 쳐져 있던 을의 사유지를 넘어갔다. 갑은 을의 개에게 물려 전치 6주의 상해를 입었다. 이에 을은 과실치상 혐의로 불구속으로 기소되었고, ○○ 지방 법원 합의부는 벌금 50만 원을 선고한 원심과 달리 을에게 무죄를 선고했다. 법원은 “개의 소유·점유자인 을의 과실이 아니라, 사유지를 무단으로 들어간 피해자 갑의 중대한 실수로 봐야 하기 때문에 을에게 과실치상의 죄를 물을 수 없다.”고 판단했다.

- ① 재판 과정에서 갑이 원고, 을이 피고인이 된다.
- ② 을의 행위는 경미한 범죄이므로 을에게 무죄 추정의 원칙이 적용되지 않는다.
- ③ 검사는 대법원에 상고할 수 있다.
- ④ ○○ 지방 법원 합의부는 을의 행위에 대해 범죄 성립요건 중 책임이 없다고 보았다.
- ⑤ 판결이 확정되면 을은 형사 보상을 청구할 수 있다.



▶ 8058-0195

### 17 다음 사례에 대한 옳은 법적 판단을 <보기>에서 고른 것은?

회사로부터 해고를 당한 갑은 해고의 사유가 자신의 노동조합 활동이라고 판단하였다. 이에 갑은 회사의 해고를 ㉠ 부당 노동행위로 보고 노동 위원회에 구제 신청을 하였다. 지방 노동 위원회 및 ㉡ 중앙 노동 위원회 모두 회사의 해고 처분이 정당하다고 하였고, 갑은 이에 불복하여 중앙 노동 위원회 위원장을 상대로 행정 소송을 제기하였다. 이에 1심 법원은 회사의 해고 처분이 부당하다는 원고의 청구를 기각하였다.

#### 보기

- ㄱ. ㉠에 대해 근로자 본인뿐만 아니라 노동조합도 구제 신청을 할 수 있다.
- ㄴ. ㉡은 갑의 근로 3권이 침해당하였다고 보았다.
- ㄷ. 행정 소송을 제기하기 위해서는 ㉡을 거쳐야 한다.
- ㄹ. 해고 처분의 정당성을 ㉡과 법원이 다르게 판단하였다.

- ① ㄱ, ㄴ    ② ㄱ, ㄷ    ③ ㄴ, ㄷ    ④ ㄴ, ㄹ    ⑤ ㄷ, ㄹ

▶ 8058-0196

### 18 (가)~(라)에 대한 설명으로 옳지 않은 것은? [3점]

(가) 갑은 을이 운영하는 인터넷 쇼핑몰에서 구입한 고가의 카메라가 주문한 제품과 다른 제품이 배송되어 을에게 환불을 요구함



(나) 을이 환불을 해주지 않아 갑은 한국 소비자원에 피해 구제를 의뢰함



(다) 합의가 이루어지지 않아 갑은 소비자 분쟁 조정 위원회에 조정을 신청함



(라) 조정이 성립되지 않아 갑은 을을 상대로 민사 소송을 제기함

- ① (가)에서 을은 갑에게 보상 여부와 내용을 알려 주어야 한다.
- ② (나)에서 한국 소비자원은 갑과 을에게 합의를 권고한다.
- ③ (다)에서 조정이 성립되면 재판상 화해와 동일한 효력이 부여된다.
- ④ (라)에서 갑이 원고, 을이 피고가 된다.
- ⑤ (나), (다)를 거쳐야만 갑은 민사 소송을 제기할 수 있다.

▶ 8058-0197

### 19 국제 사회를 바라보는 관점 A, B에 대한 설명으로 옳지 않은 것은?

국제 연합(UN)의 평화 유지 활동은 국제 평화와 안전을 유지한다는 목적을 가지고 있다. 이에 대해 A는 동맹국 간의 세력 균형을 통해서만 국제 평화가 유지될 수 있다고 보는 반면, B는 UN과 같은 국제기구가 제 기능을 다 하게 되면 국제 평화가 유지될 수 있다고 보았다.

- ① A는 개별 국가의 이익과 국제 사회 전체 이익은 조화될 수 없다고 본다.
- ② B는 국가 간 상호 의존적 관계를 중시한다.
- ③ A는 B와 달리 자국 이익의 배타적 추구를 강조한다.
- ④ B는 A와 달리 국가는 이성적 판단이 가능하다고 본다.
- ⑤ A, B 모두 국제 사회는 상대국에 대한 힘의 우위를 확보함으로써 평화 실현이 가능하다고 본다.

▶ 8058-0198

### 20 밑줄 친 ㉠~㉣에 대한 설명으로 옳은 것은? [3점]

갑국에서 날아온 미세먼지의 영향으로 을국의 대기오염 피해가 매우 심각한 상황이다. 이러한 손해에 대해 을국은 국제법적으로 어떻게 대처할 수 있을까? ㉠ 국제 사법 재판소는 초국경 환경 피해 방지 원칙이 ㉡ 국제 관습법이라고 확인한 바 있다. 또한 이 원칙은 갑국과 을국 등 여러 국가들이 체결한 ㉢ ‘해양법에 관한 국제 연합 협약(UNCLOS)’에 규정되어 있다. 이러한 내용을 근거로 을국은 갑국이 국제법을 위반했다고 주장할 수 있는 것이다.

- ① ㉠은 ‘초국경 환경 피해 방지 원칙’을 국제법의 법원으로 인정하였다.
- ② ㉡은 문명국들이 공통적으로 승인하여 따르는 법의 보편적인 원칙이다.
- ③ ㉢은 양자 조약이다.
- ④ 우리나라의 경우 ㉢의 체결권은 대통령, 비준권은 국회에 있다.
- ⑤ ㉡과 달리 ㉢과 같은 국제법의 법원은 원칙적으로 모든 국가에 적용된다.



문항에 따라 배점이 다르니, 각 물음의 끝에 표시된 배점을 참고 하시오. 3점 문항에만 점수가 표시되어 있습니다. 점수 표시가 없 는 문항은 모두 2점입니다.

▶ 8058-0199

**1** 근대 사회 계약론자 A~C에 대한 설명으로 옳은 것은? (단, A~C는 각각 로크, 루소, 홉스 중 하나이다.)

구분	A	B	C
주권이 국민에게 있다고 보았습니까?	예	아니요	예
입법권과 집행권의 분리를 주장하였습니까?	예	아니요	아니요
(가)	예	예	예

- ① A는 일반 의지에 따라 통치가 이루어져야 한다고 보았다.
- ② C는 자연 상태를 만인에 대한 만인의 투쟁 상태로 보았다.
- ③ A는 B와 달리 인간은 본질적으로 이기적인 존재라고 보았다.
- ④ B, C는 직접 민주제를 옹호하였다.
- ⑤ (가)에 “국가를 목적이 아닌 수단으로 보았습니까?”가 들어갈 수 있다.

▶ 8058-0200

**2** 법치주의의 유형과 관련하여 밑줄 친 ㉠, ㉡에 부합하는 옳은 진술만을 <보기>에서 있는 대로 고른 것은? [3점]

○○신문      2016년 △△월 △△일

오늘 ○○법이 의회를 통과하였다. 그러나 이 법률에 대한 의견이 분분한데 한쪽은 ○○법이 ㉠ 헌법에 보장된 기본권을 심각하게 침해하기 때문에 ○○법을 따를 수 없다며 폐지를 주장하는 사람들이며, 다른 쪽은 ㉡ 그 내용에 문제가 있더라도 합법적인 절차를 거쳐 의회를 통과한 법이므로 이에 따른 권력 행사에 따라야 한다고 주장하는 사람들이다.

**보기**

- ㄱ. ㉠은 위헌 법률 심판 제도 실시를 강조할 것이다.
- ㄴ. ㉠과 달리 ㉡은 합법적인 절차에 따라 제정된 법에 의한 통치를 중시한다.
- ㄷ. ㉠과 달리 ㉡의 주장은 합법적인 독재 정치를 정당화하는 논리로 악용될 수 있다.
- ㄹ. ㉠과 달리 ㉠은 통치의 정당성을 중시한다.

- ① ㄱ, ㄴ      ② ㄱ, ㄹ      ③ ㄴ, ㄷ
- ④ ㄱ, ㄷ, ㄹ      ⑤ ㄴ, ㄷ, ㄹ

▶ 8058-0201

**3** 다음 자료에 대한 설명으로 옳지 않은 것은?

민주 국가의 전형적인 정부 형태에는 (가)와 (나)가 있다. (가)에서의 국민은 입법부를 구성하는 선거와 행정부 수반을 선출하는 선거를 따로 하지만, (나)에서의 국민은 입법부를 구성하는 선거만 치른다. 각 정부 형태에서는 그 방법이 다르지만 ㉠ 입법부와 행정부 간의 견제 제도가 존재한다. 한편 우리나라의 정부 형태는 (가)를 기본으로 하지만 ㉡ (나)의 요소를 부분적으로 도입하였다.

- ① ‘행정부의 법률안 제출’은 ㉡의 예이다.
- ② (가)의 ㉠에는 ‘행정부의 법률안 거부권’이 있다.
- ③ (나)의 ㉠에는 ‘입법부의 내각 불신임권’이 있다.
- ④ (가)는 (나)에 비해 엄격한 권력 분립으로 견제와 균형의 원리에 충실하다.
- ⑤ (나)는 (가)와 달리 행정부 수반과 국가 원수가 동일 인물이다.

▶ 8058-0202

**4** 정치 참여 집단 (가)~(다)의 일반적인 특징에 대한 설명으로 옳은 것은? (단, (가)~(다)는 각각 시민 단체, 이익 집단, 정당 중 하나에 해당하는 집단이다.) [3점]

조사해 온 정치 참여 집단의 특징을 발표해 보세요.

(가)는 환경 보호를 목적으로 모인 시민들의 자발적인 집단입니다.

(나)는 ○○회사에 다니는 노동자들이 자신들의 권익 신장을 위해 만든 집단입니다.

(다)는 공직 선거에서 후보자를 공천하는 역할을 합니다.

교사

- ① (가), (나)는 집단의 활동에 대해 정치적 책임을 진다.
- ② (나)는 (가)와 달리 공익 실현을 목적으로 구성되었다.
- ③ (나)는 (다)와 달리 여론 형성 기능을 한다.
- ④ (다)는 (가)와 달리 정치 사회화 기능을 한다.
- ⑤ (가)~(다)는 모두 정부에 대한 감시와 비판 기능을 한다.



[5~6] 다음은 갑국과 을국의 선거 제도와 관련한 자료이다. 읽고 물음에 답하시오.

▶ 8058-0205

갑국	을국
<ul style="list-style-type: none"> <li>지역구 의원과 비례 대표 의원을 각각 200명, 100명 선출</li> <li>지역구 선거구 수는 100개이며, 선거구당 당선자 수는 같음</li> <li>각 정당은 지역구 선거구당 1명만 공천 가능</li> <li>비례 대표 의원은 정당별 지역구 의석수에 비례하여 정당별로 배분</li> </ul>	<ul style="list-style-type: none"> <li>지역구 의원과 비례 대표 의원을 각각 200명, 100명 선출</li> <li>지역구 선거구 수와 지역구 의원 수가 같음</li> <li>비례 대표 의원은 정당 투표를 통한 정당 득표율에 비례하여 선출</li> </ul>

▶ 8058-0203

### 5 갑국과 을국의 선거 제도에 대한 설명으로 옳은 것은?

- 갑국은 을국과 달리 의회 의원 선거에서 1인 2표제를 시행하고 있다.
- 갑국과 달리 을국에서는 과반수 의회 의석을 차지한 정당이 나타날 수 있다.
- 갑국의 지역구 선거구 제도는 을국의 지역구 선거구 제도보다 사표가 많이 발생한다.
- 을국에서는 갑국과 달리 정당 공천을 받지 않은 비례 대표 의원이 있다.
- 을국에서는 갑국과 달리 동일 선거구 내에서 당선자 간 투표 가치의 차등 문제가 발생할 수 있다.

▶ 8058-0204

6 표는 최근 실시된 갑국과 을국의 의회 의원 선거 결과이다. 이에 대한 분석 및 추론으로 옳은 것은? [3점]

▶ 8058-0206

〈갑국〉			〈을국〉		
구분	지역구 선거 정당 득표율(%)	지역구 의석수(석)	구분	정당 득표율(%)	지역구 의석수(석)
A당	45	80	E당	50	80
B당	30	70	F당	20	70
C당	10	30	G당	20	30
D당	15	20	H당	10	20

- B당의 의회 의석수와 F당의 의회 의석수는 같다.
- 갑국 지역구 선거에서 C당은 D당과 달리 과소 대표되었다.
- A당의 비례 대표 의원 의석수는 D당의 비례 대표 의원 의석수의 3배이다.
- 을국이 전형적인 의원 내각제 국가라면 E당이 단독 정부를 구성한다.
- 비례 대표 의원 선출에 있어서 F당은 G당과 달리 갑국의 제도 도입에 찬성할 것이다.

### 7 (가)~(다)에 대한 옳은 설명만을 <보기>에서 있는 대로 고른 것은?

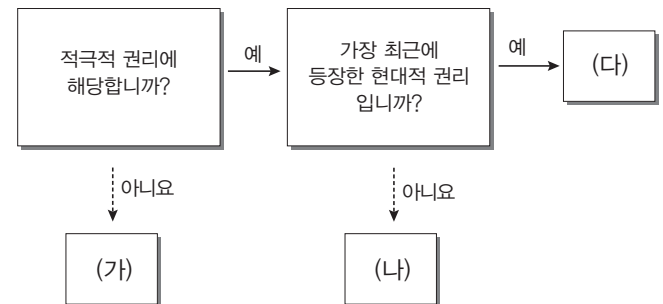
우리나라 헌법의 기본 원리 중 (가)는 국민의 복지에 대한 책임을 국가에 부여하고 사회권을 기본권으로 보장하는 헌법 원리이다. (나)는 국가 의사를 결정하는 주권이 국민에게 있다는 헌법 원리로 헌법 제1조 제2항 “대한민국의 주권은 국민에게 있고, 모든 권력은 국민으로부터 나온다.”에 잘 나타나 있다. (다)는 문화의 자율성을 인정하면서 국가가 문화를 보호하고 발전시켜야 한다는 헌법 원리로 국가가 문화의 중흥을 위해 적극 노력하는 것이 의무라는 의미를 담고 있다.

#### 보기

- 근로자의 근로 조건의 기준을 법률로 명확히 하는 것은 (가)를 실현하는 방안이다.
- (나)는 국가 권력이 갖는 정당성의 원천이 국민에게 있음을 의미한다.
- (다)의 실현 방안에는 평생 교육의 진흥, 의무 교육 제도 실시 등이 있다.
- 복수 정당제 실시는 (나)가 아닌 (가)를 실현하는 방안이다.

- ㉠ 가, ㉡
- ㉠ 가, ㉡      ㉢ 나, ㉣
- ㉠ 가, ㉡, ㉢
- ㉠ 나, ㉢, ㉣

### 8 기본권 (가)~(다)에 대한 설명으로 옳은 것은? (단, (가)~(다)는 각각 사회권, 자유권, 청구권 중 하나이다.) [3점]



- (나)는 다른 기본권 보장을 위한 수단적 권리이다.
- 진술 거부권을 고지받지 못하고 체포되었다면 (다)를 침해당한 것이다.
- (가)는 (다)와 달리 법률로 제한할 수 없는 권리이다.
- (나)는 (가)와 달리 천부 인권적 성격을 갖는 권리이다.
- (가), (나)는 (다)와 달리 포괄적 권리이다.



▶ 8058-0207

9 우리나라 국가 기관 (가)~(마)에 대한 설명으로 옳은 것은?

국가 기관	내용
(가)	국민이 직접 선출한 4년 임기의 대표들로 구성된 입법 기관
(나)	정부의 주요 정책을 심의하는 행정부 최고의 심의 기관
(다)	국민이 직접 선출한 5년 임기의 행정부 수반
(라)	행정 전반에 대한 감시와 감독을 하는 대통령 직속의 독립적 헌법 기관
(마)	상고심을 담당하는 사법부의 최고 기관

- ① (라)는 국가 예산안 심의·의결권 및 결산 심사권을 갖는다.
- ② (가)의 구성원은 (나)의 위원을 겸직할 수 있다.
- ③ (가)는 (라)의 장이 아닌 (마)의 장에 대한 임명 동의권을 갖는다.
- ④ (다)는 (가)의 장에 대한 임명권을 갖는다.
- ⑤ (가)~(마) 중 (가)만 헌법 개정을 제안할 수 있다.

▶ 8058-0208

10 밑줄 친 ㉠~㉣에 대한 옳은 설명만을 <보기>에서 있는 대로 고른 것은? [3점]

- 헌법 재판소는 갑이 “구치소 내 수용실 면적이 너무 좁아 인간의 존엄성을 침해당했다.”며 낸 헌법 소원 사건에서 재판관 전원 일치 의견으로 위헌 결정을 했다. 갑은 형기를 마치고 석방된 뒤 인간다운 생활을 할 수 없을 정도로 좁은 곳에 수용돼 있었다며 ㉠ 헌법 소원을 청구했었다.
- 개인 정보 유출 문제로 피해를 입은 피해자들이 국가에 주민등록번호 변경을 요청했으나 받아들여지지 않자 국가를 상대로 행정 소송을 제기하였다. 그리고 관련 법률이 헌법에 어긋난다고 보아 ○○ 고등 법원에 ㉡ 위헌 법률 심판 제청 신청을 하였으나 받아들여지지 않았다. 결국 피해자들은 ㉢ 헌법 소원을 제기하였고 헌법 재판소는 피해자들의 손을 들어주었다.

보기

- ㉠. 법원의 판결에 대해서 원칙적으로 ㉡을 제기할 수 없다.
- ㉡. ㉡은 법원이 직권으로 할 수도 있다.
- ㉢. ㉢은 해당 법률 조항의 위헌 여부가 재판의 전제가 된 경우에 제기되는 헌법 소원이다.
- ㉣. ㉣은 위헌 심사형 헌법 소원, ㉤은 권리 구제형 헌법 소원이다.

- ① ㉠, ㉡                      ② ㉠, ㉢                      ③ ㉡, ㉢
- ④ ㉠, ㉡, ㉢                ⑤ ㉡, ㉢, ㉣

▶ 8058-0209

11 다음 사례에 대한 옳은 법적 판단만을 <보기>에서 있는 대로 고른 것은?

미성년자인 갑은 부모의 동의 없이 평소에 갖고 싶어 했던 고가의 오토바이를 구매하여 친구 집에 몰래 두었다. 그러나 친구의 부모가 갑의 부모에게 이 사실을 알렸다. 갑의 부모는 갑을 혼내며 오토바이 구매 계약을 취소하겠다고 하였으며 갑도 후회하고 있다.

보기

- ㉠. 갑은 부모 동의 없이 오토바이 구매 계약을 단독으로 취소할 수 있다.
- ㉡. 갑이 구매 당시 성년 의제되었더라도 갑의 부모는 오토바이 구매 계약을 취소할 수 있다.
- ㉢. 갑이 계약서를 작성하였다면 갑의 부모는 오토바이 구매 계약을 취소할 수 없다.
- ㉣. 갑이 부모의 동의서를 위조했다면 갑 또는 갑의 부모는 오토바이 구매 계약을 취소할 수 없다.

- ① ㉠, ㉡                      ② ㉠, ㉢                      ③ ㉡, ㉢
- ④ ㉠, ㉡, ㉢                ⑤ ㉡, ㉢, ㉣

▶ 8058-0210

12 그림에 대한 법적 분석으로 옳지 않은 것은? [3점]

<사례 1>



<사례 2>



- ① 을과 정은 특수 불법 행위 책임을 질 수 있다.
- ② 을의 책임이 면제되면 갑은 손해에 대한 무과실 책임을 진다.
- ③ 을이 손해 방지를 위한 주의 의무를 다하지 못하였다면 손해 배상 책임을 진다.
- ④ 손님은 노트북 수리비를 병 또는 정에게 청구할 수 있다.
- ⑤ 만약 정의 가해 행위가 불법 행위가 아니라면 병은 손님의 손해에 대한 배상 책임이 없다.



▶ 8058-0211

### 13 밑줄 친 '법적 조치'와 관련한 내용으로 옳지 않은 것은?

갑은 초등학교 동창인 을이 돈을 빌려 달라고 하여 1년 후에 갚는 조건으로 1억 원을 빌려주었다. 그러나 1년이 지나도 을은 돈을 갚지 않았고 연락도 되지 않았다. 초등학교 동창들 얘기로 는 을의 사업이 잘된다고 하는데 을이 돈을 갚지 않아 갑은 너 무 화가 났다. 이에 갑은 법적 조치를 취하기로 하였다.

- ① 소송 가액으로 보아 소액 사건 심판 제도는 활용할 수 없다.
- ② 소 제기 전에 법원에 가압류 신청을 하면 강제 집행의 실효성을 확보하기에 유리하다.
- ③ 내용 증명 우편을 보내 공식적인 분쟁 해결 절차에 들어갔음을 알릴 수 있다.
- ④ 계약 시 집행력 있는 공증을 받았다면 소송 없이 강제 집행을 신청할 수 있다.
- ⑤ 소송 전 필수 절차인 민사 조정을 통해 분쟁을 신속하고 간편하게 해결할 수 있다.

▶ 8058-0212

### 14 다음 사례 (가), (나)에 대한 옳은 판단만을 <보기>에서 있는 대로 고른 것은? [3점]

(가)	(나)
갑이 배우자 을과 아들 병을 학대하여 을이 이혼 소송을 제기하였으며, 학대 행위에 대해 형사 고소도 하였다.	자녀가 없는 정과 무는 정외의 부정행위로 인하여 혼인을 계속하기 어렵다고 판단하여 합의 후 법원에 이혼 의사 확인 신청을 하였다.

**보기**

- ㄱ. 갑의 학대 행위로 인해 병에 대한 갑의 친권이 상실될 수도 있다.
- ㄴ. 을은 갑에게 손해 배상 청구를 할 수 있지만, 무는 정에게 손해 배상 청구를 할 수 없다.
- ㄷ. 정과 무는 자녀가 없으므로 이혼 숙려 기간을 거치지 않는다.
- ㄹ. (나)의 이혼과 달리 (가)의 이혼은 법이 정한 사유에 해당해야 가능하다.

- ① ㄱ, ㄷ                      ② ㄱ, ㄹ                      ③ ㄴ, ㄹ
- ④ ㄱ, ㄴ, ㄷ                ⑤ ㄴ, ㄷ, ㄹ

▶ 8058-0213

### 15 다음 법원의 판단에 부합하는 내용을 <보기>에서 고른 것은?

- 경찰관의 행위가 적법한 공무 집행을 벗어나 불법하게 체포한 것으로 볼 수밖에 없다면, 그 체포를 면하려고 반항하는 과정에서 갑이 경찰관에게 상해를 가한 것은 불법 체포로 인한 신체에 대한 현재의 부당한 침해에서 벗어나기 위한 행위로서 범죄가 성립하지 않는다.
- 을이 우회전을 하다가 전방에 정차하고 있는 버스를 발견하고 급제동 조치를 하였으나 빗길 때문에 미끄러져 중앙선을 침범하기에 이른 경우 을은 버스를 피하기 위하여 다른 적절한 조치를 취할 방도가 없는 상황에서 부득이 중앙선을 침범하게 된 것이므로 범죄가 성립하지 않는다.

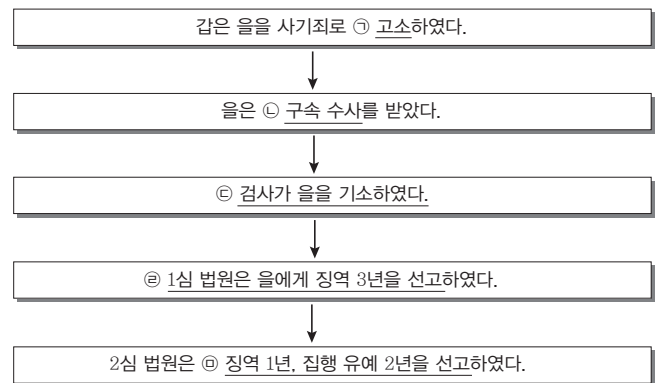
**보기**

- ㄱ. 갑의 행위는 비난 가능성이 없다.
- ㄴ. 을의 행위는 위법성이 조각된다.
- ㄷ. 갑, 을의 행위 모두 정당방위에 해당한다.
- ㄹ. 갑, 을의 행위 모두 범죄의 구성 요건에 해당한다.

- ① ㄱ, ㄴ    ② ㄱ, ㄷ    ③ ㄴ, ㄷ    ④ ㄴ, ㄹ    ⑤ ㄷ, ㄹ

▶ 8058-0214

### 16 밑줄 친 ㉠~㉣에 대한 설명으로 옳은 것은? [3점]




- ① 수사 절차는 ㉠을 통해서만 시작된다.
- ② 검사는 ㉡에 대해 법원에 구속 적부 심사 청구를 할 수 있다.
- ③ ㉢으로 인해 을은 피의자가 된다.
- ④ ㉣에 대해 검사 또는 피고인이 항소하였을 것이다.
- ⑤ ㉣에 의해 을은 구금된다.



▶ 8058-0215

**17** 그림의 갑~병과 관련한 형사 절차에 대한 옳은 설명을 <보기>에서 고른 것은? [3점]



**보기**

- ㄱ. 병은 소년법상 보호 처분을 받을 수 있다.
- ㄴ. 갑과 달리 을, 병은 검찰로 송치될 수 있다.
- ㄷ. 을은 형벌을 받지 않지만, 병은 형벌을 받을 수 있다.
- ㄹ. 을과 달리 갑에게는 소년법상 보호 처분을 내릴 수 없다.

- ① ㄱ, ㄴ    ② ㄱ, ㄷ    ③ ㄴ, ㄷ    ④ ㄴ, ㄹ    ⑤ ㄷ, ㄹ

▶ 8058-0216

**18** 다음 사례에 대한 옳은 설명만을 <보기>에서 있는 대로 고른 것은?

- 갑은 살인 혐의로 구속 기소되어 재판을 받던 중 진범이 잡혀 무죄로 석방되었다. 억울한 갑은 (가)를 활용하여 물질적·정신적 피해를 보상받으려 한다.
- 을은 같은 회사 직원 병에게 폭행을 당해 상해를 입어 형사 고소를 하였다. 그러나 손해에 대한 배상 청구는 민사 소송 제기 없이 형사 재판 과정에서 손해 배상 명령을 받을 수 있는 (나)를 활용하려 한다.

**보기**

- ㄱ. (가)는 구속 수사 후 무혐의로 불기소 처분을 받은 사람도 활용할 수 있다.
- ㄴ. (나)는 일정한 형사 사건에서만 활용할 수 있다.
- ㄷ. (가)는 형사 보상 제도, (나)는 배상 명령 제도이다.
- ㄹ. (가), (나) 모두 국가가 범죄 피해자 보호를 위해 보상 또는 배상을 하는 것이다.

- ① ㄱ, ㄷ    ② ㄱ, ㄹ    ③ ㄴ, ㄹ  
 ④ ㄱ, ㄴ, ㄷ    ⑤ ㄴ, ㄷ, ㄹ

▶ 8058-0217

**19** 국제 사회를 바라보는 관점 (가), (나)에 대한 설명으로 옳은 것은?

국제 사회를 바라보는 관점에는 (가), (나)가 있다. (가)는 국가가 이성적인 행위를 할 수 있다고 전제하고 국제기구를 통한 국제 평화 유지 및 공동의 이익 실현이 가능하다고 본다. 반면 (나)는 인간은 이기적이므로 국가도 자국의 이익을 우선시킬 수밖에 없다고 본다. 이에 따라 각국은 국제 사회에서 힘의 우위를 확보해야 한다고 본다.

- ① (가)는 홉스의 인간관을 바탕으로 한다.
- ② (가)는 동맹을 이용한 세력 균형 전략을 중시한다.
- ③ (나)는 집단 안보 체제를 통한 국제 평화 유지를 강조한다.
- ④ (나)는 (가)와 달리 국가 간 상호 의존 관계를 경시한다.
- ⑤ 냉전 시대의 군비 확장 경쟁은 (나)보다 (가)에 부합하는 예이다.

▶ 8058-0218

**20** 다음은 국제법의 법원(法源)을 나타낸 것이다. 이에 대한 옳은 설명을 <보기>에서 고른 것은? [3점]

법원	특징	사례
(가)	• 양자 간 또는 다자 간에도 체결될 수 있음 ...	한국·칠레 FTA
법의 일반 원칙	(나)	신의 성실의 원칙
(다)	• 관습 법규임 ...	(라)

**보기**

- ㄱ. (가)는 원칙적으로 체결 당사국이 아닌 국가에도 효력을 미친다.
- ㄴ. (나)에는 '적용 법규가 없을 경우 재판의 준거로 활용될 수 있음'이 들어갈 수 있다.
- ㄷ. (다)와 달리 법의 일반 원칙은 별도의 체결 절차가 없이 국가 간에 효력을 갖는다.
- ㄹ. (라)에는 '국내 문제 불간섭'이 들어갈 수 있다.

- ① ㄱ, ㄴ    ② ㄱ, ㄷ    ③ ㄴ, ㄷ    ④ ㄴ, ㄹ    ⑤ ㄷ, ㄹ

문항에 따라 배점이 다르니, 각 물음의 끝에 표시된 배점을 참고 하시오. 3점 문항에만 점수가 표시되어 있습니다. 점수 표시가 없 는 문항은 모두 2점입니다.

▶ 8058-0219

**1** 대화에는 갑, 을이 정치를 바라보는 관점이 나타나 있다. 이 에 대한 설명으로 옳은 것은?

교사 : 정치 현상에 대해 말해 보세요.  
 갑 : 정치 현상은 \_\_\_\_\_ (가)  
 을 : 정치 현상은 \_\_\_\_\_ (나)  
 교사 : 그렇다면 을은 갑과 달리 국가 이외의 다른 사회 집단에 서는 정치 활동이 나타나지 않는다고 보고 있군요.

- ① 갑은 국가 이전의 정치 현상을 설명하기 어렵다.
- ② 을은 갑보다 정치 활동의 주체를 다양하게 본다.
- ③ 갑, 을은 모두 국회의원들의 입법 활동을 정치로 본다.
- ④ (가)에 '소수 정치권력 엘리트가 국가의 정치권력과 관련 된 활동을 할 때만 나타나요.'가 들어갈 수 있다.
- ⑤ (나)에 '다양한 사회 집단 내에서 갈등을 해소하고 이해관 계를 조정하는 활동에서 나타나요.'가 들어갈 수 있다.

▶ 8058-0220

**2** 다음 자료에 대한 설명으로 옳은 것은? (단, A~C는 각각 로 크, 루소, 흄스 중 하나이다.)

그들의 주장에는 ㉠ 국가의 존재 이유에 대한 새로운 인식을 가 지게 하였다는 공통점이 있다. 자연 상태를 약육강식의 투쟁 상 태는 아니지만 불안정한 상태로 인식했던 A는 B의 사상과 맥락 이 같은 ㉡ 근대 민주주의 사상의 핵심이 되는 주장을 한다. 한 편, A, C는 각각 자연권을 보장받기 위해서는 주권을 군주에게 양도하거나 자연권을 일부 신탁해야 한다는 주장 중 하나를 내 세우지만, B는 이에 동의하지 않았다. 이들 중에는 자연권의 보 호를 위해서는 ㉢ 권력의 분립이 필요하다고 주장한 사람도 있 었다.

- ① ㉠은 국가가 목적적 존재라는 것이다.
- ② ㉡은 국민 주권주의 사상을 포함한다.
- ③ ㉢은 B의 주장으로 사법부의 독립을 부각시켰다.
- ④ A는 B와 달리 대의제 정치를 부정적으로 보았다.
- ⑤ B, C는 모두 통치자로서 군주의 존재를 인정하였다.

▶ 8058-0221

**3** 자료에 대한 설명으로 옳지 않은 것은? (단, A~C는 각각 고대 아테네 민주 정치, 근대 민주 정치, 현대 민주 정치 중 하나이다.)

[3점]

구분	예	아니요
대의제를 채택하였는가?	A, B	C
보통 선거제를 시행하는가?	B	A, C
(가)	A, C	B

- ① A의 성립에 계몽사상이 영향을 주었다.
- ② A에 비해 B에서는 참여 민주 정치가 활성화된다.
- ③ 운변제는 C에서 이용한 공직 담당자 선출 방식의 하나이다.
- ④ 중우 정치로 전락할 위험성은 C가 아닌 A에서 나타난 문 제점이다.
- ⑤ (가)에 '정치 참여자의 자격에 제한을 두었는가?'가 들어갈 수 있다.

▶ 8058-0222

**4** (가)~(다)는 우리나라의 민주 정치 발전 과정에서 있었던 헌 법 개정의 주요 내용들이다. 이에 대한 옳은 설명을 <보기>에서 고른 것은?

(가) 통일 주체 국민 회의에서 대통령을 간접 선거로 선출할 수 있도록 하였다.  
 (나) 양원제를 단원제로, 의원 내각제 정부 형태를 대통령제 정 부 형태로 전환하였다.  
 (다) 대통령 임기를 5년 단임으로 바꾸고, 국회의 권한을 확대 하고, 국민의 기본권 보장을 중시하였다.

**보기**

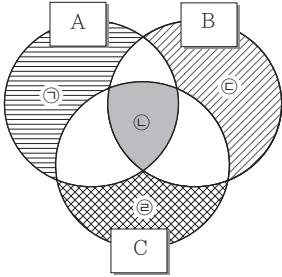
ㄱ. (가)에 따른 입법부의 비대로 견제와 균형의 원리가 왜곡되 었다.  
 ㄴ. (나)는 4·19 혁명 직후에 수립된 정부 형태를 헌법 개정으 로 바꾼 것이다.  
 ㄷ. (다)는 6월 민주 항쟁의 결과, 국민의 요구를 반영하여 이루 어진 개헌의 주요 내용이다.  
 ㄹ. (가) → (나) → (다)의 순으로 사건이 일어났다.

- ① ㄱ, ㄴ    ② ㄱ, ㄷ    ③ ㄴ, ㄷ    ④ ㄴ, ㄹ    ⑤ ㄷ, ㄹ



▶ 8058-0223

5 그림은 정치 참여 집단 A~C의 특징을 비교하기 위한 것이다. 이에 대한 설명으로 옳지 않은 것은? (단, A, B, C는 각각 시민 단체, 이익 집단, 정당 중 하나에 해당한다.) [3점]



\* ㉠에는 '정치적 책임을 짐', ㉡에는 '직업적 특수 이익을 추구함'이 각각 포함된다.

- ① ㉠에는 '정부와 의회를 매개함'이 포함된다.
- ② ㉡에는 '정치 사회화의 기능을 수행함'이 포함된다.
- ③ ㉢에는 '지역 대표제의 한계로 인해 쇠퇴함'이 포함된다.
- ④ ㉤에는 '권력 획득 목적과는 무관하게 공익 실현을 위해 시민들이 자발적으로 참여함'이 포함된다.
- ⑤ B는 특정 분야의 직업적 전문성을 바탕으로 A의 부족한 점을 보완할 수 있다.

▶ 8058-0224

6 표는 우리나라 헌법의 기본 원리 A~C와 이를 실현하는 방안들이다. 이에 대한 설명으로 옳은 것은?

구분	실현하는 방안
A	<ul style="list-style-type: none"> <li>• 기초 연금 등 공공 부조 제도 확대</li> <li>• <input type="text"/> (가)</li> </ul>
B	<ul style="list-style-type: none"> <li>• 재외 국민의 선거권 인정 범위 확대</li> <li>• <input type="text"/> (나)</li> </ul>
C	<ul style="list-style-type: none"> <li>• 침략적 전쟁을 위한 군사력 확대 금지</li> <li>• <input type="text"/> (다)</li> </ul>

- ① B는 분단 현실이 반영된 우리나라만의 특수한 원리이다.
- ② C는 A와 달리 복지 국가의 실현을 목표로 하는 헌법 원리이다.
- ③ (가)에는 '근로자의 생계 보장을 위한 최저 임금 보장'도 포함된다.
- ④ (나)에는 '선거 비용의 후보자 부담 원칙'도 포함된다.
- ⑤ (다)에는 '헌법에 의해 체결·공포된 조약에 대해 법률보다 우월한 효력 부여'도 포함된다.

▶ 8058-0225

7 우리나라의 헌법 기관 A~C에 대한 설명으로 옳은 것은?

국회는 청문회에서 위장 전입 논란으로 야당의 반대가 많았던 A 후보자에 대한 임명 동의안을 가결시켰다. 이제 A는 B가 의장이 되는 C의 구성원으로서 행정 각부를 통할하여 국정 전반을 총괄한다. 또, A는 B가 행정 각부의 장을 임명할 때, C의 구성원 중에서 제청하는 역할도 한다.

- ① A의 존재는 대통령제의 고유한 특성이다.
- ② C는 대통령 직속 기관으로서 행정에 대한 감찰을 주요 임무로 한다.
- ③ B는 국회의원 중에서는 C의 구성원을 임명할 수 없다.
- ④ A, B는 모두 국민의 직접 선거로 선출된다.
- ⑤ B가 C의 구성원인 각부 장관을 임명할 때는 국회의 동의가 요구되지 않는다.

▶ 8058-0226

8 표는 갑국의 의회 의원 선거 결과이다. 이에 대한 설명으로 옳은 것은? [3점]

정당	지역구 선거		비례 대표 선거		의회 구성	
	당선자 수	득표율 (%)	당선자 수	득표율 (%)	전체 의석수	의석률 (%)
A	159	41.3	69	34.5	228	45.6
B	135	34.9	75	37.5	210	42.0
C	6	15.8	36	18.0	42	8.4
D	0	5.1	14	7.0	14	2.8
E	0	2.9	6	3.0	6	1.2
합계	300	100	200	100	500	100

\* 정당은 A~E만 존재하고 무소속은 없으며, 지역구는 300개이다.

\*\* 비례 대표 선거는 정당 명부식 투표에 따른 정당 득표율에 비례하여 당선자를 배분한다.

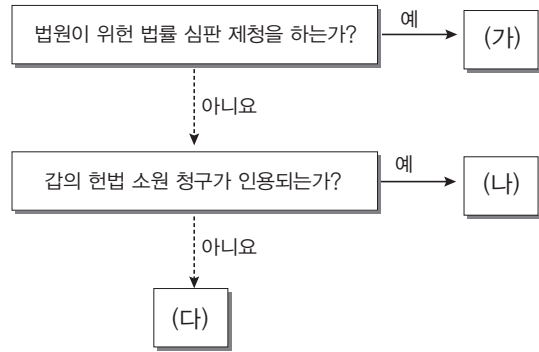
- ① 지역구 선거에서는 소수 대표제가 적용되었다.
- ② 지역구 선거에서 과대 대표된 정당은 과소 대표된 정당보다 많다.
- ③ 비례 대표 선거에서는 군소 정당의 난립을 막는 제도가 있다.
- ④ 지역구 선거와 결합한 비례 대표 선거 방식으로 직접 선거 원칙의 위배 논란이 생길 수 있다.
- ⑤ 지역구 선거에서 채택한 선거구 제도는 비례 대표제와 달리 정국 안정에 유리한 정당제를 촉진하는 경향이 있다.



▶ 8058-0227

### 9 자료에 대한 법적 판단으로 옳지 않은 것은? [3점]

갑의 형사 재판 중에 형법 A 조항의 위헌성 여부가 쟁점이 되었고, 갑은 위헌 법률 심판 제청 신청을 하였다. 갑은 이후 그림과 같은 상황을 예상하고 있다.



- ① (가)는 법원이 A 조항에 위헌 소지가 있다고 판단한 상황이다.
- ② (나)에서 헌법 재판소의 인용 결정에는 재판관 6인 이상이 찬성하여야 가능하다.
- ③ (가)에서는 헌법 재판소가 헌법 소원 심판이 아닌 위헌 법률 심판을 한다.
- ④ 갑이 제기하려는 헌법 소원은 위헌 심사형 헌법 소원의 유형에 해당한다.
- ⑤ (가), (나)는 (다)와 달리 헌법 재판소가 A 조항을 위헌이라고 판단하는 상황이다.

▶ 8058-0228

### 10 다음 사례에 대한 법적 분석으로 옳은 것은?

피자 가게를 경영하는 갑은 배달사원으로 을(21세)과 병(19세)을 고용하고 있다. 그런데 을이 고객 A의 주문을 받고, 배달용 오토바이를 급하게 몰아 피자를 배달하다가 길을 건너는 어린이 B를 치었다. 그리고 당일에 근무일이 아니었던 병은 자신 소유의 오토바이를 급하게 몰다가, 아파트 주차장에 세워 둔 C의 자동차를 파손시키는 사고를 내었다.

- ① 을의 사고와 A의 주문 사이에는 상당한 인과 관계가 인정된다.
- ② 을, 병은 가해 행위에 고의나 과실이 없더라도 손해 배상 책임을 진다.
- ③ 갑, 을은 공동 불법 행위자로서 B의 손해에 대해 연대 책임을 진다.
- ④ C는 병에게만 손해 배상을 청구할 수 있을 뿐 갑에게는 청구할 수 없다.
- ⑤ 갑이 을의 사고와 관련하여 손해 배상 책임을 진다면, 이는 무과실 책임에 해당한다.

▶ 8058-0229

### 11 (가), (나)는 국회에 상정된 법률안이다. 이에 대한 설명으로 옳은 것은? [3점]

(가)	(나)												
양곡관리법 일부 개정 법률안	선원법 일부 개정 법률안												
<table border="1" style="width: 100%; border-collapse: collapse;"> <tr> <td style="width: 20%;">의안 번호</td> <td style="width: 10%;">4801</td> <td style="width: 20%;">제출연월일</td> <td style="width: 10%;">2016. 12. 29.</td> <td style="width: 20%;">제출자</td> <td style="width: 10%;">정부</td> </tr> </table>	의안 번호	4801	제출연월일	2016. 12. 29.	제출자	정부	<table border="1" style="width: 100%; border-collapse: collapse;"> <tr> <td style="width: 20%;">의안 번호</td> <td style="width: 10%;">5999</td> <td style="width: 20%;">발의연월일</td> <td style="width: 10%;">2017. 3. 3.</td> <td style="width: 20%;">발의자</td> <td style="width: 10%;">○○ 의원 외 12명</td> </tr> </table>	의안 번호	5999	발의연월일	2017. 3. 3.	발의자	○○ 의원 외 12명
의안 번호	4801	제출연월일	2016. 12. 29.	제출자	정부								
의안 번호	5999	발의연월일	2017. 3. 3.	발의자	○○ 의원 외 12명								
<p><b>제안 이유 및 주요 내용</b></p> 국민생활 및 기업활동과 밀접하게 관련되어 있는 신고 민원의 처리 절차 ...	<p><b>제안 이유 및 주요 내용</b></p> 「선원의 훈련·자격증명 및 당직근무의 기준에 관한 국제협약(1977)」 ...												

- ① (가)와 같이 정부가 법률안을 제출하는 것은 전형적인 대통령제에서 나타나는 현상이다.
- ② (나)의 발의자 수는 법률안 발의의 최소 정족수에 해당한다.
- ③ (가)는 (나)와 달리 국무 회의의 심의를 거쳐 제출된다.
- ④ (나)는 (가)와 달리 상임 위원회의 의결을 거쳐야 본회의에 상정된다.
- ⑤ (가), (나)의 의결에는 국회 재적 의원 과반수의 찬성이 요구된다.

▶ 8058-0230

### 12 자료에 대한 옳은 설명만을 <보기>에서 있는 대로 고른 것은? (단, A, B, C는 각각 사회권, 자유권, 청구권 중 하나이다.)

질문	기본권의 종류		
	A	B	C
적극적 성격을 가지는 기본권인가?	예	예	아니오
(가)	아니오	예	아니오

**보기**

- ㄱ. C는 A나 B보다 역사적으로 오래된 기본권이다.
- ㄴ. (가)에는 “국가의 성립을 전제로 인정됩니까?”가 들어갈 수 있다.
- ㄷ. A가 사회권이면, (가)에 “수단적 성격의 기본권입니까?”가 들어갈 수 있다.
- ㄹ. (가)에 “현대에 들어와 강조되었습니까?”이면, C는 A의 침해에 대한 구제 절차도 포함된 기본권이다.

- ① ㄱ, ㄴ                      ② ㄱ, ㄷ                      ③ ㄴ, ㄹ
- ④ ㄱ, ㄷ, ㄹ                ⑤ ㄴ, ㄷ, ㄹ





▶ 8058-0231

▶ 8058-0233

**13** 다음 사례에 대한 법적 판단으로 옳은 것은? [3점]

갑은 이혼한 을 사이에 딸 병을 두고 있었는데, 갑이 정과 재혼하면서 정 아들 무를 친양자로 입양하였다. 그러자 병은 을과 살겠다고 을과 함께 거주하고 주민등록도 이전하였다. 갑은 어느 날 갑자기 교통사고를 당하여 사망하였는데, 모든 재산을 무에게 물려준다는 자필 유언장이 무에 의하여 발견되었다. 그리고 그 유언장이 ㉠ 법적으로 유효한지, ㉡ 피상속인의 채무가 상속 재산보다 많은 상태인지 아니면 ㉢ 피상속인의 채무가 상속 재산보다 적은 상태인지 여부의 확인 절차가 진행되고 있다.

- ① ㉠의 판단에는 유언장의 형식보다는 작성자 본인의 작성 여부가 중요하다.
- ② ㉠~㉢과 상관없이 을은 상속인이 될 수 없다.
- ③ ㉠, ㉡이면, 병은 무와 달리 상속을 포기할 수 있다.
- ④ ㉠, ㉢이면, 무는 유류분 반환 청구를 할 수 있다.
- ⑤ ㉠이 아니고, ㉡, ㉢의 확인이 불분명할 경우라면, 정은 한정 승인을 신청할 수 없다.

▶ 8058-0232

**14** 다음 판결에 부합하는 내용을 <보기>에서 고른 것은?

[3점]

- 피고인 갑이 직장에서 상사로서 범죄 행위를 저지른 부하 직원에게 징계 절차에 앞서 자진하여 사직할 것을 권유하였고 하여 이를 강요죄\*에서 협박에 해당한다고 볼 수 없다.
  - 피고인 을의 아버지와 피해자가 다투던 중 피해자가 을의 아버지를 폭행하므로 을이 피해자의 머리카락을 당겨서 다치게 한 것은 아버지의 신체에 대한 현재의 부당한 침해를 방위하기 위한 상당한 행위에 해당한다고 볼 수 있다.
- \* 강요죄 : 폭행 또는 협박으로 사람의 권리 행사를 방해하거나 의무 없는 일을 하게 한 자는 5년 이하의 징역 또는 3천만 원 이하의 벌금에 처한다.

**보기**

- ㄱ. 갑, 을은 모두 형벌을 받지 않는다.
- ㄴ. 갑의 행위는 을의 행위와 달리 행위자에 대한 사회적 비난 가능성이 없다.
- ㄷ. 을의 행위에는 갑의 행위와 달리 위법성 조각 사유가 존재한다.
- ㄹ. 갑, 을의 행위는 모두 형법상 규정된 범죄의 구성 요건에 해당하지 않는다.

- ① ㄱ, ㄴ    ② ㄱ, ㄷ    ③ ㄴ, ㄷ    ④ ㄴ, ㄹ    ⑤ ㄷ, ㄹ

**15** 밑줄 친 ㉠~㉣에 대한 법적 판단으로 옳은 것은? [3점]

갑은 커피 전문점을 창업하는 친구인 을에게 4천만 원을 1년간 빌려주면서 ㉠ 이자를 은행 정기 예금 금리 기준에 따라 월 10만 원씩 받기로 특약을 넣어 계약하였다. 차용 증서는 다음 날인 ㉡ 2017년 7월 22일에 작성하였다. 그런데 을은 변제 기일이 지났음에도 사업이 어려워졌다는 핑계를 대면서 ㉢ 원금은 물론 이자도 지급하지 않고 있다. 갑은 을로부터 변제를 받기 위해 ㉣ 내용 증명 우편을 발송하는 한편, ㉤ 법적 해결 절차에 착수하였다.

- ① ㉠은 불공정한 내용으로 계약의 무효 사유이다.
- ② ㉡은 갑과 을 간의 금전 대차 계약이 성립한 날이다.
- ③ ㉢은 불법 행위가 아니므로 손해 배상 청구권을 발생시키지는 않는다.
- ④ ㉣은 갑이 을에게 채무 변제를 요청한 사실을 증명할 수 있다.
- ⑤ ㉤에는 민사 조정이나 소액 사건 심판의 청구 절차도 포함된다.

▶ 8058-0234

**16** 다음 상황에 대한 법적 판단으로 옳은 것은?

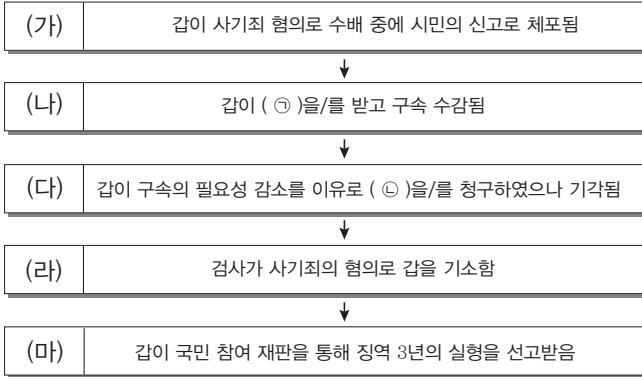
갑(22, 남)과 을(19세, 여)은 1년 전에 혼인한 사이이다. 직장에서 만나 결혼까지 성공한 두 사람 사이에 병(1세, 남)이 태어나면서 서로 다툼이 많아지더니 이혼 절차를 밟게 되었고, 결국 가정 법원으로부터 이혼 의사를 확인받아 이혼 신고를 하였다. 재산은 나누고, 병은 을이 양육하기로 하였다. 재산은 혼인 이전부터 갑이 소유하고 있던 A 아파트, 혼인 직후에 을이 구매한 B 자동차, 두 사람이 혼인 중 모은 예금 등이 있다.

- ① 을은 혼인 당시 법정 대리인의 동의는 필요 없었다.
- ② 갑, 을은 이혼 신고 후에 숙려 기간을 거쳤을 것이다.
- ③ 을은 병에 대한 양육권과 면접 교섭권을 가지게 된다.
- ④ A 아파트는 재산 분할에 따라 갑, 을이 나누게 될 것이다.
- ⑤ 을이 B 자동차를 구매할 때는 법정 대리인의 동의를 얻을 필요가 없었을 것이다.



▶ 8058-0235

### 17 (가)~(마)의 상황에 대한 법적 판단으로 옳지 않은 것은? [3점]



- ① (가)에서 갑의 체포 절차에는 ‘미란다 원칙’이 적용된다.
- ② (나)의 ㉠에는 ‘구속 전 피의자 심문’이 들어갈 수 있다.
- ③ (다)의 ㉡은 ‘구속 적부 심사’로서 법원에 청구한다.
- ④ (라)를 기점으로 갑은 피의자에서 피고인 신분으로 바뀐다.
- ⑤ (마)에서 갑에 대한 유·무죄 판단은 배심원들의 평결에 따른다.

▶ 8058-0236

### 18 근로자 갑, 을의 구제 절차에 대한 옳은 설명만을 <보기>에서 있는 대로 고른 것은? [3점]

- 갑, 을은 모두 A회사로부터 해고를 당한 상태이며, 한 사람은 노동조합의 활동과 관련한 이유로 해고를 당했다.
- 갑, 을은 지방 노동 위원회에 구제를 각각 신청하였는데, 모두 기각당하여 후속 절차를 진행 중이다.
- 갑의 경우는 을과 달리 A회사의 노동조합도 구제 절차를 밟을 수 있다.

#### 보기

- ㄱ. 갑은 을과 달리 부당 노동 행위를 이유로 구제 절차를 밟고 있다.
- ㄴ. 을은 갑과 달리 지방 법원에 해고 무효 확인 소송을 제기할 수 있다.
- ㄷ. 갑, 을의 해고 사유와 절차가 정당인지 여부는 민법상 계약 자유의 원칙에 위배되는지 여부로 판단한다.
- ㄹ. 갑, 을 모두 노동 위원회의 모든 구제 절차를 통해 구제가 안 될 경우 행정 소송을 제기할 수 있다.

- ① ㄱ, ㄴ                      ② ㄱ, ㄹ                      ③ ㄷ, ㄹ
- ④ ㄱ, ㄴ, ㄷ                ⑤ ㄴ, ㄷ, ㄹ

▶ 8058-0237

### 19 표의 A, B에 해당하는 국제법의 법원(法源)에 대한 옳은 설명만을 <보기>에서 있는 대로 고른 것은?

구분	주요 사례
A	<ul style="list-style-type: none"> <li>• 국제적인 위법 행위를 저지른 국가는 그 피해에 대해 배상 의무를 져야 한다.</li> <li>• 권리의 행사와 의무의 이행은 상대방의 신뢰에 어긋나지 않도록 성실하게 해야 한다.</li> </ul>
B	<ul style="list-style-type: none"> <li>• 한 나라의 국내 정치·사회·경제 체제에 대하여는 다른 나라가 간섭을 하여서는 안 된다.</li> </ul>

#### 보기

- ㄱ. A는 문명국들이 승인한 법의 보편적 원칙이다.
- ㄴ. B는 원칙적으로 체결 당사국들에만 효력이 발생한다.
- ㄷ. A는 B와 달리 별도의 비준 절차 없이 세계 다수의 국가들에 적용된다.
- ㄹ. A, B 모두 국제 사법 재판소의 재판 준거로 활용될 수 있다.

- ① ㄱ, ㄴ                      ② ㄱ, ㄹ                      ③ ㄷ, ㄹ
- ④ ㄱ, ㄴ, ㄷ                ⑤ ㄴ, ㄷ, ㄹ

▶ 8058-0238

### 20 국제 사회를 바라보는 갑, 을의 관점에 대한 설명으로 옳은 것은?

정치학자 갑은 국제 사회에서 평화는 곧 힘의 균형이며 이를 실현하기 위한 노력이 국제 평화를 달성하는 길이라고 주장한다. 그에 따르면 국제 관계는 국익에 도움이 되는가, 도움이 되지 않는가를 두고 ‘선’, ‘악’으로 구분될 수 있다고 한다. 반면, 을은 국제 사회도 인간의 세계와 다를 바 없는데 인간은 근본적으로는 선(善) 의지를 지니고 있으므로 상호 협력하여 공공선을 달성하는 것은 얼마든지 가능하다고 본다. 국제 문제를 해결하기 위해 다양한 국제기구와 국제법을 만들어 공조하고 타협하는 활동이 국제 사회의 본질이라고 본다.

- ① 갑은 국제기구의 의결에서 모든 국가가 동등한 표결권을 행사해야 한다고 강조할 것이다.
- ② 냉전 시대의 트루먼 독트린을 통한 평화 유지는 을의 주장을 뒷받침한다.
- ③ 갑은 을과 달리 자유주의적 관점에서 국제 사회를 바라본다.
- ④ 을은 갑과 달리 세력 균형 보다는 집단 안보를 강조할 것이다.
- ⑤ 갑, 을 모두 국제 사회가 무정부적 자유방임 상태임을 전제한다.

문항에 따라 배점이 다르니, 각 물음의 끝에 표시된 배점을 참고 하시오. 3점 문항에만 점수가 표시되어 있습니다. 점수 표시가 없 는 문항은 모두 2점입니다.

▶ 8058-0239

### 1 그림의 갑과 을이 정치를 바라보는 관점에 대한 설명으로 옳 은 것은?

오늘 주요 뉴스입니다.

㉠ 청와대, 국가 안보 회의(NSC) 긴 급 소집

㉡ A사, 노사 임금 협상 타결로 파업 위기 넘겨

㉠ 현상은 정치 현상이지만, ㉡ 현상은 정치 현상으로 볼 수 없어.

㉠ 현상과 ㉡ 현상 모두 정 치 현상으로 볼 수 있어.

- ① 갑은 정치가 국가 성립 이후에만 나타나는 현상이라고 본다.
- ② 을은 권위주의 국가에서는 정치가 나타나지 않는다고 본다.
- ③ 갑보다 을이 정치 활동의 주체를 광범위하게 본다.
- ④ 갑과 달리 을은 입법부의 입법 활동을 정치가 아니라고 본다.
- ⑤ 갑이 을에 비해 다원화된 현대 사회의 정치 현상을 더 잘 설명할 수 있다.

▶ 8058-0240

### 2 다음은 대표적인 근대 사상이 갑, 을의 주장이다. 이에 대한 설명으로 옳은 것은? [3점]

**갑** : 자연 상태에서 개인은 서로의 이익을 위해 끊임없이 투쟁 한다. 이러한 상태에서 개인의 안전을 확보하기 위해 계 약을 맺어 국가를 수립하고 통치권자에게 자연권을 양도해 야 한다.

**을** : 자연 상태는 평화롭지만 공정한 재판관, 법을 집행할 강력 한 권력이 없어 개인은 권리를 온전히 보호받지 못한다. 이 에 개인들은 자연권을 확실히 보장받기 위하여 계약을 통 해 국가를 만들었다.

- ① 갑은 주권이 국민에게 있다고 보았다.
- ② 을은 통치권자의 절대적 지배를 옹호하였다.
- ③ 갑은 을과 달리 국가를 목적이 아닌 수단으로 보았다.
- ④ 을은 갑과 달리 국가 권력의 분립을 강조하였다.
- ⑤ 갑과 을은 모두 직접 민주 정치를 옹호하였다.

▶ 8058-0241

### 3 자료에 대한 설명으로 옳지 않은 것은? (단, A~C는 각각 고대 아테네 민주 정치, 근대 민주 정치, 현대 민주 정치 중 하나이다.)

질문	답변		
	A	B	C
모든 구성원의 정치 참여가 보장되는가?	예	㉠	㉡
대의 민주제를 기본으로 하는가?	㉢	아니요	예

- ① A에서는 보통 선거가 실시되었다.
- ② B에서는 민회가 중요한 의사 결정 기관이었다.
- ③ C에서는 참정권이 제한되는 계층이 존재하였다.
- ④ B → C → A의 순서대로 민주 정치가 발달하였다.
- ⑤ ㉠에는 ‘예’, ㉡과 ㉢에는 ‘아니요’가 들어간다.

▶ 8058-0242

### 4 밑줄 친 ㉠~㉣에 대한 설명으로 옳은 것은? [3점]

- ▶ ㉠ 법치주의의 발달
  - ㉡ 형식적 법치주의 : 법적 절차와 형식에 치중  
→ ㉢ 법치주의의 위기 발생
  - ㉣ 실질적 법치주의 : 법률의 목적과 내용이 정의에 합치
- ▶ 법치주의와 민주 정치의 관계  
: 상호 보완적인 관계이면서 ㉣ 긴장 관계

- ① ㉠은 사람에 의한 지배를 지향한다.
- ② ㉡은 악법은 법이 아니라고 본다.
- ③ ㉢은 법치주의가 독재를 정당화하는 논리로 작용한 경우 를 들 수 있다.
- ④ ㉣은 통치의 합법성을 배제하고 정당성만을 중시한다.
- ⑤ ㉣은 일반적으로 법치주의가 변화를 추구하고, 민주 정치 는 안정을 추구하고기 때문이다.



▶ 8058-0243

5 표는 갑~병국의 정당별 의회 의석 분포를 나타낸 것이다. 이에 대한 옳은 설명을 <보기>에서 고른 것은? (단, 갑국과 병국은 2개의 정당이 번갈아 가면서 정권을 담당했다.) [3점]

(단위 : %)

구분	제1당	제2당	제3당	제4당
갑국	52	31	15	2
을국	33	31	26	10
병국	55	40	5	0

**보기**

- ㄱ. 갑국의 정부 형태가 의원 내각제라면 제1당이 집권당이 된다.
- ㄴ. 을국의 정부 형태가 대통령제라면 연립 정부가 구성될 것이다.
- ㄷ. 병국에 비해 을국이 국민의 다양한 의사를 반영하기가 쉬울 것이다.
- ㄹ. 을국과 병국이 의원 내각제라면 병국은 을국에 비해 정치적 책임 소재가 명확하지 않을 것이다.

- ① ㄱ, ㄴ    ② ㄱ, ㄷ    ③ ㄴ, ㄷ    ④ ㄴ, ㄹ    ⑤ ㄷ, ㄹ

▶ 8058-0244

6 A~C국의 의회 의원 선출 방식에 대한 설명으로 옳은 것은? [3점]

A국	지역구 의원으로만 의회가 구성되는데, 해당 지역구에서 가장 많은 득표를 한 1명만이 당선자가 된다.
B국	지역구 의원으로만 의회가 구성되는데, 해당 지역구에서 득표 순으로 2명까지 당선된다.
C국	지역구 의원 절반과 비례 대표 의원 절반으로 의회를 구성한다. 지역구에서는 최다 득표자 1명씩을 뽑고, 비례 대표 의원 선출은 유권자의 정당 투표에 따른 정당별 득표율에 비례하여 의석을 배분하는 방식이다.

- ① B국에서는 선거구 내 당선자 간 득표 차로 투표 가치 차등 문제가 발생할 수 있다.
- ② A국은 B국에 비해 득표율과 의석률의 차이가 작을 것이다.
- ③ A국의 선거 제도에 비해 B국의 선거 제도에서 사표가 더 많이 발생할 것이다.
- ④ C국은 A국에 비해 소수 정당의 의회 진출 가능성이 낮을 것이다.
- ⑤ B국과 C국은 유권자가 2표씩을 행사한다.

▶ 8058-0245

7 밑줄 친 '이것'을 실현하기 위한 방안으로 보기 어려운 것은?

이것은 국가의 의사를 전반적·최종적으로 결정할 수 있는 최고의 권력인 주권을 국민이 보유한다는 것과 모든 국가 권력의 정당성의 근거를 국민에게서 찾아야 한다는 것을 내용으로 하는 헌법의 기본 원리이다.

- ① 국가 주요 정책을 국민 투표로 결정한다.
- ② 언론·출판·집회·결사의 자유를 보장한다.
- ③ 정당 설립의 자유와 복수 정당제를 보장한다.
- ④ 일정한 연령 이상의 국민에게 선거권을 부여한다.
- ⑤ 인간의 존엄성을 실현하는 근로 조건의 기준을 법률로 정한다.

▶ 8058-0246

8 <자료 1>은 기본권 A, B를 보장하고 있는 헌법 조항을 나타낸 것이고, <자료 2>는 기본권 A, B를 비교한 것이다. (가)~(다)에 들어갈 옳은 질문을 <보기>에서 고른 것은? (단, A, B는 각각 사회권과 청구권 중 하나이다.)

<자료 1>

기본권	관련 헌법 조항
A	제27조 ① 모든 국민은 헌법과 법률이 정한 법관에 의하여 법률에 의한 재판을 받을 권리를 가진다.
B	제31조 ① 모든 국민은 능력에 따라 균등하게 교육을 받을 권리를 가진다.

<자료 2>

구분	A	B
(가)	예	아니요
(나)	아니요	예
(다)	예	예

**보기**

- ㄱ. 소극적·방어적 성격의 권리인가?
- ㄴ. 국가의 적극적인 행위를 요구하는 권리인가?
- ㄷ. 다른 기본권 보장을 위한 수단적 성격의 권리인가?
- ㄹ. 모든 국민의 인간다운 생활을 보장하기 위한 권리인가?

- (가)    (나)    (다)
- ① ㄱ    ㄴ    ㄷ
  - ② ㄱ    ㄷ    ㄴ
  - ③ ㄴ    ㄷ    ㄹ
  - ④ ㄴ    ㄹ    ㄱ
  - ⑤ ㄷ    ㄹ    ㄴ



▶ 8058-0247

▶ 8058-0249

### 9 밑줄 친 ㉠~㉣에 대한 설명으로 옳은 것은?

### 11 대화의 밑줄 친 '이 원칙'의 내용으로 옳은 것은?

○○신문      2000년 △△월 △△일

여야 원내 대표는 어제 의원 회관에서 만나 ㉠ 입시회 운영 일정에 합의했다. 우선 29일에는 본회의를 열어 ㉡ 교섭 단체 대표 연설을 듣고, 30일에는 ㉢ 국무총리를 출석시켜 대정부 질문을 할 예정이다. 이후 5일간은 △△사건에 대한 ㉣ 국정 조사를 실시한다. 마지막 날은 ㉤ ○○법률 개정안을 처리할 예정이다.

갑(보험 설계사) : 이번에 고객 A에게 보험 상품을 판매했는데, A가 계약을 취소했습니다. 그러자 회사에서는 저에게 지급한 수당을 반환하라는 통보를 했습니다. 고객의 민원으로 보험 계약이 취소된 경우에는 이유를 불문하고 이미 지급된 수당을 환수해야 한다는 약관 조항 때문입니다.

을(번호사) : 고객의 민원으로 보험 계약이 취소되었다고 그 취소 사유가 회사의 잘못인지 보험 설계사의 잘못인지도 따지지 않고 무조건 수당을 환불해야 한다는 약관 조항은 보험 설계사의 권익을 심각하게 침해하므로 민법의 '이 원칙'에 근거 무효입니다.

- ① ㉠은 대통령의 요구에 의하여 개최될 수 있다.
- ② ㉡은 본회의에서 처리할 안건을 미리 심의·의결한다.
- ③ ㉢은 행정부의 최고 심의 기관인 국무회의의 의장이 된다.
- ④ ㉣은 국정 운영 전반에 관하여 정기적으로 실시한다.
- ⑤ ㉤의 의결은 국회 재적 의원 과반수의 찬성이 있어야 한다.

- ① 계약 당사자는 자유의사에 따라 계약을 체결할 수 있다.
- ② 계약 내용에 있어서 당사자 간 균형을 잃어서는 안 된다.
- ③ 과실이 없더라도 일정한 경우 손해 배상 책임을 질 수 있다.
- ④ 본인 소유의 재산이더라도 공공복리를 위하여 제한될 수 있다.
- ⑤ 법률관계의 형성은 개인의 자율적인 판단에 기초하여야 한다.

▶ 8058-0248

### 10 자료에 대한 옳은 설명을 <보기>에서 고른 것은? [3점]

▶ 8058-0250

○○ 지방 법원  
위헌 제청 결정

사건 번호 2017...

...(중략)...

주문

위 사건에 관하여 △△법률 제45조의 위헌 여부에 관한 심판을 제청한다.

이유

... △△법률 제45조는 위헌이라고 인정할 만한 상당한 이유가 있으므로 주문과 같이 결정한다.

2017. . . .  
판사 갑 (인)

### 12 그림에서 판사가 다음과 같이 판결한 근거로 옳은 것을 <보기>에서 고른 것은? [3점]

**보기**

ㄱ. 이 결정으로 △△법률 제45조는 효력을 상실한다.  
 ㄴ. 이 결정을 위해서는 재판 당사자가 반드시 법원에 신청해야 한다.  
 ㄷ. 당해 사건의 재판에서 △△법률 제45조가 전제가 되어야 한다.  
 ㄹ. 이 문서와 관련한 심판이 열릴 경우 재판관 중 4인은 합헌에, 5인은 위헌에 찬성하면 △△법률 제45조는 효력을 유지한다.

〈사건의 내용〉

미성년자인 갑이 주차장에 불을 질러 을의 차가 소실되었고, 이에 대해 을이 갑의 부모에게 손해 배상을 요구했으나 거절당하자 소송을 제기했다.

갑의 부모는 갑의 법정 감독자로서 갑의 행위에 대해 특수 불법 행위 책임을 져야 한다.



**보기**

ㄱ. 갑은 행위 당시 책임을 변식할 능력이 없었다.  
 ㄴ. 갑의 부모는 갑에 대한 감독상의 과실이 있었다.  
 ㄷ. 갑은 을의 손해를 배상할 경제적 능력이 없었다.  
 ㄹ. 갑의 행위가 과실이 아닌 고의였음이 증명되었다.

- ① ㄱ, ㄴ    ② ㄱ, ㄷ    ③ ㄴ, ㄷ    ④ ㄴ, ㄹ    ⑤ ㄷ, ㄹ

- ① ㄱ, ㄴ    ② ㄱ, ㄷ    ③ ㄴ, ㄷ    ④ ㄴ, ㄹ    ⑤ ㄷ, ㄹ



▶ 8058-0251

### 13 다음 자료에 대한 옳은 설명을 <보기>에서 고른 것은?

[3점]

갑은 을에게 1년 전에 4천만 원을 빌려주었으나 을은 갚기로 한 날짜가 지났는데도 갚지 않고 있다. 이에 다음의 법적 절차를 밟을 계획이다.

- (가) 대여금을 받기 위한 소송을 제기한다.
- (나) 을 소유의 재산에 대한 가압류를 신청한다.
- (다) 대여금을 준 사실, 대여금 액수, 갚기로 한 날짜가 이미 지났다는 사실 등을 기재한 내용 증명 우편을 을에게 발송한다.

**보기**

- ㄱ. (가)를 위해서는 먼저 민사 조정 제도를 거쳐야 한다.
- ㄴ. (나)가 받아들여지면 등기부 갑구에 관련 내용이 기재된다.
- ㄷ. (다)의 기재 내용대로 갑과 을의 채권 채무 관계가 확정된다.
- ㄹ. (다) → (나) → (가)의 순서로 진행하는 것이 일반적이다.

- ① ㄱ, ㄴ                      ② ㄱ, ㄷ                      ③ ㄴ, ㄷ
- ④ ㄴ, ㄹ                      ⑤ ㄷ, ㄹ

▶ 8058-0252

### 14 다음 사례에 대한 법적 판단으로 옳지 않은 것은?

갑은 을과 법률혼 부부로 결혼한 지 1년이 지나서 아들 A를 낳았다. 이후 아이가 생기지 않자, 병의 딸 B를 적법한 절차를 거쳐 친양자로 입양하였다. 그런데 얼마 후 갑과 을은 일상생활에서 의견이 맞지 않아 자주 다투었고, 결국 두 사람은 이혼하기로 합의하고 절차를 진행하기로 했다. 현재 갑과 을이 혼인 중 공동으로 마련한 재산은 모두 갑 명의로 되어 있다.

- ① 갑과 을이 이혼하기 위해서는 이혼 숙려 기간을 거쳐야 한다.
- ② 이혼 시 을은 갑에 대해 재산 분할 청구권을 행사할 수 있다.
- ③ 갑과 을의 이혼 효력은 이혼 의사 확인서를 발급받은 때에 발생한다.
- ④ B가 친양자로 입양된 이후 병이 사망할 경우 B는 병의 상속인이 되지 않는다.
- ⑤ 이혼 후 갑이 A의 양육권을 가질 경우 을은 A에 대한 면접 교섭권을 가진다.

▶ 8058-0253

### 15 다음 자료에 대한 법적 판단으로 옳은 것은? [3점]

- A는 2017년 5월 10일에 C에게 차용증을 써 주고 5천만 원을 빌렸다.
- B는 보증금 2억 원에 A와 임대차 계약 후 2017년 8월 1일에 입주하였다. 바쁜 생활 탓에 1주일 뒤인 8월 8일에 주민 센터에서 전입 신고를 하고 임대차 계약서에 확정 일자를 받았다.
- 다음의 등기사항 전부 증명서는 B가 확정 일자를 받을 당시에 확인한 것이다.

〈A 소유 ○○주택의 등기사항 전부 증명서의 일부〉				
【(가)】				
순위 번호	등기 목적	접수	등기 원인	권리자 및 기타 사항
1	저당권 설정	2017년 8월 3일 제○○○○호	2017년 7월 8일 설정 계약	채권액 1억 원 채무자 A 저당권자 D (이하 생략)

- ① (가)에 들어갈 용어는 갑구이다.
- ② B는 2017년 8월 8일에 대항력의 요건을 갖추었다.
- ③ D는 저당권자이므로 ○○주택을 점유하게 된다.
- ④ D가 저당권을 실행할 경우 B는 D에 우선하여 보증금을 변제받는다.
- ⑤ ○○주택이 경매로 넘어가서 처분될 경우 A와 C의 법률관계는 소멸한다.

▶ 8058-0254

### 16 범죄의 성립 여부와 관련하여 (가)~(라)의 사례에 대한 옳은 설명을 <보기>에서 고른 것은? (단, 갑~정은 모두 형사 미성년자가 아니다.)

- (가) 갑은 아들의 배고픔을 덜어 주기 위해 빵집에서 빵을 훔쳤다.
- (나) 을은 친구의 가방에서 돈을 훔쳤는데 친구가 그 사실을 알지 못한 상태에서 사망했다.
- (다) 병은 심신 상실 상태에서 행인에게 막대기를 휘둘러 상해를 입혔다.
- (라) 정은 갑자기 덤벼드는 맹견을 피하여 어쩔 수 없이 남의 집에 무단으로 들어갔다.

**보기**

- ㄱ. (가)에서 갑은 사회적으로 비난받을 만한 책임이 없다.
- ㄴ. (나)에서 을의 행위는 절도죄의 구성 요건이 충족되지 않았다.
- ㄷ. (다)에서 병의 행위는 책임이 조각되는 경우에 해당된다.
- ㄹ. (라)에서 정은 위법성 조각 사유에 해당한다.

- ① ㄱ, ㄴ                      ② ㄱ, ㄷ                      ③ ㄴ, ㄷ                      ④ ㄴ, ㄹ                      ⑤ ㄷ, ㄹ



▶ 8058-0255

17 다음 판례에서 공통적으로 적용한 죄형 법정주의의 파생 원칙으로 가장 적절한 것은?

- 균형법 제64조 제1항의 상관 면전 모욕죄의 구성 요건은 '상관을 그 면전에서 모욕하는' 것인데, 여기에서 '면전에서'라는 함은 얼굴을 마주 대한 상태를 의미하는 것임이 분명하므로, 전화를 통하여 통화하는 것을 면전에서의 대화라고는 할 수 없다. 따라서 '상관을 전화통화로 모욕하는 행위'가 '상관을 그 면전에서 모욕하는 행위'에 포함된다고 본 원심 판결은 잘못이다. (대판 2002도2539)
- 주민등록법 제21조 제2항 제3호는 허위의 주민등록번호를 생성하여 자기 또는 다른 사람의 재물이나 재산상의 이익을 위하여 이를 사용한 자를 처벌한다고 규정하고 있다. 그런데 피고인이 허위의 주민등록번호를 생성하여 사용한 것이 아니라 타인에 의하여 이미 생성된 주민등록번호를 단순히 사용한 것에 불과하다면, 피고인의 이러한 행위는 위 법 조항의 구성 요건을 충족시켰다고 할 수 없다. 따라서 '타인에 의하여 이미 생성된 주민등록번호를 사용한 자'가 주민등록법상 '허위의 주민등록번호를 생성하여 이를 사용한 자'에 포함된다고 본 원심 판결은 잘못이다. (대판 2003도6535)

- ① 적정성의 원칙                      ② 명확성의 원칙
- ③ 관습 형법 금지의 원칙            ④ 유추 해석 금지의 원칙
- ⑤ 형벌 효력 불소급의 원칙

▶ 8058-0256

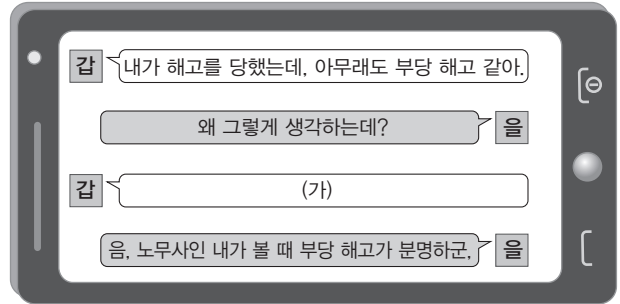
18 밑줄 친 ㉠~㉣에 대한 설명으로 옳은 것은? [3점]

- 2017. 3. 4. 고등학생 갑(17세)이 동급생 을(17세)을 1년 동안 상습적으로 폭행한 혐의로 ㉠ 구속 수사를 받게 됨
- 2017. 3. 7. 검찰은 ㉡ 갑을 기소함
- 2017. 3. 10. ㉢ ○○ 지방 법원 단독판사 병은 갑을 가정 법원 소년부로 송치함
- 2017. 3. 30. 갑은 ㉣ 소년원 송치 처분을 받음

- ① ㉠에 대해 갑은 가석방을 청구할 수 있다.
- ② ㉡에 의해 갑은 피고인에서 피의자가 된다.
- ③ ㉢에 의해 을은 형사 재판의 원고가 된다.
- ④ ㉢은 갑이 소년법상 보호 처분을 받아야 한다고 판단했다.
- ⑤ ㉣은 형벌 중 자유형에 해당한다.

▶ 8058-0257

19 빈칸 (가)에 들어갈 말로 적절한 것을 <보기>에서 고른 것은? [3점]



보기

- ㄱ. 회사가 부도 직전이어서 어쩔 수 없었다고 해고 사유에 기재되어 있었어.
- ㄴ. 부장님 설명으로는 연장자순으로 해고 대상자를 정했는데, 나도 포함되었다고 했어.
- ㄷ. 퇴근하면서 해고 통지를 받은 거야. 다음 날부터 나오지 말라는 내용이 전부야.
- ㄹ. 문서로 해고 통지를 하고 끝이야. 불편해도 얼굴을 맞대고 말해야지.

- ① ㄱ, ㄴ    ② ㄱ, ㄷ    ③ ㄴ, ㄷ    ④ ㄴ, ㄹ    ⑤ ㄷ, ㄹ

▶ 8058-0258

20 국제법의 법원 A~C에 대한 옳은 설명을 <보기>에서 고른 것은? (단, A~C는 각각 조약, 국제 관습법, 법의 일반 원칙 중 하나이다.)

(○ : 예, × : 아니오)

구분	A	B	C
국가 간 합의에 의해 문서로 명시되었는가?	○	×	×
국제 사회의 관행이 법적 확신을 얻었는가?	×	○	×
(가)	○	○	○

보기

- ㄱ. 우리나라에서 A에 대한 체결권은 국회에 있다.
- ㄴ. B가 국내에 적용되려면 입법 절차를 거쳐야 한다.
- ㄷ. C의 예로 '불법 행위에 대한 손해 배상 책임 원칙'을 들 수 있다.
- ㄹ. (가)에는 '국제 사법 재판소에서 적용하는 규범인가?'가 들어갈 수 있다.

- ① ㄱ, ㄴ    ② ㄱ, ㄷ    ③ ㄴ, ㄷ    ④ ㄴ, ㄹ    ⑤ ㄷ, ㄹ

문항에 따라 배점이 다르니, 각 물음의 끝에 표시된 배점을 참고 하시오. 3점 문항에만 점수가 표시되어 있습니다. 점수 표시가 없 는 문항은 모두 2점입니다.

▶ 7058-0159

## 1 정치를 바라보는 관점 A, B에 대한 설명으로 옳은 것은?

A는 사회적 갈등을 해결하고 질서를 유지하기 위해서는 무력을 독점적으로 지니고 강제할 수 있는 국가의 역할이 중요하므로, 국가 활동을 중심으로 정치를 이해해야 한다고 본다. 그렇지만 오늘날에는 국가 이외에도 다양한 정치 집단이 사회적 갈등의 해결, 정치적 의사 형성 과정에 참여하여 영향을 끼치고 있다. 이러한 현상에 주목하여 B는 국가 이외의 다양한 정치 집단도 정치 과정의 주체로서 인정하고 있다.

- ① A에 따르면 정치란 공권력을 동원하여 사회 질서를 유지 하는 활동이다.
- ② B는 국가와 정치는 무관하다고 주장한다.
- ③ A와 달리 B는 정치 활동이 소수 엘리트에 의해 이루어진 다고 본다.
- ④ B보다 A가 현대 민주주의 사회의 정치 개념으로 적합하다.
- ⑤ A, B 모두 정치를 위에서 아래로의 지배와 통제를 중심으 로 파악한다.

▶ 7058-0160

## 2 법치주의의 유형 (가), (나)에 대한 옳은 분석 및 추론을 <보기>에서 고른 것은?

(가) 법은 일정한 절차에 따라 제정되면 그 내용의 정당성 여부 나 선악과는 무관하게 법으로서 효력을 가지게 된다.  
(나) 합법적 절차를 거쳐 제정된 법이라 할지라도 정의나 헌법 의 이념에 부합하지 않은 경우에는 법으로서의 효력을 가 질 수 없다.

### 보기

ㄱ. (가)는 통치자의 자의적 통치를 강화하는 수단으로 이용될 수 있다.  
ㄴ. (나)의 실현 수단으로 위헌 법률 심판 제도를 들 수 있다.  
ㄷ. (가)는 (나)와 달리 통치의 형식적 합법성을 인정한다.  
ㄹ. (가), (나) 모두 법 내용의 실질적 정당성을 법치의 필수적 요소로 본다.

- ① ㄱ, ㄴ    ② ㄱ, ㄷ    ③ ㄴ, ㄷ    ④ ㄴ, ㄹ    ⑤ ㄷ, ㄹ

▶ 7058-0161

## 3 다음은 대표적인 근대 사회 계약론자 갑, 을의 견해이다. 이 에 대한 설명으로 옳은 것은? [3점]

갑 : 인간은 자유롭게 태어나지만 여기저기에서 쇠사슬로 묶여 고통을 겪고 있다. 이런 문제점을 해결하기 위해 사람들은 국가를 만들고 일반 의지에 따라 국가를 운영한다.  
을 : 자연 상태에서 모든 사람들은 서로에게 능대가 되어 끝없 는 투쟁을 벌이게 된다. 사람들이 이러한 상태를 벗어나 안 전과 질서를 확보하기 위해서는 국가를 만들고 강력한 권 력자가 그 국가를 통치하도록 해야 한다.

- ① 갑은 국가의 중요한 의사 결정은 선출된 대표를 통해 이루 어져야 한다고 보았다.
- ② 을은 구성원들의 안전과 질서를 확보하기 위해서는 군주 정이 필요하다고 보았다.
- ③ 갑은 을과 달리 통치자의 권력 남용을 막기 위해 권력 분 립을 주장하였다.
- ④ 을은 갑과 달리 국가 권력이 시민의 권리 보장을 위한 수 단이라고 보았다.
- ⑤ 갑, 을 모두 권력 기관 간 견제와 균형의 원리를 강조하였다.

▶ 7058-0162

## 4 표는 '우리 사회 부패 발생 원인에 대한 인식'을 조사한 결과 이다. 이에 대한 옳은 분석만을 <보기>에서 있는 대로 고른 것은? [3점]

(단위 : %)

항목	일반 국민	기업인	전문가	공무원
부패 유발적인 사회 문화	36.3	42.3	50.0	46.1
개인의 윤리 의식 부족	27.2	16.6	16.7	19.2
고비용 정치 구조	19.0	12.0	11.4	21.6
불합리한 법·제도·규제	16.2	25.1	17.8	11.3
기타	0.8	3.4	4.1	1.4

\* 반올림 오차 등으로 인하여 조사 대상별 인식 합계가 100%가 아닌 경우도 있음

### 보기

ㄱ. 일반 국민보다 공무원이 개인의 윤리 의식 부족을 부패의 원인으로 더 중시한다.  
ㄴ. 부패의 원인으로 법·제도·규제의 문제점을 가장 크게 지 적하는 비율은 기업인이 가장 높다.  
ㄷ. 전체 조사 대상자들이 부패의 가장 큰 원인으로 보고 있는 것은 부패 유발적 사회 문화이다.  
ㄹ. 전문가들은 부패의 원인으로 개인의 윤리 의식 부족보다 불 합리한 법·제도·규제를 지적하는 비율이 더 높다.

- ① ㄱ, ㄴ    ② ㄱ, ㄹ    ③ ㄴ, ㄷ    ④ ㄱ, ㄷ, ㄹ    ⑤ ㄴ, ㄷ, ㄹ





[5~6] 표는 전형적 의원 내각제 국가인 갑국의 의회 의원 선거에서 각 정당이 얻은 결과이다. 물음에 답하시오. (단, 의회는 지역구 의원으로만 구성되며, 선거구는 t대, t+1대 모두 200개로 동일하다.)

구분 정당	t대 의회		t+1대 의회	
	득표율(%)	의석수(석)	득표율(%)	의석수(석)
A당	47.5	87	45.5	103
B당	38.8	101	40.3	83
C당	9.6	10	8.5	11
D당	4.1	2	5.7	3

▶ 7058-0163

5 갑국의 의회 의원 선거 제도와 선거 결과에 대한 분석 및 추론으로 가장 옳은 것은? [3점]

- ① 중·대선거구제를 채택하고 있다.
- ② t대보다 t+1대에서 A당의 정당별 득표율과 의석률 불일치가 크게 나타났다.
- ③ t대보다 t+1대에서 B당의 의석률과 득표율 차이가 더 크다.
- ④ t대와 t+1대 행정부 수반의 소속 정당은 동일할 것이다.
- ⑤ t대를 기준으로 한 t+1대의 정당별 의석수 변동률은 A당보다 C당이 크다.

▶ 7058-0164

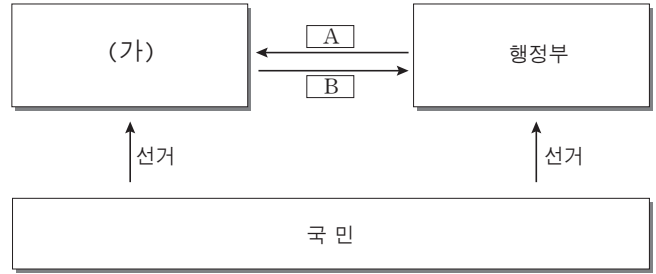
6 갑국의 정당 제도 유형이 가진 일반적 특징을 <보기>에서 고른 것은?

보기

- ㄱ. 강력한 정책 추진이 가능하다.
- ㄴ. 정치적 책임 소재가 불분명하다.
- ㄷ. 다수당의 횡포가 나타날 수 있다.
- ㄹ. 정당 간 대립 시 중재가 용이하다.

- ① ㄱ, ㄴ    ② ㄱ, ㄷ    ③ ㄴ, ㄷ    ④ ㄴ, ㄹ    ⑤ ㄷ, ㄹ

7 그림과 같은 전형적인 정부 형태에 대한 옳은 설명을 <보기>에서 고른 것은?



\* A, B는 견제 권한, 관련된 화살표는 견제 방향을 의미함

보기

- ㄱ. 행정부 수반의 임기가 보장되지 않는다.
- ㄴ. (가)의 구성원은 행정부 각료를 겸직할 수 없다.
- ㄷ. A에는 법률안 거부권이 들어갈 수 있다.
- ㄹ. B에는 내각 불신임권이 들어갈 수 있다.

- ① ㄱ, ㄴ    ② ㄱ, ㄷ    ③ ㄴ, ㄷ    ④ ㄴ, ㄹ    ⑤ ㄷ, ㄹ

▶ 7058-0166

8 다음 글에서 설명하고 있는 우리 헌법의 기본 원리를 실현하기 위한 방안과 거리가 먼 것은?

현대 민주 국가는 민주적 절차에 따라 선출된 대표자들이 국가의 주요 정책을 결정하게 하고 민주적 정당성을 가진 권력을 바탕으로 개인의 자유와 권리를 보장하고자 한다. 즉, 개인의 자유가 존중되며 국가 권력이 국민의 동의와 지지를 바탕으로 행사되어야 한다는 것을 우리 헌법에서는 하나의 기본 원리로 제시하고 있다.

- ① 권력 분립과 사법권의 독립을 보장한다.
- ② 법률이 정하는 바에 의하여 최저 임금제를 시행한다.
- ③ 복수 정당제를 바탕으로 자유로운 정당 활동을 보장한다.
- ④ 구속을 당한 사람에게 구속 적부 심사 청구권을 보장한다.
- ⑤ 피고인의 자백이 그에게 불리한 유일한 증거일 때에는 이를 유죄의 증거로 삼지 않는다.



▶ 7058-0167

▶ 7058-0169

**9** (가), (나)의 기본권에 대한 설명으로 옳은 것은?

(가) 이 기본권은 근대에 국민 주권 사상이 확립됨에 따라 보편화되기 시작했으며, 오늘날에는 민주 사회의 주인인 국민들이 국가 기관의 형성과 국가의 정치적 의사 형성 과정에 참여할 수 있는 것이 당연하게 여겨지면서 중요성이 부각되고 있다.

(나) 근대 사회에서는 개인이 무엇을 하든 내버려 두는 자유방임적 자유, 즉 형식적 자유가 강조되었는데, 이러한 형식적 자유가 물질적·정신적 소유가 뒷받침되지 않은 사람들에게 실질적 자유를 주지 못한다는 반성이 있었다. 이에 따라 현대에 접어들어 국가가 나서서 모든 국민에게 최소의 물질적·정신적 소유를 보장해 주는 이 기본권이 등장하였다.

- ① (가)는 소극적 권리에 해당한다.
- ② (나)가 최초로 규정된 헌법은 독일의 바이마르 헌법이다.
- ③ (가)보다 (나)가 역사적으로 먼저 등장하였다.
- ④ (가)와 달리 (나)는 법률에 의해서도 제한되지 않는다.
- ⑤ (가), (나) 모두 기본적 권리를 보장하기 위한 수단적 권리이다.

▶ 7058-0168

**10** 그림은 국가 기관 A에 제출된 법률 서류의 일부이다. 이에 대한 설명으로 옳지 않은 것은? [3점]**(가) 청구서**

청구인 ☆☆☆

대리인 변호사 ○○○○

## 청구 취지

“○○법 제◇◇조 제○항은 헌법에 위반된다.”라는 결정을 구합니다.

## 당해 사건

서울고등법원 20\*\*구□□호 퇴직 처분 무효 확인

원고 ☆☆☆, 피고 △△△

위헌이라고 판단(해석)되는 법률 조항

○○법 제◇◇조 제○항

- ① A는 3심제의 상고와 재항고를 담당한다.
- ② A의 장(長)은 국회의 동의를 얻어 대통령이 임명한다.
- ③ (가)에 해당하는 용어는 ‘헌법 소원 심판’이다.
- ④ (가)의 유형 중 해당 청구와 관련된 것은 법률 혹은 법률 조항이며, 원칙적으로 명령·규칙 등은 청구 대상이 아니다.
- ⑤ A가 청구인의 청구 취지를 받아들이는 결정을 할 경우 해당 법률 조항은 효력을 상실한다.

**11** 표는 헌법 기관 A, B가 행하는 감사의 특징을 비교한 것이다. 이에 대한 설명으로 옳지 않은 것은?

헌법 기관	A	B
내용	국정 전반의 감사	(가)
성격	외부 통제	행정부 내부 통제
실시 시기	(나)	(다)

- ① A는 국가 예산안을 심의·확정한다.
- ② B는 대통령으로부터 독립하여 직무를 수행한다.
- ③ 감사 업무와 관련하여 A는 B의 장(長)에게 그 결과를 보고하여야 한다.
- ④ (가)에는 회계 검사 및 직무 감찰이 포함된다.
- ⑤ (나)에는 ‘정기’, (다)에는 ‘필요시’가 해당한다.

▶ 7058-0170

**12** 국제 사회를 바라보는 관점 (가), (나)에 대한 옳은 설명을 <보기>에서 고른 것은? [3점]

관점	관점에 부합하는 사례
(가)	중국은 자국의 이익을 위해 남중국해에서 정치·군사적 세력을 넓혀 나가고 있다. 이 과정에서 지역 내 국가들의 이익이 침해되어 상호 갈등이 계속 빚어지고 있지만 중국은 팽창을 계속하고 있어 긴장이 높아지고 있다.
(나)	유엔 기후 변화 협약 당사국 총회에 196개국 대표들이 모인 가운데 이른바 ‘파리 기후 변화 협약’이 체결되었다. 여기서는 개발도상국과 선진국 모두 기후 변화 방지를 위해 노력하고, 선진국은 개발도상국의 기후 변화 대응을 위해 매년 1,000억 달러를 지원하기로 했다.

**보기**

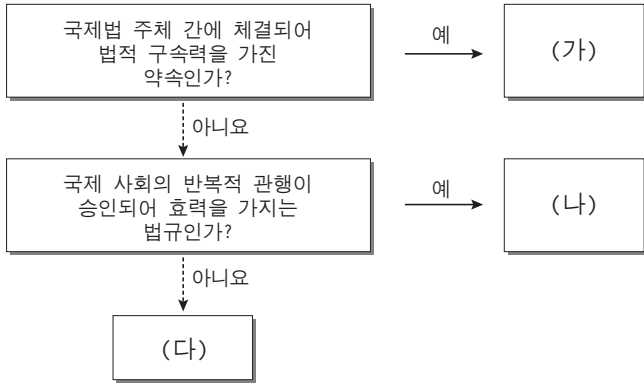
- ㄱ. (가)는 국제 사회를 흡스가 가정된 자연 상태와 비슷하다고 본다.
- ㄴ. (나)는 동맹 등으로 이룬 세력 균형을 통해 국가의 안전이 보장된다고 주장한다.
- ㄷ. (가)보다 (나)가 국제 연합의 존재 의의를 설명하는 데 적합하다.
- ㄹ. (나)는 (가)와 달리 국가 간의 상호 의존적 관계를 간과한다는 비판을 받는다.

- ① ㄱ, ㄴ    ② ㄱ, ㄷ    ③ ㄴ, ㄷ    ④ ㄴ, ㄹ    ⑤ ㄷ, ㄹ



▶ 7058-0171

### 13 국제법의 법원 (가)~(다)에 대한 설명으로 옳지 않은 것은? (단, (가)~(다)는 각각 조약, 국제 관습법, 법의 일반 원칙 중 하나이다.)



- ① (가)는 체결 주체가 셋 이상인 경우에도 성립 가능하다.
- ② (나)의 예로 국내 문제 불간섭 원칙을 들 수 있다.
- ③ (다)의 예로 신의 성실의 원칙을 들 수 있다.
- ④ (가)와 달리 (나)는 헌법이 정한 절차에 의해 체결·공포되어야 국내법과 같은 효력을 가진다.
- ⑤ (가)와 달리 (다)는 명확한 국제법이 존재하지 않을 경우에 만 보충적으로 적용된다는 특징을 보인다.

▶ 7058-0172

### 14 다음 판결에서 법원이 강조한 내용으로 가장 적절한 것은? [3점]

막다른 골목길이 포함된 토지를 매입한 갑은 자신의 땅을 통행하는 8가구 주민들에게 가구별로 지난 20년간 받지 않았던 사용료를 계산하여 지불해 줄 것을 요구하였지만 주민들이 요구에 응하지 않자, 골목길에 담장을 쌓아 주민들의 통행을 막으면서 통행료 지불을 요구하였다. 이에 주민들은 골목길을 통행할 수 있게 해달라는 민사 소송을 제기하였다. ○○ 지방 법원은 그 골목길을 이용하지 않으면 주민들의 통행이 불가능하므로 담장을 없애는 등의 방법으로 주민들의 통행을 허용해야 한다고 판결하였다.

- ① 소유권과 자유권이 충돌할 경우 자유권이 우선 적용된다.
- ② 개인의 소유권도 공공의 이익을 위해서는 제한할 수 있다.
- ③ 법률관계는 개인들의 자율적인 판단에 기초하여 형성하여야 한다.
- ④ 계약 당사자는 적법한 권리 능력 및 행위 능력을 갖추어야 한다.
- ⑤ 권리 행사자의 의사 표시에 하자가 있다면 해당 권리 행사는 제약될 수 있다.

▶ 7058-0173

### 15 다음 사례에 대한 법적 판단으로 가장 적절한 것은? [3점]

고등학교 3학년 갑(18세)은 산악자전거를 판매하는 을과 상담을 하였다. 을은 산악자전거 가격이 100만 원이 넘는 고가이기 때문에 거래에 대한 부모의 동의가 필요하다고 하였다. 갑은 부모의 동의를 얻기 힘들 것 같아 부모의 서명을 위조하여 만든 동의서를 을에게 보여주었다. 동의서를 본 을은 산악자전거를 인도하였고 갑은 평상시 용돈 등을 모아 마련한 돈으로 대금을 치렀다. 이러한 상황을 안 갑의 부모는 계약 취소를 통해 자전거를 돌려주고 대금을 환불받고자 한다.

- ① 갑의 부모는 계약을 취소할 수 있다.
- ② 갑과 을은 계약서를 쓰지 않았으므로 계약은 무효이다.
- ③ 갑과 갑의 부모의 의사가 일치할지라도 계약은 취소될 수 없다.
- ④ 을은 갑과 갑의 부모에게 계약을 진정으로 취소하기 원하는지에 대한 확답을 요구해야 한다.
- ⑤ 갑의 부모는 해당 계약에 대해 부모의 동의가 없는 법률 행위임을 이유로 무효를 주장할 수 있다.

▶ 7058-0174

### 16 다음 사례에 대한 옳은 법적 판단만을 <보기>에서 있는 대로 고른 것은? [3점]

회사원 갑은 친구 을이 휴가를 간 1주일 동안 을의 개를 맡기로 하였다. 어느 날 퇴근 후 개를 데리고 동네를 산책하던 도중 개의 목줄이 끊어지면서 튀어나간 개가 지나가던 초등학생에게 덤벼들었다. 이로 인해 놀란 초등학생 병이 넘어지면서 피부에 상처가 생기고 뼈도 부러져 전치 12주의 부상을 입게 되었다. 병의 부모는 갑을 대상으로 소송을 제기하려고 한다.

#### 보기

- ㄱ. 병의 부모는 갑에게 동물의 점유자 책임을 물을 수 있다.
- ㄴ. 병의 부모는 소 제기에 앞서 민사 조정 제도를 이용하여 손해 배상을 받을 수 있다.
- ㄷ. 갑이 동물의 보관에 상당한 주의를 기울였음을 증명하면 갑의 손해 배상 책임은 면제된다.
- ㄹ. 병의 부모가 갑에게 민사 책임을 묻기 위해서는 갑의 행위가 범죄의 구성 요건에 해당하여야 한다.

- ① ㄱ, ㄷ                      ② ㄱ, ㄹ                      ③ ㄴ, ㄹ
- ④ ㄱ, ㄴ, ㄷ                ⑤ ㄴ, ㄷ, ㄹ



▶ 7058-0175

**17** 다음은 유효하게 작성된 갑과 을의 자필 증서 유언장이다. 이에 대한 설명으로 옳은 것은? (단, 갑은 상속 대상자가 존재하지 않으며, 을은 배우자를 제외하고 상속 대상자가 존재하지 않는다.) [3점]

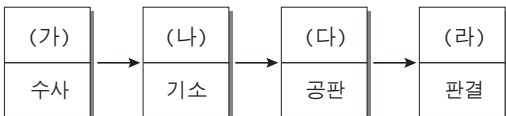
(가)	(나)
<p>나의 전처(前妻) A에게 전 재산 5억 원을 물려준다.</p> <p>2016년 12월 30일 ○○시 ○○구 ○○로 ○○</p> <p>유언자 갑 </p>	<p>나의 배우자 B와 ◇◇ 복지 재단에 내 재산 10억 원의 1/2씩을 물려준다.</p> <p>2017년 2월 15일 △△시 △△구 △△로 △△</p> <p>유언자 을 </p>

\* 갑, 을은 모두 2017년 3월 10일에 사망함

- ① A와 B가 유언에 의해 받게 되는 금액은 동일하다.
- ② (가)가 없어도 갑의 상속인은 A이다.
- ③ (가)에서 A가 재혼을 한 경우 A는 유류분만 받을 수 있다.
- ④ (나)의 유무와 상관없이 B의 상속액은 동일하다.
- ⑤ (나)에서 유언의 효력은 2017년 2월 15일부터 유효하다.

▶ 7058-0176

**18** 그림은 형사 절차의 일부를 나타낸 것이다. (가)~(라)에 대한 옳은 설명을 <보기>에서 고른 것은?



보기

- ㄱ. (가)에서 범죄 혐의를 받아 입건된 사람을 피의자라 한다.
- ㄴ. (나)의 절차를 진행하는 것은 사법 경찰이다.
- ㄷ. (다)에서 피고인에 대한 유죄 입증 책임은 검사에게 있다.
- ㄹ. (라)에서 유죄 판결이 확정되면 피고인은 교도소에 수감된다.

- ① ㄱ, ㄴ
- ② ㄱ, ㄷ
- ③ ㄴ, ㄷ
- ④ ㄴ, ㄹ
- ⑤ ㄷ, ㄹ

▶ 7058-0177

**19** (가)~(다) 사례에 대한 옳은 법적 판단을 <보기>에서 고른 것은?

- (가) 갑은 A가 자신의 최신 휴대 전화를 훔쳐 달아나자 추격하여 제압한 후 휴대 전화를 되찾았다.
- (나) 을은 골목길에서 과속으로 운행하는 자전거를 피하기 위해 어쩔 수 없이 문이 열려 있던 B의 집으로 뛰어들어갔다.
- (다) 병은 중학생 아들에게 폭언과 폭행을 가하고 있는 C를 제지하는 과정에서 C의 어깨를 주먹으로 한 대 가격하였다.

보기

- ㄱ. (가)는 자구 행위에 해당하는 행위이다.
- ㄴ. (나)는 정당 방위에 해당하는 행위이다.
- ㄷ. (가)와 (다)는 모두 위법성이 조각되는 사례이다.
- ㄹ. (나)와 달리 (다)는 범죄의 구성 요건에 해당하는 사례이다.

- ① ㄱ, ㄴ
- ② ㄱ, ㄷ
- ③ ㄴ, ㄷ
- ④ ㄴ, ㄹ
- ⑤ ㄷ, ㄹ

▶ 7058-0178

**20** 다음은 인터넷 법률 상담 코너에 올라온 내용이다. 법적으로 타당한 댓글을 단 사람을 고른 것은? [3점]

공지사항    게시판    Q&A

---

Q : 저는 편의점에서 1년째 일을 하고 있습니다. 원래 주간 근무만 하기로 계약을 했는데 고용주의 요구로 인해 지난달부터 야간 근무를 하고 있습니다. 제가 알기로 야간 근무 시에는 50% 가 산하여 임금을 지급하여야 하는데, 월급을 받고 보니 주간 근무와 동일한 액수입니다. 어떻게 해야 하나요?

↳ 갑 : 민사 소송을 제기하세요.

↳ 을 : 고용노동부에 진정서를 제출하는 것도 가능해요.

↳ 병 : 부당 노동 행위로 지방 노동 위원회에 고용주를 고소하세요.

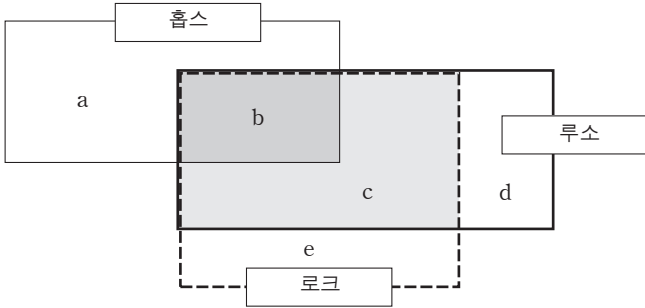
↳ 정 : 부당 노동 행위는 노동 위원회를 거치지 않고 바로 행정 소송을 제기해도 됩니다.

- ① 갑, 을
- ② 갑, 병
- ③ 을, 병
- ④ 을, 정
- ⑤ 병, 정

문항에 따라 배점이 다르니, 각 물음의 끝에 표시된 배점을 참고 하시오. 3점 문항에만 점수가 표시되어 있습니다. 점수 표시가 없 는 문항은 모두 2점입니다.

▶ 7058-0179

**1** 그림은 근대 사회 계약론자들의 주장을 나타낸 것이다. a~e 에 해당하는 내용으로 옳은 것은?



- ① a : 자연 상태를 평화로운 상태로 본다.
- ② b : 국가를 수단이 아닌 목적으로 본다.
- ③ c : 주권이 국민에게 있다고 본다.
- ④ d : 대의제를 바탕으로 국가 의사를 결정한다고 본다.
- ⑤ e : 시민이 직접 정책 결정을 한다고 본다.

▶ 7058-0180

**2** A국~D국에 대한 설명으로 옳은 것은? (단, A국~D국은 전 형적인 정부 형태 중 하나를 채택하고 있다.) [3점]

구분		행정부 수반 선출 주체	
		국민	의회
정당 제도	양당제	A국	B국
	다당제	C국	D국

- ① A국은 B국과 달리 여소야대 정국이 나타날 수 있다.
- ② B국은 C국과 달리 행정부 수반의 임기가 보장된다.
- ③ C국은 A국에 비해 국민의 다양한 의사 반영이 용이하지 않다.
- ④ D국은 A국과 달리 연립 내각이 나타날 가능성이 낮다.
- ⑤ D국은 C국에 비해 정책의 연속성을 유지하기에 유리하다.

▶ 7058-0181

**3** 민주 정치의 이념 A~C에 대한 설명으로 옳지 않은 것은? (단, A~C는 각각 인간 존중, 자유, 평등 중 하나이다.)

- A를 실현하기 위해 B, C를 보장해야 한다.
- B는 외부의 구속을 받지 않고 자율적으로 선택하고 행동하는 것을 의미한다.
- C를 지나치게 강조하게 되면 B는 제한되고, B를 강조하면 C가 약화된다.

- ① A는 인간을 수단이 아닌 목적으로 대우해야 함을 의미한다.
- ② B는 국가 권력의 간섭을 배제하고자 한다.
- ③ 현대 복지 국가에서는 C의 실질적 의미를 강조하고 있다.
- ④ C는 모든 국민이 불합리한 차별을 받지 않는 것을 의미한다.
- ⑤ 국가 운영에 참여할 수 있는 권리의 보장은 B보다는 C의 실질적 보장과 관련된다.

▶ 7058-0182

**4** 표는 우리나라 국가 기관 간의 견제와 균형의 관계를 정리한 것이다. A~D의 사례로 옳은 것은? (단, (가)~(다)는 각각 행정부, 입법부, 사법부 중 하나이다.) [3점]

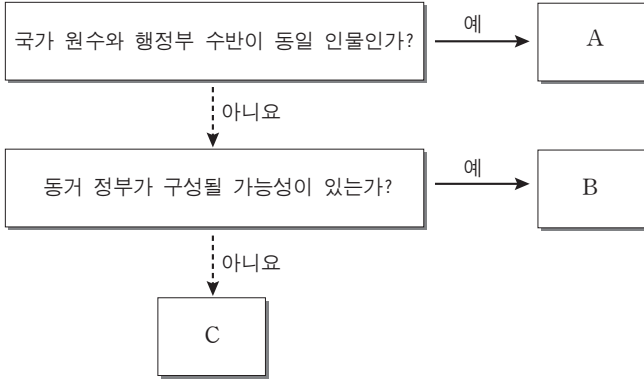
구분		견제 주체		
		(가)	(나)	(다)
견제 대상	(가)		A	B
	(나)	C		법률안 거부권
	(다)	D		

	A	B	C	D
①	탄핵 소추권	사면권	위헌 법률 심판 제청권	명령·규칙·처분 심사권
②	탄핵 소추권	예산안 심의권	명령·규칙·처분 심사권	위헌 법률 심판 제청권
③	예산안 심의권	위헌 법률 심판 제청권	탄핵 소추권	명령·규칙·처분 심사권
④	예산안 심의권	사면권	명령·규칙·처분 심사권	탄핵 소추권
⑤	사면권	위헌 법률 심판 제청권	명령·규칙·처분 심사권	탄핵 소추권



▶ 7058-0183

5 그림은 정부 형태를 구분한 것이다. A~C에 대한 설명으로 옳은 것은? (단, A~C는 각각 전형적인 대통령제, 전형적인 의원 내각제, 이원 정부제 중 하나이다.)



- ① A의 행정부는 법률안을 제안할 수 있다.
- ② B에서는 여소야대 현상이 나타나지 않는다.
- ③ C의 행정부는 연립 내각으로 구성될 수 없다.
- ④ A는 C와 달리 다수당의 횡포를 견제할 수 있다.
- ⑤ C는 A와 B가 혼합된 정부 형태이다.

▶ 7058-0184

6 다음과 같은 내용을 헌법에 규정한 목적으로 가장 적절한 것은?

- 대통령은 일정한 권한을 행사할 때에 국무 회의의 심의를 거쳐야 한다.
- 대통령의 국법상 행위는 문서로 하며, 그 문서에는 국무총리와 관계 국무 위원이 부서해야 한다.

- ① 대통령의 효율적인 정책 추진을 위한 것이다.
- ② 대통령의 국정 처리를 신중하게 하기 위한 것이다.
- ③ 행정부 부처 간 정책 추진의 형평성을 높이기 위한 것이다.
- ④ 행정부가 지속적으로 정책을 수행하도록 하기 위한 것이다.
- ⑤ 행정부의 정책 집행에 대한 입법부의 부당한 간섭을 방지하기 위한 것이다.

▶ 7058-0185

7 다음 자료에 대한 옳은 설명을 <보기>에서 고른 것은? [3점]

**판결**

사건 제○○대 국회의원 선거 무효 확인의 소  
원고 A정당  
피고 ( ㉠ )

**주문**

1. 원고의 청구를 기각한다.  
2. 소송 비용은 ( ㉡ )가 부담한다.

**청구 취지**

△△구 지역구 국회의원 선거는 이를 무효로 한다.

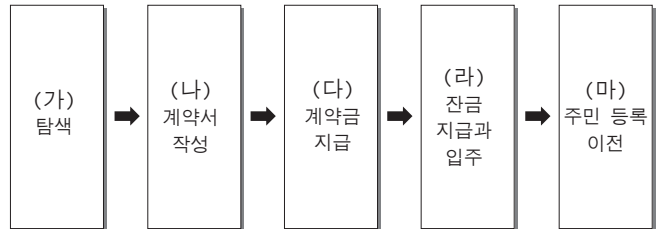
**보기**

- ㉠. 이 재판은 대법원에서 관할한다.
- ㉡. ㉠에는 '△△구 지역구 국회의원 당선자'가 들어간다.
- ㉢. 판결 내용으로 보아 ㉡에는 '원고'가 들어간다.
- ㉣. 원고가 승소했다면 A정당의 후보가 국회의원이 된다.

- ① ㉠, ㉡    ② ㉠, ㉢    ③ ㉡, ㉢    ④ ㉡, ㉣    ⑤ ㉢, ㉣

▶ 7058-0186

8 다음은 주택 임대차 절차를 나타낸 것이다. (가)~(마)에 대한 설명으로 옳지 않은 것은? [3점]



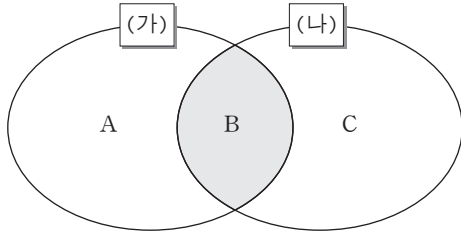
- ① (가) 단계에서 저당권이나 전세권 등은 등기부 등기를 통해 확인할 수 있다.
- ② (나) 단계에서 상대방이 해당 주택의 실제 소유주인지의 여부는 등기부와 신분증을 통해 확인해야 한다.
- ③ (마) 단계를 통해 해당 주택의 경매에서 후순위 권리자에 우선하여 보증금을 변제받을 수 있다.
- ④ (다) 이후 (라) 이전에는 계약 당사자가 임대차 계약을 일방적으로 해제할 수 있다.
- ⑤ (라)~(마) 단계에서 만약 잔금 지급 후 주택을 인도받지 않았다면 대항력을 행사할 수 없다.



▶ 7058-0187

9 다음 자료는 정치 참여 주체의 특징을 나타낸 것이다. A~C에 해당하는 옳은 특징을 <보기>에서 고른 것은?

(가)는 정당과 의회가 반영하지 못하는 직업적 이익을 반영하기 위해 등장한 단체이고, (나)는 시민의 관심 분야의 다양화로 인해 정부 능력이 한계를 보이자 시민들의 자발적 참여로 구성된 단체이다.



보기

- ㄱ. A에는 '정권 획득 추구'가 들어갈 수 있다.
- ㄴ. B에는 '정치적 책임을 지지 않음'이 들어갈 수 있다.
- ㄷ. C에는 '비영리성'이 들어갈 수 있다.
- ㄹ. '공익의 추구'는 A, B, C 중 어디에도 들어가지 않는다.

- ① ㄱ, ㄴ    ② ㄱ, ㄷ    ③ ㄴ, ㄷ    ④ ㄴ, ㄹ    ⑤ ㄷ, ㄹ

▶ 7058-0188

10 밑줄 친 '스핀 닥터' 활동에 대한 영향으로 적절한 것을 <보기>에서 고른 것은?

'스핀'은 원래 '돌리거나 비틀어 왜곡한다'는 부정적인 뜻을 가지고 있는 단어로, 스핀 닥터(spin doctor)란 용어는 1984년에 처음 등장하였다. 당시 《뉴욕타임스》는 사설에서 미국 대통령 후보들의 텔레비전 토론이 끝난 뒤 스핀 닥터들이 자기 진영에 유리하도록 홍보력을 발휘하였다고 썼다. 정식 용어는 아니지만, 이후 스핀 닥터는 정치적 목적을 위해 사건을 왜곡하거나 조작하는 사람, 국민의 생각이나 여론을 정책으로 구체화시키는 물론 행정부 수반의 생각을 국민들에게 납득시키는 역할까지 하는 정치 전문가 또는 홍보 전문가를 뜻한다.

보기

- ㄱ. 대중에 의해 언론이 통제되는 결과가 나타날 수 있다.
- ㄴ. 특정 세력에게 유리한 여론의 형성을 유도할 수 있다.
- ㄷ. 모든 국민에게 의사 표출의 기회가 평등하게 부여될 수 있다.
- ㄹ. 국민의 의사를 정책에 반영하여 국민의 지지를 얻을 수 있다.

- ① ㄱ, ㄴ    ② ㄱ, ㄷ    ③ ㄴ, ㄷ    ④ ㄴ, ㄹ    ⑤ ㄷ, ㄹ

▶ 7058-0189

11 다음 사례에 대한 법적 판단으로 옳은 것은? [3점]

치료가 불가능하다는 병원의 진단을 받은 갑은 두 명의 증인과 공증인이 참석한 자리에서 모든 재산을 △△ 사회 복지 재단에 기부한다는 유언의 취지를 말하고, 공증인이 유언장을 작성하였다. 몇 주 후 갑은 사망하였으며, 사망 당시 갑에게는 재산이 12억 원, 빚이 2억 원이 있었다. 갑은 을(병의 친모)과 이혼한 상태이며, 유족으로는 병(친자)과 정(갑의 어머니), 무(갑의 동생)가 있다.

- ① 갑의 유언 방식은 구수 증서에 의한 유언이다.
- ② 유언장의 효력이 있고, 병이 유류분 반환을 청구한다면 △△ 사회 복지 재단은 5억 원을 받게 된다.
- ③ 병과 정(의 유류분은 각각 5억 원이다.
- ④ 유언장의 효력이 없다면 을은 6억 원, 병은 4억 원을 상속 받게 된다.
- ⑤ 유언장의 효력이 없다면 무는 병, 정과 함께 상속받는다.

▶ 7058-0190

12 밑줄 친 ㉠~㉣에 대한 설명으로 옳지 않은 것은? [3점]

<국회>

1. ㉠ 정기회 : 매년 1회 정기적으로 개최
2. 임시회 : 대통령과 ㉡ 일정 수의 국회의원이 요구 시 개최
3. 국회 의결 : ㉢ 일반 의결 정족수와 ㉣ 특별 의결 정족수
4. ㉤ 국회의원 특권 : 불체포 특권과 면책 특권

- ① ㉠ 기간 중에 국정 감사를 실시할 수 있다.
- ② ㉡은 국회 재적 의원 1/4 이상을 의미한다.
- ③ ㉢은 재적 의원 과반수의 출석과 출석 의원 과반수의 찬성이다.
- ④ ㉣에는 법률 제정 및 헌법 개정안 의결이 포함된다.
- ⑤ ㉤은 국회의 자주성을 보장하기 위한 것이다.



▶ 7058-0191

▶ 7058-0193

13 A, B에 대한 설명으로 옳지 않은 것은? [3점]

사건이 발생했을 때, 범인으로 상당한 의심이 가지만 뚜렷한 혐의가 발견되지 않은 사람을 용의자라고 한다. 그러나 조사가 진행되는 과정에서 범죄 혐의가 인정되어 입건되면 그때부터 용의자는 수사의 대상이 되는 **A** 이/가 된다. 수사가 끝난 후 **A** 에 대해 공소를 제기할 수 있는데, 이 때 기소된 자를 **B** (이)라고 한다.

- ① A는 피의자이고, 변호인의 조력을 받을 권리를 가진다.
- ② A를 체포, 구속할 경우에는 검찰이 발부한 영장이 필요하다.
- ③ A에 대해 공소를 제기할 수 있는 권한은 검사만이 갖는다.
- ④ B는 기소되었어도 불리한 진술 거부권을 행사할 수 있다.
- ⑤ B가 구금된 상태에서 무죄 확정 판결을 받는 경우 형사 보상을 청구할 수 있다.

▶ 7058-0192

14 자료는 전형적인 정부 형태를 지닌 갑국의 의회 의원 선거 결과를 나타낸 것이다. 이 선거 결과에 대한 분석 및 추론으로 옳은 것은? (단, 선거 전 과반 의석을 차지한 정당은 B당이었으며, 행정부 수반은 A당 소속이다. 선거 이후에도 행정부 수반은 변함이 없다.) [3점]

**총선 정당 투표 득표율**  
\* 총 21개 정당 중 1% 이상 득표한 5개 정당

정당	득표수	득표율
A당	7,960,272	33.50%
B당	6,355,572	26.74%
C당	6,069,744	25.54%
D당	1,719,891	7.23%
E당	626,853	2.63%

정당별 의석수

정당	A당	B당	C당	D당	무소속	총 의석수
지역구 대표	105	110	25	2	11	253
비례 대표	17	13	13	4	-	47
계	122	123	38	6	11	300

- ① 집권당은 입법 과정에서 단독으로 가결할 수 있게 되었다.
- ② 행정부를 구성하기 위해서는 정당 간 연합이 불가피하다.
- ③ C당의 협조를 받으면 A당 또는 B당이 법안 의결을 할 수 있다.
- ④ 소수당의 의회 진출을 제한하는 제도적 장치가 존재하지 않는다.
- ⑤ 유권자는 선호 정당을 중심으로 지역구 후보 투표와 정당 투표를 동일하게 했을 것이다.

15 다음 사례에 대한 옳은 법적 판단을 <보기>에서 고른 것은?



**보기**

- ㄱ. 일정 기간 내에 청약 철회할 수 있다.
- ㄴ. 환불 또는 교환 불가 항목에 체크했으므로 청약 철회할 수 없다.
- ㄷ. 사업자가 환불 거부 시 한국 소비자원에 피해 구제를 의뢰할 수 있다.
- ㄹ. 환불 불가를 이유로 소송을 제기하려면 소비자 분쟁 조정 위원회의 조정 절차를 거쳐야 한다.

- ① ㄱ, ㄴ    ② ㄱ, ㄷ    ③ ㄴ, ㄷ    ④ ㄴ, ㄹ    ⑤ ㄷ, ㄹ

▶ 7058-0194

16 국제기구 (가), (나)에 대한 옳은 설명을 <보기>에서 고른 것은?

- (가) 국가 간 법적 분쟁을 국제법에 따라 해결하는 국제 연합 산하의 사법 기관이다.
- (나) 전쟁 억제와 국제 평화 유지를 주요 목적으로 국제 연맹의 한계를 보완하여 제2차 세계 대전 이후 창설된 국제기구이다.

**보기**

- ㄱ. (가)는 당사국의 합의가 없는 사건에도 강제적 관할권을 행사하여 재판할 수 있다.
- ㄴ. (가)에서 개인, 단체 등은 재판의 당사자가 될 수 없다.
- ㄷ. (나)의 실질적 의결 기관은 안전 보장 이사회이다.
- ㄹ. (가)와 (나)는 모두 국제 비정부 기구이다.

- ① ㄱ, ㄴ    ② ㄱ, ㄷ    ③ ㄴ, ㄷ    ④ ㄴ, ㄹ    ⑤ ㄷ, ㄹ





▶ 7058-0195

### 17 다음 글과 관련된 옳은 진술만을 <보기>에서 있는 대로 고른 것은?

대의 민주주의 제도에서 선거는 국민들의 대리인을 내세워 이들이 국민을 대신하여 국정을 운영하도록 하는 제도이다. 그런 대리인이 될 후보를 추천하는 것이 정당 공천이다. 그런데 공천을 둘러싸고 각 당에서 벌어지는 상황은 심각하다. 어느 당에서는 형식상 공천 관리 위원회가 공천 심사를 하지만 실상은 지도부가 주도한다. 또한 정당 내 세력 다툼으로 특정인을 공천에서 배제하려는 경우도 나타나고 있다. 이렇게 정당의 공천을 받은 사람들에게 대리인의 자격을 부여하는 선거가 얼마나 민주적이고 공정하게 치러지는가도 문제이다. 설사 선거의 공정성이 확보된다 하더라도 그 대리인이 주인인 국민의 의사를 제대로 대변하지 않는다면 아무 소용이 없다.

#### 보기

- ㄱ. 선거의 공정성이 확보되어도 대표성이 확보되는 것은 아니다.
- ㄴ. 선거에서 당선된 대리인이 국민을 대신하여 국정을 운영하는 것이 대의제이다.
- ㄷ. 각 정당 공천 관리 위원회의 공천은 기본적으로 지도부가 후보를 추천하는 방식이다.
- ㄹ. 정당 내 민주적인 공천 절차를 거쳐 정당 후보가 된 사람은 실제 선거에서 당선 가능성이 높다.

- ① ㄱ, ㄴ                    ② ㄱ, ㄹ                    ③ ㄴ, ㄷ
- ④ ㄱ, ㄷ, ㄹ              ⑤ ㄴ, ㄷ, ㄹ

▶ 7058-0196

### 18 밑줄 친 ㉠~㉣에 대한 옳은 설명을 <보기>에서 고른 것은?



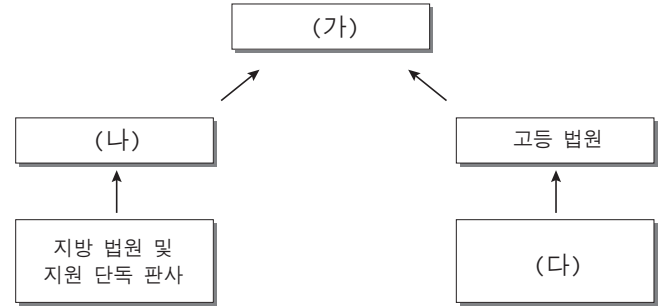
#### 보기

- ㄱ. ㉠은 국제 사회에서 실제 주권 행사의 영향력이 평등하다.
- ㄴ. 독자적으로 국제 사회에 참여하는 지방 자치 단체나 소수 민족은 ㉡에 해당한다.
- ㄷ. ㉢ 중 국제기구는 국제 사회를 구성하는 기본 단위이다.
- ㄹ. 다국적 기업과 국제 사면 위원회는 ㉢의 사례에 해당한다.

- ① ㄱ, ㄴ    ② ㄱ, ㄷ    ③ ㄴ, ㄷ    ④ ㄴ, ㄹ    ⑤ ㄷ, ㄹ

▶ 7058-0197

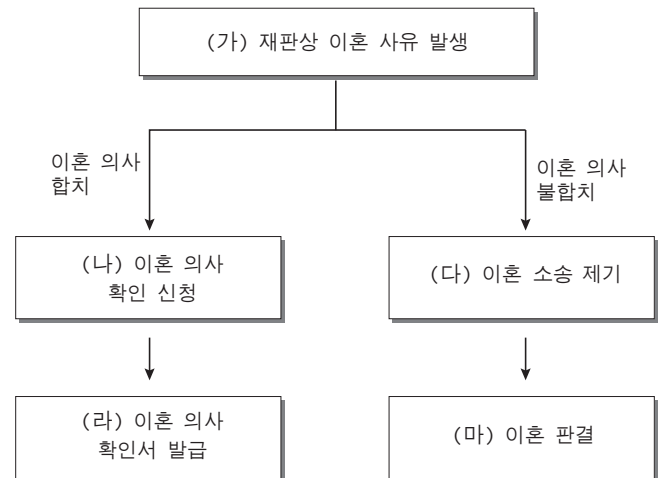
### 19 그림은 우리나라의 심급 제도를 나타낸 것이다. 이와 관련된 설명으로 옳지 않은 것은? [3점]



- ① 대통령 선거 소송은 (가)만 담당한다.
- ② (나)의 판결에 불복하는 경우 상고할 수 있다.
- ③ (다)는 중(重)한 사건의 1심 법원이다.
- ④ (나), (다)는 지방 법원 및 지원 합의부이다.
- ⑤ (가), (다)는 모두 위헌 법률 심판 제청 권한이 없다.

▶ 7058-0198

### 20 (가)~(마)에 대한 옳은 설명만을 <보기>에서 있는 대로 고른 것은? [3점]



#### 보기

- ㄱ. (가)의 사례로 '배우자가 악의(惡意)로 다른 일방을 유기(遺棄)한 때'를 들 수 있다.
- ㄴ. 사실혼의 해소에는 (나) 단계는 필요하지만, (다) 단계는 필요하지 않다.
- ㄷ. 이혼의 효력은 (라) 단계에서는 발생하지 않지만, (마) 단계에서는 발생한다.
- ㄹ. (나)와 (라) 단계는 (가)와 상관없이 할 수 있다.

- ① ㄱ, ㄴ                    ② ㄱ, ㄹ                    ③ ㄴ, ㄷ
- ④ ㄱ, ㄷ, ㄹ              ⑤ ㄴ, ㄷ, ㄹ

문항에 따라 배점이 다르니, 각 물음의 끝에 표시된 배점을 참고 하시오. 3점 문항에만 점수가 표시되어 있습니다. 점수 표시가 없 는 문항은 모두 2점입니다.

▶ 7058-0199

**1** 다음은 사회 계약론자 갑~병 간의 가상 대화이다. 이에 대한 옳은 설명만을 <보기>에서 있는 대로 고른 것은? [3점]



**보기**

- ㄱ. 갑은 자연 상태를 '만인에 대한 만인의 투쟁 상태'로 본다.
- ㄴ. 을과 달리 병은 주권이 국민에게 있다고 본다.
- ㄷ. 을은 간접 민주 정치, 병은 직접 민주 정치를 옹호했다.
- ㄹ. 갑~병 모두 국가를 개인들의 권리를 보장하기 위한 수단으로 본다.

- ① ㄱ, ㄴ      ② ㄱ, ㄹ      ③ ㄴ, ㄷ
- ④ ㄱ, ㄷ, ㄹ      ⑤ ㄴ, ㄷ, ㄹ

▶ 7058-0200

**2** 다음 자료에 대한 설명으로 옳지 않은 것은?

민주 국가의 전형적인 정부 형태는 국가 권력 기관 사이의 상호 관계에 따라 A와 B로 나눌 수 있다. A는 국민에 의해 선출된 행정부 수반이 국가 원수이자 행정부 수반으로서의 권한을 행사 하는 정부 형태인 B와 달리 의회에서 선출되고 의회에 대해 책임을 지는 내각을 중심으로 국정이 운영되는 정부 형태이다. 한편, 우리나라의 정부 형태는 B를 기본으로 하면서 ㉠ A의 요소를 부분적으로 도입한 모습을 보이고 있다.

- ① A에서 행정부 수반은 법률안 거부권을 통해 의회를 견제할 수 있다.
- ② B에서는 A와 달리 행정부 수반의 임기가 엄격히 보장된다.
- ③ B는 A에 비해 엄격한 권력 분립으로 견제와 균형의 원리에 충실하다.
- ④ A, B 모두 의회가 법률안을 제출할 수 있다.
- ⑤ 국회의원이 국무 위원을 겸할 수 있는 것은 ㉠에 해당한다.

▶ 7058-0201

**3** 법치주의 유형 A, B에 대한 옳은 설명을 <보기>에서 고른 것은?

법치주의를 A로 이해할 경우 입법권이 형식상 의회에 주어져 있다 할지라도 그 의회가 권력 분립의 원칙에 따르는 견제적 기능을 할 수 없게 되거나, 포괄적인 위임 입법으로 그 견제적 기능을 포기할 경우에는 지배자 마음대로 법을 만들어 다스릴 수 있기 때문에 권력을 법에 구속시켜 이를 통제한다는 의미의 '법의 지배'는 존재할 수 없게 된다. 따라서 법치주의는 B로 이해되어야 한다. B는 모든 국가 권력은 인간의 존엄성을 존중하고 보호할 의무를 지게 되고, 모든 법률은 최고법으로서의 헌법의 가치를 실현할 때에만 법률로서의 효력을 가질 수 있다고 본다.

**보기**

- ㄱ. 우리나라의 위헌 법률 심판 제도는 B의 실현 방안 중 하나이다.
- ㄴ. B는 법의 형식이 아닌 법의 목적이나 내용의 정당성만을 강조한다.
- ㄷ. A는 B와 달리 법의 목적이나 내용에 관계없이 통치의 합법성만을 강조한다.
- ㄹ. B는 A와 달리 법률 제정 절차의 준수를 중시한다.

- ① ㄱ, ㄴ      ② ㄱ, ㄷ      ③ ㄴ, ㄷ      ④ ㄴ, ㄹ      ⑤ ㄷ, ㄹ

▶ 7058-0202

**4** 정치 참여 주체 A~C 단체의 일반적인 특징에 대한 설명으로 옳지 않은 것은? (단, A~C는 각각 시민 단체, 이익 집단, 정당 중 하나에 해당하는 정치 참여 주체이다.) [3점]

- A는 생명, 평화, 생태, 참여를 핵심 가치로 삼아 지구촌 모든 사람들과 힘을 합쳐 우리와 미래 세대를 위한 지속 가능한 세상을 만들어 나가는 것을 목적으로 활동한다.
- ○○ 회사의 노동자들이 만든 B는 노동자의 인간다운 생활을 향유할 수 있는 권리를 비롯한 인권과 노동 3권을 토대로 한 노동 기본권의 확보를 위해 활동한다.
- C는 자유 민주주의와 시장 경제를 기본 이념으로 인권과 정의가 구현되는 사회, 개인의 자유와 창의가 발휘되는 사회 등을 추구하고, 정권 획득을 목적으로 활동한다.

- ① A와 달리 B는 특수 이익 추구를 목적으로 한다.
- ② A는 B와 달리 정부와 의회의 매개적 기능을 한다.
- ③ C는 A, B와 달리 선거에 후보자를 배출한다.
- ④ A~C 모두 정부 정책에 대한 감시와 견제 기능을 한다.
- ⑤ A~C 모두 정치에 대한 국민의 지식과 관심을 증진시키는 역할을 한다.



▶ 7058-0203

5 다음은 우리나라 헌법의 기본 원리를 설명하기 위한 것이다. 이에 대한 옳은 설명만을 <보기>에서 있는 대로 고른 것은?

헌법 관련 규정	• 전문 : ... 안으로는 국민 생활의 균등한 향상을 기하고 ... • 제34조 ① 모든 국민은 인간다운 생활을 할 권리를 가진다.
실현 방안	(가)

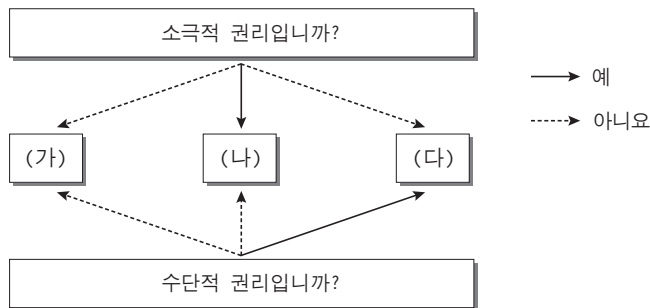
보기

- ㄱ. (가)에는 '근로자에 대한 최저 임금제 실시'가 들어갈 수 있다.
- ㄴ. 국가 의사를 결정하는 주권이 국민에게 있다는 원리이다.
- ㄷ. 국가 권력 창출과 통치 과정이 국민적 합의에 근거하여 정당성을 가져야 한다는 원리이다.
- ㄹ. 자본주의 발달에 따른 빈부 격차 등의 문제 해결을 위한 국가의 역할을 강조하는 원리이다.

- ① ㄱ, ㄴ                      ② ㄱ, ㄹ                      ③ ㄴ, ㄷ
- ④ ㄱ, ㄷ, ㄹ                ⑤ ㄴ, ㄷ, ㄹ

▶ 7058-0204

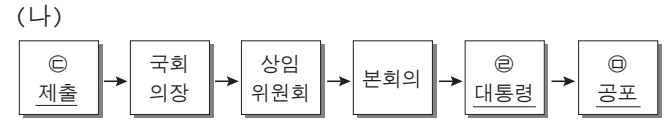
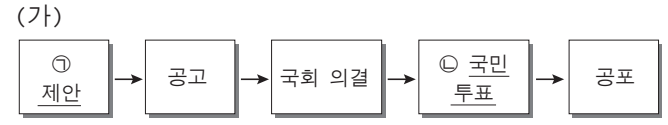
6 기본권 (가)~(다)에 대한 설명으로 옳은 것은? (단, (가)~(다)는 각각 자유권, 참정권, 청구권 중 하나이다.) [3점]



- ① (가)는 인간다운 생활의 보장을 요구할 수 있는 권리이다.
- ② 국민 투표권, 공무 부담권은 (다)에 해당하는 기본권이다.
- ③ (나)와 달리 (가)는 헌법에 명시되지 않아도 보장되는 권리이다.
- ④ (다)는 (가), (나) 등과 같은 기본권을 보장하기 위한 권리이다.
- ⑤ (가)~(다) 중 역사상 가장 오래된 기본권은 (가)이다.

▶ 7058-0205

7 다음은 우리나라의 헌법 및 법률 제·개정 절차를 나타낸 것이다. 밑줄 친 ㉠~㉣에 대한 설명으로 옳지 않은 것은? [3점]



- ① ㉠을 위한 국회의원의 정족수와 ㉣이 재의를 요구한 법률안을 의결하기 위한 국회의원의 정족수는 같다.
- ② ㉡에서 국회의원 선거권자 과반수 투표에 투표자 과반수가 찬성하면 헌법 개정은 확정된다.
- ③ 국회의원이 ㉢을 하기 위해서는 10인 이상이 필요하다.
- ④ ㉣의 임기를 바꾸기 위해서는 (가)의 절차를 거쳐야 한다.
- ⑤ ㉣은 ㉢을 하기 전에 국무 회의의 심의를 거쳐야 한다.

▶ 7058-0206

8 밑줄 친 ㉠~㉣에 대한 설명으로 옳지 않은 것은?

우리나라 헌법 재판소는 헌법 심판을 통해 헌법을 구체적으로 실현하여 공권력 행사가 남용되는 것을 방지하고 공권력 행사에 의하여 침해된 국민의 기본권을 구제하는 역할을 한다. 헌법 재판소의 재판관은 ㉠ 헌법 재판소장을 포함하여 ㉡ 9인이며, ㉢ 위헌 법률 심판, ㉣ 헌법 소원 심판, 탄핵 심판, 권한쟁의 심판, ㉤ 정당 해산 심판을 담당한다.

- ① ㉠은 국회의 동의를 얻어 헌법 재판관 중에서 대통령이 임명한다.
- ② ㉡은 국회에서 선출된 3인, 대법원장이 지명한 3인을 포함하여 대통령이 임명한다.
- ③ ㉢은 법원의 직권 또는 당사자의 제청 신청을 통해 제청된다.
- ④ ㉣은 재판을 전제로 한 경우에만 당사자인 국민이 청구할 수 있다.
- ⑤ ㉤은 정당의 목적 등이 민주적 기본 질서에 위배될 경우 정부가 청구할 수 있다.



[9~10] 다음은 갑국과 을국의 의회 의원 선거 제도와 관련한 글이다. 이를 보고 물음에 답하시오.

▶ 7058-0209

- 갑국은 지역구 의원 100명, 비례 대표 의원 100명을 선출한다. 지역구 의원은 선거구 제도 (가)를 통해 100개의 지역구에서 선출되며, 비례 대표 의원은 전국 단위로 정당 투표를 통한 득표율에 비례하여 배분한다.
- 을국은 지역구 의원 200명, 비례 대표 의원 100명을 선출한다. 을국의 지역구 수는 갑국과 같으나 선거구 제도 (나)를 통해 각 지역구별로 동일한 수의 의원을 선출한다. 비례 대표 의원은 전국 단위로 지역구 의원 의석률에 비례하여 배분한다.

\* 갑국과 을국의 정당은 지역구 의원 선거 시 한 선거구에 1명만 공천할 수 있다.

▶ 7058-0207

9 선거구 제도 (가), (나)에 대한 설명으로 옳은 것은?

- ① (가)에 비해 (나)에서 유권자의 후보자 파악이 용이하다.
- ② (가)에 비해 (나)는 다수당에 유리하여 양당제를 촉진할 가능성이 높다.
- ③ (나)에 비해 (가)에서 사표가 많이 발생한다.
- ④ (나)에 비해 (가)에서 신인 정치인의 의회 진출 가능성이 높다.
- ⑤ 대표 결정 방식에 있어 (가)는 ‘소수 대표제’, (나)는 ‘다수 대표제’와 결합한다.

▶ 7058-0208


10 갑국과 을국의 선거 제도에 대한 옳은 설명을 <보기>에서 고른 것은? [3점]

보기

- ㄱ. 갑국의 선거구 수는 을국의 선거구 수의 2배이다.
- ㄴ. 을국에서는 지역구 의원 의석률이 과반인 정당이 나타날 수 없다.
- ㄷ. 비례 대표 의원 의석 배분에 있어 갑국보다 을국이 직접 선거의 원칙에 충실하다.
- ㄹ. 비례 대표 의원 의석 배분에 있어 갑국과 달리 을국에서는 지역구 의원 선거 결과가 영향을 준다.

- ① ㄱ, ㄴ
- ② ㄱ, ㄷ
- ③ ㄴ, ㄷ
- ④ ㄴ, ㄹ
- ⑤ ㄷ, ㄹ

11 그림에 대한 옳은 법적 분석을 <보기>에서 고른 것은?




보기

- ㄱ. 을이 채무를 변제하지 않아 소송이 진행될 경우 위 절차를 거쳐야 계약의 효력이 인정된다.
- ㄴ. 을이 성년 의제되었다면 을의 부모는 을이 미성년자라는 이유로 위 계약을 취소할 수 있다.
- ㄷ. 을의 채무 불이행으로 갑에게 손해가 발생하였다면 갑은 을에게 손해 배상 청구를 할 수 있다.
- ㄹ. 집행력 있는 공증을 받았다면 갑은 을이 채무를 변제하지 않을 경우 소송 없이 강제 집행 절차에 들어갈 수 있다.

- ① ㄱ, ㄴ
- ② ㄱ, ㄷ
- ③ ㄴ, ㄷ
- ④ ㄴ, ㄹ
- ⑤ ㄷ, ㄹ

▶ 7058-0210

12 그림에 대한 옳은 법적 분석을 <보기>에서 고른 것은? [3점]



보기

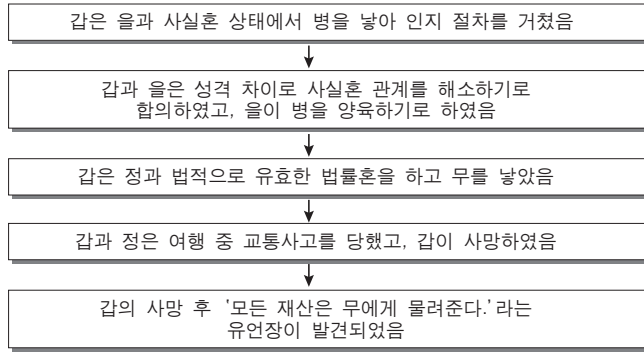
- ㄱ. 갑이 자동차 파손에 대한 1차적 책임을 진다.
- ㄴ. 갑은 무와 달리 특수 불법 행위 책임을 질 수 있다.
- ㄷ. 을이 자신은 개의 소유주가 아니라는 것을 증명하면 손해 배상 책임을 지지 않는다.
- ㄹ. 무의 행위가 고의가 아니라면 손님은 정에게만 손해 배상 청구를 해야 한다.

- ① ㄱ, ㄴ
- ② ㄱ, ㄷ
- ③ ㄴ, ㄷ
- ④ ㄴ, ㄹ
- ⑤ ㄷ, ㄹ



▶ 7058-0211

### 13 다음 사례에 대한 법적 분석으로 옳지 않은 것은? [3점]



\* 주어진 조건 이외에는 고려하지 않음

- ① 갑과 을의 혼인 관계는 친족 관계를 형성하지 않는다.
- ② 갑과 을의 혼인 관계와 갑과 정과의 혼인 관계의 차이는 '혼인 신고' 여부이다.
- ③ 갑과 을이 혼인 관계를 해소할 때 손해 배상 청구권이 행사될 수 있다.
- ④ 유언장이 효력이 있다면 무가 가장 많은 재산을 받을 수 있다.
- ⑤ 유언장이 효력이 없다면 병은 상속받지 못한다.

▶ 7058-0212

### 14 밑줄 친 ㉠~㉣에 대한 옳은 설명만을 <보기>에서 있는 대로 고른 것은?

2016년 1월 갑은 을로부터 A주택을 매입하고 ㉠ 등기를 하였음  
 2016년 3월 갑은 병과 보증금 1억 원의 ㉡ 임대차 계약을 체결함  
 2016년 4월 병은 ㉢ 이사 후 전입 신고를 하고 ㉣ 확정 일자를 받았음  
 2016년 10월 갑은 ○○은행으로부터 1억 원을 빌리고 ㉤ 저당권 설정을 해줌  
 2017년 12월 ○○은행이 A주택에 대해 ㉥ 경매를 신청함

#### 보기

- ㄱ. ㉠, ㉣은 등기부 갑구의 내용을 변경시킨다.
- ㄴ. ㉡으로 인해 갑과 병에게 채권-채무 관계가 형성된다.
- ㄷ. ㉢으로 인해 병은 대항력을 획득한다.
- ㄹ. ㉤, ㉥으로 인해 병은 ㉥에서 ○○은행보다 선순위 권리자가 된다.

- ① ㄱ, ㄴ                      ② ㄱ, ㄹ                      ③ ㄴ, ㄷ
- ④ ㄱ, ㄷ, ㄹ                ⑤ ㄴ, ㄷ, ㄹ

▶ 7058-0213

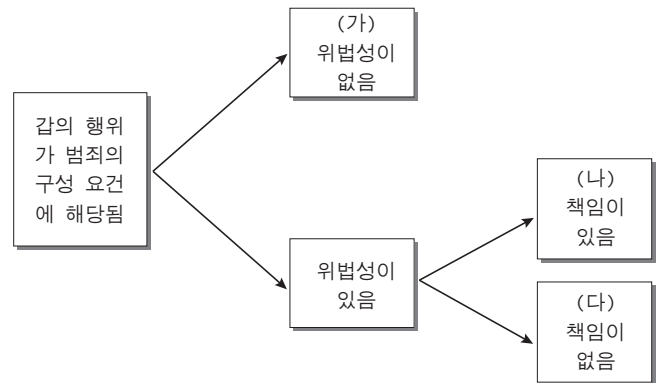
### 15 밑줄 친 ㉠~㉣에 대한 설명으로 옳지 않은 것은?

실탄이나 공포탄 등 총알이 들어 있지 않은 총을 하늘로 향하게 하고 방아쇠를 당기면서 다른 사람을 위협했다면 ㉠ 총포·도검·화약류 등의 안전관리에 관한 법률 위반으로 형사 처벌 대상이 된다는 판결이 나왔다. ㉡ 대법원 형사 1부는 빈총을 하늘로 향해 쏘며 상대방을 협박한 혐의 등으로 기소된 갑에게 총포·도검·화약류 등의 안전관리에 관한 법률 위반 혐의에 대해서는 무죄를 선고하고 폭력 행위 등 처벌에 관한 법률 위반 혐의만 유죄로 인정해 ㉢ 징역 6월에 ㉣ 집행 유예 1년, ㉤ 사회봉사 명령 40시간을 선고한 원심을 깨고 사건을 ㉥ ○○지방법원으로 돌려보냈다.

- ① ㉠은 실질적 의미의 형법에 해당한다.
- ② ㉡, ㉣으로 보아 1심은 지방 법원 단독 판사가 담당했을 것이다.
- ③ ㉢은 노역을 부과하는 자유형에 해당한다.
- ④ ㉣은 일정 기간 죄를 저지르지 않으면 면소된 것으로 간주한다.
- ⑤ ㉤은 범죄자의 사회 복귀와 사회 질서의 보호라는 목적을 가진 대안적 제재 수단이다.

▶ 7058-0214

### 16 다음은 갑의 행위에 대한 범죄 성립 여부에 대해 알아보기 위한 것이다. 이에 대한 설명으로 옳지 않은 것은? [3점]



- ① 갑이 현행범을 체포하여 경찰에 인도한 경우는 (가)에 해당한다.
- ② 갑이 심신 미약의 상태에서 범죄 행위를 하였다면 (나)에 해당한다.
- ③ 갑의 행위가 범죄로 성립되는 경우는 (나)에 한정된다.
- ④ 갑의 행위가 피해자의 승낙에 의한 경우라면 (다)에 해당한다.
- ⑤ 보호 처분을 받은 소년법상 소년인 갑의 행위는 (나) 또는 (다)에 해당한다.



▶ 7058-0215

**17** 표는 형사 절차와 관련하여 연령에 따라 갑~정을 구분한 것이다. 이에 대한 설명으로 옳지 않은 것은? [3점]

구분	갑	을	병	정
소년법상 소년입니까?	아니요	예	예	예
10세 이상 14세 미만입니까?	아니요	예	아니요	아니요
형벌을 받을 수 있습니까?	예	(가)	예	아니요
(나)	아니요	예	예	아니요

- ① (가)에는 '아니요'가 들어간다.
- ② (나)에는 '소년법상 보호 처분을 받을 수 있습니까?'가 들어갈 수 있다.
- ③ 가정 법원 소년부는 병에게 형벌을 줄 수 있다.
- ④ 정은 10세 미만인 자이다.
- ⑤ 병과 달리 을은 선도 조건부 기소 유예 처분을 받을 수 없다.

▶ 7058-0216

**18** 다음은 수업 시간에 교사가 제시한 사례이다. 교사의 질문에 옳지 않은 답을 한 학생은?

다음 사례에서 A가 취할 수 있는 구제 절차에 대해 발표해 보세요.

A는 이들의 생일 선물로 자전거를 사 주었다. 자전거를 구입한 다음 날 A와 아들은 공원에 나가 자전거를 탔는데 갑자기 자전거 페달에 고장이 나 자전거가 급정거하였다. 이로 인해 A의 아들은 전치 5주의 상해를 입었다. 이에 A는 어떻게 배상을 받아야 할지 고민하고 있다.

- ① 갑 : 해당 사업자에 배상을 요구하면 사업자는 배상 여부와 내용을 알려주어야 해요.
- ② 을 : 한국 소비자에게 피해 구제 의뢰를 하면 한국 소비자는 당사자 간 합의를 권고해요.
- ③ 병 : 소비자 분쟁 조정 위원회에 조정을 요청할 수도 있어요. 조정안에 대해서는 반드시 따라야 하므로 신중하게 요청해야 해요.
- ④ 정 : 소비자 분쟁 조정 위원회의 조정이 성립되지 않으면 민사 소송을 제기할 수도 있어요.
- ⑤ 무 : 민사 소송에서 제조물 책임법이 적용되면 자전거 제조업자는 무과실 책임을 질 수도 있어요.

▶ 7058-0217

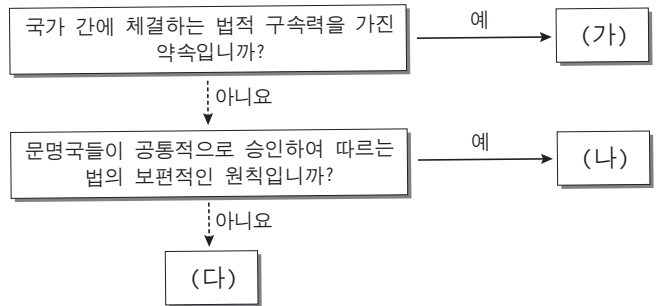
**19** 국제 연합의 주요 기구 A~C에 대한 설명으로 옳지 않은 것은?

국제 연합은 전쟁 예방, 국지적인 분쟁 해결, 분쟁의 평화적 조정 등 전 세계적 범위와 평화 유지를 위해 1945년에 설립되었다. 국제 연합의 주요 기구에는 A, B, C가 있는데 A는 모든 회원국이 참여하는 형식상 최고 의결 기관이고, B는 국제 평화와 안전 유지에 관한 국제 연합의 실질적 의사 결정 기구이다. C는 국가 간의 분쟁에 대해 국제법을 적용하여 해결하는 국제 연합의 사법 기관이다.

- ① A의 표결 방식은 1국 1표 원칙이 적용된다.
- ② B의 상임 이사국의 거부권 행사는 현실주의적 관점으로 설명된다.
- ③ C는 기본적으로 분쟁 당사국 간 합의에 의한 제소가 있어야 재판이 가능하다.
- ④ C에 재판을 청구할 수 있는 당사국은 국제 연합의 회원국만 가능하다.
- ⑤ C의 판결에 대해 이행을 하지 않는 국가에 대해 B의 제재가 이루어지기도 한다.

▶ 7058-0218

**20** 다음은 국제법의 법원 (가)~(다)를 구분한 것이다. 이에 대한 옳은 설명만을 <보기>에서 있는 대로 고른 것은? (단, (가)~(다)는 각각 조약, 국제 관습법, 법의 일반 원칙 중 하나이다.) [3점]



**보기**

- ㄱ. (가)는 당사국이 셋 이상인 경우에도 체결이 가능하다.
- ㄴ. 우리나라의 경우 (가)의 체결권은 대통령, 비준권은 국회에 있다.
- ㄷ. '국내 문제 불간섭'은 (나)의 사례에 해당한다.
- ㄹ. (가)와 달리 (나), (다)는 별도의 체결 절차 없이 법적 구속력이 발생한다.

- ① ㄱ, ㄷ
- ② ㄱ, ㄹ
- ③ ㄴ, ㄷ
- ④ ㄱ, ㄷ, ㄹ
- ⑤ ㄴ, ㄷ, ㄹ

문항에 따라 배점이 다르니, 각 물음의 끝에 표시된 배점을 참고 하시오. 3점 문항에만 점수가 표시되어 있습니다. 점수 표시가 없 는 문항은 모두 2점입니다.

▶ 7058-0219

### 1 근대 정치 사상이 갑, 을의 주장에 대한 설명으로 옳은 것은?

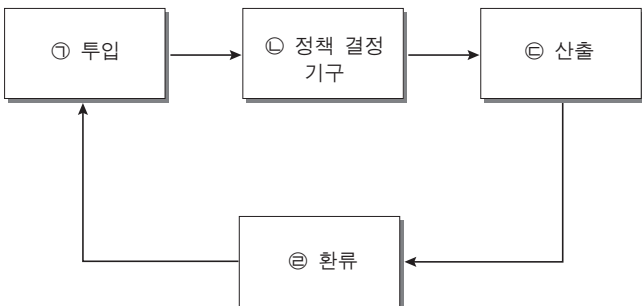
**갑** : 자연 상태는 만인에 대한 만인의 끊임없는 전쟁 상황이다. 모든 사람에 대한 전면적인 전쟁은 인간이 경험할 수 있는 최고의 악임에 틀림없다. 이러한 상태를 벗어나 안전을 보 장받기 위해 개인들은 계약을 맺어 국가를 구성한다.

**을** : 자연 상태는 자유롭고 평화롭지만, 옳고 그름을 구별하는 법이 없고, 다툼을 해결해 주는 재판관도 없으며, 법을 집행할 수 있는 합법적인 권력도 없다. 이러한 상태를 막고 생명, 자유, 재산 등을 안전하게 보장받기 위해 개인들은 계약을 맺고 국가를 설립한 것이다. 국가가 시민의 뜻에 반 할 때 시민들은 저항권을 행사할 수 있다.

- ① 갑은 인간을 선천적으로 선한 존재로 보았다.
- ② 갑은 신의 뜻에 기초한 정부 구성을 강조하였다.
- ③ 을은 국가를 수단이 아닌 목적적 존재라고 보았다.
- ④ 갑과 달리 을은 권력 분립에 기초한 정치 체제를 옹호하였다.
- ⑤ 을과 달리 갑의 사상은 근대 유럽 시민 혁명의 사상적 배경이 되었다.

▶ 7058-0220

### 2 그림은 정책 결정 과정을 나타낸 것이다. 이에 대한 옳은 설명을 <보기>에서 고른 것은? [3점]



**보기**

- ㄱ. 정부가 정책을 집행하는 것은 ㉠에 해당한다.
- ㄴ. 의회와 정부는 ㉡에 해당하는 기관이다.
- ㄷ. ㉢에서는 시민 단체, 정당이 주체적인 역할을 한다.
- ㄹ. 선거를 통해 ㉣이 이루어질 수 있다.

- ① ㄱ, ㄴ    ② ㄱ, ㄷ    ③ ㄴ, ㄷ    ④ ㄴ, ㄹ    ⑤ ㄷ, ㄹ

▶ 7058-0221

### 3 다음은 우리나라의 헌법 개정 내용의 일부를 간략하게 정리한 것이다. 이를 통해 추론할 수 있는 내용으로 가장 적절한 것은?

헌법 개정일	차시	개정 내용
1948. 7. 17.	헌법 제정	대통령 국회 간선제
1952. 7. 7.	1차 개헌	대통령 직선제(발칙 개헌)
1954. 11. 29.	2차 개헌	사사오입 개헌 (초대 대통령에 한해 3선 제한 철폐)
1960. 6. 15.	3차 개헌	의원 내각제
1962. 12. 26.	5차 개헌	대통령 직선제
1969. 10. 21.	6차 개헌	대통령 3선 허용(직선제 유지)
1972. 12. 17.	7차 개헌	유신 헌법, 대통령 통일 주체 국민 회의 간선제
1980. 10. 27.	8차 개헌	대통령 단임제, 선거인단 간선제
1987. 10. 29.	9차 개헌	대통령 직선제

- ① 제헌 이후 양당제가 확립되어 평화적인 정권 교체가 이루어졌다.
- ② 국회의원 지역구 선거에서 대선거구제의 실시로 지역주의가 감소하였다.
- ③ 제헌 이후 행정부 수반의 선출 방법에 관한 개헌이 여러 차례 이루어졌다.
- ④ 초대 대통령부터 단임제를 시행하여 독재 정권의 탄생을 원천적으로 차단하였다.
- ⑤ 제헌 이후 다른 정부 형태 변화 없이 대통령제 정부 형태가 지속적으로 유지되었다.

▶ 7058-0222

### 4 다음 대화의 (가)에 들어갈 적절한 내용을 <보기>에서 고른 것은?

**갑** : 전형적인 대통령제 정부 형태와 의원 내각제 정부 형태는 공통점이 있어.

**을** : 그래, 맞아. 그런데 의원 내각제 정부 형태와 다른 대통령제 정부 형태만의 특징은 무엇이 있을까?

**병** : 아! 그건 \_\_\_\_\_ (가) \_\_\_\_\_.

**보기**

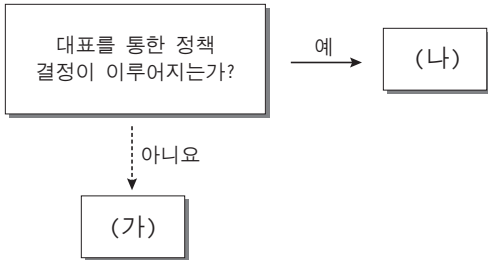
- ㄱ. 사법부의 독립을 보장해.
- ㄴ. 대통령이 법률안 거부권을 행사해.
- ㄷ. 국민이 선거를 통해 의회를 구성해.
- ㄹ. 의회 의원이 각료를 겸직할 수 없어.

- ① ㄱ, ㄴ    ② ㄱ, ㄷ    ③ ㄴ, ㄷ    ④ ㄴ, ㄹ    ⑤ ㄷ, ㄹ



▶ 7058-0223

5 그림은 참여 방식에 따른 민주주의 유형이다. (가), (나)에 대한 설명으로 옳은 것은? (단, (가), (나)는 직접 민주제, 간접 민주제 중 각각 하나이다.)



- ① (가)는 정치 참여에 따른 고비용 문제의 극복이 쉽다.
- ② (나)는 효율적인 국정 운영이 가능하나 국민 주권 실현은 어렵다.
- ③ (나)는 국민의 직접적인 참여 기회가 제공되어 대표에 대한 불신이 사라진다.
- ④ (가)와 달리 (나)는 국민 자치의 원리를 바탕으로 한다.
- ⑤ (나)에 비해 (가)는 국민의 의사가 왜곡될 가능성이 적다.

▶ 7058-0224

6 다음 자료에서 A당의 주도로 이루어진 선거구 변경으로 인해 나타난 현상으로 가장 적절한 것은? [3점]

갑 지역에는 모두 300명의 유권자가 살고 있다. 이들은 각각 100명씩 A, B, C 정당을 지지한다. 정당별 지지자들의 지리적 분포 및 현행 선거구와 변경한 후의 선거구 모습은 그림과 같다.

〈현행 선거구 모습〉 〈변경 후 선거구 모습〉

\* (가) A당 지지자, (나) B당 지지자, (다) C당 지지자  
 \*\* 현행 선거구와 변경 후 선거구 모두 소선거구제가 적용되고 있으며, 지지자들은 모두 지지 정당에 투표함

- ① 정치적 무관심이 심각해졌다.
- ② 각 선거구에서 사표가 줄어들었다.
- ③ 평등 선거의 원칙에 보다 충실해졌다.
- ④ 게리맨더링으로 특정 정당이 유리해졌다.
- ⑤ 대표자의 임기가 보장되지 않아 정책의 일관성이 약해졌다.

▶ 7058-0225

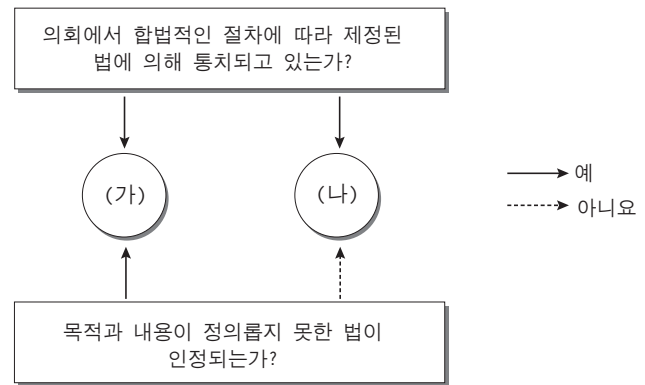
7 (가) 선거구 제도에 비해 (나) 선거구 제도가 갖는 일반적인 특징으로 옳은 것은? (단, 특정 지역에 기반을 둔 정당은 없다.)

선거구	(가)	(나)
특징	1개의 선거구에서 1명의 당선자를 배출한다.	1개의 선거구에서 10명의 당선자를 배출한다.

- ① 사표가 많이 발생한다.
- ② 소수당의 의회 진출 가능성이 크다.
- ③ 다양한 시민의 의사 반영이 어렵다.
- ④ 후보자 수가 적어 유권자의 후보자 파악이 용이하다.
- ⑤ 정당의 과대 대표, 과소 대표의 문제가 크게 발생한다.

▶ 7058-0226

8 그림은 법치주의의 유형 (가), (나)를 나타낸 것이다. 이에 대한 추론으로 가장 적절한 것은?



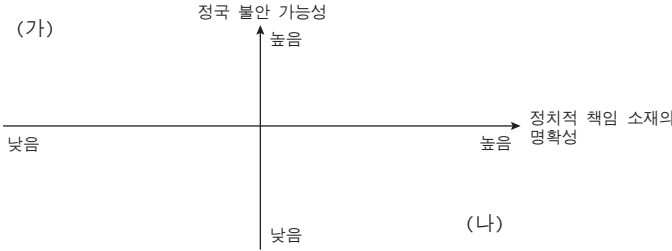
- ① (가)는 정치권력의 실질적 정당성을 강조할 것이다.
- ② (가)는 부당한 정치권력에 대한 저항을 인정할 것이다.
- ③ (나)는 법의 합법성과 함께 정당성도 중요시할 것이다.
- ④ (가)와 달리 (나)는 악법도 법이라고 인정할 것이다.
- ⑤ (나)와 달리 (가)는 법의 목적과 내용을 중시할 것이다.





▶ 7058-0227

9 그림은 복수 정당 제도의 유형 (가), (나)를 나타낸 것이다. 이에 대한 일반적인 설명을 <보기>에서 고른 것은?



**보기**

- ㄱ. (가)는 소수 대표제를 채택한 국가에서 나타날 가능성이 낮다.
- ㄴ. (나)는 의회 내 과반수 정당 출현이 불가능하다.
- ㄷ. (가)는 다당제, (나)는 양당제이다.
- ㄹ. (가)보다 (나)가 유권자의 정당 선택의 범위가 더 좁다.

- ① ㄱ, ㄴ    ② ㄱ, ㄷ    ③ ㄴ, ㄷ    ④ ㄴ, ㄹ    ⑤ ㄷ, ㄹ

▶ 7058-0228

10 우리나라 헌법 조항 (가), (나)에 대한 설명으로 옳지 않은 것은? [3점]

(가) 제10조 모든 국민은 인간으로서의 존엄과 가치를 가지며, 행복을 추구할 권리를 가진다. 국가는 개인이 가지는 불가침의 기본적 인권을 확인하고 이를 보장할 의무를 진다.

(나) 제37조 ② 국민의 모든 자유와 권리는 국가안전보장·질서유지 또는 공공복리를 위하여 필요한 경우에 한하여 법률로써 제한할 수 있으며, 제한하는 경우에도 자유와 권리의 본질적인 내용을 침해할 수 없다.

- ① (가)는 헌법 최고의 가치로 포괄적인 권리가 규정되어 있다.
- ② (가)는 모든 기본권에 적용되는 공통적인 이념이 나타나 있다.
- ③ (나)를 통해 과잉 금지의 원칙을 도출할 수 있다.
- ④ (나)는 재산권 행사의 공공복리 적합 의무의 근거가 된다.
- ⑤ (가)와 달리 (나)를 통해 자연법 사상을 도출할 수 있다.

▶ 7058-0229

11 우리나라 헌법 기관 (가)~(라)에 대한 설명으로 옳은 것은? [3점]

헌법 기관	특징 및 권한
(가)	예산안 심의 확정권
(나)	정부의 주요 정책을 심의하는 행정부 최고의 심의 기관
(다)	소관 부서 업무 총괄, 부령 발포
(라)	국가의 세입·세출 결산 및 감사 보고, 공무원의 직무 감찰

- ① 대통령은 (나)의 결정을 반드시 따라야 한다.
- ② (다)는 국무 회의 부의장으로 대통령 궐위 시 직무를 대행한다.
- ③ (라)는 대통령 직속 기관으로 국무총리의 명을 받아 직무를 수행한다.
- ④ (가)는 법률안 거부권을 통해 (나)를 견제할 수 있다.
- ⑤ (다)와 달리 (라)의 장은 대통령이 국회의 동의를 얻어 임명한다.

▶ 7058-0230

12 다음 대화에 대한 법적 판단으로 옳은 것은? [3점]



- ① ㉠은 등기부 갑구에, ㉡은 등기부 을구에 기재된다.
- ② ㉠과 ㉡은 모두 주택 소유권자의 동의를 구해야 설정이 가능하다.
- ③ 을은 우선 변제권을 확보하지 못하였다.
- ④ 갑과 을이 확보한 권리는 임차인 보호를 위해 필요하다.
- ⑤ 을과 달리 갑은 후순위 권리자보다 임차 보증금을 우선 변제 받을 수 있다.

▶ 7058-0231

**13** 다음 서류와 관련된 재판에 대한 옳은 설명을 <보기>에서 고른 것은? [3점]

## 평결 및 양형의견서

사건번호 : 000  
 피고인 : 갑(19××, ×, ××생)

◆ 본 배심원들은 피고인 갑의 절도죄에 대한 혐의에 대하여 다음과 같이 평결합니다.

## 보기

- ㄱ. 위 문서는 판사의 판결을 구속하지 않는다.
- ㄴ. 지방 법원 단독 판사가 관할하는 경미한 형사 사건을 대상으로 한다.
- ㄷ. 형사 재판에서 피고인의 의사를 확인하여 위와 같은 재판을 선택할 수 있다.
- ㄹ. 20세 이상 대한민국 국민이면 예외 없이 누구나 배심원으로 참여가 가능하다.

- ① ㄱ, ㄴ    ② ㄱ, ㄷ    ③ ㄴ, ㄷ    ④ ㄴ, ㄹ    ⑤ ㄷ, ㄹ

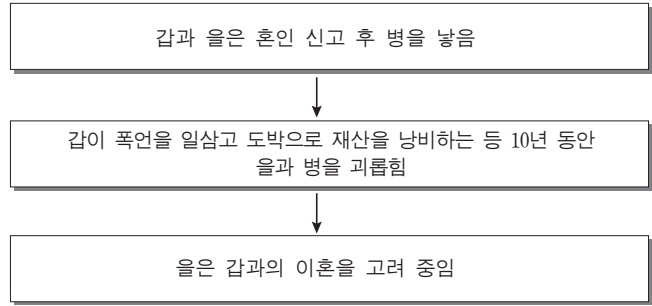
▶ 7058-0232

**14** 다음 사례에 대한 법적 판단으로 옳은 것은? [3점]

갑은 사실혼 배우자 을과 을 사이에 출생한 아들 병에게 전 재산의 50%씩을 주도록 유언장을 작성하고 사망하였으나 유언장이 제대로 작성되었는지 논란이 되고 있다. 유족으로는 병과 이혼한 전(前)부인 사이에서 낳은 아들 정, 딸 무가 있다. 갑은 생전에 병을 인지하는 법적 절차를 거쳤다.

- ① 유언의 법적 효력과 관계없이 을은 상속의 1순위이다.
- ② 유언의 법적 효력과 관계없이 정이 받을 금액은 무보다 많다.
- ③ 유언의 법적 효력이 인정되지 않아도 병은 상속인이 된다.
- ④ 유언의 법적 효력이 인정되면 병만 상속을 받게 된다.
- ⑤ 유언의 법적 효력이 인정되면 병과 달리 을은 유류분 반환을 청구할 수 있다.

▶ 7058-0233


**15** 다음 사례에 대한 법적 판단으로 옳은 것은? [3점]

- ① 을이 협의 이혼을 한다면 조정을 거쳐야 한다.
- ② 을은 갑의 합의가 없으면 재판상 이혼을 신청할 수 없다.
- ③ 이혼 후 을이 병을 양육할 경우 갑은 면접 교섭권을 갖는다.
- ④ 을은 이혼 시 혼인 전 갑의 재산에 대한 재산 분할을 청구할 수 있다.
- ⑤ 협의 이혼 시 친권자에 대한 합의가 이루어지지 않을 경우 가정 법원에서 친권자를 지정할 수 없다.

▶ 7058-0234

**16** 상담 사례에 대한 법적 조언으로 옳은 것은? [3점]

저는 얼마 전 집 앞 도로에서 휴대전화로 통화를 하면서 음식을 배달하던 을이 운전한 오토바이에 치어 상해를 입었습니다. 을은 본인이 대학생이라 치료비를 줄 수 없다고 합니다. 을은 병이 운영하는 ○○음식점의 배달 사원으로 고용되어 일하고 있던 중이었습니다. 저는 지금 치료비가 필요합니다.



- ① 을은 고의가 아니므로 불법 행위로 인한 손해 배상 책임이 없습니다.
- ② 을은 물질적 손해와 달리 정신적 손해에 대한 배상 책임이 없습니다.
- ③ 병은 특수 불법 행위로 인한 손해 배상 책임을 질 수 있습니다.
- ④ 병은 직접 가해하지 않았으므로 불법 행위로 인한 손해 배상 책임이 없습니다.
- ⑤ 병이 을의 사무 감독에 모든 주의를 다하였음을 증명하여도 병은 손해 배상의 책임을 집니다.



▶ 7058-0235

### 17 다음 자료에 대한 옳은 법적 판단을 <보기>에서 고른 것은? [3점]

피고인 : 갑  
 ㉠ 상고인 : 검사 을  
 변호인 : 병  
 원심 판결 : ○○ 고등 법원 ++ 선고 ++  
 주문 :  
 원심 판결 중 △△법 위반 부분을 파기하고 이 부분 사건을  
 ㉡ ○○ 고등 법원에 환송한다.

#### 보기

- ㄱ. ㉠을 인정하는 것은 공정한 재판을 위한 취지와 관련된다.
- ㄴ. ㉡은 모든 재판에서 2심만을 담당한다.
- ㄷ. 을은 위 판결에 불복하여 상소할 수 없다.
- ㄹ. 갑이 구속된 채 재판을 받고 있어도 갑은 병을 선임하지 않고, 직접 자신을 변호할 수 있다.

- ① ㄱ, ㄴ    ② ㄱ, ㄷ    ③ ㄴ, ㄷ    ④ ㄴ, ㄹ    ⑤ ㄷ, ㄹ

▶ 7058-0236

### 18 다음 자료에 대한 분석으로 옳은 것은?

갑은 결혼을 앞두고 신혼집으로 2015년 7월 25일에 ○○아파트에 대한 임대차 계약을 4억 원에 체결하기로 한 상태이다. 집은 마음에 들지만 집주인이 사업 자금 마련을 위해 종종 주택 담보 대출을 받는 경우가 있다고 하여 걱정스러워 등기 사항 전부 증명서를 확인하였다.

#### [ ㉠ ]

순위 번호	등기 목적	접수	등기 원인	권리자 및 기타 사항
1	소유권 보존	2008년 8월 2일	법원	소유자 을(주소 생략)
2	소유권 이전	2013년 6월 10일	2013년 6월 8일 매매	소유자 병(주소 생략)

#### [ ㉡ ]

순위 번호	등기 목적	접수	등기 원인	권리자 및 기타 사항
1	근저당권 설정	2008년 8월 4일	2008년 8월 4일 설정계약	채권최고액 5,000만 원 채무자 을 근저당권자 ☆☆☆은행
2	근저당권 설정	2013년 7월 5일	2013년 7월 5일 설정계약	채권최고액 5,000만 원 채무자 병 근저당권자 △△은행

- ① 갑은 임대차 계약서를 작성하는 시점에서만 등기부를 확인하면 된다.
- ② 갑이 대항력을 갖추고 확정 일자를 받는다면 △△은행보다 선순위 권리자가 된다.
- ③ ㉠은 을구로 소유권 이외의 사항이 기재된다.
- ④ 갑이 ○○아파트에 입주하면 ㉠에 기재된다.
- ⑤ 갑이 확정 일자를 받은 경우 ㉡에 기재하지 않는다.

▶ 7058-0237

### 19 (가), (나)와 같은 사례에서 활용할 수 있는 제도로 옳은 것은?

- (가) 제 아들이 불량배들에게 집단으로 폭행을 당해 현재 의식 불명 상태에 있는데, 가해자들을 잡지 못하였습니다. 경제적 형편이 매우 어려운데도 아무런 손해 배상을 받지 못하고 있습니다.
- (나) 횡령 혐의로 억울하게 구속되어 수사를 받았습니다. 하지만 수사 결과 결국 무혐의로 불기소 처분을 받았습니다. 생각하면 억울하고 눈물이 납니다.

#### (가)

- ① 형사 보상 제도
- ② 배상 명령 제도
- ③ 형사 보상 제도
- ④ 범죄 피해자 구조 제도
- ⑤ 범죄 피해자 구조 제도

#### (나)

- 배상 명령 제도
- 형사 보상 제도
- 구속 영장 실질 심사 제도
- 형사 보상 제도
- 구속 영장 실질 심사 제도

▶ 7058-0238

### 20 다음 대화에서 갑, 을이 취하고 있는 국제 사회를 보는 관점에 대한 옳은 설명을 <보기>에서 고른 것은?

기자 : 국제 사회의 문제 해결 방안을 세계적인 학자들에게 물어보도록 하겠습니까.  
 갑 : 국제 사회 문제는 강력한 패권국이 존재하면 해결될 수 있습니다. 국가 간의 분쟁은 패권국이 개입하여 조정해 나하면 해결됩니다. 또한 패권국의 군사력이 압도적으로 강하면 감히 패권국에 도전하거나 전쟁을 일으킬 국가는 없습니다.  
 을 : 경제, 환경, 인권, 빈곤, 기아 등 국제 사회의 문제들은 힘이 아닌 이성을 신뢰하고 그것을 통해 만들어진 국제 윤리, 국제법, 국제기구 등을 통해 해결할 수 있습니다. 국제 사회 구성원들은 갈등하고 전쟁하는 비용보다 협력하여 얻을 수 있는 이익이 크다면 기꺼이 서로 협력할 가능성이 크기 때문입니다.

#### 보기

- ㄱ. 갑의 관점은 집단 안보를 통한 질서 유지를 강조한다.
- ㄴ. 갑의 관점은 평화를 위해 군사적 동맹을 통해 힘의 균형을 이루어야 함을 강조한다.
- ㄷ. 을의 관점은 국제 행위 주체들이 상호 협력함으로써 평화를 유지할 수 있다고 본다.
- ㄹ. 을의 관점은 개별 국가의 이익과 전체 국가의 이익 간에 조화를 이룰 수 없다고 본다.

- ① ㄱ, ㄴ    ② ㄱ, ㄷ    ③ ㄴ, ㄷ    ④ ㄴ, ㄹ    ⑤ ㄷ, ㄹ

문항에 따라 배점이 다르니, 각 물음의 끝에 표시된 배점을 참고하시오. 3점 문항에만 점수가 표시되어 있습니다. 점수 표시가 없는 문항은 모두 2점입니다.

▶ 7058-0239

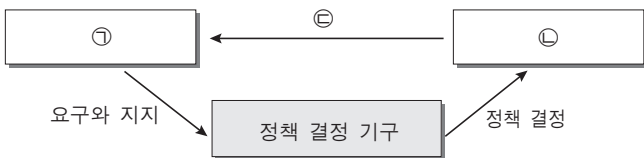
### 1 정치를 바라보는 관점 A, B에 대한 설명으로 옳지 않은 것은?

정치의 본질에 대한 이해는 정치를 특정 조직의 활동과 관련하여 이해할 것인가, 사회 집단에서 일어나는 일정한 과정으로 볼 것인가에 따라 A와 B로 구분할 수 있다. A는 정치를 국가나 정부에 한정된 활동으로 파악하고 갈등 해소와 질서 유지를 위해 구성원들에게 강제력을 행사하는 활동으로 이해한다. 이에 반해 정치를 인간의 사회적 관계에서 나타나는 갈등 해결 과정, 사회적 희소가치의 권위적 배분으로 이해하는 B는 정치를 어떤 특정한 목표나 제도로서 이해하기보다 과정으로 파악하려는 경향을 가지고 있다.

- ① A는 국가 이전의 정치 현상을 설명할 수 없다는 한계를 가진다.
- ② A는 지역 사회의 문제에 대해 주민들이 서로의 견해를 조정하는 과정도 정치에 포함시킨다.
- ③ B는 대통령의 국정 운영, 국회나 정당에 관련된 활동도 정치로 간주한다.
- ④ B는 사회 집단에 의한 정치적 변화나 발전 과정을 설명하기에 적합하다.
- ⑤ A에 비해 B는 정치 주체를 포괄적으로 이해하여 다원화된 현대 사회의 정치 현상을 설명하기 용이하다.

▶ 7058-0240

### 2 그림은 정치 과정을 나타낸 것이다. ㉠~㉣에 대한 옳은 설명을 <보기>에서 고른 것은? (단, ㉠~㉣은 각각 투입, 산출, 환류 중 하나에 해당한다.) [3점]



**보기**

- ㉠. 권위주의 국가에서는 ㉠이 ㉡보다 활성화된다.
- ㉡. 개정 법률에 따라 청소년 지원 정책을 실시하는 것은 ㉡의 사례에 해당한다.
- ㉢. ㉣을 통해 정부의 정책을 평가하고 새로운 정책의 필요성을 제기한다.
- ㉣. 시민 단체와 언론은 ㉠과 달리 ㉣에서 강력한 영향력을 행사하여 정부 정책의 변동을 주도한다.

- ① ㉠, ㉡    ② ㉠, ㉢    ③ ㉡, ㉢    ④ ㉡, ㉣    ⑤ ㉢, ㉣

▶ 7058-0241

### 3 민주주의의 유형 A, B에 대한 옳은 설명을 <보기>에서 고른 것은?

국민의 자기 지배에 근거한 민주주의는 국민이 정치적 의사 결정 과정에 참여하는 방식에 따라 A와 B로 구분할 수 있다. 정부나 의회에 매개되지 않는 국민의 참여를 토대로 하는 A는/는 국민 투표 등을 통해 이루어지는 순수한 민주주의 형태로 국민을 정치적으로 훈련시키며 정책 결정의 정당성을 강화한다. 이에 반해 정치 참여가 일시적이라는 점에서 제한적이라고 할 수 있는 B는/는 국민이 자신의 이해관계를 대변할 사람에게 권력을 위임하는데, 대표와 국민 사이의 신뢰 관계를 바탕으로 정치적 분업을 실현한다.

**보기**

- ㉠. A에 비해 B는 국민 자치의 원리에 충실하다.
- ㉡. A에 비해 B는 국민의 의사가 왜곡될 가능성이 높다.
- ㉢. B에 비해 A는 정치적 무관심이 나타날 가능성이 낮다.
- ㉣. B에 비해 A는 영토가 확대되고 사회가 전문화된 국가에 적합하다.

- ① ㉠, ㉡    ② ㉠, ㉢    ③ ㉡, ㉢    ④ ㉡, ㉣    ⑤ ㉢, ㉣

▶ 7058-0242

### 4 다음은 국가 성립에 관한 근대 정치 사상가의 주장이다. 이에 대한 설명으로 옳은 것은?

외적의 침입과 상호 간의 권리 침해에 따른 투쟁 상태에서 인민을 방어하기 위해 공통된 권력을 설립하는 유일한 방법은 그들의 모든 힘을 한 인물 또는 하나의 합의체에 부여하는 것이다. 그것은 곧 한 인물 또는 하나의 합의체를 지명하여 그들의 인격을 대변하게 만드는 것이다. 이는 그들의 인격을 대표하는 자가 공동의 평화와 안전에 관한 영역에서 행한 것 또는 행하도록 하는 것은 무엇이든 그들 각자가 그렇게 한 장본인임을 스스로 시인하고 인정하는 것에 해당한다. 그리고 인민은 각각 자신들의 의지를 그의 의지에, 자신들의 판단을 그의 판단에 복종시키게 된다.

- ① 인민의 의사가 주권자의 권력 행사를 구속한다고 보았다.
- ② 주권자의 권력 행사가 의회 입법권에 의해 제한받았다고 보았다.
- ③ 국가가 공공선을 반영한 일반 의지에 따라 운영되어야 한다고 보았다.
- ④ 인민이 자기 보존을 위해 주권을 제3자에게 양도해야 한다고 보았다.
- ⑤ 국가 권력을 시민의 권리 보장을 위해 나타난 자연 발생적 질서라고 간주하였다.



▶ 7058-0243

### 5 정치 참여 집단 (가), (나)에 대한 설명으로 옳은 것은?

(가) 정책 결정 과정에서 특정 집단의 이해관계가 반영될 수 있도록 영향력을 행사하는 것을 목표로 결성된 집단으로, 다원화 된 사회에서 자신들의 이익을 배타적으로 실현하기 위해 노력한다.

(나) 공공의 이익 실현을 목표로 정치적 강령을 내세워 선거 과정에서 우위를 차지하기 위해 경쟁하는 집단으로, 권력 획득을 위해 사회 내의 이해관계나 의견을 최대한 정치에 반영하고자 한다.

- ① (가)는 의회와 정부를 매개하는 기능을 수행한다.
- ② (가)는 심층적이고 전문적인 정보를 기반으로 공공 정책을 결정한다.
- ③ (나)는 선거에서 공직 후보자를 추천하고 정치적 책임을 진다.
- ④ (가)와 달리 (나)는 정치 사회화 기능을 수행하며 정치 과정에 영향력을 행사한다.
- ⑤ (나)와 달리 (가)는 여론을 수렴하여 정책 결정 과정에 전달하는 기능을 수행한다.

▶ 7058-0244

### 6 법치주의의 유형 A, B에 대한 설명으로 옳지 않은 것은? [3점]

근대 자유주의 사상에 기초한 법치주의는 국가의 존립 목적을 개인의 자유와 재산의 보호에서 찾았다. 법치주의가 민주주의와 동일시되거나 두 개념의 결합이 분명하게 인식되지는 않았지만 두 개념이 내용상 관련이 있다는 점은 인식되고 있었다. 그러나 19세기 후반에 현실 정치 영역에서 자유주의가 쇠퇴하면서 나타난 에 따라 법치주의가 내용적으로 축소되고 형식화되는 경향을 보이게 되었고, 민주주의와의 관련성 역시 부정되기에 이르렀다. 법치주의가 합법성과 동일시되었던 나치의 전체주의는 정의로운 법에 대한 요청을 가져왔고, 형식적 요소로만 구성되었던 법치주의가 실질적 요청까지 포함하는 로 확대되는 결과를 가져왔다.

- ① A는 행정과 재판이 법률에 적합하기만 하면 법률의 내용은 문제 삼지 않는다.
- ② B는 형식적 합법성뿐 아니라 국민의 자유와 권리 보장에 목적을 두어 실질적 정당성 확보도 강조한다.
- ③ A와 달리 B는 국가의 모든 통치 행위가 정의의 이념에 구속되어야 한다고 본다.
- ④ B와 달리 A는 국민의 기본권을 제한하기 위해 법적 근거가 있어야 한다고 본다.
- ⑤ A, B는 모두 국가 권력의 자의적인 지배가 아닌 의회가 제정한 법률에 따른 지배를 강조한다.

▶ 7058-0245

### 7 다음 사례에 대한 옳은 법적 판단을 <보기>에서 고른 것은?

[3점]

갑이 운영하는 ○○ 기업의 영업 담당 직원들은 회사가 정한 유류비 지급 방침에 반발하여 집단으로 근로 제공을 거부하였다. 이에 갑은 “집단적인 근로 제공 거부로 회사의 정상적인 운영을 방해하였다.”는 이유를 들어 이들을 모두 해고하였다. 이에 갑은 부당 해고를 하였다는 이유로 근로 기준법 위반죄로 기소되어 법원에서 재판을 받게 되었다. 갑은 재판이 진행되던 중에 재판의 전제가 된 근로 기준법 제○○조 제1항의 규정에 위반하는 자를 처벌하는 같은 법 제□□□조의 벌칙 조항이 해고의 자유를 침해하였다는 이유로 헌법 소원 심판을 청구하였다. 이에 대해 헌법 재판소는 “근로자의 생존권을 보장하기 위해 부당 해고를 사전에 방지할 수 있는 예방적 제도가 절실한 상황에서 부당 해고에 대한 처벌 규정을 두는 것을 자의적이고 불균형한 형벌로 볼 수 없어 헌법에 위반되지 않는다.”고 판단하였다.

#### 보기

- ㄱ. 갑이 헌법 재판소에 청구한 것은 권리 구제형 헌법 소원이다.
- ㄴ. 갑이 침해당했다고 주장하는 기본권은 국가의 존재를 전제로 한 적극적 권리이다.
- ㄷ. 갑이 법원에 위헌 법률 심판 제청 신청을 하였으나 기각되었을 것이다.
- ㄹ. 헌법 재판소는 해당 법률 조항이 과잉 금지 원칙에 위배되지 않는다고 판단하였다.

- ① ㄱ, ㄴ    ② ㄱ, ㄷ    ③ ㄴ, ㄷ    ④ ㄴ, ㄹ    ⑤ ㄷ, ㄹ

▶ 7058-0246

### 8 갑국이 다음과 같이 선거구제를 변경할 경우 예상되는 정치적 변화로 가장 적절한 것은?

○○신문    2016년 △△월 △△일

#### 갑국, 선거구제 변경 확정

의회 의원 선거에서 유권자를 지역적 단위로 분할하여 한 선거구에서 가장 많은 득표를 한 1인을 선출하던 갑국은 최근 선거구제 변경안을 확정하였다. 변경안에 따르면, 기존과 같이 정당이 각 선거구별로 한 명의 후보자를 공천할 수 있지만, 기존 선거구 2개를 하나의 선거구로 병합하여 선거구별로 2인의 대표를 득표순으로 선출한다.

- ① 지역 대표성이 강화되고, 정국이 안정될 것이다.
- ② 후보자 개인의 선거 운동 비용이 줄어들 가능성이 높다.
- ③ 정당별 득표율과 의석률 간의 불일치가 심화될 것이다.
- ④ 군소 정당이나 신진 정치인의 의회 진출 가능성이 낮아질 것이다.
- ⑤ 동일 선거구 내에서 당선자 간 표의 등가성 문제가 발생할 것이다.



▶ 7058-0247

**9** 다음 자료를 토대로 총선 후 갑국의 정치 상황에 대한 분석 및 추론으로 옳은 것은? [3점]

전형적인 정부 형태를 채택하고 있는 갑국에서는 행정부가 의회와 독립적으로 구성되고 의회의 신임과 무관하게 존속한다. 갑국은 행정부 수반이 A당 소속인 상태에서 최근 총선이 실시되었다. 아래 표는 갑국의 의회 의원 선거에 따른 정당별 의석수를 나타낸 것이다.

〈총선 전 정당별 의석수〉		〈총선 후 정당별 의석수〉	
정당	의석수(석)	정당	의석수(석)
A	150	A	95
B	95	B	155
C	43	C	36
D	12	D	14
합계	300	합계	300

\* 갑국 의회의 총 의석수는 300석이다.

- ① B당이 새로운 내각을 구성하고 행정부 수반을 선출할 것이다.
- ② B당이 의회 운영을 주도하며 내각 불신임권을 행사할 것이다.
- ③ 정책 결정 과정에서 의회와 행정부의 대립 가능성이 높아질 것이다.
- ④ 법률안 제출을 위해 내각은 C당, D당과 연립 정부를 구성해야 할 것이다.
- ⑤ 행정부 수반이 법률안 거부권 행사를 통해 의회 다수당의 횡포를 견제할 가능성이 낮아졌다.

▶ 7058-0248

**10** 다음 자료에서 강조하고 있는 우리나라 헌법의 기본 원리에 대한 설명으로 옳지 않은 것은?

헌법은 제119조 제2항에서 “국가는 균형 있는 국민 경제의 성장 및 안정과 적정한 소득의 분배를 유지하고, 시장의 지배와 경제력의 남용을 방지하며, 경제 주체 간의 조화를 통한 경제의 민주화를 위하여 경제에 관한 규제와 조정을 할 수 있다.”라고 명시하고 있다. 이는 우리 헌법이 이미 많은 문제점과 모순을 드러낸 자유방임적 시장 경제를 지향하지 않고, 아울러 전체주의 국가의 계획 경제를 지양하면서 국민 모두가 더불어 번영하고 실질적인 사회 정의가 보장되는 국가를 추구하고 있음을 의미하는 것이다.

- ① 국민 생활에 대한 정부 규제의 최소화를 지향한다.
- ② 실질적 평등을 실현하기 위한 합리적 차별을 인정한다.
- ③ 사회적 약자를 배려하는 적극적 평등 실현 조치를 실시한다.
- ④ 국민은 생존권 보장을 위해 국가에 일정한 행위를 요구할 수 있다.
- ⑤ 개인 생활에 대한 국가적 책임은 물론 개인의 사회에 대한 책임까지 강조한다.

▶ 7058-0249

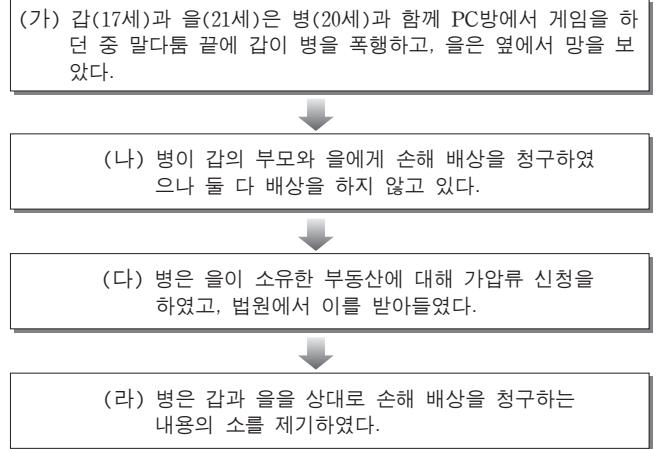
**11** (가), (나)의 사례에 대한 법적 판단으로 옳은 것은? [3점]

(가) 갑(30세)은 형을 대신하여 몸이 편찮으신 아버지를 10년 동안 간호하였고, 아버지는 모든 재산을 갑에게 물려준다는 유언을 하고 사망하였다. 아버지가 돌아가신 후 형은 자신도 아버지의 유산을 받을 권리가 있다고 주장하고 있다.  
 (나) 을(18세)은 건강식품 판매점에서 고가의 다이어트 식품을 법정 대리인의 동의 없이 구입하였다. 매매 대금 중 일부를 지급하고 상품을 가져온 을은 5일 정도 복용 후 다이어트 효과가 없다는 이유로 판매점에 반품을 요구하였다.

- ① (가)에서 유언의 효력과 관계없이 갑이 단독으로 상속을 받게 된다.
- ② (가)에서 법이 정한 형식이나 절차를 지키지 않은 유언도 법적 효력이 인정된다.
- ③ (나)에서 을은 법정 대리인의 동의를 얻어야 매매 계약을 취소할 수 있다.
- ④ (나)에서 을의 법정 대리인이 계약을 취소하면 을은 채무 불이행 책임을 지지 않는다.
- ⑤ (나)에서는 청약과 승낙의 의사 표시가 합치되어 법률 행위가 확정적으로 유효하게 성립되었다.

▶ 7058-0250

**12** (가)~(라)에 대한 법적 판단으로 옳지 않은 것은? [3점]



- ① (가)의 시점에 갑과 을의 병에 대한 공동 불법 행위 책임이 발생한다.
- ② (나)에서 병은 갑을 상대로 불법 행위에 대한 손해 배상을 청구할 수도 있다.
- ③ (나)에서 병은 을에게 치료비 이외에 별도의 위자료도 청구할 수 있다.
- ④ (다)에서 법원의 결정이 있으면 등기부에 기재되며, 을의 부동산 처분이 제한된다.
- ⑤ (라)에서 병이 제기한 민사 소송에 의하여 갑, 을에 대한 형사 소송도 함께 진행된다.



### 13 다음 자료에 대한 법적 판단으로 옳은 것은? [3점]

혼자 사는 갑은 을이 소유한 주택을 2년 동안 임차하기로 하고, 2015년 5월 20일 계약을 체결한 후 같은 해 7월 8일에 주택을 인도받고 주민 등록을 마치면서 확정 일자를 받았다. 갑은 2016년 8월 2일에 주민 등록만 이전한 상태로 2017년 1월 현재까지 임차 주택에 거주하고 있다. (다음 임차 주택의 등기 사항 전부 증명서는 갑이 2017년 1월에 확인한 것이며, 이후 추가 등기 사항은 없다.)

【갑구】				
순위 번호	등기 목적	접수	등기 원인	권리자 및 기타 사항
1	소유권 보존	2010년 5월 3일 제○○○호	법원	소유자 을 (이하 생략)
2	소유권 이전	2015년 12월 29일 (생략) 제○○○호	매매	소유자 병 (이하 생략)

【을구】				
순위 번호	등기 목적	접수	등기 원인	권리자 및 기타 사항
1	저당권 설정	2016년 9월 20일 제○○○호	법원	채권액 금100,000,000원 채무자 병 (이하 생략) 저당권자 정(이하 생략)

- ① 갑이 을과 체결한 임대차 계약은 2015년 7월 8일에 성립되었다.
- ② 갑은 주민 등록을 이전한 후에도 주택 임대차 보호법상 우선 변제권을 유지한다.
- ③ 을이 병에게 주택을 매도할 당시 갑의 동의가 필요했다.
- ④ 병이 정에게 채무를 이행하지 않으면 정은 갑이 임차한 주택의 소유권을 취득하게 된다.
- ⑤ 정이 갑의 임대차 계약 기간 중 저당권을 실행한다면 갑보다 우선하여 변제받을 수 있다.

### 14 다음 사례에 대한 옳은 법적 판단을 <보기>에서 고른 것은?

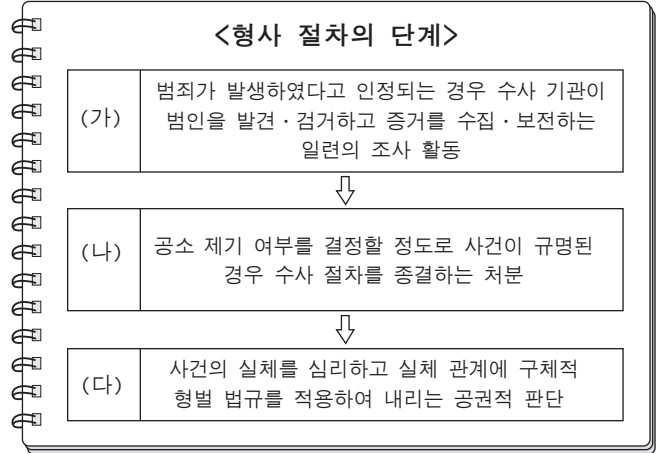
갑은 회사 동료인 을과 크게 다툰 후 인터넷 게시판에 욕설과 함께 을을 비방하는 글을 올렸다. 이를 본 을이 갑을 명예 훼손으로 고소하였고, 갑은 정보 통신망 이용 촉진 및 정보 보호 등에 관한 법률 위반으로 기소되어 법원에서 1,000만 원의 벌금형에 대한 선고 유예 판결을 받았다. 그러나 유예 기간 중에 갑이 병에 대한 상해 혐의로 기소되어 항소심이 진행되고 있다.

#### 보기

- ㄱ. 법원은 을에 대한 명예 훼손을 인정할 수 있는 증거가 불충분하다고 판단하여 갑에게 선고 유예 판결을 내렸다.
- ㄴ. 항소심에서 무죄 판결이 확정될 경우, 유예 기간이 지나면 갑이 받은 형의 선고는 효력이 상실된다.
- ㄷ. 항소심 결과에 불복할 경우 검사와 갑 모두 상고할 수 있다.
- ㄹ. 선고 유예 기간 중 갑이 징역형을 선고받고 판결이 확정될 경우, 유예된 1,000만 원의 벌금형이 선고된다.

- ① ㄱ, ㄴ    ② ㄱ, ㄷ    ③ ㄴ, ㄷ    ④ ㄴ, ㄹ    ⑤ ㄷ, ㄹ

### 15 그림은 절도 혐의로 구속된 갑에 대한 형사 절차의 일부를 정리한 노트 필기이다. 이에 대한 설명으로 옳은 것은? [3점]



- ① (가)에서 갑은 검사에게 구속 적부 심사를 청구할 수 있다.
- ② (나)에서 혐의가 없어 불기소 처분을 받을 경우 갑은 형사 보상을 청구할 수 있다.
- ③ (다)에서 갑이 유죄 판결을 받으면 이에 불복하여 항고할 수 있다.
- ④ (다)에서 갑이 집행 유예 판결을 받고 죄를 저지르지 않은 상태로 일정 기간이 지나면 면소된 것으로 간주한다.
- ⑤ (다)와 달리 (가)에서 갑에게 무죄 추정의 원칙이 적용된다.

### 16 (가), (나)는 범죄가 성립하지 않는 사유를 구분한 것이다. 이에 대한 옳은 설명을 <보기>에서 고른 것은?

- (가) 자기 또는 타인의 법익에 대한 현재의 위난을 피하기 위한 상당한 이유가 있는 행위는 큰 이익을 보호하기 위해 작은 이익을 희생시키는 행위로 보충성과 법익 균형성을 충족할 경우 정당화된다.
- (나) 저항할 수 없는 폭력이나 자기 또는 친족의 생명·신체에 대한 위해(危害)를 방어할 방법이 없는 협박에 의하여 강요된 행위는 적법한 행위에 대한 기대 가능성이 없어 비난할 수 없다고 본다.

#### 보기

- ㄱ. 자신을 향해 돌진하는 자동차를 피하기 위해 가게 유리창을 파손한 행위는 (가)에 해당한다.
- ㄴ. 법적 절차를 기다릴 수 없는 긴급한 상황에서 자신의 권리를 실현하기 위한 행위는 (나)에 해당한다.
- ㄷ. (나)는 위법성이 인정되는 행위이지만 책임이 조각되어 범죄가 성립하지 않는다.
- ㄹ. (나)와 달리 (가)는 범죄의 구성 요건 해당성이 인정되는 행위에 적용된다.

- ① ㄱ, ㄴ    ② ㄱ, ㄷ    ③ ㄴ, ㄷ    ④ ㄴ, ㄹ    ⑤ ㄷ, ㄹ



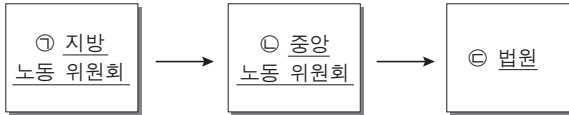
▶ 7058-0255

▶ 7058-0257

17 다음 자료에 대한 법적 판단으로 옳지 않은 것은? [3점]

19 밑줄 친 ㉠~㉣에 대한 옳은 설명을 <보기>에서 고른 것은?

갑은 ○○ 회사와 근로 계약을 체결하였다. 입사 후 업무량과 근로 시간 때문에 고민하던 갑은 근로 조건 개선을 위해 노동조합에 가입하여 활동하였다. ○○ 회사는 이를 이유로 갑을 기존의 업무와 무관한 부서로 발령하고 연봉을 삭감하였다. 이러한 ○○ 회사의 조치가 부당하다고 생각한 갑은 다음과 같은 구제 절차를 고려하고 있다.



㉠ 국제 연합(UN) 총회는 ㉡ '국제법상 핵무기 사용'에 관해 국제 사법 재판소에 권고적 의견을 요청하였다. 이에 대해 국제 사법 재판소는 핵무기 사용을 허용하는 ㉢ 국제 관습법이나 ㉣ 조약이 없지만, 이를 포괄적이고 전면적으로 금지하는 국제 관습법이나 조약 역시 존재하지 않는다고 판단하였다.

보기

- ① 갑은 근로 3권 침해를 이유로 ㉠에 구제 신청을 할 수 있다.
② ○○ 회사의 부당 노동 행위에 대한 증명 책임은 갑에게 있다.
③ ㉡의 재심 판정이 있기 전에 ○○ 회사가 ㉢에 소송을 제기할 수 있다.
④ 갑이 ㉡의 재심 판정에 불복할 경우 일정 기간 내에 ㉢에 행정 소송을 제기할 수 있다.
⑤ ㉢을 통한 분쟁 해결은 ㉠, ㉡에서의 판정 과정에도 불구하고 3심제를 원칙으로 한다.

- ㉠. ㉠은 국제 평화와 안전 유지에 관해 책임을 지는 국제 연합의 주요 기구이다.
㉡. 국제 사법 재판소는 ㉡에 관한 국제 규범이 정립되어 있다고 보았다.
㉢. ㉢은 국제 사회에서 반복적 관행이 묵시적 합의에 따라 법으로 승인되고 준수되면 효력이 발생한다.
㉣. ㉣은 국가 상호 간 또는 국가와 국제기구 간에 체결되는 문서 형식의 합의로 원칙적으로 체결 당사국만 구속한다.

- ① ㉠, ㉡ ② ㉠, ㉢ ③ ㉡, ㉢ ④ ㉡, ㉣ ⑤ ㉢, ㉣

▶ 7058-0256

▶ 7058-0258

18 다음 글에서 강조하고 있는 국제 사회를 바라보는 관점에 대한 옳은 설명을 <보기>에서 고른 것은? [3점]

20 다음 자료의 ㉠~㉣에 대한 설명으로 옳은 것은?

세계 대공황과 함께 나타난 일본에 의한 만주 사변, 이탈리아의 에티오피아 침공 등을 통해 집단 안보 체제의 붕괴가 나타나고 있었지만 국제 연맹은 이에 효과적으로 대응하지 못하였다. 이에 더해 제2차 세계 대전의 발발로 국제법과 국제기구에 대한 믿음이 무너지면서 국제 정치 체제는 국제적 무정부 상태로 그려지게 되었다. 이에 따라 국가 간 이익의 조화가 본질적으로 불가능하다는 홉스의 자연 상태를 기반으로 한 패러다임이 국제 사회에 등장하게 되었다.

○ 학습 주제 : 민법의 기본 원칙
○ 학습 내용
Table with 2 columns: 원리, 내용. Rows ㉠, ㉡, ㉢.

보기

- ㉠. 국제 사회가 힘의 논리에 의해 지배된다는 현실을 간과한다.
㉡. 개별 국가의 이익과 국제 사회 전체의 이익은 조화될 수 없다고 본다.
㉢. 국제 평화를 유지하는 방안으로 군사적 동맹을 통한 세력 균형 전략을 강조한다.
㉣. 국제 사회에 보편적 선이나 윤리가 작동한다고 보고 국가 간의 상호 의존성을 증시한다.

- ① ㉠은 공작물 등의 소유자 책임의 근거가 된다.
② ㉡은 권리 남용 금지, 재산권 행사의 공공복리 적합의 의무를 강조한다.
③ ㉢은 사회적 강자가 자신의 책임을 회피하는 수단으로 악용되기도 하였다.
④ ㉠과 달리 ㉡은 자유롭고 평등한 개인을 전제로 성립하는 원칙이다.
⑤ ㉢과 달리 ㉠, ㉡은 자본주의의 문제점을 해결하는 과정에서 수정된 원칙으로 대체되었다.

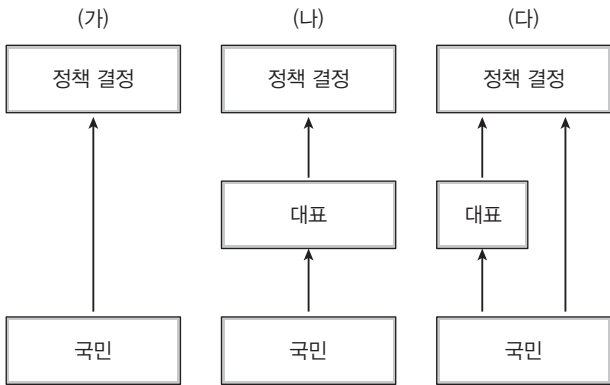
- ① ㉠, ㉡ ② ㉠, ㉢ ③ ㉡, ㉢ ④ ㉡, ㉣ ⑤ ㉢, ㉣



문항에 따라 배점이 다르니, 각 물음의 끝에 표시된 배점을 참고 하시오. 3점 문항에만 점수가 표시되어 있습니다. 점수 표시가 없는 문항은 모두 2점입니다.

6058-0159

1 그림은 국민 주권의 실현 방식을 도식화한 것이다. (가)~(다)에 대한 설명으로 옳은 것은? [3점]



- ① (가)의 대표적인 부작용으로 정치적 무관심을 들 수 있다.
- ② (가)는 (나)에 비해 국민 자치를 보다 효율적으로 실현한다.
- ③ (나)는 (가)보다 선동가에 의한 정치의 혼란이 나타나기 쉽다.
- ④ (다)는 (가)에서 나타난 국민 참여의 제약을 극복하기 위해 대두된 방식이다.
- ⑤ (나)와 (다)에서는 (가)와 달리 의회가 주요 정치 기관으로 대두된다.

6058-0160

2 사회 계약론자 A, B에 대한 설명으로 옳은 것은?

A는 약육 강식의 자연 상태에서 인간들은 자신들의 의지를 대신해 줄 공통적 권위를 찾았고, 이러한 권위체인 국가를 사회 계약을 통해 만들어 냈다고 보았다. 반면, B는 인간은 자유와 평등을 제도적으로 보장받기 위하여 자신들이 지닌 선한 공통분모로 구성된 일반 의지로서 정치 공동체를 구성하며, 이에 따라 양도하거나 나눌 수 없는 주권을 행사한다고 주장하였다.

- ① A는 주권이 신의 권위에 바탕을 둔다고 보았다.
- ② B는 국가의 권력은 분립되어야 한다고 주장하였다.
- ③ A는 B와 달리 사회의 자연 상태로의 복귀를 강조하였다.
- ④ B는 A와 달리 국가를 목적보다는 수단적인 것으로 보았다.
- ⑤ A와 B는 모두 국가의 형성 근거를 사회적 합의에서 찾았다.

정답과 해설 32쪽

6058-0161

3 표는 정치 참여 집단의 특성을 알아보기 위한 것이다. 이에 대한 옳은 설명만을 <보기>에서 있는 대로 고른 것은? (단, A~C는 각각 정당, 시민 단체, 이익 집단 중 하나이다.) [3점]

구분	A	B	C
정치적 총원 기능을 하는가?	예	아니요	아니요
(가)	아니요	아니요	예
(나)	예	예	예
(다)	예	아니요	예

보기

- ㄱ. A는 정부와 의회를 매개하는 기능을 한다.
- ㄴ. (나)에는 “정치 사회화 기능을 수행하는가?”가 들어갈 수 있다.
- ㄷ. (가)에 “특수 이익을 추구하는가?”가 들어가면, B는 시민 단체이다.
- ㄹ. (다)에 “공공의 이익 실현을 목적으로 하는가?”가 들어가면, C는 이익 집단이다.

- ① ㄱ, ㄴ                      ② ㄴ, ㄹ                      ③ ㄷ, ㄹ
- ④ ㄱ, ㄴ, ㄷ                ⑤ ㄱ, ㄷ, ㄹ

6058-0162

4 자료에 대한 옳은 분석을 <보기>에서 고른 것은?

법치주의는 크게 두 유형으로 나눌 수 있다. 법치주의는 원래 군주나 귀족의 자의적 지배를 벗어나 법의 지배를 추구하기 위해 출발하였지만, A로 나타나 독재에 악용되어 국민의 기본권이 침해되기도 하였다. 현대 민주 국가들은 이러한 문제를 극복하고 실질적으로 법치가 실현되는 B를 추구하고 있으며, 이를 위한 ㉠ 여러 가지 장치들을 마련하고 있다.

보기

- ㄱ. A는 B와 달리 통치의 합법성을 강조한다.
- ㄴ. 법의 정당성은 A보다는 B에서 강조된다.
- ㄷ. 의회에 의한 입법은 B가 아닌 A에서 강조된다.
- ㄹ. 우리나라의 위헌 법률 심판 제도는 ㉠의 예에 해당한다.

- ① ㄱ, ㄴ    ② ㄱ, ㄷ    ③ ㄴ, ㄷ    ④ ㄴ, ㄹ    ⑤ ㄷ, ㄹ

[5~6] 다음 자료를 보고 물음에 답하시오.

- 갑국의 의회 의원 선거에서는 한 표라도 더 많은 득표를 한 후보자를 당선자로 결정한다.
- 을국의 의회 의원 선거에서는 첫 번째 투표에서 전체 투표자의 반을 넘어 득표한 후보자가 있다면 당선자로 결정한다. 만약 과반수 득표자가 없다면 득표율 상위 두 명에 오른 후보자를 대상으로 투표를 치러 가장 많은 표를 얻은 후보자를 당선자로 결정한다.
- 병국 의회 의원 선거에서는, 유권자가 투표 용지에 지지하는 후보자들에게 선호하는 순위를 매긴 뒤 투표한다. 그리고 선호 후보자의 득표수로 1차 집계를 한 뒤 과반수를 얻은 후보자가 나오면 당선자가 확정된다. 하지만 과반 득표자가 없을 경우 최하위에 해당되는 후보자를 탈락시키고, 탈락한 후보자를 1선호로 투표한 유권자의 표를 동일한 선호 유형의 2선호 후보자에게 넘겨준다. 만약 그 표까지 합산하여 집계하여도 과반수 득표자가 나오지 않으면 탈락한 후보자를 제외한 나머지 후보자 중 최하위 득표자의 2선호 지지표를 나머지 후보자에게 넘겨주는 식으로 과반수 획득자가 나올 때까지 집계를 반복한다.

6058-0163

5 위 갑국~병국의 의회 의원 선거 방식에 대한 옳은 설명만을 <보기>에서 있는 대로 고른 것은?

보기

- ㄱ. 갑국에 비해 병국의 선거 제도는 투·개표 과정이 복잡하다는 단점이 있다.
- ㄴ. 을국에 비해 병국의 선거 제도는 시간과 비용이 더 소요된다는 단점이 있다.
- ㄷ. 병국에 비해 갑국과 을국의 선거 제도는 사표를 줄일 수 있다는 장점이 있다.
- ㄹ. 갑국에 비해 을국과 병국은 대표자의 정당성을 높일 수 있는 선거 제도를 채택하고 있다.

- ① ㄱ, ㄴ                      ② ㄱ, ㄹ                      ③ ㄴ, ㄷ
- ④ ㄱ, ㄷ, ㄹ                ⑤ ㄴ, ㄷ, ㄹ

6058-0164

6 병국에서 ○○ 선거구의 투표 결과가 표와 같을 때, 이에 대한 설명으로 옳은 것은? [3점]

투표자 선호 유형	투표자 수 (만 명)	후보자 선호 순위			
		1선호	2선호	3선호	4선호
㉠	40	A	B	C	D
㉡	31	B	C	D	A
㉢	20	C	B	D	A
㉣	9	A	C	D	B

\* 모든 투표자는 ㉠~㉣ 중 하나에 속하며, 의원 후보자는 A~D가 출마하였음

- ① 1차 집계에서 당선자가 배출된다.
- ② ㉡ 선호를 가진 투표자의 표는 사표(死票)가 된다.
- ③ B 후보자는 다른 후보자의 표를 넘겨받아 당선자로 확정된다.
- ④ ㉢ 선호를 가진 투표자의 표는 다른 후보자에게 넘겨주게 된다.
- ⑤ 투표자의 2선호 표가 넘겨지는 과정이 두 차례 이상 반복되어야 당선자가 결정된다.

6058-0165

7 표는 전형적인 정부 형태를 갖고 있는 갑국의 총선 결과이다. 이에 대한 분석 및 추론으로 옳은 것은? [3점]

구분		총선 전	총선 후
의회 구성	A당	134석	101석
	B당	106석	130석
	기타	10석	19석
행정부 수반		A당 소속	A당 소속

- ① 갑국의 행정부 수반은 의회 해산권을 가지고 있을 것이다.
- ② 갑국의 행정부 수반과 국가 원수는 동일한 인물일 것이다.
- ③ 총선 이후 의회의 내각 불신임권 행사가 용이해질 것이다.
- ④ 총선 이후 행정부와 입법부의 유기적 협조가 더 용이해질 것이다.
- ⑤ 갑국 의회는 다양한 국민의 의사를 반영하기 용이한 구조일 것이다.

6058-0166

8 다음 A~C 법률의 공통적인 근거가 되는 기본권에 대한 설명으로 옳은 것은?

A는 헌법에 따라 근로 조건의 기준을 정함으로써 근로자의 기본적 생활을 보장, 향상시키며 균형 있는 국민경제의 발전을 꾀하는 것을 목적으로 한다.  
 B는 노인에게 기초 연금을 지급하여 안정적인 소득 기반을 제공함으로써 노인의 생활 안정을 지원하고 복지를 증진함을 목적으로 한다.  
 C는 사업자의 시장 지배적 지위의 남용과 과도한 경제력의 집중을 방지하고, ... (중략) ... 국민 경제의 균형 있는 발전을 도모함을 목적으로 한다.

- ① 국가의 존재를 전제로 인정된다.
- ② 기본권 보장의 역사가 가장 길다.
- ③ 자유 민주주의의 형성에 기여하였다.
- ④ 다른 기본권을 보장하기 위한 수단적 권리이다.
- ⑤ 국가 의사 결정에의 참여를 요구하는 권리이다.



6058-0171

**13** 다음 사례에 대한 옳은 법적 판단만을 <보기>에서 있는 대로 고른 것은? (단, 갑과 을은 법적으로 다른 유형의 이혼을 하였다.)

- 갑은 자녀 양육 방식을 놓고 아내와 자주 다투다가 결국 가정 법원으로부터 이혼 의사를 확인받아 이혼하였다.
- 을은 정조의 의무를 저버리고 가정을 돌보지 않는 남편과 이혼 조정을 거친 후 가정 법원의 판결을 받아 이혼하였다.

**보기**

ㄱ. 갑의 이혼 사유는 민법에 규정되어 있다.  
 ㄴ. 갑은 을과 달리 이혼 숙려 기간을 거쳤을 것이다.  
 ㄷ. 갑과 을은 모두 이혼 전에 배우자와 법률혼 관계에 있었다.  
 ㄹ. 을의 배우자는 갑의 배우자와 달리 재산 분할 청구권을 가지지 못한다.

- ① ㄱ, ㄷ                      ② ㄱ, ㄹ                      ③ ㄴ, ㄷ  
 ④ ㄱ, ㄴ, ㄹ                ⑤ ㄴ, ㄷ, ㄹ

6058-0172

**14** 밑줄 친 ㉠~㉣에 대한 옳은 법적 판단만을 <보기>에서 있는 대로 고른 것은? [3점]

갑은 을이 소유자인 주택에 전세를 들어가기 위해 을과 ㉠ 임대차 계약을 2015년 9월 12일에 맺었는데, 당시 발급한 등기사항 전부증명서(등기부 등본)에서 ㉡ 임차할 주택에 2014년 3월 5일자로 5,000만 원의 저당권이 △△은행을 저당권자로 설정되어 있음을 확인하였다. ㉢ 갑은 가족과 함께 2015년 10월 22일에 이사하여 입주하고, 당일 전입 신고를 완료하였으며, ㉣ 임대차 계약서상에 확정 일자(날짜)를 받았다. 한편, 이사 이후 우연히 발급해 본 등기사항 전부증명서(등기부 등본)에서 해당 주택에 대한 2015년 12월 20일자의 저당권이 ㉤ ○○은행을 저당권자로 새롭게 설정되어 있음을 확인할 수 있었다.

**보기**

ㄱ. ㉠은 계약서의 작성이 계약 성립의 필수 조건이다.  
 ㄴ. ㉡은 을의 주택 등기부상의 표제부에 기록되어 있는 내용이다.  
 ㄷ. ㉢에 따라 갑의 임차권은 제3자에게도 주장할 수 있게 되었다.  
 ㄹ. ㉣과 ㉤에 따라 갑은 임차한 주택이 강제 경매가 되더라도 ㉤에 비해 우선 변제를 받을 수 있다.

- ① ㄱ, ㄴ                      ② ㄱ, ㄹ                      ③ ㄷ, ㄹ  
 ④ ㄱ, ㄴ, ㄷ                ⑤ ㄴ, ㄷ, ㄹ

6058-0173

**15** 다음 사례에 대한 옳은 법적 판단을 <보기>에서 고른 것은? [3점]

갑(남)은 사실혼 관계인 을(여)과 부(父)의 인지 절차가 완료된 친생자 병과 갑의 전 배우자 사이에 낳은 정, 갑의 모친 무와 함께 살고 있었다. 그러던 중 갑은 6억 원의 재산(빚은 없음)을 남기고 질병으로 사망하였는데, 종교 단체에 자신의 전 재산을 기부한다는 자필 유언장이 발견되었다. 그런데 유언장의 효력에 대해 불분명한 부분이 있어서 유족들은 이것이 유효한지 확인하려 한다. 그리고 상속인들 모두는 상속 포기를 고려하고 있지 않다.

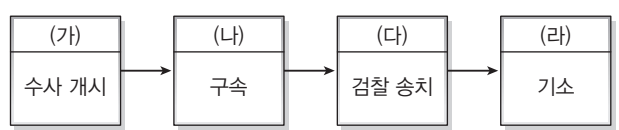
**보기**

ㄱ. 유언장이 무효라면, 병의 상속분은 3억 원이다.  
 ㄴ. 유언장의 효력 유무와 상관없이 을과 무는 상속을 받지 못한다.  
 ㄷ. 유언장이 유효하다면, 정과 달리 병은 유류분 반환 청구가 가능하다.  
 ㄹ. 유언장이 유효하다면, 상속인들은 한정 승인을 통해 상속받는 것이 유리하다.

- ① ㄱ, ㄴ                      ② ㄱ, ㄷ                      ③ ㄴ, ㄷ                      ④ ㄴ, ㄹ                      ⑤ ㄷ, ㄹ

6058-0174

**16** 그림은 갑이 겪은 형사 절차의 일부이다. (가)~(라)와 관련된 설명으로 옳지 않은 것은?



- ① (가)는 고소, 고발뿐 아니라 현행범의 체포로도 가능하다.  
 ② (나)에 앞서 갑은 구속의 타당성을 확인하는 심문 절차를 거쳤을 것이다.  
 ③ (다)는 경찰이 갑과 수사 기록을 검찰로 넘기는 것이다.  
 ④ (라)의 여부는 수사를 지휘하는 검사의 고유한 권한이다.  
 ⑤ 갑은 (가), (나)에서 피의자, (다), (라)에서는 피고인으로 불린다.

6058-0175

17 갑~정의 행위에 대한 옳은 법적 판단을 <보기>에서 고른 것은? [3점]

- 소방관 갑(34세)은 화재 진압을 위한 긴급한 상황에서 타인의 집에 주인 허락 없이 출입하였다.
- 을(12세)은 운전면허도 없이 아버지의 차를 몰아 사람을 치어 다치게 하였다.
- 병(30세)은 아픈 아내의 수술비를 마련하기 위해 은행에서 현금을 탈취하였다.
- 정(17세)은 달려드는 사나운 개를 피하려다 옆 사람을 넘어뜨려 전치 2주의 상해를 입혔다.

보기

- ㄱ. 갑의 행위는 범죄의 구성 요건을 갖추지 못했다.
- ㄴ. 을의 행위는 위법성과 책임이 모두 조각되는 사유가 존재한다.
- ㄷ. 병의 행위는 갑, 을, 정의 행위와 달리 범죄가 성립한다.
- ㄹ. 갑과 정의 행위는 모두 위법성 조각 사유가 존재한다.

- ① ㄱ, ㄴ    ② ㄱ, ㄷ    ③ ㄴ, ㄷ    ④ ㄴ, ㄹ    ⑤ ㄷ, ㄹ

6058-0176

18 밑줄 친 ㉠, ㉡이 공통으로 침해한 소비자의 권리를 <보기>에서 고른 것은?

- ㉠ 일부 통신사들이 스마트폰 단말기 가격을 부풀려 표시한 뒤 보조금을 지급하여 실제로는 할인이율 없지만, 소비자들 자기 구입한 단말기만 많은 할인을 받고 있는 것으로 느꼈다. 이에 공정거래위원회는 불공정 거래로 간주하고 시정 명령과 과징금을 부과하였다.
- 경제 정의 실천 연합의 조사에 따르면, ㉡ 일부 앱 스토어의 경우 구매 전 환불 정책, 업체 정보, 개발자 정보 등 필수 정보들을 고지하지 않거나 미흡했고, 명확한 기준과 절차 없이 계약 철회와 환불은 원천 불가라는 정책을 고수하고 있는 것으로 조사됐다.

보기

- ㄱ. 알 권리                                 ㄴ. 안전할 권리
- ㄷ. 선택할 권리                            ㄹ. 의견을 반영할 권리

- ① ㄱ, ㄴ    ② ㄱ, ㄷ    ③ ㄴ, ㄷ    ④ ㄴ, ㄹ    ⑤ ㄷ, ㄹ

6058-0177

19 대화에서 밑줄 친 ㉠~㉤에 대한 설명으로 옳지 않은 것은? [3점]



- ① ㉠을 구두로 통지하면 ㉠에 해당한다.
- ② ㉡은 ㉠이 책임을 부담하지 않는 것이다.
- ③ ㉢은 중앙 노동 위원회를 의미한다.
- ④ ㉣은 민사 소송에 해당한다.
- ⑤ ㉢과 ㉣은 모두 ㉡ 이전에는 제기할 수 없다.

6058-0178

20 다음 국제법의 법원(法源) A, B에 대한 옳은 설명만을 <보기>에서 있는 대로 고른 것은?

만일 ○○국과 ◇◇국이 관세를 폐지하는 내용의 협정을 맺는다고 하자. 그리고 이를 두 나라 의회의 비준 동의와 국가 원수의 비준을 거쳐 시행한다면, 이는 국제법상 A가 되는 것이다. 반면, 두 나라 국가 원수가 서로 상대방 국가를 방문할 때 어떤 예우를 받는지, 외교관들에 대한 예우는 어떨지, 서로의 내정에 대해 간섭하지 않는 것 등은 서로 협정을 맺지 않았지만, 오랜 국가 간에 형성된 관행으로서 응당 지켜야 할 국제법상 B에 해당한다.

보기

- ㄱ. A는 체결 당사국에게만 효력을 가진다.
- ㄴ. A는 국가와 국제기구 간에도 체결될 수 있다.
- ㄷ. B는 원칙적으로 모든 국가들에게 효력을 가진다.
- ㄹ. A와 B는 모두 국회의 동의를 받아야 효력이 발생한다.

- ① ㄱ, ㄴ                                ② ㄱ, ㄹ                                ③ ㄴ, ㄷ
- ④ ㄱ, ㄴ, ㄷ                            ⑤ ㄴ, ㄷ, ㄹ

문항에 따라 배점이 다르니, 각 물음의 끝에 표시된 배점을 참고 하시오. 3점 문항에만 점수가 표시되어 있습니다. 점수 표시가 없는 문항은 모두 2점입니다.

◉ 6058-0179

1 밑줄 친 '이 법치주의'에 대한 옳은 설명만을 <보기>에서 있는 대로 고른 것은?

인권 운동가인 마틴 루서 킹 목사는 “히틀러의 만행이 당시에는 합법이었다는 것을 잊지 말아야 합니다.”라는 유명한 연설을 하였다. 이는 당시 독일에서는 합법적 절차에 따라 법이 제정되기만 하면 그 법의 내용이 무엇이든지 그 법에 따라 행정을 하거나 재판을 해도 법적으로는 아무런 하자가 없는 것으로 인정받았기 때문이다. 결국 킹 목사는 이 법치주의를 비판하고 있는 것이다.

보기

- ㄱ. 통치권 강화에 악용될 수 있다.
- ㄴ. 의회의 입법 기능을 인정하지 않는다.
- ㄷ. 통치의 합법성보다는 정당성을 강조한다.
- ㄹ. 법률의 목적·내용보다는 형식을 중시한다.

- ① ㄱ, ㄷ                      ② ㄱ, ㄹ                      ③ ㄴ, ㄷ
- ④ ㄱ, ㄴ, ㄷ                ⑤ ㄴ, ㄷ, ㄹ

◉ 6058-0180

2 밑줄 친 ㉠~㉣에 대한 옳은 설명을 <보기>에서 고른 것은?

고대 아테네의 ㉠ 시민들은 전체 시민의 의사에 의해 국가의 의사 결정을 하였다. 한편, 근대 민주 사회의 ㉡ 시민들은 주권을 행사할 권리를 모든 사람들에게 부여하는 것에 동의하지 않았다. 하지만 현대 민주 사회에서의 ㉢ 시민들은 모두가 주권자로서의 권한을 부여받고 있다.

보기


- ㄱ. ㉠은 선거를 통해 평의회의 구성원이 될 수 있었다.
- ㄴ. ㉡은 대의제가 아닌 직접 민주제의 실시를 옹호했다.
- ㄷ. ㉢은 보통 선거의 실시에 의해 대중 민주주의의 주체가 되었다.
- ㄹ. ㉠, ㉡은 당시에는 특권적 지위를 누렸다.

- ① ㄱ, ㄴ                      ② ㄱ, ㄷ                      ③ ㄴ, ㄷ                      ④ ㄴ, ㄹ                      ⑤ ㄷ, ㄹ

정답과 해설 35쪽

◉ 6058-0181

3 그림은 법과 정치 수업 시간의 한 장면이다. 갑, 을이 생각하는 정치의 의미에 대한 옳은 분석을 <보기>에서 고른 것은?



보기

- ㄱ. 갑 : 국가의 통치와 관련된 활동만이 정치이다.
- ㄴ. 갑 : 정치는 소수의 사람들에 의해 수행되는 공적인 활동에 한정된다.
- ㄷ. 을 : 국가 형성 이전에는 정치현상이 존재하지 않았다.
- ㄹ. 을 : 정치는 권력의 행사를 통해 사회 질서를 유지하는 활동이다.

- ① ㄱ, ㄴ                      ② ㄱ, ㄷ                      ③ ㄴ, ㄷ                      ④ ㄴ, ㄹ                      ⑤ ㄷ, ㄹ

◉ 6058-0182

4 다음 내용을 담고 있는 우리 헌법의 기본 원리가 나타난 헌법 조항을 <보기>에서 고른 것은?

- 어떠한 단체나 어떠한 개인도 국민으로부터 명시적으로 유래하지 않은 권리를 행사할 수 없다.
- 국가는 국민에 의하여 운영되어야 하고, 국민은 그 누구도 아닌 스스로에게 명령하고 복종할 뿐이다.

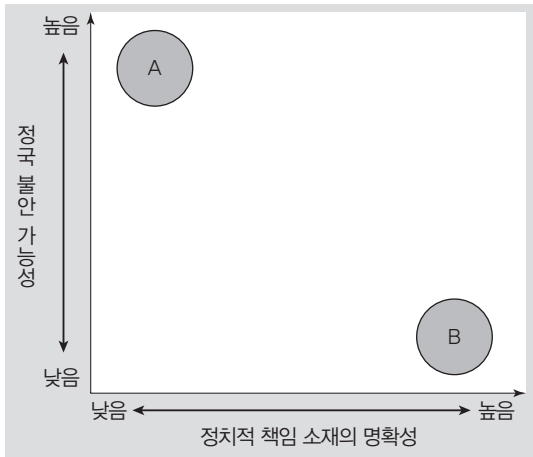
보기

- ㄱ. 제1조 ② ... 모든 권력은 국민으로부터 나온다.
- ㄴ. 제4조 ... 자유 민주적 기본 질서에 입각한 평화 통일을 수립하고 이를 추진한다.
- ㄷ. 제24조 모든 국민은 법률이 정하는 바에 의하여 선거권을 가진다.
- ㄹ. 제34조 ① 모든 국민은 인간다운 생활을 할 권리를 가진다.

- ① ㄱ, ㄴ                      ② ㄱ, ㄷ                      ③ ㄴ, ㄷ                      ④ ㄴ, ㄹ                      ⑤ ㄷ, ㄹ

6058-0183

5 그림은 민주 국가의 정당 제도 유형 A, B의 특징을 비교한 것이다. 이에 대한 설명으로 옳은 것은? [3점]



- ① A보다 B에서 유권자의 정당 선택 범위가 더 넓다.
- ② B에서는 의회 내 과반수 정당의 출현이 불가능하다.
- ③ 정당 간 극한 대립은 B보다는 A에서 주로 나타난다.
- ④ 의원 내각제 국가에서는 A보다 B가 나타날 가능성이 높다.
- ⑤ 다수 대표제를 채택한 국가는 A보다 B가 나타날 가능성이 높다.

6058-0184

6 A, B에 해당하는 입헌주의에 대한 옳은 설명만을 <보기>에서 있는 대로 고른 것은?

입헌주의의 유형에는 크게 A, B 두 가지가 있다. A는 명목상으로는 3권 분립과 기본권 규정이 존재하지만 군주가 강력한 지배권을 가지고 있으며, 의회가 있기는 하지만 군주의 자문 역할 정도에 그쳐 인권보장이 미약하다는 특징이 있다. 이에 비해 B는 근대 헌법의 역사적 변천과 더불어 다양성을 나타내기는 하지만, 통치 권력의 제한과 합리화를 통한 개인의 자유와 권리의 보장이 그 핵심을 이룬다.

보기

- ㄱ. A는 B와 달리 통치자를 통제하기 어렵다.
- ㄴ. A와 달리 B는 성문화된 헌법을 바탕으로 한다.
- ㄷ. A는 B와 달리 헌법의 최고 규범성을 인정한다.
- ㄹ. A와 달리 B는 실질적 입헌주의를 실현하고자 한다.

- ① ㄱ, ㄴ                      ② ㄱ, ㄹ                      ③ ㄷ, ㄹ
- ④ ㄱ, ㄴ, ㄷ                ⑤ ㄴ, ㄷ, ㄹ

6058-0185

7 그림은 ○○국 의회 의원 선거에서의 □□지역구 선거 벽보 중 일부이다. 이에 대한 옳은 분석 및 추론을 <보기>에서 고른 것은? [3점]



보기

- ㄱ. 실제 선거에서 갑, 을이 동시에 당선될 수 없다.
- ㄴ. ○○국이 채택한 선거 제도는 양당제보다는 다당제를 촉진하는 데 유리할 수 있다.
- ㄷ. (가)와 (나)의 내용은 이념이나 정책 측면에서 매우 상이할 것이다.
- ㄹ. ○○국은 동일 선거구 내에서 투표 가치의 차등 문제가 발생할 수 있는 선거구 제도를 채택하고 있다.

- ① ㄱ, ㄴ                      ② ㄱ, ㄷ                      ③ ㄴ, ㄷ                      ④ ㄴ, ㄹ                      ⑤ ㄷ, ㄹ

6058-0186

8 다음은 우리나라 '정당법'의 일부 조항이다. 이를 통해 확인할 수 있는 내용을 <보기>에서 고른 것은?

- 제15조 (정당의) 등록 신청을 받은 관할 선거 관리 위원회는 형식적 요건을 구비하는 한 이를 거부하지 못한다.
- 제29조 ① 정당은 민주적인 내부 질서를 유지하기 위하여 당원의 총의를 반영할 수 있는 대의 기관 및 집행 기관과 소속 국회의원이 있는 경우에는 의원 총회를 가져야 한다.
- 제31조 ① 정당은 당원의 정예화와 정당의 재정 자립을 도모하기 위하여 당비 납부 제도를 설정·운영하여야 한다.

보기

- ㄱ. 복수 정당제를 지향하고 있다.
- ㄴ. 정당 설립을 허가제로 하고 있다.
- ㄷ. 당원의 의사를 반영한 정당 운영을 지향하고 있다.
- ㄹ. 당내 의사 결정은 전체 당원이 모여 결정하도록 하고 있다.

- ① ㄱ, ㄴ                      ② ㄱ, ㄷ                      ③ ㄴ, ㄷ                      ④ ㄴ, ㄹ                      ⑤ ㄷ, ㄹ

6058-0187

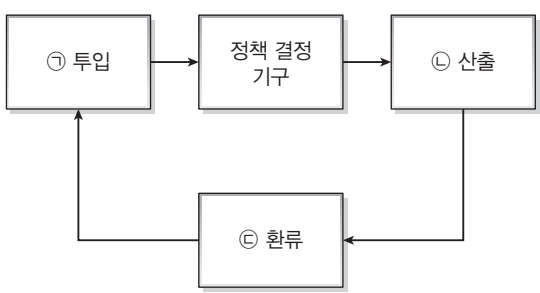
9 다음 글이 강조하는 바로 가장 적절한 것은?

요즘 언론은 중립적 입장이라며 사건에 대해 어떠한 판단도 내리지 않고 모든 입장들을 똑같은 양으로 나열하는 식의 보도에만 치중하고 있다. 진짜 언론은 우리 사회의 부조리하고 고쳐야 할 것들을 찾아내고 사람들에게 생각할 수 있는 더 많은 자료를 제공하여 그 속에서 올바른 가치 판단 및 가치 판단에 근거한 행동을 이끌어 낼 수 있도록 도와주어야 한다. '이런 주장도 있고 저런 주장도 있다.'는 보도는 사람들의 가치 판단에 혼란을 초래하고 나아가 그 문제 자체에 대해 관심을 멀어지게 함으로써 오히려 편파적이 될 수 있다. 왜냐하면 그 문제가 잊혀짐으로써 이익을 보는 사람이나 집단이 있을 수 있기 때문이다. 언론은 우리 사회가 나아가야 할 길에 대한 고민을 바탕으로 사회 구성원의 의지가 사회 운영 과정에 반영될 수 있도록 적극적 역할을 해야 한다.

- ① 언론은 공익을 우선해서 보도해야 한다.
- ② 언론은 객관적인 사실만을 보도해야 한다.
- ③ 언론은 정치권력으로부터 자유로워야 한다.
- ④ 언론은 올바른 여론 형성의 터전을 마련해야 한다.
- ⑤ 언론은 중립적 입장에서 사회적 쟁점을 보도해야 한다.

6058-0188

10 그림은 정책 결정 과정을 나타낸 것이다. 이에 대한 옳은 설명을 <보기>에서 고른 것은?



**보기**

ㄱ. 정당은 ㉠의 기능을 수행한다.  
 ㄴ. '교육부의 수능 영어 절대평가 시행'은 ㉡에 해당한다.  
 ㄷ. 민주 사회로 진행될수록 ㉠보다 ㉡이 활발해진다.  
 ㄹ. 권위주의 사회일수록 ㉢의 결과가 ㉡에 반영되는 정도가 높아진다.

- ① ㄱ, ㄴ    ② ㄱ, ㄷ    ③ ㄴ, ㄷ    ④ ㄴ, ㄹ    ⑤ ㄷ, ㄹ

6058-0189

11 표는 A~C를 비교한 것이다. 각 기본권에 해당하는 권리나 제도가 옳게 연결된 것은? (단, A~C는 각각 참정권, 자유권, 사회권 중 하나에 해당한다.) [3점]

기본권	질문	A	B	C
	소극적·방어적 권리인가?	아니요	예	아니요
	국가의 존재를 전제로 하는 권리인가?	예	아니요	예
	국민주권의 원리를 실현할 수 있는 바탕이 되는가?	예	아니요	아니요

- |   | A         | B         | C         |
|---|-----------|-----------|-----------|
| ① | 환경권       | 구속 적부 심사제 | 공무 담임권    |
| ② | 환경권       | 공무 담임권    | 구속 적부 심사제 |
| ③ | 공무 담임권    | 구속 적부 심사제 | 환경권       |
| ④ | 공무 담임권    | 환경권       | 구속 적부 심사제 |
| ⑤ | 구속 적부 심사제 | 공무 담임권    | 환경권       |

6058-0190

12 갑국과 을국의 정부 형태에 대한 분석으로 옳은 것은? (단, 갑국과 을국은 각각 전형적인 두 정부 형태 중 하나를 취하고 있다.) [3점]

갑국과 을국은 지난달 거의 같은 시기에 총선을 실시했다. 총선 결과 갑국에서는 새로운 다수당이 된 ○○당의 A씨가 행정부 수반으로 선출되었다. 이에 비해 을국 역시 총선 결과 □□당이 새로운 과반수 당이 되었으나 행정부 수반은 B씨로 변함이 없다.

- ① B는 의회 해산권을 가지고 있다.
- ② A와 달리 B는 국가 원수로서의 지위도 갖는다.
- ③ 갑국 의회 의원의 행정부 각료 겸직은 불가능하다.
- ④ 을국보다 갑국이 국가 정책의 연속성 유지에 유리하다.
- ⑤ 을국보다 갑국이 행정부와 의회 간에 권력 분립이 엄격하다.



6058-0191

13 다음 자료에 대한 분석으로 옳은 것은? [3점]

- 2015년 6월 7일 : 갑은 을 소유의 ○○주택을 방문 당일에, 보증금 1억 원에 2년 임대차 계약을 체결하였다.
- 2015년 8월 7일 : 갑은 ○○주택에 이사한 후 전입 신고를 하였다.
- 2015년 9월 3일 : 을과 병은 ○○주택에 ㉠ 저당권 설정 등기를 하였다.
- 2017년 3월 2일 : ○○주택이 ㉡ 경매 처분되었다.

- ① ㉠은 부동산 등기부의 갑구에 기재된다.
- ② ㉡은 갑의 신청에 의해 이루어졌다.
- ③ 2015년 6월 7일부터 갑과 을 사이에는 채권 채무 관계가 성립하였다.
- ④ 2015년 8월 9일부로 갑은 우선 변제권을 갖게 되었다.
- ⑤ 2017년 3월 2일 이후 갑과 을과의 채권 채무 관계는 종식되었다.

6058-0192

14 다음 법적 사례에 대한 옳은 분석만을 <보기>에서 있는 대로 고른 것은? [3점]

A는 ○○아파트에 거주하고 있는데, 위층의 누수 현상으로 인해 가재도구 등이 손상되었다. 위층에는 B가 집주인인 C로부터 아파트를 임차하여 거주 중이었다. A가 B에게 배상을 청구하자 B는 자신에게는 책임이 없다고 주장하고 있다.

보기

- ㄱ. A는 사용자 배상 책임을 묻기 위한 소송을 제기할 수 있다.
- ㄴ. B는 책임이 면제될 수도 있다.
- ㄷ. B가 1차적인 배상 책임을 지게 된다.
- ㄹ. B의 책임이 면제되는 경우 C는 무과실 책임을 진다.

- ① ㄱ, ㄷ                      ② ㄱ, ㄹ                      ③ ㄴ, ㄷ
- ④ ㄱ, ㄴ, ㄹ                ⑤ ㄴ, ㄷ, ㄹ

6058-0193

15 (가), (나)는 배상 책임과 관련된 것이다. 이에 대한 옳은 설명을 <보기>에서 고른 것은?

- (가) 제조물의 결함을 책임 요건으로 하며, 소비자는 제조물의 결함이 존재하고 제조물로 인해 손해가 발생하였다는 사실만 입증하면 됨
- (나) 제조업자의 고의 또는 과실을 책임 요건으로 하며, 소비자는 손해 발생과의 인과 관계와 함께 제조업자의 고의 또는 과실을 입증하여야 함

보기

- ㄱ. (가)는 제조물 책임법에 해당하는 내용이다.
- ㄴ. (가)는 피해자의 입증 책임 완화를 내용으로 한다.
- ㄷ. (나)는 근대 민법의 기본 원칙에 대한 수정이 적용된 것이다.
- ㄹ. (나)는 (가)보다 소비자 권리 보호에 더 유리하다.

- ① ㄱ, ㄴ                      ② ㄱ, ㄷ                      ③ ㄴ, ㄷ                      ④ ㄴ, ㄹ                      ⑤ ㄷ, ㄹ

6058-0194

16 다음 헌법 조항에 대한 설명으로 옳은 것은? [3점]

제23조 ① 모든 국민의 재산권은 보장된다. 그 내용과 한계는 법률로 정한다.  
 ② 재산권의 행사는 공공복리에 적합하도록 하여야 한다.  
 ③ 공공 필요에 의한 재산권의 수용·사용 또는 제한 및 그에 대한 보상은 법률로써 하되, 정당한 보상을 지급하여야 한다.

- ① 사익보다 공익이 우선함을 천명하고 있다.
- ② 사회적 소외 계층의 지위 향상을 목적으로 한다.
- ③ 소유권 절대 원칙에 대한 수정 내용을 담고 있다.
- ④ 근대 민법의 기본 원칙을 부정하고 있다.
- ⑤ 계약 자유의 원칙을 중시한 것이다.

6058-0195

**17** 다음은 판결문의 일부이다. 피고인의 행동에 대한 판사의 판단 근거로 옳은 것은? [3점]

피고인은 피해자를 업무상 과실 치사 등의 혐의로 고소하여 형사상 처벌을 요구하거나 민사상 손해 배상 청구의 소를 제기하는 등의 적법한 구제 절차가 있음에도 불구하고 이러한 절차를 밟지 않은 채 피해자가 운영하는 병원 곳곳을 돌아다니며 소리 치고 피 묻은 상복을 입고 1인 시위를 벌였다. 이는 집회 시위의 자유 및 표현의 자유의 한계를 넘어선 것으로, 피고인의 주장과 달리 사회 상규에 위배되지 않는 행위라고 볼 수 없으므로 유죄이다.

- ① 정당 방위에 해당하지 않는다.
- ② 정당 행위에 해당하지 않는다.
- ③ 긴급 피난에 해당하지 않는다.
- ④ 책임 조각 사유에 해당하지 않는다.
- ⑤ 범죄 구성 요건에 해당하지 않는다.

6058-0196

**18** 표의 A~C법에 대한 설명으로 옳지 않은 것은?

A법 1조	이 법은 사회 보장에 관한 국민의 권리와 국가 및 지방 자치 단체의 책임을 정하고 사회 보장 정책의 수립·추진과 관련 제도에 관한 기본적인 사항을 규정함으로써 국민의 복지 증진에 이바지하는 것을 목적으로 한다.
B법 1조	이 법은 헌법에 따라 근로 조건의 기준을 정함으로써 근로자의 기본적 생활을 보장, 향상시키며 균형 있는 국민 경제의 발전을 꾀하는 것을 목적으로 한다.
C법 1조	이 법은 사업자의 시장 지배적 지위의 남용과 과도한 경제력의 집중을 방지하고, 부당한 공동 행위 및 불공정 거래 행위를 규제하여 공정하고 자유로운 경쟁을 촉진함으로써 창의적인 기업 활동을 조장하고 소비자를 보호함과 아울러 국민경제의 균형 있는 발전을 도모함을 목적으로 한다.

- ① A법은 모든 국민의 삶의 질 향상을 위한 내용을 담고 있다.
- ② B법은 근로 3권을 보호하기 위한 내용을 담고 있다.
- ③ C법에 의해 기업 간 담합 행위는 규제된다.
- ④ A~C법 모두 공법과 사법의 중간 영역에 해당한다.
- ⑤ A~C법 모두 자유방임 경제의 폐단이 등장 배경이다.

6058-0197

**19** 다음 사례에 대한 분석으로 옳지 않은 것은? [3점]

A는 뺑소니 혐의로 ㉠ 구속 영장 발부 후 ㉡ 기소되었다. 구속 상태에서 재판을 받은 A는 1심 및 2심에서 모두 ㉢ 징역 1년에 집행 유예 2년 및 ㉣ 벌금 500만 원을 선고받았지만 ㉤ 상고하여 무죄를 선고받았다.

- ① A는 형사 보상 청구를 할 수 있다.
- ② 1심 이후 A는 신체의 자유가 보장된 상태에서 재판을 받았다.
- ③ ㉠, ㉡ 모두 검사의 결정에 의해 이루어진다.
- ④ ㉢은 자유형, ㉣은 재산형에 해당한다.
- ⑤ 원칙적으로 ㉤ 이후 A는 동일 내용으로 인해 다시 재판을 받지 않는다.

6058-0198

**20** 밑줄 친 ㉠~㉣에 대한 설명으로 옳지 않은 것은? [3점]

○○신문      2016년 △△월 △△일

법무부는 5일 미국 뉴욕의 유엔 본부를 방문한 법무부 장관이 ㉠ 국제 연합(UN) 사무차장에게 ㉡ '유엔 초국가적 조직범죄 방지 협약(UNTOC)'에 대한 우리 정부의 비준서를 기탁했다고 6일 밝혔다. 앞서 법무부와 외교부는 2013년 4월 범죄 단체 조직죄를 UNTOC 기준에 맞게 수정하고 인신 매매죄를 신설하는 등 ㉢ 형법을 개정했다. 이어 5월 29일 국회의 ㉣ 비준 동의를 거쳐 UNTOC 가입을 이뤄 냈다.

- ① ㉠은 집단 안보 체제를 통한 국제 평화를 추구한다.
- ② ㉡은 다자간 조약에 해당한다.
- ③ ㉢은 체결 당사국만 구속하는 국제법이다.
- ④ ㉣은 국내법과 국제법의 충돌을 막기 위해서이다.
- ⑤ 우리나라가 체결한 모든 조약은 ㉣의 과정을 거쳐야 효력이 발생한다.

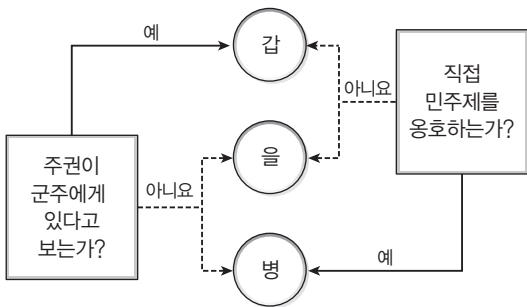
정답과 해설 38쪽

▷ 6058-0201

문항에 따라 배점이 다르니, 각 물음의 끝에 표시된 배점을 참고 하시오. 3점 문항에만 점수가 표시되어 있습니다. 점수 표시가 없는 문항은 모두 2점입니다.

▷ 6058-0199

**1** 갑~병은 근대 사회의 대표적인 사회 계약론자이다. 이들에 대한 설명으로 옳은 것은? (단, 갑~병은 각각 홉스, 로크, 루소 중 하나이다.)



- ① 갑은 국가의 목적이 개인의 재산권 보호라고 보았다.
- ② 을은 일반 의지에 따른 정치 공동체의 운영을 강조하였다.
- ③ 병은 자연 상태를 '만인의 만인에 대한 투쟁 상태'로 보았다.
- ④ 을은 갑, 병과 달리 권력을 분할할 수 없다고 보았다.
- ⑤ 갑, 을, 병 모두 국가는 목적이 아닌 수단이라는 입장을 취하였다.

▷ 6058-0200

**2** 갑국과 을국의 정부 형태에 대한 설명으로 옳은 것은? [3점]

갑국과 을국은 전형적인 정부 형태를 채택하고 있다. 갑국 국민들은 작년에 실시된 행정부 수반을 선출하는 선거에서 A당 후보를 선출했다. 그러나 갑국 국민들은 같은 해 실시된 의회 의원 선거에서는 B당에게 더 많은 표를 주어 B당을 의회 다수당으로 만들어 주었다. 을국은 최근 실시된 의회 의원 선거에서 C당이 과반수 의석을 차지하여 단독으로 정권을 획득했고, 행정부 수반은 C당 의원 중에서 배출됐다.

- ① 갑국과 을국의 행정부 수반은 모두 임기가 보장된다.
- ② 갑국은 을국과 달리 행정부 수반의 법률안 거부권이 인정된다.
- ③ 갑국은 을국과 달리 행정부가 의회에 법률안을 제출할 수 있다.
- ④ 을국은 갑국과 달리 의회 의원이 내각 각료를 겸직할 수 없다.
- ⑤ 을국은 갑국과 달리 의회가 주요 공직자에 대해 탄핵 소추할 수 있다.

**3** 표는 법치주의의 유형을 구분한 것이다. 이에 대한 옳은 설명을 <보기>에서 고른 것은?

구분	A	B
(가)	아니요	예
국민의 권리 보장을 목적으로 하는 법률에 의해 통치하는가?	예	아니요

보기

- ㄱ. A를 실현하는 제도로 위헌 법률 심판 제도가 있다.
- ㄴ. B는 법치의 내용만 고려할 뿐 법치의 형식은 고려하지 않는다.
- ㄷ. B는 A와 달리 독재를 정당화하는 수단이 되기도 한다.
- ㄹ. (가)에는 '통치의 합법성을 필수 요소로 하는가?'가 들어갈 수 있다.

- ① ㄱ, ㄴ    ② ㄱ, ㄷ    ③ ㄴ, ㄷ    ④ ㄴ, ㄹ    ⑤ ㄷ, ㄹ

▷ 6058-0202

**4** 다음 사례를 통해 도출할 수 있는 정당의 기능으로 가장 적절한 것은?

당정 협의회를 통해 A당 대표와 정부 대표는 관세법 개정을 논의하였다. 개정안은 현재 5년까지 유지할 수 있는 면세점 특허 기간을 10년까지 유지할 수 있도록 늘리고, 결격 사유가 없는 한 특허 자동 갱신을 허용하는 내용을 담고 있다.

- ① 정부와 의회를 연결하여 국민의 요구를 정책으로 실현한다.
- ② 정치 과정에서 정책을 결정하고 집행하는 기능을 담당한다.
- ③ 각종 선거에 후보자를 추천하여 국민의 대표자를 배출한다.
- ④ 다양한 국민의 요구를 조직하여 수렴하고 정부를 구성한다.
- ⑤ 정치적 문제에 대한 해설과 설명을 통해 정치적 사회화 역할을 한다.

6058-0203

5 다음 사례를 통해 추론할 수 있는 국제 사회의 변화로 옳은 것을 <보기>에서 고른 것은?

한국은 2013년 1월 현재 태국, 독일, 브라질 등 98개국과 비자 면제 협정을 체결하여 협정 당사국의 국민이라면 사전에 입국 허가(비자)없이도 여권만 확인하면 상대국에 입국할 수 있게 되었다. 이러한 협정은 상대국에 대한 신뢰를 제도화하여 그 국민의 입국과 체류를 허용하는 것이다.

- 보기
ㄱ. 국제법과 힘의 논리가 공존한다.
ㄴ. 모든 국가를 구속하는 국제 규범이 존재한다.
ㄷ. 공통 이익을 기반으로 하는 국제 협력이 늘어난다.
ㄹ. 국가 간 상호 교류가 활발해지고 의존도가 높아진다.

- 1 ㄱ, ㄴ 2 ㄱ, ㄷ 3 ㄴ, ㄷ 4 ㄴ, ㄹ 5 ㄷ, ㄹ

6058-0204

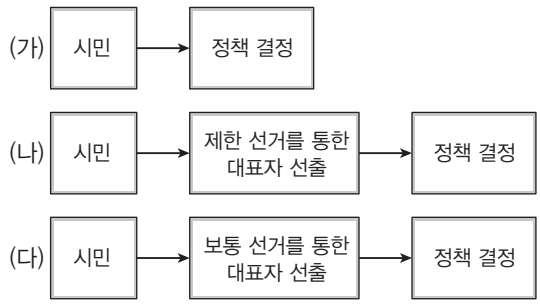
6 다음 사례를 통해 추론할 수 있는 내용으로 가장 적절한 것은? [3점]

어린이집을 운영하는 갑은 피해 아동에게 정서적 학대 행위를 한 혐의로 검찰에 의해 기소되어 1심에서 벌금 1천만 원을 선고 받았다. 이에 갑은 항소하였고 아동복지법 제17조 제5호의 위헌 여부를 항소심 법원에 제청 신청하였으나 법원은 이를 기각 하였다. 결국 갑은 헌법 소원을 제기하였고, 헌법재판소는 재판관 전원 일치 의견으로 ㉠ 아동복지법 제17조 제5호에 대해 ㉡ 합헌 결정을 내렸다. 헌법재판소는 해당 조항은 징역형을 규정하면서 벌금형도 선택 형으로 규정하고 있고, 법정형의 하한에 제한을 두지 않아 학대의 경위나 피해 정도 등을 고려하여 재량으로 집행 유예를 선고 하거나 선고 유예를 할 수 있으므로, 지나치게 과중한 형벌을 규정하고 있다고 볼 수 없다고 판단하였다.

- 1 갑이 제기한 헌법 소원은 권리 구제형 헌법 소원일 것이다.
2 갑의 위헌 법률 심판 제청 신청은 1심 법원에서 기각되었을 것이다.
3 ㉠의 위헌 여부에 대해 담당 법원과 헌법재판소의 의견이 서로 달랐을 것이다.
4 헌법재판소는 ㉠이 과잉 금지의 원칙에 부합한다고 보았을 것이다.
5 ㉡으로 인해 갑은 상고를 하지 않을 것이다.

6058-0205

7 그림의 (가)~(다)는 고대 아테네, 근대 서구, 현대 민주 국가의 정치 형태 중 하나이다. 이에 대한 설명으로 옳은 것은?



- 1 (가)에서 입헌주의와 직접 민주주의가 시행되었다.
2 (나)에서 모든 사람에게 공직 진출의 기회가 보장되었다.
3 (다)에서 자치의 원리가 가장 충실하게 구현되었다.
4 (나)와 달리 (다)에서 성인 여성의 정치 참여가 가능하게 되었다.
5 (다)와 달리 (가)는 정치 공동체의 규모가 클수록 실현이 용이하다.

6058-0206

8 다음 자료에 대한 설명으로 옳지 않은 것은? [3점]

국세기본법 일부 개정 법률안
의안번호 11802 제출연월일 : 2014년 9월 22일
제 출 자 : 정부
제안 이유
영세한 납세자가 과세처분 등에 대하여 이의 신청이나 심사 청구를 하는 경우 비용 부담 없이 세무 대리인을 활용할 수 있도록 하는 국선 대리인 제도를 도입하고 ... (후략)...

- 1 의원 내각제적 요소가 반영되었음을 알 수 있다.
2 국무 회의의 심의를 거쳐 국회에 제출되었을 것이다.
3 본회의에서 의결되면 일반적으로 대통령이 공포한다.
4 본회의에 제출된 후 해당 상임 위원회에서 심의하여 의결한다.
5 본회의 의결을 위해서는 국회 재적 의원 과반수 출석과 출석 의원 과반수의 찬성을 얻어야 한다.

6058-0207

9 다음 사례에 대한 법적 분석으로 옳은 것은?

갑(9세), 을(10세)은 과학책에서 보았던 자유 낙하 실험을 하고 싶다는 생각에 8층 아파트 옥상에 있던 벽돌을 각각 아래로 떨어뜨렸다. 공교롭게 아파트 현관 입구에서 나오던 병(45세)이 머리와 어깨에 벽돌을 맞아 큰 부상을 입었고 병원으로 이송됐으나, 3일 후 사망하고 말았다.

- ① 갑은 민·형사상의 책임을 모두 지지 않는다.
- ② 을은 범죄 소년에 해당되어 법원에서 형벌을 받을 수 있다.
- ③ 을의 부모는 불법 행위로 인한 손해 배상 책임을 지지 않는다.
- ④ 갑, 을의 부모는 민·형사상의 책임을 모두 지게 된다.
- ⑤ 병의 가족은 갑, 을의 부모에게 위자료를 청구할 수 없다.

6058-0208

10 표의 (가)~(라)에 들어갈 옳은 내용을 <보기>에서 고른 것은? [3점]

구분	요건	효과
대항력	입주 + 전입 신고	(가)
우선 변제권	(나)	(다)
최우선 변제권	대항력 요건 + 소액 보증금	(라)

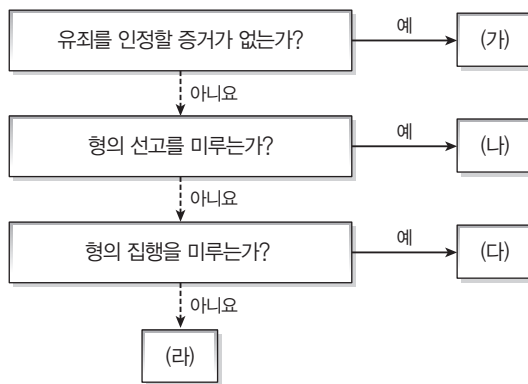
보기

- ㄱ. (가) - 집주인이 바뀌어도 임대차 기간 동안 계속 거주할 수 있는 효력
- ㄴ. (나) - 입주 + 전입 신고
- ㄷ. (다) - 경매에서 후순위 권리자에 우선하여 보증금을 변제받을 수 있는 효력
- ㄹ. (라) - 모든 보증금에 한하여 경매에서 전액 변제를 받을 수 있는 효력

- ① ㄱ, ㄴ    ② ㄱ, ㄷ    ③ ㄴ, ㄷ    ④ ㄴ, ㄹ    ⑤ ㄷ, ㄹ

6058-0209

11 그림의 (가)~(라)는 법원의 선고를 분류한 것이다. 이에 대한 설명으로 옳은 것은? [3점]



- ① 가석방 제도는 (가)에 해당한다.
- ② (나)에 대해서 상소 제도를 활용할 수 없다.
- ③ (다)는 범죄자의 사회 복귀를 위한 대안적 제재 수단이다.
- ④ (라)의 집행은 법관의 주도하에 이루어진다.
- ⑤ 형법을 위반했다는 법원의 판단은 (나), (다), (라)에 한정된다.

6058-0210

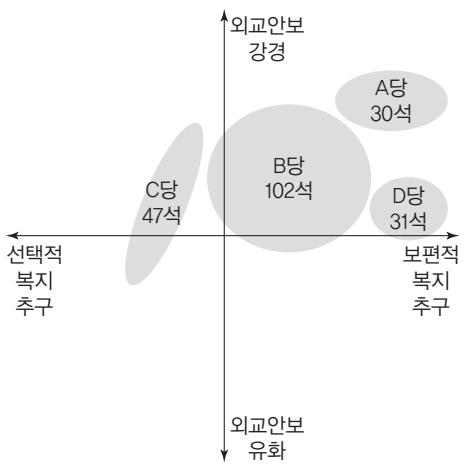
12 다음 사례에 대한 설명으로 옳은 것은?

A국은 오는 24일 공식 발효되는 ㉠ 유엔 무기거래조약(ATT)에 서명했다. 이 조약은 재래식 무기의 불법 수출을 금지하고, 특히 분쟁 지역으로 무기가 유입되는 것을 막기 위한 것이다. 수출 규제 대상은 무장 반군 단체, ㉡ 조직 범죄 단체 등이고, 민간인이나 학교, 병원 등의 공격에 사용될 수 있는 무기의 수출도 이 조약은 금지하고 있다. 그러나 세계 무기 수출 1, 2위인 B국과 C국을 비롯해 ㉢ D국, E국 등 주요 수출국들이 이 조약에 참여하지 않고 있다. B국은 이 조약에 서명했으나 강력한 로비 단체인 ㉣ B국 총기협회가 상원의 비준 동의를 막고 있으며 C국, D국, E국 등 주요 무기 수출국은 지난해 조약 체결에 참여하지 않았다.

- ① ㉠은 국가 간 묵시적 합의에 의해 형성된다.
- ② ㉡은 포괄적 기능을 수행하는 초국가적 행위체이다.
- ③ ㉢과 같은 국제 사회의 행위 주체는 현실적으로 대외적 주권 행사 능력에 차이가 난다.
- ④ ㉣은 시민의 이익을 대변하며 정치적 책임을 지기도 한다.
- ⑤ A국의 조약 체결은 국제 사회를 바라보는 현실주의 관점에 부합하는 사례이다.

6058-0211

**13** 그림은 전형적인 의원 내각제를 채택한 ○○국의 총선 후 결과를 각 정당의 의석수와 해당 정당 소속 의원들의 정치 성향 분포를 반영해 나타낸 것이다. 이에 대한 분석 및 추론으로 옳지 않은 것은? [3점]



\* ○○국의 총의석수는 210석이다.  
 \*\* 각 정당의 소속 의원 정치 성향은 해당 정당 안에 고르게 분포되어 있다.

- ① 정치적 책임 소재가 불분명한 정당제 유형이 형성되었다.
- ② 행정부 구성상 일반적으로 정책을 계속 추구하기 어려울 것이다.
- ③ 타국과 외교적 갈등이 발생할 가능성이 높은 정책이 추진될 수 있다.
- ④ A당, C당, D당이 연합을 해도 연립 내각을 수립할 수 없다.
- ⑤ A당, D당은 C당에 비해 모든 국민에게 복지를 제공하는 정책의 추진에 동의할 것이다.

6058-0212

**14** 다음 자료에 대한 법적 판단으로 옳은 것은? [3점]

**내용 증명서**

수신자 : 갑  
 발신자 : 을

1. 본인은 귀하의 아들(18세)의 자전거에 치어 입원 치료 중이며 현재 200만 원의 치료비가 들었습니다.
2. 이에 본인은 치료비와 위자료를 합쳐 500만 원을 손해 배상액으로 청구합니다.

- ① 법원에서 공적으로 증명해 주는 문서이다.
- ② 이 문서에 의해 갑은 을에게 500만 원을 배상할 책임을 진다.
- ③ 갑과 을의 분쟁 내용에 대한 사실 관계를 확정하는 증거이다.
- ④ 갑이 배상을 거부할 경우, 을은 이 문서에 의해 강제 집행할 수 있다.
- ⑤ 재판에서 을이 손해 배상을 주장했다는 사실을 증명하는 증거로 활용될 수 있다.

6058-0213

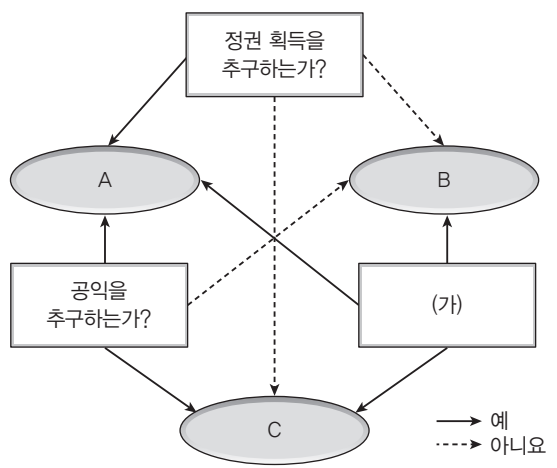
**15** (가), (나)의 권한에 대한 설명으로 옳지 않은 것은?

- (가) 국가의 재원이 적정하게 집행되었는지 검사·감독하고, 행정 기관의 사무와 공무원의 직무를 감찰한다.
- (나) 정기회 회기 법정 기간 동안 국정 전반에 관해 위원회별로 정해진 기관에 대해 감사를 실시한다.

- ① (가)는 행정부의 내부적 통제 수단이다.
- ② (가)에는 국가의 세입·세출의 결산 검사가 포함된다.
- ③ (나)는 국정 대부분의 분야를 대상으로 한다.
- ④ (나)는 국회가 행정부를 감시하는 수단이다.
- ⑤ (가)는 (나)와 달리 권력 분립에 의한 견제와 균형의 원리에 충실하다.

6058-0214

**16** 그림은 정치 참여 집단을 구분한 것이다. 이에 대한 옳은 설명을 <보기>에서 고른 것은? (단, A~C는 각각 정당, 이익 집단, 시민 단체 중 하나이다.)



- 보기**
- ㄱ. A는 정부와 의회를 매개하는 기능을 수행한다.
  - ㄴ. B는 비영리성, 비정부성을 특징으로 한다.
  - ㄷ. C는 자신들의 행위에 정치적 책임을 지지 않는다.
  - ㄹ. (가)에는 '정치적 충원 기능을 수행하는가?'가 들어갈 수 있다.

- ① ㄱ, ㄴ    ② ㄱ, ㄷ    ③ ㄴ, ㄷ    ④ ㄴ, ㄹ    ⑤ ㄷ, ㄹ

6058-0215

17 다음 사례에 대한 법적 판단으로 옳은 것은? [3점]

- 2014. 5. 1. : A가 본인 소유 토지를 1,000만 원에 판매한다는 광고를 냄
- 2014. 5. 3. : B가 매매 가격을 800만 원으로 낮추어 거래하자고 요청함
- 2014. 5. 5. : A와 B가 900만 원에 거래하기로 합의함
- 2014. 5. 6. : A와 B가 토지 매매 계약서를 작성하고 계약금으로 100만 원을 주고받음
- 2014. 5. 10. : A가 잔금 800만 원을 받고 소유권 이전 등기를 해 줌

- ① 계약이 성립된 시기는 2014년 5월 6일이다.
- ② A는 2014년 5월 10일 이후에도 자유롭게 계약을 해제할 수 있다.
- ③ B는 2014년 5월 6일 이후부터 토지에 대한 소유권을 행사할 수 있다.
- ④ A가 2014년 5월 9일에 계약을 해제하려면 일반적으로 B에게 200만 원을 주어야 한다.
- ⑤ A가 B에게 소유권 이전 등기를 해 주면 해당 부동산의 등기 부 등구의 내용이 변경된다.

6058-0216

18 다음 사례에 대한 옳은 법적 판단만을 <보기>에서 있는 대로 고른 것은? [3점]

갑은 대학을 졸업한 후 일자리를 구하던 중 ○○사에서 면접을 보게 되었다. 갑은 채용되는 계약 조건으로 몇 가지를 제안 받았다. 아침 8시에 출근해서 밤 11시에 퇴근하고, 출근 시간에 지각할 때마다 월급에서 일정한 금액을 감한다는 것이다. 갑은 당장 취업이 급한 상황이라 ○○사의 조건을 수락하고 출근하기로 하였으나 이 얘기를 들은 아버지는 A법 위반이라며 ○○사에 이의를 제기했다.

보기

- ㄱ. A법은 근로 계약의 자유를 일정 부분 제한하는 것이다.
- ㄴ. ○○사는 헌법에서 보장하는 갑의 노동 3권을 침해하였다.
- ㄷ. 갑은 ○○사와 현실적으로 대등한 지위에서 근로 계약을 맺었다.
- ㄹ. A법 기준에 미치지 못한 근로 조건이 있으므로 해당 부분의 계약 내용은 무효이다.

- ① ㄱ, ㄴ                      ② ㄱ, ㄹ                      ③ ㄴ, ㄷ
- ④ ㄱ, ㄷ, ㄹ                ⑤ ㄴ, ㄷ, ㄹ

6058-0217

19 (가), (나)를 통해 각각 실현하고자 하는 헌법의 기본 원리에 대한 진술로 옳은 것은?

- (가) 재난을 당한 다른 나라에 대해 구호 활동을 적극적으로 지원한다.
- (나) 복수 정당제를 기반으로 하는 정당 설립의 자유가 보장되어야 한다.

- ① (가) - 모든 국민은 인간다운 생활을 할 권리가 있다.
- ② (가) - 국가 의사를 결정할 수 있는 주권이 국민에게 있다.
- ③ (나) - 국가는 평생 교육을 진흥하여야 한다.
- ④ (나) - 국제 질서를 존중하고 세계 평화와 인류 번영을 위해 노력해야 한다.
- ⑤ (나) - 개인의 자유가 존중되며 국가 권력이 국민의 동의와 지지를 바탕으로 행사되어야 한다.

6058-0218

20 다음 사례에 대한 법적 분석으로 옳지 않은 것은? [3점]

갑은 컵라면을 사서 먹다가 용기 안에서 곤충을 발견했다. 이때 받은 스트레스로 우울증까지 생기자 제조업체를 상대로 손해 배상 청구 소송을 제기했다. 재판부는 제조업체가 갑에게 치료비와 위자료를 지급하라고 판결했다. 재판부는 “하청업체로부터 납품받은 재료에서 곤충이 나왔다 해도, 이는 컵라면 제조업체의 책임에 해당한다.”고 판결 이유를 밝혔다.

- ① 법원은 재판을 통해 원고 승소 판결을 내렸다.
- ② 갑은 컵라면 하청업체의 과실을 증명했을 것이다.
- ③ 제조업자는 무과실 책임의 손해 배상 의무를 질 수 있다.
- ④ 컵라면의 결함과 갑의 피해 사이에 인과 관계는 추정된다.
- ⑤ 컵라면에 결함이 존재했다는 사실을 갑이 증명했을 것이다.

문항에 따라 배점이 다르니, 각 물음의 끝에 표시된 배점을 참고 하시오. 3점 문항에만 점수가 표시되어 있습니다. 점수 표시가 없 는 문항은 모두 2점입니다.

6058-0219

1 근대 정치 사상가들에 대한 옳은 설명만을 <보기>에서 있는 대 로 고른 것은? (단, 갑~병은 각각 흠스, 로크, 루소 중 하나이다.)

구분	갑	을	병
근주 주권을 옹호하고 있는가?	아니요	예	아니요
대의 민주제를 강조하는가?	예	아니요	아니요
(가)	아니요	아니요	예

보기

- ㄱ. (가)에는 “일반 의지에 따른 국가 운영을 주장하는가?”가 들 어갈 수 있다.
- ㄴ. 갑, 을과 달리 병은 국가를 수단이 아닌 목적으로 파악했다.
- ㄷ. 을과 병은 직접 민주제를 강조하였다.
- ㄹ. 갑, 을, 병은 모두 국가가 개인들의 자발적 계약을 통해 이 루어졌다고 본다.

- ① ㄱ, ㄴ                      ② ㄱ, ㄹ                      ③ ㄴ, ㄷ
- ④ ㄱ, ㄷ, ㄹ                ⑤ ㄴ, ㄷ, ㄹ

6058-0220

2 (가), (나)에 대한 옳은 설명만을 <보기>에서 있는 대로 고른 것은?

근대적 의미의 법치주의는 국가가 시민의 기본권을 제한하거나 시민에게 의무를 부과할 때에는 대표에 의해 제정된 법에 근거 해야 한다는 것을 의미한다. 이러한 법치주의는 (가)를 거쳐 (나)로 변해오고 있는데, (가)는 시민 대표 기관인 의회나 시민 스스로가 합법적인 절차를 거쳐 법을 제정하고 그 법에 따라 국 가 권력이 행사되어야 한다는 것을 주된 요소로 하며, (나)는 시 민의 자유와 권리를 보장하기 위해 절차적 합법성뿐만 아니라 그 목적과 내용도 정당해야 한다고 본다.

보기

- ㄱ. (가)는 합법적인 독재 정치로 악용될 수 있다.
- ㄴ. (나)는 위헌 법률 심판 제도의 필요성을 강조한다.
- ㄷ. (가)는 (나)와 달리 ‘악법도 법이다.’라고 볼 가능성이 높다.
- ㄹ. (나)는 (가)와 달리 통치자의 자의적인 통치 행위를 금지 한다.

- ① ㄱ, ㄷ                      ② ㄱ, ㄹ                      ③ ㄴ, ㄹ
- ④ ㄱ, ㄴ, ㄷ                ⑤ ㄴ, ㄷ, ㄹ

[3~4] 다음 자료를 보고 물음에 답하시오.

갑국 : 의회 의원 선거에서 국민들은 2표씩을 행사한다. 1표는 100개의 지역구에서 100명의 의원을 선출하기 위해 행사 하며, 다른 1표는 정당에 투표하여 그 득표율로 비례 대 표 의원 50명을 선출한다. 올해 갑국의 의회 의원 선거 결과 여소야대 정국이 나타났다.

을국 : 의회 의원 선거에서 국민들은 1표를 행사한다. 의회 의원 은 지역구 의원과 비례 대표 의원으로 나뉘며, 지역구 의 원은 200명이며 100개의 지역구에서 동일한 수의 의원 을 선출한다. 비례 대표 의원은 지역구 의원 선거에서 얻 은 정당 의석수에 비례하여 100석을 배분한다. 올해 을 국의 의회 의원 선거에서는 60%의 의석 점유율을 차지한 정당이 나왔으며, 이 정당 소속의 총리가 의회에서 선출 되었다.

6058-0221

3 갑국과 을국의 정부 형태에 대한 설명으로 옳은 것은? (단, 갑국과 을국은 각각 서로 다른 전형적인 정부 형태를 가지고 있다.)

- ① 갑국은 을국과 달리 권력 융합적인 정부 형태를 가지고 있다.
- ② 갑국은 을국과 달리 행정부 수반이 의회에 대해 책임을 진다.
- ③ 을국은 갑국과 달리 행정부 수반과 국가 원수가 동일 인물이다.
- ④ 갑국과 을국은 모두 행정부 수반의 임기가 보장되어 정국 안 정이 이루어진다.
- ⑤ 갑국에서는 법률안 거부권, 을국에서는 의회 해산권이라는 행정부의 입법부 견제 수단이 존재한다.

6058-0222

4 갑국과 을국의 선거 제도의 일반적 특징에 대한 설명으로 옳 지 않은 것은? [3점]

- ① 갑국의 지역 선거구제는 을국에 비해 유권자의 후보자 파악 이 용이하다.
- ② 갑국의 비례 대표 의원 배분 방식은 을국에 비해 직접 선거의 원칙에 충실하다.
- ③ 을국의 지역 선거구제는 갑국에 비해 사표가 적게 발생한다.
- ④ 을국의 지역 선거구제는 한 선거구 내에서 투표 가치의 차등 문제가 발생할 수 있다.
- ⑤ 갑국과 을국은 모두 지역구 선거에서 소수 대표제의 대표 결 정 방식을 채택하고 있다.



6058-0223

**5** 갑국과 을국의 정치 상황에 대한 옳은 설명을 (보기)에서 고른 것은?

갑국		을국	
의회 시기	집권당	의회 시기	집권당
T대	A당	T대	b당
T+1대	A당	T+1대	c당
T+2대	B당	T+2대	a당+c당
T+3대	B당	T+3대	d당
T+4대	A당	T+4대	a당+b당+c당

\* 갑국과 을국은 전형적인 정부 형태를 가지고 있으며, 정부 형태의 변화는 없었음  
 \*\* 갑국과 을국은 각각 양당제, 다당제 중 하나의 정당 제도가 형성되어 있음

**보기**

- ㄱ. 을국은 대통령제 정부 형태를 가지고 있다.
- ㄴ. 갑국의 정당 제도는 을국에 비해 정치적 책임 소재가 명확하지 않다.
- ㄷ. 갑국의 정당 제도는 을국에 비해 군소 정당의 난립으로 인한 정국 불안이 나타날 가능성이 낮다.
- ㄹ. 을국의 정당 제도는 갑국에 비해 국민의 다양한 의견이 반영될 가능성이 높다.

- ① ㄱ, ㄴ    ② ㄱ, ㄷ    ③ ㄴ, ㄷ    ④ ㄴ, ㄹ    ⑤ ㄷ, ㄹ

6058-0224

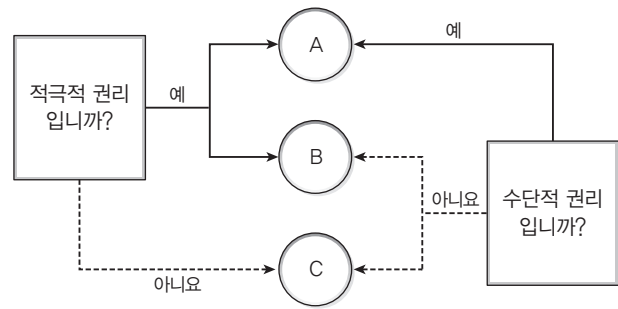
**6** 우리나라 헌법의 기본 원리 (가), (나)에 대한 설명으로 옳지 않은 것은?

기본 원리	실현 방안
(가)	65세 이상의 노인에게 안정적인 소득 기반을 제공하여 생활 안정을 돕기 위해 소득 인정액이 기준 금액 이하인 사람에게 연금 급여를 제공한다.
(나)	헌법 개정을 위해서는 국회를 통과한 헌법 개정안에 대해 국민 투표를 실시하여 국민의 의사를 물어 본다.

- ① (가)는 실질적 평등을 보장하기 위한 국가의 역할을 강조한다.
- ② 국민의 인간다운 생활을 국가에 요구할 수 있는 사회권 보장은 (가)와 관련된다.
- ③ “대한민국은 민주 공화국이다.”라는 헌법 조항은 (나)와 관련된다.
- ④ 언론·출판·집회·결사의 자유를 보장하는 것은 (나)를 실현하기 위한 방안이다.
- ⑤ (가), (나) 모두 근대 민주 정치에서부터 강조된 원리이다.

6058-0225

**7** 기본권 A~C에 대한 설명으로 옳은 것은? (단, A~C는 각각 자유권, 참정권, 청구권 중 하나이다.) [3점]



- ① 영장 제도, 변호인의 조력을 받을 권리는 A를 보장하기 위한 것이다.
- ② B는 기본권 보장을 위한 기본권이다.
- ③ A와 B는 국가에 대해 일정한 급부를 요구할 수 있는 권리이다.
- ④ B는 C보다 역사적으로 오래된 권리이다.
- ⑤ C는 B와 달리 헌법에 열거되어 있지 않아도 보장되는 권리이다.

6058-0226

**8** 다음 교사의 질문에 옳지 않은 답을 한 학생은? [3점]

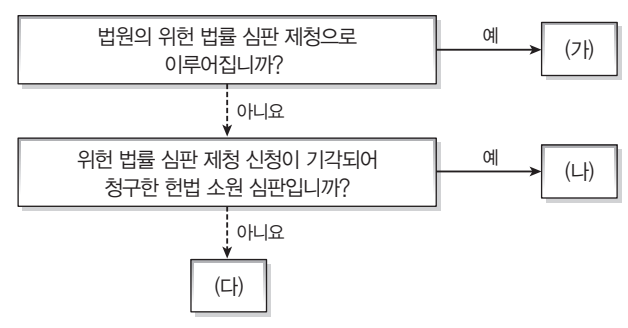
국가 기관	특징 및 권한
국회	(가)
(나)	정부의 주요 정책을 심의하는 행정부 최고의 심의 기관
(다)	국가의 세입·세출의 결산 검사 보고 및 공무원의 직무 감찰 기관
대법원	(라)
대통령	(마)

우리나라의 헌법상 국가 기관에 대해 발표해 보세요.

- ① 갑 : (가)에는 ‘헌법 개정안의 제출 및 의결권’이 들어갈 수 있어요.
- ② 을 : 대통령은 (나)의 결정 내용을 반드시 따를 필요는 없어요.
- ③ 병 : (라)에는 ‘상고심 및 대통령 선거 소송 관할권’이 들어갈 수 있어요.
- ④ 정 : (마)에는 ‘국민의 직접 선거로 선출되며 임기는 5년임’이 들어갈 수 있어요.
- ⑤ 무 : (나)와 (다)의 장(長)은 대통령이 국회의 동의를 얻어 임명해요.

6058-0227

9 다음 (가)~(다)는 위헌 법률 심판과 헌법 소원 심판을 구분한 것이다. 이에 대한 옳은 설명을 <보기>에서 고른 것은? [3점]



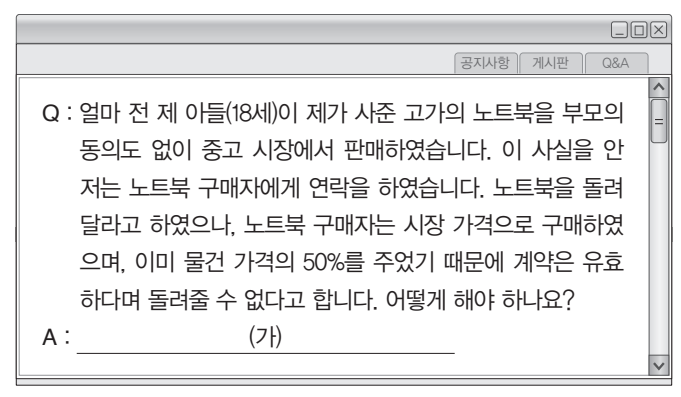
**보기**

ㄱ. (가)는 국민의 위헌 법률 심판 제청으로도 가능하다.  
 ㄴ. (다)는 법률에 정해진 기본권 구제 절차를 모두 거친 후에 청구가 가능하다.  
 ㄷ. (가)와 달리 (나)는 해당 법률의 위헌 여부가 재판의 전제가 된 경우에 청구할 수 있다.  
 ㄹ. (나)와 (다)는 국민이 직접 헌법재판소에 청구한 것이다.

- ① ㄱ, ㄴ    ② ㄱ, ㄷ    ③ ㄴ, ㄷ    ④ ㄴ, ㄹ    ⑤ ㄷ, ㄹ

6058-0228

10 밑줄 친 (가)에 들어갈 법적 조언으로 옳지 않은 것은?



- 부모님께서서는 노트북 판매 계약을 미성년자라는 이유로 취소할 수 있습니다.
- 노트북 판매 계약은 아드님께서도 미성년자라는 이유로 직접 취소할 수 있습니다.
- 노트북 판매 계약은 일단 유효합니다. 다만, 질문자께서 미성년자라는 이유로 취소하시면 소급하여 무효가 됩니다.
- 아드님이 혹시 법적으로 유효한 법률혼을 하였나요? 그렇다면 미성년자라는 이유로 노트북 판매 계약을 취소할 수 없습니다.
- 노트북 판매 계약은 당사자 간에 지나치게 불공정한 계약이므로 효력이 없습니다.

6058-0229

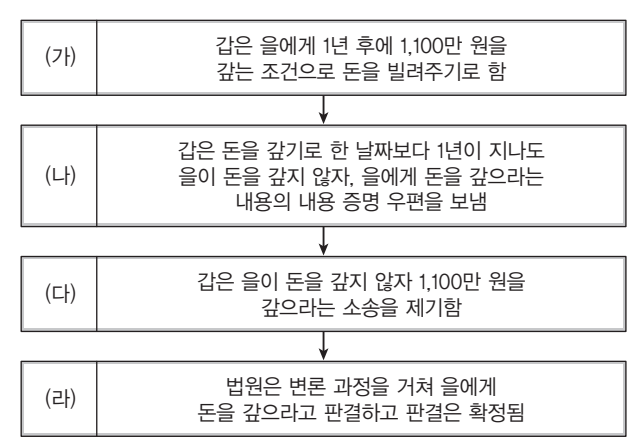
11 다음 사례에 대한 법적 분석으로 옳지 않은 것은? [3점]

• 미성년자 갑은 친구들과 함께 장난을 치다가 길가에 세워져 있던 고가의 승용차 유리창을 깨뜨리고 말았다. 이에 승용차 주인은 갑의 부모에게 손해 배상을 해달라고 요구하였다.  
 • 을은 병의 식당에서 종업원으로 일하고 있다. 평소처럼 손님에게 음식을 가져다 주던 중 뜨거운 국물이 담겨 있던 냄비를 손님에게 쏟아 화상을 입혔다. 이에 손님은 병에게 손해 배상을 해달라고 요구하였다.

- 갑에게 책임 능력이 없다면 갑의 부모는 특수 불법 행위 책임을 질 수 있다.
- 갑에게 책임 능력이 있다면 승용차 주인은 갑에게 손해 배상 책임을 물을 수 있다.
- 화상을 입은 손님은 을에게도 손해 배상 책임을 물을 수 있다.
- 을과 병은 모두, 특수 불법 행위 책임을 진다.
- 갑의 부모와 병은 손해에 대해 무과실 책임을 지는 것은 아니다.

6058-0230

12 다음 사례에 대한 설명으로 옳지 않은 것은?



- (가)에서 계약서를 작성하지 않아도 계약은 성립하였다.
- (나)의 내용 증명 우편은 (라)에서 우편에 쓰여진 내용 그대로의 사실 관계로 인정되는 것은 아니다.
- (다)의 소송 가액으로 보아 소액 사건 심판의 적용 대상이다.
- (다)의 소송을 제기하기 전에 갑은 민사 조정 제도를 거쳐야 한다.
- (라) 이후에도 을이 돈을 갚지 않으면, 갑은 강제 집행을 신청할 수 있다.

6058-0231

### 13 다음 사례에 대한 옳은 분석을 <보기>에서 고른 것은?

[3점]

- 갑과 을은 혼인 신고를 하지 않은 채 살고 있다가 아들 병을 낳았다. 이후 갑은 전 재산 10억 원을 남긴 채 교통사고로 사망하였다.
- A와 B는 혼인 신고를 하고 살다가 아들 C를 낳았다. 이후 A는 질병으로 사망하였으며, 전 재산 10억 원을 아들 C에게 물려 준다는 내용의 유언을 남겼다.
- 주어진 조건 외에는 고려하지 않음

**보기**

- ㄱ. 갑의 재산에 대해 을은 법정 상속을 받지 못한다.
- ㄴ. 갑이 병을 인지하였다면 병은 10억 원을 상속받는다.
- ㄷ. A의 유언이 유효하지 않을 경우 C는 6억 원을 상속받는다.
- ㄹ. A의 유언이 유효할 경우 B가 C보다 더 많은 재산을 받는다.

- ① ㄱ, ㄴ    ② ㄱ, ㄷ    ③ ㄴ, ㄷ    ④ ㄴ, ㄹ    ⑤ ㄷ, ㄹ

6058-0232

### 14 밑줄 친 ㉠~㉣에 대한 설명으로 옳은 것은?

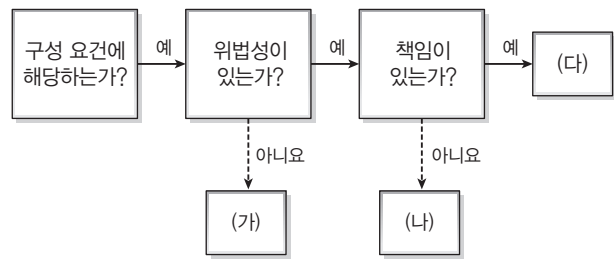
[3점]

- 2015년 1월 23일에 갑은 △△주택 소유권자인 ㉠ 을과 보증금 2억 원의 임대차 계약을 체결하였다.
- 2015년 2월 23일에 갑은 잔금을 지급하고 ㉡ 이사 후 전입 신고를 하였다.
- 2015년 5월 18일에 을은 ○○은행으로부터 돈을 빌리며 ㉢ 근저당권을 설정해 주었다.
- 2016년 2월 23일에 을은 ㉣ 병에게 △△주택을 매도하였다.

- ① ㉠으로 인해 △△주택 등기부 등구의 내용이 변경된다.
- ② 갑이 ㉡과 함께 확정 일자까지 받아야 우선 변제권을 갖게 된다.
- ③ ㉢으로 인해 ○○은행은 △△주택을 사용할 수 있다.
- ④ ㉣로 인해 갑은 병과 새로운 임대차 계약을 체결해야 계속 거주할 수 있다.
- ⑤ ㉢과 ㉣은 △△주택 등기부 등구의 내용을 변경시키는 사유이다.

6058-0233

### 15 다음 (가)~(다)는 범죄의 성립 조건과 관련하여 구분한 것이다. 이에 대한 옳은 설명만을 <보기>에서 있는 대로 고른 것은?



**보기**

- ㄱ. 공원에서 갑자기 아들을 물려고 하는 개를 발로 차서 다치게 한 행위는 (가)에 해당한다.
- ㄴ. 저항할 수 없는 폭력에 의해 강요된 절도 행위는 (나)에 해당한다.
- ㄷ. 심신 미약 상태에서 타인을 폭행한 행위는 (다)에 해당한다.
- ㄹ. (나)와 달리 (다)인 경우에만 소년법상 소년에게 보호 처분을 줄 수 있다.

- ① ㄱ, ㄷ    ② ㄱ, ㄹ    ③ ㄴ, ㄹ  
 ④ ㄱ, ㄴ, ㄷ    ⑤ ㄴ, ㄷ, ㄹ

6058-0234

### 16 다음은 형사 절차가 진행 중인 갑~정의 상황이다. 이에 대한 설명으로 옳은 것은?

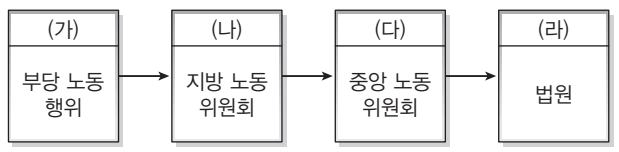
[3점]

- 갑 : 절도 혐의로 구속 수사를 받았지만 기소가 된 상태는 아니다.
- 을 : 폭행 혐의로 불구속 수사를 받은 후 불구속 상태에서 1심 재판을 받고 있다.
- 병 : 살인 혐의로 구속 수사를 받은 후 구속 상태에서 2심 재판을 받고 있다.
- 정 : 상해 혐의로 불구속 수사를 받은 후 구속 기소되어 재판을 받고 징역 1년, 집행 유예 2년이 확정되어 집행 유예 기간이다.

- ① 갑에 대해 검사가 무죄 취지의 불기소 처분을 내리면 갑은 형사 보상을 청구할 수 있다.
- ② 을에 대한 1심 재판에서 유죄가 선고될 경우에는 피고인 측만 항소를 할 수 있다.
- ③ 병에 대해 2심 재판에서 무죄가 선고되면 3심 재판과 상관없이 병은 형사 보상을 청구할 수 있다.
- ④ 정은 현재 구금되어 있다.
- ⑤ 을, 병은 갑과 달리 변호인의 조력을 받을 권리를 가지고 있다.

6058-0235

**17** 다음은 부당 노동 행위 구제 절차를 나타낸 것이다. (가)~(라)에 대한 옳은 설명만을 <보기>에서 있는 대로 고른 것은?



- 보기**
- ㄱ. 노동조합과의 단체 교섭을 정당한 이유 없이 거부하는 행위는 (가)에 해당한다.
  - ㄴ. 노동조합은 부당 노동 행위를 이유로 (나)에 구제 신청을 할 수 없다.
  - ㄷ. (다)에 재심 신청을 할 수 있는 당사자는 사용자도 될 수 있다.
  - ㄹ. 부당 해고에 대한 구제 절차도 (나)~(라) 순으로 진행될 수 있다.

- ① ㄱ, ㄴ                      ② ㄱ, ㄹ                      ③ ㄴ, ㄷ
- ④ ㄱ, ㄷ, ㄹ                ⑤ ㄴ, ㄷ, ㄹ

6058-0236

**18** 갑~병의 사례에 대한 법적 판단으로 옳지 않은 것은? [3점]

- 갑(8세)은 아파트 옥상에서 놀다가 지나가던 사람에게 돌을 던져 전치 3주의 상해를 입혔다.
- 을(12세)은 용돈이 떨어지자 편의점에 들어가서 물건을 훔쳤다.
- 병(17세)은 동네 공원에서 친구들과 놀다가 지나가던 중학생을 폭행하였다.

- ① 갑은 보호 처분뿐만 아니라 형벌도 받지 않는다.
- ② 검사는 을에게 기소 유예 처분을 내릴 수 있다.
- ③ 가정 법원(지방법원) 소년부 판사는 병에게 형벌을 부과할 수 없다.
- ④ 을과 병이 보호 처분을 받았다고 하더라도 전과로 기록되지는 않는다.
- ⑤ 병과 달리 을은 형벌을 받을 수 없다.

6058-0237

**19** 국제 사회를 바라보는 관점 A, B에 대한 옳은 설명만을 <보기>에서 있는 대로 고른 것은?

국제 사회를 바라보는 관점에는 A와 B가 있다. A는 힘의 관점에서 국제 사회를 설명하는 B와 달리 국가 간의 협력과 타협으로 국제 사회의 평화 유지가 가능하다고 본다. 따라서 A는 국제 사회가 보편적인 선이나 국제 규범에 의해 지배되고 있다고 보는 반면 B는 국제 사회에서는 상대국보다 강한 힘을 가져야만 갈등 상황에서 이길 수 있다고 본다.

- 보기**
- ㄱ. A는 국제법, 국제기구의 중요성을 강조한다.
  - ㄴ. B는 홉스의 인간관을 바탕으로 국제 사회를 바라본다.
  - ㄷ. A는 B와 달리 복잡한 국제 관계를 정치적 권력 관계로 한정하여 설명한다.
  - ㄹ. B는 A와 달리 동맹으로 이룬 세력 균형을 통해 국가 안전 보장을 추구해야 한다고 본다.

- ① ㄱ, ㄷ                      ② ㄱ, ㄹ                      ③ ㄴ, ㄷ
- ④ ㄱ, ㄴ, ㄹ                ⑤ ㄴ, ㄷ, ㄹ

6058-0238

**20** 국제법의 법원 (가)~(다)에 대한 옳은 설명만을 <보기>에서 있는 대로 고른 것은? [3점]

(가)	국가 간 또는 국제기구와 국가 간에 체결하는 법적 구속력을 갖는 약속
(나)	국제 사회의 반복적인 관행이 국제 사회에서 법 규범으로 승인되어 효력을 가지게 된 관습 법규
(다)	문명국들이 공통적으로 승인하여 따르는 법의 보편적인 원칙

- 보기**
- ㄱ. 국회의 동의를 얻은 (가)는 국내법 중 헌법과 같은 효력을 갖는다.
  - ㄴ. 권리 남용 금지의 원칙, 신의 성실의 원칙은 (다)의 사례이다.
  - ㄷ. (나)와 (다)는 별도의 체결 절차 없이 국제법의 효력을 갖는다.
  - ㄹ. 국제 사법 재판소에서는 (가)~(다)를 재판의 준거로 활용할 수 있다.

- ① ㄱ, ㄷ                      ② ㄱ, ㄹ                      ③ ㄴ, ㄷ
- ④ ㄱ, ㄴ, ㄹ                ⑤ ㄴ, ㄷ, ㄹ

정답과 해설 46쪽

6058-0241

문항에 따라 배점이 다르니, 각 물음의 끝에 표시된 배점을 참고 하시오. 3점 문항에만 점수가 표시되어 있습니다. 점수 표시가 없는 문항은 모두 2점입니다.

6058-0239

1 다음 근대 정치 사상이 갑, 을의 주장에 대한 설명으로 옳은 것은?

갑 : 자연 상태에서 개인들은 결핍에 대한 불안감 속에서 경쟁 심, 자기 보존 욕구 등과 같은 본성에 따라 타인들을 공격 하고 지배하고자 한다. 이러한 투쟁 상태를 벗어나 안전을 보장받기 위해 개인들은 계약을 맺어 국가를 구성한다.  
 을 : 자연 상태는 자유롭고 평화롭지만, 옳고 그름을 구별하는 법이 없고, 다툼을 해결해 주는 재판관도 없으며, 법을 집행할 수 있는 합법적인 권력도 없다. 이러한 상태를 막고 생명, 자유, 재산 등을 안전하게 보장받기 위해 개인들은 계약을 맺고 국가를 설립한 것이다.

- ① 갑은 인간을 선천적으로 선한 존재로 보았다.
- ② 갑은 신의 뜻에 기초한 정부 구성을 강조하였다.
- ③ 을은 국가가 자연 상태에서 유래한 자연적 질서라고 보았다.
- ④ 갑과 달리 을은 권력 분립에 기초한 정치 체제를 옹호하였다.
- ⑤ 을과 달리 갑의 사상은 근대 유럽 시민 혁명의 배경이 되었다.

6058-0240

2 표는 ○○국의 시기별 의회 의석 분포를 나타낸 것이다. 이를 통해 ○○국의 정치 상황에 대한 분석 및 추론으로 옳은 것은?

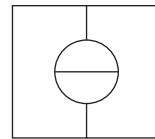
구분	행정부 소속 정당	원내 제1당	원내 제2당
A 시기	갑당	갑당(115석)	을당(70석)
B 시기	을당	갑당(105석)	을당(82석)
C 시기	을당	을당(86석)	병당(85석)
D 시기	을당	병당(89석)	을당(75석)

\* ○○국의 의회 의석수는 200석으로 변동이 없으며, A~D 시기는 전형적인 정부 형태를 지니며, 정부 형태의 변화는 없음

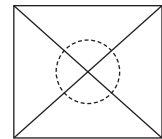
- ① 전형적인 의원 내각제 정부 형태를 취하고 있다.
- ② 행정부 수반은 의회에 대하여 책임을 지며 정치적 책임에 민 감할 것이다.
- ③ 한 번의 선거에 의해 의회 구성과 행정부 수반이 결정되는 정 부 형태를 취하고 있다.
- ④ A, B 시기는 C, D 시기와 달리 연립 내각이 구성되었을 것 이다.
- ⑤ B, C, D 시기는 A 시기보다 법률안 거부권이 행사될 가능성 이 크다.

3 다음 제시문에 나타난 문제점을 개선하기 위한 방안으로 가장 적절한 것은?

도시와 농촌의 유권자비는 40:60이고 도시 주변을 농촌 지역이 둘러싸고 있는 갑국에는 2개의 정당이 있는데, 진보적 성향의 A 당이 도시 지역에서 60:40으로 지지를 더 받고 있으나, 농촌 지역에서는 보수적인 성향의 B당이 60:40으로 우세를 보인다. 각 지역에서 양당에 대한 지지는 어느 한 지역에 집중되어 있지 않고, 골고루 분포되어 있다. 이때 4개의 선거구를 <모델 1>, <모델 2>로 획정할 경우 의회 의원 선거 결과는 다음과 같다. 갑 국은 여당인 B당의 주도로 현행 선거구인 <모델 1>을 <모델 2> 로 개정하려 추진 중이다.



<모델 1>  
A당 2석, B당 2석

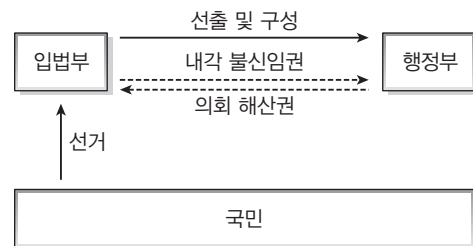


<모델 2>  
A당 0석, B당 4석

- ① 다수 대표제를 대표 결정 방법으로 채택한다.
- ② 의회 의원의 임기를 연장하여 총선거의 횟수를 줄인다.
- ③ 선거의 관리와 선거 비용을 국가가 관리하고, 부담한다.
- ④ 직능 대표제를 부분적으로 도입하여 직업적 이익을 반영한다.
- ⑤ 게리맨더링을 방지하기 위한 공정한 선거구 획정 원칙을 입 법화한다.

6058-0242

4 그림은 전형적인 정부 형태를 나타낸 것이다. 우리나라의 정 부 형태 요소 중 그림과 같은 정부 형태에 속하는 내용을 <보기> 에서 고른 것은? [3점]



보기

- ㄱ. 국무 회의가 정부의 중요 정책을 심의한다.
- ㄴ. 대통령이 법률안 거부권을 행사할 수 있다.
- ㄷ. 국회가 국무총리의 해임을 건의할 수 있다.
- ㄹ. 대통령과 국회의원은 별도의 선거에 의해 선출된다.

- ① ㄱ, ㄴ    ② ㄱ, ㄷ    ③ ㄴ, ㄷ    ④ ㄴ, ㄹ    ⑤ ㄷ, ㄹ

6058-0243

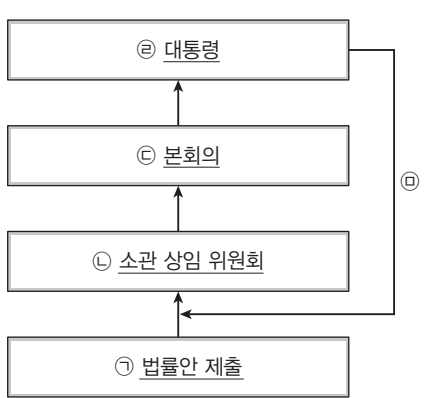
**5** 표는 정치 참여 집단 (가), (나)의 강령을 비교한 것이다. 이에 대한 일반적인 설명으로 옳은 것은? (단, (가), (나)는 정당, 이익 집단 중 하나이다.)

정치 참여 집단	강령
(가)	자유 민주주의와 시장 경제를 기본 이념으로 개인의 자유와 창의를 발현되는 사회, 소외 계층의 생활 향상을 위해 자생적 복지 정책을 추진하여 사회 양극화가 해소되는 사회를 추구하며, ... (중략) ... 권력 획득을 기반으로 한반도의 평화 통일과 21세기 선진 일류 국가를 창조할 것을 강령으로 한다.
(나)	노동조합은 다음과 같은 목적을 가지며 이를 실현하기 위한 사업을 추진한다. 1. 노동자의 인간다운 생활을 위한 권리를 비롯한 제 인권과 노동 3권을 토대로 한 노동 기본권을 확보한다. 2. 임금, 노동 조건의 유지·개선과 노동자의 경제적·사회적·정치적 지위 향상을 위한 노동조합의 활동을 보장한다.

- ① (나)는 의회와 정부를 매개하는 기능을 한다.
- ② (가)와 달리 (나)는 공익 실현을 목적으로 한다.
- ③ (나)는 (가)에 비해 다양한 분야에 관심을 갖는다.
- ④ (나)는 자신들의 이익 실현을 위해 (가)를 이용하기도 한다.
- ⑤ (가)와 달리 (나)는 개인들의 자발적인 참여를 바탕으로 한다.

6058-0244

**6** 그림은 우리나라 국회의 법률 제정 과정의 일부이다. 밑줄 친 ㉠~㉣에 대한 설명으로 옳지 않은 것은? [3점]



- ① ㉠은 국회의원 또는 정부가 할 수 있다.
- ② ㉡은 효율적인 의사 진행을 위해 운영한다.
- ③ ㉢에서 상임 위원장의 심사 보고 등을 거쳐 법률안을 의결한다.
- ④ ㉣에 의해 공포된 법률안은 특별한 규정이 없는 한 즉시 효력이 발생한다.
- ⑤ ㉣의 과정을 거친 법률안은 국회 재적 의원 과반수 출석과 출석 의원 3분의 2 이상의 찬성으로 재의결된다.

6058-0245

**7** (가), (나) 법 조항을 통해 도출할 수 있는 우리나라 헌법의 기본 원리에 대한 옳은 설명을 <보기>에서 고른 것은? [3점]

헌법의 기본 원리	헌법 조항
(가)	헌법 제1조 ② 대한민국의 주권은 국민에게 있고, 모든 권력은 국민으로부터 나온다.
(나)	헌법 34조 ① 모든 국민은 인간다운 생활을 할 권리를 가진다.


**보기**

- ㄱ. (가)는 사회권을 보장하는 헌법적 근거가 된다.
- ㄴ. (가)를 실현하기 위해 복수 정당제, 언론의 자유 등이 보장된다.
- ㄷ. (나)는 사회적 약자를 배려하는 실질적 평등을 인정한다.
- ㄹ. (나)는 국가의 역할을 최소화함으로써 실현되는 원리이다.

- ① ㄱ, ㄴ    ② ㄱ, ㄷ    ③ ㄴ, ㄷ    ④ ㄴ, ㄹ    ⑤ ㄷ, ㄹ

6058-0246

**8** 그림과 같은 제도를 두는 취지로 가장 적절한 것은?



- ① 신속한 재판을 진행하기 위함이다.
- ② 법원의 독립을 보장하기 위함이다.
- ③ 국민의 기본권을 보장하기 위함이다.
- ④ 공개 재판의 원칙을 실현하기 위함이다.
- ⑤ 재판의 정치적 중립을 보장하기 위함이다.

6058-0247

9 (가), (나) 사례에 대한 법적 판단으로 옳은 것은? [3점]

(가) 갑은 졸업 후 취직을 하면서 임신할 경우 퇴사한다는 근로 계약서를 작성하였다. 몇 년이 지나 임신을 하자, 출근하지 않아도 된다고 하며 사업주는 퇴사 통보를 하였다.  
 (나) 을은 근로기준법에서 정한 기준에 미치지 못한 조건으로 근로 계약을 체결하였다. 입사 후에 이를 개선하기 위해 노동조합에 가입하여 활동하였지만 회사에서는 노동조합에서 탈퇴하지 않을 경우 지방으로 발령할 것이라며 압력을 넣고 있다.

- ① (가)에서 갑은 노동 위원회에 구제 신청을 할 수 있다.
- ② (가)에서 갑은 해고 무효 확인 소송을 제기할 수 없다.
- ③ (나)에서 을은 중앙 노동 위원회의 재심에 불복할 경우 민사 법원에 소송을 제기할 수 있다.
- ④ (가)는 부당 노동 행위, (나)는 부당 해고에 해당한다.
- ⑤ (가), (나)에서 모두 노동조합이 노동 위원회에 구제 신청을 할 수 있다.

6058-0248

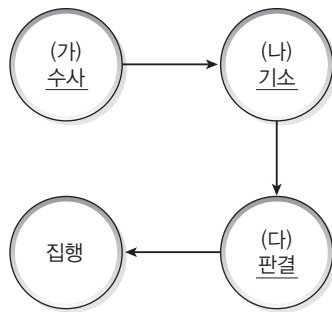
10 다음 교사의 질문에 옳게 답을 한 학생만을 있는 대로 고른 것은?

교사 : 미성년자는 제한 능력자에 해당하여 단독으로 유효한 계약을 체결할 수 없고, 원칙적으로 법정 대리인의 동의를 얻어야 합니다. 그런데 항상 동의를 받아야 할까요? 만약 미성년자가 단독으로 유효하게 할 수 있는 법률 행위가 있다면 무엇이 있을까요?  
 갑 : 채무만을 면제받는 계약을 체결할 수 있어요.  
 을 : 18세인 미성년자가 혼인을 할 수 있어요.  
 교사 : 그래요. 또 다른 사례 없습니까?  
 병 : 처분이 허락된 재산을 처분할 수 있어요.  
 정 : 17세인 미성년자가 아르바이트를 하기 위해 근로 계약을 체결할 수 있어요.

- ① 갑, 을                      ② 갑, 병                      ③ 병, 정
- ④ 갑, 을, 정                ⑤ 을, 병, 정

6058-0249

11 그림은 형사 절차의 일부이다. (가)~(다)에 대한 설명으로 옳은 것은? [3점]



- ① 영장 실질 심사는 (나) 이후에 이루어지는 것이 원칙이다.
- ② (나) 이후 구속 피고인은 구속 적부 심사를 법원에 청구할 수 있다.
- ③ (다)에서 피고인은 유죄 판결을 받고도 석방될 수 있다.
- ④ (가), (나)에서 불구속 상태에서 무죄 취지의 불기소 처분을 받거나 무죄 판결을 받을 경우 형사 보상을 청구할 수 있다.
- ⑤ (가)와 달리 (나), (다)에서는 무죄 추정의 원칙이 적용된다.

6058-0250

12 (가), (나)는 이혼의 유형을 구분한 것이다. 이에 대한 설명으로 옳지 않은 것은?

이혼의 유형	(가)	(나)
관련 서류	<b>청구 취지</b> 1. 원고와 피고는 이혼한다. 2. 소송 비용은 피고의 부담으로 한다. 라는 판결을 바랍니다.	<b>신청 취지</b> 위 당사자 사이에는 진의에 따라 이혼하기로 합의하였다.  위와 같이 이혼 의사가 확인되었다. 라는 확인을 구합니다.
	<b>청구 원인</b> ... (후략) ...	첨부 서류 ... (후략) ...

- ① (가)는 혼인을 계속하기 어려운 중대한 사유가 필요하다.
- ② (가)의 이혼 판결 후 부부 사이의 모든 권리와 의무가 소멸한다.
- ③ (나)는 자녀를 양육하지 않는 부모 일방에 대한 면접 교섭권을 인정하지 않는다.
- ④ (나)의 결과 이혼 신고를 일정 기간 이내에 관할 기관에 하지 않으면 효력이 발생하지 않는다.
- ⑤ 일반적으로 (가)는 조정의 단계를 (나)는 숙려 기간을 필요로 한다.

6058-0251

**13** 다음은 학습지의 일부이다. (가)~(마) 중 정답 표시에 ○가 들어가야 하는 문항만을 있는 대로 고른 것은?

**법과 정치 학습지**

문제 : 다음은 상속에 관한 설명이다. 각 항목이 맞으면 ○표, 틀리면 ×표를 하시오.

문항	설명	정답 표시
(가)	상속 대상의 재산에 채무는 포함되지 않는다.	
(나)	상속받는 자가 피상속인, 사망자가 상속인이 된다.	
(다)	상속인은 현금 등의 재산만 상속받고, 채무는 상속 포기를 할 수 있다.	
(라)	상속은 사망한 자의 유효한 유언이 있을 때는 유언에 따른다.	
(마)	배우자는 사망한 사람의 직계 비속이나 직계 존속이 있을 경우에는 공동으로 상속을 받으며, 배우자는 공동 상속인의 상속분에 50%를 가산하여 상속을 받는다.	

- ① (가), (나)      ② (다), (라)      ③ (라), (마)
- ④ (가), (다), (마)      ⑤ (나), (라), (마)

6058-0252

**14** 그림은 국가 기관에 제출된 청구서의 일부이다. 이에 대한 설명으로 옳은 것은? [3점]

청구인      갑(생략)  
 등록 기준지 : ☆☆시 □□구  
 주소 : △△시 ◇◇구  
 ... (중략) ...

사건 본인      을(생략)  
 등록 기준지 : ★★도 ●●시  
 주소 : ★★도 ●●시

청구 취지

사건 본인을 청구인의 친양자로 한다.  
 라는 심판을 구합니다.

- ① 을이 성년이어도 위 청구의 사건 본인이 된다.
- ② 을은 입양되더라도 갑의 성으로 변경할 수 없다.
- ③ 위 청구 시 을의 친생 부모의 동의는 받지 않아도 된다.
- ④ 청구가 받아들여질 경우 을은 갑의 혼인 중의 출생자와 같은 지위를 갖는다.
- ⑤ 위 청구가 받아들여지더라도 을의 친생 부모의 재산에 대한 상속권이 유지된다.

6058-0253

**15** 그림의 사례에 대한 옳은 법적 판단을 <보기>에서 고른 것은? [3점]



**보기**

- ㄱ. 갑은 일반 불법 행위 책임을 질 수 있다.
- ㄴ. 병은 특수 불법 행위 책임을 질 수 있다.
- ㄷ. 병이 모든 주의 의무를 다했어도 손해 배상의 책임을 질 수 있다.
- ㄹ. 갑과 병이 피용자와 사용자의 사무 관계가 없는 경우에도 병은 사용자 배상 책임을 질 수 있다.

- ① ㄱ, ㄴ      ② ㄱ, ㄷ      ③ ㄴ, ㄷ      ④ ㄴ, ㄹ      ⑤ ㄷ, ㄹ

6058-0254

**16** 다음 사례에 대한 옳은 법적 판단을 <보기>에서 고른 것은? [3점]

갑은 평소 복지 재단에 전 재산 14억 원을 기부하겠다는 유효한 유언장을 작성하여 두었고, 최근 질병으로 사망하였다. 가족 관계는 다음과 같다.

**보기**

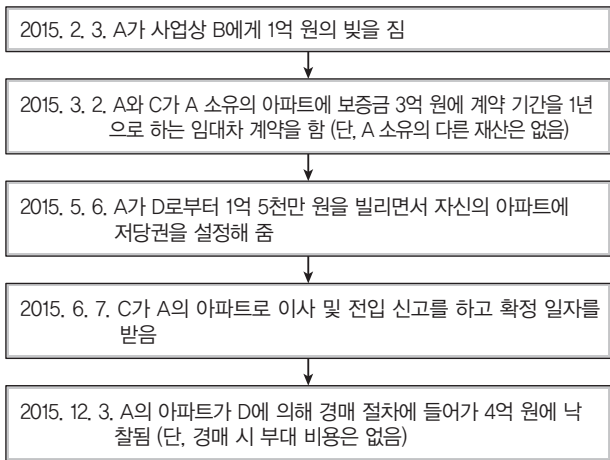
- ㄱ. A는 6억 원을 상속받을 수 있다.
- ㄴ. B는 2억 원의 유류분 반환을 청구할 수 있다.
- ㄷ. C는 4억 원을 상속받을 수 있다.
- ㄹ. 유류분 청구권자는 A, B, D이다.

- ① ㄱ, ㄴ      ② ㄱ, ㄷ      ③ ㄴ, ㄷ      ④ ㄴ, ㄹ      ⑤ ㄷ, ㄹ



6058-0255

**17** 다음 사례에 대한 옳은 법적 판단을 <보기>에서 고른 것은? [3점]



**보기**

- ㄱ. B는 경매 금액에서 채권액을 회수할 수 없다.
- ㄴ. C는 대항력과 우선 변제권을 모두 갖추었다.
- ㄷ. C의 확정 일자 2015년 6월 7일자로 등기부 등기에 기재된다.
- ㄹ. C는 D보다 선순위이므로 경매 금액에서 임차 보증금을 전액 돌려받는다.

- ① ㄱ, ㄴ    ② ㄱ, ㄷ    ③ ㄴ, ㄷ    ④ ㄴ, ㄹ    ⑤ ㄷ, ㄹ

6058-0256

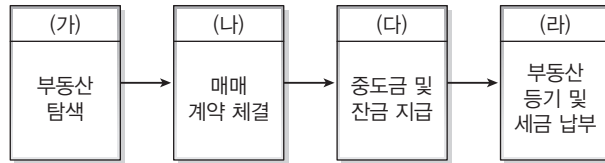
**18** 그림의 사례에 대한 법적 판단으로 옳은 것은?



- ① 을은 동물의 점유자로서 손해 배상의 책임이 있다.
- ② 을은 애완동물의 소유자가 아니므로 손해 배상의 책임이 없다.
- ③ 을은 책임 능력이 없으므로 감독자에게 손해 배상의 책임이 있다.
- ④ 을과 병은 공동 불법 행위자로 연대하여 손해 배상의 책임이 있다.
- ⑤ 을이 주의 의무를 다했어도, 갑은 을에게 손해 배상을 청구할 수 있다.

6058-0257

**19** 그림의 (가)~(라) 단계에서 주의해야 할 사항으로 옳은 내용을 <보기>에서 고른 것은?



**보기**

- ㄱ. (가) : 등기사항 전부증명서(등기부 등본)를 발급받고 방문하여 부동산의 위치나 하자 등을 살펴본다.
- ㄴ. (나) : 등기사항 전부증명서와 신분증을 통해 현재 소유자와 매매 계약자가 동일인임을 대조·확인한다.
- ㄷ. (다) : 잔금 지급과 동시에 부동산을 점유함으로써 소유권 이전이 완료된다.
- ㄹ. (라) : 등기 완료 후 등기부 등기에 부동산의 소유권 이전이 제대로 공시되었는지를 확인한다.

- ① ㄱ, ㄴ    ② ㄱ, ㄷ    ③ ㄴ, ㄷ    ④ ㄴ, ㄹ    ⑤ ㄷ, ㄹ

6058-0258

**20** 국제 사회를 바라보는 관점 (가), (나)에 대한 옳은 설명을 <보기>에서 고른 것은? [3점]

힘과 권력이라는 핵심어를 통하여 국제 관계를 이해하는 (가)은/는 패권국이 존재할 때 국제 분쟁이 해결될 가능성이 높다고 본다. 강력한 패권국이 세계 경찰 역할을 하면서 무정부 상태의 국제 사회에서 가능한 안정과 질서를 유지하는 역할을 수행한다는 것이다.

(나)은/는 인간의 이성에 대한 신뢰를 바탕으로 국제 갈등과 분쟁을 평화적으로 해결할 수 있다고 본다. 국제 사회의 무정부성이 질서와 협력의 부재를 의미하는 것은 아니라 주장하며, 이성을 중심으로 국제법과 국제기구를 설립하여 국제 갈등과 분쟁을 평화롭게 해결할 수 있다고 믿는다.

**보기**

- ㄱ. (가)는 국제 윤리에 바탕을 둔 낙관론적인 세계관에 기반한다.
- ㄴ. (가)는 평화를 위해 군사적 동맹을 맺어 힘의 균형을 이루어야 함을 강조한다.
- ㄷ. (나)는 권위 있는 세계 정부가 없으므로 힘의 논리에 의한 질서를 강조한다.
- ㄹ. (나)는 국제 행위 주체들이 상호 협력함으로써 평화를 유지할 수 있다고 본다.

- ① ㄱ, ㄴ    ② ㄱ, ㄷ    ③ ㄴ, ㄷ    ④ ㄴ, ㄹ    ⑤ ㄷ, ㄹ



# 실전 모의고사

1 회

시간 30분 | 배점 50점

문항에 따라 배점이 다르니, 각 물음의 끝에 표시된 배점을 참고하십시오. 3점 문항에만 점수가 표시되어 있습니다. 점수 표시가 없는 문항은 모두 2점씩입니다.

3-283-169

## 1 다음 정치 공동체에 대한 설명으로 옳지 않은 것은? [3점]

모든 시민들은 법 앞에서 평등하다. 법을 만든 사람들 역시 법에 복종해야만 하므로 악법을 승인하지 않도록 조심해야 한다. 이 악법의 첫 번째 희생자가 바로 자신일 수 있기 때문이다. 법은 신이나 조상들의 신화에서 유래한 것이 아니고 민회에 근원을 두고 있다. 모든 시민들은 정치인이며 다수의 뜻에 따라 집회에서 법을 고치거나 폐지할 수 있다. 시민들은 법에만 복종할 뿐, 개인에게 복종하지 않는다. 명령하는 특권 계급은 인정되지 않으며 공직은 제비뽑기로 정한다. 그리하여 시민은 누구나 결정에 참여하고 지도자의 위치에 오를 수 있다.

- ① 시민의 정치 참여가 증시된다.
- ② 악법에 대한 저항권이 강조된다.
- ③ 정치 참여의 주체는 시민으로 제한된다.
- ④ 공동체의 중요한 일은 시민이 직접 결정한다.
- ⑤ 시민은 다스리기도 하고 다스림을 받기도 한다.

3-283-170

## 2 갑국과 을국의 정부 형태에 대한 옳은 설명을 <보기>에서 고른 것은?

- 갑국은 행정권을 대통령과 총리가 공유하며 총리는 헌법에 근거하여 고유한 권한을 보유한다. 대통령은 국민 직선제로 선출되며 총리는 의회에서 선출된다. 대통령은 의회를 해산할 수 있다.
- 을국은 대통령이 행정권을 갖고 국가 원수의 지위를 겸한다. 행정부는 법률안을 제안할 수 있으며 의회는 국무총리나 장관의 해임을 대통령에게 건의할 수 있다. 대통령은 의회를 해산할 수 없다.

<보기>

- ㄱ. 갑국은 을국보다 정책의 안정성과 연속성이 보장된다.
- ㄴ. 갑국과 을국은 대통령과 의회의 대립이 발생할 수 있다.
- ㄷ. 갑국과 달리 을국에서 여당은 입법부와 행정부를 동시에 지배한다.
- ㄹ. 갑국과 을국은 대통령제와 의원 내각제의 성격을 아울러 가지고 있다.

- ① ㄱ, ㄴ    ② ㄱ, ㄷ    ③ ㄴ, ㄷ    ④ ㄴ, ㄹ    ⑤ ㄷ, ㄹ

3-283-171

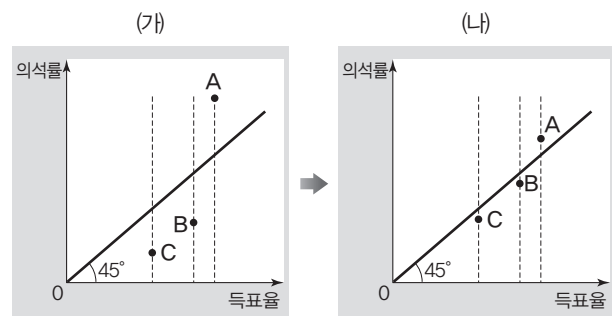
## 3 갑~정의 정치 참여 활동에 대한 설명으로 적절하지 않은 것은?

- 갑은 ○○당의 통일 안보 정책을 지지하며 당원으로 가입하였다.
- 을은 정부의 의료수가 인하 정책에 반대하며 의사협회 회원으로서 집회에 참가하였다.
- 병은 환경 보호를 위하여 환경◇◇시민연대에 가입하여 캠페인 활동을 벌였다.
- 정은 △△신문의 독자 투고란에 최저 임금 인상의 필요성에 관한 글을 올렸다.

- ① 갑, 병은 사익보다 공익을 실현하려고 한다.
- ② 을, 병이 가입한 단체는 정치적 책임을 지지 않는다.
- ③ 을, 정은 정치권력의 획득을 목적으로 한다.
- ④ 갑, 을, 병은 집단적인 방법으로 정치에 참여하고 있다.
- ⑤ 갑, 을, 병, 정은 정책 결정에 영향을 미칠 수 있다.

3-283-172

## 4 그래프는 어느 국가의 지역구 의원 선거 제도가 (가)에서 (나)로 바뀌면서 나타난 A당~C당의 득표율과 의석률의 변화이다. 이에 관한 옳은 분석 및 추론을 <보기>에서 고른 것은? (단, 정당별 득표율은 변함이 없다.) [3점]



<보기>

- ㄱ. (가)보다 (나)에서 사표의 발생이 감소하였다.
- ㄴ. (가)가 중·대선거구제라면 (나)는 소선거구제이다.
- ㄷ. A당보다 B당과 C당은 비례 대표제의 확대에 찬성할 것이다.
- ㄹ. (가)에서 (나)로의 변화는 1위 득표 후보자가 당선되는 단순 다수 대표제의 도입이 원인이 될 수 있다.

- ① ㄱ, ㄴ    ② ㄱ, ㄷ    ③ ㄴ, ㄷ    ④ ㄴ, ㄹ    ⑤ ㄷ, ㄹ

3-283-173

**5** 다음 글에 부합하는 정치적 주장으로 적절하지 않은 것은?

우리가 걱정해야 할 것은 개인 권리 침해의 원인이 구성원들의 생각에 반하는 정부 행동이 아니라 구성원 중 다수의 매개체에 불과한 정부의 행동이라는 점이다. 구성원 51%가 나머지 49%의 권리를 빼앗아서 안 된다. 헌법의 기본권 조항은 다수의 민주적 본능으로부터 재산권 등 자연적 권리를 보호하기 위하여 필수적이다.

- ① 다수의 횡포를 예방하여야 한다.
- ② 국민의 자유와 권리를 보호하여야 한다.
- ③ 입헌주의에 의한 민주 정치를 지향해야 한다.
- ④ 민주 정치가 중우 정치로 되지 않도록 하여야 한다.
- ⑤ 국민의 대표인 의회 의원은 국민의 뜻에 따라야 한다.

3-283-174

**6** 다음 수업 장면에서 (가)에 들어갈 말로 적절하지 않은 것은?

[3점]



- ① 재산권의 행사는 공공복리에 적합하도록 하여야 합니다.
- ② 정치권력의 정당성을 위하여 민주적 선거가 필수적입니다.
- ③ 국민은 국가의 중요 정책에 대한 국민 투표에 참여할 수 있어야 합니다.
- ④ 국민의 정치적 의사 형성을 위하여 자유롭게 정당을 설립할 수 있어야 합니다.
- ⑤ 절대 권력의 출현으로 인한 국민 주권의 침해를 막기 위하여 3권이 분립되어야 합니다.

3-283-175

**7** (가)~(다)는 정치 문화의 유형을 나타내고 있다. 이에 대한 질문 내용과 응답에 관한 적절한 추론을 <보기>에서 고른 것은?

구분	정치 체제	투입	산출	정치 주체
(가)	-	-	-	-
(나)	+	-	+	-
(다)	+	+	+	+

+ : 높은 수준의 인지, 평가, 감정 / - : 낮은 수준의 인지, 평가, 감정

<보기>

- ㄱ. (가)는 (나)보다 “역대 대통령의 이름을 정확하게 말할 수 있습니까?”라는 질문에 긍정적인 응답이 많을 것이다.
- ㄴ. (가)는 (다)보다 “정부에 당신의 생각을 말한다면 얼마나 수용될 것이라고 생각하십니까?”라는 질문에 부정적인 응답이 많을 것이다.
- ㄷ. (나)는 (다)보다 “정부가 마련한 법이 국민의 일상생활에 얼마나 영향을 미친다고 생각하십니까?”라는 질문에 긍정적인 응답이 적을 것이다.
- ㄹ. (다)는 (가)보다 “다른 사람과 공적인 사회 문제에 대하여 얼마나 자주 이야기하십니까?”라는 질문에 부정적인 응답이 적을 것이다.

- ① ㄱ, ㄴ    ② ㄱ, ㄷ    ③ ㄴ, ㄷ    ④ ㄴ, ㄹ    ⑤ ㄷ, ㄹ

3-283-176

**8** 갑국과 을국의 정치적 특징으로 가장 적절한 것은? (단, 갑국과 을국은 전형적인 정부 형태를 취하고 있다.)

민주주의의 제1의 물결 시기에 갑국은 인민에 의한 정부를 확립하는 것보다 법 아래에 있는 정부를 확립하는 것을 중시하였다. 갑국이 자유 민주주의를 강조한 반면, 을국은 민주주의의 대의제적 요소를 우선하였다. 갑국 민주주의가 정부 기관들에 권력을 분산시키는 반면에, 을국 민주주의는 의회의 주권을 강조하였고 단일 여당은 투표자들이 다음 선거에서 평가를 내릴 때까지 광범위한 권력을 행사하였다. 갑국과 달리 을국에서는 성문 헌법, 권력 분립, 연방제 등과 같은 제도가 없었다. 신성시되는 의회 주권은 정권을 장악하고 있는 정당에 실제적으로 위임되었다.

- ① 갑국보다 을국이 복지 국가를 지향하였다.
- ② 갑국과 달리 을국은 법의 지배의 원칙이 지켜졌다.
- ③ 갑국은 을국과 달리 국민 자치의 원리에 충실하였다.
- ④ 갑국의 정부 형태는 대통령제, 을국은 의원 내각제였다.
- ⑤ 갑국의 정치는 직접 민주주의, 을국은 간접 민주주의였다.



3-283-177

9 다음 헌법재판소 결정의 근거만을 <보기>에서 있는 대로 고른 것은?

인터넷 게시판을 설치·운영하는 정보통신서비스 제공자에게 본인 확인 조치 의무를 부과하여 글의 게재뿐만 아니라 단순 열람의 경우에도 게시판 이용자로 하여금 본인 확인 절차를 거쳐야만 게시판을 이용할 수 있도록 하는 본인 확인제를 규정 한 「정보통신망 이용촉진 및 정보보호 등에 관한 법률」의 해당 조항들은 과잉 금지 원칙에 위배되어 위헌이다.

<보기>

- ㄱ. 법률의 목적이 국가 안전 보장, 질서 유지, 공공복리 중 어느 하나에도 해당되지 않는다.
- ㄴ. 건전한 인터넷 문화 조성이라는 공익의 달성보다 이로 인하여 표현의 자유 등 이익의 침해가 더 크다.
- ㄷ. 본인 확인제의 적용 범위가 너무 넓어 목적 달성에 필요한 범위를 넘는 과도한 기본권 제한을 하고 있다.
- ㄹ. 건전한 인터넷 문화의 조성 등 입법 목적은 표현의 자유를 덜 제한하는 다른 수단에 의해서도 충분히 달성할 수 있다.

- ① ㄱ, ㄴ                      ② ㄱ, ㄷ                      ③ ㄷ, ㄹ
- ④ ㄱ, ㄴ, ㄹ                ⑤ ㄴ, ㄷ, ㄹ

3-283-178

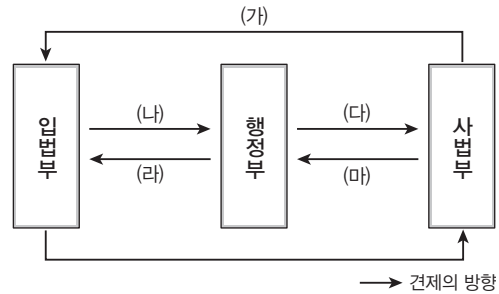
10 (가), (나)에 들어갈 법률 용어로 적절한 것은? [3점]

갑은 사기 혐의로 구속되어 변호인을 선임하였으나 ○○지방법원에서 징역형을 선고받았다. 이에 갑은 변호인의 도움을 받아 ○○지방법원 합의부에 항소하였다. 그러나 갑은 가난하여 2심 변호인을 선임하지 못하였고 법원이 위촉한 국선 변호인은 법정 기간 내에 항소이유서를 제출하지 않았다. 이에 2심 법원은 갑이 제기한 항소에 대하여 항소이유서의 미비를 이유로 기각 결정을 내렸다. 갑은 [가] 을/를 침해당하였다고 주장하며 대법원에 [나] 하였다.

- |                  |     |     |
|------------------|-----|-----|
|                  | (가) | (나) |
| ① 청원권            |     | 재항고 |
| ② 신체의 자유         |     | 상고  |
| ③ 재판을 받을 권리      |     | 상고  |
| ④ 행복을 추구할 권리     |     | 항소  |
| ⑤ 변호인의 도움을 받을 권리 |     | 재항고 |

3-283-179

11 그림은 우리나라 헌법상 입법부, 행정부, 사법부 간 견제의 관계를 나타낸 것이다. (가)~(마)의 사례로 옳은 것은? [3점]



- ① (가) : 긴급 재정·경제 처분 및 명령권
- ② (나) : 국무 위원 해임 건의권
- ③ (다) : 일반 법관 임명권
- ④ (라) : 국회 해산권
- ⑤ (마) : 탄핵 소추권

3-283-180

12 다음 법률 조항을 통하여 내릴 수 있는 법적 판단으로 옳은 것은? [3점]

<감염병의 예방 및 관리에 관한 법률>

제거조 (예방접종 등에 따른 피해의 국가 보상) ① 국가는 ... 예방접종을 받은 사람(...)이 그 예방접종 또는 예방·치료 의약품으로 인하여 질병에 걸리거나 장애인이 되거나 사망하였을 때에는 ... 보상을 하여야 한다. ...

② 제1항에 따라 보상받을 수 있는 질병, 장애 또는 사망은 예방접종약품의 이상이나 예방접종 행위자 및 예방·치료 의약품 투여자 등의 과실 유무에 관계없이 해당 예방접종 또는 예방·치료 의약품을 투여 받은 것으로 인하여 발생한 피해로서 보건복지부장관이 인정하는 경우로 한다.

- ① 피해 보상은 과실 책임 원칙이 적용된다.
- ② 예방접종과 인과 관계가 없는 피해는 보상을 받지 못한다.
- ③ 몸이 아픈 상태에서 받은 예방접종으로 인한 피해는 보상되지 않는다.
- ④ 예방접종의 부작용을 예고하였다면 국가는 피해 보상을 할 의무가 없다.
- ⑤ 현재의 기술 수준에서 부작용을 예측할 수 없었다면 피해 보상이 인정되지 않는다.

3-283-181

**13** 다음 법원 판결의 근거에 대한 추론으로 가장 적절한 것은? [3점]

18세의 고등학생인 갑은 아르바이트로 한 달에 약 80만 원의 소득을 올리고 있었는데, 부모의 동의 없이 신용카드를 발급받아 아르바이트를 하기 위해서 필요한 물품이나 간식, 문구, 의류, 화장품 등을 사면서 결제할 때 사용하였다. 결제 금액은 소득 범위 내이었으며 부모는 갑의 이러한 경제 활동을 알고 있었다. 갑은 나중에 아르바이트를 그만두었는데, 부모 동의 없이 신용카드를 발급받아 사용하였으므로 신용카드 대금을 갚을 수 없다고 주장하면서 소송을 제기하였다. 그러나 법원은 원고 패소 판결을 하였다.

- ① 신용카드 가맹점들이 미성년자인 원고의 카드 사용을 막지 못하였다.
- ② 원고가 법률 행위에 필요한 의사 능력과 행위 능력을 가지지 못하였다.
- ③ 원고의 신용카드 사용에 대하여 법정 대리인의 묵시적인 허락이 있었다.
- ④ 원고가 법정 대리인의 동의 없이 단독으로 법률 행위를 하였기 때문이다.
- ⑤ 신용카드 회사가 원고에게 카드를 발급할 때 법정 대리인의 동의에 대한 확인을 하지 않았다.

3-283-182

**14** 사례에서 A~I에 대한 옳은 설명만을 <보기>에서 있는 대로 고른 것은? [3점]

- 양계장을 하는 A는 B가 납품한 사료에 불순물이 섞여 있어서 상당수의 닭이 죽는 피해를 입었다.
- C는 D의 손을 떠나 물러고 쫓아오는 개를 피하려고 근처 E의 가게로 피신하다 문을 훼손하였다.
- F는 G의 술집에서 친구와 술을 마시다 만취하여 넘어지면서 테이블을 파손하였다.
- 초등학교 1학년(8세) H는 길가에 주차된 I의 자동차에 흙집을 내었다.

<보기>

- ㄱ. B와 D는 A와 E에게 각각 손해 배상 책임을 진다.
- ㄴ. C의 행위는 위법성이 없어 불법 행위가 아니다.
- ㄷ. F의 행위는 H와 달리 책임성이 있다.
- ㄹ. I와 달리 G는 금전으로 손해 배상을 받을 수 있다.

- ① ㄱ, ㄴ                      ② ㄱ, ㄷ                      ③ ㄷ, ㄹ
- ④ ㄱ, ㄴ, ㄷ                ⑤ ㄴ, ㄷ, ㄹ

3-283-183

**15** 사례에서 을, 병, 정 의 법정 상속분으로 옳은 것은? [3점]

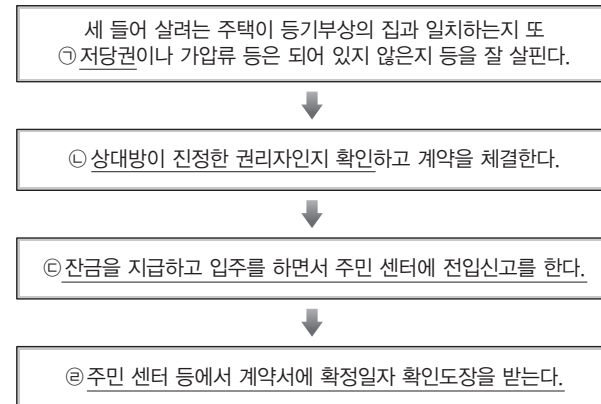
갑(전처와의 사이에 병을 둠)은 을(전남편과의 사이에 정을 둠)과 재혼을 하고 혼인 신고를 하였다. 병은 을이 친어머니가 아님을 알고 방황하면서 말썽을 많이 부려 갑의 속을 상하게 하였지만 정은 모범적인 학교 생활로 갑을 기쁘게 하였다. 그러나 갑은 정을 양자나 친양자로 입양하기 전에 갑자기 사망하였고 유언장이 발견되었는데, 전 재산을 정에게 준다는 내용이었다. 유언장은 갑의 자필로 되어 있었고 작성 연월일과 주소 그리고 이름까지 정확하게 적혀있었지만 날인은 없었다. 갑의 재산은 10억 원이었고, 빚은 없었다.

	을	병	정
①	0원	0원	10억 원
②	2억 원	2억 원	6억 원
③	4.2억 원	2.9억 원	2.9억 원
④	6억 원	4억 원	0원
⑤	10억 원	0원	0원

3-283-184

**16** 밑줄 친 ㉠~㉣에 대한 설명으로 옳지 않은 것은? [3점]

<임차 보증금을 지키기 위해 임차인이 하여야 할 일>



- ① ㉠에 관한 사항은 등기부 등본의 을구를 통하여 확인할 수 있다.
- ② ㉡을 위하여, 대리인이 나온 경우 주민등록증과 위임장을 확인하여야 한다.
- ③ ㉢을 완료하면 경매로 주택 소유자가 바뀌고 보증금을 받았더라도 계속 그 주택에 살 수 있다.
- ④ ㉣을 완료하면 경매할 때 후순위 권리자보다 보증금을 우선하여 받을 수 있다.
- ⑤ ㉣을 완료하지 않아도 ㉢을 완료하면 소액 보증금 중 일정액은 보호를 받는다.



3-283-185

17 형벌 법규 (가)와 (나)에 대한 설명으로 가장 적절한 것은?

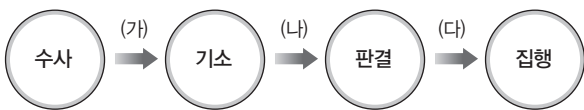
(가) 법률에 의하여 처벌할 것으로 선언된 행위 또는 형벌 법규의 기본 사상 및 건전한 민족 감정을 해치는 행위를 한 자는 처벌된다. 직접 적용될 형벌 법규가 존재하지 않을 때에는 그 행위에 대하여 가장 적합한 기본 사상을 가지는 법률에 의하여 처벌된다.

(나) 어느 행위가 행하여지기 전에 법률로 그 행위의 처벌 가능성이 특정되지 않으면 그 행위를 처벌할 수 없다.

- ① (가)와 달리 (나)는 관습에 의한 형벌을 인정하고 있다.
- ② (가)보다 (나)는 범죄 행위에 대한 처벌 규정이 지나쳐 적정하지 않다.
- ③ (가)와 (나)는 범죄의 성립 요건 판단 시점이 행위 당시로 소급하고 있다.
- ④ (나)보다 (가)는 피고인에게 불리한 유추 해석을 허용하고 있다.
- ⑤ (나)와 달리 (가)는 형법의 내용이 구체적이어서 다양한 현실을 반영할 수 없다.

3-283-186

18 형사 절차 중 (가)~(다)에 대한 설명으로 옳지 않은 것은?



- ① (가) 단계에서 검사는 소년법에 대하여 선도 조건부 기소 유에 처분을 할 수 있다.
- ② (나) 단계의 구속 피고인은 보석을 청구할 수 있다.
- ③ 법원은 (다) 단계에서 구속된 피고인의 유죄를 인정하면서 조건부로 석방할 수 있다.
- ④ (나) 단계의 피고인은 (가) 단계와 달리 구속 상태에서 재판을 받는다.
- ⑤ (가)와 (나) 단계에서는 무죄 추정의 원칙이 적용된다.

3-283-187

19 사례의 갑~병에 대하여 옳은 설명을 <보기>에서 고른 것은?

- 갑은 계약 기간 갱신을 앞두고 있는 비정규직이라는 이유로 야간 근무를 강요받고 있다.
- 을은 직장 상사가 업무를 핑계로 성적인 말을 수시로 하여 불쾌하고 힘들다.
- 병은 회사 업무를 배운다는 명분으로 열정을 바쳐 1년째 기간제 근로자로 일하고 있지만 터무니없이 낮은 임금을 받고 있다.

<보기>

- ㄱ. 갑은 회사의 부당 노동 행위를 이유로 행정법원에 소송을 제기할 수 있다.
- ㄴ. 을은 성희롱을 한 직장 상사를 형법 위반 혐의로 고소할 수 있다.
- ㄷ. 병은 근로 계약서상의 임금과 상관없이 최저임금법상의 최저 임금과 같은 임금을 요구할 수 있다.
- ㄹ. 갑, 을, 병은 국가 인권 위원회에 권리의 구제를 신청할 수 있다.

- ① ㄱ, ㄴ    ② ㄱ, ㄷ    ③ ㄴ, ㄷ    ④ ㄴ, ㄹ    ⑤ ㄷ, ㄹ

3-283-188

20 (가), (나)는 국제법에 관한 두 국가의 헌법 규정이다. 두 국가에 공통되는 국제법의 특징으로 가장 적절한 것은?

(가) 헌법과 헌법에 의하여 제정되는 연방 법률 및 연방에 의하여 체결된 조약은 국가의 최고법이다. 모든 주의 법관은 국가 최고법에 구속되며 각 주의 헌법 또는 법률 중에 배치되는 규정이 있어도 그것에 구속되지 않는다.

(나) 헌법에 의하여 체결·공포된 조약과 일반적으로 승인된 국제 법규는 국내법과 같은 효력을 갖는다. 지방 자치 단체는 법령의 범위 안에서 자치에 관한 규정을 제정할 수 있다.

- ① 자치 규정은 조약보다 우선적 효력을 갖는다.
- ② 국제법은 국내에서 헌법보다 하위의 규범이다.
- ③ 조약은 국회에서 입법 과정을 거쳐야 국내에 적용된다.
- ④ 각 주나 지방 자치 단체는 국제기구와 조약을 체결할 수 있다.
- ⑤ 국회의 동의를 얻어 체결된 조약은 위헌 심사의 대상이 되지 않는다.

문항에 따라 배점이 다르니, 각 물음의 끝에 표시된 배점을 참고하십시오. 3점 문항에만 점수가 표시되어 있습니다. 점수 표시가 없는 문항은 모두 2점씩입니다.

3-283-189

**1** 근대 정치 사상이 갑, 을에 관련된 설명으로 옳은 것은?

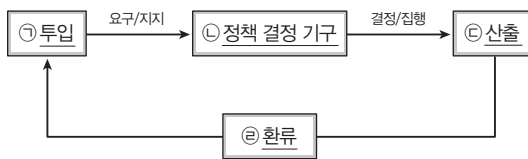
갑 : 자연 상태는 평등한 상태이지만 사적 소유로 인해 불평등과 부자유가 나타났다. 이런 문제점을 해결하기 위해 사람들은 국가를 만들고 일반 의지에 따라 국가를 운영한다.

을 : 자연 상태는 자유롭고 평화롭지만 질서를 유지하고 조정해 줄 권위체가 없다. 개인들이 스스로 옳다고 판단하고 행동하는 이런 상태의 불안정성을 해결하기 위해 개인들은 사회 계약을 맺어 국가를 만들었다.

- ① 갑은 대의 민주제를 가장 바람직한 정치 제도로 본다.
- ② 을은 국가 권력 남용 방지를 위해 삼권 분립이 이루어져야 한다고 보았다.
- ③ 갑과 달리 을은 구성원들의 저항권을 인정하지 않는다.
- ④ 을과 달리 갑은 주권이 군주에게 있다고 본다.
- ⑤ 갑, 을 모두 국가는 목적이 아니라 수단이라는 입장을 취하고 있다.

3-283-190

**2** 그림은 정치 과정을 표현한 것이다. 밑줄 친 ㉠~㉢에 대한 옳은 설명을 <보기>에서 고른 것은?



<보기>  
 가. 시민의 요구를 반영한 의회의 입법 과정은 ㉠에 해당한다.  
 나. 최근에는 ㉡에서 입법부보다 행정부의 역할이 강화되고 있다.  
 다. ㉢에서는 정당, 언론, 시민 단체 등이 중요한 역할을 한다.  
 라. 선거를 통해 정책을 평가하는 것은 ㉢의 대표적인 방법이다.

- ① 가, 나    ② 가, 다    ③ 나, 다    ④ 나, 라    ⑤ 다, 라

3-283-191

**3** 다음에 공통적으로 나타난 민주 정치의 원리에 대한 옳은 설명만을 <보기>에서 있는 대로 고른 것은?

- 국가가 국민의 자유와 권리를 제한하거나 국방, 납세와 같은 의무를 부과하기 위해서는 반드시 입법부가 제정한 법률에 근거하여야 한다.
- 독재 정치는 독재자 자신의 판단에 따라 마음대로 권력을 행사하는 것을 의미한다. 독재 정치를 막기 위해서는 국가를 헌법에 따라 구성하고 정부가 행사하는 모든 권력은 헌법에 그 근거를 두어야 한다.

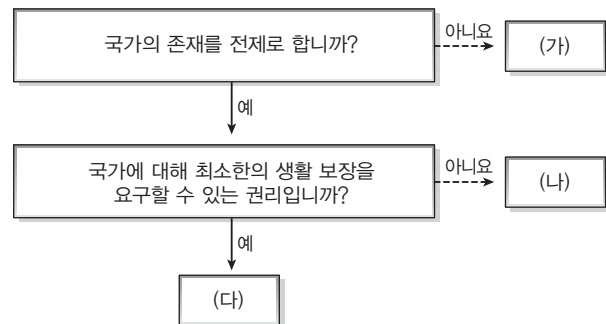
<보기>

- 가. 궁극적 목적은 인간의 존엄성과 기본권 보장이다.
- 나. 원리 구현 방안으로 보통 선거의 실시를 들 수 있다.
- 다. 국민이 자신을 스스로 지배한다는 이념을 지향하고 있다.
- 라. 민주주의 이념 실현을 위해서는 '사람에 의한 지배'를 벗어나야 함을 말하고 있다.

- ① 가, 다                      ② 가, 라                      ③ 나, 다
- ④ 가, 나, 라                ⑤ 나, 다, 라

3-283-192

**4** 그림의 (가)~(다) 기본권에 대한 설명으로 옳은 것은? (단, (가)~(다)는 각각 자유권, 사회권, 청구권 중 하나이다.) [3점]



- ① (가)는 능동적·적극적 성격을 가진다.
- ② (나)는 기본권 자체의 행사가 목적이다.
- ③ (다)는 헌법에 열거되지 않아도 포괄적으로 보장된다.
- ④ (가)는 (나), (다)와 달리 천부 인권적 성격을 가진다.
- ⑤ (가), (나), (다)가 충돌할 경우 (나)가 가장 먼저 보호된다.



3-283-193

5 정치 참여 집단 A~C에 대한 설명으로 가장 적절한 것은? (단, A~C는 각각 정당, 시민 단체, 이익 집단 중 하나이다.)

구분	A	B	C
정치적 책임을 집니까?	아니요	아니요	예
특수 이익을 추구합니까?	예	아니요	아니요
(가)	아니요	예	아니요

- ① A는 의회와 정부의 매개 역할을 한다.
- ② B는 공공 정책 과정에 공식적으로 참여한다.
- ③ A에 비해 B의 구성원의 자발적 참여도가 높은 편이다.
- ④ B와 달리 C는 정권 획득을 목적으로 한다.
- ⑤ (가)에는 '비영리성을 갖는가?'가 들어갈 수 있다.

3-283-194

6 표는 민주 국가의 전형적인 정부 형태 A, B를 구분한 것이다. 이에 대한 옳은 설명을 <보기>에서 고른 것은? [3점]

구분 기준	정부 형태	
	A	B
행정부 수반을 국민이 직접 선출합니까?	예	아니요
(가)	아니요	예
(나)	㉠	㉡

<보기>

- ㉠. A에서는 행정부 수반이 국가 원수의 직을 겸할 수 없다.
- ㉡. B에서는 의회 의원이 각료를 겸직할 수 있다.
- ㉢. (가)에는 '행정부 수반의 임기가 엄격히 보장되는가?'가 들어갈 수 있다.
- ㉣. (나)에 '행정부가 법률안을 제출할 수 있는가?'가 들어간다면, ㉠에는 '아니요', ㉡에는 '예'가 해당한다.

- ① ㉠, ㉡    ② ㉠, ㉢    ③ ㉡, ㉣
- ④ ㉠, ㉢, ㉣    ⑤ ㉡, ㉣, ㉣

[7~8] 표는 전형적인 정부 형태 중 하나를 가진 갑국 의회의 의원 선거에서 각 정당이 얻은 결과이다. 물음에 답하시오. (단, 의회는 지역구 의원으로만 구성된다.)

정당	구분	t대 의회		t+1대 의회	
		득표율(%)	의석수(석)	득표율(%)	의석수(석)
A당		48.5	108	43.7	103
B당		43.2	86	45.2	91
C당		4.8	4	7.5	5
D당		3.5	2	3.6	1

\* t대, t+1대 모두 행정부 수반은 B당 출신이다.

\*\* t대, t+1대 모두 선거구 수는 200개이다.

3-283-195

7 갑국의 의원 선거 제도 및 결과에 대한 설명으로 적절한 것은? [3점]

- ① 중·대선거구 제도를 채택하고 있음을 알 수 있다.
- ② 소수파의 의회 진출에 유리한 대표 결정 방식을 채택하고 있다.
- ③ t대보다 t+1대에서 A당의 의석률과 득표율의 격차가 크다.
- ④ t+1대에서 득표율에 비해 의석률이 가장 높은 것은 C당이다.
- ⑤ t대를 기준으로 한 t+1대의 정당별 의석수 변동률은 B당보다 D당이 작다.

3-283-196

8 갑국의 정치 제도 및 정치 상황에 대한 옳은 설명만을 <보기>에서 있는 대로 고른 것은? [3점]

<보기>

- ㉠. 행정부 수반은 법률안 거부권을 가진다.
- ㉡. 여소야대 상황이 되면 동거 정부가 될 수 있다.
- ㉢. 군소 정당 난립에 따른 정국 불안 우려가 큰 편이다.
- ㉣. 정치적 책임 소재가 명확한 정당 제도 유형이 나타난다.

- ① ㉠, ㉡    ② ㉠, ㉢    ③ ㉡, ㉣
- ④ ㉠, ㉢, ㉣    ⑤ ㉡, ㉣, ㉣



3-283-197

**9** 표는 (가)~(다) 사회의 정치 문화의 분포 비중을 나타낸 것이다. 이에 대한 설명으로 옳은 것은?

(단위: %)

정치 문화 유형	사회		
	(가)	(나)	(다)
향리형	20	15	60
신민형	70	15	25
참여형	10	70	15

- ① 전근대적 전통 사회에 가장 가까운 사회는 (가)이다.
- ② 정책 결정 과정에서 투입에 가장 적극적인 사회는 (나)이다.
- ③ (다)는 중앙 집권적 권위주의 사회에 가깝다.
- ④ (가)보다 (나)에서 합의적 여론이 나타나기 쉽다.
- ⑤ (나)와 달리 (다)에서는 시민들의 정치 참여가 나타나지 않는다.

3-283-198

**10** 다음 글의 A, B에 대한 설명으로 옳은 것은?

법치주의란 국가 권력 기관이 국민의 뜻인 법에 근거하여 구성되고 법에 따라 권력이 행사되어야 한다는 원리이다. 법치주의와 관련된 개념으로 A와 B가 있는데, 통치자를 비롯한 모든 사람이 법에 종속된다는 의미를 지닌다는 점에서 A가 더 법치주의의 진정한 의미에 가깝다고 볼 수 있다. 한편 B는 법을 통치자의 의사를 실현하는 도구로 보는 특징을 보여 주어 진정한 의미의 법치주의와는 거리가 있다.

- ① A는 합법적 독재를 정당화할 우려가 있다.
- ② B는 법 앞에서 만민이 평등함을 강조한다.
- ③ 절대 왕정 시대의 법치는 A보다 B에 가깝다.
- ④ B와 달리 A는 법률이 국민의 대표 기관인 의회에서 제정된다.
- ⑤ A, B 모두 법의 목적과 내용의 타당성을 강조한다.

3-283-199

**11** 밑줄 친 문제를 해결하기 위해 탐구해야 할 법적 내용으로 가장 적절한 것은?

갑(19세)은 최근 여자 친구와 헤어진 후에 괴로운 마음을 달래기 위해 친구들과 술자리를 같이 하였다. 술에 취한 상태에서 친구들과 헤어진 이후에 집으로 돌아가던 중 충동적으로 길거리를 걷어가던 행인을 주먹으로 때려 전치 6주의 상해를 가했다. 이 경우 갑은 행인이 입은 상처에 대해 배상 책임을 져야 하는가?

- ① 가해 행위의 법질서 위반 여부
- ② 권리 능력의 발생과 소멸 시기
- ③ 의사 능력 유무에 따른 법률 행위의 효과
- ④ 제한 능력자의 단독 법률 행위가 가능한 유형
- ⑤ 법정 대리인의 동의가 없는 경우의 법률 행위의 효과

3-283-200

**12** 다음 사례에 대한 법적 판단으로 옳은 것은? [3점]

음악 감상을 좋아하는 고등학생 갑(18세)은 기존에 사용하던 앰프가 고장이 나자 새로운 앰프를 구하던 중, 대형 전자 상가의 한 음향기기 대리점에서 30만 원짜리 앰프를 6개월 할부로 구입하기로 계약을 하였다. 계약 과정에서 대리점 주인은 갑이 미성년자임을 알았지만 이 정도는 얼마든지 혼자서 처리 가능하다는 갑의 말을 믿고 최종 계약을 맺었다. 이 사실을 알게 된 갑의 부모는 다음날 갑과 함께 해당 대리점을 방문하였다.

- ① 갑의 부모는 이 계약을 취소할 수 없다.
- ② 갑은 미성년자이므로 계약 행위 자체가 무효이다.
- ③ 갑은 부모의 동의 없이 이 계약을 취소할 수 있다.
- ④ 갑이 이 계약을 취소하려면 위약금을 지불하여야 한다.
- ⑤ 갑이 부모의 동의하에 결혼한 상태이더라도 이 계약은 무효이다.



3-283-201

13 다음 사례에 대한 법적 판단으로 옳은 것은? [3점]

프로 야구 선수로 활동하던 갑은 경기 도중 투수가 잘못 던진 공에 머리를 맞아 쓰러져 장기간에 걸쳐 사경을 헤매다가 간신히 목숨을 건졌다. 그러나 뇌에 크게 충격을 입어 정상적인 사회 생활을 할 수 있는 지적 능력에 지속적인 제약이 있다고 판단한 가족들은 갑을 피성년 후견인으로 신고해 달라는 심판을 법원에 청구하였고, 법원에서 그 청구가 받아들여졌다.

- ① 갑에게 자녀가 있을 경우 친권을 상실한다.
- ② 갑의 부모가 사망할 경우 갑은 상속인이 될 수 없다.
- ③ 갑이 단독으로 행한 법률 행위는 원칙적으로 무효이다.
- ④ 갑은 후견인의 대리에 의해 유효한 법률 행위를 할 수 있다.
- ⑤ 갑은 원칙적으로 온전한 법률 행위를 할 수 있지만, 법원이 정한 법률 행위는 후견인의 동의가 있어야 한다.

3-283-202

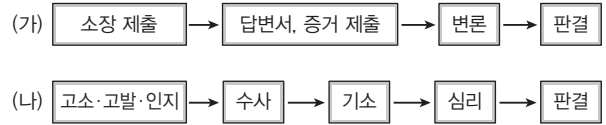
14 분쟁 해결 절차 ㉠에 대한 설명으로 옳은 것은? [3점]

정수기 제조업체인 A사는 자사의 정수기 성능에 대해 문제를 제기한 B 신문에 대해 보도 내용에 잘못이 있었음을 지적하고 그에 따른 정정 보도를 요청하였다. 그러나 B 신문사는 A사가 보도로 인해 피해를 입은 사실은 인정하지만, 공익적 목적으로 한 보도였고 자신들은 보도 내용 전체가 옳다고 믿을만한 이유가 있었기에 정정 보도를 할 이유가 없다며 A사의 요청을 거절하였다. 이에 A사는 언론 중재 위원회에 B 신문의 동의 없이 일방적으로 ㉠을/를 신청하였고, 언론 중재 위원회는 A사의 손을 들어 주었다.

- ① 분쟁 당사자들은 결정을 수용할 법적 의무가 있다.
- ② 개인 간의 다툼을 해결하는 가장 강력하고 확실한 절차이다.
- ③ 제3자의 개입 없는 당사자 간의 합의를 통한 자율적 해결 방식이다.
- ④ 개인 간의 다툼에 국가가 고유의 재판권에 근거하여 해결하는 절차이다.
- ⑤ 결정에 분쟁 당사자가 합의할 경우, 그 결정은 재판상 화해와 동일한 효력을 지닌다.

3-283-203

15 (가), (나)는 서로 다른 유형의 소송 절차를 나타낸 것이다. 이에 대한 설명으로 옳지 않은 것은? (단, (가), (나)는 각각 민사 소송, 형사 소송 중 하나이다.)



- ① (가)는 개인 간의 다툼을 해결하기 위한 소송 절차이다.
- ② (나)를 진행함에 있어서는 관습법을 적용하지 않는 것이 원칙이다.
- ③ (가)와 달리 (나)는 국민 참여 재판을 진행할 수 없다.
- ④ (나)의 원고는 (가)와 달리 검사이다.
- ⑤ 동일 사건에 대해 (가)와 (나)의 소송이 함께 진행될 수 있다.

3-283-204

16 다음 사례에 대한 옳은 법적 판단만을 <보기>에서 있는 대로 고른 것은?

○○고등법원이 지난 선거 때 SNS를 이용하여 주변의 친지들에게 선거에 대한 문자 메시지를 발송한 현직 언론인에 대한 검찰의 ㉠을/를 기각했다. ○○고등법원 형사 1부는 공직선거법 위반 혐의로 기소된 지역 신문의 대표에 대한 검찰의 ㉡에 대해, 해당 대표가 언론 기사나 지면을 통해 선거운동을 한 사실이 없으며, 단지 평소 친분이 있던 사람들에게 SNS를 이용해 선거 후보자에 대한 의견을 밝힌 것일 뿐이기에 법률에 저촉되지 않는다고 판결하였다.

- ○○뉴스, 2014. 12. 5. -

<보기>

- ㉠. ㉠에는 항소가 들어간다.
- ㉡. 위 사건은 원고가 승소한 사건이다.
- ㉢. 판결에 불복할 경우 원고는 상급 법원에 항고할 수 있다.
- ㉣. 위 사건의 제1심은 지방법원 및 그 지원의 합의부에서 담당하였다.

- ① ㉠, ㉡                      ② ㉠, ㉢                      ③ ㉡, ㉣
- ④ ㉠, ㉢, ㉣                ⑤ ㉡, ㉢, ㉣

3-283-205

17 다음 사례에 대한 법적 판단으로 옳은 것은? [3점]

갑(남)은 을(여)과 혼인의 의사를 가지고 5년 넘게 한집에 살고 있지만, 이혼한 전처 병과의 사이에 태어난 7세 정(여)의 반대로 혼인 신고를 하지 못하고 있었다. 어느 날 지방 출장을 갔던 갑은 교통사고로 인해 사망하였는데 정에게 모든 재산을 남긴다는 유언이 있었다. 갑의 재산은 5억 원이다.

- ① 갑의 재산은 정에게만 상속된다.
- ② 병과 정 의 상속 비율은 2:1이다.
- ③ 병은 재혼을 하지 않았다면 2억 원을 상속받는다.
- ④ 병이 재혼을 하였다면 을과 정이 재산을 상속받는다.
- ⑤ 유언의 효력이 있다면 을은 유류분을 청구할 수 있다.

3-283-206

18 다음 사례에 대한 옳은 법적 판단을 <보기>에서 고른 것은? [3점]

가구 공장을 운영하는 갑은 회사를 확장하면서 새로운 창고를 짓기 위해 토지를 매입한 후 ○○시에 건축 허가 신청을 하였다. 그러나 특별한 이유 없이 허가가 받아들여지지 않아서 토지 매입 비용 등 여러 가지 측면에서 피해를 입었다. 허가가 반려된 이유를 알아보는 과정에서 시청의 담당자가 경쟁 회사에서 금품을 제공받고 정당한 신청을 반려하였음을 알게 되었다. 이미 시간이 많이 흘러 건축 허가를 받는 것이 무의미하다고 판단한 갑은 [ ] ㉠ 을/를 이용하여 자신이 입은 피해를 구제받고자 한다.

<보기>  
가. ㉠에는 행정상 손해 배상 제도가 들어갈 수 있다.  
나. 갑은 정신적 피해에 대해서도 구제를 요청할 수 있다.  
다. ○○시 측이 갑의 피해를 전보(填補)해 주면 시청 담당자의 책임은 면제된다.  
러. 위 사례는 공공 영조물의 설치 및 관리의 하자로 인한 피해와 관련되어 있다.

- ① 가, 나    ② 가, 다    ③ 나, 다    ④ 나, 러    ⑤ 다, 러

3-283-207

19 그림은 부당 해고에 대한 구제 절차를 보여준다. 이에 대한 옳은 설명만을 <보기>에서 있는 대로 고른 것은? [3점]



<보기>  
가. ㉠의 자격은 노동조합에게 주어진다.  
나. ㉡, ㉢의 단계를 거쳐야만 ㉣의 제기가 가능하다.  
다. ㉢은 3심제를 원칙으로 한다.  
러. 이러한 구제 절차를 거치지 않고 민사 소송을 제기할 수도 있다.

- ① 가, 나    ② 가, 러    ③ 나, 다
- ④ 가, 다, 러    ⑤ 나, 다, 러

3-283-208

20 (가)~(다)의 국제법 법원에 대한 설명으로 옳은 것은?

(가) 국내 문제 불간섭, 외교관의 면책 특권  
(나) 신의 성실의 원칙, 권리 남용 금지의 원칙  
(다) 한·EU 자유 무역 협정, 한·미 상호 방위 협정

- ① (가)는 국회의 비준 동의를 얻어야만 국내에서 적용 가능하다.
- ② (나)는 국제법 체제의 불완전성을 보완하는 역할을 한다.
- ③ (다)와 관련된 국제 분쟁에 대해서는 국제 사법 재판소가 강제 관할권을 행사할 수 있다.
- ④ (가), (나)가 국내에서 효력을 가지려면 헌법에 의해 체결·공포되어야 한다.
- ⑤ (나), (다)는 국제 사회 전체에 대해 효력이 있는 규범이다.

문항에 따라 배점이 다르니, 각 물음의 끝에 표시된 배점을 참고하십시오. 3점 문항에만 점수가 표시되어 있습니다. 점수 표시가 없는 문항은 모두 2점씩입니다.

3-283-209

1 다음은 민주주의의 유형과 관련된 글이다. 이에 대한 설명으로 옳은 것은?

국민이 지배하는 방식은 민주 정치에서 A와 B로 나타났다. A는 치자와 피치자의 일체성이 극대화된 정치 형태이고, B는 국민이 선거를 통해서 선출한 대표자들이 국민을 대표하여 정치를 담당하는 정치 형태이다. B는 근대 이후 대부분의 국가에서 보편화되었다. 이러한 보편화는 (가)와 같은 상황에 기인한다.

- ① (가)에는 '국민의 정치적 무관심 증가'가 들어갈 수 있다.
- ② 정치 공동체의 규모가 커질수록 A를 실시하는 것이 용이해진다.
- ③ 국민 투표, 국민 발안, 국민 소환 제도는 우리나라에서 실시되는 A의 요소이다.
- ④ A보다 B에서 국민의 의사가 왜곡될 가능성이 높다.
- ⑤ A가 B보다 정책 결정의 효율성 및 전문성이 높다.

3-283-210

2 다음 근대 사회 계약론자 갑, 을에 대한 설명으로 옳은 것은? [3점]

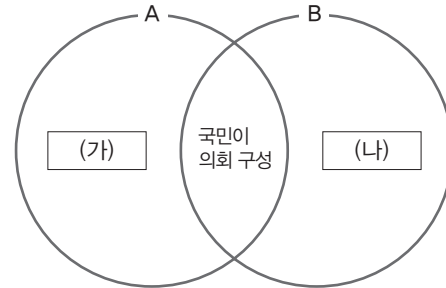
갑 : 인간은 천성적으로 악하며 이기적이다. 이에 따라 자연 상태에서는 필연적으로 '만인에 대한 만인의 투쟁'이 야기되며, 인간은 자연 상태에 대한 두려움과 평화를 바라는 마음에서 자발적인 계약에 의해 그의 자연권을 군주에게 양도하게 되었다.

을 : 자연 상태에서 인간은 원래 자유롭고 평화스러운 삶을 영위했다. 그러나 사유 재산이 축적되면서 한정된 토지와 자본에 대한 다툼이 발생하여 갈등이 증폭되었다. 이에 사람들은 자신의 소유물을 보호하기 위하여 계약에 의해 국가를 형성하였으며, 계약을 위반한 통치자에 대해서 국민은 저항할 수 있다.

- ① 갑은 국민이 일반 의지를 통하여 주권을 행사한다고 보았다.
- ② 을은 삼권 분립을 주장하였다.
- ③ 을은 국민 주권에 따른 직접 민주제를 주장하였다.
- ④ 을과 달리 갑은 절대 군주제를 옹호하였다.
- ⑤ 갑과 을은 모두 국가를 수단이 아니라 목적으로 보았다.

3-283-211

3 다음은 민주 국가의 전형적인 정부 형태 A, B의 특징을 분류한 것이다. (가), (나)에 들어갈 특징으로 옳지 않은 것은? [3점]



\* A는 행정부 수반이 의회에 의해 선출되는 정부 형태이다.

	(가)	(나)
①	의회 의원 각료 겸직 가능	독재 출현 우려 있음
②	행정부 법률안 제출 가능	행정부 수반 임기 보장
③	권력이 융합된 형태	엄격한 권력 분립
④	입법부, 행정부 간 협조 용이	여소야대 현상 발생 가능
⑤	국가 원수와 행정부 수반 동일	의회의 내각 불신임권 행사

3-283-212

4 (가)~(다)는 정치 참여 주체이다. 이에 대한 옳은 설명을 <보기>에서 고른 것은? (단, (가)~(다)는 각각 정당, 이익 집단, 시민 단체 중 하나이다.)

(가)	정치적 견해를 같이하는 사람들이 정치권력의 획득과 자신들의 정당을 실현하기 위하여 조직한 정치 단체
(나)	이해관계를 같이 하는 사람들이 공동의 이익을 실현하기 위해 정치 과정에 영향력을 행사하기 위해 만든 집단
(다)	공공선과 공익의 실현을 목적으로 시민들이 자발적으로 참여하여 구성한 단체

<보기>

- ㄱ. (가), (나)와 달리 (다)는 공익을 추구한다.
- ㄴ. (나), (다)와 달리 (가)는 공직 선거에 후보자를 추천한다.
- ㄷ. (다)와 달리 (나)는 정부에 대한 견제와 비판 기능을 한다.
- ㄹ. (가)~(다)는 모두 여론을 형성하고 조직하는 기능을 한다.

- ① ㄱ, ㄴ    ② ㄱ, ㄷ    ③ ㄴ, ㄷ    ④ ㄴ, ㄹ    ⑤ ㄷ, ㄹ

[5~6] 다음은 갑국의 선거 결과이다. 이를 보고 물음에 답하시오.

〈t+1기의 선거 결과〉

구분		A당	B당	C당	D당	E당	계
의석수 (석)	비례 대표	45	25	15	10	5	100
	지역구	75	55	35	20	15	200
득표율 (%)	지역구	35	30	20	10	5	100

〈t기와 t+1기의 결과 비교〉

구분	t기	t+1기
투표율(%)	70	70
A당 지역구 득표율(%)	30	35
A당 지역구 의석수(석)	60	75

\* t기, t+1기 공통으로 비례 대표는 정당별 득표율에 비례하여 의석을 배분하였으며, 지역 선거구 별로 선출되는 의원의 수는 모두 같다.

\*\* t기에 지역구 의석수는 t+1기와 같았으나 지역구 선거구의 수는 1/2이었다. t+1기의 지역구 선거구의 수는 지역구 의석수와 동일하다.

3-283-213

**5** 갑국의 선거 결과에 대한 옳은 분석을 <보기>에서 고른 것은? [3점]

〈보기〉

- ㄱ. t기에 비해 t+1기에 A당의 의회 의석률은 증가하였다.
- ㄴ. t+1기에 지역구 선거에서 B당, C당은 과소 대표되었다.
- ㄷ. t기에 비해 t+1기에 지역구 의원 선거에서 A당에 투표한 유권자의 수가 더 많다.
- ㄹ. t+1기에 D당은 비례 대표 의원 의석률과 지역구 의원 의석률이 일치한다.

- ① ㄱ, ㄴ    ② ㄱ, ㄷ    ③ ㄴ, ㄷ    ④ ㄴ, ㄹ    ⑤ ㄷ, ㄹ

3-283-214

**6** t기에 비해 t+1기의 지역구 선거구 제도의 특징으로 옳지 않은 것은?

- ① 선거 관리가 용이하다.
- ② 사표가 많이 발생한다.
- ③ 군소 정당의 원내 진출이 어렵다.
- ④ 유권자의 후보자 파악이 용이하다.
- ⑤ 지역적 인물의 당선 가능성이 낮다.

3-283-215

**7** 다음의 기본권 A, B에 대한 옳은 설명만을 <보기>에서 있는 대로 고른 것은?

금고형 이상의 형이 확정된 수형자와 집행 유예 기간 중인 자의 A를 제한한 공직선거법 조항은 헌법에 어긋난다는 헌법재판소의 결정이 내려졌다. 헌법재판소는 “공직선거법 해당 조항이 국민의 대표자를 뽑는 데 있어 범죄의 경중을 고려하지 않고 수형자와 집행 유예 기간 중인 자의 A를 전면적·획일적으로 제한하고 있어 침해의 최소성 원칙에 어긋난다.”며 “특히 집행 유예 기간 중인 자는 교정 시설에 구금되지 않고 일반인과 동일한 사회생활을 하고 있어 A를 제한할 필요성이 크지 않다.”고 밝혔다. 또 “A를 제한해 달성할 수 있는 법치주의 존중 의식 제고보다 집행 유예 기간 중인 자 및 수형자의 사익 또는 민주적 선거 제도의 공익적 가치가 더 크다.”며 “헌법상 보통 선거 원칙을 위반해 차별 취급하는 것으로 B도 침해한다.”고 보았다.

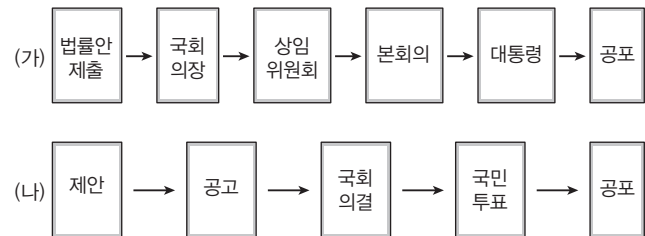
〈보기〉

- ㄱ. A는 원칙적으로 외국인에게는 인정되지 않는다.
- ㄴ. B는 인간의 존엄성을 보장하기 위한 본질적 기본권이다.
- ㄷ. B와 달리 A는 능동적 권리이다.
- ㄹ. B와 달리 A는 다른 기본권을 보장하기 위한 수단적 권리이다.

- ① ㄱ, ㄴ    ② ㄱ, ㄹ    ③ ㄷ, ㄹ  
④ ㄱ, ㄴ, ㄷ    ⑤ ㄴ, ㄷ, ㄹ

3-283-216

**8** 다음 (가), (나)는 각각 법률 제·개정 절차, 헌법 개정 절차이다. 이에 대한 설명으로 옳지 않은 것은? [3점]



- ① (가)의 ‘법률안 제출’은 국회의원 10인 이상의 찬성으로 가능하다.
- ② (나)의 ‘공고’와 ‘공포’는 대통령이 한다.
- ③ (나)의 ‘국민 투표’는 국회의원 선거권자 과반수 투표에 투표자 과반수 찬성이면 통과된다.
- ④ (가)의 ‘본회의’ 통과 의결 정족수와 (나)의 ‘제안’을 위한 국회의 의결 정족수는 같다.
- ⑤ (가)의 ‘본회의’에서 재의결할 경우보다 (나)의 ‘국회 의결’의 경우에 더 많은 재적 의원의 출석이 필요하다.



3-283-217

9 다음 사례에 대한 옳은 법적 분석만을 <보기>에서 있는 대로 고른 것은? [3점]

갑은 컬러프린터와 도화지를 이용해 5만 원권 지폐 15장을 복사해 이를 편의점과 식당 등에서 사용한 혐의로 기소되어 재판을 받던 중 「특정범죄 가중처벌 등에 관한 법률」(이하 '특가법') 제10조에 대해 위헌 법률 심판 제청 신청을 했으나 기각됐다. 이에 헌법 소원 심판을 청구했다. 또한 을은 노트북 컴퓨터와 복합기를 이용해 5만 원권 지폐 6장, 1만 원권 지폐 30장을 위조해 담배 등을 구입한 혐의로 기소되어 징역 2년 6개월을 선고 받고 항소했다. 항소심 계속 중 특가법 제10조에 대해 위헌 법률 심판 제청 신청을 했고 법원은 이를 받아들여 위헌 법률 심판 제청을 하였다. 갑의 청구와 법원의 제청에 대해 헌법재판소는 화폐 위조범 등에 대한 가중처벌을 규정한 특가법 제10조에 대해 위헌으로 결정했다.

<보기>

- ㄱ. 갑이 청구한 헌법 소원은 권리 구제형 헌법 소원에 해당한다.
- ㄴ. 갑과 을 모두 특가법 제10조 위반으로는 처벌받지 않을 것이다.
- ㄷ. 을의 항소심 법원은 특가법 제10조에 대해 위헌 여지가 있다고 판단하였을 것이다.
- ㄹ. 특가법 제10조에 대해 헌법재판소 재판관 중 6인 이상이 위헌이라고 판단하였을 것이다.

- ① ㄱ, ㄴ                      ② ㄱ, ㄹ                      ③ ㄷ, ㄹ
- ④ ㄱ, ㄴ, ㄷ                ⑤ ㄴ, ㄷ, ㄹ

3-283-218

10 다음은 법치주의에 대한 갑, 을의 주장이다. 이에 대한 설명으로 옳은 것은?

갑 : 법치주의는 국민의 대표 기관인 의회가 적법한 절차를 거쳐 법을 제정하고 그 법에 따라 통치가 이루어지기만 하면 됩니다. 법의 목적이나 내용은 중요하지 않습니다.

을 : 법치주의는 법의 지배 자체에 목적이 있는 것이 아니라 국민의 자유와 권리를 보장하는 데 목적이 있습니다. 따라서 법의 내용이나 목적이 정의에 부합하여 정당한 것이어야 합니다.

- ① 을은 법이 통치자의 의사를 실현하는 수단이라고 볼 것이다.
- ② 갑은 을과 달리 엄격한 권력 분립을 강조할 것이다.
- ③ 을은 갑과 달리 헌법 소원 제도를 불필요하다고 볼 것이다.
- ④ 을은 갑과 달리 형식적 합법성을 강조할 것이다.
- ⑤ 을은 갑과 달리 악법을 법으로 인정하지 않을 것이다.

3-283-219

11 다음 사례에 대한 옳은 법적 분석만을 <보기>에서 있는 대로 고른 것은? [3점]

양손에 짐을 잔뜩 들고 길을 건넌 갑은 호프집 간판과 연결된 전선에 발이 걸려 넘어져 얼굴을 그대로 길에 들이받아 전치 6주의 상해를 입었다. 이에 갑은 상가를 임차하여 장사를 하고 있는 호프집 사장 을을 상대로 소송을 제기하였고, ○○지방법원은 을이 전선을 바닥과 밀착되게 고정하거나, 보행자의 신체와 닿지 않도록 공중을 가로질러 설치하는 등 사고방지에 필요한 조치를 취하지 않았으므로, 통상 갖추어야 할 안전성을 갖추지 못한 하자가 있었다고 보아, 간판을 점유하고 있던 호프집 사장 을에게 배상 책임을 인정하였다. 다만, 재판부는 주의를 덜 기울였던 갑의 책임도 일부 인정했다. 그래서 ○○지방법원은 갑의 책임을 40%로 보고, 호프집 사장 을의 책임을 60%만 인정했다.

<보기>

- ㄱ. 손해 발생에 대한 인과 관계 증명은 갑이 하였을 것이다.
- ㄴ. ○○지방법원은 갑에게도 불법 행위 책임이 있다고 보았다.
- ㄷ. ○○지방법원은 을에게 특수 불법 행위 책임이 있다고 판단하였다.
- ㄹ. 을은 간판 전선 관리에 대한 주의 의무를 다했음을 입증하지 못했을 것이다.

- ① ㄱ, ㄴ                      ② ㄱ, ㄹ                      ③ ㄴ, ㄷ
- ④ ㄱ, ㄷ, ㄹ                ⑤ ㄴ, ㄷ, ㄹ

3-283-220

12 다음 두 사례에 대한 옳은 법적 분석을 <보기>에서 고른 것은?

- 갑이 자전거에 짐을 싣고 오르막길을 가고 있었고, 을은 맹견을 끌고 맞은편에서 도로를 따라 내려오고 있었는데 갑 자기 을의 맹견이 갑을 물어 전치 6주의 상해를 입혔다.
- 병의 음식점에서 일하는 정은 배달이 밀렸다는 병의 말에 급하게 오토바이를 운전하다가 길을 건너던 무를 치어 전치 4주의 상해를 입혔다.

<보기>

- ㄱ. 을과 정은 특수 불법 행위 책임을 질 수 있다.
- ㄴ. 병이 정의 선임 및 사무 감독에 상당한 주의를 하였음을 입증하면 병의 책임이 면제된다.
- ㄷ. 정과 달리 을은 무과실 책임을 진다.
- ㄹ. 무는 병 또는 정에게 손해 배상 책임을 물을 수 있다.

- ① ㄱ, ㄴ                      ② ㄱ, ㄷ                      ③ ㄴ, ㄷ                      ④ ㄴ, ㄹ                      ⑤ ㄷ, ㄹ

3-283-221

**13** 다음 갑~정의 법적 지위에 대한 설명으로 옳은 것은? [3점]

- 갑(18세)은 부모의 동의를 얻어 혼인한 후 혼인 신고까지 하였다.
- 을(30세)은 장애로 인한 정신적 제약으로 사무를 처리할 능력이 부족하여 한정 후견 개시 심판을 받았다.
- 병(40세)은 지속적으로 심신 상실의 상태에 있어 정상적인 의사 결정을 할 수 없다.
- 정(70세)은 노령으로 인한 정신적 제약으로 사무를 처리할 능력이 지속적으로 부족하다.

- ① 갑이 단독으로 한 법률 행위는 갑 또는 갑의 부모가 취소할 수 있다.
- ② 을은 원칙적으로 후견인의 동의를 얻어야 법률 행위를 할 수 있다.
- ③ 병이 단독으로 한 법률 행위의 효과는 무효이다.
- ④ 정은 원칙적으로 후견인의 대리를 통해 법률 행위를 할 수 있다.
- ⑤ 갑에 비해 을이 단독으로 할 수 있는 법률 행위의 범위가 더 넓다.

3-283-222

**14** 그림의 갑과 을의 법률 행위에 대한 옳은 법적 판단을 <보기>에서 고른 것은?



- <보기>
- ㄱ. 계약서에는 갑과 을의 권리와 의무에 대한 내용이 포함되어 있다.
  - ㄴ. (나)에서 공증을 받았다면 내용에 따라 재판 없이 권리 실행이 가능하다.
  - ㄷ. (라) 이후 을은 내용 증명 우편을 갑에게 보낸 후에야 민사 소송을 제기할 수 있다.
  - ㄹ. 갑과 을의 계약은 (가)~(라) 중 (나)에서 성립되었다.

- ① ㄱ, ㄴ    ② ㄱ, ㄷ    ③ ㄴ, ㄷ    ④ ㄴ, ㄹ    ⑤ ㄷ, ㄹ

**[15~16]** 다음 사례를 읽고 물음에 답하시오.

갑(13세)은 같은 동네에 사는 친한 형인 고등학생 을(17세)에게 부탁하여 같은 중학교에 다니나 평소 자신의 마음에 들지 않았던 동갑내기 병을 같이 폭행하자고 하였다. 이에 갑은 망을 보고 을이 병을 폭행하여 전치 4주의 상해를 입혔다. 병의 부모는 갑과 을의 부모를 상대로 손해 배상을 요구하였다. 그러나 갑의 부모는 갑이 직접 폭행에 가담하지 않았으므로 손해 배상을 할 수 없다고 하였고, 을의 부모 역시 갑의 부탁으로 폭행한 것이므로 책임이 없다고 하며 거절하였다. 이에 병의 부모는 ㉠ 민사 절차인 손해 배상 청구 소송을 제기하기로 하였고, ㉡ 형사 절차를 위해 갑과 을을 형사 고소하기로 하였다.

3-283-223

**15** 밑줄 친 ㉠과 관련한 옳은 법적 분석을 <보기>에서 고른 것은?

- <보기>
- ㄱ. 갑은 책임 능력 유무와 상관없이 불법 행위 책임을 지지 않을 것이다.
  - ㄴ. 갑에게 책임 능력이 있다면 갑의 부모는 불법 행위 책임을 지지 않을 것이다.
  - ㄷ. 을과 을의 부모는 일반 불법 행위 책임을 질 수 있다.
  - ㄹ. 병의 부모는 을의 부모에게만 손해 배상액 전부를 청구할 수도 있다.

- ① ㄱ, ㄴ    ② ㄱ, ㄷ    ③ ㄴ, ㄷ    ④ ㄴ, ㄹ    ⑤ ㄷ, ㄹ

3-283-224

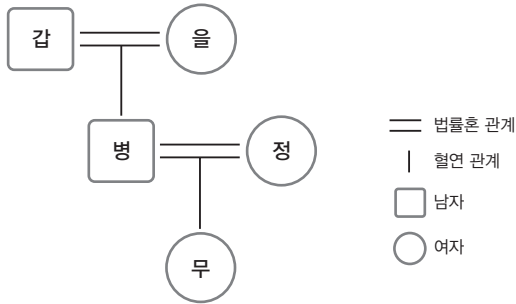
**16** 밑줄 친 ㉡과 관련한 법적 분석으로 옳지 않은 것은? [3점]

- ① 경찰서장은 갑을 가정법원 소년부로 송치할 수 있다.
- ② 검사가 을을 가정법원 소년부로 송치했다면 보호 처분을 받게 하기 위해서이다.
- ③ 갑과 달리 을은 형벌을 받을 수 있다.
- ④ 갑과 을이 보호 처분을 받는다면 전과로 기록되지는 않는다.
- ⑤ 검사는 갑과 을에게 선도 조건부 기소 유예 처분을 내릴 수 있다.



3-283-225

17 다음 사례의 상속 문제에 대한 분석으로 옳지 않은 것은? (단, 주어진 조건 외에는 고려하지 않는다.) [3점]



\* 갑의 재산은 10억 원, 병의 재산은 10억 원, 무의 재산은 8억 원이며, 유언은 없다.

- ① 갑이 사망하면, 병은 5억 원을 상속받는다.
- ② 병이 사망하면, 갑은 상속받지 못한다.
- ③ 무가 사망하면, 정은 4억 원을 상속받는다.
- ④ 동일한 사고에서 병이 사망한 후 무가 사망했다면, 갑과 을은 상속받지 못한다.
- ⑤ 동일한 사고에서 무가 사망한 후 병이 사망했다면, 정은 10억 원을 상속받는다.

3-283-226

18 다음 신문 기사를 보고 밑줄 친 '문제점'에 해당되지 않은 진술을 한 학생을 고른 것은?

□□신문

A국에서 행정부의 주도로 ○○법을 제정하였는데, 주요 조항에 여러 가지 문제점을 가진 것으로 평가가 되고 있다. 주된 내용은 다음과 같다.

제1조 법률은 헌법에서 규정하고 있는 절차 외에 정부에 의해서도 제정될 수 있다.

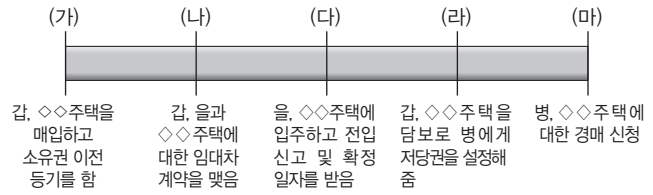
제2조 정부에 의해서 제정된 법률은 연방의회 제도에 영향을 미치는 것이 아니면 헌법과 다른 규정을 둘 수 있다.

... (이하 생략) ...

- ① 갑 - 권력 분립의 원칙이 훼손되겠군.
- ② 을 - '법에 의한 지배'가 이루어질 수 있겠군.
- ③ 병 - 통치권을 강화하기 위한 수단으로 악용되겠군.
- ④ 정 - 정치권력의 행사가 합법성을 갖추지 못하겠군.
- ⑤ 무 - 헌법이 최고 규범으로서의 역할을 하기 어렵겠군.

3-283-227

19 다음은 ◇◇주택에 대한 권리 변동을 순서대로 나타낸 것이다. 이에 대한 설명으로 옳지 않은 것은?



- ① (나)에서 임대차 기간을 1년으로 하였더라도 을은 2년을 거주할 수 있다.
- ② 을이 대항력을 갖게 되는 시점은 (다)이다.
- ③ (마)에서 을은 병보다 선순위로 보증금을 회수할 수 있다.
- ④ (가)에서는 등기부 갑구, (라)에서는 등기부 을구의 내용이 변경된다.
- ⑤ (다)에서 을이 확정일자를 받지 않고 (마)가 되었을 경우에는 보증금을 돌려받을 수 없다.

3-283-228

20 다음 사례에 대한 옳은 법적 분석을 <보기>에서 고른 것은? [3점]

○○고등법원은 카지노 업체에 다니던 갑이 중앙 노동 위원회를 상대로 낸 부당 해고 구제 재심 판정 취소 소송에서 원고 승소 판결한 1심을 깨고 원고 패소 판결했다고 밝혔다.

○○고등법원은 카지노 업체의 경우 안전하고 투명한 자금 관리의 필요성이 높은 만큼 갑에 대한 해고 처분이 지나치지 않다고 판단했다. 갑은 지난해 중국인 VIP고객에게 담보 설정 없이 5억 원을 제공했다. 그러나 중국인이 이 중 일부만 갚고 나머지는 상환하지 않았다. 카지노 업체는 담보 설정 없이 5억 원을 제공하여 회사에 손해를 입힌 것은 회사 내부 업무 처리 원칙을 위반한 행위라며 갑을 해고하였다. 이에 갑은 부당해고라며 이의 제기를 하였던 것이다.

<보기>

- ㄱ. ○○고등법원에 항소한 당사자는 갑일 것이다.
- ㄴ. ○○고등법원에서 이루어진 소송은 행정 소송이다.
- ㄷ. 갑의 패소로 인해 갑에 대한 해고는 정당한 것으로 확정된다.
- ㄹ. 중앙 노동 위원회는 갑에 대한 해고를 부당 해고가 아니라고 판단하였을 것이다.

- ① ㄱ, ㄴ    ② ㄱ, ㄷ    ③ ㄴ, ㄷ    ④ ㄴ, ㄹ    ⑤ ㄷ, ㄹ



문항에 따라 배점이 다르니, 각 물음의 끝에 표시된 배점을 참고하십시오. 3점 문항에만 점수가 표시되어 있습니다. 점수 표시가 없는 문항은 모두 2점씩입니다.

3-283-229

1 그림에 제시된 교사의 설명 중 밑줄 친 부분에 해당하는 내용으로 옳지 않은 것은?



- ① 정부는 법률안을 제출할 수 있다.
- ② 국회는 대통령 불신임권을 갖고 있다.
- ③ 국회의원은 국무 위원을 겸직할 수 있다.
- ④ 국회는 국무총리 해임 건의권을 갖고 있다.
- ⑤ 대통령은 임시 국회 소집을 요구할 수 있다.

3-283-230

2 정치사상 (가), (나)에 대한 설명으로 옳지 않은 것은? [3점]

(가) 자연 상태에서 개인들은 항상 공포와 두려움, 불신과 전쟁의 위험 속에 있다. 결국 개인들은 만인에 대한 만인의 투쟁 상태에서 벗어나 안전을 보장받기 위해 국가를 수립하게 된 것이다.

(나) 자연 상태에서 개인들은 대체로 이성의 법칙에 따라 행동하나 종종 타인의 권리를 침해하는 사람이 나타나기도 한다. 결국 개인들은 생명, 자유, 재산 등을 더 확실하게 보장받기 위해 자연권의 일부를 국가에 위임하게 된 것이다.

- ① (가)는 왕권신수설을 뒷받침하였다.
- ② (나)는 시민들의 저항권을 인정하였다.
- ③ (나)는 간접 민주제 형태를 지향하였다.
- ④ (가)는 (나)와 달리 군주의 절대 권력을 옹호하였다.
- ⑤ (가), (나) 모두 국가 권력의 기원을 사회 계약에 두고 있다.

3-283-231

3 법치주의의 유형 ㉠, ㉡에 대한 설명으로 옳은 것은?

㉠은/는 적절한 권한을 가진 기관이나 담당자에 의한 법 제정, 법의 명확성, 제정된 법의 소급 적용 금지와 같은 요건들을 주된 요소로 다룬다. ㉡은/는 이러한 요건들을 충족하는 한, 좋은 법이나 나쁜 법이나에 관심을 두지 않는다. 그러나 ㉡은/는 앞서 말한 요건들을 고려하면서도 일정한 실질적 권리들이나 정의 또는 도덕적 원리들이 법치의 기반을 이룬다고 본다.

- ① ㉠은 법의 내용을 중시한다.
- ② ㉡은 법의 목적보다 형식을 더 중시한다.
- ③ ㉠은 ㉡과 달리 통치의 합법성만을 강조한다.
- ④ ㉡은 ㉠과 달리 통치의 정당성만을 강조한다.
- ⑤ ㉠, ㉡ 모두 '법에 의한 지배'를 추구한다.

3-283-232

4 자료에 대한 분석 및 추론으로 옳은 것은? [3점]

전형적인 정부 형태를 지닌 갑국은 총 20명의 의회 의원 중 지역 대표 10명은 중선거구제로, 비례 대표 10명은 각 정당의 지역구 의석률에 따라 각 정당에 배분하여 선출한다. 단, 갑국 각 선거구의 당선자 수는 동일하고, 각 정당은 선거구당 1명씩만 공천한다.

〈갑국 의회 의원 선거 정당별 득표율〉 (단위: %)

선거구 정당	제1 선거구	제2 선거구	제3 선거구	제4 선거구	제5 선거구	평균 득표율
A당	10	50	20	50	20	30
B당	10	10	10	10	10	10
C당	20	10	30	10	30	20
D당	60	30	40	30	40	40

- ① 대통령제 국가라면 여대야소 정국이 나타난다.
- ② 의원 내각제 국가라면 선거 후 단독 정부가 구성된다.
- ③ A~D당이 모두 최소한 1석 이상의 의회 의석을 차지하였다.
- ④ 평균 득표율과 비교할 때 지역구 선거에서 A당은 과소 대표, D당은 과대 대표되었다.
- ⑤ 평균 득표율에 따라 비례 대표를 배분하면 이익을 보는 정당이 손해를 보는 정당보다 더 많다.



3-283-233

5 밑줄 친 ㉠~㉣에 대한 설명으로 옳지 않은 것은?

〈군인복지기본법 일부 개정 일지 요약〉

2013. 9. 6. ㉠ 정부의 법률안 제출  
 2014. 4. 30. ㉡ 국방위원회 심사  
 2014. 7. 8. 법제 사법위원회 체계·자구 심사  
 2014. 9. 30. 본회의 ㉢ 의결  
 2014. 10. 2. ㉣ 정부 이송  
 2014. 10. 15. ㉤ 공포

- ① ㉠은 국무 회의의 심의를 거쳐야 한다.
- ② ㉡은 법률안 심사의 효율적 진행을 위한 기구이다.
- ③ ㉢은 국회 재적 의원 과반수의 찬성으로 이루어진다.
- ④ ㉣이 된 법률안에 이의가 있으면 대통령은 국회에 재의를 요구할 수 있다.
- ⑤ ㉤은 ㉣이 된 날로부터 15일 이내에 대통령이 한다.

3-283-234

6 자료의 국제 연합 주요 기구 ㉠에 대한 옳은 설명을 <보기>에서 고른 것은?

칠레와 페루 양국이 고부가가치 자원을 둘러싸고 벌인 전쟁 이후, 오랜 기간 동안 마찰을 빚어 왔던 태평양 연안 해상 국경 문제가 ㉠의 판결로 일단락되었다. 해당 수역은 스위스 영토만한 크기인데, 이번 판결로 페루는 절반 이상의 큰 면적을 차지하게 되었고 칠레는 면적은 작으나 어업 자원이 풍족한 곳을 갖게 되었다.

〈보기〉

ㄱ. ㉠은 분쟁 당사국이 판결에 불복하면 직접 제재 조치를 취할 수 있다.  
 ㄴ. 국가 외에 다국적 기업도 분쟁 해결을 위해 ㉠에 재판을 신청할 수 있다.  
 ㄷ. ㉠은 기본적으로 분쟁 당사국 간의 합의가 있어야 사건에 대해 관할권을 갖게 된다.  
 ㄹ. ㉠은 국제법을 적용하여 국가 간의 분쟁을 해결하는 국제 연합의 사법 기관이다.

- ① ㄱ, ㄴ    ② ㄱ, ㄷ    ③ ㄴ, ㄷ    ④ ㄴ, ㄹ    ⑤ ㄷ, ㄹ

3-283-235

7 다음 글의 견해에 부합하는 문제 해결 방안을 <보기>에서 고른 것은? [3점]

일반적으로 정치 참여에 있어서 빈곤 계층은 상류 계층에 비하여 상대적으로 소외되어 있다. 어느 한 계층이 정치 참여 과정을 지배하게 되면 일부 계층의 이익만 강화될 것이므로, 정치 참여는 일부 계층의 전유물이 되어서는 안 되며 모든 시민과 계층을 망라하여 대표성과 포괄성이 확보되어야 한다.

〈보기〉

ㄱ. 개인의 정치 참여 비용 절감 및 보전 방안을 마련해야 한다.  
 ㄴ. 사익과 공익을 조화시키는 정치 참여를 위한 교육이 필요하다.  
 ㄷ. 빈곤 계층의 정치 참여 의지를 높이려는 정책적 노력이 필요하다.  
 ㄹ. 사회적 혼란 방지를 위해 시민들이 과도한 정치 참여를 자제해야 한다.

- ① ㄱ, ㄴ    ② ㄱ, ㄷ    ③ ㄴ, ㄷ    ④ ㄴ, ㄹ    ⑤ ㄷ, ㄹ

3-283-236

8 기본권 (가), (나)에 대한 옳은 설명을 <보기>에서 고른 것은? [3점]

구분	헌법 조항
(가)	제12조 ② 모든 국민은 고문을 받지 아니하며, 형사상 자기에게 불리한 진술을 강요당하지 아니한다. 제21조 ② 언론·출판에 대한 허가나 검열과 집회·결사에 대한 허가는 인정되지 아니한다.
(나)	제27조 ① 모든 국민은 헌법과 법률이 정한 법관에 의하여 법률에 의한 재판을 받을 권리를 가진다. 제30조 타인의 범죄 행위로 인하여 생명·신체에 대한 피해를 받은 국민은 법률이 정하는 바에 의하여 국가로부터 구조를 받을 수 있다.

〈보기〉

ㄱ. (가)는 국가 권력에 대해 방어적 성격을 갖는다.  
 ㄴ. (나)는 다른 기본권 보장을 위한 수단적 성격을 갖는다.  
 ㄷ. (가)는 (나)와 달리 국가의 적극적 행위를 요구할 수 있는 권리이다.  
 ㄹ. (가), (나) 모두 독일의 바이마르 헌법에서 처음으로 규정되었다.

- ① ㄱ, ㄴ    ② ㄱ, ㄷ    ③ ㄴ, ㄷ    ④ ㄴ, ㄹ    ⑤ ㄷ, ㄹ

3-283-237

9 다음 기사에서 강조하고 있는 민법의 기본 원리로 가장 적절한 것은? [3점]

□□신문      2000년 00월 00일

‘갑의 횡포’란 권력의 우위에 있는 갑이 권리 관계에서 약자인 을에게 하는 부당 행위를 통칭하는 개념이다. 지난해는 갑의 횡포가 횡행했던 시기로서, 어느 케이블TV가 방송한 드라마가 비정규직의 애환을 그리면서 갑의 횡포 논란에 부채질을 했다. 갑의 횡포 사례로는 영업 사원에게 재고를 떠넘기는 것, 대기업이 중소기업에 비용을 떠넘기는 것 등을 들 수 있다. 올해에는 사회 갈등을 부추기는 갑의 횡포가 사라지고 갑과 을이 상생하는 사회가 되기를 기대해 본다.

- ① 계약 공정의 원칙
- ② 과실 책임의 원칙
- ③ 계약 자유의 원칙
- ④ 무과실 책임의 원칙
- ⑤ 사유 재산권 존중의 원칙

3-283-238

10 다음 글 내용에 부합하는 우리 헌법의 기본 원리가 담긴 헌법 조항으로 옳은 것은?

근대 사회 후반기의 사회적·경제적 문제 상황은 자유주의가 갖는 한계를 보여주었다. 빈부 격차가 심화되었고 자본주의의 기반인 시장 경제 원리가 제대로 작동하지 못하는 경우도 나타났다. 이에 따라 실질적 평등 개념이 대두되었고 경제 영역에서는 시장 기능 회복을 위해 자유에 대한 일정한 제한과 규제가 요구되었다.

- ① 외국인은 국제법과 조약이 정하는 바에 의하여 그 지위가 보장된다.(제6조 ②)
- ② 정당의 설립은 자유이며, 복수 정당제는 보장된다.(제8조 ①)
- ③ 모든 국민은 통신의 비밀을 침해받지 아니한다.(제18조)
- ④ 모든 국민은 법률이 정하는 바에 의하여 선거권을 가진다. (제24조)
- ⑤ 모든 국민은 인간다운 생활을 할 권리를 가진다.(제34조 ①)

3-283-239

11 우리나라 헌법 기관 A, B에 대한 설명으로 옳지 않은 것은?

헌법 제87조 ① 국무 위원은 A의 제청으로 B가 임명한다.  
 헌법 제88조 ③ B는 국무 회의의 의장이 되고, A는 부의장이 된다.

- ① B의 임기는 5년이며 중임할 수 없다.
- ② A는 국회의 동의를 얻어 B가 임명한다.
- ③ A는 B의 동의를 얻어 헌법 개정안을 발의할 수 있다.
- ④ B의 국법상 행위는 문서로써 하며 A와 관계 국무 위원이 부서한다.
- ⑤ A, B는 모두 법률의 위임에 따라 명령을 발할 수 있다.

3-283-240

12 다음은 근로 계약서의 일부이다. 이에 대한 법적 판단으로 옳은 것은? [3점]

근로 계약서

사업주 갑과 근로자 을(17세)은 다음과 같이 근로 계약을 체결한다.

1. 근로 계약 기간 : 2015년 1월 1일~2015년 12월 31일  
 ...(중략)...

4. 근로 시간 : 오전 10시~오후 6시 (휴게 시간 : 오후 1시~2시)

5. 근무일 / 휴일 : 매주 월~금요일 / 토~일요일

6. 임금 : 시간당 5,500원

\* 단, 2015년 최저 임금은 시간당 5,580원임

- ① 을은 취업 동의를 제출할 필요가 없다.
- ② 을의 근로 시간은 근로기준법에 위반된다.
- ③ 을의 법정 대리인이 대리해서 이 계약을 체결할 수 없다.
- ④ 을은 임금을 청구할 때 법정 대리인의 동의를 받아야 한다.
- ⑤ 을은 최저 임금이 적용되지 않는 연령이므로 계약서의 임금은 유효하다.



3-283-241

13 다음 자료에 대한 법적 판단으로 옳은 것은?

2014년 5월 22일	갑은 을로부터 2014년 11월 30일까지 갚기로 하고 5천만 원을 빌리면서 ㉠ 차용증을 써 줌
2014년 12월 30일	갑이 빌린 돈을 갚을 기한이 한 달이나 지났음에도 연락이 없자, 을은 갑에게 5천만 원에 대한 채무의 이행을 요구하는 ㉡ 내용 증명 우편을 발송함
2015년 8월 28일	을이 갑을 상대로 5천만 원에 대한 채무의 이행을 요구하는 ㉢ 소송을 제기함

- ① ㉠은 공증을 받지 않았다면 소송에서 증거로 쓰일 수 없다.
- ② ㉡에 따라 을에게는 채권, 갑에게는 채무가 발생한다.
- ③ 을은 ㉢으로 소액 사건 심판을 청구할 수 있다.
- ④ ㉢은 특수 불법 행위에 따른 손해 배상 청구 소송이다.
- ⑤ 을은 ㉢을 준비하면서 갑의 재산에 대해 가압류 신청을 할 수 있다.

3-283-242

14 다음 사례에 대한 옳은 법적 판단을 <보기>에서 고른 것은? (단, 현재 A, B 주택에는 다른 권리 관계가 없다.) [3점]

갑은 A 주택의 소유자인 병과, 을은 B 주택의 소유자인 정과 2년의 임대차 계약을 체결하고 잔금을 모두 지급하였으며, 현재 각각 임차한 A, B 주택에 입주하여 살고 있다. 갑은 입주한 후 주민 센터에서 전입신고를 하고 임대차 계약서에 확정일자도 받아 놓은 상태이지만, 을은 입주한 후 전입신고는 하였으나 개인 사정으로 임대차 계약서에 확정일자를 받아 놓지 못한 상태이다.

<보기>

- ㄱ. 갑은 확정일자를 받은 이후 A 주택에 저당권이 설정되더라도 A 주택이 경매된 경우 그 채권자보다 우선하여 보증금을 변제받을 권리를 갖는다.
- ㄴ. 을은 B 주택의 매매 등으로 임대인이 바뀌더라도 남은 임대차 기간 동안 계속 거주할 권리를 갖는다.
- ㄷ. 을은 갑과 달리 주민 등록을 완료하지 못하여 대항력을 갖지 못한다.
- ㄹ. 갑, 을 모두 임대차 기간을 정하지 않았다면 2년의 임대차 기간을 보장받지 못한다.

- ① ㄱ, ㄴ    ② ㄱ, ㄷ    ③ ㄴ, ㄷ    ④ ㄴ, ㄹ    ⑤ ㄷ, ㄹ

3-283-243

15 행정 구제 제도 ㉠, ㉡에 대한 설명으로 옳은 것은?

행정상 법률관계에 다툼이 있는 경우 ㉠은/는 행정 조직 내부에서 행정청 자신에 의해 국민의 권리와 이익의 구제를 도모함과 아울러, 행정의 자율적 반성과 그 적절한 운영을 확보하는 것을 목적으로 한다. 이에 비해, ㉡은/는 법원에 의한 정식 소송 절차에 의하여 국민의 권리 구제를 도모함으로써 참다운 법치주의를 실현하려는 데 그 목적이 있다. ㉠은/는 ㉡에 비해 간편함과 신속성이, ㉡은/는 ㉠에 비해 공정성과 신중성이 보장된다는 장점이 있다.

- ① ㉠은 ㉡과 달리 행정 민원에 해당한다.
- ② ㉡은 ㉠을 거치지 않고 제기할 수 있다.
- ③ ㉠은 사전적, ㉡은 사후적 구제 수단이다.
- ④ ㉠, ㉡ 모두 위법한 직무 행위에 따른 손해를 배상하는 제도에 속한다.
- ⑤ ㉠, ㉡ 모두 사법 국가주의를 구현하는 제도이다.

3-283-244

16 다음은 1심 판결문의 일부이다. 이에 대한 법적 판단으로 옳은 것은? (단, 판결에 대해 갑과 을은 항소를 포기하였다.) [3점]

○○지방법원  
... (중략) ...

피고인 : 갑  
검사 : 을  
... (중략) ...

주문  
피고인을 징역 6월에 처한다.  
이 판결 선고 전 구금 일수 25일을 위 형에 산입한다.  
다만, 이 판결 확정일로부터 1년 간 위 형의 집행을 유예한다.

- ① 갑은 판결에 따라 신분이 피고인에서 피의자로 바뀐다.
- ② 갑은 구속되었던 기간에 대한 형사 보상을 청구할 수 없다.
- ③ 갑은 집행 유예 기간 동안 다시 범죄를 저지르지 않으면 무죄가 확정된다.
- ④ 갑은 다시 범죄를 저지르지 않은 채 집행 유예 기간이 끝나면 가석방될 수 있다.
- ⑤ 을과 달리 재판부는 갑이 무죄라고 보았다.

3-283-245

**17** 자료에 대한 설명으로 옳지 않은 것은? (단, (가)~(다)는 각각 정당, 이익 집단, 시민 단체 중 하나이다.) [3점]

질문	정치 참여 집단	(가)	(나)	(다)
공익을 추구합니까?		예	( ㉠ )	( ㉡ )
( A )		아니요	예	아니요

- ① ㉡이 '아니요'이면 시민 단체는 (가), (나) 중 하나이다.
- ② A에는 '정치 과정에 영향력을 행사합니까?'가 들어갈 수 없다.
- ③ A가 '정권 획득을 추구합니까?'이면 ㉡에 '아니요'가 들어간다.
- ④ (다)가 시민 단체이면 A에 '선거에 공천을 합니까?'가 들어갈 수 없다.
- ⑤ ㉠이 '예'이면 A에 '집단 구성원의 이해관계를 중시합니까?'가 들어갈 수 있다.

3-283-246

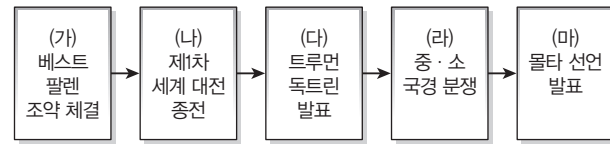
**18** 다음 상황에 대한 법적 판단으로 옳은 것은? [3점]

아직 일이 끝나지 않아 바빴던 갑은 약속 시간보다 일찍 찾아온 친구 을에게 자신의 승용차를 맡기며 늘 다니던 동네 주유소에 가서 주유를 해 달라고 부탁하였다. 주유를 마치고 온 을과 함께 친구 모임에 참석하려고 출발하는 순간 평소와 달리 자동차 소음이 심하고 엔진이 이상하다는 느낌을 받았다. 혹시나 하는 마음에 주유소로 가서 자초지종을 들어본 갑은 망연자실하였다. 주유소 직원 병이 휘발유를 가득 채웠는데 문제는 갑의 승용차가 경유차라는 데 있었다. 친구 을이 그냥 주유를 요청하자 경험이 부족했던 병이 휘발유차인 줄만 알고 주유를 한 것이다. 주유소 사장인 정은 갑에게 연신 사과를 해댔다.

- ① 을은 공작물 점유자로서 특수 불법 행위에 따른 배상 책임을 진다.
- ② 병에게 형사 책임이 인정되지 않으면 병은 손해 배상 책임을 지지 않는다.
- ③ 병의 불법 행위에 대하여 정은 사용자로서 무과실 책임을 진다.
- ④ 정은 특수 불법 행위에 의한 배상 책임이 인정되더라도 병은 일반 불법 행위에 따른 배상 책임을 진다.
- ⑤ 병에게 고의가 없으면 정은 병의 행위에 대하여 특수 불법 행위에 의한 배상 책임을 지지 않는다.

3-283-247

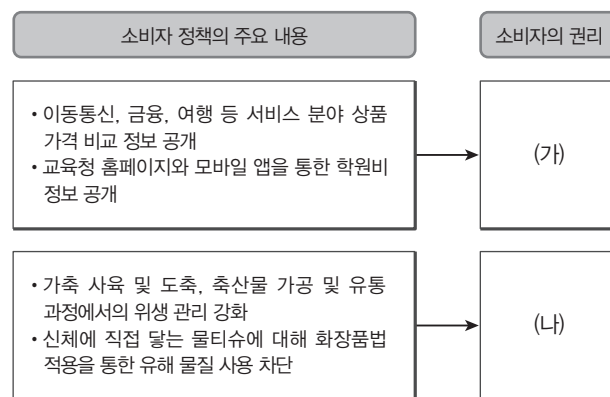
**19** 그림은 국제 사회 변천 과정의 주요 역사적 사건을 나타낸 것이다. 이에 대한 설명으로 옳은 것은?



- ① (가)로 인해 유럽 사회에서 주권 국가의 위상이 약화되었다.
- ② (나) 직후 유럽 강대국 간의 식민지 확보 경쟁이 시작되었다.
- ③ (다)는 이념 대결을 중심으로 한 냉전 체제 성립에 영향을 끼쳤다.
- ④ (라)는 공산권을 다원화시켜 국제 사회의 양극화를 초래하였다.
- ⑤ (마)는 자유 진영과 공산 진영 간의 화해 분위기를 무너뜨렸다.

3-283-248

**20** 다음의 소비자 정책을 통해 보호하고자 하는 소비자의 권리 (가), (나)로 가장 적절한 것은?



	(가)	(나)
①	알 권리	안전할 권리
②	안전할 권리	의견을 반영할 권리
③	교육을 받을 권리	피해를 보상받을 권리
④	의견을 반영할 권리	교육을 받을 권리
⑤	피해를 보상받을 권리	선택할 권리

문항에 따라 배점이 다르니, 각 물음의 끝에 표시된 배점을 참고하십시오. 3점 문항에만 점수가 표시되어 있습니다. 점수 표시가 없는 문항은 모두 2점씩입니다.

3-283-249

**1** 표는 민주주의 유형을 구분한 것이다. (가), (나)에 대한 설명으로 옳은 것은?

민주주의 유형	방식
(가)	국민의 의사가 대표자를 거치지 않고 정책으로 만들어짐
(나)	국민의 의사가 대표자를 통해 정책으로 만들어짐

- ① (가)보다 (나)에서 중우 정치 발생 가능성이 높을 것이다.
- ② (가)보다 (나)에서 국민의 의사와 정책이 일치할 가능성이 높을 것이다.
- ③ (나)보다 (가)에서 정책 결정의 전문성이 높을 것이다.
- ④ (나)보다 (가)에서 민의의 왜곡 가능성이 높을 것이다.
- ⑤ (가)와 (나)는 모두 국민 자치의 원리를 실현하기 위한 수단이다.

3-283-250

**2** 전형적인 정부 형태 A, B에 대한 옳은 설명을 <보기>에서 고른 것은?

A는 집행 권력과 입법 권력이 모두 국민의 선택으로 구성된다. 입법 권력만 국민이 선택하는 B와 달리 A에서는 두 개의 권력이 모두 국민으로부터 권력을 위임받았다고 주장하며 대립하는 상황이 발생할 수 있다. 두 개의 권력이 대립할 때 해결 방법을 가지고 있는 B와는 달리 A에서는 두 세력이 모두 민주적 정통성을 주장하며 대립할 경우 이를 해결할 방법을 찾기는 쉽지 않다.

<보기>

- ㄱ. A는 행정부 수반의 임기가 보장되지 않아 정책의 연속성을 확보하기 어렵다.
- ㄴ. B의 의회는 내각에 불신임권을 행사할 수 있다.
- ㄷ. A는 B에 비해 견제와 균형의 원리에 충실하다.
- ㄹ. B는 A와 달리 각료의 의회 의원직을 겸임할 수 없다.

- ① ㄱ, ㄴ    ② ㄱ, ㄷ    ③ ㄴ, ㄷ    ④ ㄴ, ㄹ    ⑤ ㄷ, ㄹ

3-283-251

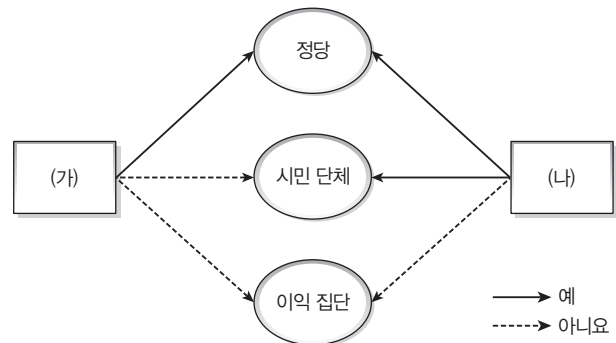
**3** 다음은 대표적인 근대 정치 사상이 갑~병의 가상 대화이다. 이들의 주장에 대한 설명으로 옳은 것은? [3점]

갑 : 저는 자연 상태의 인간은 자연법에 따라 자유롭고 평화롭게 생활하지만 분쟁이 발생하는 경우 자연권이 침해될 수 있다고 생각합니다.  
 을 : 저는 국가는 일반 의지에 의해 형성되어야 하며, 일반 의지에 의해 형성된 국가는 보편적 가치를 가지게 된다고 봅니다.  
 병 : 저는 자연 상태의 인간이 서로를 위협하는 투쟁 상태에 있다고 생각합니다.  
 갑 : 우리 세 사람 모두 사회 계약을 통해 국가가 형성된다고 생각하지만 그 내용은 다르네요.

- ① 갑은 국가 권력의 이권 분립과 저항권을 주장하였다.
- ② 을은 시민의 자연권 보호를 위해 대의 민주주의를 강조하였다.
- ③ 병은 시민 권리의 안정적 보호를 위해 개인이 자연권을 일부 양도해야 한다고 주장하였다.
- ④ 갑과 병은 사회 계약이 타인을 배려하기 위한 욕구에 기초한다고 보았다.
- ⑤ 갑과 병은 군주 주권론을, 을은 국민 주권론을 옹호하였다.

3-283-252

**4** 그림은 특징에 따라 정치 참여 집단을 구분한 것이다. (가), (나)에 들어갈 옳은 질문을 <보기>에서 고른 것은? [3점]



<보기>

- ㄱ. (가) - 정치 사회화 역할을 수행하는가?
- ㄴ. (가) - 활동에 대해 정치적 책임을 지는가?
- ㄷ. (나) - 원칙적으로 공익 실현을 목적으로 하는가?
- ㄹ. (나) - 정부와 의회를 매개하는 역할을 수행하는가?

- ① ㄱ, ㄴ    ② ㄱ, ㄷ    ③ ㄴ, ㄷ    ④ ㄴ, ㄹ    ⑤ ㄷ, ㄹ

3-283-253

**5** 다음 글에 나타난 선거구제의 일반적인 특징에 대한 옳은 설명을 <보기>에서 고른 것은?

- A선거구제를 채택한 갑국에서는 양당제가 정착되어 새로운 인물의 정계 진출이 어렵다는 비판을 받고 있다. 그럼에도 불구하고 양당 경쟁에서 승리한 정당을 통한 국정 책임성 확보라는 장점이 있어 제도가 운영되고 있다.
- B선거구제를 채택한 을국에서는 소수의 지지를 받는 정당의 의회 진출이 활발하게 이루어져 국민의 다양한 의사가 국정에 반영되고 있다.

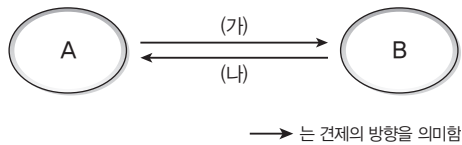
<보기>

- ㄱ. A선거구제에서는 선거구 내 표의 등가성 문제가 발생할 수 있다.
- ㄴ. A선거구제에 비해 B선거구제에서는 지역적 인물의 당선 이 더 용이하다.
- ㄷ. A선거구제에 비해 B선거구제에서는 군소 정당 난립으로 인한 정국 불안이 우려될 수 있다.
- ㄹ. B선거구제에 비해 A선거구제에서는 사표가 더 많이 발생할 것이다.

- ① ㄱ, ㄴ    ② ㄱ, ㄷ    ③ ㄴ, ㄷ    ④ ㄴ, ㄹ    ⑤ ㄷ, ㄹ

3-283-254

**6** 그림은 우리나라 권력 기관 간의 견제 관계를 간략히 나타낸 것이다. 이에 대한 옳은 설명만을 <보기>에서 있는 대로 고른 것은? [3점]



<보기>

- ㄱ. A가 국회이면 (가)에는 '탄핵 소추권'이 포함될 수 있다.
- ㄴ. (가)가 '명령·규칙이 헌법이나 법률에 위반되는지에 대한 심사권'이면 B는 행정부가 될 수 있다.
- ㄷ. (가)가 'B의 수장 임명'이라면 (나)는 '국정 조사'가 포함될 수 있다.
- ㄹ. (가)가 '국정 감사', (나)가 '법률안 거부권'이면 A, B는 모두 선거를 통한 국민의 통제를 받는 기관이다.

- ① ㄱ, ㄷ    ② ㄱ, ㄹ    ③ ㄴ, ㄷ  
④ ㄱ, ㄴ, ㄹ    ⑤ ㄴ, ㄷ, ㄹ

3-283-255

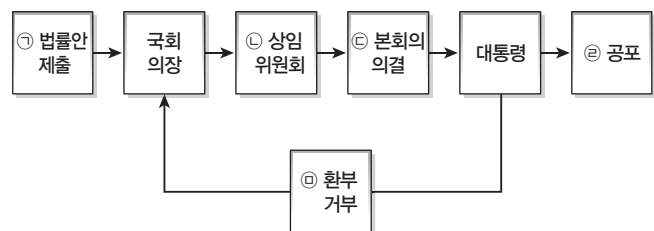
**7** (가)~(다)의 기본권에 대한 설명으로 옳은 것은?

기본권	성격	기본권 보장 사례
(가)	국가 권력의 통제 혹은 소극화	구속 적부 심사 제도의 보장
(나)	주권자로 정치 과정에 참여	투표 마감 시간을 오후 6시에서 오후 9시로 연장
(다)	인간다운 삶의 보장	남성 근로자의 육아 휴직 확대 보장

- ① (가)는 '국가에 의한 자유'를 지향한다.  
 ② (가)는 헌법에 열거되지 않아도 보장될 수 있는 권리이다.  
 ③ (나)는 다른 기본권 보장을 위한 성격을 갖는다.  
 ④ (나)는 자본주의 모순을 극복하는 과정에서 등장하였다.  
 ⑤ (다)는 국가 성립 이전에도 인정되는 권리에 해당한다.

3-283-256

**8** 그림은 국회의 입법 과정을 나타낸 것이다. ㉠~㉣에 대한 설명으로 옳지 않은 것은?

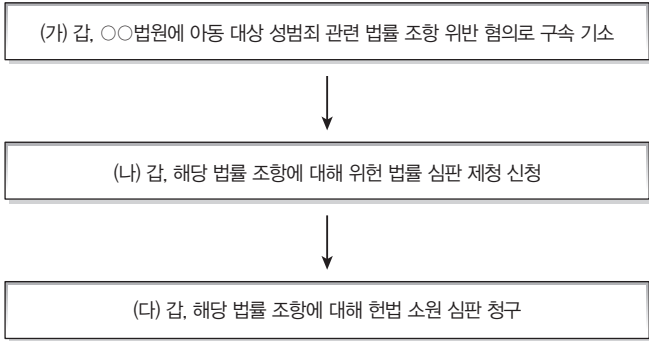


- ① ㉠은 국회의원뿐만 아니라 정부도 가능하다.  
 ② ㉡의 심의·의결로 법률안이 폐기될 수 있다.  
 ③ ㉢이 이루어진 법률안을 공포하기 위해서는 국무 회의 심의를 거쳐야 한다.  
 ④ 국회에서 의결된 법률안에 이의가 없으면 대통령은 15일 이내 ㉣을 한다.  
 ⑤ ㉣의 경우 재의결을 위해서는 재적 의원 과반수 출석과 출석 의원 과반수의 찬성이 필요하다.



3-283-257

9 (가)~(다)에 대한 옳은 법적 판단을 <보기>에서 고른 것은? [3점]



<보기>

- ㄱ. (가) 이전에도 갑은 해당 법률 조항에 대해 위헌 법률 심판 제청 신청을 할 수 있다.
- ㄴ. (나)에 대해 법원은 해당 법률 조항이 헌법에 위반되지 않는다고 보았다.
- ㄷ. (다)에서 갑이 청구한 헌법 소원 심판은 위헌 심사형 헌법 소원이다.
- ㄹ. (다)로 인해 헌법재판소에서 합헌 결정이 내려질 경우 갑의 아동 대상 성범죄의 유죄가 확정된다.

- ① ㄱ, ㄴ    ② ㄱ, ㄷ    ③ ㄴ, ㄷ    ④ ㄴ, ㄹ    ⑤ ㄷ, ㄹ

3-283-258

10 밑줄 친 ㉠~㉢에 대한 법적 판단으로 옳은 것은? [3점]

갑은 을 회사에서 열심히 근무하다 회사의 매출 부진으로 인한 구조 조정 때문에 2주 후에 해고된다는 내용의 휴대전화 문자 메시지를 받고 해고되었다. 이에 갑은 노동조합에 문의하여 A에 구제 신청을 하거나 ㉠ 해고 무효 소송을 제기할 수 있다는 이야기를 들었고, 결국 ㉡ A에 구제 신청을 하였다. A의 결정에 대해 을 회사는 불복하여 ㉢ B에 재심을 신청하였다. 을 회사는 B의 재심 결정에 불복하여 ㉣ 소송을 제기하였다.

- ① ㉠은 을 회사를 피고로 진행한다.
- ② ㉡에 대해 A는 을 회사의 부당 해고를 인정하지 않았다.
- ③ ㉢은 근로자 개인뿐만 아니라 노동조합도 가능하다.
- ④ ㉡과 ㉢에 따른 결정의 내용은 서로 다르게 나타났다.
- ⑤ ㉠, ㉢은 모두 행정법원에서 이루어진다.

3-283-259

11 다음 사례에 대한 법적 판단으로 옳은 것은?

갑은 을의 지갑을 훔쳐서 달아나는 병을 추격하여 제압하고 을의 지갑을 찾은 후 경찰관에게 병을 인계하였다. 갑이 을의 지갑을 찾는 과정에서 병에게 가벼운 상처를 입혔다. 절도죄로 기소된 병에게 법원은 징역 6월에 집행 유예 2년을 선고하였다.

- ① 갑의 행위는 범죄의 구성 요건을 충족하지만 정당 행위로 위법성이 조각된다.
- ② 을의 고소가 있어야 병에 대한 수사가 이루어질 수 있다.
- ③ 병은 현행범인으로 진술 거부권이 인정되지 않는다.
- ④ 병은 기소 이후 확정 판결 전까지 구속 적부 심사를 청구할 수 있다.
- ⑤ 판결이 확정될 경우 병은 징역 6월을 복역한 후 2년이 지나면 형 선고의 효력이 상실된다.

3-283-260

12 표의 주택 임차인 갑~병이 처한 상황에 대한 법적 판단으로 옳지 않은 것은?

구분	갑	을	병
임대차 계약 기간	6개월	1년	2년
입주 거주	×	○	○
전입신고	○	○	○
확정일자 날인	○	×	○

\* 갑~병의 임대차 계약에 선순위 권리자는 없다.    ○ : 그렇다    × : 아니다

- ① 갑은 병의 임대차 계약의 기간과 동일한 계약 기간을 보장 받는다.
- ② 병과 달리 갑은 주택이 경매 절차에 넘어갔을 경우 우선 변제권을 행사할 수 없다.
- ③ 매매로 인해 임대인이 바뀌더라도 을과 병은 남은 임대차 기간 동안 계속 거주할 권리가 있다.
- ④ 병의 계약은 임대인이 임대차 계약 만료 시까지 계약 갱신에 대한 의사 표시를 하지 않으면 자동 연장된다.
- ⑤ 갑~병 모두 본인이 아닌 대리인을 통해서도 계약을 체결할 수 있다.



3-283-261

**13** (가), (나)의 사례에 대한 옳은 법적 판단을 <보기>에서 고른 것은? [3점]

- (가) 갑의 아들 을이 장난으로 A의 자동차 유리에 돌을 던져 유리창이 파손되었다. 법원은 갑의 특수 불법 행위 책임을 인정하였다.
- (나) 병에게 고용된 정이 오토바이를 타고 가다 과실로 행인 B에게 상해를 입혔다. 법원은 병과 정이 불법 행위 책임을 인정하였다.

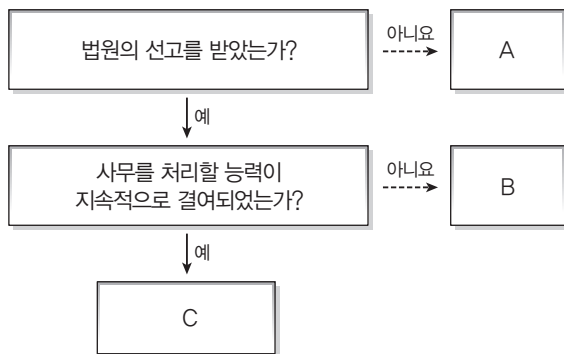
<보기>

- ㄱ. 법원은 을에게 책임 능력이 없다고 보았다.
- ㄴ. 법원은 갑이 을에 대한 감독 의무를 소홀히 하지 않았다고 인정하였다.
- ㄷ. 법원은 병의 과실이 업무와 관련이 있음을 인정하였다.
- ㄹ. B는 정에게 손해 배상을 청구한 후에 병에게 손해 배상을 청구해야 한다.

- ① ㄱ, ㄴ    ② ㄱ, ㄷ    ③ ㄴ, ㄷ    ④ ㄴ, ㄹ    ⑤ ㄷ, ㄹ

3-283-262

**14** 그림은 제한 능력자를 구분한 것이다. A~C에 대한 설명으로 옳은 것은? (단, A~C는 각각 피성년 후견인, 피한정 후견인, 미성년자 중 하나이다.) [3점]



- ① A는 법정 대리인의 동의가 있더라도 단독으로 유효한 법률 행위를 할 수 없다.
- ② B는 후견인의 동의를 얻어야 단독으로 일상생활에 필요한 행위를 할 수 있다.
- ③ B와 C의 심판 청구는 해당자의 보호를 위해 본인 스스로는 할 수 없다.
- ④ C에 비해 B가 단독으로 행할 수 있는 재산법상 법률 행위의 범위가 넓다.
- ⑤ A~C는 모두 권리 능력은 갖추고 있으나 의사 능력은 갖추지 못한 상황이다.

3-283-263

**15** (가), (나)의 사례에 대한 법적 판단으로 옳지 않은 것은?

- (가) 성년 자녀 1명을 두고 있는 갑과 을은 법원으로부터 이혼 의사 확인서를 발급받았다.
- (나) 병과의 사이에서 미성년 자녀 2명을 두고 있는 정은 이혼 소송을 제기하여 법원으로부터 이혼 판결을 받았다.

- ① (가)의 경우 갑과 을 사이에 이혼 의사의 합치가 있었을 것이다.
- ② (나)의 경우 병과 정 사이에는 법에 정한 이혼 사유가 있었을 것이다.
- ③ (나)의 경우 양육하지 않는 자녀에 대한 면접 교섭권이 인정될 수 있다.
- ④ (나)와 달리 (가)는 행정 기관에 확인서를 제출해야 이혼의 효력이 발생한다.
- ⑤ (가), (나)의 경우 모두 이혼 숙려 기간을 거쳤을 것이다.

3-283-264

**16** 다음 글의 갑, 을의 법적 지위에 대한 옳은 설명만을 <보기>에서 있는 대로 고른 것은? [3점]

- 미성년자인 갑은 근로 계약을 위해 본인의 주민등록증 사본을 사용자에게 제출하였다. 이에 사용자는 근로기준법상 필요한 법정 대리인의 동의서를 요청하였다.
- 미성년자인 을은 본인이 부모의 동의를 얻어야 법률적으로 유효한 혼인을 할 수 있음을 알게 되었다.

<보기>

- ㄱ. 갑은 단독으로 유언이 가능하다.
- ㄴ. 을은 단독으로 유효한 법률 행위를 할 수 있다.
- ㄷ. 갑보다 을이 나이가 많다.
- ㄹ. 갑과 달리 을은 자동차 운전면허의 취득이 가능하다.

- ① ㄱ, ㄴ    ② ㄱ, ㄷ    ③ ㄴ, ㄹ
- ④ ㄱ, ㄷ, ㄹ    ⑤ ㄴ, ㄷ, ㄹ



3-283-265

17 밑줄 친 ㉠~㉣에 대한 설명으로 옳지 않은 것은? [3점]

갑은 을에게 1억 원을 빌려 주었으나 을은 약속과 달리 이자도 지급하지 않고 원금도 상환하지 않았다. 갑은 을에게 ㉠ 내용 증명 우편을 발송하고, 을의 부동산에 ㉡ 가압류 신청을 하였다. 그리고 갑은 을을 상대로 ㉢ 민사 조정을 신청하였고, 이후 ㉣ 민사 소송이 진행되었다. 법원은 을이 갑에게 1억 원과 이자를 갚으라고 판결하였고 이에 대해 ㉤ 을은 이의를 제기하지 않았다.

- ① ㉠으로 문서의 발송 사실이 증명된다.
- ② ㉡이 받아들여지면 을의 부동산 처분이 제한된다.
- ③ ㉢이 성립되기 위해서는 분쟁 당사자가 모두 합의해야 한다.
- ④ ㉣에서 갑은 원고, 을은 피고가 된다.
- ⑤ ㉤으로 갑은 을의 재산을 직접 처분할 수 있는 권리를 갖는다.

3-283-266

18 다음 사례에 대한 법적 판단으로 옳은 것은? [3점]

갑(남)과 을(여)은 유효한 법률혼을 하고 생활하던 중 교통사고로 을이 사망하였다. 갑과 을 사이에는 자녀 A, B가 있었다. 이후 갑은 병(여)과 동거를 하면서 C를 낳았다. 갑은 질병으로 인해 사망하기 직전 C를 인지한다는 유효한 유언을 남겼다. 갑에게는 10억 원의 부동산과 반환해야 할 1억 원의 임대 보증금이 있었다.

- ① 갑의 재산만 상속될 뿐 갑의 부채는 상속되지 않는다.
- ② 갑의 유언으로 A, B와 병 사이 친족 관계가 형성된다.
- ③ B와 C의 상속분은 같다.
- ④ C가 상속을 포기하면 C의 상속분은 모두 병이 상속받는다.
- ⑤ 갑의 사망 당시 갑의 재산에 대한 상속인은 A, B, C, 병이다.

3-283-267

19 다음 사례에 나타난 국제 정치를 보는 관점에 대한 설명으로 옳은 것은?

A국은 선진국이 주장하는 국제 환경 보호 협약에 대해 반발하였다. A국은 국제 환경 보호 협약으로 인해 자국의 경제 성장 정책의 운영이 어려움을 겪을 것으로 보았기 때문이다. B국은 자국의 노동 정책과 부합하지 않는다는 이유로 국제 노동 협약의 비준을 거부하였다.

- ① 국제 규범에 따른 집단 안보를 중시한다.
- ② 국제법이나 국제기구의 역할을 중시한다.
- ③ 국제 사회에 도덕과 윤리가 존재한다고 본다.
- ④ 국가 간의 상호 의존 관계를 간과한다는 비판을 받는다.
- ⑤ 개별 국가의 이익과 국제 사회 전체의 이익이 일치한다고 본다.

3-283-268

20 국제 연합의 주요 기관인 A, B에 대한 옳은 설명을 <보기>에서 고른 것은?

- A의 회의 도중 비상임 이사국인 갑국이 을국의 인권 문제와 관련한 경제적 제재 결의의 필요성을 강력히 주장하였으나 상임 이사국인 을국의 거부권 행사로 인해 무산되었다.
- 모든 회원국의 대표로 구성되는 B에서 병국 대표는 기조연설을 통해 핵 문제 해결을 위한 국제적인 공조의 필요성을 강조하였다.

<보기>

- ㄱ. A에서는 강대국이 지니는 힘의 우위를 인정한다.
- ㄴ. A는 국제 연합의 경제적, 사회적, 문화적, 인도적 활동을 지휘·관리한다.
- ㄷ. B에서 각국은 평등한 의결권을 행사한다.
- ㄹ. B는 국제 평화 유지를 위한 군사력 사용 여부를 실질적으로 결정한다.

- ① ㄱ, ㄴ    ② ㄱ, ㄷ    ③ ㄴ, ㄷ    ④ ㄴ, ㄹ    ⑤ ㄷ, ㄹ

문항에 따라 배점이 다르니, 각 물음의 끝에 표시된 배점을 참고하십시오. 3점 문항에만 점수가 표시되어 있습니다. 점수 표시가 없는 문항은 모두 2점씩입니다.

3-283-269

**1** 대표적인 근대 정치 사상가인 A에 대한 설명으로 옳은 것은?

A는 자연 상태는 평화 상태이지만, 옳고 그름을 구별하는 법이 없고, 다툼을 해결해 주는 재판관이 없어 권리 침해가 발생할 수 있다고 보았다. 따라서 A는 사람들이 이를 방지하기 위하여 자신들의 자연권의 일부를 국가에 신탁하여 사회 계약을 체결하였다고 주장하였다. 한편 A는 사회 계약을 통해 형성된 국가의 통치 권력을 입법권과 집행권으로 나누어 권력의 집중을 방지하는 2권 분립을 제시하기도 하였다.

- ① 불평등 문제의 해결 원리로 일반 의지를 강조하였다.
- ② 자연 상태를 ‘만인에 대한 만인의 투쟁’의 상태로 보았다.
- ③ 주권을 가진 국민들이 직접 국가를 운영해야 한다고 보았다.
- ④ 개인의 자유와 권리의 보장을 위해 국가가 형성된다고 보았다.
- ⑤ 자연권을 침해한 정부에 대한 국민의 저항권을 인정하지 않았다.

3-283-270

**2** 다음은 갑국과 을국의 의회 의원 선거 제도에 대한 설명이다. 밑줄 친 ㉠~㉣에 대한 옳은 설명만을 <보기>에서 있는 대로 고른 것은? [3점]

- 갑국은 의회 의원 선출에 대해 지역 대표제만을 선택하여 그 중 ㉠ 소선거구제를 채택하고 있으며 선거구의 대표 결정 방식에서는 ㉡ 절대 다수제를 채택하고 있다.
- 을국은 의회 의원 선출에 대해 ㉢ 비례 대표제만을 채택하고 있다.

<보기>

- ㉠. 우리나라는 국회의원 지역구 선거에서 ㉡을 적용하고 있다.
- ㉡. ㉠은 단순 다수제보다 사표가 많이 발생한다.
- ㉢. ㉠은 ㉡보다는 중·대선거구제와 결합될 가능성이 높다.
- ㉣. ㉢은 ㉡보다 소수 정당 후보의 당선 가능성이 높다.

- ① ㉠, ㉡                      ② ㉠, ㉢                      ③ ㉡, ㉣
- ④ ㉠, ㉡, ㉢                ⑤ ㉡, ㉢, ㉣

3-283-271

**3** 전형적 정부 형태인 갑국 정부의 특징으로 옳지 않은 것은?

갑국에서는 의회가 직접 선거에 의해 선출되며 행정부는 의회에 의해 구성된다. 어느 정당이 독자적으로 또는 연립을 통해 의회 내에서 과반수 의석을 차지할 경우 정당의 대표가 수상이 되어 내각을 구성하고 정책을 주도하게 된다.


- ① 행정부는 입법부에 법률안을 제출할 수 있다.
- ② 국가 원수와 행정 수반이 서로 분리되어 있다.
- ③ 군소 정당이 난립할 경우 정국이 불안정할 수 있다.
- ④ 행정 수반은 입법부에서 의결한 법률안의 거부권을 가진다.
- ⑤ 입법부는 행정부를 불신하는 내각 불신임권을 가지게 된다.

3-283-272

**4** 법치주의에 관한 갑, 을의 주장에 대한 옳은 설명을 <보기>에서 고른 것은?

갑: 법치주의란 의회나 시민 스스로가 합법적인 절차를 거쳐 법을 제정하고 그 법에 따라 권력이 행사되도록 한다면 실현되는 것입니다.

을: 아닙니다. 법치주의는 법의 제정이 합법적인 절차를 거쳤더라도 인간의 존엄성이나 실질적 평등과 같은 정의에 부합해야만 실현되는 것입니다.



<보기>

- ㉠. 갑은 정치권력의 정당성을 법의 형식과 절차에서 찾을 것이다.
- ㉡. 을은 ‘법에 의한 지배’보다는 ‘법의 지배’를 목적으로 할 것이다.
- ㉢. 을과 달리 갑은 통치의 합법성을 정당성의 요건으로 볼 것이다.
- ㉣. 갑과 달리 을은 법의 제정 절차를 중시하지 않을 것이다.

- ① ㉠, ㉡                      ② ㉠, ㉢                      ③ ㉡, ㉣
- ④ ㉡, ㉢                      ⑤ ㉢, ㉣



3-283-273

5 표는 의원 내각제를 채택하고 있는 갑국의 의회 의원 총선거 결과이다. 이에 대한 설명으로 옳은 것은?

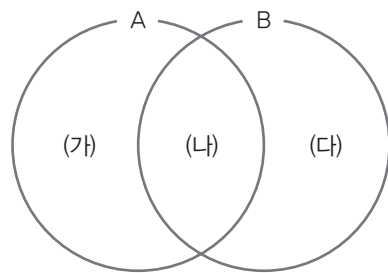
(단위: 석)

구분	A당	B당	C당	D당	무소속	계
2010년	34	33	25	8	0	100
2014년	52	42	2	1	3	100

- ① 2014년 선거에서 갑국은 비례 대표제만을 채택하고 있다.
- ② 2010년이 2014년보다 의회 내 정치적 책임 소재가 명확하다.
- ③ 2014년과 달리 2010년에는 여소야대가 나타날 수 있다.
- ④ 2014년이 2010년보다 소수 의견의 반영 가능성이 낮다.
- ⑤ 2014년이 2010년보다 연립 정부가 구성될 가능성이 높다.

3-283-274

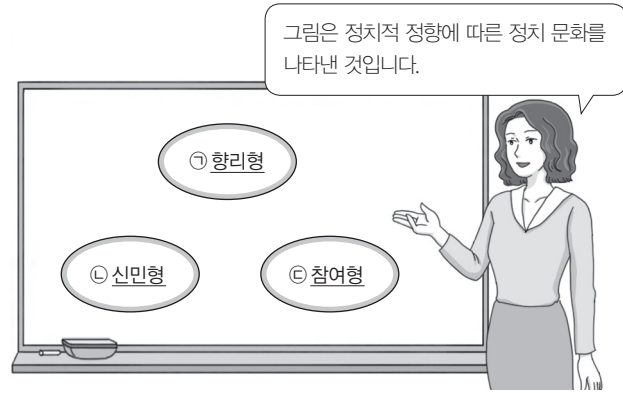
6 그림은 정치 참여 집단인 A와 B의 특징을 (가)~(다)로 분류한 것이다. 이에 대한 설명으로 옳은 것은? (단, A, B는 이익 집단, 시민 단체 중 하나이다.) [3점]



- ① A가 이익 집단일 경우 (가)에는 '정치권력의 획득 목적'이 들어갈 수 있다.
- ② B가 시민 단체일 경우 (다)에는 '정치 과정에 영향력 행사'가 들어갈 수 있다.
- ③ (다)에 '특수 이익을 위한 로비 활동'이 들어갈 경우 A는 시민 단체이다.
- ④ (가)에 '공공선과 공익 추구'가 들어갈 경우 B는 시민 단체이다.
- ⑤ (나)에는 '정치적 책임을 짐'이 들어갈 수 있다.

3-283-275

7 밑줄 친 ㉠~㉣에 대한 옳은 설명을 <보기>에서 고른 것은?



<보기>

- ㉠. ㉠은 구성원이 정치 주체로서의 의식을 가지지 않을 경우 나타날 수 있다.
- ㉡. 중앙 집권적인 권위주의 사회에서는 ㉡이 주로 나타날 것이다.
- ㉢. ㉢이 ㉡보다 정책 결정에 대한 구성원들의 요구나 지지가 적극적으로 나타날 것이다.
- ㉣. ㉣이 ㉡보다 정책 결정 과정에서 정부의 권한이 크게 나타날 것이다.

- ① ㉠, ㉡    ② ㉠, ㉢    ③ ㉡, ㉢    ④ ㉡, ㉣    ⑤ ㉢, ㉣

3-283-276

8 다음 자료에 대한 설명으로 옳지 않은 것은? [3점]

근대 민법의 기본 원리에는 [가], 계약 자유의 원칙, 과실 책임의 원칙이 있다. 하지만 이러한 근대 민법의 원칙들은 심각한 빈부 격차나 독점 기업의 증가 등 자본주의의 문제점을 경험하게 되면서 수정되었다. [가]는 [나]로, 계약 자유의 원칙은 ㉠ 계약 공정의 원칙으로, ㉡ 과실 책임의 원칙은 ㉢ 무과실 책임의 원칙으로 수정된 것이다.

- ① (가)는 '사유 재산권 존중의 원칙', (나)는 '소유권 공공복리의 원칙'이다.
- ② ㉠에 따르면 개인들이 법률관계를 형성할 때 국가가 개입할 수도 있다.
- ③ ㉡의 사례로 불법 행위에 대한 손해 배상 책임을 들 수 있다.
- ④ ㉢은 과실이 아닌 고의가 인정되는 경우에만 책임을 지도록 하는 것이다.
- ⑤ ㉠과 ㉢ 모두 현대 사회에서 민법의 원리로 작용하고 있다.

3-283-277

9 다음 두 사례에 대한 옳은 설명을 <보기>에서 고른 것은? [3점]

- 갑(30세)은 평범한 직장인으로 일하던 중 정신 질환이 발병하여 사리 판단을 할 수 없는 상황에 이르렀다. 이에 가정 법원은 갑에 대해 성년 후견 개시를 선고하였다.
- 을(18세)은 병(20세)과 사귀던 도중 혼인을 약속하였으나, 부모의 동의를 얻지 못하여 을과 병은 같이 살고만 있다.

<보기>

- ㄱ. 갑은 후견인의 동의에 의해서만 법률 행위를 할 수 있다.
- ㄴ. 을은 성년 의제가 되어 법률 행위 시 법정 대리인의 동의가 필요하지 않다.
- ㄷ. 갑과 을 모두 권리 능력이 인정된다.
- ㄹ. 갑과 을 모두 행위 능력이 제한된다.

- ① ㄱ, ㄴ    ② ㄱ, ㄷ    ③ ㄴ, ㄷ    ④ ㄴ, ㄹ    ⑤ ㄷ, ㄹ

3-283-278

10 그림의 사례에 대한 옳은 법적 판단을 <보기>에서 고른 것은? [3점]



<보기>

- ㄱ. 갑이 직접 이 계약을 취소할 수 없다.
- ㄴ. 갑이 법정 대리인의 동의를 얻었다면 이 계약을 취소할 수 없다.
- ㄷ. 갑이 신분증을 위조하여 을을 속였다면 이 계약을 취소할 수 없다.
- ㄹ. 을이 이 계약이 성립한 후 갑이 미성년자임을 알게 되었을 경우에도 이 계약을 철회할 수 없다.

- ① ㄱ, ㄴ    ② ㄱ, ㄷ    ③ ㄴ, ㄷ    ④ ㄴ, ㄹ    ⑤ ㄷ, ㄹ

3-283-279

11 (가)~(다)는 국제법의 법원(法源)이다. 이에 대한 설명으로 옳지 않은 것은?

종류	사례
(가)	한·칠레 자유 무역 협정, 한·중 어업 협정
(나)	신의 성실의 원칙, 권리 남용 금지의 원칙
(다)	외교관의 면책 특권, 전쟁 포로에 대한 인도적 대우

- ① (가)는 대개 문서의 형식으로 합의가 이루어진다.
- ② (나)는 국내 법체계에서도 적용되는 원칙이다.
- ③ (다)는 원칙적으로 모든 국가에 대해 포괄적 구속력을 가진다.
- ④ 우리나라에서 (가)가 국회의 동의와 비준 절차를 거치면 법적 효력을 가지게 된다.
- ⑤ 국제 분쟁이 발생하는 경우 일반적으로 (나)는 분쟁 당사국 간의 (가)에 우선하여 재판의 준거로 적용된다.

3-283-280

12 (가)~(라)는 우리나라의 헌법 규정이다. 이에 대한 옳은 설명만을 <보기>에서 있는 대로 고른 것은?

- (가) 대한민국은 민주 공화국이다.
- (나) 대한민국의 주권은 국민에게 있고, 모든 권력은 국민으로부터 나온다.
- (다) 모든 국민은 인간다운 생활을 할 권리를 가진다.
- (라) 국가는 균형 있는 국민 경제의 성장 및 안정과 적정한 소득의 분배를 유지하고, …….

<보기>

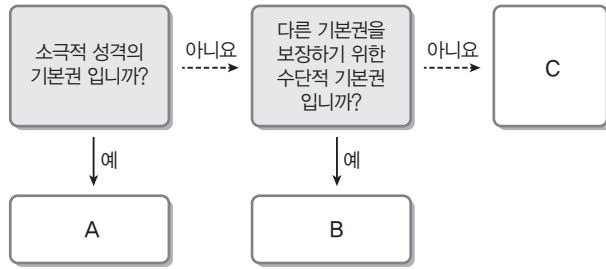
- ㄱ. (가)는 우리나라가 입헌 군주제를 채택할 수 있는 근거가 된다.
- ㄴ. (나)는 정치권력의 정당성이 국민의 동의와 지지에서 비롯된다는 것을 나타낸다.
- ㄷ. (다)는 국가가 적극적으로 국민의 생존권을 보장할 수 있는 근거가 된다.
- ㄹ. (라)를 실현하는 방안으로 '최저 임금제의 실시'를 들 수 있다.

- ① ㄱ, ㄷ    ② ㄱ, ㄹ    ③ ㄴ, ㄷ
- ④ ㄱ, ㄴ, ㄹ    ⑤ ㄴ, ㄷ, ㄹ



3-283-281

13 기본권 A~C에 대한 설명으로 옳은 것은? (단, A~C는 각각 자유권, 사회권, 청구권 중 하나이다.)



- ① A의 구체적인 권리로 환경권을 들 수 있다.
- ② 죄형 법정주의는 B를 보장하기 위한 제도이다.
- ③ C는 '국가에의 자유'로 볼 수 있다.
- ④ B와 달리 A는 헌법에 열거되지 않아도 보장되는 권리이다.
- ⑤ C는 A보다 먼저 헌법상 기본권으로 확립되었다.

3-283-282

14 (가), (나)의 사례에 대한 법적 판단으로 가장 적절한 것은? [3점]

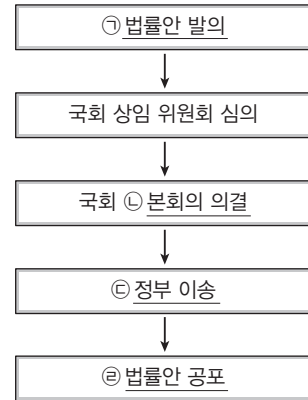
(가) 불심검문 과정에서 경찰관 갑은 변호사 선임권 등을 고지하지 않고 을을 체포하려고 하였다. 이에 을은 체포되지 않기 위해 갑에게 폭력을 행사하여 공무 집행 방해죄가 적용되어 기소되었다. 하지만 법원은 을에게 무죄 판결을 내렸다.

(나) 밤에 아파트에 화재가 발생하여 병(40세)은 자신의 아들 정(5세)과 계단으로 탈출하려고 하였으나 불길 때문에 불가능하였다. 아들을 살릴 수 있는 유일한 방법은 창문 밖으로 던져 다른 사람이 받는 것이었는데 병은 정을 창문 밖으로 던졌으나 정은 땅에 부딪쳐 사망하고 말았다. 하지만 상해치사죄로 기소된 병에 대해 법원은 무죄 판결을 내렸다.

- ① (가)에서 을의 행위는 위법성이 인정되지 않는다.
- ② (가)에서 법원은 을의 행위를 자구 행위로 판단하였을 것이다.
- ③ (나)에서 병의 행위는 범죄 구성 요건에 해당하지 않는다.
- ④ (나)에서 법원은 병의 행위에 대해 위법성 조각 사유가 아니라 책임 조각 사유에 해당한다고 보았을 것이다.
- ⑤ (가), (나)에서 법원의 판결은 모두 집행 유예에 해당한다.

3-283-283

15 다음은 우리나라의 법률 제정 절차 중 일부를 나타낸 것이다. 밑줄 친 ㉠~㉢에 대한 설명으로 옳은 것은?



- ① ㉠은 국회 상임 위원회에서 할 수 있다.
- ② ㉡에서는 국회 재적 의원 과반수의 찬성으로 의결된다.
- ③ ㉢으로 법률안은 법률로서 확정된다.
- ④ ㉢ 이후 20일 이내에 대통령은 거부권을 행사할 수 있다.
- ⑤ ㉣은 대법원장의 권한이다.

3-283-284

16 밑줄 친 ㉠~㉣에 대한 옳은 설명을 <보기>에서 고른 것은? [3점]

우리나라 대통령은 국민의 직접 선거에 의하여 선출되며 ㉠ 임기는 5년으로 중임할 수 없다. 우리나라 대통령의 권한은 ㉡ 국가 원수로서의 권한과 행정부 수반으로서의 권한으로 나뉘는데 국가 원수로서의 권한으로는 ㉢ 긴급 재정·경제 명령권, 계엄 선포권 등을 들 수 있고, 행정부 수반으로서의 권한은 ㉣ 대통령령 발포권, 법률안 거부권 등을 들 수 있다.

<보기>

- ㄱ. ㉠은 독재 출현을 방지하기 위한 목적이 포함되어 있다.
- ㄴ. 공무원 임면권은 ㉡에 포함된다.
- ㄷ. ㉢은 법률의 효력을 가진다.
- ㄹ. ㉣은 법률에서 위임받은 사항에 대해서만 발할 수 있는 권리이다.

- ① ㄱ, ㄴ    ② ㄱ, ㄷ    ③ ㄴ, ㄷ    ④ ㄴ, ㄹ    ⑤ ㄷ, ㄹ

3-283-285

17 다음 행정 구제 제도 A~C에 대한 옳은 설명을 <보기>에서 고른 것은?

A는 국민이 행정 기관에 대하여 특정한 행위를 하여 달라고 요구하는 제도이다. A에는 행정 서류의 발급이나 정부 시책에 대한 건의, 행정 기관의 위법이나 부당한 행정 처분에 대한 불만 제기 등이 포함된다. B는 행정상 분쟁을 법원이 아닌 행정 기관에서 처리하는 제도이며 C는 행정상 분쟁을 법원에 소송을 제기하여 해결하는 제도이다.

<보기>

- ㄱ. A의 처리 결과는 원칙적으로 문서로 통지하여야 한다.
- ㄴ. B는 행정 기관의 행위에 대해 위법성만을 판단한다.
- ㄷ. C는 사법 국가주의가 반영된 제도이다.
- ㄹ. B, C는 행정상 손해 배상 제도에 해당한다.

- ① ㄱ, ㄴ    ② ㄱ, ㄷ    ③ ㄴ, ㄷ    ④ ㄴ, ㄹ    ⑤ ㄷ, ㄹ

3-283-286

18 밑줄 친 (가)에 들어갈 옳은 법적 판단을 <보기>에서 고른 것은? [3점]



<보기>

- ㄱ. 내용 증명 우편을 발송하면 우편에 기재된 내용대로 사실 관계가 확정됩니다.
- ㄴ. 법원의 개입 없이 당사자 간 분쟁을 해결하는 민사 조정 제도를 활용할 수 있습니다.
- ㄷ. 민사 소송 절차를 진행하시려면 소송을 제기하기 전에 미리 가압류 신청을 해 둘 필요가 있습니다.
- ㄹ. 2천만 원을 초과하지 않는 금액이라면 정식 재판이 아닌 소액 사건 심판으로 해결을 도모할 수 있습니다.

- ① ㄱ, ㄴ    ② ㄱ, ㄷ    ③ ㄴ, ㄷ    ④ ㄴ, ㄹ    ⑤ ㄷ, ㄹ

3-283-287

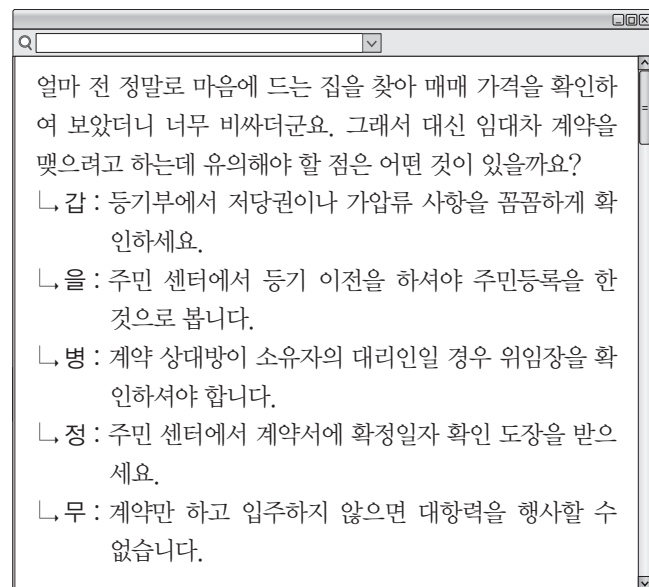
19 (가), (나)의 사례에 대한 법적 판단으로 옳은 것은? [3점]

(가) ○○아파트에서 임차인으로 사는 갑(30세)은 창문에 안테나를 설치하다가 손이 미끄러져 창문 밖으로 안테나를 떨어뜨렸는데, 길을 가던 을이 안테나를 맞고 크게 다쳤다.  
 (나) 병(17세)과 정(20세)은 식당에서 식사를 하던 중 옆 자리에 앉아 있던 무와 시비가 붙어 함께 무를 폭행하였다. 무는 이로 인하여 전치 8주의 부상을 입었다.


- ① (가)에서 갑은 특수 불법 행위에 대한 손해 배상의 책임을 진다.
- ② (가)에서 갑이 사는 아파트의 소유자는 무과실 책임을 진다.
- ③ (나)에서 병의 부모는 감독 의무자로서 책임을 질 수 있다.
- ④ (나)에서 무는 병과 정 각각에 대해 손해 배상을 청구하여야 한다.
- ⑤ (나)와 달리 (가)의 사례는 불법 행위에 해당하지 않는다.

3-283-288

20 다음은 인터넷 법률 상담 사례이다. 법적으로 타당하지 않은 내용의 댓글을 단 사람은? [3점]



- ① 갑    ② 을    ③ 병    ④ 정    ⑤ 무



# 실전 모의고사 1회

시간 30분 / 배점 50점

문항에 따라 배점이 다르니, 각 물음의 끝에 표시된 배점을 참고하십시오. 3점 문항에만 점수가 표시되어 있습니다. 점수 표시가 없는 문항은 모두 2점씩입니다.

## 01 다음 글에 공통적으로 나타나 있는 민주주의의 원리에 대한 설명으로 옳은 것은?

- 민주 국가에서는 국민의 의사를 잘 반영할 수 있도록 민주적 선거 제도를 마련하고 운영하는 것이 가장 중요한 요소가 된다.
- 현대 민주 국가의 헌법은 대부분 공무 담임권, 언론·출판·집회·결사의 자유, 청원권 등 일련의 정치적 기본권을 보장하고 있으며, 복수 정당제를 채택하고 있다.

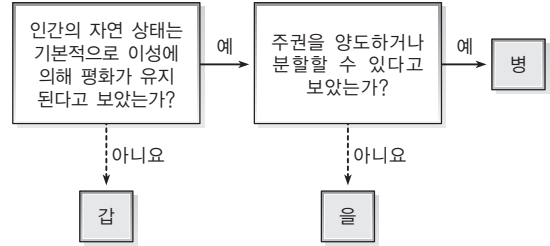
- ① 통치자와 피치자의 동일성을 전제로 한다.
- ② 국가 활동의 능률을 높이기 위한 원리이다.
- ③ 의원 내각제보다 대통령제 정부 형태에서 강조된다.
- ④ 국가 규모가 작고 인구가 적을수록 실시하기가 유리하다.
- ⑤ 사회적 평등을 중시하는 사회 민주주의 사상에 근거를 두고 있다.

## 02 다음 글에서 안티고네가 갖고 있는 법에 대한 관점의 현대적 해석으로 가장 적절한 것은?

그리스 신화에 나오는 크레온은 왕권 다툼 과정에서 안티고네의 오빠인 폴리네이케스를 죽이고 왕이 되었다. 크레온은 폴리네이케스를 반역자라고 선포하고서 그 시체를 아무도 장사지내지 말라는 포고를 내렸다. 그러나 안티고네는 국왕이 내린 포고는 하늘의 법에 맞지 않는다고 주장하면서 오빠의 시체를 거두어 매장하였다. 안티고네는 자기 오빠의 장례를 치른 후 장례를 금지한 국법 위반으로 크레온 왕으로부터 심문을 받을 때, “하늘의 법을 어길 수 없었노라.”고 항변한다. “하늘의 법은 항상 옳은 것이며, 왕이 임의로 만든 법보다는 훨씬 더 큰 힘을 지니고 있다.”고 하며 국법을 어긴 것에 대하여 변호하였다.

- ① 법은 사회적 갈등 해결의 최선책이다.
- ② 통치의 정당성보다 합법성이 더 중요하다.
- ③ 법은 엄정하고 공정하게 집행되어야 한다.
- ④ 국가의 법은 국민의 자유를 제한해서는 안 된다.
- ⑤ 법이 정당성을 갖기 위해서는 그 내용이 정의에 합치되어야 한다.

## 03 갑~병은 각각 사회 계약론자 홉스, 로크, 루소 중 한 사람이다. 이에 대한 설명으로 옳은 것은? [3점]



- ① 갑은 의회 중심의 입헌 군주제를 제시하였다.
- ② 을은 대의 정치보다 직접 민주 정치를 옹호하였다.
- ③ 병은 국가는 시민의 일반 의지에 의해 형성된다고 보았다.
- ④ 갑은 병과 달리 저항권을 시민의 고유한 권리로서 인정하였다.
- ⑤ 갑, 을과 달리 병은 국가를 합의에 기초한 인위적인 산물로 보았다.

## 04 밑줄 친 ㉠~㉣에 대한 옳은 설명을 <보기>에서 고른 것은? [3점]

A국과 B국의 대통령이 ㉠ 국제 연합(UN) 총회에서 만났다. 두 정상은 그동안 양국 간에 갈등을 빚어온 태평양 해상 경계선 문제와 관련해 ㉡ 국제 사법 재판소의 판결이 어떻게 나오든 그 판결을 존중하겠다고 약속했다. 두 나라는 1880년대에 발생한 전쟁의 틈바구니에서 3만 5천km<sup>2</sup>의 태평양 해역을 두고 갈등을 빚어오다가 1950년대에 ㉢ 해상 경계선 조약을 체결했다. 그러나 A국은 이 조약으로 해상 국경선이 확정됐다고 주장하지만 B국은 단순히 어업권을 다룬 것으로 간주하면서 갈등이 재연되었다. 결국 두 나라는 이 문제를 ㉣ 국제 사법 재판소에 제소했고 지금 판결을 기다리고 있다.

- ○○뉴스, 2013. 9. 27. -

### <보기>

- ㉠은 국가 간 주권 평등의 원칙이 적용된다.
- ㉡은 국제 사회를 보는 자유주의적 관점을 지지하는 근거가 될 수 있다.
- ㉢은 모든 국가에 대해 포괄적인 구속력을 가진다.
- ㉣의 판결은 강제력이 없이 권고적 효력만 가진다.

- ① ㉠, ㉡
- ② ㉠, ㉢
- ③ ㉡, ㉢
- ④ ㉡, ㉣
- ⑤ ㉢, ㉣



**05** 다음 기사의 밑줄 친 사례에 해당하지 않는 것은?

지난해 12월 현장실습생으로 일하던 고교생이 뇌출혈로 쓰러진 사고가 발생했던 A회사에서 근로기준법상 연소자 보호 규정을 위반한 경우가 82건이나 되는 것으로 밝혀졌다. 특히 각종 법 위반으로 범죄 성립 건수만 66건에 달한 것으로 알려져 충격을 주고 있다. 고용노동부는 지난해 실습생 갑이 현장실습 중 뇌출혈 증세를 보여 쓰러진 뒤 실시한 특별 감독 결과 A회사에 3억 9천 200만 원의 과태료를 부과하고 법 위반 내용에 대해서는 검찰에 고발할 계획이라고 밝혔다.

- ○○일보, 2012. 1. 31. -

- ① 하루 8시간을 초과하여 근로시켰다.
- ② 근로 계약을 연소자 본인과 체결하였다.
- ③ 법정 대리인에게 직접 임금을 지급하였다.
- ④ 도덕상 유해한 사업장에서 근로하도록 하였다.
- ⑤ 법정 대리인의 동의 없이 근로 계약을 체결하였다.

**06** 갑~정미 공통적으로 주장하는 내용의 근거로 가장 적절한 것은?

갑: 투표 종료 시간을 현행 오후 6시에서 8시로 늦추어야 합니다.  
 을: 투표에 참가한 사람에게는 세금 감면 혜택 등을 주어야 합니다.  
 병: 지하철 역사나 버스 터미널, 병원 등에도 투표소를 설치해야 합니다.  
 정: 인터넷이나 스마트폰으로도 투표할 수 있는 방안을 강구해야 합니다.

- ① 정치 참여에 있어서는 양보다 질이 더 중요하다.
- ② 정치권력의 정당성 못지않게 효율성이 중요하다.
- ③ 민주 정치의 발전은 국민의 참여를 통해 이루어진다.
- ④ 과도한 정치 참여는 정책 결정에 혼란을 초래할 수 있다.
- ⑤ 급변하는 사회 환경에서는 신속한 정책 결정이 중요하다.

**07** 표는 의원 내각제를 채택하고 있는 어느 나라의 정당별 의회 의석 점유율 추이이다. 이에 대한 설명으로 옳은 것은?

[3점]

구분	2004년	2008년	2012년
A당	43%	30%	58%
B당	40%	45%	30%
C당	12%	10%	10%
D당	5%	15%	2%

- ① 2004년과 2008년에는 연립 정권이 세워졌다.
- ② 2004년에는 A당이, 2008년에는 B당이 집권당이였다.
- ③ D당은 정책 결정 과정에 거의 영향력을 행사하지 못했다.
- ④ 2012년에 비해 2004년이 정치적 책임 소재가 훨씬 명확한 편이였다.
- ⑤ 2012년에는 내각이 의회로부터 불신임을 당할 가능성이 없어졌다.

**08** (가)와 (나)는 동일 지역에서 서로 다른 선거구제를 채택 하였을 때 예상되는 결과이다. 이에 대한 옳은 설명을 <보기>에서 고른 것은?

[3점]

(가)					(나)				
구분	갑당	을당	병당		구분	갑당	을당	병당	
선거구	A-1	450	420	400	선거구	A	900	820	700
	A-2	450	400	300		B	700	1,080	800
	B-1	200	600	400					
	B-2	500	480	400					
총 득표수	1,600	1,900	1,500		총 득표수	1,600	1,900	1,500	
득표율(%)	32.0	38.0	30.0		득표율(%)	32.0	38.0	30.0	
의석수	3	1	0		의석수	1	2	1	

<보기>

ㄱ. (가)는 (나)보다 사표(死票)가 많이 발생한다.  
 ㄴ. (가)는 다수 대표제, (나)는 소수 대표제를 적용하고 있다.  
 ㄷ. (가)의 갑당은 과대 대표, (나)의 을당은 과소 대표된다.  
 ㄹ. (가)에 비해 (나)의 선거구제는 을당보다는 갑당과 병당이 선호할 것이다.

- ① ㄱ, ㄴ
- ② ㄱ, ㄷ
- ③ ㄴ, ㄷ
- ④ ㄴ, ㄹ
- ⑤ ㄷ, ㄹ



09 정치 참여 주제 A~C에 대한 설명으로 옳지 않은 것은? (단, A~C는 각각 정당, 시민 단체, 이익 집단 중 하나이다.)

- A는 사교육의 폐해를 줄이고 공교육을 정착하려는 목적으로 뜻을 가진 시민들이 스스로 모여 결성한 단체이다. 활동에 필요한 비용은 시민들이 자발적으로 낸 회비로 충당하고 있다.
- B는 전국의 한의사들이 자발적으로 결성한 단체이다. B는 최근 정부가 한약재로 만들어진 ◇◇신약의 처방권을 양 의사에게만 준 것에 항의하는 집회를 열었다.
- 총선에서 패배한 C는 비상대책팀을 구성하여 내부 혁신을 추진하기로 했다. △△△비상대책팀장은 “공천 과정의 투명성, 정부의 독단적인 정책 추진 견제, 의사 결정 과정의 민주화 등을 위한 개선책을 추진해 나가겠다.”고 밝혔다.

- ① A는 정치 과정에서 주로 투입 기능을 담당한다.
- ② B는 지역 대표제의 한계를 보완하기도 한다.
- ③ C는 정부와 의회 사이를 매개하는 역할을 한다.
- ④ A, C는 B와 달리 주로 공공의 이익을 추구한다.
- ⑤ C는 A, B와 달리 공식적인 정치 참여 주체이다.

10 다음 갑~정의 법적 지위에 대해 진술한 내용이 옳은 것은? (단, 기준 시점은 12월 25일이다.) [3점]

- 갑(만 17세) : 고등학생이며 방학에는 아르바이트를 할 예정임
- 을(만 18세) : 2월 초에 혼인하였으며 12월 20일에 아이를 출산함
- 병(만 35세) : 지능이 만 10세 정도이나 법원의 피한정 후견인 선고를 받지 않았음
- 정(만 67세) : 치매 증세가 극심하여 법원으로부터 피성년 후견인 선고를 받았음

- ① 갑이 취업을 하려면 부모가 근로 계약을 체결해야 한다.
- ② 을은 청소년보호법상 술이나 담배를 구입할 수 없다.
- ③ 병은 중요한 법률 행위를 할 경우 후견인의 동의를 얻어야 한다.
- ④ 정은 일용품을 구입할 경우라도 후견인이 대리해야 유효하다.
- ⑤ 단독으로 유효한 법률 행위를 할 수 있는 능력은 갑과 을에 게만 있다.

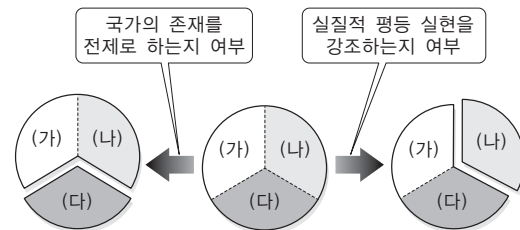
11 다음 글의 밑줄 친 부분에 대한 설명으로 옳은 것은?

교도소 수용자가 외부로 서신을 보낼 때 봉함(封緘)을 금지하도록 한 「형의 집행 및 수용자의 처우에 관한 법률」(행형법) 시행령에 대해 위헌 결정이 내려졌다. 헌법재판소는 결정문에서 “행형법 시행령은 교정 시설의 안전과 질서 유지, 수용자의 교화 및 사회 복귀를 원활히 하기 위해 수용자가 밖으로 내보내는 서신에 대해 봉함하지 않은 상태로 제출하도록 한 것이지만, 수용자가 보내려는 모든 서신에 대해 무봉함 상태의 제출을 강제함으로써 수용자의 발송 서신 모두를 사실상 검열 가능한 상태에 놓이도록 하는 것은 우리나라 헌법의 기본 원리를 위반하는 것”이라고 설명했다.

- ○○신문, 2012. 2. 27. -

- ① 대의 민주주의의 실현을 목적으로 한다.
- ② 국민이 국가 권력에 대한 정당성을 부여한다.
- ③ 인간의 존엄성 존중과 기본권 보장을 핵심으로 한다.
- ④ 모든 국민에게 최소한의 인간다운 생활을 보장하고자 한다.
- ⑤ 국가가 시민의 자율적인 문화생활에 간섭하지 않도록 한다.

12 (가)~(다)는 각각 자유권, 사회권, 청구권 중의 하나이다. 이에 대한 설명으로 옳은 것은?



- ① (가)는 소극적이고 방어적인 성격을 가진다.
- ② (나)는 다른 기본권을 구제하기 위한 기본권이다.
- ③ (다)는 헌법에 열거되지 않아도 포괄적으로 보장된다.
- ④ (가)와 (나)는 (다)에 비해 천부 인권적 성격을 갖는다.
- ⑤ (나)와 (다)는 (가)와 달리 국가 권력의 행사가 적어야 보장된다.

**13** (가)~(다)의 재판에 대한 설명으로 옳은 것은? [3점]

(가) ○○선거관리위원장은 ○○시장에 당선된 갑을 선거법 위반 혐의(허위 사실 유포)로 고발하였다.  
 (나) 을은 병의 과실로 재산상의 손해를 입자 병을 상대로 법원에 손해 배상을 요구하는 소송을 제기하였다.  
 (다) 정은 행정 관청이 내린 영업 정지 처분이 부당하다며 법원에 이 처분의 취소를 구하는 소송을 제기하였다.

- ① (가)에서 원고는 검사가 된다.
- ② (나)의 2심 법원은 반드시 고등법원이다.
- ③ (다)에서 정은 행정 심판을 먼저 거쳤을 것이다.
- ④ (나)와 (다)에서는 배상 명령 제도를 활용할 수 있다.
- ⑤ (가)와 달리 (나)와 (다)에서는 3심제가 적용된다.

**14** 다음은 국회에서 '△△법률안'이 처리되는 과정을 나타낸 것이다. 밑줄 친 ㉠~㉤에 대한 설명으로 옳은 것은?

접수	㉠ 상임위원회 심의	㉡ 법제사법위원회 심의	본회의 의결	㉤ 정부 이송
2013. 9. 4. ㉠ 이○○ 의원 등 10인의 발의	2013. 11. 11. 가결	2013. 11. 20. 가결	㉢ 2013. 12. 5. 가결	2013. 12. 9.

- ① ㉠ - 접수하기 전에 국무 회의의 심의를 거친다.
- ② ㉠ - 본회의 일정에 관한 정당 간 입장 차이를 조정한다.
- ③ ㉡ - 법률안의 내용에 대한 전문적인 심의가 이루어진다.
- ④ ㉢ - 찬성과 반대가 동수(同數)인 경우에도 가능하다.
- ⑤ ㉤ - 대통령은 필요할 경우 국회에 재의를 요구할 수 있다.

**15** 그림 (가)~(라)에 대한 법적 판단으로 옳은 것은?



- ① (가)로 인해 갑과 을은 일상 가사 대리권을 가진다.
- ② (나)는 혼인의 형식적 요건에 해당한다.
- ③ (나) 이후 갑과 을은 서로 부양 의무를 진다.
- ④ (라)에서 출생 신고를 해야 병은 권리 능력을 갖는다.
- ⑤ (가)~(라) 중 법원을 거쳐야 하는 것은 2가지이다.

**16** 다음 자료에 대한 분석으로 옳은 것은? [3점]

2013. 4. 5.	A가 B의 ○○주택에 다른 권리 관계가 없음을 확인하고 임대차 계약 체결
2013. 5. 5.	A가 B의 ○○주택에 입주
2013. 5. 10.	B가 C로부터 1억 원의 돈을 빌리면서 차용증을 써줌
2013. 6. 7.	A가 B의 ○○주택에 다른 권리 관계가 없음을 확인하고 전입신고와 함께 임대차 계약서에 확정일자 날인을 받음
2013. 6. 9.	B가 D은행으로부터 ○○주택을 담보로 1억 원을 대출받음
2014. 7. 5.	○○주택이 경매 처분되어 E에게 낙찰됨

- ① 계약 시 A는 등기부 등본 을구에서 B가 소유자임을 확인한다.
- ② 2013년 5월 5일에 A는 ○○주택에 대한 대항력을 확보했다.
- ③ 2013년 6월 9일부터 D은행은 ○○주택을 점유할 수 있다.
- ④ 2014년 7월 5일 이후 B의 C에 대한 1억 원의 채무는 소멸된다.
- ⑤ 2014년 7월 5일 이후 A는 D은행에 우선하여 보증금을 반환받는다.

**17** 다음은 갑과 을의 분쟁 일지이다. 밑줄 친 ㉠~㉣에 대한 설명으로 옳은 것은? [3점]

- 2013. 1. 5. 갑의 아들(만 7세)이 고의로 을의 자동차를 파손함
- 2013. 1. 10. 을, 갑에게 손해 배상을 청구하는 ㉠ 내용 증명 우편 발송
- 2013. 1. 27. 을, 법원에 ㉡ 민사 조정 신청
- 2013. 3. 1. 민사 조정 결렬
- 2013. 3. 10. 을, ㉢ 손해 배상 청구 소송 제기
- 2013. 7. 2. 법원, ㉣ 갑에게 배상 책임이 있다고 판결함

- ① ㉠에 의해 갑에게 손해 배상 책임이 발생한다.
- ② ㉡을 위해서는 ㉢의 과정을 먼저 거쳐야 한다.
- ③ ㉢과 별도로 을은 갑을 형사 고소할 수 있다.
- ④ ㉣에서 법원은 갑의 특수 불법 행위 책임을 인정했다.
- ⑤ ㉣ 이후에 을은 갑의 재산에 가압류를 신청해야 한다.

**18** 다음 사례에 대한 옳은 분석을 <보기>에서 고른 것은? [3점]

회사원 갑은 퇴근 도중 횡단보도를 건너다가 신호를 무시하고 달려오던 차에 치어 크게 다쳤다. 병원에 후송된 갑은 정신이 돌아오자 “자신이 죽으면 모든 재산 10억 원을 ○○법인에 준다.”는 자필 유언을 남겼다. 갑은 병세가 다소 호전되는 듯 했으나 갑자기 악화되어 사망하였다. 갑의 가족으로는 임신 8개월의 아내 을, 노모 병, 결혼한 남동생 정이 있다.

<보기>

- ㄱ. 갑의 유언은 증인이 참석해야 효력을 인정받는다.
- ㄴ. 을이 상속을 포기할 경우 병과 정이 상속인이 된다.
- ㄷ. 태어는 갑의 재산에 대한 상속에 있어 권리 능력을 가진다.
- ㄹ. 유언의 효력이 인정될 경우 을은 최대 3억 원을 유류분으로 청구할 수 있다.

- ① ㄱ, ㄴ                      ② ㄱ, ㄷ                      ③ ㄴ, ㄷ
- ④ ㄴ, ㄹ                      ⑤ ㄷ, ㄹ

**19** 갑과 을의 대화에 대한 옳은 법적 분석을 <보기>에서 고른 것은?

갑 : 2층에서 물이 흘러내려 벽지가 다 젖었어요. 배상해 주세요.  
 을 : 우리도 세 들어 살고 있어요. 배관시설을 고쳐달라고 주인 병에게 몇 번 이야기 했지만 듣지를 않았어요. 병에게 배상해 달라고 하세요.

<보기>


- ㄱ. 을과 병은 공동 불법 행위 책임을 진다.
- ㄴ. 공작물 점유자인 을에게 1차적인 책임이 있다.
- ㄷ. 을에게 과실이 없을 경우 병이 배상 책임을 진다.
- ㄹ. 을이나 병이 갑에 대해 지는 것은 일반 불법 행위 책임이다.

- ① ㄱ, ㄴ                      ② ㄱ, ㄷ                      ③ ㄴ, ㄷ
- ④ ㄴ, ㄹ                      ⑤ ㄷ, ㄹ

**20** 다음 사례에서 법원이 갑에 대해 무죄 판결을 내린 법적 근거로 옳은 것은? [3점]

법원은 교통사고를 내고 당황해 하고 있는 친구를 대신하여 부상자를 차에 태워 급히 병원으로 차를 몰다 도로교통법 위반 혐의(음주운전)로 적발되어 불구속 기소된 갑에 대해 무죄를 선고했다. 재판부는 판결문에서 “피고인 갑은 부상자의 생명이 위독해 지체 없이 병원으로 이송해야 하는 상황에서 운전자인 친구가 사고 충격으로 운전을 하지 못하자 음주운전을 시도한 것으로 볼 수 있다.”고 밝혔다.

- ① 심신 상실의 상태에서 행한 행위는 책임이 조각된다.
- ② 처벌 법률이 없는 행위는 범죄의 구성 요건에 해당하지 않는다.
- ③ 타인의 법익에 대한 현재의 위난을 피하기 위한 행위는 위법성이 조각된다.
- ④ 타인의 법익에 대한 현재의 부당한 침해를 방위하는 행위는 위법성이 조각된다.
- ⑤ 자력으로 자신의 청구권을 실현하기 위한 요건을 갖춘 행위는 위법성이 조각된다.



문항에 따라 배점이 다르니, 각 물음의 끝에 표시된 배점을 참고하십시오. 3점 문항에만 점수가 표시되어 있습니다. 점수 표시가 없는 문항은 모두 2점씩입니다.

### [01~02] 다음 글을 읽고 물음에 답하십시오.

○○ 지방법원은 음주운전 신고를 받고 출동한 경찰관의 ㉠ 음주측정을 거부하고 경찰관을 폭행한 혐의로 기소된 프 로골퍼 A씨에게 ㉡ 징역 6월에 ㉢ 집행 유예 2년, 120시간의 ㉣ 사회봉사를 ㉤ 선고했다. 재판부는 “음주측정 과정에서 욕 설과 폭행을 한 A씨에게 완력을 행사하여 체포한 경찰의 행 위는 위법하다고 볼 수 없다.”며 “위법한 체포가 아닌 이상 경찰의 음주측정 요구 역시 위법하지 않다.”고 판시했다. A 씨는 2013년 3월 음주운전 신고를 받고 출동한 경찰관의 음 주측정을 거부한 뒤, 경찰관을 폭행한 혐의(공무 집행 방해 등)로 기소됐다. A씨는 사건 당시 음주측정 요구를 4차례 거 부하고, 음주측정을 요구하는 경찰관에게 욕설을 하며 폭행 하는 등 공무 집행을 방해한 혐의를 받았다.

### 01 위 글의 밑줄 친 ㉠~㉤에 대한 분석으로 옳은 것은?

[3점]

- ① ㉠으로 인해 A씨는 유죄로 추정된다.
- ② ㉡은 형법이 아니라 형사소송법에 규정되어 있다.
- ③ ㉢은 검사에 의해서도 부과될 수 있다.
- ④ ㉤으로 인해 A씨는 유죄가 확정되었다.
- ⑤ ㉤에 따라 A씨가 아무 사고 없이 2년을 경과하면 ㉡의 선 고 효력이 상실된다.

### 02 위 사례에서 재판부가 ‘경찰의 공무 집행’에 대해 가진 법적 판단으로 가장 적절한 것은?

[3점]

- ① 정당 방위에 해당한다.
- ② 미란다 원칙이 준수되었다.
- ③ 사회상규에 위배되지 않는다.
- ④ 범죄의 구성 요건에 해당되지 않는다.
- ⑤ 책임이 조각되는 사유를 가지고 있다.

### 03 다음 사례의 손해 배상 책임에 대한 분석으로 옳은 것은?

[3점]

갑이 살고 있는 주택은 세입자 을이 살고 있는 병 소유의 단 독 주택과 이웃하고 있다. 그런데 단독 주택의 지붕이 갑의 집 쪽으로 붕괴될 조짐이 있었다. 이에 갑은 을에게 지붕의 수리를 요구하였다. 그러던 와중에 급기야 단독 주택의 지붕 이 붕괴되어 갑의 집 지붕이 상당부분 파손되었다. 이에 갑은 을, 병을 상대로 손해 배상을 청구하였으나 두 사람은 모두 이를 거부하였다.

- ① 을은 과실이 없어도 손해 배상 책임이 있다.
- ② 을은 공작물 점유자로서 1차적인 손해 배상 책임을 진다.
- ③ 병은 과실이 있어야만 손해 배상 책임을 지게 된다.
- ④ 을은 일반적인 불법 행위 책임, 병은 특수한 불법 행위 책 임이 있다.
- ⑤ 갑이 소송을 제기한 경우, 승소해도 모든 소송 비용을 자신 이 부담해야 한다.

### 04 다음 사례에 대한 분석으로 옳은 것은?

[3점]

정부는 국무총리 주제로 열린 국무 회의에서 ○○ 법안에 대 한 국회 재의 요구안(거부권 행사)을 심의·의결했고, 대통령은 이에 최종 서명했다. 대통령은 거부권을 행사한 뒤 “글로벌 시대인데 국제 규범에 맞지 않고 다른 나라에서도 전례가 없는 일을 할 수는 없다.”라며 “택시(업계)를 정상화할 수 있 는 방법은 ○○ 법안 말고도 얼마든지 있다.”라고 말했다. 정 부는 ○○ 법안에 대한 국회 재의 요구안을 23일 국회로 보낼 예정이다.

- ① 대통령은 야당의 횡포를 견제하는 권한을 행사하였다.
- ② ○○ 법안은 국회에서 재의결되는 순간 법률로서 확정된다.
- ③ ○○ 법안의 재의결 정족수는 최초의 의결 정족수와 동일하다.
- ④ 대통령이 재의결된 ○○ 법안을 공포하지 않으면 대법원장 이 공포한다.
- ⑤ ○○ 법안의 국무 회의 심의는 국회 재의 요구를 위한 필수 적 절차는 아니다.



### 05 다음의 문서와 관련된 진술로 옳은 것은?

#### 내용증명서

발신 ○○○ (사업자 번호 or 주민등록번호)  
 ○○시 ○○구 ○○동 ○○번지  
 수신 △△△ (사업자 번호 or 주민등록번호)  
 ○○시 ○○구 ○○동 ○○번지 (우편번호 ○○○-○○○)

제목 : 미수금 상환 요청의 건

1. 귀사의 무궁한 발전을 기원합니다.
2. 귀사는 2012년 X월 당사로부터 물품을 구매하였으나 물품대금 지급일이 이미 경과하였음에도 불구하고 미수금 상환이 이루어지지 않아 다음과 같이 통보하오니 빠른 시일 내에 조치해 주시기 바랍니다.
3. 당사는 아래와 같이 귀사가 미수금을 지급할 것을 요청하는 바, 만일 제시한 기간 내 미수금을 상환하지 않을 경우 부득이 귀사를 대상으로 지급 명령, 민·형사 소송 등의 제반 법적인 일체의 조치를 취할 것입니다. 또한 미수금의 법정 이자 및 그에 따른 제반 소송 비용도 청구할 것입니다.

- ① 문서의 발송 사실을 법원에서 공적으로 증명해 준다.
- ② 문서는 법정 다툼 시 청구권 행사의 증거로 사용될 수 있다.
- ③ 발신자가 소송비용을 전가하겠다는 것은 권리 남용에 해당한다.
- ④ 문서가 수신자에게 송달된 경우 기재된 내용이 사실로 확정된다.
- ⑤ 수신자는 일정 기간 안에 이 문서에 대해 회신할 법적 의무가 있다.

### 06 다음의 기본권 A에 대한 설명으로 옳지 않은 것은?

우리나라 민법 제764조는 “타인의 명예를 훼손한 자에 대하여는 법원은 피해자의 청구에 의하여 손해 배상에 가름하거나 손해 배상과 함께 명예 회복에 적당한 처분을 명할 수 있다.”고 규정하고 있다. 이에 근거하여 법원은 종종 명예 훼손에 대해 사죄 광고를 게재하라는 명령을 내렸다. 하지만 이러한 법원의 명령에 대해 헌법재판소는 재판이라는 권력 작용을 통해 자기의 행위가 죄가 된다는 윤리적 판단의 형성을 강요하고, 이를 외부에 표시하게 함으로써 헌법에서 보장하는 A를 침해한다고 결정하였다.

- ① 인간의 정신적 기본권에 해당한다.
- ② 근대 입헌주의 헌법에서 중시되었다.
- ③ 헌법에 규정되어야 보장되는 권리이다.
- ④ 국가의 억압과 간섭을 받지 않을 권리이다.
- ⑤ 국가 내적 권리가 아니라 국가 이전의 권리이다.

### 07 그림은 소비자 권리에 대한 대화이다. 소비자의 권리에 대한 갑~병의 입장으로 옳지 않은 것은?



- ① 갑은 자유권으로 보고 있다.
- ② 을은 사회권이라고 보고 있다.
- ③ 병은 수단적 권리라고 주장하고 있다.
- ④ 을과 달리 갑은 소극적인 권리라고 생각한다.
- ⑤ 갑, 병과 달리 을은 절차적 권리로 보고 있다.

### 08 다음은 언론의 자유와 사회적 책임에 대한 헌법재판소 결정문의 일부이다. 이러한 결정의 취지를 <보기>에서 고른 것은?

객관적으로 국민이 알아야 할 공공성·사회성을 갖춘 사실과 정보는 민주 정치의 토대인 여론 형성이나 공개토론에 기여하므로 형사 제재로 인하여 그러한 사안의 신문 게재를 주저하게 만들어서는 안 된다. 신속한 보도를 생명으로 하는 신문의 속성상 허위를 진실한 것으로 믿고서 한 명예 훼손적 표현이나, 중요한 내용이 아닌 사소한 부분에 대한 허위보도는 모두 형사 제재의 위협으로부터 자유로워야 한다. 시간과 싸우는 신문보도에 오류를 수반하는 표현은, 사상과 의견에 대한 아무런 제한 없는 자유로운 표현을 보장하는 데 따른 불가피한 결과이고 이러한 표현도 자유 토론과 진실 확인에 필요한 것이므로 함께 보호되어야 하기 때문이다.

#### <보기>

- ㄱ. 국민의 알 권리가 중시되어야 한다.
- ㄴ. 언론의 오류 보도로 인한 피해를 줄여야 한다.
- ㄷ. 언론의 사회적 감시 기능이 무시되어서는 안 된다.
- ㄹ. 언론의 과실로 인한 손해에 대해 책임이 강화되어야 한다.

- ① ㄱ, ㄴ
- ② ㄱ, ㄷ
- ③ ㄴ, ㄷ
- ④ ㄴ, ㄹ
- ⑤ ㄷ, ㄹ

[09~10] 다음 신문 기사를 읽고 물음에 답하시오.

○○ 일보 2013. 12. 8.

**장난이었다?...학교폭력 가해자, 학교장 상대로 소송 냈다가 패소**

2012년 3월 서울의 한 중학교에서 A군(만 16세)은 같은 반 B군을 '돌출입', '돼지'라 부르며 놀렸다. 물통을 휘둘러 B군을 위협하거나 30cm 자로 옆구리를 찌렀다. A군 부모는 학교 측이 A군에게 사회봉사 3일의 징계를 하자 소송을 제기하였다. A군 부모는 법정에서 "A군과 B군이 서로 장난을 쳤을 뿐 학교폭력은 없었다"며 "교사가 협박해 거짓 진술서를 쓰게 됐다"고 주장했다. ○○고등법원은 A군이 학교장을 상대로 낸 사회봉사 취소 청구 소송에서 원심처럼 원고 패소 판결을 내렸다. 재판부는 "신체적 악점을 이용해 별명을 붙였고 자를 휘두르는 폭행을 가했다"며 "B군이 정신적 고통을 받았고 학교 폭력으로 인정된다"고 판시했다. A군 부모는 진술서를 받은 교사를 강요죄로 고소했으나 검찰은 무혐의 처분만을 내렸다.

**09** 위 기사의 A군에 대한 법적 지위와 권리에 대한 설명으로 옳은 것은? [3점]

- ① 원칙적으로 취업이 금지된다.
- ② 단독으로 유효한 유언을 할 수 있다.
- ③ 학교에서 퇴학 처분을 받을 수도 있다.
- ④ 범죄 행위로 가정법원 소년부에서 재판을 받을 수는 없다.
- ⑤ 형사 입건될 경우 형사 처분에 관한 특별 조치가 적용될 수 있다.

**10** 위 기사의 사례에 대한 법적 분석으로 옳은 것은? [3점]

- ① 원고 또는 피고는 항소하지 않았다.
- ② 공법상 다툼을 해결하는 소송이 진행되었다.
- ③ 법정 다툼에서 국민 참여 재판이 적용될 수 있다.
- ④ A군에 대한 학교의 사회봉사 징계는 소송의 대상이 될 수 없다.
- ⑤ 교사는 무혐의 처분을 받았으므로 국가에 형사 보상을 청구할 수 있다.

**11** 다음은 어느 근대 정치 사상가의 주장이다. 이에 대한 옳은 설명을 <보기>에서 고른 것은? [3점]

- 입법권이란 공동체가 그 성원을 보전해가기 위하여 국가의 힘이 과연 어떻게 행사되어야 할 것인지를 지시하는 권력이며, 그것은 국가의 최고 권력이다. 집행권을 포함한 일체의 다른 권력은 입법권으로부터 유래되는 것이며, 그것에 종속되지 않으면 안 된다.
- 행정권 또는 집행권은 법률을 집행하는 권력이다. 입법권이 상설의 입법부로서 존재해야 할 필요가 없는 것과는 달리 집행부는 항상 존재하지 않으면 안 된다.

<보기>

- ㄱ. 3권 분립을 주장하고 있다.
- ㄴ. 국가 권력의 기능적인 구별을 전제로 한다.
- ㄷ. 권력 기관 간의 견제를 위한 힘의 균형을 강조하고 있다.
- ㄹ. 대통령제보다 의원 내각제 정부의 형성에 큰 영향을 주었다.

- ① ㄱ, ㄴ                          ② ㄱ, ㄷ                          ③ ㄴ, ㄷ
- ④ ㄴ, ㄹ                          ⑤ ㄷ, ㄹ

**12** 다음의 정치 방식에 대한 진술로 옳은 것은?

14세기 초부터 알프스 산악지대에 위치한 작은 칸톤에서 시작된 스위스의 란츠게마인데는 오늘날 글라루스(인구 3만 5천 명)와 압펜첼 내곽(인구 1만 3천 명) 두 칸톤에서만 열리고 있다. 란츠게마인데에 참석한 주민은 자유롭게 발언하고 토론하며 그 자리에서 직접 거수로 의사 결정에 참여한다. 무엇보다 주민은 거의 무제한으로 개인 발언권을 행사한다. 심지어 단 한 명의 주민이 칸톤 헌법의 전면 또는 부분 개정까지 발의할 수 있다. 이 주민 총회에서 주민은 칸톤 법률·조약의 제·개정뿐만 아니라 세율과 일정액 이상의 세율을 직접 결정한다.

- ① 주민 자치를 실현하는 유일한 방식이다.
- ② 중우 정치로 타락할 가능성을 최소화하였다.
- ③ 주민의 이익을 공공 정책에 반영하기에 불리하다.
- ④ 치자(治者)와 피치자(被治者)의 구분을 중시한다.
- ⑤ 주민이 정치의 객체로 전락하는 관객 민주주의의 우려가 적다.



[13~14] 다음 글을 읽고 물음에 답하시오.

K씨는 2000년 국가보안법 위반으로 징역 4년 6월을 선고받아 복역하다 2003년 ㉠ 특별 사면으로 출소했다. 2007년 법무부 보안 관찰 심의 위원회는 K씨에 대한 보안 관찰 처분을 의결했고 이후 2009년과 2011년, 2013년 7월에 거듭 기간 갱신을 결정했다. 신청인은 2013년 8월 보안 관찰 처분 기간 갱신 결정 취소 청구 ㉡ 소송을 ○○법원에 제기했고 소송 계류 중에 보안관찰법에 대해 위헌 법률 심판 제청 ㉢ 신청을 하였다.

13 위 글의 밑줄 친 ㉠~㉢에 대한 옳은 설명을 <보기>에서 고른 것은?

<보기>

- ㄱ. ㉠은 대법원장의 권한이다.
- ㄴ. ㉡은 공적 다툼을 해결하기 위한 소송이다.
- ㄷ. ㉢이 수용되면 해당 재판은 일단 중지된다.
- ㄹ. ㉢은 헌법재판소에 제출되어야 한다.

- ① ㄱ, ㄴ                    ② ㄱ, ㄷ                    ③ ㄴ, ㄷ
- ④ ㄴ, ㄹ                    ⑤ ㄷ, ㄹ

14 다음은 위 자료에 있는 ㉣의 일부 내용이다. 밑줄 친 부분에 들어갈 죄형 법정주의의 세부 원칙으로 옳은 것은?

보안관찰법은 사생활 전반에 관여함으로써 사상과 양심을 감시하고 통제하려는 법으로 헌법이 보장하는 양심의 자유를 침해하고 있다. 그럼에도 보안관찰법은 보안 관찰 처분의 기간을 갱신할 수 있다고만 규정할 뿐 갱신 기간의 횟수나 최대 한을 정하고 있지 않아 절대적 부정기 보안 관찰 처분을 허용하고 있다. 2년마다 갱신되기만 하면 대상자는 사망할 때까지 보안 관찰 처분을 받을 수도 있는 것이다. 이는 형사 제재 기간의 한정을 요구하는 죄형 법정주의의 \_\_\_\_\_을 위반한 것이다.

- ① 명확성의 원칙
- ② 적정성의 원칙
- ③ 형벌 불소급의 원칙
- ④ 관습형법 금지의 원칙
- ⑤ 유추 해석 금지의 원칙

15 다음 자료의 밑줄 친 ㉠~㉣에 대한 분석으로 옳은 것은?

국제 연합 안전 보장 이사회의 결의에 따라 구성된 ㉠ 국제안보지원군(ISAF)은 현재 7만 5000여 명 규모의 병력 중 대부분을 내년 말까지 철수시키고 그 이후에 최대 1만 2,000명의 병력을 남겨 치안 유지와 아프가니스탄군 훈련 임무를 수행하는 방안을 추진하고 있다. 이에 미국과 아프가니스탄 정부는 2014년 이후에 주둔하는 ㉡ 외국군의 지위와 관련한 안보 협정에는 합의했지만 ㉢ 카르자이 대통령은 2014년 4월 선출되는 차기 대통령이 이 협정에 서명해야 한다는 이유로 서명을 미루고 있다.

- ① ㉠은 비정부 국제기구이다.
- ② ㉠의 존재는 국제 사회를 바라보는 현실주의적 관점의 근거가 된다.
- ③ ㉡이 발효될 경우 당사국 외에도 적용된다.
- ④ ㉢은 초국가적 행위 주체이다.
- ⑤ ㉢은 ㉡에 대해 비준하지 않고 있다.

16 다음은 어떤 토론자가 2013년 TV토론에서 우리나라 국회의원 선거 제도에 대한 자신의 주장을 강화하기 위해 제시한 자료이다. 이를 통해 추론한 토론자의 적절한 주장을 <보기>에서 고른 것은? [3점]

△△지역 유권자 총선 표심 현황

구분	○○○당 후보 득표율	○○○당 의석 점유율
제17대 (2004년)	52%	94%
제18대 (2008년)	54%	94%

<보기>

- ㄱ. 군소 정당 난립을 막기 위한 장치가 필요합니다.
- ㄴ. 국회에서 유권자의 의사가 제대로 반영되기 어렵습니다.
- ㄷ. 사표가 적게 발생하는 선거 제도로 변경해야 합니다.
- ㄹ. 선거 제도보다 투표를 하지 않는 유권자의 의식에 문제가 있습니다.

- ① ㄱ, ㄴ                    ② ㄱ, ㄷ                    ③ ㄴ, ㄷ
- ④ ㄴ, ㄹ                    ⑤ ㄷ, ㄹ



**[17~18]** 다음은 ○○국의 의회 선거 제도를 소개한 것이다. 읽고 물음에 답하시오.

- 2명 이상의 대표를 선출하는 각 선거구에서 정당들은 여러 명의 복수 후보를 출마시킨다. 이 후보들에게는 당선 우선 순위를 나타내는 순번이 있지만, 이것이 마음에 들지 않는 유권자들은 후순위 후보를 선택할 수 있고, 유권자의 선택에 의해 우선순위가 조정될 수 있다.
- 유권자가 한 후보를 찍으면 그 후보의 소속 정당을 정당 투표로 인정한다. 찍고 싶은 후보가 없으면 정당만 찍어도 된다.
- 정당 득표율이 4%를 넘긴 정당들이 획득한 표를 1.4로 나누고 최다 득표한 정당이 1석을 가져가고 그 정당의 값에 나누기 3을 해 놓는다. 나누기 3을 한 정당과 나머지 당의 표 중에 최다표인 정당이 또 1석을 가져가는데, 처음 의석을 가져가면 나누기 3을 하고 2석째 의석을 가져가면 나누기 5를 한다. 이런 식으로 1석, 2석, 3석 가져갈 때마다 3, 5, 7로 나누어 한 선거구에서 각 정당이 배분받을 의석수를 결정한다.

**17** 위 ○○국의 선거 제도에 대한 설명으로 옳은 것은? [3점]

- ① 다수 대표제를 채택하고 있다.
- ② 우리나라와 같은 1인 2표제이다.
- ③ 군소 정당의 난립을 방지하기 위한 대책이 없다.
- ④ 국민이 정당의 공천권을 견제할 수 있는 제도를 채택하고 있다.
- ⑤ 한 선거구에서 정당별 득표수 순위와 배정된 의석수 순위가 역전될 수 있다.

**18** 4석을 선출하는 어떤 선거구의 정당별 득표수가 다음과 같을 때 정당별 배분 의석수로 옳은 것은?

정당	득표수	득표수 ÷ 1.4
갑당	49,337	35,240.71
을당	24,906	17,790.00
병당	15,409	11,006.42
정당	6,689	4,777.85

	갑당	을당	병당	정당
①	1	1	1	1
②	2	1	1	0
③	2	2	0	0
④	3	1	0	0
⑤	4	0	0	0

**19** 표는 두 헌법 기관 (가), (나)의 감사 A, B를 비교한 것이다. 이에 대한 설명으로 옳지 않은 것은?

구분	A	B
목적	통제 및 정보 수집	대행정부 감찰
대상	모든 국가 기관	행정 기관
내용	국정 전반에 대한 감사	회계 감사, 직무 감찰
성질	외부 통제	행정부 내부 통제
담당 기관	(가)	(나)


- ① A는 권력 분립에 따른 견제의 의미를 가진다.
- ② B는 행정부가 스스로 잘못을 시정하는 의미를 가진다.
- ③ (가)는 조세의 종목과 세율을 최종 결정한다.
- ④ (나)는 대통령 직속의 헌법 기관이다.
- ⑤ (가)는 세입·세출의 결산을 검사하여 그 결과를 (나)에 제출한다.

**20** 다음은 국회에서 처리하는 두 가지 유형의 안건을 비교한 것이다. A, B에 대한 옳은 분석을 <보기>에서 고른 것은? [3점]

구분	A	B
헌법상 근거	헌법 제54조	헌법 제53조
성격	다음해의 국가 재정 운영 계획안	입법안
수정	수정의 경우 제출자의 동의가 필요한 경우 있음	국회에서 제한 없이 수정·추가 가능
시한	매 회계연도 개시 90일 전까지 제출, 30일 전까지 의결	제한 없음

- <보기>
- ㄱ. A와 달리 B는 상임 위원회 심사 절차를 거친다.
  - ㄴ. A와 달리 B는 10인 이상의 국회의원이 제출할 수 있다.
  - ㄷ. A, B를 정부가 국회에 제출하기 위해서는 국무 회의 심의 절차를 거쳐야 한다.
  - ㄹ. A, B 모두 국회에서 의결되어도 대통령의 거부권이 가능하다.

- ① ㄱ, ㄴ                      ② ㄱ, ㄷ                      ③ ㄴ, ㄷ
- ④ ㄴ, ㄹ                      ⑤ ㄷ, ㄹ



# 실전 모의고사 3회

시간 30분 / 배점 50점

문항에 따라 배점이 다르니, 각 물음의 끝에 표시된 배점을 참고하십시오. 3점 문항에만 점수가 표시되어 있습니다. 점수 표시가 없는 문항은 모두 2점씩입니다.

## 01 다음 주장에 나타난 민주주의의 의미에 대한 적절한 설명을 <보기>에서 고른 것은?

민주주의를 흔히 다수결에 따른 논리와 연결시키곤 한다. 그러나 이것은 민주주의의 의미 중 일부일 뿐이다. 민주주의의 의미 중 가장 중시되어야 하는 것은 개인의 차이를 인정하고 서로 다른 의견을 통합시켜 나가는 의사 결정 원리로서의 측면이다.

<보기>

- ㄱ. 의사 결정의 결과보다 과정을 중시한다.
- ㄴ. 치자와 피치자의 동일성 확보가 중요한 요소이다.
- ㄷ. 구체적 덕목으로 타인에 대한 배려, 공동체 의식 등을 강조한다.
- ㄹ. 인간의 존엄성에 바탕을 둔 국가와 사회의 운영 원리에 해당한다.

- ① ㄱ, ㄴ                      ② ㄱ, ㄷ                      ③ ㄴ, ㄷ
- ④ ㄴ, ㄹ                      ⑤ ㄷ, ㄹ

## 02 교사의 질문에 대해 올바른 대답을 한 학생은?

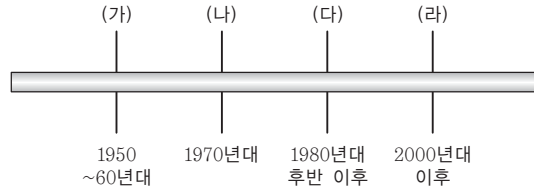
(가), (나)의 특징에 대해 발표해 보세요.



<학습 주제> 민주주의와 이념  
 <학습 내용>  
 • 우선시하는 가치관에 따른 민주주의의 유형  
 (가) : 자유보다 평등을 우선시  
 (나) : 평등보다 자유를 우선시

- ① 갑 - (가)는 대의 민주주의보다 직접 민주주의를 선호합니다.
- ② 을 - (나)의 등장 배경으로는 의회 민주주의의 위기를 들 수 있습니다.
- ③ 병 - (가)는 (나)보다 국민 복지에 대한 관심이 큼니다.
- ④ 정 - (나)는 (가)에 비해 공공복리와 형평성을 중시합니다.
- ⑤ 무 - (가), (나) 모두 자본주의 경제 발달에 따른 문제점 해결에 소극적입니다.

## 03 (가)~(라)는 우리나라 외교의 전개 과정을 시기별로 구분한 것이다. 이에 대한 옳은 설명을 <보기>에서 고른 것은?



<보기>

- ㄱ. (가) 시기에는 공산권 국가에도 문호를 개방하기 시작했다.
- ㄴ. (나) 시기에는 이념에 기초한 우방국 중심 외교를 천명하였다.
- ㄷ. (다) 시기에는 실리 중심의 북방 외교 및 공산권 국가와 교류를 활발히 전개했다.
- ㄹ. (라) 시기에는 경제·문화·체육 분야 등 다각적 측면에서의 외교를 추진하고 있다.

- ① ㄱ, ㄴ                      ② ㄱ, ㄷ                      ③ ㄴ, ㄷ
- ④ ㄴ, ㄹ                      ⑤ ㄷ, ㄹ

## 04 다음에 제시된 국제법들은 서로 다른 법원(法源)의 예이다. (가), (나)를 구분하는 데 적절한 질문을 <보기>에서 고른 것은?

- (가) 한 나라의 경제, 정치, 사회 등의 관할 사항은 그 나라 국민의 자유의사에 의해 결정되어야 하므로 다른 나라나 국제 조직은 간섭해서는 안 된다.
- (나) 한쪽 당사자인 대한민국과, 다른 쪽 당사자로서 ..... 유럽 연합 회원국 ..... 은 세계 무역 기구 협정과 양 당사자가 당사자인 그 밖의 다자적, 지역적 및 양자적 협정과 약정 상의 그들 각각의 권리 및 의무에 기초하여, 다음과 같이 합의하였다.

<보기>

- ㄱ. 강제적 집행이 가능한가?
- ㄴ. 당사국 외에도 효력이 미치는가?
- ㄷ. 별도의 체결 절차가 존재하는가?
- ㄹ. 분쟁 발생 시 관련 법규의 내용이 명확하지 않을 경우에 재판 준거로 사용 가능한가?

- ① ㄱ, ㄴ                      ② ㄱ, ㄷ                      ③ ㄴ, ㄷ
- ④ ㄴ, ㄹ                      ⑤ ㄷ, ㄹ

**05** 갑~병은 대표적인 근대 사회 계약론자들이다. 이들에 대한 설명으로 옳은 것은? [3점]

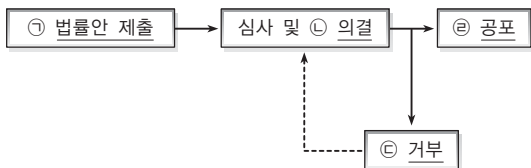
갑 : 자연 상태는 평등한 상태이지만 사적 소유로 인해 불평등이 등장하였다. 이러한 불평등, 그리고 부자유를 극복하기 위해 사람들은 국가를 만들었고, 일반 의지에 따라 국가를 운영한다.

을 : 자연 상태의 인간들은 자신의 안전을 위협받는 투쟁 상태에 있다. 이런 상태에서 안전을 확보하기 위해 사회 구성원들은 계약을 통해 국가를 만들었다.

병 : 자연 상태는 자유롭고 평화로운 상태이지만, 질서를 유지하고 조정해줄 권위체가 없다. 이러한 불안정한 상태를 벗어나기 위해 사회 구성원들은 사회 계약을 맺어 국가를 만들고, 타인에 피해를 주는 행위 등에 대한 제재권을 국가에 양도하였다.

- ① 갑은 절대 군주제를 가장 바람직한 정치 체제로 간주했다.
- ② 을은 국가는 국민들의 직접적인 의사에 따라 운영되어야 한다고 주장했다.
- ③ 병은 사회 계약을 맺을 때 구성원들의 권리는 일부만 양도된다고 주장했다.
- ④ 갑, 을과 달리 병은 구성원들의 저항권을 인정하지 않는다.
- ⑤ 갑, 을, 병 모두 국가는 수단이 아니라 목적이라는 입장을 취하고 있다.

**06** 다음은 우리나라의 법률 제정 절차이다. 밑줄 친 ㉠~㉣에 대한 설명으로 옳은 것은? [3점]



- ① ㉠은 정부, 국회의원 20인 이상 또는 국회 상임 위원회가 할 수 있다.
- ② ㉡을 통과하기 위해서는 국회 재적 의원 과반수 출석과 출석 의원 과반수의 찬성이 필요하다.
- ③ ㉡의 절차를 거친 법률안은 즉시 효력이 발생한다.
- ④ ㉢은 대통령, ㉣은 국회의장의 권한에 속한다.
- ⑤ ㉣을 거친 법률안이 ㉡을 다시 통과하기 위해서는 국회 재적 의원 2/3의 출석 및 출석 의원 과반수의 찬성이 필요하다.

**[07~08]** 다음은 서로 다른 전행적인 정부 형태를 지닌 갑국과 을국의 최근 의회 의원 선거 결과이다. 물음에 답하십시오. (단, 두 나라 의회 의원 선거 결과 정당별 의석률 분포는 지난 10년 동안 거의 비슷하게 나타나고 있다.)

국가	구분		행정부 수반 소속 정당
	정당	의석률(%)	
갑국	A당	41	A당
	B당	35	
	C당	11	
	D당	6	
	E당	4	
	기타	3	
을국	a당	53	b당
	b당	38	
	c당	5	
	d당	3	
	기타	1	

**07** 갑국과 을국의 정부 형태의 특징으로 옳은 것은?

- ① 갑국은 행정부 수반과 국가 원수가 일치한다.
- ② 을국의 내각은 의회에 법률안을 제출할 수 있다.
- ③ 갑국이 을국보다 견제와 균형의 원리가 잘 나타난다.
- ④ 갑국과 달리 을국에서는 의원이 각료를 겸임할 수 있다.
- ⑤ 갑국보다 을국에서 의회와 행정부 간 대립의 해결이 어렵다.

**08** 갑국과 을국의 정치 상황에 대한 옳은 추론 내용을 <보기>에서 고른 것은? [3점]

<보기>

ㄱ. 갑국은 강력한 정책 수행이 용이할 것이다.  
 ㄴ. 갑국보다 을국에서 다수당의 횡포 견제가 쉬울 것이다.  
 ㄷ. 갑국보다 을국에서 정치적 책임 소재가 분명할 것이다.  
 ㄹ. 을국에 비해 갑국은 다양한 민의 반영이 곤란할 것이다.

- ① ㄱ, ㄴ                      ② ㄱ, ㄷ                      ③ ㄴ, ㄷ
- ④ ㄴ, ㄹ                      ⑤ ㄷ, ㄹ



[09~10] 다음은 갑국의 의회가 지역구 의원 선거구제 개편 여부를 논의하기 위해 A지역에 대한 모의 분석을 한 결과이다. 물음에 답하십시오. (단, 개편 전에는 한 선거구 당 2명, 개편 후에는 한 선거구당 1명의 대표자를 선출한다.)

선거구		정당별 유효 득표수(천 표)				
개편 전	개편 후	가당	나당	다당	라당	기타
A	A1	53	37	8	5	1
	A2	28	39	20	16	4
B	B1	45	12	40	15	2
	B2	35	28	23	7	4
C	C1	28	32	30	13	1
	C2	22	25	22	34	3

09 갑국 의회가 선거구제 개편을 통해 달성하고자 하는 목표로 가장 적절한 것은?

- ① 다당제를 촉진한다.
- ② 사표 발생률을 줄인다.
- ③ 선거 관리의 용이성을 높인다.
- ④ 케리맨더링의 가능성을 줄인다.
- ⑤ 군소 정당의 의회 진출 가능성을 높인다.

10 A지역의 모의 분석 결과만을 가지고 논의할 때 나타날 수 있는 현상을 <보기>에서 고른 것은? [3점]

<보기>

- ㄱ. 가당은 선거구제 개편에 긍정적인 것이다.
- ㄴ. 선거구제 개편에 가장 부정적인 당은 다당일 것이다.
- ㄷ. 선거구제 개편 전후 나당과 라당의 의석수에는 변화가 없을 것이다.
- ㄹ. 논의 과정에서 보통 선거 이념이 훼손되기 쉽다는 우려가 제기될 수 있다.

- ① ㄱ, ㄴ                      ② ㄱ, ㄷ                      ③ ㄴ, ㄷ
- ④ ㄴ, ㄹ                      ⑤ ㄷ, ㄹ

11 다음 글에서 강조하는 언론의 기능으로 가장 적절한 것은?

최근 사회적으로 중요한 사건의 많은 부분은 개인들의 SNS를 통해 알려지고 그 진행 과정 역시 실시간으로 전송된다. 이제 방송에서마저 개인들의 문자 및 영상 제보를 적극적으로 이용하기도 한다. 이런 시대에 있어서 과연 언론이 설 곳은 있을까? 이러한 질문에 대해 많은 사람들이 언론은 여전히 그 역할이 있다고 주장한다. 다만 예전에는 정보의 신속한 전달이 언론의 몫이었다면 요즘의 언론은 이미 발생한 사건의 원인은 무엇이고, 사건에 등장하는 주요 인물은 누구이며, 향후의 정치·사회적 영향은 무엇인지를 보다 면밀하게 분석하는 방향으로 그 역할을 변화시키고 있다는 것이다.

- ① 다양한 정치적 이익을 집약한다.
- ② 정치권력에 대해 견제와 감시를 한다.
- ③ 정치적 쟁점에 대한 의제를 설정한다.
- ④ 정치 정보를 심층적으로 분석·전달한다.
- ⑤ 시민들의 정치적 의견 형성에 영향을 미친다.

12 다음 글에 나타난 헌법 소원의 유형에 대한 옳은 설명을 <보기>에서 고른 것은? [3점]

헌법재판소는 2011년 8월 2006헌마788 사건에 대해 위헌 결정을 내렸다. 헌법재판소에 따르면 동 사건의 청구인들이 일본국에 대하여 가지는 일본군 위안부로서의 배상 청구권이 '대한민국과 일본국 간의 재산 및 청구권에 관한 문제의 해결과 경제협력에 관한 협정' 제2조 제1항에 의하여 소멸되었는지 여부에 관한 한·일 양국 간 해석상 분쟁이 존재함에도 불구하고 피청구인으로서의 정부가 위 협정 제3조가 정한 절차에 따라 해결하지 아니하고 있는 것은 위헌이라는 것이다.

<보기>

- ㄱ. 권리 구제형 헌법 소원이다.
- ㄴ. 법률의 위헌 여부가 재판의 전제가 된 경우에 활용한다.
- ㄷ. 법원의 재판 결과에 대해서는 원칙적으로 청구할 수 없다.
- ㄹ. 기본권을 침해받는 당사자가 아닌 경우에도 청구할 수 있다.

- ① ㄱ, ㄴ                      ② ㄱ, ㄷ                      ③ ㄴ, ㄷ
- ④ ㄴ, ㄹ                      ⑤ ㄷ, ㄹ

**13** (가), (나)와 관련된 국회의원의 특권 및 상황에 대한 설명으로 옳은 것은?

(가) ○○부에 대한 국정 감사에서 국회의원 갑이 장관인 을이 공금을 횡령한 정황이 짙다며 의혹을 제기하자, 을은 근거 없는 인신공격성 발언이라며 갑을 명예 훼손죄로 고소하겠다고 맞받아쳤다.

(나) 정치자금법 위반 혐의로 도피 중인 국회의원 병에 대한 체포 동의안이 정기 국회에 상정되어 본회의에서 표결을 한 결과 부결되었다.

- ① (가)에서 갑이 누리는 특권은 국회의원 임기 중에만 유효하다.
- ② (가)에서 의혹이 허위라면 갑은 명예 훼손죄로 처벌 받을 수 있다.
- ③ (나)의 표결 결과 경찰은 즉시 병을 체포할 수 있다.
- ④ (나)의 표결 결과와 무관하게 국회 회기가 끝나면 경찰은 병을 체포할 수 있다.
- ⑤ (가), (나)에 나타난 국회의원의 특권을 제한하기 위해서는 법률을 개정하여야 한다.

**14** 그림은 ○○ 건물에 대한 등기부 등본의 일부이다. 이에 대한 분석으로 옳은 것은? [3점]

(가)				
순위 번호	등기 목적	접수	등기 원인	권리자 및 기타 사항
1	소유권 보존	2003년 11월 7일		소유자 A (이하 생략)
2	소유권 이전	2012년 7월 25일	2012년 7월 2일 매매	소유자 B (이하 생략)
(나)				
순위 번호	등기 목적	접수	등기 원인	권리자 및 기타 사항
1	저당권 설정	2012년 7월 5일	2012년 7월 5일 설정 계약	저당권자 C (이하 생략)
2	전세권 설정	2014년 4월 14일	2014년 4월 11일 설정 계약	전세권자 D (이하 생략)

- ① (가)는 표제부, (나)는 갑구이다.
- ② 2012년 7월 10일에 A에게 돈을 빌려준 사람은 일주일 뒤에 ○○ 건물을 가압류할 수 없었다.
- ③ 2012년 7월 5일의 저당권 설정 계약 주체는 B와 C이다.
- ④ C는 ○○ 건물이 경매로 넘어갈 경우 D보다 우선 변제를 받을 수 있다.
- ⑤ 2014년 4월 11일에 D는 주택 임대차 계약서에 확정일자를 받았다.

**15** 다음 사례에 대한 옳은 법적 판단을 <보기>에서 고른 것은? [3점]

○○시에서 관리하는 상수도관에 균열이 생겨 도로에 물이 고였는데 추운 겨울날이라 곧 빙판이 되었지만, 장비 문제 등으로 ○○시는 조치를 하지 못했다. 그런데 도로를 지나던 △△운수 소속 택시의 운전자 갑이 미처 빙판을 발견하지 못하여 택시가 미끄러지면서 인도에 있던 행인 을에게 중상을 입혔다.

<보기>

- ㄱ. 을은 갑을 상대로 손해 배상을 청구할 수 없다.
- ㄴ. 을은 △△운수를 상대로 손해 배상을 청구할 수 있다.
- ㄷ. 을은 ○○시의 과실을 입증해야만 손해 배상을 청구할 수 있다.
- ㄹ. 을은 ○○시를 상대로 정신적 손해에 대해서도 손해 배상을 청구할 수 있다.

- ① ㄱ, ㄴ                      ② ㄱ, ㄷ                      ③ ㄴ, ㄷ
- ④ ㄴ, ㄹ                      ⑤ ㄷ, ㄹ

**16** 다음 사례와 관련된 법적 판단으로 옳은 것은? [3점]

갑(만 18세)은 인터넷 강의를 듣기 위해 태블릿 PC를 알아보던 중 우연히 들어간 전자 제품 판매점에서 마음에 드는 제품을 발견하여 할부로 구매하기로 계약하였다. 그러나 실제로 써본 결과 화면 해상도가 예상보다 좋지 못하고 처리 속도도 판매점에서 제시한 것보다 느린 것을 알게 되어 다음날 반품을 요청하였다. 그러나 업체에서는 전자 제품의 특성상 이미 사용한 제품에 대해서는 반품 요청을 받아들일 수 없다고 하였다.

- ① 갑의 계약은 처음부터 효력을 발생하지 못한다.
- ② 갑이 제품에 만족하지 못하더라도 제품을 이미 사용하였기 때문에 반품은 불가능하다.
- ③ 갑이 반품을 위해 내용 증명 우편을 발송하면 기재된 내용의 사실 관계는 법적으로 확정된다.
- ④ 갑이 신분증을 위조하여 성년으로 속인 뒤 계약을 맺었다면 갑의 법정 대리인은 계약을 취소할 수 없다.
- ⑤ 갑이 법정 대리인의 동의를 얻어 계약을 맺었다더라도 갑이 미성년자임을 이유로 갑의 법정 대리인은 계약을 취소할 수 있다.

**17** 다음 사례에서 상속 문제에 대한 설명으로 옳은 것은? [3점]

A는 교통사고로 인해 최근 유언도 남기지 못하고 사망하였다. 전처 B와는 5년 전에 협의 이혼을 하였는데 두 사람 간의 자녀로는 아들 C(만 18세)와 딸 D(만 16세)가 있다. 한편 현재의 처인 E는 전 남편과 사별하고 아들 F(만 13세)를 기르다가 A와 3년 전 결혼식을 올리면서 혼인 신고를 하였으며, A와 협의를 통해 F를 A의 친자녀처럼 길러왔다. A가 남긴 재산은 3억 5천만 원이다.

- ① B와 E의 상속분은 같다.
- ② C는 1억 5천만 원을 상속받는다.
- ③ C, D와 달리 F는 상속을 받을 수 없다.
- ④ E가 상속을 포기할 경우 그 상속분은 F에게 돌아간다.
- ⑤ A의 사망 이후 E가 재혼하면 상속인의 자격을 상실한다.

**18** 다음 법률 상담에서 이용하도록 조언해 줄 수 있는 제도만을 <보기>에서 있는 대로 고른 것은?

저는 35세 남성으로 직장에서 퇴근하던 중 경찰의 불심 검문에서 동명의 성폭력 사범과 혼동되어 현장에서 체포되었습니다. 본인이 아니라고 강력하게 부인하였지만 무시되어 구속되었으나 진범이 잡혀 간신히 풀려났습니다. 직장에서는 성폭력 사범으로 몰려 이미 해고된 상황이고 수입이 끊겨 어려움을 겪던 가족들은 친척집을 떠도는 상황입니다. 저의 피해는 어떻게 보상받을 수 있을까요?

<보기>

- 가. 배상 명령 제도                      나. 명예 회복 제도
- 다. 형사 보상 제도                      라. 행정 심판 제도

- ① 가, 나                      ② 가, 라                      ③ 나, 다
- ④ 가, 다, 라                      ⑤ 나, 다, 라

**19** 다음 사례에 대한 옳은 법적 판단을 <보기>에서 고른 것은? [3점]

갑은 중학생인 자녀 을(만 14세)로 인해 골치가 아프다. 을은 자주 학교에 가지 않아 현재 67일을 결석한 상태이다.(연간 총 수업일수 195일) 또한 같은 반 학생 병에게 수차례에 걸쳐 폭행, 욕설을 하고 부당한 심부름을 시키는 등 괴롭혀 왔고, 견디다 못한 병이 학교에도 나오지 못하고 있는 상황이다. 이에 병의 부모는 학교 측에 을에 대한 ㉠ 엄중한 징계를 요구하고, ㉡ 법적 조치도 취하려 하고 있다.

[관련 법 조항] 초·중등교육법 시행령 제50조 ② 학생의 각 학년 과정의 수료에 필요한 출석일수는 ..... 수업일수의 3분의 2 이상으로 한다.

<보기>

- 가. 을은 사건에 대한 형사 처벌의 대상이 될 수 없다.
- 나. 을은 현재의 학년에서 진급을 할 수 없는 상황이다.
- 다. ㉠의 처분에는 퇴학 조치도 포함될 수 있다.
- 라. ㉡에는 갑과 학교 측을 상대로 한 손해 배상 청구가 포함될 수 있다.

- ① 가, 나                      ② 가, 다                      ③ 나, 다
- ④ 나, 라                      ⑤ 다, 라

**20** (가)~(다)는 근로권의 유형이다. 관련된 설명으로 옳지 않은 것은?

유형	내용
(가)	조합원이 단결하여 사용자와 교섭할 수 있는 권리
(나)	근로자들이 자주적으로 노동조합을 설립 및 가입할 수 있는 권리
(다)	근로자들이 주장을 관철하기 위해 쟁의 행위를 할 수 있는 권리

- ① (가)의 행사에 대해 사용자는 정당한 이유 없이 거부할 수 없다.
- ② (나)는 법률상의 근로자만이 행사할 수 있다.
- ③ (다)를 행사하기 위해서는 조정(調整) 절차를 거쳐야 한다.
- ④ (다)의 행사는 정치 활동이 되거나 경영에 관여할 목적으로 이루어져서는 안 된다.
- ⑤ 주요 방위 산업체에 근무하는 근로자는 (나), (다)의 행사가 제한된다.



문항에 따라 배점이 다르니, 각 물음의 끝에 표시된 배점을 참고하십시오. 3점 문항에만 점수가 표시되어 있습니다. 점수 표시가 없는 문항은 모두 2점씩입니다.

## 01 근대 정치 사상이 갑, 을에 대한 설명으로 옳은 것은?

**갑** : 자연 상태에서 인간은 ‘전쟁’이라 불리는 상태에 놓일 것이 분명하다. 이러한 전쟁 상태에서는 생명을 보존하기 어렵고 자신의 소유물을 지키기도 어렵다. 이에 구성원들은 ‘리바이어던’에 비유되는 강력한 국가의 형성에 동의하게 된 것이다.

**을** : 자연 상태에서 인간은 생명, 자유, 재산에 대한 위협을 받게 된다. 인간은 자기가 관계된 분쟁에서 스스로 재판관이 될 수 없으므로, 합의를 통해 다툼을 판결할 수 있는 권리를 가진 국가를 만들게 된다. 만일 국가가 자연권을 침해하게 되면 구성원들은 이에 저항할 수 있다.

- ① 갑은 직접 민주 정치를 옹호하고 있다.
- ② 갑은 국가의 의사 결정 권한을 국민이 가진다고 본다.
- ③ 을은 왕권신수설에 기초한 국가 권력의 절대성을 강조한다.
- ④ 을은 국가의 권력 남용에 대한 통제의 필요성을 강조한다.
- ⑤ 갑과 달리 을은 국가가 사회 계약의 산물이라고 본다.

## 02 다음 글을 통해 추론할 수 있는 내용으로 옳은 것은?

고대 아테네에서는 모든 시민이 참가하여 국사를 결정하는 민회와, 시민에 의해 직접 선출된 사람들로 구성된 평의회 및 재판소 등의 통치 기구가 있었다. 아테네의 시민은 추첨 또는 운번제에 의하여 이들 기관에 직접 참가하여 정책을 결정하고 집행할 뿐만 아니라 재판에도 관여하였으며 도편 추방제에도 참여하였다. 그러나 여자와 노예들은 정치적 참여에서 배제되었다.

- ① 복지 국가로 사회 보장이 이루어졌다.
- ② 여자, 노예, 외국인도 시민에 포함되었다.
- ③ 시민에 의한 직접 민주 정치가 행하여졌다.
- ④ 보통 선거로 모든 시민이 선거권을 행사했다.
- ⑤ 도편추방제를 통해 정치 지도자를 선출하였다.

## 03 밑줄 친 ㉠, ㉡에 대한 옳은 설명을 <보기>에서 고른 것은? [3점]

갑은 대학을 졸업하고 (주)◇◇사에 취직하여 즐거운 나날을 보내고 있었다. 얼마 후 동료 직원의 권유로 회사 내 ㉠ 노동조합에 가입하여 활동하였으나 회사는 이를 이유로 갑을 해고하였다. 갑은 관련 전문가에게 ㉡ 구제 방법을 문의 중이다.

<보기>

- ㉠. ㉠을 이유로 한 해고는 부당 노동 행위이다.
- ㉡. ㉠을 보장하는 것은 헌법에 명시된 근로자의 청구권을 보장하기 위함이다.
- ㉢. ㉡으로 지방 노동 위원회에 갑 또는 노동조합이 구제 신청을 할 수 있다.
- ㉣. ㉡으로 중앙 노동 위원회의 명령에 불복할 경우 법원에 형사 소송을 제기할 수 있다.

- ① ㉠, ㉡                      ② ㉠, ㉢                      ③ ㉡, ㉣
- ④ ㉡, ㉣                      ⑤ ㉢, ㉣

## 04 그림의 갑과 을의 진술에 나타난 기본권을 차례대로 A, B라 할 때, 이에 대한 설명으로 옳은 것은?



- ① A는 사회적 약자를 보호하기 위한 권리이다.
- ② A는 국가로부터 부당한 간섭을 받지 않을 권리이다.
- ③ B는 A보다 역사적으로 먼저 보장된 기본권이다.
- ④ B는 형식적 평등을 실현하기 위한 소극적 권리이다.
- ⑤ B와 달리 A는 다른 기본권 보장을 위한 수단적 성격의 권리이다.

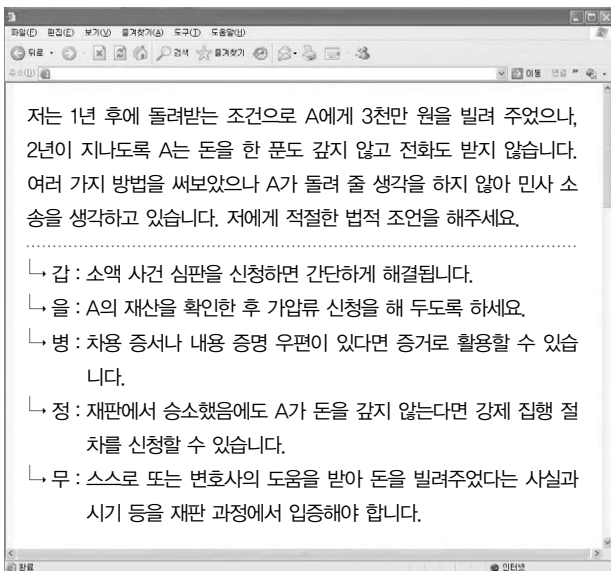


05 다음 사례에서 갑이 선택할 수 있는 합리적 상속 방식과 그 법률적 효과를 옳게 연결한 것은? [3점]

갑은 특별한 유언 없이 돌아가신 아버지로부터 5억 원 정도의 유산을 물려받게 되었다. 그런데 갑은 아버지가 남긴 빚 때문에 시달리고 있다. 문제는 빚이 정확히 얼마인지 알 수 없다는 것이다.

- ① 단순 승인 - 빚을 제외한 5억 원만 상속됨
- ② 단순 승인 - 5억 원 뿐 아니라 빚까지 그대로 상속
- ③ 한정 승인 - 5억 원의 한도 내에서 빚을 갚음
- ④ 상속 포기 - 5억 원과 별도로 빚은 갚아야 함
- ⑤ 상속 포기 - 5억 원을 포기함과 동시에 빚도 갚지 않음

06 다음은 법률 상담 사이트에 올라온 내용이다. 법적 조언을 옳지 않게 한 사람은? [3점]



- ① 갑                      ② 을                      ③ 병
- ④ 정                      ⑤ 무

07 다음 상황에 대한 옳은 법적 판단을 <보기>에서 고른 것은? [3점]

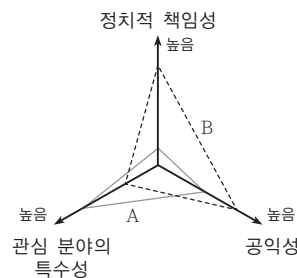


<보기>

- ㄱ. 갑은 물질적 손해 이외의 정신적 손해에 대한 배상도 받을 수 있다.
- ㄴ. 갑은 을이 고의로 손해를 입힌 경우에만 손해 배상을 받을 수 있다.
- ㄷ. 을은 일반 불법 행위, 병은 특수 불법 행위의 책임을 질 수 있다.
- ㄹ. 병은 을의 선임 및 감독 의무를 다하였음을 입증하여도 갑에 대한 손해 배상 책임을 진다.

- ① ㄱ, ㄴ                      ② ㄱ, ㄷ                      ③ ㄴ, ㄷ
- ④ ㄴ, ㄹ                      ⑤ ㄷ, ㄹ

08 정치 참여 집단 A, B에 대한 설명으로 가장 적절한 것은? (단, A와 B는 시민 단체, 정당, 이익 집단 중 하나이다.)



- ① A는 의회와 정부의 매개 기관이다.
- ② B는 공공 정책 결정 과정에서 공식적 참여자이다
- ③ B와 달리 A는 권력 획득이 목적이다.
- ④ A와 달리 B는 정부로부터 보조금을 지급받기도 한다.
- ⑤ B는 자신들의 특수 이익 실현을 위해 A를 이용하기도 한다.



**09** 밑줄 친 (가)에 들어갈 내용으로 가장 적절한 것은?

선거 결과 자료 보도  
(○○ 지역구의 선거 결과이고, 유권자는 모두 선거에 참여)

구분	A당 후보	B당 후보	C당 후보	D당 후보
득표율	25%	30%	29%	16%

갑 을 병

선거 결과 B당 후보가 당선되었어.

B당 후보를 지지한 사람은 30%에 불과한데 진정 우리의 대표자일까? 유권자 70%의 의사는 무시되는 거야.

이런 문제를 해결하기 위해서는 (가) .

- ① 결선 투표제를 해야겠어.
- ② 후보자의 수를 늘려야겠어.
- ③ 소선거구제로 변경해야겠어.
- ④ 선거구 간의 인구 편차를 줄여야겠어.
- ⑤ 게리맨더링을 막는 제도를 시행해야겠어.

**10** 국제기구를 아래 <표>의 기준으로 분류할 때, (가)와 (나)가 해당하는 영역을 바르게 연결한 것은?

(가) APEC은 협력 초기 단계에서부터 경제·기술 협력을 중시해 왔으며, 회원국 간 경제 불균형을 해소하고 역내 경제·사회적인 복지를 개선함과 동시에 회원국들의 지속적인 성장과 균형된 발전을 도모하는 데 목적을 두고 있다.

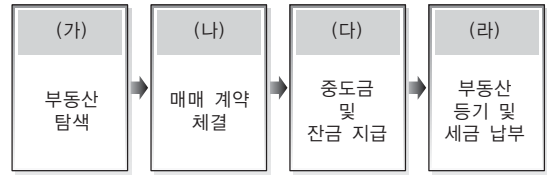
(나) 국경 없는 의사회(Medecins Sans Frontieres)는 세계 최대의 인도주의 국제 의료 구호 조직으로 1971년 정식 설립됐다. '국경 없는'이란 이름은 전쟁 또는 자연 재해가 일어났을 때 MSF는 정치적으로 피해 국가의 영토·주권을 무시하는 일이 있더라도 인도주의라는 대의(大義)에서 인명 구출을 우선으로 한다는 활동 목표에서 나왔다.

<표>

구분	정부 간 기구	비정부 간 기구
범세계적 기구	A	B
지역적 기구	C	D

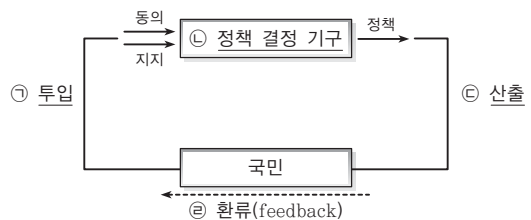
- |     |     |     |     |
|-----|-----|-----|-----|
| (가) | (나) | (가) | (나) |
| ① A | B   | ② A | D   |
| ③ C | B   | ④ C | D   |
| ⑤ D | C   |     |     |

**11** 그림은 부동산 매매의 순서를 나타낸 것이다. (가)~(라)의 단계에서 주의해야 할 사항으로 적절한 것은? [3점]



- ① (가) - 등기부 확인 없이 부동산 중개업소의 설명에 의존하여 하자나 사실 관계 등을 탐색한다.
- ② (나) - 등기부 등본과 신분증을 통해 현재 소유자와 매매 계약자가 동일인임을 대조·확인한다.
- ③ (다) - 잔금 지급과 동시에 부동산을 점유해야 소유권이 이전된다.
- ④ (라) - 등기 완료 후 등기부의 등구에 부동산의 소유권이 전이 제대로 공시되었는지를 확인한다.
- ⑤ (라) - 중도금, 잔금 지급 후 영수증은 합하여 1장으로 수령한다.

**12** 그림은 현대 정치 과정을 표현한 것이다. 밑줄 친 ㉠~㉢에 대한 설명으로 옳은 것은?



- ① ㉠은 현대적 정치 과정보다 전통적 정치 과정에서 더 중시된다.
- ② 시민 단체는 ㉡에서 활동하여 정책 결정을 주도한다.
- ③ 시민은 ㉢에서 정당 참여를 통해 정치적 요구를 한다.
- ④ 선거를 통해 정책을 평가하는 것은 ㉣의 대표적인 방법이다.
- ⑤ 권위적인 국가에서는 ㉡과 ㉢의 상호 작용이 활발하다.



13 다음은 정치 수업의 한 장면이다. 교사의 질문에 옳게 답한 학생을 고른 것은?

교사 : 지난 시간에 배운 국회의 입법 과정에 대해 물어 보겠습니다. 법률안 제안 조건은 무엇일까요?  
 갑 : 법률안 제안 조건은 최소 국회의원 20인 이상이 발의하거나 정부가 제출할 수 있습니다.  
 교사 : 제출된 법률안은 어떤 과정을 거쳐서 확정되나요?  
 을 : 10일 이상 국민에게 공고해야 합니다.  
 병 : 제출된 법률안은 해당 상임 위원회에서 심의하여 본회의에 상정됩니다.  
 정 : 본회의 심의 후 재적 의원 과반수 출석과 출석 의원 과반수 찬성으로 의결하는 것이 원칙입니다.

- ① 갑, 을                      ② 갑, 병                      ③ 을, 병
- ④ 을, 정                      ⑤ 병, 정

14 다음 사례에서 을과 병이 받을 수 있는 상속액으로 옳은 것은? [3점]



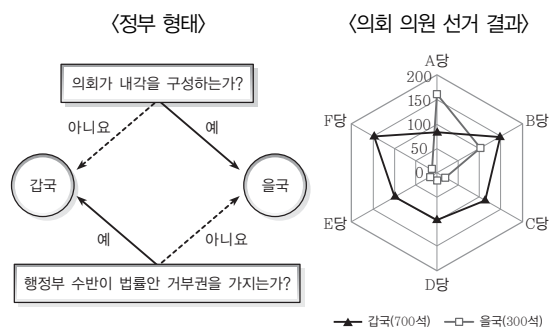
- |            |          |
|------------|----------|
| 을          | 병        |
| ① 10억 원    | 5억 원     |
| ② 7억 5천만 원 | 7억 5천만 원 |
| ③ 6억 원     | 4억 원     |
| ④ 3억 원     | 2억 원     |
| ⑤ 0원       | 0원       |

15 (가)에 해당하는 헌법 기관에 대한 설명으로 옳은 것은? [3점]

헌법 제111조 ② (가)은/는 법관의 자격을 가진 9인의 재판관으로 구성하며, 재판관은 대통령이 임명한다.  
 ③ 제2항의 재판관 중 3인은 국회에서 선출하는 자를, 3인은 대법원장이 지명하는 자를 임명한다.

- ① 모든 재판의 최종심을 담당한다.
- ② 고위 공직자에 대한 탄핵 소추권을 행사한다.
- ③ 2심 판결에 불복하여 상고할 경우 심판을 담당한다.
- ④ 위헌 결정은 재판관 9인 중 과반수의 찬성이 필요하다.
- ⑤ 국가 공권력의 행사 또는 불행사로 기본권을 침해당한 국민이 청구한 헌법 소원 심판을 담당한다.

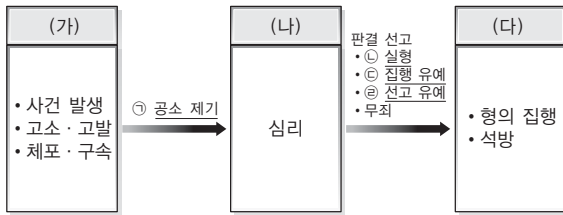
16 그림은 전형적인 정부 형태를 가진 갑국과 을국의 정부 형태와 의회 의원 선거 결과를 나타낸 것이다. 이에 대한 옳은 추론을 <보기>에서 고른 것은? [3점]



<보기>  
 가. 갑국은 연립정부 수립이 불가피할 것이다.  
 나. 갑국은 행정부 수반이 국민에 의해 선출될 것이다.  
 다. 을국은 다양한 소수 의견의 반영이 쉬울 것이다.  
 리. 을국 정부는 의회 해산권을 가지며 정치적 책임에 민감할 것이다.

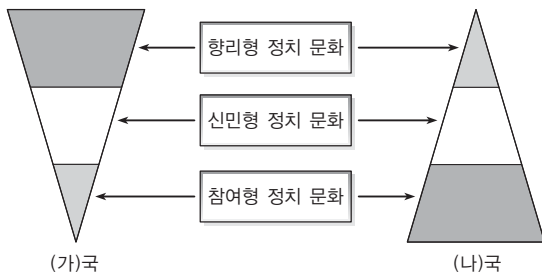
- ① 가, 나                      ② 가, 다                      ③ 나, 다
- ④ 나, 리                      ⑤ 다, 리

**17** 그림은 형사 소송의 절차를 나타낸 것이다. 이에 대한 설명으로 옳은 것은? [3점]



- ① (가) 단계에서 구속된 피의자는 구속 적부 심사를 청구할 수 있다.
- ② (나) 단계에서 범죄 사실에 대한 입증 책임은 피해자에게 있다.
- ③ (다) 단계에서 가석방을 할 때는 원칙적으로 사회봉사 명령을 부과한다.
- ④ ㉠은 검사와 피해자가 할 수 있다.
- ⑤ ㉡이 선고되면 유죄로 형이 집행되나 ㉢과 ㉣은 무죄 석방된다.

**18** 그림은 (가)국과 (나)국의 정치 문화의 구성 비율을 나타낸 것이다. (가)국에 비하여 (나)국의 일반적인 특징으로 옳은 것은?



- ① 시민 의식이 형성되어 있지 않다.
- ② 시민들은 정치 체제를 자각하지 못한다.
- ③ 시민들의 정치적 요구가 적극적이지 않다.
- ④ 부당한 법률을 무비판적으로 수용하지 않는다.
- ⑤ 시민들은 산출된 정부 정책을 인식하지 못한다.

**19** 현행 선거구를 (가)와 같이 변경할 때 예상되는 결과로 가장 적절한 것은? [3점]

선거구별 정당 지지 분포

현행 : 각 선거구에서 1인의 대표를 선출하는 제도

① 30-60-50	② 90-30-70	③ 30-50-40	④ 70-40-10
⑤ 40-60-50	⑥ 80-30-70	⑦ 30-50-40	⑧ 30-80-70

\* ①~⑧은 선거구이며 선거구 변경 후에도 정당 지지는 동일하며 모두 투표 포함  
\*\* 숫자는 순서대로 A당~C당의 지지 인원이며 후보자에 대한 투표와 일치함

↓

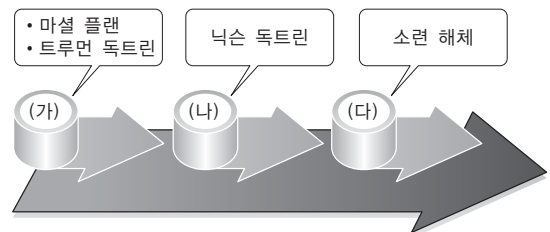
변경 후 : 각 선거구에서 2인의 대표를 선출하는 제도 (가)

①+⑤	②+⑥
③+⑦	④+⑧

\* 최다 득표자 2인을 차례대로 선출함

- ① 득표율과 의석률의 격차가 줄어들 것이다.
- ② A당은 3석, C당은 1석을 더 확보하게 될 것이다.
- ③ 군소 정당의 의회 진출 가능성이 낮아질 것이다.
- ④ 연고주의에 따른 투표의 영향력이 커질 것이다.
- ⑤ 양당 제도가 쉽게 정착되어 정국이 안정될 것이다.


**20** (가)~(다) 시기의 국제 사회에 대한 옳은 설명을 <보기>에서 고른 것은?



<보기>

㉠. (가)는 2차 세계 대전 후 냉전 체제가 확립된 시기이다.  
 ㉡. (나)는 국가 간 군사적 대립 구도에서 화해와 협력의 분위기가 형성된 시기이다.  
 ㉢. (다)는 국지적인 분쟁과 지역화 현상이 감소된 시기이다.  
 ㉣. (가)는 다극 체제가, (나)는 양극 체제가 형성된 시기이다.

- ① ㉠, ㉡
- ② ㉠, ㉢
- ③ ㉡, ㉢
- ④ ㉡, ㉣
- ⑤ ㉢, ㉣



# 실전 모의고사 5회

시간 30분 / 배점 50점

문항에 따라 배점이 다르니, 각 물음의 끝에 표시된 배점을 참고하시오. 3점 문항에만 점수가 표시되어 있습니다. 점수 표시가 없는 문항은 모두 2점씩입니다.

## 01 다음 사례에 대한 옳은 법적 판단을 <보기>에서 고른 것은? [3점]

경찰관 A는 피의자에 대한 수사 과정이 적법했는지 확인하기 위해 피의자를 검사실로 데려오라는 검사의 직무상 명령을 정당한 사유 없이 이행하지 아니하였다. 이에 B 검사는 A를 경찰관으로서의 직무를 유기하고, 인권 옹호에 관한 검사의 명령을 준수하지 아니하였다고 기소하였다. 이에 A는 형법 제 139조의 인권 옹호 직무 방해죄 규정이 명확하지 않고, 과잉금지나 비례의 원칙에 위반한다며 위헌 법률 심판 제청을 신청하였으나 법원이 위 신청을 기각하였다.

<보기>

- ㄱ. 법원의 기각 결정으로 A에 대한 재판은 계속된다.
- ㄴ. A는 헌법재판소에 헌법 소원 심판을 청구할 수 있다.
- ㄷ. 법원의 기각 결정은 A가 유죄라는 판단에 기초한 것이다.
- ㄹ. 법원은 형법 제139조가 명확성의 원칙에 위반된다고 보았다.

- ① ㄱ, ㄴ                      ② ㄱ, ㄷ                      ③ ㄴ, ㄷ
- ④ ㄴ, ㄹ                      ⑤ ㄷ, ㄹ

## 02 다음 글의 헌법 기관 A, B에 대한 설명으로 옳은 것은?

- 대통령은 행정부 최고 심의 기관인 A에 참석하여 주요 국정 현안을 협의하였다.
- 대통령은 행정 기관 및 공무원의 직무 감찰을 하는 B의 장에게 임명장을 수여하였다.

- ① A의 의장과 부의장은 국민의 선거로 선출된다.
- ② A의 결정 사항에 대통령은 반드시 따라야 한다.
- ③ B의 기능에는 예산의 결산이 포함된다.
- ④ B의 장을 임명할 때에는 국회 동의를 필요하다.
- ⑤ B의 권한 행사에는 A의 의결이 필요하다.

## 03 표는 우리나라 국가 기관 간의 권력 분립 관계를 나타낸 것이다. 이에 대한 설명으로 옳지 않은 것은? (단, (가)~(다)는 각각 입법부, 행정부, 사법부 중의 하나이다.) [3점]

구분	견제 대상		
	(가)	(나)	(다)
견제 주체	(가)	A	B
	(나)	C	D
	(다)	E	F

- ① (가)가 입법부라면 D에는 '법률안 거부권' 이 포함될 수 없다.
- ② A가 '위헌 법률 심판 제청권' 이면 F에는 '법률안 거부권' 이 포함된다.
- ③ B가 '명령 규칙 심사권' 이면 (나)는 행정부이다.
- ④ C가 '조약 체결·비준권' 이면 D에는 '대법원장 임명 동의권' 이 포함된다.
- ⑤ E가 '법률안 거부권' 이면 (나)는 사법부이다.

## 04 제한 능력자 A~C에 대한 옳은 설명을 <보기>에서 고른 것은? [3점]

- B, C는 A와 달리 가정법원의 심판에 의해 후견이 개시되었다.
- C는 B와 달리 질병이나 장애, 노령 등의 사유로 인한 정신적 제약으로 사무 처리 능력이 지속적으로 결여된 사람이다.

<보기>

- ㄱ. A의 법률 행위는 원칙적으로 무효이다.
- ㄴ. B는 피한정 후견인에 해당한다.
- ㄷ. 가정법원은 C가 단독으로 할 수 있는 법률 행위의 범위를 정할 수 있다.
- ㄹ. B와 C의 후견 개시 심판에서 가정법원은 본인의 의사가 아닌 가족 등 심판 청구자의 의사를 고려해야 한다.

- ① ㄱ, ㄴ                      ② ㄱ, ㄷ                      ③ ㄴ, ㄷ
- ④ ㄴ, ㄹ                      ⑤ ㄷ, ㄹ

**05** (가), (나) 재판에 대한 설명으로 옳은 것은?

재판	선고 내용
(가)	법원은 A 지역구 국회의원 갑에게 선거법 위반으로 벌금 100만 원을 선고하였다.
(나)	법원은 '총선에서 지역구 투표용지가 비례 대표 투표함에 서 발견되었다는 사유만으로는 당선 무효가 아니다.' 라고 선고하였다.

- ① (가)에서 법원은 선거 절차에 문제가 있다고 판단하였다.
- ② (나)에서 법원은 해당 지역구 의원의 당선 효력을 인정하였다.
- ③ (가)와 (나)의 원고는 모두 검사이다.
- ④ (가)와 (나)의 선고에 대해 모두 항소 또는 상고할 수 있다.
- ⑤ (가)는 형사 재판, (나)는 행정 재판에 해당한다.

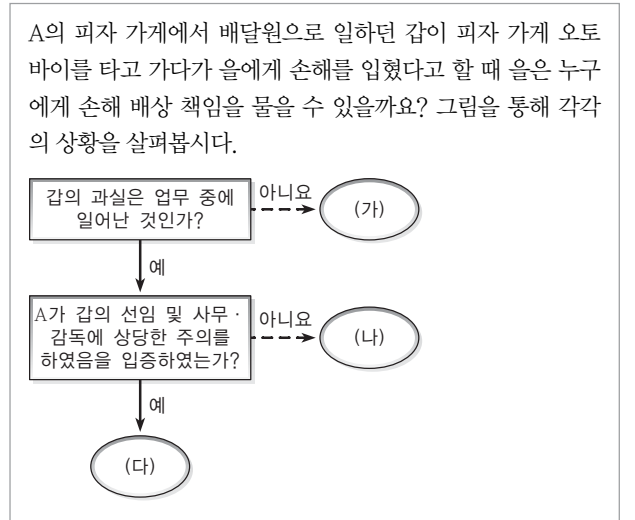
**06** 다음 대화의 (가)에 들어갈 수 있는 내용을 <보기>에서 고른 것은?

교사 : 정치의 의미에 대한 A 관점에 대해 이야기해 봅시다.  
 갑 : 모든 사회 집단에서 광범위하게 나타나는 현상으로 이해합니다.  
 을 : \_\_\_\_\_ (가) \_\_\_\_\_  
 병 : 국가도 사회 집단의 하나로 봅니다.  
 정 : 사회에 있는 희소 자원의 권위적인 배분 활동입니다.  
 교사 : 을을 제외하고는 모두 옳게 이야기했어요.

<보기>  
 ㄱ. 국가만의 고유한 활동으로 이해합니다.  
 ㄴ. 정치권력을 획득, 유지, 행사하는 과정입니다.  
 ㄷ. 다원화 된 현대 사회의 정치 현상을 설명하기에 유용합니다.  
 ㄹ. 사회 구성원의 요구를 수렴하여 이해관계를 조정하는 활동입니다.

- ① ㄱ, ㄴ                      ② ㄱ, ㄷ                      ③ ㄴ, ㄷ
- ④ ㄴ, ㄹ                      ⑤ ㄷ, ㄹ

**07** 다음 자료에 대한 옳은 설명만을 <보기>에서 있는 대로 고른 것은? [3점]



<보기>  
 ㄱ. (가)의 경우 을은 갑에 대해 일반 불법 행위 책임을 물을 수 있다.  
 ㄴ. (나)의 경우 을은 A와 갑 모두에게 손해 배상을 청구할 수 있다.  
 ㄷ. (다)의 경우 A는 을에 대한 일반 불법 행위 책임을 진다.  
 ㄹ. (가), (다)의 경우 A에게는 사용자 배상 책임이 발생하지 않는다.

- ① ㄱ, ㄷ                      ② ㄱ, ㄹ                      ③ ㄴ, ㄷ
- ④ ㄱ, ㄴ, ㄹ                ⑤ ㄴ, ㄷ, ㄹ

**08** 표는 어느 나라의 의회 의석 점유율의 변화를 나타낸 것이다. T기에 비해 T+1기에 나타날 정치 현상에 대한 추론으로 적절하지 않은 것은? (단, 이 나라는 전형적인 의원 내각제를 채택하고 있으며, 의석 점유율 1, 2위 정당 간에는 연합이 이루어지지 않는다.)

<T기>		<T+1기>	
정당	의석 점유율(%)	정당	의석 점유율(%)
갑당	58	갑당	32
을당	32	을당	33
병당	7	병당	20
정당	3	정당	15

- ① 정책 추진력이 약해질 것이다.
- ② 정치적 책임 소재가 불명확해질 것이다.
- ③ 정책 결정에서 병당의 영향력이 증가할 것이다.
- ④ 을당이 단독으로 행정부를 구성할 수 있을 것이다.
- ⑤ 국민의 다양한 의사가 정치에 반영되기 쉬워질 것이다.



09 밑줄 친 ㉠~㉣에 대한 설명으로 옳은 것은? [3점]

갑은 을에 대한 폭행으로 ㉠ 구속되어 수사를 받았다. 「폭력행위 등 처벌에 관한 법률」 위반 혐의로 ㉡ 기소된 갑은 법원에 ㉢ 불구속 상태로 재판을 받을 수 있게 해달라고 청구하였다. 법원은 이를 기각하였다. 갑은 재판 과정에서 자신의 행위가 ㉣ 위법성이 조각되는 행위라고 주장하였으나 법원은 갑의 유죄를 인정하고 ㉤ 징역 1년에 집행 유예 3년을 선고하였다.

- ① ㉠을 위해서는 경찰의 신청에 의해 검사가 발부한 영장이 필요하다.
- ② ㉡은 경찰관 또는 검사가 할 수 있는 권한이다.
- ③ ㉢을 통해 갑이 구속 적부 심사를 신청했음을 알 수 있다.
- ④ ㉣에는 법령에 의한 정당 행위가 포함된다.
- ⑤ ㉤이 확정되어 집행 유예 기간이 경과되면 면소된 것으로 간주한다.

10 다음 글의 밑줄 친 부분과 관련된 국제 정치를 바라보는 관점에 부합하는 진술로 가장 적절한 것은?

이탈리아와 오스트리아의 참혹한 전투를 목격한 앙리 뒤낭은 두 가지 제안을 하였다. 그 중 하나는 전쟁 중에 부상을 당한 젊은이들의 생명을 적군과 아군의 구별 없이 구할 수 있는 단체를 설립해야 한다는 것이다. 다른 하나는 이 단체가 전장에서 활동할 수 있도록 국제 조약을 체결하여 전쟁 당사국은 이를 보장해야 한다는 것이었다.

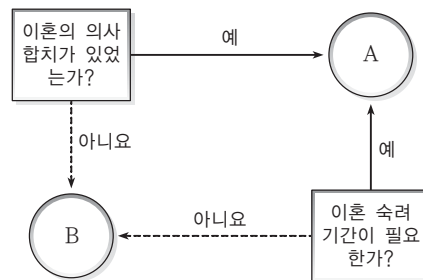
- ① 국제 조약의 체결은 각국의 이익 추구에 기초한다.
- ② 개별 국가의 이익과 국제 사회 전체의 이익은 일치한다.
- ③ 국제 사회에서 국가는 보편적 가치 추구를 목적으로 한다.
- ④ 흡스식 자연 상태에 의해 국제 사회의 본질을 설명할 수 있다.
- ⑤ 국제 사회의 질서 유지를 위해 국가 간 세력 균형이 필요하다.

11 그림의 (가), (나)에 대한 설명으로 옳은 것은?

(가)	(나)
<b>고소장</b>	<b>내용 증명</b>
고소인 : 갑 피고소인 : 을	보내는 사람 : 병(주민등록번호, 주소) 받는 사람 : 정(주민등록번호, 주소)
고소 취지 : 고소인은 피고소인을 상대로 사기죄로 고소를 제기하오니 철저히 조사하여 엄벌하여 주시기 바랍니다.	2012년 정은 병에게 1억 원을 빌리면서 연 6%의 이자를 지급하기로 약정하였습니다. 그러나 정은 그동안 이자 지급을 하지 않았습니다. 2014년 ○월 ○일까지 원금과 이자를 지급바랍니다.

- ① (가)가 제출되면 갑은 원고, 을은 피고인이 된다.
- ② (가)가 받아들여지면 갑은 을의 재산을 가압류할 수 있다.
- ③ (나)의 발송으로 병은 정의 재산을 강제 집행할 수 있다.
- ④ (나)를 정이 수취하게 되면 병과 정과의 권리 관계는 확정된다.
- ⑤ (나)는 병과 정 사이에 법적 분쟁이 발생하였을 경우 증거 자료로 활용될 수 있다.

12 그림은 이혼의 유형을 나타낸 것이다. A, B에 대한 설명으로 옳은 것은? [3점]



- ① A의 이혼 숙려 기간은 당사자 합의로 단축할 수 있다.
- ② B는 법에 정해진 사유에 해당할 때 법원의 판결로 이루어진다.
- ③ A와 달리 B에서는 이혼에 책임 있는 배우자의 재산 분할 청구가 인정되지 않는다.
- ④ A, B 모두 법원이 이혼의 이유나 동기를 확인한다.
- ⑤ A, B 모두 행정 관청에 신고서를 제출해야 효력이 발생한다.

**13** A, B는 국제법의 종류를 나타낸다. 이에 대한 옳은 설명만을 <보기>에서 있는 대로 고른 것은?

우리나라에서 A는 외교관이나 정부의 위임을 받은 공무원이 협정 문서에 서명함으로써 체결되며 국회의 동의를 거쳐 국가 원수인 대통령이 비준하고 비준서를 상호 교환하면 성립된다. 이와 달리 B는 국가 간 문제의 관행화된 해결 방법과 원칙이 반복적으로 적용되어 이러한 원칙이 각 국가로부터 법으로 승인되고 준수된다.

<보기>

- ㄱ. A는 국내법과 동등한 효력을 갖는다.
- ㄴ. A와 달리 B는 국내 재판에서 법적 판단의 기준이 될 수 있다.
- ㄷ. A와 B는 모두 체결 당사국에 한하여 효력을 가진다.
- ㄹ. A와 B는 모두 국제 사법 재판소의 판단 근거가 된다.

- ① ㄱ, ㄴ                      ② ㄱ, ㄹ                      ③ ㄴ, ㄷ
- ④ ㄱ, ㄷ, ㄹ                ⑤ ㄴ, ㄷ, ㄹ

**14** 자료의 빈칸 (가)~(라)에 들어갈 내용으로 옳은 것은? [3점]

(가), (나), (다)에 들어갈 답변을 채우고, (라)에 들어갈 적절한 질문을 <질문 상자>에서 찾아보세요.

질문	정당	이익 집단	시민 단체
행정부의 정책을 평가, 비판하는 기능을 합니까?	(가)	(나)	(다)
(라)	예	아니요	아니요

<질문 상자>

- ㄱ. 정치 사회화 기능을 합니까?
- ㄴ. 공익 추구를 목적으로 합니까?
- ㄷ. 총선에 후보를 배출하는 기능을 합니까?
- ㄹ. 자신의 활동에 대해 정치적 책임을 집니까?

- |   |     |     |     |     |
|---|-----|-----|-----|-----|
|   | (가) | (나) | (다) | (라) |
| ① | 예   | 예   | 예   | ㄹ   |
| ② | 예   | 예   | 아니요 | ㄱ   |
| ③ | 예   | 아니요 | 예   | ㄷ   |
| ④ | 아니요 | 예   | 예   | ㄹ   |
| ⑤ | 아니요 | 예   | 아니요 | ㄴ   |

**15** 다음 사례에 대한 옳은 법적 분석을 <보기>에서 고른 것은? [3점]

- 갑은 A가 소유하던 부동산을 매입하는 계약을 체결하고 계약금 지급 후 잔금을 지불하고 등기를 마쳤다.
- 다니던 직장을 그만두고 식당 운영을 준비하던 을은 시가 2억 원 상당의 아파트에 저당권을 설정하고 B은행에서 5천만 원을 대출받았다.

<보기>

- ㄱ. 갑은 등기를 마치면 소유권을 취득하게 된다.
- ㄴ. 갑과 A의 부동산 매매 계약은 반드시 문서로 하여야 그 효력이 인정된다.
- ㄷ. 을이 대출금을 갚지 못하면 B은행은 아파트에 대한 경매를 신청할 수 있다.
- ㄹ. B은행은 대출 기간 동안 을의 아파트를 타인에게 임대하여 임대료를 받을 수 있다.

- ① ㄱ, ㄴ                      ② ㄱ, ㄷ                      ③ ㄴ, ㄷ
- ④ ㄴ, ㄹ                      ⑤ ㄷ, ㄹ

**16** 밑줄 친 ㉠, ㉡과 관련된 청구권에 대한 설명으로 옳은 것은?

- (가) 피고인 갑은 사기죄로 구속되어 1심과 2심에서 유죄 선고를 받았으나 대법원에서 무죄를 선고받아 풀려났다. 이에 갑은 ㉠ 자신이 침해당한 기본권을 구제받기 위해 법적 조치를 취하고자 한다.
- (나) ○○구청이 관리하는 도로에 장마로 인해 깊은 웅덩이가 생긴 상황에서 이를 모르고 그 위를 차량으로 지나가던 을은 타이어가 파손되면서 가로수를 들이받았다. 이에 을은 ㉡ 자신이 침해당한 기본권을 구제받기 위해 법적 조치를 취하고자 한다.

- ① ㉠과 관련된 청구권은 정신적 피해 보상만을 대상으로 한다.
- ② ㉠과 관련된 청구권은 불구속 상태에서 수사를 받은 피의자에게도 보장된다.
- ③ ㉠과 관련된 청구권은 형사 사건 피해자에 대한 경제적 지원을 위한 것이다.
- ④ ㉡과 관련된 청구권을 행사하기 위해 을은 공무원의 고의나 과실을 입증해야 한다.
- ⑤ ㉡과 관련된 청구권은 공공 영조물의 하자로 인한 개인의 권리, 이익 침해를 배상하기 위한 것이다.

**17** 다음 사례에 대한 법적 판단으로 옳은 것은? [3점]

갑(만 17세)은 그동안 모아 놓은 용돈으로 오토바이를 구입하기로 마음먹었다. 을이 운영하는 오토바이 가게에서 마음에 드는 오토바이를 고른 갑은 을에게 가격을 물어보았다. 을이 제시한 가격이 너무 비싸다고 갑이 이야기하자 을은 매장에 전시했던 상품을 환불하지 않는 조건으로 할인된 가격에 판매하겠다고 하였다. 갑도 이에 동의하고 오토바이를 구입하였다.

- ① 갑의 부모는 갑의 동의를 얻어야만 매매 계약을 취소할 수 있다.
- ② 갑과 을의 매매 계약은 대금을 지급하면서 유효하게 체결된 것이다.
- ③ 매매 계약 당시 갑이 미성년임을 몰랐을 경우 을은 계약의 의사 표시를 철회할 수 있다.
- ④ 갑이 을에게 위조된 부모의 동의서를 제시했다라도 갑은 언제든지 계약을 취소할 수 있다.
- ⑤ 갑과 을의 계약상의 환불 금지 조건은 법정 대리인 동의에 관한 법규의 효력에 우선한다.

**18** 밑줄 친 '주의사항'에 해당하는 적절한 내용만을 <보기>에서 있는 대로 고른 것은?

근로 계약을 체결하면서 여러분은 근로 시간과 임금과 관련한 부분을 특별히 챙겨봐야 합니다. 특히 여러분은 연소 근로자이기 때문에 근로 시간에 특별 보호 규정을 적용받습니다. 지금 드리는 주의사항을 통해 자신이 작성한 근로 계약서의 내용이 올바른지 확인해 봅시다.

<보기>

- ㄱ. 보건상 위험한 환경에서 일하는 것은 금지됩니다.
- ㄴ. 부모가 근로 계약을 대신하는 것은 허용되지 않습니다.
- ㄷ. 근로 시간은 본인과 합의하더라도 1주 40시간을 초과할 수 없습니다.
- ㄹ. 법정 대리인의 동의 없이 독자적으로 임금을 청구할 수 있습니다.

- ① ㄱ, ㄷ                      ② ㄱ, ㄹ                      ③ ㄴ, ㄷ
- ④ ㄱ, ㄴ, ㄹ                ⑤ ㄴ, ㄷ, ㄹ

**19** 다음 글에서 유추할 수 있는 진술로 가장 적절한 것은?

언론 매체는 제한된 방송 시간이나 신문 지면을 자신들의 기준에 따라 배분하게 된다. 따라서 언론 매체가 어떠한 입장을 취하느냐에 따라 시민들에게 제공되는 정보가 달라져 여론에 영향을 미칠 수 있다. 언론 매체가 비중 있게 다루는 주제를 시민들은 중요하게 여기고 이에 대한 논의를 활발하게 진행하지만 그렇지 않은 주제들에 대해서는 그리 큰 관심을 두지 않는다.

- ① 언론은 정책 결정 기관의 역할을 수행한다.
- ② 언론은 사회적 쟁점에 대한 신속한 보도를 해야 한다.
- ③ 언론은 정치 과정에서 의제를 설정하는 기능을 한다.
- ④ 언론 보도 내용에 대해 언론사 내부의 확인 절차가 필요하다.
- ⑤ 표현의 자유를 위해 언론은 보도 내용에 대한 책임으로부터 자유로워야 한다.

**20** 다음 사례에서 상속 문제에 대한 옳은 설명을 <보기>에서 고른 것은? [3점]


갑은 자신의 전 재산을 ○○ 복지 재단에 유증한다는 유효한 유언장을 남겨두고 사망하였다. 갑의 가족으로는 임신한 아내 을과 아버지 병이 있다. 갑의 재산은 15억 원이었다.

<보기>

- ㄱ. 태아가 출생하면 을의 유류분액은 1억 원 줄어든다.
- ㄴ. 태아가 사산되면 을은 4.5억 원을 유류분으로 청구할 수 있다.
- ㄷ. 태아가 사산되면 병은 3억 원을 유류분으로 청구할 수 있다.
- ㄹ. 태아가 사산되면 을과 병이 공동의 갑의 법정 상속인이 된다.

- ① ㄱ, ㄴ                      ② ㄱ, ㄷ                      ③ ㄴ, ㄷ
- ④ ㄴ, ㄹ                      ⑤ ㄷ, ㄹ





문항에 따라 배점이 다르니, 각 물음의 끝에 표시된 배점을 참고하시오. 3점 문항에만 점수가 표시되어 있습니다. 점수 표시가 없는 문항은 모두 2점씩입니다.

## 01 다음 근대 정치 사상이 갑, 을에 대한 옳은 설명을 <보기>에서 고른 것은? [3점]

갑 : 자연 상태는 권리 보장이 불확실한 잠재적 투쟁 상태이므로 이러한 상태에서 벗어나기 위해 인간은 정치적 사회를 형성하고, 입법권을 확립한다. 입법권은 모든 국가에서 최고의 권력이지만, 위임받은 이상으로 행사될 수 없다.  
 을 : 자연 상태에서 인간은 순수한 상태였으나, 사유재산의 불평등으로 인해 타락하였다. 이에 공동체의 가치 설정과 구성이 필요하여 일반의지에 의해 국가가 성립되었으며, 법률은 일반의지의 표현이다.

<보기>

- ㄱ. 갑은 국가가 엄격한 삼권 분립을 통해 국민의 자유와 권리를 보호할 수 있다고 본다.
- ㄴ. 을은 주권은 분할되거나 양도될 수 없다고 본다.
- ㄷ. 갑은 을과 달리 국민 주권론을 주장하였다.
- ㄹ. 갑, 을 모두 국가는 자연적으로 주어지는 것이 아니라 시민의 자유의사로 형성된 것이라고 본다.

- ① ㄱ, ㄴ                      ② ㄱ, ㄷ                      ③ ㄴ, ㄷ
- ④ ㄴ, ㄹ                      ⑤ ㄷ, ㄹ

## 02 다음 법률 조항을 통해 파악할 수 있는 우리나라 헌법의 기본 원리에 대한 설명으로 옳지 않은 것은?

- 이 법은 공공주택의 원활한 건설 등을 위하여 필요한 사항을 규정함으로써 저소득층의 주거안정 및 주거수준 향상을 도모하고 무주택자의 주택 마련을 촉진하여 국민의 쾌적한 주거생활에 이바지함을 목적으로 한다.
- 이 법은 헌법에 따라 근로 조건의 기준을 정함으로써 근로자의 기본적 생활을 보장, 향상시키며 균형 있는 국민 경제의 발전을 꾀하는 것을 목적으로 한다.

- ① 사회 보장 제도를 통해 구체화된다.
- ② 사유 재산권의 불가침성을 강조한다.
- ③ 상대적·비례적 평등의 실현에 중점을 둔다.
- ④ 정부의 적극적인 개입을 통해 실현할 수 있다.
- ⑤ 모든 국민의 인간다운 생활을 보장하기 위한 원리이다.

## 03 다음 사례에 대한 옳은 법적 판단을 <보기>에서 고른 것은? [3점]

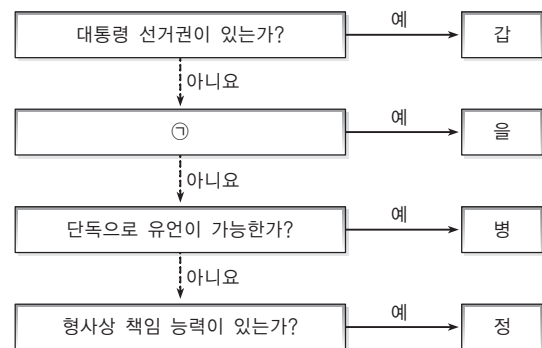
갑(남자)과 을(여자)은 결혼 후 혼인 신고를 마쳤다. 결혼 당시 갑은 홀어머니 무를 모시고 있었고, 을은 사별한 전 남편과의 사이에서 낳은 병을 키우고 있었다. 결혼 후 갑은 병을 양자로 입양하였다. 그런데, 얼마 지나지 않아 갑은 교통사고로 사망하였고, ○○복지재단에 전 재산 중 1/3을 기부한다는 갑의 유언장이 발견되었다. 사망 당시 을은 정을 임신한 상태였고, 몇 달 후 정을 무사히 낳았다. 갑이 남긴 재산은 부동산 및 동산 24억 원, 지적 재산권 3억 원을 포함하여 모두 27억 원이고, 채무는 6억 원이다.

<보기>

- ㄱ. 병은 갑의 혼인 중 출생자로 본다.
- ㄴ. 병과 무는 상속받을 수 있는 금액이 없다.
- ㄷ. 유언의 효력이 없다면, 을은 9억 원을 상속받는다.
- ㄹ. 유언의 효력이 있다면, 을과 정은 유류분만큼만 받을 수 있다.

- ① ㄱ, ㄴ                      ② ㄱ, ㄷ                      ③ ㄴ, ㄷ
- ④ ㄴ, ㄹ                      ⑤ ㄷ, ㄹ

## 04 그림에 대한 설명으로 옳지 않은 것은? (단, 갑, 을, 병, 정은 만 14세 이상 만 20세 미만이고, 모두 연령이 다르다.) [3점]



- ① 갑은 형법의 적용 대상이 된다.
- ② 을은 결격 사유가 없는 한 자동차 운전면허 취득이 가능하다.
- ③ 병은 취직 인허증이 있어야 취업이 가능하다.
- ④ 정은 소년법상 보호 처분이 가능하다.
- ⑤ ㉠은 '부모의 동의를 얻어 혼인할 수 있는가?' 가 들어갈 수 있다.



05 그림은 수행 평가 문제와 학생 답안이다. 밑줄 친 ㉠~㉤ 중 옳지 않은 것은?

**수행 평가**

◎문제: 밑줄 친 (가), (나)에 들어갈 기본권의 공통점과 각 기본권의 특징을 서술하시오.

\_\_ (가) \_\_ 행사 사례 : ○○시 학부모 연대는 학교폭력과 관련된 법률에 대한 개정을 국회에 입법 청원하였다.

\_\_ (나) \_\_ 보장 사례 : 고용노동부는 근로자의 최저생활을 보장하기 위해 내년 시간당 최저 임금을 올해보다 350원 올린 5,210원으로 정하였다.

◎학생 답안지

(가), (나)는 ㉠ 공통적으로 국가를 상대로 한 적극적 권리에 해당한다. (가)는 ㉡ 권리와 이익이 침해되거나 침해될 우려가 있을 때 행사하며, ㉢ 본질적 권리로 다른 기본권 보장의 전제 조건이 된다. (나)는 ㉣ 가장 최근에 등장한 현대적 권리이며, ㉤ 실질적 평등 이념에 기초한 기본권이다.

- ① ㉠      ② ㉡      ③ ㉢      ④ ㉣      ⑤ ㉤

06 다음은 인터넷 법률 상담 사례이다. 법적으로 타당한 내용의 댓글을 단 사람은?

○○산 부근에 위치한 군부대에서 합동 훈련을 하던 중 조종사가 실수로 규정된 고도보다 낮은 비행을 하여 저희 집 지붕의 절반이 훼손되었습니다. 어떻게 해야 할까요?

↳ 갑 : 군부대를 상대로 행정 소송을 제기하세요.

↳ 을 : 국가 인권 위원회에 인권 침해를 이유로 진정을 하세요.

↳ 병 : 국가배상법에 의해 행정상 손해 배상을 청구할 수 있어요.

↳ 정 : 군부대를 상대로 물질적 피해에 대해서만 배상을 청구할 수 있어요.

↳ 무 : 군부대의 적법한 행위로 피해를 보았으므로 행정상 손실 보상을 청구할 수 있어요.

- ① 갑      ② 을      ③ 병  
④ 정      ⑤ 무

07 ㉠~㉤에 들어갈 내용으로 적절한 것만을 <보기>에서 있는 대로 고른 것은?

**주제: 국제 사회의 전개 과정**

국제 사회의 전개 과정을 시기별로 조사한 내용을 발표해 볼까요?

갑      을      병      정

제1차 세계 대전의 결과 - ( ㉠ )

제2차 세계 대전의 결과 - ( ㉡ )

닉슨 독트린(팜 선언, 1969)의 영향 - ( ㉢ )

몰타 선언(1989)의 영향 - ( ㉣ )

<보기>

㉠. ㉠ - 국제 연맹이 창설되었으나, 강대국의 불참으로 실질적인 영향력을 행사하지 못했어요.

㉡. ㉡ - 비정부 간 국제기구인 국제 연합(UN)이 설립되었어요.

㉢. ㉢ - 미국이 아시아에 대한 군사적 개입을 강화하였어요.

㉣. ㉣ - 동유럽이 공산주의를 포기하고, 소련이 해체되었어요.

- ① ㉠, ㉢      ② ㉠, ㉡      ③ ㉡, ㉢  
④ ㉠, ㉡, ㉢      ⑤ ㉡, ㉢, ㉣

08 다음 사례에서 파악할 수 있는 국제 사회를 바라보는 관점에 대한 설명으로 옳은 것은?

어느 무인도에 체격이 같은 갑, 을, 병 세 사람만이 살았는데 어느 날 체격을 키운 갑이 을을 위협하여 굴복시키려 하였다. 그러자 둘 사이의 싸움에 아무런 관계도 없던 병이 위협을 느껴 을을 도와 갑에 대항하여 갑과 을·병이 대등하게 대립하게 되었다.

- ① 인간은 이성적인 존재임을 가정한다.  
② 국제기구나 국제 여론의 역할을 중시한다.  
③ 자국의 이익을 우선시하여 국가 안보를 강조한다.  
④ 집단 안보 체제를 통해 국제 평화를 보장받으려 한다.  
⑤ 국제 사회에서 국가 간 협력과 상호 의존을 강조한다.

**09** 표는 정치 참여 집단인 A, B, C의 특징을 나타낸 것이다. 이에 대한 설명으로 옳지 않은 것은? (단, A, B, C는 각각 정당, 이익 집단, 시민 단체 중 하나이다.)

질문	정치 참여 집단	A	B	C
공공의 이익을 추구하는가?		예	아니요	예
선거에 후보자를 공천하는가?		아니요	아니요	예
(가)		예	예	예

- ① A는 비정부성, 비권력성을 특징으로 한다.
- ② B는 직능 대표제적 역할을 수행하기도 한다.
- ③ C는 정치적 책임을 지지 않는다.
- ④ B는 자신의 이익을 실현하기 위해 C를 이용하기도 한다.
- ⑤ (가)에는 '정치 과정에서 투입 기능을 하는가?'가 적절하다.

**10** 다음 자료에 대한 옳은 분석을 <보기>에서 고른 것은? [3점]

○○ 일보 ○○○○.○.○

**아동 대상 성폭력범죄자 신상 공개는 합헌**

아동 대상 성범죄자 갑은 "아동·청소년 성폭력 범죄에 대해 형사 처벌 외에 신상 정보를 공개하도록 한 법률이 이중 처벌로 자신의 인격권을 과도하게 침해한다."며 형사 재판 도중 재판의 전제가 된 해당 법률에 대해 법원에 위헌 법률 심판 제청 신청을 했으나 기각당하자 헌법 소원 심판을 청구하였다. 이에 헌법재판소는 "아동·청소년 성범죄자 정보를 공개하는 것은 아동·청소년의 성을 보호하고 사회방위를 도모하기 위한 것으로서 목적의 정당성 및 수단의 적합성이 인정된다. 또한, 법원이 '특별한 사정' 등을 고려해 공개 여부를 판단하도록 돼 있어 침해의 최소성 요건도 갖췄다."고 밝혔다.

- <보기>
- ㄱ. 위 심판은 권리 구제형 헌법 소원 심판이다.
  - ㄴ. 위 심판에서 헌법재판소는 해당 법률이 과잉금지의 원칙에 위배되지 않는다고 보았다.
  - ㄷ. 위 심판에서 위헌 결정이 내려지면 헌법재판소 재판관 6인 이상이 위헌에 찬성해야 했다.
  - ㄹ. 기본권 침해가 예상되거나 다른 사람의 침해된 권리에 대해서도 위와 같은 심판을 청구할 수 있다.

- ① ㄱ, ㄴ                      ② ㄱ, ㄷ                      ③ ㄴ, ㄷ
- ④ ㄴ, ㄹ                      ⑤ ㄷ, ㄹ

**11** 다음은 ○○국의 헌법 개정 논의 내용이다. 개정 이후 달라질 내용으로 적절하지 않은 것은? [3점]

○○국의 의회 의원들은 현재의 정부 형태가 정치 변화를 반영하지 못한다며 헌법 개정을 통해 다음과 같이 정부 형태를 바꾸고자 한다.

개정 이전

전형적인 대통령제

➔

개정 이후

- 대통령, 의회 의원 선출 방식은 이전과 동일
- 의회는 내각을 구성하며 내각 및 총리는 의회의 신임에 의존함
- 총리는 내각 지휘, 대통령은 국방 및 외교의 권한을 가짐

- ① 내각은 의회에 대해 책임을 지게 될 것이다.
- ② 대통령은 국민에 대해 책임을 지게 될 것이다.
- ③ 행정권이 총리와 대통령으로 이원화될 것이다.
- ④ 총리는 의회로부터 불신임을 받을 수도 있을 것이다.
- ⑤ 여소야대로 인해 동거 정부가 출현할 수도 있을 것이다.

**12** 밑줄 친 ㉠~㉣에 대한 옳은 설명만을 <보기>에서 있는 대로 고른 것은? [3점]


민법 일부 개정으로 ㉠ 민법상 미성년자의 나이가 만 20세 미만에서 만 19세 미만으로 낮아졌다. 청소년의 조속화 현상과 국내외 입법 동향을 반영해 성년 연령을 만 19세로 낮춘 것이다. 또한 장애인·노약자의 인권을 과도하게 제약한다고 비판받아온 금치산 제도와 한정 치산 제도는 각각 ㉡ 성년 후견 제도와 ㉢ 한정 후견 제도로 바뀌었다.

- <보기>
- ㄱ. ㉠은 법정 대리인의 허락을 받은 특정 영업 행위는 단독으로 할 수 있다.
  - ㄴ. ㉡에 따르면 가정법원이 정한 법률 행위만 취소할 수 있다.
  - ㄷ. ㉢에서 피한정 후견인의 일용품 구입은 후견인의 동의 없이 가능하다.
  - ㄹ. ㉡, ㉢은 모두 민법상 재산상의 법률 행위에만 적용된다.

- ① ㄱ, ㄴ                      ② ㄱ, ㄷ                      ③ ㄴ, ㄷ
- ④ ㄱ, ㄷ, ㄹ                ⑤ ㄴ, ㄷ, ㄹ



[13~14] 그림을 보고 물음에 답하시오.



13 그림에서 추론할 수 있는 언론의 바람직한 역할로 가장 적절한 것은?

- ① 정확성에 근거하여 보도해야 한다.
- ② 정치권력에 대한 감시를 소홀히 해서는 안 된다.
- ③ 취재, 편집 및 보도에 있어 독립성을 확보해야 한다.
- ④ 누구나 자신의 의견을 자유롭게 개진할 수 있어야 한다.
- ⑤ 사회적 쟁점에 대한 다양한 의견을 균형 있게 보도해야 한다.

14 위 재판과 관련한 옳은 법적 분석만을 <보기>에서 있는 대로 고른 것은? [3점]

<보기>

- ㄱ. 원고는 검사이다.
- ㄴ. 을은 벌금을 갑에게 주어야 한다.
- ㄷ. 을은 재판의 결과에 대해 고등법원에 항소할 수 있다.
- ㄹ. 갑은 별도의 소송을 통해 정신적 피해에 관한 배상을 받을 수 있다.

- ① ㄱ, ㄴ                      ② ㄱ, ㄹ                      ③ ㄴ, ㄷ
- ④ ㄱ, ㄷ, ㄹ                ⑤ ㄴ, ㄷ, ㄹ

15 다음 자료는 어느 국가 기관을 소개한 것이다. 이 기관의 활동에 따른 영향으로 옳지 않은 것은?

이 기관은 입법 및 국가의 중요 정책과 관련된 사항을 조사·연구하여 국회의원 및 위원회에 제공하고, 국회의원의 의정 활동을 지원하기 위해 2007년에 설립된 국회 소속 독립 기관이다. 주요 업무는 두 가지로서, 하나는 의원 및 위원회의 입법 조사 요구에 대해 신속하게 회답하는 일이고, 다른 하나는 국가의 주요 현안이 될 수 있는 입법 및 정책 과제를 사전에 예측하여 조사·분석하는 일이다.

- ① 국회의원의 전문성을 신장시킬 수 있다.
- ② 의회주의의 위기를 극복할 대안이 될 수 있다.
- ③ 의원 발의 법안의 가결 비율이 이전보다 높아질 것이다.
- ④ 정부의 법률안 제출을 감소시켜 행정부의 권한을 약화시킬 것이다.
- ⑤ 행정부에 비해 상대적으로 약화되어 있던 의회의 기능을 강화할 수 있다.

16 다음 자료는 어느 재판에서 사용되는 양식이다. 이 재판에 대한 옳은 설명을 <보기>에서 고른 것은? [3점]

양형 의견서

사건 번호 100고합 호

피고인 ○○○

• 죄명(공소 사실) 및 적용 법조

- 피고인은 ○년 ○월 ○일 ○에서 피해자 △△△을 살해함
- 살인죄, 형법 제250조 제1항

• 양형 의견

- 사항 : ○명
- 무기 징역 : ○명
- 유기 징역(금고) :
- 기타(집행 유예 등) :

이 사건의 배심원들이 위와 같은 양형 의견을 개진하였음을 확인함

20xx. ○. ○.

재판장 판사 □□□(인)

<보기>

- ㄱ. 민사 사건에서도 적용된다.
- ㄴ. 피고인의 재판 의사를 확인하여 진행된다.
- ㄷ. 재판의 신속성과 정당성을 높이기 위해 도입되었다.
- ㄹ. 재판부는 배심원의 평결과 다른 판결을 내릴 수 있다.

- ① ㄱ, ㄴ                      ② ㄱ, ㄷ                      ③ ㄴ, ㄷ
- ④ ㄴ, ㄹ                      ⑤ ㄷ, ㄹ

**17** 자료에 대한 옳은 분석 및 추론만을 <보기>에서 있는 대로 고른 것은? [3점]

전형적인 정부 형태를 가진 갑국의 의회는 직접 선거에 의해 선출되는 유일한 기관이며 행정부는 의회에 의해 구성된다. 의회는 총 400명의 의원으로 구성된다. 그 중 300명은 지역구 선거를 통해, 나머지 100명은 전국을 하나의 선거구로 한 비례 대표제를 통해 선출된다. 비례 대표 의석은 국민이 각 정당에 지지한 정당 투표 득표율에 비례하여 배분되며, 정당 투표 득표율이 5% 미만일 경우 비례 대표 의석을 배분하지 않는다. 정당에 비례 대표 의석을 배분하고 남은 비례 대표 의석은 지역구 의석수가 가장 큰 정당에게 배분한다.

<갑국의 t대 선거 결과>

정당	A	B	C	D	E	무소속	계
지역구 의석수(석)	120	100	34	20	16	10	300
정당 투표 득표율(%)	40	32	18	6	4	-	100

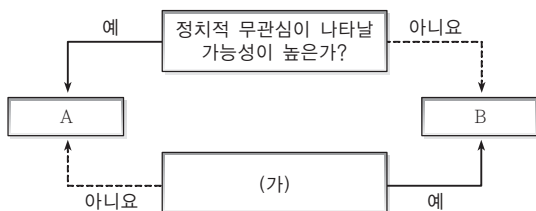
\* 단, 지역구 선거구는 150개임

<보기>

- ㄱ. 지역구 선거에서는 소수 대표제를 채택하고 있다.
- ㄴ. 유권자는 의회 의원 선거에서 1인 2표를 행사한다.
- ㄷ. t대 선거 결과 갑국은 연립 정부를 구성하게 될 것이다.
- ㄹ. t대 선거 결과 모든 정당이 비례 대표 의석을 배분받는다.

- ① ㄱ, ㄴ                      ② ㄱ, ㄹ                      ③ ㄴ, ㄹ
- ④ ㄱ, ㄴ, ㄷ                ⑤ ㄴ, ㄷ, ㄹ

**18** 그림은 민주주의 유형을 참여 방식에 따라 A와 B로 분류한 것이다. 이에 대한 설명으로 옳은 것은? (단, A, B는 각각 직접 민주주의, 간접 민주주의 중 하나이다.)



- ① A는 공동체의 중요한 사안을 시민이 직접 결정한다.
- ② A와 달리 B는 국민 자치의 원리를 실현한다.
- ③ A는 B보다 정책 결정 과정에서의 효율성이 높다.
- ④ B는 A와 달리 다수결의 원칙에 따라 의사를 결정한다.
- ⑤ (가)에는 '비정부 기구(NGO)의 정치 참여 확대'로 등장하였는가? 가 적절하다.

**19** 밑줄 친 ㉠~㉣에 관한 설명으로 옳은 것은? [3점]

3주 전 청와대에서 ㉠ 대통령이 ㉡ 대법원장에 ○○○ 전 대법관을 지명하고, ㉢ 감사원장에 △△△ 전 법무부장관을 지명한 것에 대해 오늘 ㉣ 국회가 ㉤ 임명 동의안에 대한 표결을 본회의를 개최해 처리할 예정이다.

- ① ㉠의 임기 연장에 관한 헌법 개정은 제안 당시의 대통령부터 효력이 있다.
- ② ㉠의 법률안 거부권 행사는 의원 내각제적 요소이다.
- ③ ㉡과 ㉢은 행정부 수반으로서의 대통령 권한이다.
- ④ ㉣은 재적 의원 과반수 출석과 출석 의원 2/3 이상이 찬성하면 통과된다.
- ⑤ ㉣은 ㉠이 위헌·위법 행위를 한 때에 탄핵 소추를 의결할 수 있다.

**20** 밑줄 친 (가)에 들어갈 수 있는 법적으로 옳은 조언만을 <보기>에서 있는 대로 고른 것은?



<보기>

- ㄱ. 부당 노동 행위로 사장을 고소할 수 있습니다.
- ㄴ. 법원에 해고 무효 확인 소송을 제기할 수 있습니다.
- ㄷ. 회사 관리자들을 상대로 민사상 손해 배상을 청구할 수 있습니다.
- ㄹ. 노동 위원회에 부당 해고에 관한 구제 신청을 할 수 있습니다.

- ① ㄱ, ㄴ                      ② ㄱ, ㄷ                      ③ ㄴ, ㄹ
- ④ ㄱ, ㄷ, ㄹ                ⑤ ㄴ, ㄷ, ㄹ