

# 2025학년도 수능특강 핵심문항 미적분 COMMENT

by. 17학번머스크(OrbilD)



**"이걸 활용한 넌 잘 될거야"**

# 문제변형 기본틀

EBS 수능특강 미적 / 수능팀

## 1단원 수열의 극한

- 1  $\sum_{n=1}^{\infty} \left( \frac{n}{n+1} - \frac{n+1}{n+2} \right)$ 의 값은?  
[24011-0018]
- ① -1    ②  $-\frac{1}{2}$     ③ 0    ④  $\frac{1}{2}$     ⑤ 1

원본 DATA		
출처		과목
수특.미적분.2단원.유제.1번		15수학1
대단원	중단원	난이도
15수극	급수	1

1.  $\sum_{n=1}^{\infty} \left( \frac{2^n - 1}{2^n + 1} - \frac{2^{n+1} - 1}{2^{n+1} + 1} \right)$ 의 값은?

- ①  $-\frac{2}{3}$     ②  $-\frac{1}{3}$     ③  $\frac{1}{3}$     ④  $\frac{2}{3}$     ⑤ 1

1)

변형 DATA		
출처	변형 유형	난이도
수특.미적분.2단원.유제.1번	숫자	1

[출제포인트]

의외로 뜯어보면 이런 유형의 식을 조작하지 못하는 학생들이 많다. 기본기에 충실해야 한다.

일반항을  $n=1$  부터 대입해서 나열하였을 때 소거됨을 확인하기

[24011-0026]

3 수열  $\{a_n\}$ 에 대하여  $\sum_{n=1}^{\infty} a_n = 1$ 일 때,  $\lim_{n \rightarrow \infty} \frac{a_n + n^2 - 3n}{2a_n + 3n^2 - n}$ 의 값은?

- ①  $\frac{1}{5}$       ②  $\frac{4}{15}$       ③  $\frac{1}{3}$       ④  $\frac{2}{5}$       ⑤  $\frac{7}{15}$

원본 DATA		
출처		과목
수특.미적분.2단원.Lv1.3번		미적분
대단원	중단원	난이도
급수	급수	2

2. 수열  $\{a_n\}$ 에 대하여

$$\sum_{n=1}^{\infty} \left( a_n - \frac{n}{n+1} \right) = 1$$

일 때,  $\lim_{n \rightarrow \infty} \frac{na_n + 1}{(2n+1)a_n + 1}$ 의 값은?

- ①  $-1$       ②  $-\frac{1}{2}$       ③  $\frac{1}{2}$       ④  $1$       ⑤  $\frac{3}{2}$

2)

변형 DATA		
출처	변형 유형	난이도
수특.미적분.2단원.Lv1.3번	숫자	1

[출제포인트]

급수가 수렴하면 일반항은 0으로 수렴하는지를 아는가를 묻는

기본 문제임. 사실  $a_n = \frac{n}{n+1}$ 으로 놓고 풀어도 답은 나온다.

[24011-0007]

수열  $\{a_n\}$ 에 대하여  $\lim_{n \rightarrow \infty} \frac{a_n}{n} = 2$ 일 때,  $\lim_{n \rightarrow \infty} \frac{a_n(3a_n+1)}{n^2}$ 의 값은?

- ① 12      ② 14      ③ 16      ④ 18      ⑤ 20

원본 DATA		
출처		과목
수특.미적.1단원.Lv1.1번		15미적
대단원	중단원	난이도
15수극	수열의 극한	1.5

3. 수열  $\{a_n\}$ 에 대하여  $\lim_{n \rightarrow \infty} \frac{n^2+1}{a_n} = 3$ 일 때,  $\lim_{n \rightarrow \infty} \frac{4n^4}{a_n(6a_n+2)}$ 의 값은?

- ① 5      ② 6      ③ 7      ④ 8      ⑤ 9

3)

변형 DATA		
출처	변형 유형	난이도
수특.미적.1단원.Lv1.1번	숫자	1.5

[출제포인트]

$a_n$ 을 결정할 수 없는 경우 문제에서 주어진 형태의 식을 조작하여 수렴하는 형태로 계산하는 문제이지만 앞 문제와

동일하게  $a_n = \frac{n^2}{3}$ 으로 놓고 풀어버려도 무방하다.



[24011-0008]

$\lim_{n \rightarrow \infty} \frac{an+3}{4n} = 2, \lim_{n \rightarrow \infty} (\sqrt{n^2+an}-n) = b$  일 때, 두 상수  $a, b$ 에 대하여  $a+b$ 의 값은?

- ① 8                      ② 9                      ③ 10                      ④ 11                      ⑤ 12

원본 DATA		
출처		과목
수특.미적.1단원.Lv1.2번		15미적
대단원	중단원	난이도
15수극	수열의 극한	2

4.  $\lim_{n \rightarrow \infty} \frac{an-1}{3n} = 3, \lim_{n \rightarrow \infty} n \left( \sqrt{1 + \frac{2a}{n}} - 1 \right) = b$  일 때, 두 상수  $a, b$ 에 대하여  $a+b$ 의 값은?

- ① 9                      ② 12                      ③ 15                      ④ 18                      ⑤ 21

4)

변형 DATA		
출처	변형 유형	난이도
수특.미적.1단원.Lv1.2번	숫자	2

[출제포인트]

극한이 수렴하는 경우는  $\frac{\infty}{\infty}$  꼴은 최고차 계수 비교

무리식 등장  $\infty - \infty, 0 \times \infty$ 에서는 유리화로 식을 정리 ㄱ

[24011-0009]

첫째항이 2이고 공비가  $\frac{1}{2}$ 인 등비수열  $\{a_n\}$ 에 대하여  $\lim_{n \rightarrow \infty} \frac{4^n \times a_n - 1}{3 \times 2^{n+1}}$ 의 값은?

- ①  $\frac{1}{3}$       ②  $\frac{2}{3}$       ③ 1      ④  $\frac{4}{3}$       ⑤  $\frac{5}{3}$

원본 DATA		
출처		과목
수특.미적.1단원.Lv1.3번		15미적
대단원	중단원	난이도
15수극	수열의 극한	2

5. 첫째항이 1이고 공비가  $-\frac{1}{2}$ 인 등비수열  $\{a_n\}$ 에 대하여

$$\lim_{n \rightarrow \infty} \frac{(-2)^{n+2} + 3}{4^n \times a_n} \text{의 값은?}$$

- ① -4      ② -2      ③ 2      ④ 4      ⑤ 6

5)

변형 DATA		
출처	변형 유형	난이도
수특.미적.1단원.Lv1.3번	숫자	2

[출제포인트]

첫째항, 공비가 모두 주어져 있다. 단순 계산문제.

등비수열의 극한의 부정형에서는 다항식이 아니니 차수 대신

공비로 비교 ◦.<

ex.  $\lim_{n \rightarrow \infty} \frac{n^2 + 1}{3n^2}$  은 최고차항이 2차 라고 하니까

$\lim_{n \rightarrow \infty} \frac{4^n + 3^n}{4^n + 2^n}$ 에서는 최고차항을  $4^n$ 이라고 생각해서 계수 1

$\lim_{n \rightarrow \infty} \frac{a^{2n-1} + a^{-2n+1}}{a^{2n+1} + a^{-2n-1}} = \frac{1}{4}$ 을 만족시키는 모든 양수  $a$ 의 값의 합은?

- ①  $\frac{1}{2}$       ②  $\frac{3}{2}$       ③  $\frac{5}{2}$       ④  $\frac{7}{2}$       ⑤  $\frac{9}{2}$

원본 DATA		
출처		과목
수특.미적.1단원.유제.6번		15미적
대단원	중단원	난이도
15수극	수열의 극한	2

6.  $\lim_{n \rightarrow \infty} \frac{a^{3n-2} + a^{-3n+1}}{a^{3n+1} + a^{-3n-2}} = \frac{1}{8}$ 이 되도록 하는 모든 양수  $a$ 의 값의 합은?

- ①  $\frac{3}{2}$       ② 2      ③  $\frac{5}{2}$       ④ 3      ⑤  $\frac{7}{2}$

6)

변형 DATA		
출처	변형 유형	난이도
수특.미적.1단원.유제.6번	숫자	2

[출제포인트]

$0 < a < 1$ ,  $a = 1$ ,  $a > 1$ 인 케이스 분류하여 수렴값 계산하기.  
그렇지 않으면 “모든”  $a$ 를 찾지는 못할 수도 .....

- 2 [24011-0019] 자연수  $n$ 에 대하여 1부터  $(n+2)$ 까지의 자연수가 하나의 격인  $(n+2)$ 개의 공 중에서 서로 다른 2개를 택하는 경우의 수를  $a_n$ 이라 할 때,  $\sum_{n=1}^{\infty} \frac{1}{2a_n}$ 의 값은?  
 ①  $\frac{1}{4}$     ②  $\frac{1}{2}$     ③  $\frac{3}{4}$     ④ 1    ⑤  $\frac{5}{4}$

원본 DATA		
출처		과목
수특.미적분.2단원.유제.2번		15수학1
대단원	중단원	난이도
15수극	급수	2

7. 자연수  $n$ 에 대하여  $9 \times 6^n$ 의 모든 약수의 개수를  $a_n$ 이라 할 때,  $\sum_{n=1}^{\infty} \frac{1}{a_n}$ 의 값은?

- ①  $\frac{1}{3}$     ②  $\frac{5}{12}$     ③  $\frac{1}{2}$     ④  $\frac{7}{12}$     ⑤  $\frac{2}{3}$

7)

변형 DATA		
출처	변형 유형	난이도
수특.미적분.2단원.유제.2번	숫자	2

[출제포인트]

자연수의 약수의 개수 구할 때는 소인수분해

ex.  $6^n$ 의 약수 개수는

$2^n \times 3^n$ 으로 소인수분해한 후  $(n+1)(n+1)$

문는 값이  $\frac{1}{a_n}$  꼴로 나왔을 때는 부분분수 형태인 경우가 거의

99% 이다.

**예제 2** 급수와 수열의 극한 사이의 관계 www.nhso.co.kr

수열  $\{a_n\}$ 의 첫째항부터 제  $n$ 항까지의 합을  $S_n$ 이라 하자.  $\sum_{k=1}^{\infty} (a_k - 2) = 10$ 일 때,  $\lim_{n \rightarrow \infty} (S_{n+1} - 2n)$ 의 값은?

Ⓐ 11      Ⓑ 12      Ⓒ 13      Ⓓ 14      Ⓔ 15

**3** 두 수열  $\{a_n\}, \{b_n\}$ 이   
 [24011-0020]  $\sum_{k=1}^{\infty} (a_k + \frac{3n}{n+2}) = 1, \sum_{k=1}^{\infty} (b_k - 4) = 5$    
 를 만족시킬 때,  $\lim_{n \rightarrow \infty} (a_n + 6)(b_n + 2)$ 의 값을 구하시오.

원본 DATA		
출처		과목
수특.미적분.2단원.유제.3번		15수학1
대단원	중단원	난이도
15수극	급수	2

8. 수열  $\{a_n\}$ 의 첫째항부터 제  $n$ 항까지의 합을  $S_n$ 이라 하자.

$$\sum_{n=1}^{\infty} (a_n - 3) = 5$$

일 때,  $\lim_{n \rightarrow \infty} (a_n S_n - 3na_n)$ 의 값은?

- Ⓐ 11      Ⓑ 12      Ⓒ 13      Ⓓ 14      Ⓔ 15

8)

변형 DATA		
출처	변형 유형	난이도
수특.미적분.2단원.유제.3번	숫자	2

[출제포인트]

주어진 조건이 담고 있는 정보가 두 가지

$$\sum_{n=1}^{\infty} (a_n - 3) = \lim_{n \rightarrow \infty} (S_n - 3n) = 5$$

라는 점에서 한 번쯤 풀어볼 만한 문제.

극한 계산할 때 수렴하는 것끼리는 쪼개서 계산

근데 발산하면 쪼갬다간 큰일남 주의

**예제 3** 등비급수의 합 www.zoo.co.kr

등비수열  $\{a_n\}$ 에 대하여  
 $a_1 = 6, \sum_{n=1}^{\infty} a_n = -\frac{37}{5}$   
 일 때,  $a_2$ 의 값은?

① 2      ②  $\frac{7}{3}$       ③  $\frac{8}{3}$       ④ 3      ⑤  $\frac{10}{3}$

**6** 두 자연수  $p, q (p < q)$ 에 대하여 수열  $\{a_n\}$ 은 첫째항이  $p$ 이고 공비가  $\frac{1}{q}$ 인 등비수열이다.  $\sum_{n=1}^{\infty} a_n = 6$  일 때,  $p \times q$ 의 값을 구하시오. [24011-0023]

원본 DATA		
출처		과목
수특.미적분.2단원.유제.6번		15수학1
대단원	중단원	난이도
15수극	급수	2

9. 등비수열  $\{a_n\}$ 에 대하여

$$a_2 = -1, \sum_{n=1}^{\infty} a_n = \frac{9}{10}$$

일 때,  $a_1$ 의 값은?

- ① -2      ②  $-\frac{3}{2}$       ③  $\frac{3}{2}$       ④ 2      ⑤  $\frac{5}{2}$

9)

변형 DATA		
출처	변형 유형	난이도
수특.미적분.2단원.유제.6번	숫자	2

[출제포인트]

기본유형. 수렴하는 등비급수의 합은

$$\frac{\text{첫째항}}{1 - \text{공비}}$$

[24011-0028]

1 세 수  $a+13, a+1, a-2$ 가 이 순서대로 공비가  $r$ 인 등비수열을 이룰 때,  $\sum_{n=1}^{\infty} ar^n$ 의 값은?

- ①  $\frac{1}{10}$     ②  $\frac{1}{5}$     ③  $\frac{3}{10}$     ④  $\frac{2}{5}$     ⑤  $\frac{1}{2}$

원본 DATA		
출처		과목
수특.미적분.2단원.Lv2.1번		15수학1
대단원	중단원	난이도
15수극	급수	2

10. 서로 다른 세 수  $3a+1, a+1, 1$ 이 이 순서대로 공비가  $r$ 인

등비수열을 이룰 때,  $\sum_{n=1}^{\infty} ar^n(1-r^n)$ 의 값은?

- ①  $\frac{2}{3}$     ②  $\frac{5}{6}$     ③ 1    ④  $\frac{7}{6}$     ⑤  $\frac{4}{3}$

10)

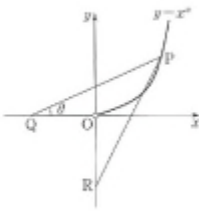
변형 DATA		
출처	변형 유형	난이도
수특.미적분.2단원.Lv2.1번	숫자	2

[출제포인트]

세 수가 등비수열이면 등비중항  $a_n \times a_{n+2} = (a_{n+1})^2$

시그마 분배는 ..... 곱하기는 하지 말고 ..... 덧셈뺄셈만 기 .....

- 3 [24011-0017]  
 그림과 같이 1보다 큰 상수  $a$ 와 자연수  $n$ 에 대하여 곡선  $y=x^a$  ( $x>0$ ) 위의 점  $P(n, n^a)$ 과 점  $R(0, -(a+1)n^a)$ 이 있다. 음의 실수  $t$ 에 대하여 점  $Q(t, 0)$ 이  $\overline{PQ}=\overline{PR}$ 을 만족시킬 때, 직선  $PQ$ 와  $x$ 축이 이루는 예각의 크기를  $\theta$ 라 하자.  
 $\lim_{n \rightarrow \infty} \theta = \frac{\pi}{4}$ 일 때, 상수  $a$ 의 값은?  
 ①  $\sqrt{2}$                       ②  $\sqrt{3}$                       ③ 2  
 ④  $\sqrt{5}$                       ⑤  $\sqrt{6}$



원본 DATA		
출처		과목
수특.미적.1단원.Lv3.3번		15미적
대단원	중단원	난이도
15수극	수열의극한	4

11. 좌표평면에 상수  $a$ 와 자연수  $n$ 에 대하여 두 점

$$P(n, n^a), Q(0, -n^a)$$

이 있다. 점  $P$ 에서  $y$ 축에 내린 수선의 발을  $H$ 라 하자.  
 $x$ 축 위의 점  $R$ 이  $\angle HRP = \angle HQP$ 를 만족시킬 때, 점  $R$ 의  $x$ 좌표를  $f(n)$ 이라 하자. 양수  $k$ 에 대하여  $\lim_{n \rightarrow \infty} \frac{f(n)}{n^3} = k$ 일 때,  $k+a$ 의 값은?

- ① 3                      ②  $\frac{7}{2}$                       ③ 4                      ④  $\frac{9}{2}$                       ⑤ 5

11)

변형 DATA		
출처	변형 유형	난이도
수특.미적.1단원.Lv3.3번	숫자	3

[출제포인트]

지수에 미지수를 놓는 형태+도형의 극한 조합이 신선해서 선별했음. 대-충이라도 그래프 위에 점을 찍어서 상황판단을 하자. 그림 한 눈에 보여서 도형의 성질 이용하기 편함  
 각의 이등분선의 성질도 까먹었으면 기억 ㄱ  
 $\alpha$ 의 값이 대략적으로 추측이 간다면 금상첨화



[24011-0012]

두 수열  $\{a_n\}$ ,  $\{b_n\}$ 이 다음 조건을 만족시킨다.

(가) 모든 자연수  $n$ 에 대하여  $5n^2+2n < 4na_n+b_n < 5n^2+4n+1$ 이다.

(나)  $\lim_{n \rightarrow \infty} \frac{(3n+4)a_n}{2n^2+n} = \frac{1}{2}$

$\lim_{n \rightarrow \infty} \frac{b_n}{n}$ 의 값은?

- ①  $\frac{11}{3}$       ② 4      ③  $\frac{13}{3}$       ④  $\frac{14}{3}$       ⑤ 5

원본 DATA		
출처		과목
수특.미적.1단원.Lv2.2번		15미적
대단원	중단원	난이도
15수극	수열의 극한	2.5

12. 수열  $\{a_n\}$ 과 모든 항이 양수인 수열  $\{b_n\}$ 이 다음 조건을

만족시킬 때,  $\lim_{n \rightarrow \infty} \frac{a_n}{nb_n}$ 의 값은?

(가) 모든 자연수  $n$ 에 대하여

$$(a_n)^2 + 9n^2(b_n)^2 - n^2 < 6na_nb_n + 2n + 1$$

이다.

(나)  $\lim_{n \rightarrow \infty} \frac{4n^2 - 3n + 1}{n^2 + b_n} = 3$

- ① 1      ② 2      ③ 3      ④ 4      ⑤ 5

12)

변형 DATA		
출처	변형 유형	난이도
수특.미적.1단원.Lv2.2번	스페셜	3

[출제포인트]

복잡한 형태의 샌드위치정리

$a_n$ 과  $b_n$ 을 직접 구할 수는 없음  $\pi \times \pi$

구하고자 하는  $\frac{a_n}{nb_n}$ 의 꼴을 부등식 안에서 만들어내자.

마지막에  $\lim$  붙이면  $<$ 에서  $\leq$ 가 되는 건 상식.

[24011-0013]

$0 < k < 1$ 인 상수  $k$ 와 2 이상의 자연수  $n$ 에 대하여 좌표평면 위의 원점  $O$ 와 두 점  $A_n(2 - \frac{k}{n}, 0)$ ,  $B_n(2, \frac{1}{n})$ 을 꼭짓점으로 하는 삼각형  $OA_nB_n$ 의 외접원의 반지름의 길이를  $R_n$ 이라 하자.  $\lim_{n \rightarrow \infty} R_n = \frac{5}{4}$ 일 때,  $k$ 의 값은?

- ①  $\frac{2}{3}$       ②  $\frac{17}{24}$       ③  $\frac{3}{4}$       ④  $\frac{19}{24}$       ⑤  $\frac{5}{6}$

원본 DATA		
출처		과목
수특.미적.1단원.Lv2.3번		15미적
대단원	중단원	난이도
15수극	수열의 극한	3

13. 자연수  $n$ 에 대하여 좌표평면 위의 원점  $O$ 와 두 점  $A_n(-2n, 0)$ ,  $B_n(4n+1, 3n-2)$ 를 꼭짓점으로 하는 삼각형  $OA_nB_n$ 의 넓이를  $S_n$ 이라 하고, 삼각형  $OA_nB_n$ 의 외접원의 반지름의 길이를  $R_n$ 이라 할 때,  $\lim_{n \rightarrow \infty} \frac{5S_n}{2n \times R_n}$ 의 값은?

- ①  $\frac{2\sqrt{2}}{5}$       ②  $\frac{2\sqrt{3}}{5}$       ③  $\frac{3\sqrt{3}}{5}$   
 ④  $\frac{2\sqrt{5}}{5}$       ⑤  $\frac{3\sqrt{5}}{5}$

13)

변형 DATA		
출처	변형 유형	난이도
수특.미적.1단원.Lv2.3번	스페셜	3

[출제포인트]

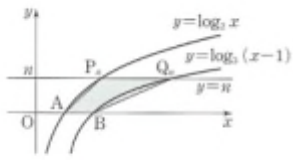
제시한 도형의 설명이 간단하더라도 꼭 그림을 그려 해석하는 습관을 들이는게 좋다.

외접원 a.k.a 사인법칙

아니면 고1마냥 평면좌표로 구해도 되긴 함 .....

[24011-0014]

그림과 같이 자연수  $n$ 에 대하여 직선  $y=n$ 이 두 곡선  $y=\log_5 x$ ,  $y=\log_5(x-1)$ 과 만나는 점을 각각  $P_n, Q_n$ 이라 하고,  $x$ 축이 두 곡선  $y=\log_5 x, y=\log_5(x-1)$ 과 만나는 점을 각각  $A, B$ 라 하자. 사각형  $P_nABQ_n$ 의 넓이를  $S_n$ 이라 할 때,  $\lim_{n \rightarrow \infty} \frac{S_{n+1}}{n \times P_n Q_n}$ 의 값은?



- ①  $\frac{3}{2}$
- ②  $\frac{7}{4}$
- ③ 2
- ④  $\frac{9}{4}$
- ⑤  $\frac{5}{2}$

원본 DATA		
출처		과목
수특.미적.1단원.Lv2.4번		15미적
대단원	중단원	난이도
15수극	수열의 극한	2.5

14. 그림과 같이 자연수  $n$ 에 대하여 두 곡선

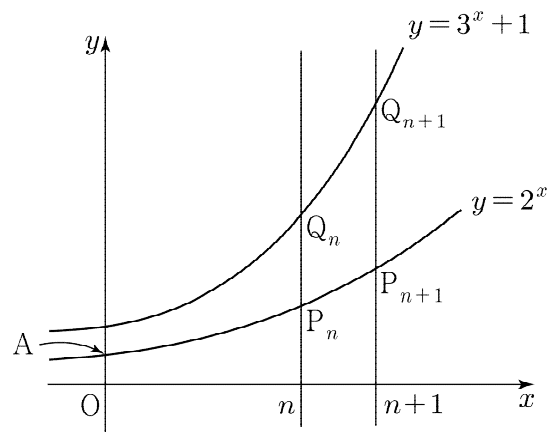
$$y = 2^x, y = 3^x + 1$$

이 직선  $x=n$ 과 만나는 점을 각각  $P_n, Q_n$ 이라 하고,

곡선  $y = 2^x$ 이  $y$ 축과 만나는 점을  $A$ 라 하자.

사각형  $P_n P_{n+1} Q_{n+1} Q_n$ 의 넓이를  $S_n$ , 삼각형  $AP_n Q_n$ 의 넓이를

$T_n$ 이라 할 때,  $\lim_{n \rightarrow \infty} \frac{n \times S_n}{T_{n+1}}$ 의 값은?



- ①  $\frac{1}{3}$
- ②  $\frac{2}{3}$
- ③ 1
- ④  $\frac{4}{3}$
- ⑤  $\frac{5}{3}$

14)

변형 DATA		
출처	변형 유형	난이도
수특.미적.1단원.Lv2.4번	스페셜	3

[출제포인트]

사각형  $P_n P_{n+1} Q_{n+1} Q_n$ 이 사다리꼴. 그림 끝. 대입 기. 고민 나.

3 [2011-0230]  
수열  $\{a_n\}$ 이 다음 조건을 만족시킨다.

(가) 양수  $k$ 에 대하여  $\sum_{n=1}^{\infty} \frac{n^k - ka_n}{a_n} = 1$ 이다.  
(나)  $\lim_{n \rightarrow \infty} \frac{n^2 a_n + 7a_n^2}{a_n^2 + n^2} = 1$

$k$ 의 값을 구하시오.

원본 DATA		
출처		과목
수특.미적분.2단원.Lv2.3번		15수학1
대단원	중단원	난이도
15수극	급수	3

15. 첫째항이 1인 등차수열  $\{a_n\}$ 과 두 상수  $p, q$ 에 대하여

$$\lim_{n \rightarrow \infty} \frac{a_n + n}{a_n - 2n} = 4, \quad \sum_{n=1}^{\infty} \left( \frac{a_n}{n} + \frac{pn-4}{n+2} \right) = q$$

일 때,  $p \times q$ 의 값은?

- ① 8      ② 9      ③ 10      ④ 11      ⑤ 12

15)

변형 DATA		
출처	변형 유형	난이도
수특.미적분.2단원.Lv2.3번	숫자	3

[출제포인트]

급수가 수렴하려면  $\lim_{n \rightarrow \infty} \frac{a_n}{n} = -p$  / 공차는  $-p$ 임

4 [24011-0031]  $a_1=1, a_2=2$ 인 수열  $(a_n)$ 이 모든 자연수  $n$ 에 대하여

$$a_n a_{n+1} a_{n+2} = \left(\frac{1}{4}\right)^n$$

을 만족시킬 때,  $\sum_{n=1}^{\infty} a_n$ 의 값은?

- ①  $\frac{7}{2}$       ②  $\frac{11}{3}$       ③  $\frac{23}{6}$       ④ 4      ⑤  $\frac{25}{6}$

원본 DATA		
출처		과목
수특.미적분.2단원.Lv2.4번		15미적분
대단원	중단원	난이도
15수극	급수	2

16. 수열  $\{a_n\}$ 이 모든 자연수  $n$ 에 대하여 다음 조건을 만족시킨다.

(가)  $\frac{a_{2n+1}}{a_{2n-1}} = -\frac{1}{2}$

(나)  $a_{2n-1}, a_{2n}, a_{2n+1}$ 은 이 순서대로 등차수열을 이룬다.

$\sum_{n=1}^{\infty} a_n = 10$ 일 때,  $a_1$ 의 값을 구하시오.

16)

변형 DATA		
출처	변형 유형	난이도
수특.미적분.2단원.Lv2.4번	스페셜	3

[출제포인트]

조건 (가)에서 홀수번째항끼리 등비수열

조건 (나)에서  $a_{2n-1} + a_{2n+1} = 2a_{2n}$

둘이 합쳐 관계식 발견 규칙발견하면

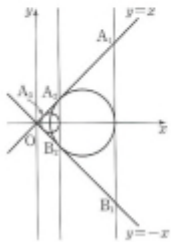
홀은 홀대로 짝은 짝대로 등비수열 나옴

2 [24011-0033] 자연수  $n$ 에 대하여 직선  $y=x$  위의 점  $A_n(x_n, x_n)$ 을 다음 규칙에 따라 정한다.

점  $A_n(x_n, x_n)$ 을 지나고  $y$ 축에 평행한 직선이 직선  $y=-x$ 와 만나는 점을  $B_n$ 이라 할 때, 삼각형  $A_nOB_n$ 에 내접하는 원이 직선  $y=x$ 와 만나는 점이  $A_{n+1}(x_{n+1}, x_{n+1})$ 이다.

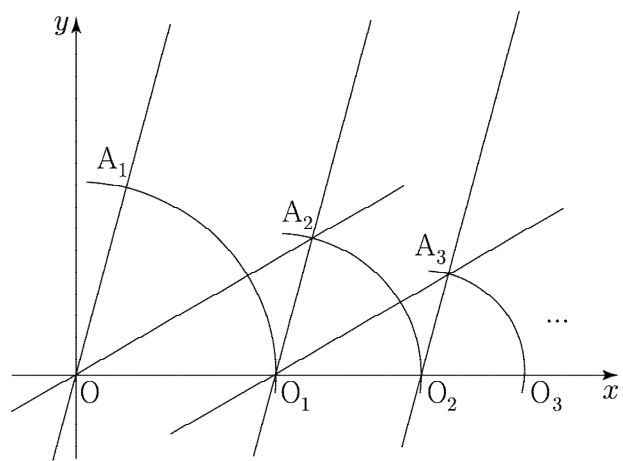
$x_1=8$ 일 때,  $\sum_{n=1}^{\infty} x_n$ 의 값은? (단,  $O$ 는 원점이다.)

- ㉠  $8\sqrt{2}-2$     ㉡  $8\sqrt{2}-1$     ㉢  $8\sqrt{2}$     ㉣  $8\sqrt{2}+1$     ㉤  $8\sqrt{2}+2$



원본 DATA		
출처		과목
수특.미적분.2단원.Lv3.2번		15수학1
대단원	중단원	난이도
15수극	급수	3

17. 그림과 같이 좌표평면 위의 점  $O$ 를 지나고  $x$ 축의 양의 방향과 이루는 각의 크기가  $\frac{5\pi}{12}$ 인 직선 위에  $x$ 좌표가 양수인 점  $A_1$ 을  $\overline{OA_1}=1$ 이 되도록 잡는다. 점  $O$ 를 중심으로 하고 선분  $OA_1$ 을 반지름으로 하는 원이  $x$ 축과 만나는 점 중 점  $A_1$ 에 가까운 점을  $O_1$ 이라 하자. 점  $O_1$ 을 지나고  $x$ 축의 양의 방향과 이루는 각의 크기가  $\frac{5\pi}{12}$ 인 직선과 원점을 지나고  $x$ 축의 양의 방향과 이루는 각의 크기가  $\frac{\pi}{6}$ 인 직선이 만나는 점을  $A_2$ 라 하자. 점  $O_1$ 을 중심으로 하고 선분  $O_1A_2$ 를 반지름으로 하는 원이  $x$ 축과 만나는 점 중  $A_2$ 에 가까운 점을  $O_2$ 라 하자. 점  $O_2$ 를 지나고  $x$ 축의 양의 방향과 이루는 각의 크기가  $\frac{5\pi}{12}$ 인 직선이 점  $O_1$ 을 지나고  $x$ 축의 양의 방향과 이루는 각의 크기가  $\frac{\pi}{6}$ 인 직선과 만나는 점을  $A_3$ 이라 하자. 점  $O_2$ 를 중심으로 하고 선분  $O_2A_3$ 를 반지름으로 하는 원이  $x$ 축과 만나는 점 중  $A_3$ 에 가까운 점을  $O_3$ 이라 하자. 이와 같은 과정을 계속하여  $n$ 번째 얻은 점  $O_n$ 의 좌표를  $(x_n, 0)$ 이라 할 때,  $\lim_{n \rightarrow \infty} x_n$ 의 값은? (단,  $O$ 는 원점이다.)



- ㉠  $\sqrt{2}$     ㉡  $1+\sqrt{2}$     ㉢  $2\sqrt{2}$   
 ㉣  $2+\sqrt{2}$     ㉤  $2+2\sqrt{2}$

17)

변형 DATA		
출처	변형 유형	난이도
수특.미적분.2단원.Lv3.2번	스페셜	3

[출제포인트]

덧셈정리 이용한 등비급수 활용 나름 신선

등비급수 문제는 작년 한 해동안 평가원이 배제했기 때문에

올해도 나올 가능성이 높지 않지만 기습 대비  $\uparrow$

굳이 너무 정확히 모든 걸 찾으려고 애쓰지 말고 규칙만 찾자.

어차피 급수 도형 문제 = 초항과 공비.

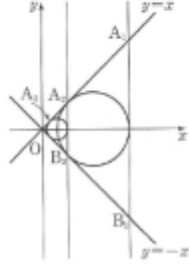
[24011-0033]

자연수  $n$ 에 대하여 직선  $y=x$  위의 점  $A_n(x_n, x_n)$ 을 다음 규칙에 따라 정한다.

점  $A_n(x_n, x_n)$ 을 지나고  $y$ 축에 평행한 직선이 직선  $y=-x$ 와 만나는 점을  $B_n$ 이라 할 때, 삼각형  $A_nOB_n$ 에 내접하는 원이 직선  $y=x$ 와 만나는 점이  $A_{n+1}(x_{n+1}, x_{n+1})$ 이다.

$x_1=8$ 일 때,  $\sum_{n=1}^{\infty} x_n$ 의 값은? (단,  $O$ 는 원점이다.)

- ①  $8\sqrt{2}-2$     ②  $8\sqrt{2}-1$     ③  $8\sqrt{2}$     ④  $8\sqrt{2}+1$     ⑤  $8\sqrt{2}+2$



일본 DATA		
출처		과목
수특.미적.2단원.Lv3.2번		15미적
대단원	중단원	난이도
15수극	급수	3

18. 자연수  $n$ 에 대하여 직선  $y=2x$  위의 점  $A_n(x_n, 2x_n)$ 에서  $x$ 축에 내린 수선의 발을  $B_n$ 이라 하자. 선분  $OA_n$  위에 점  $A_{n+1}$ 을  $\angle OB_nA_{n+1} = \frac{\pi}{4}$ 가 되도록 잡고 점  $A_{n+1}$ 에서  $x$ 축에 내린 수선의 발을  $B_{n+1}$ 이라 하자.  $x_1=6$ 일 때,  $\sum_{n=1}^{\infty} x_n$ 의 값은? (단,  $x_n > 0$ 이고  $O$ 는 원점이다.)

- ① 9    ② 10    ③ 11    ④ 12    ⑤ 13

18)

변형 DATA		
출처	변형 유형	난이도
수특.미적.2단원.Lv3.2번	스페셜	3

[출제포인트]

등비급수의 활용+각이등분선의 성질

윗 문제보다는 신선함이 떨어진다.

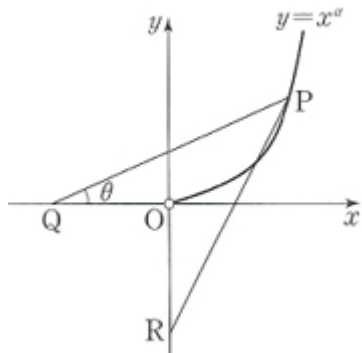
98% 등비급수. 고민 나. 초항과 공비 가.

[24011-0017]

그림과 같이 1보다 큰 상수  $a$ 와 자연수  $n$ 에 대하여 곡선  $y=x^a$  ( $x>0$ ) 위의 점  $P(n, n^a)$ 과 점  $R(0, (-a+1)n^a)$ 이 있다. 음의 실수  $t$ 에 대하여 점  $Q(t, 0)$ 이  $\overline{PQ}=\overline{PR}$ 을 만족시킬 때, 직선  $PQ$ 와  $x$ 축이 이루는 예각의 크기를  $\theta$ 라 하자.

$\lim_{n \rightarrow \infty} \theta = \frac{\pi}{4}$ 일 때, 상수  $a$ 의 값은?

- ①  $\sqrt{2}$                       ②  $\sqrt{3}$                       ③ 2
- ④  $\sqrt{5}$                       ⑤  $\sqrt{6}$

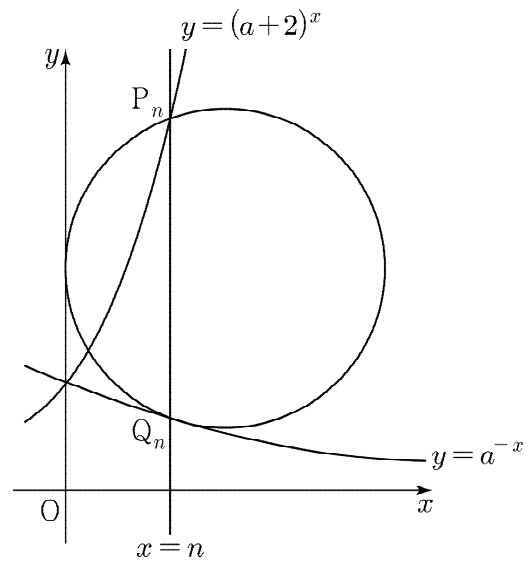


원본 DATA		
출처		과목
수특.미적.1단원.Lv3.3번		15미적
대단원	중단원	난이도
15수극	수열의 극한	3

19. 그림과 같이 상수  $a$  ( $a>1$ )과 자연수  $n$ 에 대하여 두 곡선

$$y=(a+2)^x, y=a^{-x}$$

이 직선  $x=n$ 과 만나는 점을 각각  $P_n, Q_n$ 이라 하자. 두 점  $P_n, Q_n$ 을 모두 지나고  $y$ 축에 접하는 원의 반지름의 길이를  $r_n$ 이라 하자.  $\lim_{n \rightarrow \infty} \left\{ n(2r_n - n) \times \frac{4^n}{7^{2n} + 5^{2n}} \right\} = \frac{1}{4}$ 일 때,  $a$ 의 값은?



- ①  $\frac{1}{2}$     ②  $\frac{3}{2}$     ③  $\frac{5}{2}$     ④  $\frac{7}{2}$     ⑤  $\frac{9}{2}$

19)

변형 DATA		
출처	변형 유형	난이도
수특.미적.1단원.Lv3.3번	스페셜	4

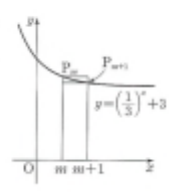
[출제포인트]

주어진 도형은 굉장히 깔끔한 편인데 비해 구해야 하는 값은 굉장히 귀찮은 형태. 킬러를 배제하고 계산량을 늘여서 출제한 작년 수능 기초에 맞는 문제

$\overline{P_nQ_n}$ 의 길이를 2가지 방법으로 표현해서  $r_n$ 을 구하자.

좌표 대입하기 & 원에서 현의 길이 구하기



4 [24011-0035] 

그림과 같이 자연수  $m$ 에 대하여 곡선  $y = (\frac{1}{3})^x + 3$ 과 직선  $x = m$ 이 만나는 점을  $P_m$ 이라 하자. 선분  $P_m P_{m+1}$ 을 대각선으로 하고 모든 변이  $x$ 축 또는  $y$ 축과 평행한 직사각형의 넓이를  $S_m$ 이라 할 때, 부등식  $\sum_{n=1}^m S_n > \frac{1}{1200}$ 을 만족시키는  $m$ 의 최댓값은?

Ⓐ 1                      Ⓑ 2                      Ⓒ 3  
 Ⓓ 4                      Ⓔ 5

원본 DATA		
출처		과목
수특.미적분.2단원.Lv3.4번		15수학1
대단원	중단원	난이도
15수극	급수	3

20. 두 수열  $\{a_n\}, \{b_n\}$ 이 모든 자연수  $n$ 에 대하여

$$a_{n+1} = a_2 \times a_n \quad (a_2 \neq 0),$$

$$b_n = \sum_{k=1}^{\infty} a_{n+k}$$

를 만족시킨다. 상수  $c$ 에 대하여  $\sum_{n=1}^{\infty} a_n = \sum_{n=1}^{\infty} b_n = c$ 일 때,  $c$ 의 값을 구하시오.

20)

변형 DATA		
출처	변형 유형	난이도
수특.미적분.2단원.Lv3.4번	스페셜	4

[출제포인트]

$b_n = \sum_{k=1}^{\infty} a_{n+k}$  도 등비수열인데 헛갈리는 학생들이 의외로 많다는 점에서 한 번쯤 연습하고 넘어가도 좋을 문제.  
 등비급수  $\rightarrow \frac{\text{첫째항}}{1 - \text{공비}}$

[2011-0034]  
 3. 3의 배수인 자연수  $p$ 에 대하여 첫째항이  $p$ 이고 공비가  $\frac{3}{4}$ 인 등비수열  $\{a_n\}$ 과 첫째항이  $6$ 이고 공비가  $\frac{2p-10}{p-2}$ 인 등비수열  $\{b_n\}$ 이  $\sum_{n=1}^{\infty} (b_n - a_n) = q$ 를 만족시킨다.  $p+q$ 의 값은? (단,  $q$ 는 상수이다.)  
 ① -8      ② -7      ③ -6      ④ -5      ⑤ -4

원본 DATA		
출처		과목
수특.미적분.2단원.Lv3.3번		미적분
대단원	중단원	난이도
급수	급수	4

21. 등비수열  $\{a_n\}$ 과 공비가  $\frac{1}{2}$ 인 등비수열  $\{b_n\}$ 이 다음 조건을 만족시킨다.

(가)  $\sum_{n=1}^{\infty} (a_n + b_n) = 0$

(나) 정수  $k$ 에 대하여  $\sum_{n=1}^{\infty} \frac{4a_n}{b_n} = k$ 이다.

$k$ 의 최댓값을  $M$ 이라 하자.  $k = M$ 이고  $a_1 + b_1 = -4$ 일 때,  $|a_1 \times b_1|$ 의 값을 구하시오.

21)

변형 DATA		
출처	변형 유형	난이도
수특.미적분.2단원.Lv3.3번	스페셜	4.5

[출제포인트]

$\frac{\text{등비수열}}{\text{등비수열}}$  역시 등비수열.

조건이 간단하게 주어져 있는 점에 비해 생각해야 할 점이 많다는 점에서 짚어볼 점이 많다고 생각해 선별.

정수, 자연수 조건을 만족시키는 정수가 몇 개 없겠지 하고 접근.

2단원 미분법

- 8 [24011-0079] 함수  $f(x) = x^2 e^{\frac{x}{2}}$ 에 대하여  $f''(2)$ 의 값은?  
 ①  $6e$       ②  $7e$       ③  $8e$       ④  $9e$       ⑤  $10e$

원본 DATA		
출처		과목
수특.미적분.4단원.Lv1.8번		미적분
대단원	중단원	난이도
미분	여러 가지 미분법	1

22. 함수  $f(x) = (x^2 + 4) \times \sin \frac{\pi x}{2}$ 에 대하여  $f'(2)$ 의 값은?

- ①  $-2\pi$     ②  $-3\pi$     ③  $-4\pi$     ④  $-5\pi$     ⑤  $-6\pi$

22)

변형 DATA		
출처	변형 유형	난이도
수특.미적분.4단원.Lv1.8번	숫자	1

[출제포인트]

기본유형 - 그냥 곱의 미분.  $\frac{\pi}{2}$  빼먹으면 ..... (한숨)

9. 함수  $f(x) = ax - 3 \sin x$ 에 대하여  $0 \leq x < 2\pi$ 에서  $x$ 에 대한 방정식  $f'(x) = 0$ 의 실근이 존재하도록 하는 정수  $a$ 의 개수는?  
 24011-0044] ① 6      ② 7      ③ 8      ④ 9      ⑤ 10

원본 DATA		
출처		과목
수특.미적분.3단원.유제.9번		15미적분
대단원	중단원	난이도
15미분	여러가지함수의미분	1

23. 함수  $f(x) = kx + 4 \cos x$ 가 극값을 갖도록 하는 정수  $k$ 의 개수는?

- ① 4      ② 5      ③ 6      ④ 7      ⑤ 8

23)

변형 DATA		
출처	변형 유형	난이도
수특.미적분.3단원.유제.9번	숫자	1

[출제포인트]

$f'(x) = 0$ 에서 부호 변화가 존재해야 극값을 가짐.  
 강 넓다  $f'(x) = 0$  했다가는 근소한 차이로 배신당할수도..

1  $\lim_{x \rightarrow 0} \frac{e^{5x} - e^{4x} - e^{2x} + 1}{x^2}$ 의 값은?  
 [24011-0036] ① 2    ② 4    ③ 6    ④ 8    ⑤ 10

원본 DATA		
출처		과목
수특.미적분.3단원.유제.1번		15미적분
대단원	중단원	난이도
15미분	여러가지함수의미분	1.5

24.  $\lim_{x \rightarrow 0} \frac{1 - \cos x - \cos^2 x + \cos^3 x}{x^4}$ 의 값은?

- ①  $\frac{1}{16}$     ②  $\frac{1}{8}$     ③  $\frac{1}{4}$     ④  $\frac{1}{2}$     ⑤ 1

24)

변형 DATA		
출처	변형 유형	난이도
수특.미적분.3단원.유제.1번	숫자	1.5

[출제포인트]

로피탈 떠올리면 산으로 감.

보자마자  $1 - \cos^2 x$ 로 묶을 수 있어야 한다.

- [24011-0047]  
 3  $\lim_{x \rightarrow 1} \frac{e^{2x} + a}{\sin 3x} = b$ 를 만족시키는 두 상수  $a, b$ 에 대하여  $a+b$ 의 값은?  
 ㉠  $-\frac{2}{3}$     ㉡  $-\frac{1}{3}$     ㉢ 0    ㉣  $\frac{1}{3}$     ㉤  $\frac{2}{3}$

원본 DATA		
출처		과목
수특.미적분.3단원.Lv1.3번		미적분
대단원	중단원	난이도
미분	여러 가지 함수의 미분	1

25. 두 상수  $a, b$ 에 대하여

$$\lim_{x \rightarrow 0} \frac{(e^{2x} - 1)\ln(a + 2x)}{1 - \cos x} = b$$

일 때,  $a+b$ 의 값을 구하시오.

25)

변형 DATA		
출처	변형 유형	난이도
수특.미적분.3단원.Lv1.3번	숫자	1.5

[출제포인트]

지수+로그+삼각 극한 째뽕!

분자 수렴하려면  $x \times x$  필요함

분모 수렴하려면  $x^2$  필요함

그럼 분자 분모  $x^2$ 으로 나눠버림

2 열린구간  $(0, \pi)$ 에서 정의된 함수  $f(x) = \cot x + \csc x$ 에 대하여  $\lim_{h \rightarrow 0} \frac{f(a+h) - f(a-h)}{h} = -\frac{4}{3}$  일 때, 상수  $a$ 의 값은? (단,  $0 < a < \pi$ )  
 [24011-0063]  
 ①  $\frac{\pi}{6}$     ②  $\frac{\pi}{3}$     ③  $\frac{\pi}{2}$     ④  $\frac{2}{3}\pi$     ⑤  $\frac{5}{6}\pi$

원본 DATA		
출처		과목
수특.미적분.4단원.유제.2번		15미적분
대단원	중단원	난이도
15미분	여러 가지 미분법	2

26. 열린구간  $(0, \frac{\pi}{2})$ 에서 정의된 함수  $f(x) = \sec x + \tan x$ 가 있다. 상수  $a$  ( $0 < a < \frac{\pi}{2}$ )에 대하여  $\lim_{x \rightarrow a} \frac{f(x) - f(a)}{x - a} = 2$ 일 때,  $a$ 의 값은?

- ①  $\frac{\pi}{12}$     ②  $\frac{\pi}{6}$     ③  $\frac{\pi}{4}$     ④  $\frac{\pi}{3}$     ⑤  $\frac{5}{12}\pi$

26)

변형 DATA		
출처	변형 유형	난이도
수특.미적분.4단원.유제 2번	숫자	2

[출제포인트]

$f'(a) = 2$ . 미분 기. 계산 기.

[24011-0074]

3 두 상수  $a, b$ 에 대하여  $\lim_{h \rightarrow 0} \frac{1}{h} \left( \frac{\sin^2\left(\frac{2}{3}\pi + 2h\right)}{\cos^2\left(\frac{2}{3}\pi + 2h\right)} - a \right) = b$ 일 때,  $ab$ 의 값은?

- ①  $-60\sqrt{3}$     ②  $-48\sqrt{3}$     ③  $-36\sqrt{3}$     ④  $-24\sqrt{3}$     ⑤  $-12\sqrt{3}$

원본 DATA		
출처		과목
수특.미적분.4단원.Lv1.3번		15미적분
대단원	중단원	난이도
15미분	여러 가지 미분법	2

27. 두 상수  $a, b$ 에 대하여

$$\lim_{h \rightarrow 0} \frac{\sin^3\left(\frac{\pi}{3} + ah\right) - b}{h} = 9$$

일 때,  $a \times b$ 의 값은?

- ①  $\sqrt{3}$     ②  $2\sqrt{3}$     ③  $3\sqrt{3}$     ④  $4\sqrt{3}$     ⑤  $5\sqrt{3}$

27)

변형 DATA		
출처	변형 유형	난이도
수특.미적분.4단원.Lv1.3번	숫자	2

[출제포인트]

보자마자  $f(x) = \sin^3 x$ 라 놓고  $af'\left(\frac{\pi}{3}\right)$ 으로 생각.



4 함수  $f(x) = xe^{mx}$ 에 대하여  $f'(\frac{\pi}{2})$ 의 값은?  
 [24011-0085] ①  $2-\pi$     ②  $1-\frac{\pi}{2}$     ③  $\frac{\pi}{2}$     ④  $1+\frac{\pi}{2}$     ⑤  $2+\pi$

원본 DATA		
출처		과목
수특.미적분.4단원.유제 4번		15미적분
대단원	중단원	난이도
15미분	여러 가지 미분법	2

28. 함수  $f(x) = x \sin \pi(e^x - 1)$ 에 대하여  $f'(\ln 2)$ 의 값은?

- ①  $-2\pi \ln 2$     ②  $-\pi \ln 2$     ③  $\pi \ln 2$   
 ④  $2\pi \ln 2$     ⑤  $3\pi \ln 2$

28)

변형 DATA		
출처	변형 유형	난이도
수특.미적분.4단원.유제 4번	숫자	2

[출제포인트]

단순한 합성함수의 미분법 기본 문제인데  
 우리 소중한  $\pi$ . 미분할 때 잊지 말자.

- [24011-0078]  
 7 함수  $f(x) = \frac{e^x - 1}{e^x + 1}$ 의 역함수를  $g(x)$ 라 할 때,  $g(\frac{1}{3})$ 의 값은?  
 ①  $\frac{1}{4}$       ②  $\frac{3}{4}$       ③  $\frac{5}{4}$       ④  $\frac{7}{4}$       ⑤  $\frac{9}{4}$

원본 DATA		
출처		과목
수특.미적분.4단원.Lv1.7번		15미적분
대단원	중단원	난이도
15미분	여러 가지 미분법	2

29. 함수  $f(x) = e^x - \frac{4}{e^x}$ 의 역함수를  $g(x)$ 라 할 때,  
 $g'(a) = \frac{1}{4}$ 이다. 상수  $a$ 의 값은?

- ① -2      ② 0      ③ 2      ④ 4      ⑤ 6

29)

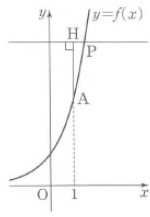
변형 DATA		
출처	변형 유형	난이도
수특.미적분.4단원.Lv1.7번	숫자	2

[출제포인트]

기본유형 - 역함수의 미분계수

$f(a)=b$  이면  $f'(a) \times g'(b)=1$

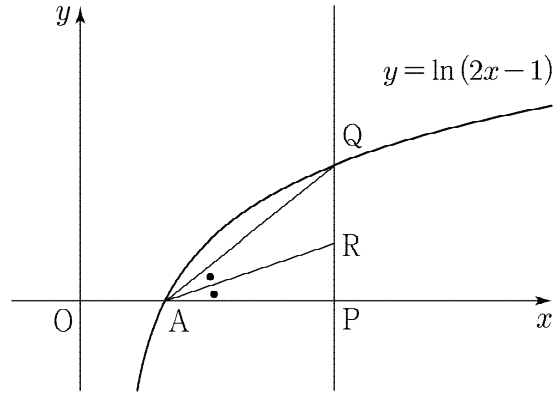
3 [24011-0038] 그림과 같이 함수  $f(x) = \frac{1}{2}e^{x+1}$ 에 대하여 곡선  $y=f(x)$  위에 두 점  $A(1, f(1)), P(t, f(t))$ 가 있다. 점 A에서 점 P를 지나고  $x$ 축에 평행한 직선에 내린 수선의 발을 H라 할 때,  $\lim_{t \rightarrow 1^+} \frac{\overline{AH}}{\overline{PH}}$ 의 값은? (단,  $t > 1$ )



- ①  $\frac{e^2}{4}$       ②  $\frac{e^2}{2}$       ③  $e^2$
- ④  $2e^2$       ⑤  $4e^2$

원본 DATA		
출처		과목
수특.미적분.3단원.유제.3번		15미적분
대단원	중단원	난이도
15미분	여러가지함수의미분	2.5

30. 그림과 같이 실수  $t (t > 1)$ 에 대하여 점  $P(t, 0)$ 을 지나고  $x$ 축에 수직인 직선이 곡선  $y = \ln(2x-1)$ 과 만나는 점을 Q라 하자. 점  $A(1, 0)$ 에 대하여  $\angle QAP$ 의 이등분선이 선분 PQ와 만나는 점을 R이라 할 때,  $\lim_{t \rightarrow 1^+} \frac{\overline{QR}}{\overline{PR}}$ 의 값은?



- ①  $\sqrt{3}$     ② 2    ③  $\sqrt{5}$     ④  $\sqrt{6}$     ⑤  $\sqrt{7}$

30)

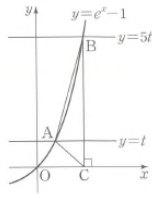
변형 DATA		
출처	변형 유형	난이도
수특.미적분.3단원.유제.3번	스페셜	2.5

[출제포인트]

각의 이등분선의 성질을 이용하자.  $\frac{\overline{QR}}{\overline{PR}} = \frac{\overline{AQ}}{\overline{AP}}$ .

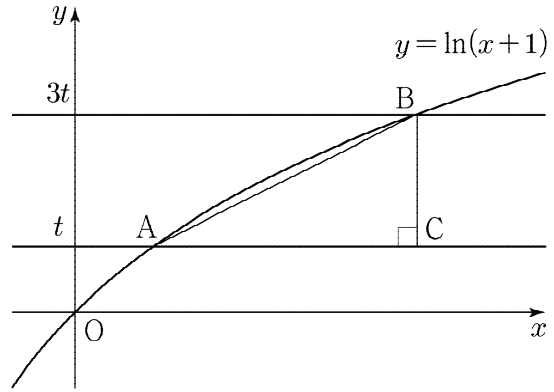
함수의 극한에서는 당장 식이 귀찮아도 일단 써보면 나옴

2 [24011-0050]  
 그림과 같이 양수  $t$ 에 대하여 곡선  $y=e^x-1$ 이 두 직선  $y=t, y=5t$ 와 만나는 점을 각각 A, B라 하고, 점 B에서  $x$ 축에 내린 수선의 발을 C라 하자. 삼각형 ACB의 넓이를  $S(t)$ 라 할 때,  $\lim_{t \rightarrow 0^+} \frac{S(t)}{t^2}$ 의 값을 구하시오.



원본 DATA		
출처		과목
수특.미적분.3단원.lv2.2번		15미적분
대단원	중단원	난이도
15미분	여러가지함수의미분	2.5

31. 그림과 같이 곡선  $y=\ln(x+1)$ 과 두 직선  $y=t, y=3t$  ( $t > 0$ )의 교점을 각각 A, B라 하고, 점 B에서 직선  $y=t$ 에 내린 수선의 발을 C라 하자. 삼각형 ABC의 넓이를  $S(t)$ 라 할 때,  $\lim_{t \rightarrow 0^+} \frac{S(t)}{t^2}$ 의 값을 구하시오.



31)

변형 DATA		
출처	변형 유형	난이도
수특.미적분.3단원.lv2.2번	숫자	2.5

[출제포인트]

직각삼각형 넓이니까 그대로  $t$ 를 활용해 좌표만 잘 잡으면 날로 먹을 수 있는 기회.

- 5 기울기가  $m (m > 1)$  이고 원점을 지나는 직선을  $l$  이라 하고, 직선  $l$  을  $x$  축에 대하여 대칭이동한 직선을  $l'$  이라 하자. 두 직선  $l, l'$  이 이루는 예각의 크기가  $\frac{\pi}{4}$  가 되도록 하는  $m$  의 값은?  
[24011-0040]
- ① 2      ②  $1+\sqrt{2}$       ③  $1+\sqrt{3}$       ④ 3      ⑤  $1+\sqrt{5}$

원본 DATA		
출처		과목
수특.미적분.3단원.유제.5번		15미적분
대단원	중단원	난이도
15미분	여러가지함수의미분	2

32. 점  $P(a, -2)$  에서 곡선  $y = \frac{1}{2}x^2$  에 그은 두 접선을 각각  $l_1, l_2$  라 하자. 두 직선  $l_1, l_2$  가 이루는 예각의 크기가  $\frac{\pi}{3}$  일 때, 양수  $a$  의 값은?

- ①  $\frac{\sqrt{10}}{2}$     ②  $\frac{\sqrt{11}}{2}$     ③  $\sqrt{3}$     ④  $\frac{\sqrt{13}}{2}$     ⑤  $\frac{\sqrt{14}}{2}$

32)

변형 DATA		
출처	변형 유형	난이도
수특.미적분.3단원.유제.5번	스페셜	3

[출제포인트]

기울기 a.k.a  $\tan \theta$

기본유형 - 좌표평면에서 두 직선이 이루는 각은 탄젠트 덧셈정리를 이용하자.

$$\tan \theta = |\tan(\beta - \alpha)|$$

- 5 [24011-0053]  
 실수  $a$ 와 자연수  $n$ 이  

$$\lim_{x \rightarrow 0} \frac{\tan ax - \sin ax}{x^n} = 108$$
  
 을 만족시킬 때,  $a+n$ 의 값은?  
 ① 6                      ② 7                      ③ 8                      ④ 9                      ⑤ 10

원본 DATA		
출처		과목
수특.미적분.3단원.lv2.5번		15미적분
대단원	중단원	난이도
15미분	여러가지함수의미분	3

33. 실수 전체의 집합에서 연속인 함수  $f(x)$ 가  $-\frac{\pi}{2} < x < \frac{\pi}{2}$  인

모든 실수  $x$ 에 대하여

$$(\tan x - \sin x)^2 f(x) = (a - 2\cos x)^3$$

을 만족시킬 때,  $a \times f(0)$ 의 값을 구하시오.

(단,  $a$ 는 상수이다.)

33)

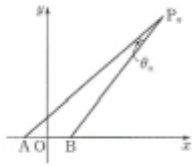
변형 DATA		
출처	변형 유형	난이도
수특.미적분.3단원.lv2.5번	스페셜	3

[출제포인트]

$x=0$  대입해서  $a$ 부터 구해주기

$0 \times f(x) = 0$  꼴로 표현된 함수는 항상 극한을 취해볼 생각을 해야 한다. 식 정리해서  $f(0)$  구.

- 3 [24011-0009]  
 그림과 같이 좌표평면에 두 점  $A(-1, 0)$ ,  $B(1, 0)$ 이 있다. 점  $P_n(2n, 5)$ 에 대하여  $\angle AP_nB = \theta_n$ 이라 할 때,  $\sum_{n=1}^m \frac{2 \tan \theta_n}{2 - 5 \tan \theta_n}$ 의 값은? (단,  $m$ 은 자연수이다.)
- ①  $\frac{14}{3}$       ②  $\frac{33}{7}$       ③  $\frac{100}{21}$   
 ④  $\frac{101}{21}$       ⑤  $\frac{34}{7}$

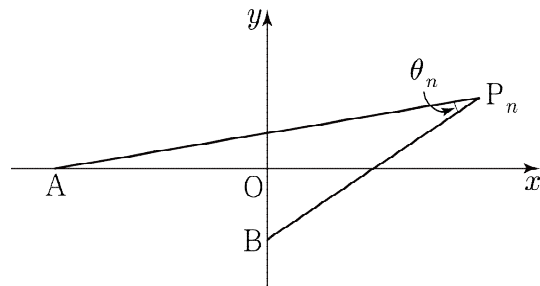


원본 DATA		
출처		과목
수특.미적.3단원.Lv3.3번		15미적
대단원	중단원	난이도
15미분	여러가지함수의미분	3

34. 그림과 같이 좌표평면 위에 두 점

$A(-3, 0)$ ,  $B(0, -1)$

이 있다. 자연수  $n$ 에 대하여 점  $P_n$ 을  $P_n(n, 1)$ 이라 하고,  $\angle AP_nB = \theta_n$ 이라 할 때,  $\sum_{n=1}^{10} \left( \tan \theta_n - \frac{1}{n+1} \right)$ 의 값은?



- ①  $\frac{1}{3}$       ②  $\frac{2}{3}$       ③ 1      ④  $\frac{4}{3}$       ⑤  $\frac{5}{3}$

34)

변형 DATA		
출처	변형 유형	난이도
수특.미적.3단원.Lv3.3번	숫자	3

[출제포인트]

특수한 도형 위의 세 점이 아니라, 연관성이 없는 두 점과 직선 위의 한 점으로 이루어진 각의 크기라는 점에서 익숙하지 않아 한 번쯤 풀어봐도 좋을 듯.

코사인법칙 vs 기울기로 덧셈정리

1 [24011-0080]  
 양의 실수 전체의 집합에서 미분가능하고  $f(1) \times f'(1) \neq 0$ 인 함수  $f(x)$ 에 대하여 양의 실수 전체의 집합에서 정의된 함수  $g(x)$ 를  

$$g(x) = \frac{f(x)e^x}{x^k + 1}$$
  
 이라 하자.  $\frac{g(1)}{f(1)} = \frac{g'(1)}{f'(1)}$ 일 때, 상수  $k$ 의 값을 구하시오.

원본 DATA		
출처		과목
수특.미적분.4단원.Lv2.1번		15미적분
대단원	중단원	난이도
15미분	여러 가지 미분법	3

35. 실수 전체의 집합에서 미분가능한 함수  $f(x)$ 가 모든 실수  $x$ 에 대하여  $f(x) > 0$ 을 만족시킨다. 함수

$$g(x) = e^{x^k} \sqrt{f(x)}$$

에 대하여  $2g'(1)f(1) = 12g(1)f'(1) + f'(1)g(1)$ 일 때, 상수  $k$ 의 값을 구하시오.

35)

변형 DATA		
출처	변형 유형	난이도
수특.미적분.4단원.Lv2.1번	숫자	3

[출제포인트]

참고 - 지수에 식이 들어가고 곱의 미분이 너무 복잡할 것 같으면 양변에 ln을 취해서 정리해놓고 미분



- 7 [24011-0086]  
 곡선  $e^{2x} - ke^{x+y} + y^2 = -4$ 가  $x$ 축과 서로 다른 두 점 P, Q에서 만나고, 곡선 위의 두 점 P, Q에서의 접선의 기울기의 차이가  $\frac{6}{5}$ 일 때, 상수  $k$ 의 값은? (단,  $k > 4$ )  
 ① 5      ② 6      ③ 7      ④ 8      ⑤ 9

원본 DATA		
출처		과목
수특.미적분.4단원.Lv2.7번		15미적분
대단원	중단원	난이도
15미분	여러 가지 미분법	3

36. 두 실수  $a, b (a < b)$ 에 대하여 두 점  $A(a, 2a), B(b, 2b)$ 가 모두 곡선  $C: e^y - 5e^x + 6 = 0$  위에 있다. 곡선  $C$  위의 두 점 A, B에서의 접선이 이루는 예각을  $\theta$ 라 할 때,  $\tan \theta$ 의 값은?  
 ①  $\frac{5}{31}$     ②  $\frac{6}{31}$     ③  $\frac{7}{31}$     ④  $\frac{8}{31}$     ⑤  $\frac{9}{31}$

36)

변형 DATA		
출처	변형 유형	난이도
수특.미적분.4단원.Lv2.5번	스페셜	3

[출제포인트]

매개변수로 표현된 함수 + 접선이 이루는 예각의 크기 라는 조합이 신선해서 한 번쯤 풀어볼 만한 문항.

두 점 A, B는  $y = 2x$  위의 점이라 놓고 교점 구하기

- [24011-0108]
- 8 좌표평면 위를 움직이는 점 P의 시각  $t (0 \leq t \leq \frac{\pi}{4})$ 에서의 위치  $(x, y)$ 가  $x = \sqrt{2} \cos 2t + 2, y = \sqrt{3} \sin 2t - \cos 2t$ 이다. 시각  $t = a$ 에서 점 P가  $x$ 축 위에 있을 때, 시각  $t = a$ 에서의 점 P의 속력은? (단,  $0 < a < \frac{\pi}{4}$ )
- ①  $2\sqrt{3}$     ②  $\sqrt{14}$     ③ 4    ④  $3\sqrt{2}$     ⑤  $2\sqrt{5}$

원본 DATA		
출처		과목
수특.미적.5단원.Lv2.3번		15미적
대단원	중단원	난이도
15미적	도활	2

37. 좌표평면 위를 움직이는 점 P의 시각  $t (0 < t < \pi)$ 에서의 위치  $(x, y)$ 가

$$x = \sin t + \cos t, \quad y = 2 \cos t - \sin t$$

이다. 시각  $t = a$ 에서 점 P가  $y$ 축 위에 있을 때, 시각  $t = a$ 에서의 점 P의 속력은? (단,  $0 < a < \pi$ )

- ①  $\sqrt{2}$     ②  $\frac{3}{2}$     ③  $\frac{\sqrt{10}}{2}$     ④  $\frac{\sqrt{11}}{2}$     ⑤  $\sqrt{3}$

37)

변형 DATA		
출처	변형 유형	난이도
수특.미적.5단원.Lv2.3번	숫자	3

[출제포인트]  
기본유형 연습

- 3 [24011-0103]  
 함수  $f(x) = |x^2 - 3|e^{-x}$ 의 모든 극댓값의 곱은? (단,  $\lim_{x \rightarrow -\infty} x^2 e^{-x} = 0$ )  
 ①  $\frac{10}{e^2}$     ②  $\frac{12}{e^2}$     ③  $\frac{14}{e^2}$     ④  $\frac{16}{e^2}$     ⑤  $\frac{18}{e^2}$

원본 DATA		
출처		과목
수특.미적분.5단원.Lv1.3번		15수학1
대단원	중단원	난이도
15미분	도함수의 활용	2

38. 양수  $a$ 에 대하여 함수

$$f(x) = |x^2 - 3a^2|e^{\frac{x}{a}}$$

의 모든 극댓값의 곱이  $\frac{3}{4}$ 일 때,  $a$ 의 값은?

(단,  $\lim_{x \rightarrow -\infty} x^2 e^x = 0$ )

- ①  $\frac{\sqrt{e}}{4}$     ②  $\frac{\sqrt{e}}{2}$     ③  $\frac{3\sqrt{e}}{4}$     ④  $\sqrt{e}$     ⑤  $\frac{5\sqrt{e}}{4}$

38)

변형 DATA		
출처	변형 유형	난이도
수특.미적분.5단원.Lv1.3번	숫자	3

[출제포인트]

지수함수 어차피 0보다 큼.

절댓값 없다고 생각해서 그린 뒤에 접어들리삼

대부분의 경우 절댓값이 없는 상태의 함수의 모든 극값이

절댓값이 씌워졌을 때 극댓값이 됨

[24011-0107]

7 모든 양의 실수  $x$ 에 대하여 부등식  $\ln 2x \leq \frac{x}{e} + k$ 가 성립하도록 하는 실수  $k$ 의 최솟값은?

- Ⓐ  $1 + \ln 2$     Ⓑ  $1 + 2 \ln 2$     Ⓒ  $2 + \ln 2$     Ⓓ  $2 + 2 \ln 2$     Ⓔ  $3 + \ln 2$

원본 DATA		
출처		과목
수특.미적분.5단원.Lv1.7번		15미적분
대단원	중단원	난이도
15미분	도함수의 활용	2

39. 모든 양의 실수  $x$ 에 대하여 부등식

$$\frac{\ln ax}{x} \leq k \leq \frac{e^x}{x}$$

이 성립하도록 하는 실수  $k$ 의 값이 하나뿐일 때, 양수  $a$ 의 값은?

- Ⓐ  $\sqrt{e}$     Ⓑ  $e$     Ⓒ  $e\sqrt{e}$     Ⓓ  $e^2$     Ⓔ  $e^2\sqrt{e}$

39)

변형 DATA		
출처	변형 유형	난이도
수특.미적분.5단원.Lv1.7번	스페셜	3

[출제포인트]

좌우에 있는 함수 그리기 번거로우니

어차피 양의 실수  $x$  양변에 전부 곱해서 각각 그려보자.

$$\ln ax \leq kx \leq e^x$$

하나밖에 없다 = 접할거다

- 1 [24011-0101] 점 (2, 0)에서 곡선  $y=(x+2)e^x$ 에 그은 두 접선의 기울기의 곱은?  
 ① 1      ② 3      ③ 5      ④ 7      ⑤ 9

원본 DATA		
출처		과목
수특.미적.5단원.Lv1.1번		15미적
대단원	중단원	난이도
15미적	도활	2

40. 원점에서 곡선  $y=e^{ax^2}$  ( $a > 0$ )에 그은 두 접선의 기울기의 곱이  $-4$ 일 때, 상수  $a$ 의 값은?

- ①  $\frac{1}{e}$     ②  $\frac{2}{e}$     ③  $\frac{3}{e}$     ④  $\frac{4}{e}$     ⑤  $\frac{5}{e}$

40)

변형 DATA		
출처	변형 유형	난이도
수특.미적.5단원.Lv1.1번	숫자	3

[출제포인트]

주어진 함수가 우함수임을 파악한다면, 자연스럽게 두 접선의 기울기가 각각  $2, -2$ 임을 알 수 있다. 제1사분면 쪽만 계산하자.

5 [24011-0105] 닫힌구간  $[a, a+6]$ 에서 함수  $f(x) = \frac{8x}{x^2 - 2x + 9}$ 의 최댓값이 2, 최솟값이 1이 되도록 하는 모든 실수  $a$ 의 값의 합을 구하시오.

원본 DATA		
출처		과목
수특.미적.5단원.Lv1.5번		15미적
대단원	중단원	난이도
15미적	도활	2

41. 양의 실수  $t$ 에 대하여 닫힌구간  $[-t, t]$ 에서 함수

$$f(x) = \frac{x-3}{x^2-6x+10}$$

의 최댓값을  $g(t)$ 라 하자.  $g(1)+g(5)$ 의 값이  $\frac{q}{p}$ 일 때,  $p+q$ 의 값을 구하시오. (단,  $p$ 와  $q$ 는 서로소인 자연수이다.)

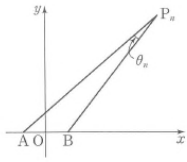
41)

변형 DATA		
출처	변형 유형	난이도
수특.미적.5단원.Lv1.5번	스페셜	3.5

[출제포인트]

기본유형 연습 : 그래프 개형 파악하기 + 예전 기출 비슷한 느낌

- 3 [24011-0059]  
 그림과 같이 좌표평면에 두 점  $A(-1, 0)$ ,  $B(1, 0)$ 이 있다. 점  $P_n(2n, 5)$ 에 대하여  $\angle AP_nB = \theta_n$ 이라 할 때,  $\sum_{n=1}^{10} \frac{2 \tan \theta_n}{2-5 \tan \theta_n}$ 의 값은? (단,  $n$ 은 자연수이다.)
- ①  $\frac{14}{3}$                       ②  $\frac{33}{7}$                       ③  $\frac{100}{21}$   
 ④  $\frac{101}{21}$                       ⑤  $\frac{34}{7}$



원본 DATA		
출처		과목
수특.미적분.3단원.lv3.3번		15미적분
대단원	중단원	난이도
15미분	여러가지함수의미분	3.5

42. 좌표평면 위의 세 점

$A(k, 5k^2)$ ,  $B(2k, 8k^2)$ ,  $C(4k, 8k^2)$

에 대하여  $\tan(\angle BAC)$ 의 값이 최대가 되도록 하는 양수  $k$ 의 값을  $a$ 라 하고, 이때  $\tan(\angle BAC)$ 의 값을  $M$ 이라 하자.  $30 \times a \times M$ 의 값을 구하시오.

42)

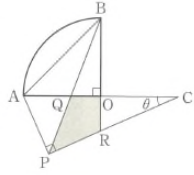
변형 DATA		
출처	변형 유형	난이도
수특.미적분.3단원.lv3.3번	스페셜	3.5

[출제포인트]

탄젠트 덧셈정리 + 산술기하를 이용한 최댓값 구하기.

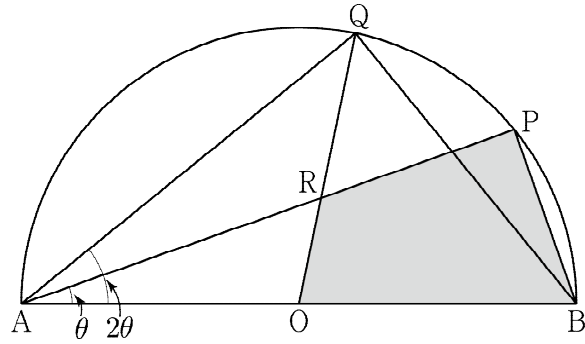
미분이용해도 됨

- 5 [24011-0061] 그림과 같이  $\overline{OA}=\overline{OB}=1$ 이고  $\angle AOB=\frac{\pi}{2}$ 인 부채꼴 AOB가 있다. 선분 OA를 1:2로 외분하는 점 C에 대하여  $\angle CPA=\frac{\pi}{2}$ ,  $\angle PCA=\theta$  ( $0<\theta<\frac{\pi}{4}$ )인 점 P를 선분 OA와 선분 BP가 만나도록 정한다. 두 선분 OA, BP가 만나는 점을 Q, 두 직선 OB, CP가 만나는 점을 R이라 할 때, 사각형 OQPR의 넓이를  $f(\theta)$ 라 하자.  $\lim_{\theta \rightarrow 0^+} \frac{f(\theta)}{\theta}$ 의 값은?
- ①  $\frac{3}{8}$       ②  $\frac{3\sqrt{2}}{8}$       ③  $\frac{3}{4}$       ④  $\frac{3\sqrt{2}}{4}$       ⑤  $\frac{3}{2}$



원본 DATA		
출처		과목
수특.미적분.3단원.lv3.5번		15미적분
대단원	중단원	난이도
15미분	여러가지함수의미분	3.5

43. 그림과 같이 길이가 4인 선분 AB를 지름으로 하는 반원 위에 두 점 P, Q를  $\angle PAB=\theta$ ,  $\angle QAB=2\theta$ 가 되도록 잡는다. 선분 AB의 중점 O에 대하여 선분 OQ와 선분 AP가 만나는 점을 R이라 하고 사각형 OBPR의 넓이를  $S(\theta)$ 라 하자.  $\lim_{\theta \rightarrow 0^+} \frac{S(\theta)}{\theta}=\alpha$ 일 때,  $3\alpha$ 의 값을 구하시오. (단,  $0<\theta<\frac{\pi}{4}$ )



43)

변형 DATA		
출처	변형 유형	난이도
수특.미적분.3단원.lv3.5번	스페셜	3.5

[출제포인트]

반원 위에 놓인 점이라면 응당 직각 표시를 하고 해석을 시작. 이상하게 생긴 사각형은 삼각형 두 개로 뺐개자. 삼각형 OAR에서 사인법칙을 이용하여 변의 길이 표현.



5 [24011-0113]  $0 < t < 1$ 인 실수  $t$ 에 대하여 함수  $f(x) = \ln(1+e^x) - tx$ 의 극값을  $g(t)$ 라 할 때,  $g(t)$ 의 최댓값은?  
 ㉠  $\ln 2$       ㉡  $\ln 3$       ㉢  $2 \ln 2$       ㉣  $\ln 5$       ㉤  $\ln 6$

6 [24011-0114] 열린구간  $(0, \frac{\pi}{2})$ 에서 정의된 함수  $f(x) = \cos^2 x + 7 \cos x$ 가 있다. 곡선  $y=f(x)$ 에 접하는 직선 중  $y$ 절편이 최대인 직선이 곡선과 접하는 점을 P라 할 때, 점 P의  $y$ 좌표는?  
 ㉠  $\frac{21}{16}$       ㉡  $\frac{23}{16}$       ㉢  $\frac{25}{16}$       ㉣  $\frac{27}{16}$       ㉤  $\frac{29}{16}$

원본 DATA		
출처		과목
수특.미적.5단원.Lv2.5번+6번		15미적
대단원	중단원	난이도
15미적	도활	3

44.  $x > 0$ 에서 정의된 함수  $f(x) = \sin \frac{\pi x}{a}$  ( $a > 0$ )이 있다. 함수

$$g(x) = f(x) - xf'(x)$$

가 극대가 되도록 하는 실수  $x$ 의 값을 작은 수부터 크기순으로 나열한 것을  $a_1, a_2, a_3, \dots$  이라 하자.  $(a_2)^2 = a_1 + a_3$ 일 때,  $f'(2)$ 의 값은?

- ㉠  $-\frac{5}{2}\pi$       ㉡  $-2\pi$       ㉢  $-\frac{3}{2}\pi$   
 ㉣  $-\pi$       ㉤  $-\frac{\pi}{2}$

44)

변형 DATA		
출처	변형 유형	난이도
수특.미적.5단원.Lv2.5번+6번	스페셜	3.5

[출제포인트]

극대가 되도록 하는  $x$ 의 값이 수열적인 표현으로 나왔을 때는 규칙성 파악.

극대. 미분계수가 “양수”에서 “음수”가 되는 지점.

- [24011-0067]  
 8 열린구간  $(0, \frac{\pi}{2})$ 에서 정의된 함수  $f(x) = ax \tan x$ 의 역함수를  $g(x)$ 라 하자.  $\lim_{x \rightarrow \frac{\pi}{2}} \frac{2g(x) - x}{2x - \pi} = b$ 일 때,  $ab$ 의 값은? (단,  $a, b$ 는 상수이고,  $a > 0$ 이다.)  
 ①  $-\frac{4\pi}{1+\pi}$     ②  $-\frac{4\pi}{2+\pi}$     ③  $-\frac{2\pi}{1+\pi}$     ④  $-\frac{2\pi}{2+\pi}$     ⑤  $-\frac{\pi}{2+\pi}$

일본 DATA		
출처		과목
수특.미적.4단원.Lv2.8번		15미적
대단원	중단원	난이도
15미분	여러가지미분법	3

A.2-2-1-1. 양승진 x CSM17 1회 문제편 (미주O)  
 (최종본.0802ver).3차최운동  
 문제사용

45. 실수  $a (a > e)$ 에 대하여 구간  $[1, \infty)$ 에서 정의된 함수  $f(x) = axe^{-x}$ 이 있다. 함수  $f(x)$ 와  $f(x)$ 의 역함수  $g(x)$ 에 대하여 함수  $f'(g(x))$ 가 열린구간  $(0, 1)$ 에서 감소할 때,  $a$ 의 최솟값은? (단,  $\lim_{x \rightarrow \infty} xe^{-x} = 0$ )

- ①  $\frac{4e^2}{5}$     ②  $\frac{7e^2}{10}$     ③  $\frac{3e^2}{5}$     ④  $\frac{e^2}{2}$     ⑤  $\frac{2e^2}{5}$

45)

변형 DATA		
출처	변형 유형	난이도
수특.미적.4단원.Lv2.8번	스페셜	4

[출제포인트]

$f'(g(x)) = \frac{1}{g'(x)}$ 가 감소함.  $g'(x)$ 는 증가함.  $g''(x) \geq 0$ 임.

합성함수 그래프 :  $n$ 축 사용 연습.

- 5 [24011-0113]  $0 < t < 1$ 인 실수  $t$ 에 대하여 함수  $f(x) = \ln(1+e^x) - tx$ 의 극값을  $g(t)$ 라 할 때,  $g(t)$ 의 최댓값은?  
 ㉠  $\ln 2$       ㉡  $\ln 3$       ㉢  $2 \ln 2$       ㉣  $\ln 5$       ㉤  $\ln 6$

원본 DATA		
출처		과목
수특.미적분.5단원.Lv2.5번		미적분
대단원	중단원	난이도
미분	도함수의 활용	3

46.  $0 < t < \pi$ 인 실수  $t$ 에 대하여 열린구간  $(0, 1)$ 에서 정의된 함수

$$f(x) = \cos \pi x + tx$$

가  $x = \alpha$ ,  $x = \beta$  ( $\alpha < \beta$ )에서 극값을 갖는다. 함수  $g(t)$ 를

$$g(t) = \beta - \alpha$$

라 할 때,  $g'\left(\frac{\pi}{2}\right)$ 의 값은?

- ㉠  $-\frac{2\sqrt{3}}{3\pi^2}$       ㉡  $-\frac{\sqrt{3}}{\pi^2}$       ㉢  $-\frac{4\sqrt{3}}{3\pi^2}$   
 ㉣  $-\frac{5\sqrt{3}}{3\pi^2}$       ㉤  $-\frac{2\sqrt{3}}{\pi^2}$

46)

변형 DATA		
출처	변형 유형	난이도
수특.미적분.5단원.Lv2.5번	스페셜	4

[출제포인트]

변수  $t$ 를 사용하여  $x$ 좌표를 새로운 함수로 정의 되었을 때

1. 합성함수 미분법 또는 음함수 미분을 이용하여 구하자.
2. 삼각함수 그래프 대칭성을 이용하여  $\beta$ 를  $\alpha$ 로 나타내기.

- 2 [24011-0095]  
 $0 < t < \frac{\pi}{2}$ 인 실수  $t$ 에 대하여 열린구간  $(0, \pi)$ 에서 정의된 함수  $f(x) = 2tx - t \cos x - 5 \sin x$ 가 있다.  $x$ 축에 평행한 직선이 함수  $y = f(x)$ 의 그래프에 접할 때 접점의  $x$ 좌표를  $g(t)$ 라 하면 함수  $g(t)$ 는 열린구간  $(0, \frac{\pi}{2})$ 에서 미분가능하다.  $g(\frac{\pi}{6})$ 인 실수  $a$ 에 대하여  $a \times g'(a)$ 의 값은?  
 ㉠  $-\frac{7\sqrt{3}}{8}$     ㉡  $-\frac{3\sqrt{3}}{4}$     ㉢  $-\frac{5\sqrt{3}}{8}$     ㉣  $-\frac{\sqrt{3}}{2}$     ㉤  $-\frac{3\sqrt{3}}{8}$

원본 DATA		
출처		과목
수특.미적분.4단원.Lv3.2번		15미적분
대단원	중단원	난이도
15미분	여러 가지 미분법	3

47. 양의 실수  $t$ 에 대하여 열린구간  $(0, \frac{\pi}{2})$ 에서 정의된 함수  $f(x) = e^{tx} \cos x$ 가 있다. 함수  $f(x)$ 의 최댓값을  $g(t)$ 라 할 때,  $g'(1)$ 의 값은?

- ㉠  $\frac{\sqrt{2}\pi}{2} e^{\frac{\pi}{4}}$     ㉡  $\frac{\sqrt{2}\pi}{4} e^{\frac{\pi}{4}}$     ㉢  $\frac{\sqrt{2}\pi}{6} e^{\frac{\pi}{4}}$   
 ㉣  $\frac{\sqrt{2}\pi}{8} e^{\frac{\pi}{4}}$     ㉤  $\frac{\sqrt{2}\pi}{10} e^{\frac{\pi}{4}}$

47)

변형 DATA		
출처	변형 유형	난이도
수특.미적분.4단원.Lv3.2번	스페셜	4

[출제포인트]

변수  $t$ 를 사용하여 최댓값 또는 최솟값을 새로운 함수로 정의됨

- 그래프 개형 파악
- 극댓값이 최대가 될 것

2 [24011-0118] 자연수  $n$ 과 실수  $k$ 에 대하여 곡선  $y = \ln(n+x) - \ln(n-x)$ 가 직선  $y = kx$ 와 만나는 서로 다른 점의 개수를  $a_n$ 이라 하자.  $\sum_{n=1}^{\infty} a_n = 16$ 이 되도록 하는 모든  $k$ 의 값의 범위가  $p < k \leq q$ 일 때,  $70pq$ 의 값을 구하시오.

원본 DATA		
출처		과목
수특.미적.5단원.Lv3.2번		15미적
대단원	중단원	난이도
15미적	도활	4

48. 양의 실수  $a$ 와 자연수  $n$ 에 대하여 함수  $f(x)$ 가

$$f(x) = \frac{a}{n}(e^x - e^{-x})$$

이다. 함수  $|f(x) - 2nx|$ 가  $x = t$ 에서 미분가능하지 않은 실수  $t$ 의 개수를  $g(n)$ 이라 하자.  $\sum_{n=1}^8 g(n) = 11$ 이 되도록 하는  $a$ 의 값을 구하시오.

48)

변형 DATA		
출처	변형 유형	난이도
수특.미적.5단원.Lv3.2번	스페셜	4

[출제포인트]

변곡점에 대해 물어보는 빈출유형.

$y = |\text{곡선} - \text{직선}|$  형태의 그래프에서 미분 가능성은 곡선과 직선이 만나는 점에서의 곡선의 접선 기울기를 이용하여 파악한다.

그러니  $f(x) - 2nx = 0$ 을 구하되 접하는 순간은 제외

4 [24011-0112] 함수  $f(x)=(x^2+a)e^x$ 에 대하여 보기에서 옳은 것만을 있는 대로 고른 것은? (단,  $a$ 는 실수이다.)

보기  
 가. 함수  $f(x)$ 가 극값을 갖기 위한  $a$ 의 값의 범위는  $a < 1$ 이다.  
 나. 곡선  $y=f(x)$ 의 변곡점이 존재하면 함수  $f(x)$ 는 극값을 갖는다.  
 다.  $a > 0$ 일 때, 함수  $\frac{1}{f(x)}$ 이 극댓값  $M$ , 극솟값  $m$ 을 가지면  $M \times m > \frac{e^2}{4}$ 이다.

- ① 가      ② 가, 나      ③ 가, 다      ④ 나, 다      ⑤ 가, 나, 다

원본 DATA		
출처		과목
수특.미적분.5단원.Lv2.4번		15미적분
대단원	중단원	난이도
15미분	도함수의 활용	3

49. 두 상수  $a, b (b > 0)$ 에 대하여 함수

$$f(x) = (x+a)e^{bx}$$

가 있다. 실수  $t$ 에 대하여  $x$ 에 대한 방정식

$$f(x) = f'(t)(x-t) + f(t)$$

의 실근 중 가장 작은 값을  $g(t)$ 라 하자. 함수  $g(t)$ 가 감소하는 실수  $t$ 의 값의 범위가  $-10 \leq t < -6$ 일 때,  $a \times b$ 의 값은?

(단,  $\lim_{x \rightarrow -\infty} xe^x = 0$ )

- ①  $\frac{1}{6}$     ②  $\frac{1}{5}$     ③  $\frac{1}{4}$     ④  $\frac{1}{3}$     ⑤  $\frac{1}{2}$

49)

변형 DATA		
출처	변형 유형	난이도
수특.미적분.5단원.Lv2.4번	스페셜	4

[출제포인트]

이런 유형의 문제에서 함수를 꼼꼼하게 그리고  $t$ 의 값을 일일이 경우를 나누어 세세하게 분석할 필요는 없다. 문제에서 주어진 상황에 맞는 경우를 찾고, 그에 맞춰 주어진 양쪽 범위의 값을 대입하면 된다. “실근의 개수를  $g(t)$ 라 할 때”라는 발문은 수능에 수도 없이 출제된 문항이므로 출제 가능성이 항상 높다.

3 [2011-0119]  
 $f(0)=0$ 인 이차함수  $f(x)$ 에 대하여 함수  
 $g(x)=f'(x)e^{-f(x)}$   
 이 다음 조건을 만족시킬 때,  $f(4)$ 의 값을 구하시오. (단,  $\lim_{x \rightarrow 0} g(x) = \lim_{x \rightarrow 0} f(x) = 0$ )

(가) 함수  $g(x)$ 는  $x=0$ 에서 극값을 갖는다.  
 (나) 실수  $t$ 에 대하여 방정식  $|g(x)|=t$ 의 서로 다른 양의 실근의 개수를  $h(t)$ 라 할 때,  
 $\lim_{t \rightarrow 0^+} h(t) \neq \lim_{t \rightarrow 0^-} h(t)$ 인 모든 양수  $k$ 의 값의 합은 3이다.

원본 DATA		
출처		과목
수특.미적분.5단원.Lv3.3번		15미적분
대단원	중단원	난이도
15미분	도함수의 활용	5

50.  $f(0)=f(1)=4$ 이고 최고차항의 계수가 양수인 삼차함수  $f(x)$ 에 대하여 함수  $g(x)$ 를  $g(x)=|f(x)|+2$ 라 하자. 함수

$$h(x)=g(x) \sin \frac{\pi}{g(x)}$$

가 자연수  $n$ 에 대하여 다음 조건을 만족시킬 때,  $f(2)$ 의 값을 구하시오.

$x$ 에 대한 방정식  $h(x)=n$ 의 실근이 존재하면  
 $x$ 에 대한 방정식  $h(x)=n$ 의 서로 다른 실근의 개수는  $n$ 이다.

50)

변형 DATA		
출처	변형 유형	난이도
수특.미적분.5단원.Lv3.3번	스페셜	5

출제포인트]

$h'(x)$ 를 구해서 그래프의 개형을 그리고  $f(x)$ 의 그래프를 찾자.  
 또는  $n$ 축 연습

3 [24011-0118]  
 $f(0)=0$ 인 이차함수  $f(x)$ 에 대하여 함수  
 $g(x)=f'(x)e^{-2x}$   
 이 다음 조건을 만족시킬 때,  $f(4)$ 의 값을 구하시오. (단,  $\lim_{x \rightarrow 0} g(x)=\lim_{x \rightarrow 0} g'(x)=0$ )

(가) 함수  $g(x)$ 는  $x=0$ 에서 극값을 갖는다.  
 (나) 실수  $t$ 에 대하여 방정식  $|g(x)|=t$ 의 서로 다른 양의 실근의 개수를  $h(t)$ 라 할 때,  
 $\lim_{t \rightarrow 0} h(t) \neq \lim_{t \rightarrow 0} h'(t)$ 인 모든 양수  $k$ 의 값의 합은 3이다.

원본 DATA		
출처		과목
수특.미적.5단원.Lv3.3번		15미적
대단원	중단원	난이도
15미적	도활	4

51. 양수  $a$ 에 대하여 함수  $f(x)$ 가

$$f(x)=\begin{cases} x^2+ax & (x \leq 0) \\ \frac{2x}{x^2+1} & (x > 0) \end{cases}$$

이다. 양수  $k$ 와 실수  $t$ 에 대하여  $x$ 에 대한 방정식

$$f(x)=f(t)+k$$

의 서로 다른 실근의 개수를  $g(t)$ 라 하자. 함수  $g(t)$ 가 다음 조건을 만족시킬 때,  $k \times f(-4)$ 의 값을 구하시오.

(가) 함수  $g(t)$ 가  $t=\alpha$ 에서 불연속인 실수  $\alpha$ 의 개수는 3이다.  
 (나)  $\left| \lim_{t \rightarrow p^+} g(t) - \lim_{t \rightarrow p^-} g(t) \right| = 2$ 인 모든 실수  $p$ 의 값의 합은  $-3$ 이다.

51)

변형 DATA		
출처	변형 유형	난이도
수특.미적.5단원.Lv3.3번	스페셜	5

[출제포인트]

방정식의 실근개수나 교점의 개수를 함숫값으로 갖는 함수에서의 극한 활용이므로  $f(x)$ 의 그래프를 그려서 가능한  $g(t)$ 의 치역을 관찰하자.

특수한 경우를 얼마나 잘 찾아내는지가 관건이다. 이런 형태의 조건으로 주어지는 경우 대부분 특수한 형태를 시사하고 있으므로 그런 경우를 먼저 살펴보는 것이 유리하다.



3단원 적분법

9 함수  $f(x) = \frac{e^x + e^{-x}}{2}$ 에 대하여  $0 \leq x \leq \ln 2$ 에서 곡선  $y=f(x)$ 의 길이는?

[24011-0148]

- ①  $\frac{1}{4}$       ②  $\frac{1}{2}$       ③  $\frac{3}{4}$       ④ 1      ⑤  $\frac{5}{4}$

원본 DATA		
출처		과목
수특.미적.7단원.유제9번		미적분
대단원	중단원	난이도
적분	정적분의 활용	1

52. 함수  $f(x) = \frac{2}{3}x^{\frac{3}{2}}$ 에 대하여  $0 \leq x \leq 3$ 에서 곡선  $y=f(x)$ 의 길이는?

- ① 4      ②  $\frac{14}{3}$       ③  $\frac{16}{3}$       ④ 6      ⑤  $\frac{20}{3}$

52)

변형 DATA		
출처	변형 유형	난이도
수특.미적.7단원.유제9번	숫자	1.5

[출제포인트]

기본유형 연습하기 : 곡선의 길이

4  $\int_0^1 2x\sqrt{x^2+1} dx - \int_{\frac{1}{8}}^1 2x\sqrt{x^2+1} dx$ 의 값은?  
[24011-0123]  
 ①  $\frac{11}{3}$     ② 4    ③  $\frac{13}{3}$     ④  $\frac{14}{3}$     ⑤ 5

핵심 : 치환적분 (솔직히 위끝 아래끝 나눈 건 의미가 없는 듯)

원본 DATA		
출처		과목
수특.미적분.6단원.유제.4번		15미적
대단원	중단원	난이도
15적분	여러 가지 적분법	2

53.  $\int_{\frac{1}{2}}^1 x^{-3} e^{\frac{1}{x}} dx$ 의 값은?

- ① 1    ② e    ③  $e^2$     ④  $e^3$     ⑤  $e^4$

53)

변형 DATA		
출처	변형 유형	난이도
수특.미적분.6단원.유제.4번	스페셜	2

[출제포인트]

기본유형 연습하기 : 치환적분 → 부분적분

8  $\lim_{x \rightarrow \pi} \frac{1}{x^2 - \pi^2} \int_x^\pi \sin \frac{t}{2} dt$ 의 값은?  
[24011-0127]

①  $\frac{1}{\pi}$       ②  $\frac{1}{2\pi}$       ③  $\frac{1}{3\pi}$       ④  $\frac{1}{4\pi}$       ⑤  $\frac{1}{5\pi}$

핵심 : 정적분으로 표현된 함수의 극한

원본 DATA		
출처		과목
수특.미적분.6단원.유제.8번		15미적
대단원	중단원	난이도
15적분	여러 가지 적분법	2

54.  $\lim_{x \rightarrow \frac{\pi}{3}} \frac{24}{9x^2 - \pi^2} \int_{\frac{\pi}{3}}^x \frac{\cos t}{\cos t + 1} dt$ 의 값은?

- ①  $\frac{2}{3\pi}$     ②  $\frac{1}{\pi}$     ③  $\frac{4}{3\pi}$     ④  $\frac{5}{3\pi}$     ⑤  $\frac{2}{\pi}$

54)

변형 DATA		
출처	변형 유형	난이도
수특.미적분.6단원.유제.8번	숫자	2

[출제포인트]

정적분과 극한이 함께 있는 경우에

정적분을  $F-f$  형태로 바꾸면 미분계수꼴로 정리할 수 있다.

[24011-0128]  
**1**  $\int_2^3 \frac{x^2-1}{(x-1)(x+2)} dx$ 의 값은?  
 ①  $\ln \frac{2}{5}e$       ②  $\ln \frac{4}{5}e$       ③  $\ln \frac{6}{5}e$       ④  $\ln \frac{8}{5}e$       ⑤  $\ln 2e$

핵심 : 단위 유리함수(분모가 일차식)로의 변환

원본 DATA		
출처		과목
수특.미적분.6단원.Lv1.1번		15미적
대단원	중단원	난이도
15적분	여러 가지 적분법	2

55.  $\int_1^2 \frac{x}{x^2+3x+2} dx$ 의 값은?

- ①  $5\ln 2 - 4\ln 3$     ②  $5\ln 2 - 3\ln 3$     ③  $5\ln 2 - 2\ln 3$   
 ④  $6\ln 2 - 3\ln 3$     ⑤  $6\ln 2 - 2\ln 3$

55)

변형 DATA		
출처	변형 유형	난이도
수특.미적분.6단원.Lv1.1번	숫자	2

[출제포인트]

치환도 아닌 것 같고 부분도 아닌 것 같다.

그렇다면 애매한 유리식이니 부분분수를 활용하여 적분 가능한 형태로 식 변형 하기

$$\frac{x}{(x+1)(x+2)} = \frac{2x}{(2x+2)(x+2)} = \frac{2x}{x} \left( \frac{1}{2x+2} - \frac{1}{x+2} \right)$$

- 2  $\lim_{n \rightarrow \infty} \frac{1}{n^2} \sum_{k=1}^n k \sqrt{2^k}$ 의 값은?  
 [2011-0141] ①  $\frac{2 \ln 2 - 1}{(\ln 2)^2}$     ②  $\frac{3 \ln 2 - 1}{(\ln 2)^2}$     ③  $\frac{4 \ln 2 - 1}{(\ln 2)^2}$     ④  $\frac{5 \ln 2 - 1}{(\ln 2)^2}$     ⑤  $\frac{6 \ln 2 - 1}{(\ln 2)^2}$

원본 DATA		
출처		과목
수특.미적.7단원.유제2번		15미적
대단원	중단원	난이도
15적분	정적분의활용	1

56.  $\lim_{n \rightarrow \infty} \sum_{k=1}^n \frac{e^{\sqrt{\frac{k}{n}}}}{n}$ 의 값은?

- ① 1    ② 2    ③ 3    ④ 4    ⑤ 5

56)

변형 DATA		
출처	변형 유형	난이도
수특.미적.7단원.유제2번	숫자	2

[출제포인트]

항상 시그마 앞에  $\frac{1}{n}$ 을 만든 후,  $\frac{k}{n} = x$ 로 바꿔 생각하자.

- 4 [24011-0152] 곡선  $y = (-x^2 + 4)e^x$  과  $x$  축으로 둘러싸인 부분의 넓이는?  
 ①  $e^2 + 5e^{-2}$     ②  $2e^2 + 6e^{-2}$     ③  $3e^2 + 7e^{-2}$     ④  $4e^2 + 8e^{-2}$     ⑤  $5e^2 + 9e^{-2}$

원본 DATA		
출처		과목
수특.미적.7단원.Lv1.4번		미적분
대단원	중단원	난이도
적분	정적분의 활용	2

57. 곡선  $y = e^{2x} - 3e^x + 2$  와  $x$  축으로 둘러싸인 부분의 넓이는?

- ①  $\frac{3}{2} - \ln 2$     ②  $\frac{3}{2} - 2\ln 2$     ③  $\frac{5}{2} - \ln 2$   
 ④  $\frac{5}{2} - 2\ln 2$     ⑤  $\frac{7}{2} - \ln 2$

57)

변형 DATA		
출처	변형 유형	난이도
수특.미적.7단원.Lv1.4번	숫자	2

[출제포인트]

지수 형태로 표현된 함수의 인수분해도 눈에 익숙해져야 한다.  
 기본유형 -  $x$  축으로 둘러싸인 부분의 넓이 구하기

1.  $x$  축과의 교점 파악
2. 그래프 개형 파악

- 8 [24011-0156]  
 좌표평면 위를 움직이는 점 P의 시간  $t (t \geq 0)$ 에서의 위치  $(x, y)$ 가  
 $x = \cos t + t \sin t, y = \sin t - t \cos t$   
 일 때, 시간  $t = \frac{\pi}{2}$ 에서  $t = \pi$ 까지 점 P가 움직인 거리는?  
 ①  $\frac{3}{8}\pi^2$     ②  $\pi^2$     ③  $\frac{13}{8}\pi^2$     ④  $\frac{9}{4}\pi^2$     ⑤  $\frac{23}{8}\pi^2$

원본 DATA		
출처		과목
수특.미적.7단원.Lv1.8번		미적분
대단원	중단원	난이도
적분	정적분의 활용	2

58. 좌표평면 위를 움직이는 점 P의 시간  $t (t \geq 0)$ 에서의 위치  $(x, y)$ 가

$$x = e^t + e^{-t}, y = 2t + 1$$

일 때, 시간  $t = \ln 3$ 에서  $t = \ln 6$ 까지 점 P가 움직인 거리는?

- ①  $\frac{5}{2}$     ②  $\frac{8}{3}$     ③  $\frac{17}{6}$     ④ 3    ⑤  $\frac{19}{6}$

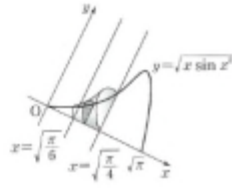
58)

변형 DATA		
출처	변형 유형	난이도
수특.미적.7단원.Lv1.8번	숫자	2

[출제포인트]

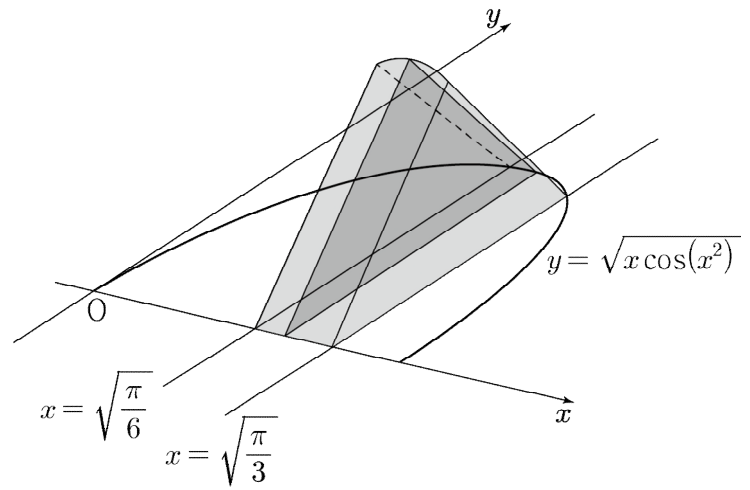
기본유형- 매개변수로 표현된 함수의 움직인 거리 유형은 반드시 피적분함수가 제곱식으로 표현될 수 밖에 없다. 인내심을 가지고 전개해보도록 하자.

- 7 [24011-0195]  
 그림과 같이 곡선  $y = \sqrt{x \sin x^2}$  ( $0 \leq x \leq \sqrt{\pi}$ )와  $x$ 축 및 두 직선  $x = \sqrt{\frac{\pi}{6}}$ ,  $x = \sqrt{\frac{\pi}{4}}$ 로 둘러싸인 부분을 밑면으로 하는 입체도형이 있다. 이 입체도형을  $x$ 축에 수직인 평면으로 자른 단면이 모두 반원일 때, 이 입체도형의 부피는?  
 ①  $\frac{\sqrt{2}-1}{32}\pi$       ②  $\frac{\sqrt{3}-\sqrt{2}}{32}\pi$       ③  $\frac{2-\sqrt{3}}{32}\pi$   
 ④  $\frac{\sqrt{5}-2}{32}\pi$       ⑤  $\frac{\sqrt{6}-\sqrt{5}}{32}\pi$



원본 DATA		
출처		과목
수특.미적.7단원.Lv1.7번		15미적
대단원	중단원	난이도
15적분	정적분의활용	2

59. 그림과 같이 곡선  $y = \sqrt{x \cos(x^2)}$  ( $0 \leq x \leq \sqrt{\frac{\pi}{2}}$ )와  $x$ 축 및 두 직선  $x = \sqrt{\frac{\pi}{6}}$ ,  $x = \sqrt{\frac{\pi}{3}}$ 로 둘러싸인 부분을 밑면으로 하고  $x$ 축에 수직인 평면으로 자른 단면이 모두 정삼각형인 입체도형의 부피는?



- ①  $\frac{2-\sqrt{3}}{16}$       ②  $\frac{3-\sqrt{3}}{16}$       ③  $\frac{4-\sqrt{3}}{16}$   
 ④  $\frac{5-\sqrt{3}}{16}$       ⑤  $\frac{6-\sqrt{3}}{16}$

59)

변형 DATA		
출처	변형 유형	난이도
수특.미적.7단원.Lv1.7번	숫자	2

[출제포인트]

정삼각형, 정사각형, 반원 등등 단면이 일정한 도형인 정적분 문제는 빈출유형



[24011-0133]  
 1  $\int_0^{\frac{\pi}{2}} \left| \sin x - \frac{2}{\pi}x \right| dx$ 의 값은?  
 ①  $\frac{6-\pi}{18}$     ②  $\frac{7-\pi}{18}$     ③  $\frac{8-\pi}{18}$     ④  $\frac{9-\pi}{18}$     ⑤  $\frac{10-\pi}{18}$

핵심 :  $\frac{2}{\pi}x$  라는 직선이  $\sin x$ 와 위치관계가 어떻게 되는가  
 직관이 필요 없고 방정식으로 나올 수 있도록 바꿔보기.  
 추가로, 함수의 개형을 그려봐야 하는 형태면 좋을 듯.  
 $\sin x = \frac{2}{\pi}x$  라는 방정식을 못 풀어서 직관에 의존하는데  
 이 직관이 쉽다고 쳐도 모르면 못 풀지 않나?

일본 DATA		
출처		과목
수특.미적분.6단원.Lv2.1번		15미적
대단원	중단원	난이도
15적분	여러 가지 적분법	2

60. 다음 조건을 만족시키는 모든 함수  $f(x)$ 에 대하여

$\int_0^3 f(x)dx$ 의 최솟값은?

(가) 함수  $f(x)$ 는 실수 전체의 집합에서 연속이다.  
 (나) 모든 실수  $x$ 에 대하여  
 $\left\{ f(x) - \frac{10x}{x^2+1} \right\} \times \{ f(x) + x - 6 \} = 0$   
 이다.

- ①  $4 + 10\ln 2$     ②  $\frac{9}{2} + 10\ln 2$     ③  $5 + 10\ln 2$   
 ④  $\frac{11}{2} + 10\ln 2$     ⑤  $6 + 10\ln 2$

60)

변형 DATA		
출처	변형 유형	난이도
수특.미적분.6단원.Lv2.1번	스페셜	3

[출제포인트]

$(f(x) - g(x))(f(x) - h(x)) = 0$  형태로 출제되는 경우 방정식  $g(x) = h(x)$ 의 서로 다른 실근을 모두 구한 후 그래프 개형을 추론하자.

[24011-0136]  
**4**  $0 \leq x \leq 1$ 일 때,  $x$ 에 대한 방정식  

$$2\pi \int_0^{2x} |t-x| \cos 2\pi t dt = x \sin 4\pi x$$
 의 서로 다른 실근의 개수는?  
 ① 2      ② 3      ③ 4      ④ 5      ⑤ 6

핵심 :  $|t-x|$  가지고 범위나누기  
 너무 노가다임.

원본 DATA		
출처		과목
수특.미적분.6단원.Lv2.4번		15미적
대단원	중단원	난이도
15적분	여러 가지 적분법	3.5

61. 실수 전체의 집합에서 연속인 함수  $f(x)$ 가 모든 실수  $x$ 에 대하여

$$(x-e)f(x) = \int_1^x (t-k) \ln t dt$$

를 만족시킨다.  $f(e)$ 의 값은?

- ①  $\frac{4e-1-e^2}{4}$     ②  $\frac{3e-1-e^2}{4}$     ③  $\frac{2e-1-e^2}{4}$   
 ④  $\frac{3e-1-2e^2}{4}$     ⑤  $\frac{4e-1-2e^2}{4}$

61)

변형 DATA		
출처	변형 유형	난이도
수특.미적분.6단원.Lv2.4번	스페셜	3

[출제포인트]

$x=e$ 를 대입하여  $k$ 를 구해주자

그 다음 양변 미분만 하면 딱-딱 ( $f(e)=e-k$ )

적분한 게 아깝다면 직접  $f(x)$  구해도 무방 ..... (비추)

[24011-0130]  
**3**  $\int_1^e x (\ln x)^2 dx$ 의 값은?  
 ①  $e^2-1$       ②  $\frac{e^2-1}{2}$       ③  $\frac{e^2-1}{3}$       ④  $\frac{e^2-1}{4}$

핵심 : 부분적분

원본 DATA		
출처		과목
수특.미적분.6단원.Lv1.3번		15미적
대단원	중단원	난이도
15적분	여러 가지 적분법	2

62.  $\int_0^{\frac{\pi}{2}} \{4 \sin^3 x \cos x \ln(1 + \cos x)\} dx$ 의 값은?

- ①  $\frac{1}{3}$       ②  $\frac{5}{12}$       ③  $\frac{1}{2}$       ④  $\frac{7}{12}$       ⑤  $\frac{2}{3}$

62)

변형 DATA		
출처	변형 유형	난이도
수특.미적분.6단원.Lv1.3번	스페셜	3

[출제포인트]

복잡해 보이지만,  $f(x) \times \ln\{g(x)\}$  형태에서 망설임 없이 부분적분을 해보도록 하자. 이런 형태의 부분적분이 나오면 생각보다 멍청하거나 혼란스러워할 수 있다.

피적분함수에 사인이나 코사인의 홀수 거듭제곱꼴이 있는 경우 예를 들어  $\sin^{2n+1}x$ 는  $(1 - \cos^2 x)^n \sin x$ 로 바꾸어 치환적분하자.

- 2 [24011-0158]  
 함수  $f(x) = -xe^x$ 의 그래프 위의 점  $P(-2, f(-2))$ 에서의 접선을  $l$ 이라 하자. 곡선  $y=f(x)$ 와 접선  $l$  및  $y$ 축으로 둘러싸인 부분의 넓이는? (단, 곡선  $y=f(x)$ 와 접선  $l$ 은 점  $P$ 에서만 만난다.)  
 ①  $\frac{9}{e^2}-1$     ②  $\frac{9}{e^2}$     ③  $\frac{9}{e^2}+1$     ④  $\frac{9}{e^2}+2$     ⑤  $\frac{9}{e^2}+3$

원본 DATA		
출처		과목
수특.미적.7단원.Lv2.2번		미적분
대단원	중단원	난이도
적분	정적분의 활용	3

63. 상수  $a (a < 0)$ 에 대하여 두 함수

$$f(x) = \ln(|x|+1) + a, \quad g(x) = \frac{1}{3}|x|$$

의 그래프가 만나는 점의 개수가 2일 때, 두 함수의 그래프로 둘러싸인 부분의 넓이는?

- ①  $\frac{8}{3} - 2\ln 3$     ②  $\frac{8}{3} - \ln 3$     ③  $\frac{10}{3} - 2\ln 3$   
 ④  $\frac{10}{3} - \ln 3$     ⑤  $4 - 2\ln 3$

63)

변형 DATA		
출처	변형 유형	난이도
수특.미적.7단원.Lv2.2번	스페셜	3

[출제포인트]

두 함수에 모두 절댓값이 들어가 있으므로 두 그래프 모두  $y$ 축에 대칭임을 알아냈으면  $x > 0$ 에서 한 번 만난다고 두고 풀면됨.

- 3 [24011-0159]  
 곡선  $y = \ln x$  위의 점  $P(a, \ln a)$ 에서의 접선과 평행하고 점  $(1, 0)$ 을 지나는 직선을  $l$ 이라 하자. 곡선  $y = \ln x$ 와  $x$ 축 및 직선  $x = e$ 로 둘러싸인 부분의 넓이를 직선  $l$ 이 이등분할 때,  $a$ 의 값은?  
 ①  $e-1$       ②  $(e-1)^2$       ③  $(e-1)^3$       ④  $(e-1)^4$       ⑤  $(e-1)^5$

원본 DATA		
출처		과목
수특.미적분.7단원.Lv2.3번		15미적분
대단원	중단원	난이도
15적분	정적분의 활용	3

64. 곡선  $y = \frac{\ln x}{x}$  위에 두 점  $P, Q$ 를 직선  $PQ$ 가 원점  $O$ 를 지나도록 잡는다. 곡선  $y = \frac{\ln x}{x}$ 와 선분  $OP$  및  $x$ 축으로 둘러싸인 영역을  $A$ 라 하고, 곡선  $y = \frac{\ln x}{x}$ 와 선분  $PQ$ 로 둘러싸인 영역을  $B$ 라 하자.

$(A \text{의 넓이}) = (B \text{의 넓이})$

일 때, 점  $Q$ 의  $y$ 좌표는? (단, 점  $Q$ 의  $x$ 좌표는 점  $P$ 의  $x$ 좌표보다 크다.)

- ①  $\frac{1}{e}$       ②  $\frac{2}{e^2}$       ③  $\frac{3}{e^3}$       ④  $\frac{4}{e^4}$       ⑤  $\frac{5}{e^5}$

64)

변형 DATA		
출처	변형 유형	난이도
수특.미적분.7단원.Lv2.3번	스페셜	3

[출제포인트]

$(A \text{의 넓이}) = (B \text{의 넓이})$

$(A \text{의 넓이}) - (B \text{의 넓이}) = 0$

위와 같은 발문은 거의 대부분  $\int_a^b f(x)dx = 0$ 임을 내포하고 있는

조건이므로  $a, b, f(x)$ 를 찾는 데에 주력하도록 하자.

이 문제는 (삼각형 넓이) = (정적분 값) 파악하기.

[24011-0125]  
 3 양의 실수 전체의 집합에서 정의된 함수  $f(x) = \int_x^{2x} \frac{\ln t}{t} dt$ 가  $x=a$ 에서 최댓값  $b$ 를 가질 때, 두 실수  $a, b$ 에 대하여  $ab$ 의 값은?  
 ①  $\frac{1}{2}$       ② 1      ③  $\frac{3}{2}$       ④ 2      ⑤  $\frac{5}{2}$

핵심 : 정적분으로 표현된 함수의 미분  
 극값을 갖는  $x$ 의 개수가 1인 것이 핵심인 듯 한데,  
 심심함. 차라리 간단한 그래프 해석을 통해  
 한 번에 원하는 상황이 무엇인지 알 수 있도록?

원본 DATA		
출처		과목
수특.미적분.6단원.Lv2.3번		15미적
대단원	중단원	난이도
15적분	여러 가지 적분법	3

65. 실수  $t$ 에 대하여 곡선  $y=e^x$  위의 점  $(t, e^t)$ 에서의 접선의 방정식을  $y=f(x)$ 라 하자.

$$\left\{ \int_{-1}^1 |f(x)| dx \right\}^2 \neq \left\{ \int_{-1}^1 f(x) dx \right\}^2$$

인 모든  $t$ 의 값의 범위가  $\alpha < t < \beta$ 일 때,  $\beta - \alpha$ 의 값을 구하시오.

65)

변형 DATA		
출처	변형 유형	난이도
수특.미적분.6단원.Lv2.3번	스페셜	3.5

[출제포인트]

$\int_a^b |f(x)| dx = \int_a^b f(x) dx$  이기 위해서는 주어진 구간  $(a, b)$ 에서 방정식  $f(x)=0$ 의 실근이 존재하지 않아야 한다.  
 피적분함수에 절댓값이 포함된 경우와, 적분값 전체에 절댓값이 씌워져 있는 경우 모두 대비하기 위해 한 번쯤 풀어볼 만한 가치가 있다. 주어진 등식의 의미가 접선의  $x$ 절편이  $-1 < x$  절편  $< 1$ 임을 파악하기.

- 5 [24011-0161]  
 함수  $f(x) = (\ln x)^2 + 2 \ln x + 3$ 에 대하여 곡선  $y=f(x)$ 의 변곡점이  $(a, f(a))$ 일 때, 직선  $y=f(a)$ 와 곡선  $y=f(x)$ 로 둘러싸인 부분의 넓이는?  
 ①  $\frac{1}{e^2}$       ②  $\frac{2}{e^2}$       ③  $\frac{3}{e^2}$       ④  $\frac{4}{e^2}$       ⑤  $\frac{5}{e^2}$

원본 DATA		
출처		과목
수특.미적.7단원.Lv2.5번		미적분
대단원	중단원	난이도
적분	정적분의 활용	3

66. 함수  $f(x) = axe^{-x}$  ( $a > 0$ )에 대하여 곡선  $y=f(x)$ 의 변곡점에서의 접선을  $l$ 이라 하자.  $y$ 축과 직선  $l$  및 곡선  $y=f(x)$ 로 둘러싸인 부분의 넓이가  $3+e$ 일 때, 상수  $a$ 의 값은?

- ①  $\frac{e^2}{3-e}$       ②  $\frac{e^2}{4-e}$       ③  $\frac{e^2}{5-e}$   
 ④  $\frac{e^3}{3-e}$       ⑤  $\frac{e^3}{4-e}$

66)

변형 DATA		
출처	변형 유형	난이도
수특.미적.7단원.Lv2.5번	스페셜	3.5

[출제포인트]

$y = xe^x$ ,  $y = xe^{-x}$ 와 같은 식으로 주어진 함수의 그래프의 개형은 알고 있으면 좋다. 개형을 빠르게 그릴 수 있다면 체감 난이도가 확 낮아진다.  $a$ 는 변곡점의 좌표 등에 큰 영향을 끼치지 않는다 아무 생각 없이 구하다보면 나올 것

24011-0188]  
 2 점  $A(0, \frac{\sqrt{3}}{2}e)$ 를 지나고 함수  $f(x)=k(\ln x)^2$ 의 그래프에 접하는 두 접선  $l_1, l_2$ 가 다음 조건을 만족시킨다.

- (가) 곡선  $y=f(x)$ 와 두 접선  $l_1, l_2$ 가 접하는 점의  $x$ 좌표는 각각  $p, q$  ( $p < q$ )이다.  
 (나) 두 접선  $l_1, l_2$ 는 서로 수직이다.

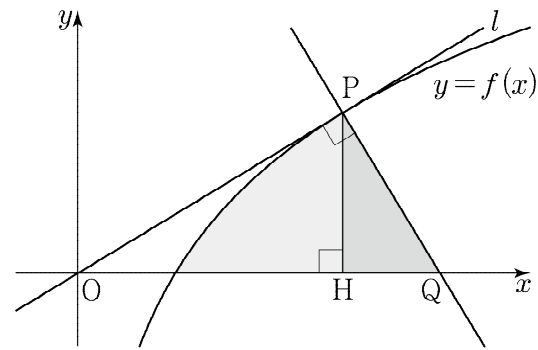
곡선  $y=f(x)$ 와 두 직선  $x=p, x=q$  및  $x$ 축으로 둘러싸인 부분의 넓이는? (단,  $k$ 는 양의 상수이다.)

- ①  $\frac{\sqrt{3}}{6}(e^4-1)$     ②  $\frac{\sqrt{3}}{3}(e^4-1)$     ③  $\frac{\sqrt{3}}{2}(e^4-1)$     ④  $\frac{2\sqrt{3}}{3}(e^4-1)$     ⑤  $\frac{5\sqrt{3}}{6}(e^4-1)$

원본 DATA		
출처		과목
수특.미적.7단원.Lv3.2번		15미적
대단원	중단원	난이도
15적분	정적분의활용	4

67. 원점에서 함수  $f(x)=k\ln x$ 의 그래프에 그은 접선  $l$ 의 접점을  $P$ 라 하자. 점  $P$ 를 지나고 직선  $l$ 과 수직인 직선이  $x$ 축과 만나는 점을  $Q$ , 점  $P$ 에서  $x$ 축에 내린 수선의 발을  $H$ 라 하자. 곡선  $y=f(x)$ 와 선분  $PH$ ,  $x$ 축으로 둘러싸인 도형의 넓이와 삼각형  $PHQ$ 의 넓이가 같을 때, 양수  $k$ 의 값은?

- ①  $\sqrt{e}$     ②  $\sqrt{2e}$     ③  $\sqrt{3e}$     ④  $2\sqrt{e}$     ⑤  $\sqrt{5e}$



67)

변형 DATA		
출처	변형 유형	난이도
수특.미적.7단원.Lv3.2번	스페셜	4

[출제포인트]

$y=f(x)$ , 접선, 법선, 축 등으로 둘러싸인 부분들의 넓이 조건을 이용하여 미정계수 구하기 - 그냥 계산문제인데

이 문제에서는 점  $Q$ 의 좌표를 구하기보단 삼각형  $OPH$ 와 삼각형  $PHQ$ 가 닮음임을 생각하면 접선을 구하지 않아도 됨



- 3 [24011-0167]  
 양의 상수  $a$ 에 대하여  $-\frac{\pi}{2} < x < \frac{\pi}{2}$ 에서 정의된 두 함수  $f(x) = a \sec x$ ,  $g(x) = 2 \sin x \cos x$ 의 그래프가 단 한 점에서만 만나고 그 점에서의 접선이 서로 일치한다. 두 곡선  $y=f(x)$ ,  $y=g(x)$  및  $y$ 축으로 둘러싸인 부분의 넓이는?  
 ①  $\frac{2\sqrt{3}}{9} \ln(2+\sqrt{3}) - \frac{1}{2}$       ②  $\frac{2\sqrt{3}}{9} \ln(2+\sqrt{3}) - \frac{1}{3}$       ③  $\frac{2\sqrt{3}}{9} \ln(2+\sqrt{3}) - \frac{1}{4}$   
 ④  $\frac{2\sqrt{3}}{9} \ln(2+\sqrt{3}) - \frac{1}{5}$       ⑤  $\frac{2\sqrt{3}}{9} \ln(2+\sqrt{3}) - \frac{1}{6}$

원본 DATA		
출처		과목
수특.미적.7단원.Lv3.3번		미적분
대단원	중단원	난이도
적분	정적분의 활용	4

68. 두 상수  $a, b$  ( $0 < b < 2$ )에 대하여 두 함수

$$f(x) = ax^2 - 2ax, \quad g(x) = \sin b\pi x + 2$$

의 그래프가 오직 한 점  $P(1, f(1))$ 에서만 만날 때, 두 곡선  $y=f(x)$  및  $y=g(x)$ 와  $y$ 축으로 둘러싸인 부분의 넓이는?

- ①  $\frac{4}{3} + \frac{2}{3\pi}$       ②  $2 + \frac{2}{3\pi}$       ③  $\frac{8}{3} + \frac{2}{3\pi}$   
 ④  $\frac{4}{3} + \frac{4}{3\pi}$       ⑤  $2 + \frac{4}{3\pi}$

68)

변형 DATA		
출처	변형 유형	난이도
수특.미적.7단원.Lv3.3번	스페셜	4

[출제포인트]

두 곡선이 오직 한 점에서 만나므로  $x=1$ 에서 서로 접하는 상황임을 눈치채야 한다. 특수한 경우를 다루고 있다는 점에서 한 번쯤 풀어볼 만하다.

두 곡선이 한 점에서만 만나는 특수한 경우의 넓이 구하기 - 그래프 개형 파악이 중요하다.

3 [2011-0138] 실수 전체의 집합에서 마분가능한 함수  $f(x)$ 가 다음 조건을 만족시킬 때,  $\int_{-\frac{\pi}{2}}^{\frac{\pi}{2}} \frac{xf'(x)}{1+\pi^{2x}} dx$ 의 값은?

(가) 모든 실수  $x$ 에 대하여  $f(-x)=f(x)$ 이다.

(나)  $f(\frac{\pi}{2})=12$

(다)  $\int_a^{\frac{\pi}{2}} f(x) dx=12$

- Ⓐ  $2\pi-12$    Ⓑ  $3\pi-12$    Ⓒ  $4\pi-12$    Ⓓ  $5\pi-12$    Ⓔ  $6\pi-12$

원본 DATA		
출처		과목
수특.미적분.6단원.Lv3.3번		미적분
대단원	중단원	난이도
미분	여러 가지 적분법	5

69. 함수  $f(x)=a(x^3-x)$ 에 대하여 함수

$$g(x)=\int_{-1}^x \frac{tf(t)}{1+2^{f(t)}} dt$$

의 극솟값이  $-2$ 일 때,  $f(2)$ 의 값을 구하시오.

69)

변형 DATA		
출처	변형 유형	난이도
수특.미적분.6단원.Lv3.3번	스페셜	5

[출제포인트]

$g'(x)$ 의 분모가 항상 0보다 크기 때문에, 실질적으로 신경써야 하는 부분은 분자에만 있다. 표현에 겁먹지 않아야 한다.

[참고]

$f(-x)=-f(x)$ 일 때,

$$h(x)=\frac{1}{1+2^{f(x)}} \text{ 이면}$$

$$h(-x)=\frac{1}{1+2^{f(-x)}}$$

$$=\frac{1}{1+2^{-f(x)}}$$

$$=\frac{2^{f(x)}}{1+2^{f(x)}}$$

이므로  $h(x)+h(-x)=1$ 이고  $y=h(x)$ 는 점  $(0, \frac{1}{2})$ 에 대하여 대칭이다.

3 실수 전체의 집합에서 미분가능한 함수  $f(x)$ 가 다음 조건을 만족시킬 때,  $\int_{-\frac{\pi}{2}}^{\frac{\pi}{2}} \frac{xf'(x)}{1+\pi^{f(x)}} dx$ 의 값은?

(가) 모든 실수  $x$ 에 대하여  $f(-x)=f(x)$ 이다.  
 (나)  $f(\frac{\pi}{2})=12$   
 (다)  $\int_{\frac{\pi}{2}}^{\pi} f(x) dx=12$

①  $2\pi-12$     ②  $3\pi-12$     ③  $4\pi-12$     ④  $5\pi-12$     ⑤  $6\pi-12$

핵심 : (가) 조건을 이용한 함수 변형  
 우함수, 기함수 모두 사용해서 주어진 적분식을  
 간단하게 만들 수 있는 함수라면 뭐든 좋음.

원본 DATA		
출처		과목
수특.미적분.6단원.Lv3.3번		15미적
대단원	중단원	난이도
15적분	여러 가지 적분법	4

70. 실수 전체의 집합에서 증가하고 미분가능한 함수  $f(x)$ 가 있다. 함수  $f(x)$ 가 다음 조건을 만족시킬 때, 함수  $f(x)$ 의 역함수  $g(x)$ 에 대하여  $\int_{-5}^5 \{g(e^x)\}^2 dx$ 의 값을 구하시오.

(가) 모든 실수  $x$ 에 대하여  $f(x)f(-x)=1$ 이다.  
 (나)  $f(2)=e^5, \int_0^2 x \ln \{f(x)\} dx = 7$

70)

변형 DATA		
출처	변형 유형	난이도
수특.미적분.6단원.Lv3.3번	스페셜	5

[출제포인트]  
 주어진 함수  $f(x)$  자체보다는,  $\ln\{f(x)\} + \ln\{f(-x)\} = 0$  임을 이용하는 점이 신선하다. 즉  $f(x)$ 가 아니라  $\ln\{f(x)\}$ 가 원점대칭임을 이용해서 풀어나가야 하는 문제.  
 역함수  $g(x)$ 를  $t$ 로 치환하는 과정도 잊지 않아야 한다.  
 두 과정을 모두 학습할 수 있다는 점에서 풀이할 가치가 있다.

# 정답 및 해설

1) 정답 ①

$f(n) = \frac{2^n - 1}{2^n + 1}$  이라 하면

$$\begin{aligned} \sum_{n=1}^{\infty} \left( \frac{2^n - 1}{2^n + 1} - \frac{2^{n+1} - 1}{2^{n+1} + 1} \right) &= \sum_{n=1}^{\infty} \{f(n) - f(n+1)\} \\ &= \lim_{n \rightarrow \infty} \{f(1) - f(n+1)\} \\ &= \lim_{n \rightarrow \infty} \left( \frac{1}{2+1} - \frac{2^{n+1} - 1}{2^{n+1} + 1} \right) \\ &= \frac{1}{3} - 1 = -\frac{2}{3} \end{aligned}$$

2) 정답 ③

급수  $\sum_{n=1}^{\infty} \left( a_n - \frac{n}{n+1} \right) = 1$  이 수렴하므로

$$\lim_{n \rightarrow \infty} \left( a_n - \frac{n}{n+1} \right) = 0 \quad \therefore \lim_{n \rightarrow \infty} a_n = 1$$

따라서 구하는 값은

$$\lim_{n \rightarrow \infty} \frac{na_n + 1}{(2n+1)a_n + 1} = \lim_{n \rightarrow \infty} \frac{a_n + \frac{1}{n}}{\left(2 + \frac{1}{n}\right)a_n + \frac{1}{n}} = \frac{1+0}{2 \times 1 + 0} = \frac{1}{2}$$

3) 정답 ②

$\lim_{n \rightarrow \infty} \frac{n^2 + 1}{a_n} = 3$  에서

$$\lim_{n \rightarrow \infty} \frac{n^2 + 1}{a_n} = \lim_{n \rightarrow \infty} \frac{1 + \frac{1}{n^2}}{\frac{a_n}{n^2}} = 3$$

$$\therefore \lim_{n \rightarrow \infty} \frac{a_n}{n^2} = \frac{1}{3}$$

따라서 구하는 값은

$$\lim_{n \rightarrow \infty} \frac{4n^4}{a_n(6a_n + 2)} = \lim_{n \rightarrow \infty} \frac{4}{\frac{a_n}{n^2} \times \left( \frac{6a_n}{n^2} + \frac{2}{n^2} \right)} = \frac{4}{\frac{1}{3} \times \frac{6}{3}} = 6$$

4) 정답 ④

$\lim_{n \rightarrow \infty} \frac{an - 1}{3n} = 3$  에서

$$\begin{aligned} \lim_{n \rightarrow \infty} \frac{an - 1}{3n} &= \lim_{n \rightarrow \infty} \frac{a - \frac{1}{n}}{3} = \frac{a}{3} = 3 \\ \therefore a &= 9 \end{aligned}$$

한편,  $\lim_{n \rightarrow \infty} n \left( \sqrt{1 + \frac{18}{n}} - 1 \right) = b$  에서

$$\begin{aligned} \lim_{n \rightarrow \infty} n \left( \sqrt{1 + \frac{18}{n}} - 1 \right) &= \lim_{n \rightarrow \infty} \left( \sqrt{n^2 + 18n} - n \right) \\ &= \lim_{n \rightarrow \infty} \frac{18n}{\sqrt{n^2 + 18n} + n} \\ &= 9 \end{aligned}$$

이므로  $b = 9$  이고  $a + b = 18$  이다.

5) 정답 ②

등비수열  $\{a_n\}$  의 첫째항이 1, 공비가  $-\frac{1}{2}$  이므로

$$a_n = 1 \times \left( -\frac{1}{2} \right)^{n-1} = -2 \times \left( -\frac{1}{2} \right)^n$$

따라서 구하는 값은

$$\lim_{n \rightarrow \infty} \frac{(-2)^{n+2} + 3}{4^n \times a_n} = \lim_{n \rightarrow \infty} \frac{4 \times (-2)^n + 3}{-2 \times (-2)^n}$$

$$= \lim_{n \rightarrow \infty} \frac{4 + 3 \times \left( -\frac{1}{2} \right)^n}{-2} = -2$$

6) 정답 ③

$\lim_{n \rightarrow \infty} \frac{a^{3n-2} + a^{-3n+1}}{a^{3n+1} + a^{-3n-2}} = \frac{1}{8}$  에서

$$\lim_{n \rightarrow \infty} \frac{a^{3n-2} + a^{-3n+1}}{a^{3n+1} + a^{-3n-2}} = \lim_{n \rightarrow \infty} \frac{a^{3n-2} + a^3 \times a^{-3n-2}}{a^3 \times a^{3n-2} + a^{-3n-2}}$$

(i)  $0 < a < 1$  일 때

$$\lim_{n \rightarrow \infty} a^{3n-2} = 0 \text{ 이므로}$$

$$\begin{aligned} \lim_{n \rightarrow \infty} \frac{a^{3n-2} + a^3 \times a^{-3n-2}}{a^3 \times a^{3n-2} + a^{-3n-2}} &= \lim_{n \rightarrow \infty} \frac{a^3 \times a^{-3n-2}}{a^{-3n-2}} \\ &= a^3 = \frac{1}{8} \end{aligned}$$

$$\therefore a = \frac{1}{2}$$

(ii)  $a = 1$  일 때

$$\lim_{n \rightarrow \infty} \frac{a^{3n-2} + a^3 \times a^{-3n-2}}{a^3 \times a^{3n-2} + a^{-3n-2}} = \frac{1+1}{1+1} = 1 \neq \frac{1}{8}$$

이므로 조건을 만족시키지 않는다.

(iii)  $a > 1$  일 때

$$\lim_{n \rightarrow \infty} a^{-3n-2} = 0 \text{ 이므로}$$

$$\begin{aligned} \lim_{n \rightarrow \infty} \frac{a^{3n-2} + a^3 \times a^{-3n-2}}{a^3 \times a^{3n-2} + a^{-3n-2}} &= \lim_{n \rightarrow \infty} \frac{a^{3n-2}}{a^3 \times a^{3n-2}} \\ &= \frac{1}{a^3} = \frac{1}{8} \end{aligned}$$

$$\therefore a = 2$$

(i) ~ (iii)에 의하여 조건을 만족시키는 모든 양수  $a$  의 값의 합은

$$\frac{1}{2} + 2 = \frac{5}{2}$$

7) 정답 ②

$9 \times 6^n = 2^n \times 3^{n+2}$  에서 약수의 개수는  $(n+1)(n+3)$  이므로

$$a_n = (n+1)(n+3)$$

따라서

$$\begin{aligned} \sum_{n=1}^{\infty} \frac{1}{a_n} &= \sum_{n=1}^{\infty} \frac{1}{(n+1)(n+3)} \\ &= \frac{1}{2} \sum_{n=1}^{\infty} \left( \frac{1}{n+1} - \frac{1}{n+3} \right) \\ &= \frac{1}{2} \times \lim_{n \rightarrow \infty} \sum_{k=1}^n \left( \frac{1}{k+1} - \frac{1}{k+3} \right) \\ &= \frac{1}{2} \times \lim_{n \rightarrow \infty} \left( \frac{1}{2} + \frac{1}{3} - \frac{1}{n+2} - \frac{1}{n+3} \right) \\ &= \frac{1}{2} \times \left( \frac{1}{2} + \frac{1}{3} \right) = \frac{5}{12} \end{aligned}$$

8) 정답 ⑤

$\sum_{n=1}^{\infty} (a_n - 3) = 5$  에서

$$\lim_{n \rightarrow \infty} (a_n - 3) = 0 \quad \therefore \lim_{n \rightarrow \infty} a_n = 3 \quad \dots \textcircled{A}$$

또한

$$\begin{aligned} \sum_{n=1}^{\infty} (a_n - 3) &= \lim_{n \rightarrow \infty} \sum_{k=1}^n (a_k - 3) \\ &= \lim_{n \rightarrow \infty} (S_n - 3n) = 5 \quad \dots \textcircled{B} \end{aligned}$$

㉠, ㉡에 의하여

$$\begin{aligned} \lim_{n \rightarrow \infty} (a_n S_n - 3na_n) &= \lim_{n \rightarrow \infty} a_n \times \lim_{n \rightarrow \infty} (S_n - 3n) \\ &= 3 \times 5 = 15 \end{aligned}$$

9) 정답 ③

등비수열  $\{a_n\}$  의 공비를  $r$  이라 하고  $a_1 = a$  라 하면

$\sum_{n=1}^{\infty} a_n = \frac{9}{10}$  이므로  $-1 < r < 1$  이어야 한다.

이때  $a_2 = -1$  이므로  $ar = -1$  이고

$$\sum_{n=1}^{\infty} a_n = \frac{a}{1-r} = \frac{9}{10}, \quad 10a = 9 - 9r$$

$$10ar = 9r - 9r^2$$

$$9r^2 - 9r - 10 = 0$$

$$(3r+2)(3r-5) = 0 \quad \therefore r = -\frac{2}{3} \quad (\because -1 < r < 1)$$

따라서  $a_1 = a_2 \times \frac{1}{r} = (-1) \times \left(-\frac{3}{2}\right) = \frac{3}{2}$

10) 정답 ①

서로 다른 세 수  $3a+1, a+1, 1$  이 순서대로 등비수열을 이루므로 등비중항에 의하여

$$(a+1)^2 = 3a+1$$

$$a^2 + 2a + 1 = 3a + 1$$

$$a^2 - a = 0$$

$$\therefore a = 0 \text{ 또는 } a = 1$$

이때  $a=0$  이면 세 수  $3a+1, a+1, 1$  이 모두 같으므로 조건을 만족시키지 않는다.

$$\therefore a = 1$$

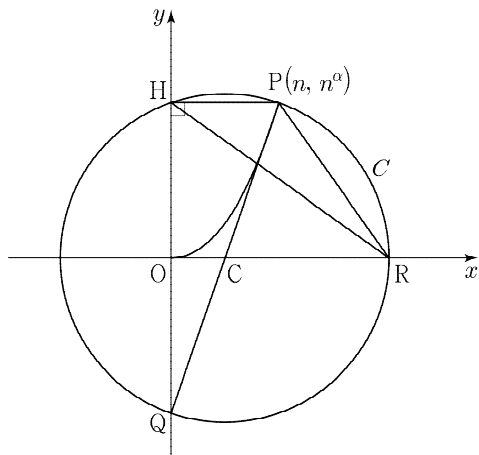
따라서 주어진 세 수는 4, 2, 1 이므로  $r = \frac{1}{2}$  이고

$$\sum_{n=1}^{\infty} ar^n(1-r^n) = \sum_{n=1}^{\infty} r^n - \sum_{n=1}^{\infty} r^{2n}$$

$$= \frac{\frac{1}{2}}{1-\frac{1}{2}} - \frac{\frac{1}{4}}{1-\frac{1}{4}}$$

$$= 1 - \frac{1}{3} = \frac{2}{3}$$

11) 정답 ③



$\angle HRP = \angle HQP$  이므로 사각형 PRQH는 외접원 C를 가진다.

이때  $\angle PHQ = \frac{\pi}{2}$  이므로 선분 PQ는 원 C의 지름이다.

$\overline{PQ} = \sqrt{n^2 + 4n^{2\alpha}}$  이므로 원 C의 반지름의 길이는  $\frac{1}{2} \sqrt{n^2 + 4n^{2\alpha}}$  이다.

또한 선분 PQ의 중점을 C라 하면  $C\left(\frac{n}{2}, 0\right)$  이다.

즉, 원 C는 중심이  $\left(\frac{n}{2}, 0\right)$  이고 반지름의 길이가  $\frac{1}{2} \sqrt{n^2 + 4n^{2\alpha}}$  이므로

점 R의 좌표는  $\left(\frac{1}{2}(n + \sqrt{n^2 + 4n^{2\alpha}}), 0\right)$  이다.

$$\therefore f(n) = \frac{1}{2}(n + \sqrt{n^2 + 4n^{2\alpha}})$$

한편,  $\lim_{n \rightarrow \infty} \frac{f(n)}{n^3} = k$  에서

$$\lim_{n \rightarrow \infty} \frac{n + \sqrt{n^2 + 4n^{2\alpha}}}{2n^3} = \lim_{n \rightarrow \infty} \frac{\frac{1}{n^2} + \sqrt{\frac{1}{n^4} + 4n^{2\alpha-6}}}{2}$$

$$= \lim_{n \rightarrow \infty} \frac{2n^{\alpha-3}}{2} = k$$

$$\therefore \alpha = 3, k = 1$$

따라서  $k + \alpha = 4$  이다.

12) 정답 ③

조건 (나)에서  $\lim_{n \rightarrow \infty} \frac{4n^2 - 3n + 1}{n^2 + b_n} = 3$  이므로

$$\lim_{n \rightarrow \infty} \frac{4n^2 - 3n + 1}{n^2 + b_n} = \lim_{n \rightarrow \infty} \frac{4 - \frac{3}{n} + \frac{1}{n^2}}{1 + \frac{b_n}{n^2}} = 3$$

$$\therefore \lim_{n \rightarrow \infty} \frac{b_n}{n^2} = \frac{1}{3}$$

조건 (가)에서 모든 자연수 n에 대하여

$$(a_n)^2 + 9n^2(b_n)^2 - n^2 < 6na_nb_n + 2n + 1$$

이므로

$$(a_n)^2 - 6na_nb_n + 9n^2(b_n)^2 < n^2 + 2n + 1$$

$$(a_n - 3nb_n)^2 < (n+1)^2$$

$$3nb_n - n - 1 < a_n < 3nb_n + n + 1$$

$nb_n > 0$  이므로 양변을  $nb_n$  으로 나누면

$$3 - \frac{n+1}{nb_n} < \frac{a_n}{nb_n} < 3 + \frac{n+1}{nb_n}$$

이때  $\lim_{n \rightarrow \infty} \frac{n+1}{nb_n} = \lim_{n \rightarrow \infty} \frac{n+1}{n^3 \times \frac{b_n}{n^2}} = \lim_{n \rightarrow \infty} \frac{\frac{1}{n^2} + \frac{1}{n^3}}{\frac{b_n}{n^2}} = 0$  이므로

극한의 대소 관계에 의하여  $\lim_{n \rightarrow \infty} \frac{a_n}{nb_n} = 3$  이다.

13) 정답 ⑤

선분  $OA_n$ 은 x 축에 평행하고  $\overline{OA_n} = 2n$  이므로 삼각형  $OA_nB_n$ 의 높이는 점  $B_n$ 의 y좌표와 같다.

$$\therefore S_n = \frac{1}{2} \times 2n \times (3n-2) = n(3n-2)$$

한편, 사인법칙에 의하여  $2R_n = \frac{\overline{A_nB_n}}{\sin(\angle A_nOB_n)}$  이다.

$$\overline{A_nB_n} = \sqrt{(6n+1)^2 + (3n-2)^2} = \sqrt{45n^2 + 5}$$

$$\sin(\angle A_nOB_n) = \frac{3n-2}{\sqrt{(4n+1)^2 + (3n-2)^2}} = \frac{3n-2}{\sqrt{25n^2 - 4n + 5}}$$

$$\therefore 2R_n = \sqrt{45n^2 + 5} \times \frac{\sqrt{25n^2 - 4n + 5}}{3n-2}$$

따라서 구하는 값은

$$\lim_{n \rightarrow \infty} \frac{5S_n}{2n \times R_n} = \lim_{n \rightarrow \infty} \frac{5n(3n-2)}{n \times \sqrt{45n^2 + 5} \times \frac{\sqrt{25n^2 - 4n + 5}}{3n-2}}$$

$$= \lim_{n \rightarrow \infty} \frac{5(3n-2)^2}{\sqrt{45n^2 + 5} \times \sqrt{25n^2 - 4n + 5}}$$

$$= \lim_{n \rightarrow \infty} \frac{\left(3 - \frac{2}{n}\right)^2}{\sqrt{45 + \frac{5}{n^2}} \times \sqrt{1 - \frac{4}{25n} + \frac{1}{5n^2}}}$$

$$= \frac{9}{3\sqrt{5}} = \frac{3\sqrt{5}}{5}$$

14) 정답 ④

사각형  $P_nQ_nQ_{n+1}P_{n+1}$ 은 평행한 두 변의 길이가 각각  $3^{n+1} + 1 - 2^{n+1}$ ,  $3^n + 1 - 2^n$ 이고, 높이가 1인 사다리꼴이므로

$$S_n = \frac{1}{2} \times (3^{n+1} + 3^n - 2^{n+1} - 2^n + 2)$$

이다. 한편 삼각형  $AP_nQ_n$ 은 밑변의 길이가  $3^n - 2^n + 1$ , 높이가 n이므로

$$T_n = \frac{1}{2} \times n \times (3^n - 2^n + 1)$$

이고

$$T_{n+1} = \frac{1}{2} \times (n+1) \times (3^{n+1} - 2^{n+1} + 1)$$

따라서 구하는 값은

$$\lim_{n \rightarrow \infty} \frac{n \times S_n}{T_{n+1}} = \lim_{n \rightarrow \infty} \frac{\frac{n}{2} \times (3^{n+1} + 3^n - 2^{n+1} - 2^n + 2)}{\frac{n+1}{2} \times (3^{n+1} - 2^{n+1} + 1)}$$

$$\begin{aligned}
 &= \lim_{n \rightarrow \infty} \frac{4 \times 3^n - 3 \times 2^n + 2}{\left(1 + \frac{1}{n}\right) \times (3 \times 3^n - 2 \times 2^n + 1)} \\
 &= \lim_{n \rightarrow \infty} \frac{4 - 3 \times \left(\frac{2}{3}\right)^n + \frac{2}{3^n}}{\left(1 + \frac{1}{n}\right) \times \left(3 - 2 \times \left(\frac{2}{3}\right)^n + \frac{1}{3^n}\right)} \\
 &= \frac{3+1}{(1+0) \times 3} = \frac{4}{3}
 \end{aligned}$$

15) 정답 ㉔

등차수열  $\{a_n\}$ 의 공차를  $d$ 라 하면

$$a_n = 1 + (n-1)d = dn + 1 - d$$

$$\lim_{n \rightarrow \infty} \frac{a_n + n}{a_n - 2n} = \lim_{n \rightarrow \infty} \frac{(d+1)n + 1 - d}{(d-2)n + 1 - d}$$

$$= \lim_{n \rightarrow \infty} \frac{d+1 + \frac{1-d}{n}}{d-2 + \frac{1-d}{n}} = 4$$

$$\frac{d+1}{d-2} = 4 \quad \therefore d = 3$$

따라서  $a_n = 3n - 2$ 이다.

또한  $\sum_{n=1}^{\infty} \left(\frac{a_n}{n} + \frac{pn-4}{n+2}\right) = q$ 에서 급수가 수렴하므로

$$\lim_{n \rightarrow \infty} \left(\frac{a_n}{n} + \frac{pn-4}{n+2}\right) = 0$$

이다. 한편,

$$\lim_{n \rightarrow \infty} \frac{a_n}{n} = \lim_{n \rightarrow \infty} \frac{3n-2}{n} = \lim_{n \rightarrow \infty} \frac{3 - \frac{2}{n}}{1} = 3,$$

$$\lim_{n \rightarrow \infty} \frac{pn-4}{n+2} = \lim_{n \rightarrow \infty} \frac{p - \frac{4}{n}}{1 + \frac{2}{n}} = p$$

이므로  $3+p=0$ ,  $p=-3$ 이다.

$f(n) = \frac{a_n}{n} = \frac{3n-2}{n}$ 라 하면  $\frac{3n+4}{n+2} = f(n+2)$ 이므로

$$\begin{aligned}
 \sum_{n=1}^{\infty} \left(\frac{a_n}{n} - \frac{3n+4}{n+2}\right) &= \sum_{n=1}^{\infty} \{f(n) - f(n+2)\} \\
 &= \lim_{n \rightarrow \infty} \{f(1) + f(2) - f(n+1) - f(n+2)\} \\
 &= 1 + 2 - \lim_{n \rightarrow \infty} \left(3 - \frac{2}{n+1}\right) - \lim_{n \rightarrow \infty} \left(3 - \frac{2}{n+2}\right) \\
 &= -3
 \end{aligned}$$

따라서  $p=-3$ ,  $q=-3$ 이고  $p \times q=9$ 이다.

16) 정답 12

수열  $\{a_n\}$ 의 첫째항을  $a$ 라 하면 조건 (가)에서 모든 자연수  $n$ 에 대하여

$$a_{2n+1} = -\frac{1}{2}a_{2n-1}$$

이므로 수열  $\{a_{2n-1}\}$ 은 첫째항이  $a$ 이고, 공비가  $-\frac{1}{2}$ 인 등비수열이다.

조건 (나)에서 모든 자연수  $n$ 에 대하여

$$a_{2n} = \frac{a_{2n-1} + a_{2n+1}}{2} = \frac{a_{2n-1} - \frac{1}{2}a_{2n-1}}{2} = \frac{1}{4}a_{2n-1}$$

이므로 수열  $\{a_{2n}\}$ 은 첫째항이  $\frac{a}{4}$ 이고, 공비가  $-\frac{1}{2}$ 인 등비수열이다.

따라서

$$\begin{aligned}
 \sum_{n=1}^{\infty} a_n &= \sum_{n=1}^{\infty} (a_{2n-1} + a_{2n}) \\
 &= \sum_{n=1}^{\infty} a_{2n-1} + \sum_{n=1}^{\infty} a_{2n} \\
 &= \frac{a}{1 + \frac{1}{2}} + \frac{\frac{a}{4}}{1 + \frac{1}{2}} \\
 &= \frac{2a}{3} + \frac{a}{6} \\
 &= \frac{5a}{6} = 10
 \end{aligned}$$

$$\therefore a = 12$$

17) 정답 ㉔

직선  $OA_1$ 과 직선  $O_1A_2$ 는  $x$  축과 이루는 각이 같으므로 서로 평행하고

$$\angle A_1OA_2 = \angle O_1A_2O_1 = \frac{\pi}{4}$$

이다. 삼각형  $OO_1A_2$ 에서 사인법칙에 의하여

$$\frac{OO_1}{\sin \frac{\pi}{4}} = \frac{O_1A_2}{\sin \frac{\pi}{6}}, \quad \overline{O_1A_2} = \overline{O_1O_2} = \frac{\sqrt{2}}{2}$$

모든 자연수  $n$ 에 대하여 직선  $O_nA_{n+1}$ 과 직선  $O_{n+1}A_{n+2}$ 가  $x$  축과 이루는 각의 크기가 같으므로 서로 평행하고

$$\angle A_{n+1}O_nA_{n+2} = \angle O_nA_{n+2}O_{n+1} = \frac{\pi}{4}$$

이다. 또한 삼각형  $O_nO_{n+1}A_{n+2}$ 에서 사인법칙에 의하여

$$\frac{\overline{O_nO_{n+1}}}{\sin \frac{\pi}{4}} = \frac{\overline{O_{n+1}A_{n+2}}}{\sin \frac{\pi}{6}}, \quad \overline{O_{n+1}A_{n+2}} = \frac{\sqrt{2}}{2} \times \overline{O_nO_{n+1}}$$

이고  $\overline{O_{n+1}A_{n+2}} = \overline{O_{n+1}O_{n+2}}$ 이므로

$$\overline{O_{n+1}O_{n+2}} = \frac{\sqrt{2}}{2} \times \overline{O_nO_{n+1}}$$

이다.  $a_1 = \overline{O_1O_2} = \frac{\sqrt{2}}{2}$ 라 하고  $a_n = \overline{O_nO_{n+1}}$ 이라 하면

$$a_{n+1} = \frac{\sqrt{2}}{2} a_n$$

이므로 수열  $\{a_n\}$ 은 첫째항이  $\frac{\sqrt{2}}{2}$ 이고 공비가  $\frac{\sqrt{2}}{2}$ 인 등비수열이다.

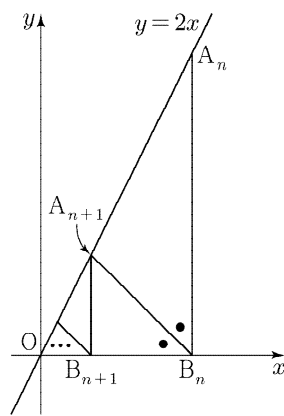
따라서 점  $O_n$ 의  $x$ 좌표인  $x_n$ 은

$$\begin{aligned}
 x_n &= \overline{OO_1} + \overline{O_1O_2} + \overline{O_2O_3} + \dots + \overline{O_{n-1}O_n} \\
 &= 1 + a_1 + a_2 + \dots + a_{n-1}
 \end{aligned}$$

이므로

$$\begin{aligned}
 \lim_{n \rightarrow \infty} x_n &= 1 + \lim_{n \rightarrow \infty} \sum_{k=1}^{n-1} a_k \\
 &= 1 + \frac{\frac{\sqrt{2}}{2}}{1 - \frac{\sqrt{2}}{2}} \\
 &= 2 + \sqrt{2}
 \end{aligned}$$

18) 정답 ㉑



$B_n(x_n, 0)$ 이고,  $\angle OB_nA_{n+1} = \angle A_nB_nA_{n+1} = \frac{\pi}{4}$ 이므로 각의 이등분선의 성질에 의하여  $\overline{OA_{n+1}} : \overline{A_nA_{n+1}} = \overline{OB_n} : \overline{A_nB_n}$ 이다.

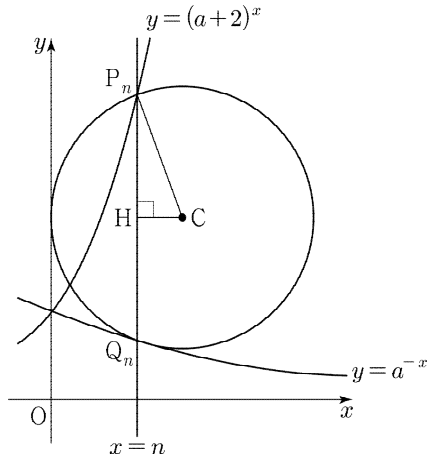
즉, 점  $A_{n+1}$ 은 선분  $OA_n$ 을 1:2로 내분하는 점이므로

모든 자연수  $n$ 에 대하여  $x_{n+1} = \frac{1}{3}x_n$ 이 성립한다.

따라서 수열  $\{x_n\}$ 은 첫째항이 6, 공비가  $\frac{1}{3}$ 인 등비수열이므로

$$\sum_{n=1}^{\infty} x_n = \frac{6}{1 - \frac{1}{3}} = 9 \text{이다.}$$

19) 정답 ㉔



두 점  $P_n, Q_n$ 을 모두 지나고  $y$ 축에 접하는 원의 중심을  $C$ 라 하고, 점  $C$ 에서 선분  $P_nQ_n$ 에 내린 수선의 발을  $H$ 라 하면 점  $P_n$ 의  $x$ 좌표가  $n$ 이므로

$$\overline{CH} = r_n - n, \overline{P_nH} = \frac{(a+2)^n - a^{-n}}{2} \text{ 이다.}$$

따라서 피타고라스의 정리에 의하여

$$(r_n)^2 = (r_n - n)^2 + \frac{(a+2)^{2n} + \left(\frac{1}{a}\right)^{2n} - 2 \times \left(\frac{a+2}{a}\right)^n}{4}$$

$$r_n = \frac{n}{2} + \frac{(a+2)^{2n} + \left(\frac{1}{a}\right)^{2n} - 2 \times \left(\frac{a+2}{a}\right)^n}{8n}$$

이므로

$$n(2r_n - n) = \frac{(a+2)^{2n} + \left(\frac{1}{a}\right)^{2n} - 2 \times \left(\frac{a+2}{a}\right)^n}{4}$$

이때  $\lim_{n \rightarrow \infty} \left\{ n(2r_n - n) \times \frac{4^n}{7^{2n} + 5^{2n}} \right\} = \frac{1}{4}$  에서

$$\begin{aligned} & \lim_{n \rightarrow \infty} \left\{ n(2r_n - n) \times \frac{4^n}{7^{2n} + 5^{2n}} \right\} \\ &= \lim_{n \rightarrow \infty} \left\{ \frac{2^{2n}}{4} \times \frac{(a+2)^{2n} + \left(\frac{1}{a}\right)^{2n} - 2 \times \left(\frac{a+2}{a}\right)^n}{7^{2n} + 5^{2n}} \right\} \\ &= \lim_{n \rightarrow \infty} \left\{ \frac{1}{4} \times \frac{\left(\frac{2a+4}{7}\right)^{2n} + \left(\frac{2}{7a}\right)^{2n} - 2 \times \left(\frac{4a+8}{49a}\right)^n}{1 + \left(\frac{5}{7}\right)^{2n}} \right\} \\ &= \frac{1}{4} \end{aligned}$$

한편,  $a > 1$  일 때  $0 < \frac{2}{7a} < 1, 0 < \frac{4a+8}{49a} < 1$  이므로

$$\lim_{n \rightarrow \infty} \frac{\left(\frac{2a+4}{7}\right)^{2n} + \left(\frac{2}{7a}\right)^{2n} - 2 \times \left(\frac{4a+8}{49a}\right)^n}{1 + \left(\frac{5}{7}\right)^{2n}} = \lim_{n \rightarrow \infty} \left(\frac{2a+4}{7}\right)^{2n}$$

이고,  $\lim_{n \rightarrow \infty} \left(\frac{2a+4}{7}\right)^{2n} = 1$  이다.

따라서  $\frac{2a+4}{7} = 1$  이고  $a = \frac{3}{2}$  이다.

20) 정답 2

수열  $\{a_n\}$ 은  $a_1 = 1$  이고 공비가  $a_2 = r$  ( $0 < |r| < 1$ )인 등비수열이므로

$$\sum_{n=1}^{\infty} a_n = \frac{1}{1-r} \text{ 로 수렴한다.}$$

수열  $\{b_n\}$ 은 모든 자연수  $n$ 에 대하여

$$b_n = \sum_{k=1}^{\infty} a_{n+k} = \frac{a_{n+1}}{1-r} = \frac{r^n}{1-r}$$

이므로 수열  $\{b_n\}$ 은  $b_1 = \frac{r}{1-r}$  이고 공비가  $r$ 인 등비수열이다.

즉,  $\sum_{n=1}^{\infty} b_n = \frac{r}{(1-r)^2}$  로 수렴한다.

$\sum_{n=1}^{\infty} a_n = \sum_{n=1}^{\infty} b_n = c$ 에서

$$\frac{1}{1-r} = \frac{r}{(1-r)^2} \quad \therefore r = \frac{1}{2} \quad (\because 0 < |r| < 1)$$

따라서  $\sum_{n=1}^{\infty} a_n = \sum_{n=1}^{\infty} b_n = 2$ 이므로  $c = 2$ 이다.

21) 정답 21

등비수열  $\{b_n\}$ 의 공비가  $\frac{1}{2}$  이므로

$$\sum_{n=1}^{\infty} b_n = \frac{b_1}{1 - \frac{1}{2}} = 2b_1$$

조건 (가)에서  $\sum_{n=1}^{\infty} (a_n + b_n) = 0$  이므로

$$\sum_{n=1}^{\infty} a_n + \sum_{n=1}^{\infty} b_n = 0, \sum_{n=1}^{\infty} a_n = -2b_1$$

등비수열  $\{a_n\}$ 의 공비를  $r$  ( $-1 < r < 1$ )이라 하면

$$\frac{a_1}{1-r} + 2b_1 = 0$$

$$\therefore \frac{a_1}{b_1} = -2(1-r) \quad \dots \textcircled{A}$$

조건 (나)에서  $\sum_{n=1}^{\infty} \frac{4a_n}{b_n} = k$ 이므로  $\sum_{n=1}^{\infty} \frac{4a_n}{b_n}$ 이 수렴한다.

등비수열  $\left\{ \frac{4a_n}{b_n} \right\}$ 의 공비는  $2r$ 이므로  $-1 < 2r < 1$ , 즉  $-\frac{1}{2} < r < \frac{1}{2}$

$$\sum_{n=1}^{\infty} \frac{4a_n}{b_n} = \frac{4a_1}{b_1(1-2r)} = k$$

$$\therefore \frac{a_1}{b_1} = \frac{k(1-2r)}{4} \quad \dots \textcircled{B}$$

$\textcircled{A}, \textcircled{B}$ 에 의하여

$$-2(1-r) = \frac{k(1-2r)}{4}, k = \frac{8r-8}{1-2r}$$

$\frac{8r-8}{1-2r} = -4 + \frac{2}{r - \frac{1}{2}}$ 에서  $-\frac{1}{2} < r < \frac{1}{2}$ 이므로  $k < -6$

따라서 정수  $k$ 의 최댓값  $M = -7$ 이다.

$k = M$ 일 때,  $\frac{8r-8}{1-2r} = -7, 8r-8 = -7+14r, r = -\frac{1}{6}$

이다.  $\textcircled{A}$ 에서  $3a_1 + 7b_1 = 0$ 이고,  $a_1 + b_1 = -4$ 이므로

$$\begin{aligned} a_1 &= -7, b_1 = 3 \\ \therefore |a_1 \times b_1| &= 21 \end{aligned}$$

22) 정답 ③

$f(x) = (x^2 + 4) \times \sin \frac{\pi x}{2}$ 에서

$$f'(x) = 2x \sin \frac{\pi x}{2} + \frac{\pi(x^2 + 4)}{2} \cos \frac{\pi x}{2}$$

이므로  $f'(2) = -4\pi$ 이다.

23) 정답 ④

$f(x) = kx + 4 \cos x$ 에서  $f'(x) = k - 4 \sin x$

함수  $f(x)$ 가 극값을 가지려면  $f'(x)$ 의 부호가 바뀌는 지점이 존재해야 하므로  $-4 < k < 4$

따라서 정수  $k$ 의 값은  $-3, -2, \dots, 3$ 이므로 개수는 7

24) 정답 ④

$$\begin{aligned} & \lim_{x \rightarrow 0} \frac{1 - \cos x - \cos^2 x + \cos^3 x}{x^4} \\ &= \lim_{x \rightarrow 0} \frac{(1 - \cos x) - \cos^2 x(1 - \cos x)}{x^4} \\ &= \lim_{x \rightarrow 0} \frac{(1 - \cos x)(1 - \cos^2 x)}{x^4} \\ &= \lim_{x \rightarrow 0} \frac{(1 - \cos x) \sin^2 x}{x^4} \\ &= \lim_{x \rightarrow 0} \left\{ \frac{1 - \cos x}{x^2} \times \left( \frac{\sin x}{x} \right)^2 \right\} \end{aligned}$$

$$= \frac{1}{2} \times 1 = \frac{1}{2}$$

25) 정답 9

$$\lim_{x \rightarrow 0} \frac{(e^{2x}-1)\ln(a+2x)}{1-\cos x} = b \text{ 에서 } \lim_{x \rightarrow 0} \frac{\frac{e^{2x}-1}{x} \times \frac{\ln(a+2x)}{x}}{\frac{1-\cos x}{x^2}} = b$$

$$\lim_{x \rightarrow 0} \frac{e^{2x}-1}{x} = 2 \times \lim_{x \rightarrow 0} \frac{e^{2x}-1}{2x} = 2,$$

$$\lim_{x \rightarrow 0} \frac{1-\cos x}{x^2} = \lim_{x \rightarrow 0} \frac{\sin^2 x}{x^2} \times \frac{1}{1+\cos x} = 1 \times \frac{1}{2} = \frac{1}{2}$$

이므로  $\lim_{x \rightarrow 0} \frac{\ln(a+2x)}{x}$  가 수렴한다.

$$\lim_{x \rightarrow 0} \frac{\frac{\ln(a+2x)}{x} \times 2}{\frac{1}{2}} = \lim_{x \rightarrow 0} \frac{4\ln(a+2x)}{x} = b$$

$$\lim_{x \rightarrow 0} \frac{4\ln(a+2x)}{x} = b \text{ 에서 (분모) } \rightarrow 0 \text{ 이므로 (분자) } \rightarrow 0 \text{ 이어야 한다.}$$

즉,  $\lim_{x \rightarrow 0} 4\ln(a+2x) = 0$  에서  $\ln a = 0 \quad \therefore a = 1$

또한  $b = \lim_{x \rightarrow 0} \frac{4\ln(1+2x)}{x} = \lim_{x \rightarrow 0} \frac{8\ln(1+2x)}{2x} = 8$

$\therefore a+b = 9$

26) 정답 ②

$$\lim_{x \rightarrow a} \frac{f(x)-f(a)}{x-a} = 2 \text{ 에서}$$

$$\lim_{x \rightarrow a} \frac{f(x)-f(a)}{x-a} = f'(a) = 2$$

$f(x) = \sec x + \tan x$  에서

$$f'(x) = \sec x \tan x + \sec^2 x$$

이고, 위의 식에  $x=a$  를 대입하면

$$f'(a) = \sec a \tan a + \sec^2 a = 2$$

위 식의 양변에  $\cos^2 a$  을 곱하면

$$\sin a + 1 = 2\cos^2 a$$

$$2\sin^2 a + \sin a - 1 = 0$$

$$(2\sin a - 1)(\sin a + 1) = 0$$

$$\therefore \sin a = \frac{1}{2} \quad (\because 0 < a < \frac{\pi}{2})$$

따라서 구하는 값은  $a = \frac{\pi}{6}$  이다.

27) 정답 ③

$$\lim_{h \rightarrow 0} \frac{\sin^3\left(\frac{\pi}{3}+ah\right)-b}{h} = 9 \text{ 에서 극한값이 존재하고 (분모) } \rightarrow 0 \text{ 이므로}$$

(분자)  $\rightarrow 0$  이어야 한다.

즉,  $\lim_{h \rightarrow 0} \left\{ \sin^3\left(\frac{\pi}{3}+ah\right) - b \right\} = 0$  에서

$$\sin^3 \frac{\pi}{3} - b = 0 \quad \therefore b = \frac{3\sqrt{3}}{8}$$

$$\lim_{h \rightarrow 0} \frac{\sin^3\left(\frac{\pi}{3}+ah\right) - \frac{3\sqrt{3}}{8}}{h} = 9 \text{ 에서 } f(x) = \sin^3 x \text{ 이라 하면}$$

$$\lim_{h \rightarrow 0} \frac{f\left(\frac{\pi}{3}+ah\right) - f\left(\frac{\pi}{3}\right)}{h} = \lim_{h \rightarrow 0} \frac{a\left\{f\left(\frac{\pi}{3}+ah\right) - f\left(\frac{\pi}{3}\right)\right\}}{ah}$$

$$= af'\left(\frac{\pi}{3}\right)$$

또한  $f'(x) = 3\sin^2 x \cos x$  이므로

$$af'\left(\frac{\pi}{3}\right) = a \times 3 \times \left(\frac{\sqrt{3}}{2}\right)^2 \times \left(\frac{1}{2}\right)$$

$$= \frac{9}{8}a = 9$$

$\therefore a = 8$

따라서 구하는 값은  $a \times b = 8 \times \frac{3\sqrt{3}}{8} = 3\sqrt{3}$  이다.

28) 정답 ①

$f(x) = x \sin \pi(e^x - 1)$  에서

$$f'(x) = \sin \pi(e^x - 1) + \pi x e^x \cos \pi(e^x - 1)$$

위의 식에  $x = \ln 2$  를 대입하면

$$f'(\ln 2) = \sin \pi(e^{\ln 2} - 1) + \pi(\ln 2) \times e^{\ln 2} \times \cos \pi(e^{\ln 2} - 1)$$

$$= \sin \pi + 2\pi(\ln 2) \cos \pi$$

$$= -2\pi \ln 2$$

29) 정답 ②

$f(x) = e^x - \frac{4}{e^x}$  에서

$$f'(x) = e^x + \frac{4}{e^x}$$

$g(a) = b$  라 하면  $f(b) = a$  이므로  $g'(a) = \frac{1}{f'(b)} = \frac{1}{4}$  이다.

이때  $f'(b) = e^b + \frac{4}{e^b} = 4$  에서

$$e^{2b} - 4e^b + 4 = 0$$

$$(e^b - 2)^2 = 0$$

$$e^b = 2 \quad \therefore b = \ln 2$$

따라서  $f(\ln 2) = e^{\ln 2} - \frac{4}{e^{\ln 2}} = 0$  이므로  $a = 0$  이다.

30) 정답 ③

선분 AR 이  $\angle QAP$  의 이등분선이므로  $\frac{AQ}{AP} = \frac{QR}{PR}$  이고

점 Q 의 좌표는  $(t, \ln(2t-1))$  이므로

$$\overline{AQ} = \sqrt{(t-1)^2 + \{\ln(2t-1)\}^2}$$

이때  $x = t-1$  이라 하면  $t \rightarrow 1+$  일 때  $x \rightarrow 0+$  이므로

$$\lim_{t \rightarrow 1+} \frac{\overline{QR}}{\overline{PR}} = \lim_{t \rightarrow 1+} \frac{\overline{AQ}}{\overline{AP}}$$

$$= \lim_{t \rightarrow 1+} \frac{\sqrt{(t-1)^2 + \{\ln(2t-1)\}^2}}{t-1}$$

$$= \lim_{t \rightarrow 1+} \sqrt{1 + \left\{ \frac{\ln(2t-1)}{t-1} \right\}^2}$$

$$= \lim_{x \rightarrow 0+} \sqrt{1 + \left\{ \frac{\ln(2x+1)}{x} \right\}^2}$$

$$= \sqrt{1+2^2} = \sqrt{5}$$

31) 정답 2

세 점 A, B, C 의 좌표는 각각  $A(e^t-1, t)$ ,  $B(e^{3t}-1, 3t)$ ,  $C(e^{3t}-1, t)$  이므로

$$S(t) = \frac{1}{2} \times \overline{AC} \times \overline{BC}$$

$$= \frac{1}{2} \times \{(e^{3t}-1) - (e^t-1)\} \times 2t$$

$$= t \times \{(e^{3t}-1) - (e^t-1)\}$$

따라서

$$\lim_{t \rightarrow 0+} \frac{S(t)}{t^2}$$

$$= \lim_{t \rightarrow 0+} \frac{t \times \{(e^{3t}-1) - (e^t-1)\}}{t^2}$$

$$= \lim_{t \rightarrow 0+} \frac{(e^{3t}-1) - (e^t-1)}{t}$$

$$= \lim_{t \rightarrow 0+} \frac{e^{3t}-1}{t} - \lim_{t \rightarrow 0+} \frac{e^t-1}{t}$$

$$= 3 - 1 = 2$$

32) 정답 ②

점 P 에서 곡선  $y = \frac{1}{2}x^2$  에 그은 접선의 접점의 좌표를  $(t, \frac{1}{2}t^2)$  이라 하면  $y' = x$  이고 접선의 기울기는  $t$  이므로 점  $(t, \frac{1}{2}t^2)$  에서의 접선의 방정식은



$$y = t(x-t) + \frac{1}{2}t^2$$

이 직선이  $(a, -2)$ 를 지나므로

$$-2 = t(a-t) + \frac{1}{2}t^2$$

$$t^2 - 2at - 4 = 0$$

이차방정식의 두 근을  $\alpha, \beta$ 라 하면 근과 계수의 관계에 의하여

$$\alpha + \beta = 2a, \alpha\beta = -4$$

이고

$$|\beta - \alpha| = \sqrt{(\alpha + \beta)^2 - 4\alpha\beta} = \sqrt{4a^2 + 16}$$

두 직선  $l_1, l_2$ 의 기울기를 각각  $\alpha, \beta$ 라 하면 두 직선이 이루는 예각의

크기가  $\frac{\pi}{3}$ 이므로

$$\tan \frac{\pi}{3} = \left| \frac{\alpha - \beta}{1 + \alpha\beta} \right| = \frac{\sqrt{4a^2 + 16}}{3}$$

에서  $\sqrt{4a^2 + 16} = 3\sqrt{3}$

$$\therefore a = \frac{\sqrt{11}}{2} (\because a > 0)$$

33) 정답 8

$x \neq 0$ 일 때  $f(x) = \frac{(a-2\cos x)^3}{(\tan x - \sin x)^2}$ 이고, 함수  $f(x)$ 가 실수 전체의 집합에서 연속이므로

$$f(0) = \lim_{x \rightarrow 0} \frac{(a-2\cos x)^3}{(\tan x - \sin x)^2}$$

$x \rightarrow 0$ 일 때, (분모)  $\rightarrow 0$ 이므로 (분자)  $\rightarrow 0$ 이어야 한다.

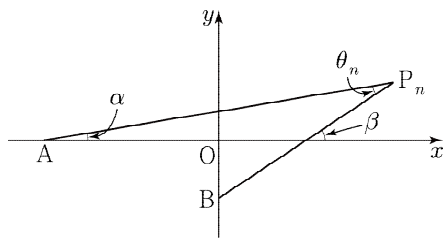
즉,  $\lim_{x \rightarrow 0} (a-2\cos x)^3 = 0$ 에서  $a-2\cos 0 = 0 \therefore a = 2$

따라서

$$\begin{aligned} f(0) &= \lim_{x \rightarrow 0} \frac{(2-2\cos x)^3}{(\tan x - \sin x)^2} \\ &= \lim_{x \rightarrow 0} \frac{8 \times (1-\cos x)^3 \times \cos^2 x}{\sin^2 x (1-\cos x)^2} \\ &= \lim_{x \rightarrow 0} \frac{8 \times \cos^2 x \times (1-\cos x)}{\sin^2 x} \\ &= \lim_{x \rightarrow 0} \frac{8 \times \cos^2 x \times (1-\cos x)}{\sin^2 x} \\ &= \lim_{x \rightarrow 0} \frac{8 \times \cos^2 x \times \sin^2 x}{\sin^2 x \times (1+\cos x)} \\ &= \lim_{x \rightarrow 0} \frac{8 \times \cos^2 x}{1+\cos x} \\ &= \frac{8}{1+1} = 4 \end{aligned}$$

이므로 구하는 값은  $a \times f(0) = 2 \times 4 = 8$

34) 정답 ㉔



직선  $AP_n$ 이  $x$ 축의 양의 방향과 이루는 각의 크기를  $\alpha$ , 직선  $BP_n$ 이  $x$ 축의 양의 방향과 이루는 각의 크기를  $\beta$ 라 하자.

$$\tan \alpha = \frac{1}{n+3}, \tan \beta = \frac{2}{n}$$

이고  $\theta_n = \beta - \alpha$ 이므로 삼각함수의 덧셈정리에 의하여

$$\begin{aligned} \tan \theta_n &= \tan(\beta - \alpha) \\ &= \left| \frac{\tan \beta - \tan \alpha}{1 + \tan \beta \tan \alpha} \right| \\ &= \left| \frac{\frac{2}{n} - \frac{1}{n+3}}{1 + \frac{2}{n} \times \frac{1}{n+3}} \right| \end{aligned}$$

$$= \frac{n+6}{(n+1)(n+2)} (\because n \text{은 자연수})$$

따라서

$$\begin{aligned} \sum_{n=1}^{10} \left( \tan \theta_n - \frac{1}{n+1} \right) &= \sum_{n=1}^{10} \left( \frac{n+6}{(n+1)(n+2)} - \frac{1}{n+1} \right) \\ &= \sum_{n=1}^{10} \frac{4}{(n+1)(n+2)} \\ &= 4 \times \sum_{n=1}^{10} \left( \frac{1}{n+1} - \frac{1}{n+2} \right) \\ &= 4 \times \left( \frac{1}{2} - \frac{1}{12} \right) = \frac{5}{3} \end{aligned}$$

35) 정답 6

$g(x) = e^{x^k} \sqrt{f(x)}$ 에서 양변에 자연로그를 취하면

$$\ln g(x) = x^k + \frac{1}{2} \ln f(x)$$

이고 양변을  $x$ 에 대하여 미분하면

$$\frac{g'(x)}{g(x)} = kx^{k-1} + \frac{f'(x)}{2f(x)}$$

$$\frac{g'(1)}{g(1)} = k + \frac{f'(1)}{2f(1)}$$

이고 양변에  $2g(1)f(1)$ 을 곱하면

$$2g'(1)f(1) = 2kg(1)f(1) + f'(1)g(1)$$

이므로 상수  $k$ 의 값은 6이다.

36) 정답 ㉑

두 점  $A(a, 2a), B(b, 2b)$ 는 직선  $y=2x$  위의 점이므로

두 실수  $a, b$ 는 방정식  $e^{2x} - 5e^x + 6 = 0$ 의 두 실근이다.

$$e^{2x} - 5e^x + 6 = 0$$

$$(e^x - 2)(e^x - 3) = 0$$

$$e^x = 2 \text{ 또는 } e^x = 3$$

$$\therefore x = \ln 2 \text{ 또는 } x = \ln 3$$

즉,  $a = \ln 2, b = \ln 3 (\because a < b)$

한편  $e^y - 5e^x + 6 = 0$ 에서 양변을  $x$ 에 대하여 미분하면

$$e^y \frac{dy}{dx} - 5e^x = 0$$

$$\therefore y' = \frac{5e^x}{e^y}$$

위 식에  $x = \ln 2, y = 2\ln 2$ 와  $x = \ln 3, y = 2\ln 3$ 을 각각 대입하면

두 접선의 기울기는 각각  $\frac{5}{2}, \frac{5}{3}$ 이다.

따라서 삼각함수의 덧셈정리에 의하여

$$\tan \theta = \left| \frac{\frac{5}{2} - \frac{5}{3}}{1 + \frac{5}{2} \times \frac{5}{3}} \right| = \frac{5}{31}$$

37) 정답 ㉓

시각  $t=a$ 에서 점  $P$ 가  $y$ 축 위에 있으므로 점  $P$ 의  $x$ 좌표는 0이다.

방정식  $\sin a + \cos a = 0$ 에서  $0 < a < \pi$ 이므로  $a = \frac{3}{4}\pi$

한편,  $x = \sin t + \cos t$ 에서

$$\frac{dx}{dt} = \cos t - \sin t$$

$y = 2\cos t - \sin t$ 에서

$$\frac{dy}{dt} = -2\sin t - \cos t$$

시각  $t=a$ 에서의 점  $P$ 의 속도는

$$(\cos a - \sin a, -2\sin a - \cos a) = \left( -\sqrt{2}, -\frac{\sqrt{2}}{2} \right)$$

따라서 점  $P$ 의 시각  $t=a$ 에서의 속력은

$$\sqrt{(-\sqrt{2})^2 + \left( -\frac{\sqrt{2}}{2} \right)^2} = \frac{\sqrt{10}}{2}$$

38) 정답 ㉒

$g(x) = (x^2 - 3a^2)e^{\frac{x}{a}}$ 이라 하면

$$g'(x) = 2xe^{\frac{x}{a}} + \frac{1}{a}(x^2 - 3a^2)e^{\frac{x}{a}}$$

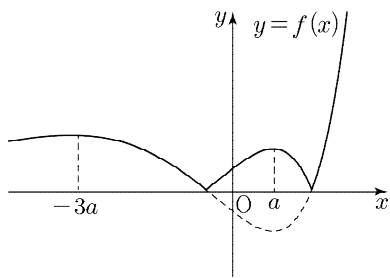
$$= \frac{1}{a}(x^2 + 2ax - 3a^2)e^{\frac{x}{a}}$$

$$= \frac{1}{a}(x+3a)(x-a)e^{\frac{x}{a}}$$

함수  $g(x)$ 의 증가와 감소를 표로 나타내면 다음과 같다.

$x$	...	$-3a$	...	$a$	...
$g'(x)$	+	0	-	0	+
$g(x)$	↗	극대	↘	극소	↗

한편,  $e^{\frac{x}{a}} > 0$ 이므로  $f(x) = |x^2 - 3a^2|e^{\frac{x}{a}} = |g(x)|$  이고 함수  $y=f(x)$ 의 그래프는 다음 그림과 같다.



함수  $f(x)$ 는  $x=-3a, x=a$ 에서 극댓값을 갖는다.

$$f(-3a) = |9a^2 - 3a^2|e^{-\frac{3a}{a}} = 6a^2e^{-3}$$

$$f(a) = |a^2 - 3a^2|e^{\frac{a}{a}} = 2a^2e$$

함수  $f(x)$ 의 모든 극댓값의 곱이  $\frac{3}{4}$ 이므로

$$6a^2e^{-3} \times 2a^2e = 12a^4e^{-2} = \frac{3}{4}$$

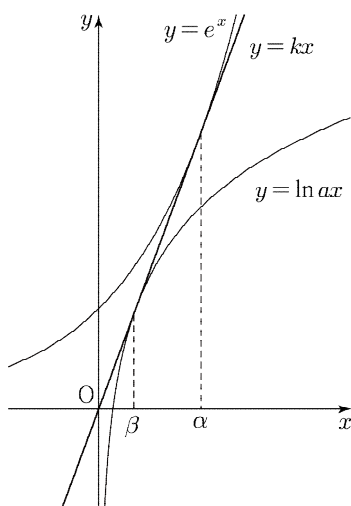
$$a^4 = \frac{e^2}{16} \quad \therefore a = \frac{\sqrt{e}}{2}$$

39) 정답 ④

부등식  $\frac{\ln ax}{x} \leq k \leq \frac{e^x}{x}$ 에서 모든 양의 실수  $x$ 에 대하여

$$\ln ax \leq kx \leq e^x$$

이 성립하도록 하는 실수  $k$ 의 값이 하나뿐이므로 그림과 같이 직선  $y=kx$ 는 두 곡선  $y=e^x, y=\ln ax$ 와 각각 접해야 한다.



곡선  $y=e^x$ 과 직선  $y=kx$ 가 접하는 점의  $x$ 좌표를  $\alpha$ 라 하면 함수  $y=e^x$ 의 도함수는  $y'=e^x$ 이므로

$$k = \frac{e^\alpha}{\alpha} = e^\alpha$$

에서  $\alpha=1, k=e$

또한 곡선  $y=\ln ax$ 와 직선  $y=kx$ 가 접하는 점의  $x$ 좌표를  $\beta$ 라 하면 함수

$y=\ln ax$ 의 도함수는  $y'=\frac{1}{x}$ 이므로

$$e = \frac{\ln a\beta}{\beta} = \frac{1}{\beta}$$

에서  $\beta = \frac{1}{e}, \ln \frac{a}{e} = 1, \therefore a = e^2$

[다른 풀이]

양의 실수  $x$ 에 대하여  $f(x) = \frac{\ln ax}{x}, g(x) = \frac{e^x}{x}$ 라 하면

함수  $f(x)$ 의 최댓값  $M$ , 함수  $g(x)$ 의 최솟값  $m$ 에 대하여

$$\frac{\ln ax}{x} \leq M \leq k \leq m \leq \frac{e^x}{x}$$

이때 조건을 만족시키는 실수  $k$ 의 값이 하나뿐이므로  $M=m$ 이다.

$f'(x) = \frac{1 - \ln ax}{x^2}$ 이므로  $f'(x)=0$ 에서  $x = \frac{e}{a}$

$$M = f\left(\frac{e}{a}\right) = \frac{a}{e}$$

$g'(x) = \frac{(x-1)e^x}{x^2}$ 이므로  $g'(x)=0$ 에서  $x=1$

$$m = g(1) = e$$

$M=m$ 에서  $\frac{a}{e} = e$ 이므로  $a = e^2$ 이다.

40) 정답 ②

$f(x) = e^{ax^2}$ 이라 하면 모든 실수  $x$ 에 대하여  $f(x) = f(-x)$ 이므로

곡선  $y=f(x)$ 는  $y$ 축에 대하여 대칭이다.

따라서 원점에서 곡선  $y=f(x)$ 에 그은 두 접선의 기울기는 각각  $-2, 2$ 이다.

즉, 직선  $y=2x$ 는 곡선  $y=f(x)$ 와 접한다.

접점의 좌표를  $(t, e^{at^2})$ 이라 하면 양수  $t$ 에 대하여 접선의 기울기는

$$f'(t) = 2ate^{at^2} \quad \dots \textcircled{A}$$

이므로 점  $(t, e^{at^2})$ 에서 그은 접선의 방정식은

$$y - e^{at^2} = 2ate^{at^2}(x - t)$$

이 직선이 원점을 지나므로

$$0 - e^{at^2} = 2ate^{at^2}(0 - t), \quad 2at^2e^{at^2} = e^{at^2}$$

$$\therefore 2at^2 = 1 \quad (\because e^{at^2} > 0) \quad \dots \textcircled{B}$$

①에서 양수  $t$ 에 대하여 접선의 기울기  $f'(t)$ 는 양수이므로

$$2ate^{at^2} = 2$$

②에서  $2at = \frac{1}{t}, at^2 = \frac{1}{2}$ 이므로

$$\frac{1}{t} \times \sqrt{e} = 2 \quad \therefore t = \frac{\sqrt{e}}{2}$$

따라서 상수  $a$ 의 값은  $a = \frac{1}{2t^2} = \frac{2}{e}$

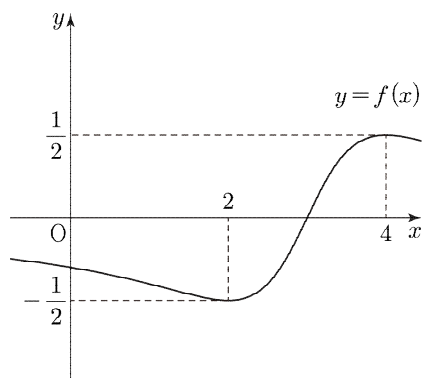
41) 정답 43

$f(x) = \frac{x-3}{x^2-6x+10}$ 에서

$$f'(x) = \frac{x^2-6x+10 - (x-3)(2x-6)}{(x^2-6x+10)^2} = -\frac{(x-2)(x-4)}{(x^2-6x+10)^2}$$

함수  $f(x)$ 의 증가와 감소를 표로 나타내면 다음과 같다.

$x$	...	2	...	4	...
$f'(x)$	-	0	+	0	-
$f(x)$	↘	$-\frac{1}{2}$	↗	$\frac{1}{2}$	↘



$g(1), g(5)$ 는 각각 닫힌구간  $[-1, 1], [-5, 5]$ 에서 함수  $f(x)$ 의 최댓값이므로

$$g(1)=f(-1)=-\frac{4}{17}, g(5)=f(4)=\frac{1}{2}$$

$$\therefore g(1)+g(5)=-\frac{4}{17}+\frac{1}{2}=\frac{9}{34}$$

따라서  $p=34, q=9$  이고  $p+q=43$  이다.

[참고]

$$f(x)=\frac{x-3}{x^2-6x+10}=\frac{x-3}{(x-3)^2+1}$$

함수  $y=f(x)$  의 그래프를  $x$  축의 방향으로  $-3$  만큼 평행이동시키면

$$y=\frac{x}{x^2+1}$$

이므로 더 간단하게 미분할 수 있다.

42) 정답 10

두 직선 AB, AC가  $x$  축의 양의 방향과 이루는 각의 크기를 각각  $\theta_1, \theta_2$ 라 하면

$$\tan \theta_1 = \frac{8k^2 - 5k^2}{2k - k} = 3k, \tan \theta_2 = \frac{8k^2 - 5k^2}{4k - k} = k$$

삼각함수의 덧셈정리에 의하여

$$\begin{aligned} \tan(\angle BAC) &= \tan(\theta_1 - \theta_2) \\ &= \left| \frac{\tan \theta_1 - \tan \theta_2}{1 + \tan \theta_1 \tan \theta_2} \right| \\ &= \left| \frac{3k - k}{1 + 3k \times k} \right| \\ &= \frac{2k}{1 + 3k^2} \quad (\because k > 0) \end{aligned}$$

$$\frac{2k}{1 + 3k^2} = \frac{2}{\frac{1}{k} + 3k}$$

에서  $\frac{1}{k} > 0, 3k > 0$  이므로 산술평균과 기하평균의 관계에

의하여

$$\frac{2}{\frac{1}{k} + 3k} \leq \frac{2}{2\sqrt{3}} = \frac{\sqrt{3}}{3}$$

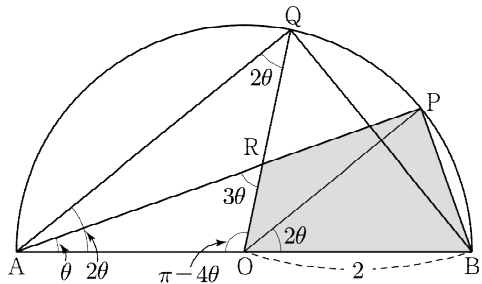
(단, 등호는  $\frac{1}{k} = 3k$ , 즉  $k = \frac{\sqrt{3}}{3}$  일 때 성립한다.)

$$\text{따라서 } a = \frac{\sqrt{3}}{3}, M = \frac{\sqrt{3}}{3} \text{ 이므로}$$

$$30 \times a \times M = 30 \times \frac{\sqrt{3}}{3} \times \frac{\sqrt{3}}{3} = 10$$

43) 정답 16

사각형 OBPR의 넓이는 삼각형 PAB의 넓이에서 삼각형 AOR의 넓이를 뺀 값과 같으므로 다음과 같이 구할 수 있다.



삼각형 PAB에서  $\overline{AB} = 4$  이고  $\overline{PA} = \overline{AB} \times \cos \theta = 4 \cos \theta$  이므로 삼각형 PAB의 넓이는

$$\begin{aligned} \frac{1}{2} \times \overline{AB} \times \overline{PA} \times \sin \theta &= \frac{1}{2} \times 4 \times 4 \cos \theta \times \sin \theta \\ &= 8 \sin \theta \cos \theta \end{aligned}$$

이고 삼각형 AOQ에서  $\angle OQA = 2\theta$  이므로  $\angle AOQ = \pi - 4\theta$  삼각형 AOR에서  $\angle AOR = 3\theta$  이므로 사인법칙에 의하여

$$\begin{aligned} \frac{\overline{OR}}{\sin \theta} &= \frac{\overline{OA}}{\sin 3\theta} \\ \therefore \overline{OR} &= \frac{2 \sin \theta}{\sin 3\theta} \end{aligned}$$

삼각형 AOR의 넓이는

$$\begin{aligned} \frac{1}{2} \times \overline{OA} \times \overline{OR} \times \sin(\pi - 4\theta) \\ \frac{1}{2} \times 2 \times \overline{OR} \times \sin 4\theta &= \frac{2 \sin \theta \sin 4\theta}{\sin 3\theta} \end{aligned}$$

따라서

$$S(\theta) = 8 \sin \theta \cos \theta - \frac{2 \sin \theta \sin 4\theta}{\sin 3\theta}$$

이므로

$$\begin{aligned} \lim_{\theta \rightarrow 0^+} \frac{S(\theta)}{\theta} &= \lim_{\theta \rightarrow 0^+} \frac{8 \sin \theta \cos \theta - \frac{2 \sin \theta \sin 4\theta}{\sin 3\theta}}{\theta} \\ &= \lim_{\theta \rightarrow 0^+} \frac{8 \sin \theta \cos \theta}{\theta} - \lim_{\theta \rightarrow 0^+} \frac{2 \sin \theta \sin 4\theta}{\theta \times \sin 3\theta} \\ &= 8 - \lim_{\theta \rightarrow 0^+} \frac{2 \sin \theta}{\theta} \times \lim_{\theta \rightarrow 0^+} \frac{\sin 4\theta}{\sin 3\theta} \\ &= 8 - \frac{8}{3} = \frac{16}{3} = \alpha \end{aligned}$$

$$\therefore 3\alpha = 16$$

44) 정답 ㉓

$$\begin{aligned} g(x) &= f(x) - xf'(x) \text{ 에서} \\ g'(x) &= f'(x) - f'(x) - xf''(x) \\ &= -xf''(x) = \frac{\pi^2}{a^2} x \sin \frac{\pi x}{a} \end{aligned}$$

함수  $g(x)$ 의 증가와 감소를 표로 나타내면 다음과 같다.

$x$	(0)	...	$a$	...	$2a$	...	$3a$	...
$f'(x)$		+	0	-	0	+	0	-
$f(x)$		↗	극대	↘	극소	↗	극대	↘

즉, 수열  $\{a_n\}$ 은 첫째항이  $a$ 이고 공차가  $2a$ 인 등차수열을 이룬다.

$$a_n = (2n-1)a \text{ 이고 } (a_2)^2 = a_1 + a_3 \text{ 이므로}$$

$$9a^2 = 6a \quad \therefore a = \frac{2}{3}$$

$$f'(x) = \frac{\pi}{a} \cos \frac{\pi x}{a} = \frac{3}{2} \pi \cos \frac{3}{2} \pi x \text{ 이므로 } f'(2) \text{의 값은}$$

$$\frac{3}{2} \pi \times (-1) = -\frac{3}{2} \pi$$

45) 정답 ㉔

$f'(x) = a(1-x)e^{-x}$  이고  $a > 0$  이므로  $x \geq 1$ 에서 정의된 함수  $f(x)$ 는 감소함수이다.

함수  $g(x)$ 가  $f(x)$ 의 역함수이므로

$$f(g(x)) = x$$

위 식의 양변을  $x$ 에 대하여 미분하면

$$g'(x)f'(g(x)) = 1$$

$$\therefore f'(g(x)) = \frac{1}{g'(x)}$$

$$\frac{d}{dx} \left\{ \frac{1}{g'(x)} \right\} = -\frac{g''(x)}{\{g'(x)\}^2} \text{ 이고 } \frac{1}{g'(x)} \text{이 열린구간 } (0, 1) \text{에서 감소하므로}$$

열린구간  $(0, 1)$ 에서

$$-\frac{g''(x)}{\{g'(x)\}^2} \leq 0 \quad \therefore g''(x) \geq 0$$

즉, 곡선  $y=g(x)$ 는 열린구간  $(0, 1)$ 에서 아래로 볼록하여야 한다.

$f''(x) = a(x-2)e^{-x}$  이므로 곡선  $y=f''(x)$ 는 열린구간  $(2, \infty)$ 에서 아래로

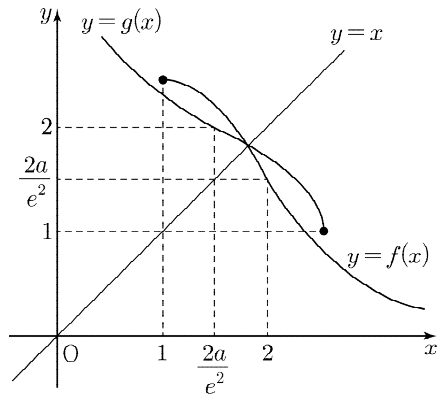
볼록인 곡선이고,  $f(2) = \frac{2a}{e^2}$  이므로 곡선  $y=g(x)$ 는 열린구간  $(0, \frac{2a}{e^2})$ 에서

아래로 볼록인 곡선이다.

방정식  $f''(x)=0$ 에서  $x=2$  이고, 함수  $f(x)$ 의 증가와 감소를 표로 나타내면 다음과 같다.

$x$	1	...	2	...
$f'(x)$		-	-	-
$f''(x)$		-	0	+
$f(x)$	$\frac{a}{e}$	↘	$\frac{2a}{e^2}$	↘

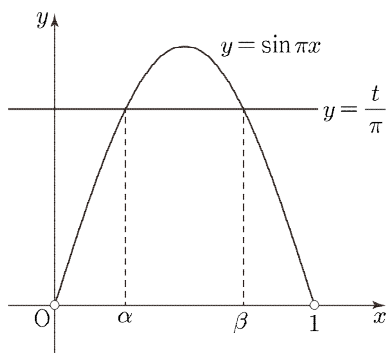
두 함수  $y=f(x), y=g(x)$ 의 그래프는 다음 그림과 같다.



따라서  $\frac{2a}{e^2} \geq 1$  일 때 주어진 조건을 만족시키고,  
 $a \geq \frac{e^2}{2}$  이므로  $a$ 의 최솟값은  $\frac{e^2}{2}$  이다.

46) 정답 ③

$f(x) = \cos \pi x + tx$ 에서  $f'(x) = -\pi \sin \pi x + t$ 이므로  
 방정식  $f'(x) = 0$ 에서  $\sin \pi x = \frac{t}{\pi}$   
 함수  $f(x)$ 가  $x = \alpha, x = \beta (\alpha < \beta)$ 에서 극값을 가지므로  
 $\alpha, \beta$ 는 각각 함수  $y = \sin \pi x (0 < x < 1)$ 의 그래프와 직선  $y = \frac{t}{\pi}$ 가 만나는  
 두 점의  $x$ 좌표와 같다.



$h(t) = \alpha (0 < h(t) < \frac{1}{2})$ 이라 하면  
 함수  $y = \sin \pi x (0 < x < 1)$ 의 그래프는 직선  $x = \frac{1}{2}$ 에 대하여 대칭이므로  
 $\beta = 1 - h(t)$ 이다.  
 따라서  
 $g(t) = \beta - \alpha = \{1 - h(t)\} - h(t) = 1 - 2h(t) \quad \dots \textcircled{A}$   
 또한  $\sin \{\pi h(t)\} = \frac{t}{\pi}$ 에서  $t = \frac{\pi}{2}$ 일 때,  $\sin \left\{ \pi h \left( \frac{\pi}{2} \right) \right\} = \frac{1}{2}$   
 $\therefore \pi h \left( \frac{\pi}{2} \right) = \frac{\pi}{6}, \text{ 즉 } h \left( \frac{\pi}{2} \right) = \frac{1}{6} (\because 0 < h(t) < \frac{1}{2})$   
 $\sin \{\pi h(t)\} = \frac{t}{\pi}$ 의 양변을  $t$ 에 대하여 미분하면  
 $\pi h'(t) \cos \{\pi h(t)\} = \frac{1}{\pi} \quad \dots \textcircled{B}$   
 $\textcircled{A}$ 에  $t = \frac{\pi}{2}$ 을 대입하면  
 $\pi h' \left( \frac{\pi}{2} \right) \cos \left\{ \pi h \left( \frac{\pi}{2} \right) \right\} = \frac{1}{\pi}, \text{ 즉 } h' \left( \frac{\pi}{2} \right) = \frac{2\sqrt{3}}{3\pi^2}$   
 $\textcircled{B}$ 에서  $g'(t) = -2h'(t)$ 이므로  
 $g' \left( \frac{\pi}{2} \right) = -2h' \left( \frac{\pi}{2} \right) = -2 \times \frac{2\sqrt{3}}{3\pi^2} = -\frac{4\sqrt{3}}{3\pi^2}$

47) 정답 ④

$f(x) = e^{tx} \cos x$ 에서 양변을  $x$ 에 대하여 미분하면  
 $f'(x) = (-\sin x + t \cos x) \times e^{tx}$   
 $x$ 에 대한 방정식  $-\sin x + t \cos x = 0$ 의 실근을  $\alpha (0 < \alpha < \frac{\pi}{2})$ 라 하면  
 $t = \tan \alpha$ 이므로  $0 < \alpha < \frac{\pi}{2}, t > 0$ 에서 실수  $\alpha$ 의 값의 개수는 1이다.  
 함수  $f(x)$ 의 증가와 감소를 표로 나타내면 다음과 같다.

$x$	(0)	...	$\alpha$	...	$\left(\frac{\pi}{2}\right)$
$f'(x)$		+	0	-	
$f(x)$		↗	극대	↘	

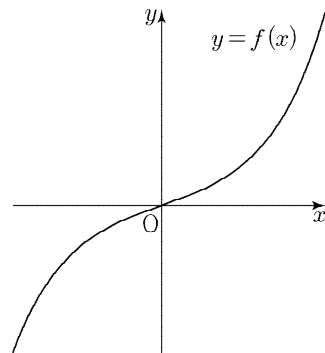
따라서 함수  $f(x)$ 는  $x = \alpha$ 에서 극대이자 최댓값을 가지므로  
 $g(t) = e^{t\alpha} \cos \alpha$ 이고  $t = \tan \alpha$ 이다.  
 $t = 1$ 일 때,  $\alpha = \frac{\pi}{4}$ 이고  
 $t = \tan \alpha$ 에서 양변을  $t$ 에 대하여 미분하면  $\frac{dt}{d\alpha} = \sec^2 \alpha$ 이다.  
 한편  $g(t) = e^{t\alpha} \cos \alpha$ 의 양변을  $t$ 에 대하여 미분하면  
 $g'(t) = \alpha e^{t\alpha} \cos \alpha + (t \cos \alpha - \sin \alpha) e^{t\alpha} \times \frac{d\alpha}{dt}$   
 $t = 1$ 일 때  $\alpha = \frac{\pi}{4}$ 이고  $\frac{d\alpha}{dt} = \cos^2 \alpha = \frac{1}{2}$ 이므로 위의 식에 대입하면  
 $g'(1) = \frac{\pi}{4} e^{\frac{\pi}{4}} \times \frac{\sqrt{2}}{2} + \left( \frac{\sqrt{2}}{2} - \frac{\sqrt{2}}{2} \right) e^{\frac{\pi}{4}} \times \frac{1}{2}$   
 $= \frac{\sqrt{2}\pi}{8} e^{\frac{\pi}{4}}$

48) 정답 36

$f(x) = \frac{a}{n}(e^x - e^{-x})$ 에서  
 $f'(x) = \frac{a}{n}(e^x + e^{-x}), f''(x) = \frac{a}{n}(e^x - e^{-x})$   
 $f''(x) = 0$ 에서  $x = 0$ 이므로 함수  $f(x)$ 의 증가와 감소를 표로 나타내면 다음과  
 같다.

$x$	...	0	...
$f'(x)$	+	+	+
$f''(x)$	-	0	+
$f(x)$	↗	0	↗

따라서 함수  $y = f(x)$ 의 그래프는 다음 그림과 같다.



$f'(0) = \frac{2a}{n}$ 이므로 곡선  $y = f(x)$  위의 점  $(0, 0)$ 에서의 접선의 방정식은  
 $y = \frac{2a}{n}x$   
 이때 직선  $y = 2nx$ 에 대하여  
 $\frac{2a}{n} < 2n, n > \sqrt{a}$ 일 때  $g(n) = 3$   
 $\frac{2a}{n} = 2n, n = \sqrt{a}$ 일 때  $g(n) = 0$   
 $\frac{2a}{n} > 2n, n < \sqrt{a}$ 일 때  $g(n) = 1$   
 즉,  $\sum_{n=1}^8 g(n) = 11$ 을 만족시키는  $g(n)$ 의 값은 다음과 같다.

$n$	1	2	3	4	5	6	7	8
$g(n)$	1	1	1	1	1	0	3	3

따라서  $\sqrt{a} = 6$ 이고  $a = 36$ 이다.

49) 정답 ⑤

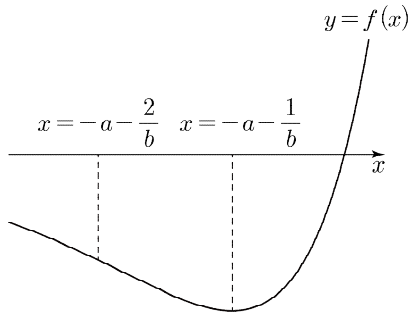
$f(x)=(x+a)e^{bx}$  에서

$$f'(x) = e^{bx} + b(x+a)e^{bx} = b\left(x+a+\frac{1}{b}\right)e^{bx},$$

$$f''(x) = be^{bx} + b^2\left(x+a+\frac{1}{b}\right)e^{bx} = b^2\left(x+a+\frac{2}{b}\right)e^{bx}$$

함수  $f(x)$  는  $x=-a-\frac{1}{b}$  에서 극소이고,  $x=-a-\frac{2}{b}$  에서 변곡점을 갖는다.


함수  $y=f(x)$  의 그래프는 다음 그림과 같다.



함수  $g(t)$  는 곡선  $y=f(x)$  와 직선  $y=f'(t)(x-t)+f(t)$  가 만나는 점 중  $x$  좌표가 가장 작은 점의  $x$  좌표이다.

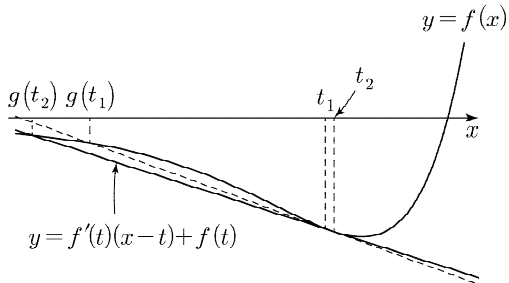
(i)  $t \leq -a - \frac{2}{b}$  일 때

$g(t)=t$  이므로 그림과 같이  $t_1 < t_2$  일 때  $g(t_1) < g(t_2)$  이고 함수  $g(t)$  는 증가한다.



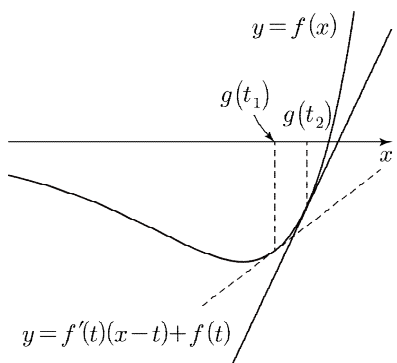
(ii)  $-a - \frac{2}{b} \leq t < -a - \frac{1}{b}$  일 때

그림과 같이  $t_1 < t_2$  일 때  $g(t_1) > g(t_2)$  이므로 함수  $g(t)$  는 감소한다.



(iii)  $t \geq -a - \frac{1}{b}$  일 때

$g(t)=t$  이므로 그림과 같이  $t_1 < t_2$  일 때  $g(t_1) < g(t_2)$  이고 함수  $g(t)$  는 증가한다.



(i)~(iii)에 의하여 함수  $g(t)$  가 감소하는 실수  $t$  의 값의 범위는  $-a - \frac{2}{b} \leq t < -a - \frac{1}{b}$  이므로 조건에 의하여

$$-a - \frac{2}{b} = -10, \quad -a - \frac{1}{b} = -6$$

두 식을 연립하면  $a=2, b=\frac{1}{4}$  이므로  $a \times b = \frac{1}{2}$

50) 정답 112

$h(x)=g(x) \sin \frac{\pi}{g(x)}$  에서

$$h'(x) = g'(x) \sin \frac{\pi}{g(x)} - \frac{\pi g'(x)}{g(x)^2} \cos \frac{\pi}{g(x)} \\ = g'(x) \cos \frac{\pi}{g(x)} \left\{ \tan \frac{\pi}{g(x)} - \frac{\pi}{g(x)} \right\}$$

이때 모든 실수  $x$  에 대하여  $g(x)=|f(x)|+2 \geq 2$  이므로  $0 < \frac{\pi}{g(x)} \leq \frac{\pi}{2}$

따라서  $\cos \frac{\pi}{g(x)} \geq 0, \tan \frac{\pi}{g(x)} \geq \frac{\pi}{g(x)}$  이므로 함수  $h(x)$  의 증가와 감소는 함수  $g(x)$  의 증가와 감소와 같다.

삼차함수  $f(x)$  에 대하여  $f(\alpha)=0$  인 실수  $\alpha$  가 반드시 존재하므로

$$h(\alpha) = 2 \times \sin \frac{\pi}{2} = 2$$

조건에 의하여 방정식  $h(x)=2$  의 서로 다른 실근의 개수가 2이어야 하므로 방정식  $g(x)=2$  의 서로 다른 실근의 개수가 2이어야 한다.

따라서 함수  $g(x)$  는 극솟값 2를 갖는다. ... ㉠

또한  $\lim_{x \rightarrow \infty} \frac{\pi}{g(x)} = \lim_{x \rightarrow \infty} \frac{\pi}{|f(x)|+2} = 0, \lim_{x \rightarrow -\infty} \frac{\pi}{g(x)} = \lim_{x \rightarrow -\infty} \frac{\pi}{|f(x)|+2} = 0$  이므로

$$\lim_{x \rightarrow \infty} h(x) = \lim_{x \rightarrow \infty} \pi \times \frac{\sin \frac{\pi}{g(x)}}{\frac{\pi}{g(x)}} = \pi,$$

$$\lim_{x \rightarrow -\infty} h(x) = \lim_{x \rightarrow -\infty} \pi \times \frac{\sin \frac{\pi}{g(x)}}{\frac{\pi}{g(x)}} = \pi$$

이것 반드시  $h(\beta)=3$  인 실수  $\beta$  가 존재한다.

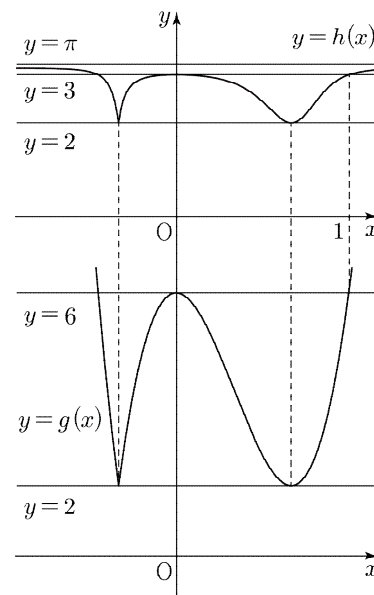
조건에 의하여 방정식  $h(x)=3$  의 서로 다른 실근의 개수가 3이어야 한다. 이때

$$h(0)=h(1)=6 \times \sin \frac{\pi}{6} = 3$$

이므로 함수  $h(x)$  는  $x=0$  에서 극댓값을 가져야 한다.

즉, 함수  $g(x)$  는  $x=0$  에서 극댓값을 갖는다. ... ㉡

㉠, ㉡에 의하여 함수  $y=g(x)$  의 그래프는 다음 그림과 같다.



$f(x)=kx^2(x-1)+4$  ( $k>0$ ) 이라 하면

$$f'(x) = 3kx\left(x - \frac{2}{3}\right)$$

$$f\left(\frac{2}{3}\right) = -\frac{4}{27}k + 4 = 0 \text{ 이므로 } k = 27$$

따라서  $f(x)=27x^2(x-1)+4$  이고  $f(2)=112$  이다.

51) 정답 9

$x < 0$  일 때  $f'(x)=2x+a$  이고 방정식  $f'(x)=0$  에서  $x = -\frac{a}{2}$

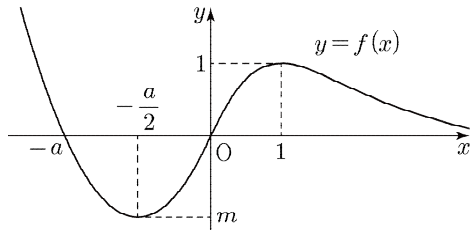
$x > 0$  일 때

$$f'(x) = \frac{2(x^2+1)-2x \times 2x}{(x^2+1)^2} = \frac{2(1-x)(1+x)}{(x^2+1)^2}$$

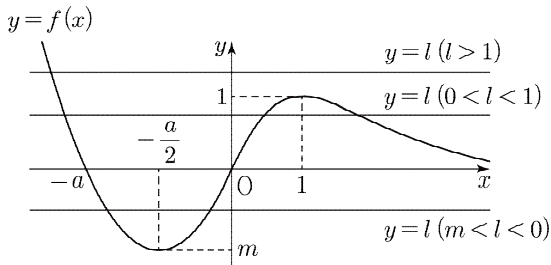
이것  $f'(x)=0$  에서  $x=1$  이므로 함수  $f(x)$  의 증가와 감소를 표로 나타내면 다음과 같다.

$x$	...	$-\frac{a}{2}$	...	0	...	1	...
$f'(x)$	-	0	+		+	0	-
$f(x)$	$\searrow$	극소	$\nearrow$	0	$\nearrow$	1	$\searrow$

따라서 함수  $y=f(x)$ 의 그래프의 개형은 다음 그림과 같다.

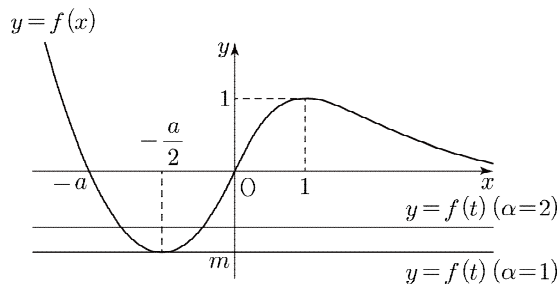


$x$ 에 대한 방정식  $f(x)=f(t)+k$ 의 서로 다른 실근의 개수가  $g(t)$ 이므로  $g(t)$ 의 값은 곡선  $y=f(x)$ 와 직선  $y=f(t)+k$ 가 만나는 점의 개수에 따라 변한다.  
 $f(t)+k=l$ , 함수  $f(x)$ 의 극솟값을  $m$ 이라 하면 곡선  $y=f(x)$ 와 직선  $y=l$ 이 만나는 점의 개수는  $m < l < 0$ 일 때 2,  $0 < l < 1$ 일 때 3,  $l > 1$ 일 때 1이므로  $l=0$ ,  $l=1$ 일 때 곡선  $y=f(x)$ 와 직선  $y=l$ 이 만나는 점의 개수가 변한다.

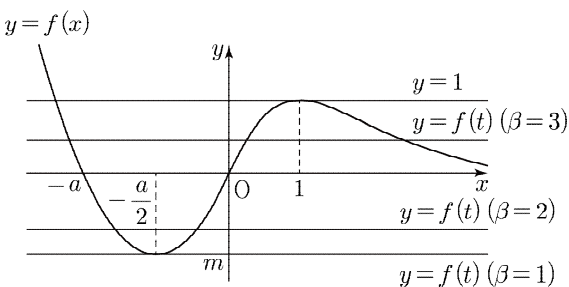


즉,  $l=0$ ,  $l=1$ 일 때 함수  $g(t)$ 는 불연속이다.  
 조건 (가)에 의하여 함수  $g(t)$ 의 불연속점의 개수가 3이므로  $l=0$ 일 때 곡선  $y=f(x)$ 와 직선  $y=f(t)$ 가 만나는 점의 개수와  $l=1$ 일 때 곡선  $y=f(x)$ 와 직선  $y=f(t)$ 가 만나는 점의 개수의 합이 3이어야 한다. ... ㉠

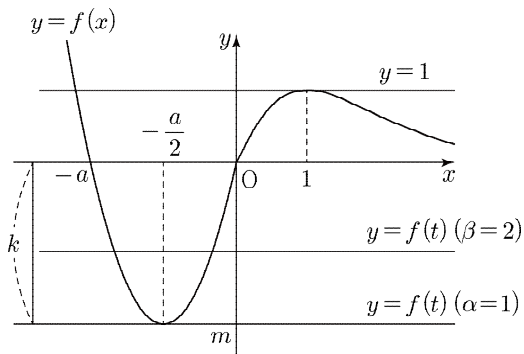
(i)  $l=0$ 일 때  $f(t)=-k < 0$ 이고, 곡선  $y=f(x)$ 와 직선  $y=f(t)$ 가 만나는 점의 개수를  $\alpha$ 라 하면  $\alpha=1$  또는  $\alpha=2$ 이다.



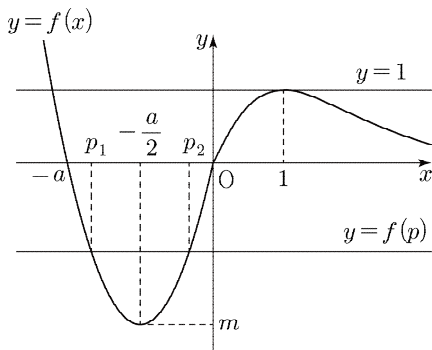
(ii)  $l=1$ 일 때  $f(t)=1-k < 1$ 이고, 곡선  $y=f(x)$ 와 직선  $y=f(t)$ 가 만나는 점의 개수를  $\beta$ 라 하면  $\alpha \leq \beta$ 이고  $\beta=1$  또는  $\beta=2$  또는  $\beta=3$ 이다.



(i), (ii)와 ㉠에 의하여  $\alpha+\beta=3$ 이므로  $\alpha=1$ ,  $\beta=2$ 이다.



조건 (나)에서  $|\lim_{t \rightarrow p^+} g(t) - \lim_{t \rightarrow p^-} g(t)| = 2$ 를 만족시키려면  $t \rightarrow p^+$ 일 때와  $t \rightarrow p^-$ 일 때의 곡선  $y=f(x)$ 와 직선  $y=l$ 이 만나는 점의 개수의 차가 2이어야 하므로  $l=1$ 이어야 한다.



즉,  $|\lim_{t \rightarrow p^+} g(t) - \lim_{t \rightarrow p^-} g(t)| = 2$ 를 만족시키는 실수  $p$ 는  $f(p)+k=1$ ,  $p^2+ap+k-1=0$ 을 만족시키고, 이차방정식의 근과 계수의 관계에 의하여 모든 실수  $p$ 의 값의 합은  $-a=-3$ 이므로  $a=3$ 이다.

$$\therefore f(x) = \begin{cases} x^2+3x & (x \leq 0) \\ \frac{2x}{x^2+1} & (x > 0) \end{cases}$$

따라서 함수  $f(x)$ 의 극솟값은  $f(-\frac{a}{2}) = f(-\frac{3}{2}) = -\frac{9}{4}$ 이므로  $k = \frac{9}{4}$ 이고  $k \times f(-4) = \frac{9}{4} \times 4 = 9$ 이다.

52) 정답 ㉠

$f(x) = \frac{2}{3}x^{\frac{3}{2}}$ 에서  $f'(x) = x^{\frac{1}{2}}$ 이고,  $0 \leq x \leq 3$ 에서 곡선  $y=f(x)$ 의 길이는

$$\int_0^3 \sqrt{1 + \{f'(x)\}^2} dx = \int_0^3 \sqrt{1+x} dx = \left[ \frac{2}{3}(1+x)^{\frac{3}{2}} \right]_0^3 = \frac{16}{3} - \frac{2}{3} = \frac{14}{3}$$

53) 정답 ㉢

$\int_{\frac{1}{2}}^1 x^{-3}e^{\frac{1}{x}} dx$ 에서  $\frac{1}{x}=t$ 라 하면  $\frac{dt}{dx} = -\frac{1}{x^2}$ ,  
 $x = \frac{1}{2}$ 일 때  $t=2$ 이고,  $x=1$ 일 때  $t=1$ 이므로

$$\int_{\frac{1}{2}}^1 x^{-3}e^{\frac{1}{x}} dx = -\int_2^1 \left\{ \frac{1}{x}e^{\frac{1}{x}} \times \left(-\frac{1}{x^2}\right) \right\} dx = -\int_2^1 te^t dt = \int_1^2 te^t dt = \left[ te^t \right]_1^2 - \int_1^2 e^t dt = (2e^2 - e) - \left[ e^t \right]_1^2 = e^2$$

54) 정답 ㉢

$\lim_{x \rightarrow \frac{\pi}{3}} \frac{24}{9x^2 - \pi^2} \int_{\frac{\pi}{3}}^x \frac{\cos t}{\cos t + 1} dt$ 에서  $f(t) = \frac{\cos t}{\cos t + 1}$ 라 하면

$f(t)$ 의 한 부정적분을  $F(t)$ 라 하자.

$$\begin{aligned} \lim_{x \rightarrow \frac{\pi}{3}} \frac{24}{9x^2 - \pi^2} \int_{\frac{\pi}{3}}^x \frac{\cos t}{\cos t + 1} dt &= \lim_{x \rightarrow \frac{\pi}{3}} \frac{24}{(3x + \pi)(3x - \pi)} \int_{\frac{\pi}{3}}^x f(t) dt \\ &= \frac{4}{\pi} \times \lim_{x \rightarrow \frac{\pi}{3}} \frac{1}{x - \frac{\pi}{3}} \int_{\frac{\pi}{3}}^x f(t) dt \\ &= \frac{4}{\pi} \times \lim_{x \rightarrow \frac{\pi}{3}} \frac{F(x) - F\left(\frac{\pi}{3}\right)}{x - \frac{\pi}{3}} \\ &= \frac{4}{\pi} F'\left(\frac{\pi}{3}\right) = \frac{4}{\pi} f\left(\frac{\pi}{3}\right) \end{aligned}$$

따라서 구하는 값은

$$\frac{4}{\pi} f\left(\frac{\pi}{3}\right) = \frac{4}{\pi} \times \frac{1}{3} = \frac{4}{3\pi}$$

55) 정답 ㉔

$\int_1^2 \frac{x}{x^2 + 3x + 2} dx$ 에서

$$\begin{aligned} \frac{x}{(x+1)(x+2)} &= \frac{a}{x+1} + \frac{b}{x+2} \quad (a, b \text{는 상수}) \\ &= \frac{a(x+2) + b(x+1)}{(x+1)(x+2)} \\ &= \frac{(a+b)x + (2a+b)}{(x+1)(x+2)} \end{aligned}$$

$$\begin{aligned} a+b &= 1, \quad 2a+b = 0 \\ \therefore a &= -1, \quad b = 2 \end{aligned}$$

즉,

$$\begin{aligned} \int_1^2 \frac{x}{x^2 + 3x + 2} dx &= \int_1^2 \frac{x}{(x+1)(x+2)} dx \\ &= \int_1^2 \left( \frac{2}{x+2} - \frac{1}{x+1} \right) dx \\ &= \left[ 2\ln(x+2) - \ln(x+1) \right]_1^2 \\ &= 5\ln 2 - 3\ln 3 \end{aligned}$$

56) 정답 ㉔

$\lim_{n \rightarrow \infty} \sum_{k=1}^n \frac{e^{\sqrt{k/n}}}{n} = \int_0^1 e^{\sqrt{x}} dx$ 에서  $\sqrt{x} = t$ 라 하면

$x=0$ 일 때  $t=0$ ,  $x=1$ 일 때  $t=1$ 이고

$x=t^2$ 에서  $\frac{dx}{dt} = 2t$ 이므로

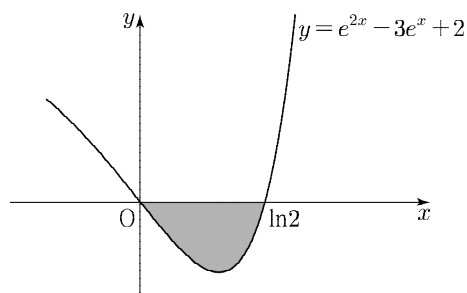
$$\begin{aligned} \int_0^1 e^{\sqrt{x}} dx &= \int_0^1 2te^t dt \\ &= \left[ 2te^t \right]_0^1 - \int_0^1 2e^t dt \\ &= 2e - \left[ 2e^t \right]_0^1 = 2 \end{aligned}$$

57) 정답 ㉔

방정식

$$e^{2x} - 3e^x + 2 = (e^x - 1)(e^x - 2) = 0$$

에서 곡선  $y = e^{2x} - 3e^x + 2$ 는  $x$ 축과  $x=0$ ,  $x=\ln 2$ 에서 만난다.



따라서 둘러싸인 부분의 넓이는

$$\begin{aligned} \int_0^{\ln 2} |e^{2x} - 3e^x + 2| dx &= - \left[ \frac{e^{2x}}{2} - 3e^x + 2x \right]_0^{\ln 2} \\ &= \frac{3}{2} - 2\ln 2 \end{aligned}$$

58) 정답 ㉔

좌표평면 위를 움직이는 점 P의 시각  $t (t \geq 0)$ 에서의 위치  $(x, y)$ 가  $x = e^t + e^{-t}$ ,  $y = 2t + 1$

이므로

$$\frac{dx}{dt} = e^t - e^{-t}, \quad \frac{dy}{dt} = 2$$

따라서 시각  $t = \ln 3$ 에서  $t = \ln 6$ 까지 점 P가 움직인 거리는

$$\begin{aligned} &\int_{\ln 3}^{\ln 6} \sqrt{\left(\frac{dx}{dt}\right)^2 + \left(\frac{dy}{dt}\right)^2} dt \\ &= \int_{\ln 3}^{\ln 6} \sqrt{(e^t - e^{-t})^2 + 4} dt \\ &= \int_{\ln 3}^{\ln 6} \sqrt{e^{2t} + e^{-2t} + 2} dt \\ &= \int_{\ln 3}^{\ln 6} (e^t + e^{-t}) dt \\ &= \left[ e^t - e^{-t} \right]_{\ln 3}^{\ln 6} \\ &= 6 - \frac{1}{6} - 3 + \frac{1}{3} = \frac{19}{6} \end{aligned}$$

59) 정답 ㉔

주어진 입체도형을  $x$ 축 위의 점  $(t, 0)$  ( $\sqrt{\frac{\pi}{6}} < t < \sqrt{\frac{\pi}{3}}$ )을 지나고  $x$ 축에 수직인 평면으로 자른 단면이 한 변의 길이가  $\sqrt{t \cos(t^2)}$ 인 정삼각형이므로 단면의 넓이를  $S(t)$ 라 하면

$$S(t) = \frac{\sqrt{3}}{4} (\sqrt{t \cos(t^2)})^2 = \frac{\sqrt{3}}{4} t \cos(t^2)$$

따라서 곡선  $y = \sqrt{x \cos(x^2)}$ 와  $x$ 축 및 두 직선

$x = \sqrt{\frac{\pi}{6}}$ ,  $x = \sqrt{\frac{\pi}{3}}$ 로 둘러싸인 부분을 밑면으로 하는 입체도형의 부피는

$$\int_{\sqrt{\frac{\pi}{6}}}^{\sqrt{\frac{\pi}{3}}} S(t) dt = \frac{\sqrt{3}}{4} \int_{\sqrt{\frac{\pi}{6}}}^{\sqrt{\frac{\pi}{3}}} t \cos(t^2) dt$$

$t^2 = x$ 라 하면  $t = \sqrt{\frac{\pi}{6}}$ 일 때  $x = \frac{\pi}{6}$ ,  $t = \sqrt{\frac{\pi}{3}}$ 일 때

$x = \frac{\pi}{3}$ 이고  $\frac{dx}{dt} = 2t$ 이므로

$$\begin{aligned} \frac{\sqrt{3}}{4} \times \int_{\sqrt{\frac{\pi}{6}}}^{\sqrt{\frac{\pi}{3}}} t \cos(t^2) dt &= \frac{\sqrt{3}}{4} \times \frac{1}{2} \int_{\frac{\pi}{6}}^{\frac{\pi}{3}} \cos x dx \\ &= \frac{\sqrt{3}}{8} \times \left[ \sin x \right]_{\frac{\pi}{6}}^{\frac{\pi}{3}} \\ &= \frac{\sqrt{3}}{8} \times \left( \frac{\sqrt{3}}{2} - \frac{1}{2} \right) \\ &= \frac{3 - \sqrt{3}}{16} \end{aligned}$$

60) 정답 ㉔

조건 (나)에서 모든 실수  $x$ 에 대하여

$$f(x) = \frac{10x}{x^2 + 1} \quad \text{또는} \quad f(x) = 6 - x$$

$g(x) = \frac{10x}{x^2 + 1}$ 라 하면

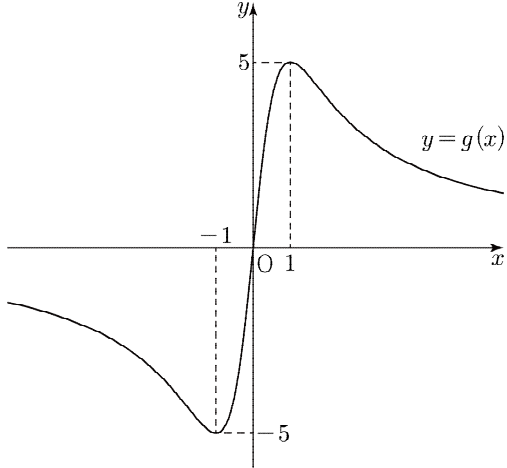
$$g'(x) = \frac{10(x^2 + 1) - 10x \times 2x}{(x^2 + 1)^2} = \frac{-10(x+1)(x-1)}{(x^2 + 1)^2}$$

방정식  $g'(x) = 0$ 에서  $x = -1$  또는  $x = 1$ 이므로 함수  $g(x)$ 의 증가와 감소를 표로 나타내면 다음과 같다.



$x$	...	-1	...	1	...
$g'(x)$	-	0	+	0	-
$g(x)$	↘	-5	↗	5	↘

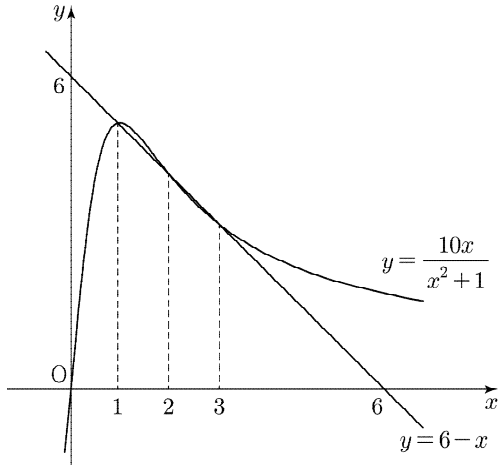
이때  $\lim_{x \rightarrow -\infty} g(x)=0, \lim_{x \rightarrow \infty} g(x)=0$  이므로  
함수  $y=g(x)$  의 그래프는 다음 그림과 같다.



곡선  $y = \frac{10x}{x^2+1}$  와 직선  $y=6-x$  의 교점의  $x$  좌표를 구하면

$$\begin{aligned} \frac{10x}{x^2+1} &= 6-x \\ x^3-6x^2+11x-6 &= 0 \\ (x-1)(x-2)(x-3) &= 0 \\ \therefore x &= 1 \text{ 또는 } x=2 \text{ 또는 } x=3 \end{aligned}$$

곡선  $y = \frac{10x}{x^2+1}$  와 직선  $y=6-x$  는 다음 그림과 같다.



함수  $f(x)$  는 실수 전체의 집합에서 연속이고  
 $\int_0^3 f(x) dx$  의 값이 최소이기 위해서는  
 $0 \leq x \leq 1$  또는  $2 \leq x \leq 3$  일 때  $f(x) = \frac{10x}{x^2+1}$  이고,  
 $1 \leq x \leq 2$  일 때  $f(x) = -x+6$  이어야 한다.

따라서  $\int_0^3 f(x) dx$  의 최솟값은

$$\begin{aligned} &\int_0^1 \frac{10x}{x^2+1} dx + \int_1^2 (6-x) dx + \int_2^3 \frac{10x}{x^2+1} dx \\ &= \left[ 5 \ln(x^2+1) \right]_0^1 + \left[ 6x - \frac{x^2}{2} \right]_1^2 + \left[ 5 \ln(x^2+1) \right]_2^3 \\ &= 5 \ln 2 + \frac{9}{2} + 5 \ln 2 \\ &= \frac{9}{2} + 10 \ln 2 \end{aligned}$$

61) 정답 ①

$(x-e)f(x) = \int_1^x (t-k) \ln t dt$  에서 양변에  $x=e$  를 대입하면

$$\int_1^e (t-k) \ln t dt = 0 \quad \dots \textcircled{A}$$

이므로

$$\begin{aligned} \int_1^e (t-k) \ln t dt &= \left[ \left( \frac{1}{2} t^2 - kt \right) \ln t \right]_1^e - \int_1^e \left( \frac{1}{2} t - k \right) dt \\ &= \left( \frac{1}{2} e^2 - ke \right) - \left[ \frac{1}{4} t^2 - kt \right]_1^e \\ &= \frac{e^2}{4} + \frac{1}{4} - k = 0 \end{aligned}$$

$$\therefore k = \frac{e^2+1}{4} \quad \dots \textcircled{B}$$

또한 함수  $f(x)$  가 실수 전체의 집합에서 연속이므로  $x=e$  에서도 연속이다.

$$\lim_{x \rightarrow e} f(x) = f(e)$$

$$\begin{aligned} \lim_{x \rightarrow e} f(x) &= \lim_{x \rightarrow e} \frac{\int_1^x (t-k) \ln t dt}{x-e} \\ &= \lim_{x \rightarrow e} \frac{\int_1^e (t-k) \ln t dt + \int_e^x (t-k) \ln t dt}{x-e} \\ &= \lim_{x \rightarrow e} \frac{\int_e^x (t-k) \ln t dt}{x-e} \quad (\because \textcircled{B}) \end{aligned}$$

$g(t) = (t-k) \ln t$  라 할 때,  $g(t)$  의 한 부정적분을  $G(t)$  라 하자.

$$\begin{aligned} &\int_e^x g(t) dt \\ &= \lim_{x \rightarrow e} \frac{\int_e^x g(t) dt}{x-e} \\ &= \lim_{x \rightarrow e} \frac{G(x) - G(e)}{x-e} \\ &= g(e) \\ &= e - \frac{e^2+1}{4} \quad (\because \textcircled{B}) \end{aligned}$$

$$\therefore f(e) = \frac{4e-1-e^2}{4}$$

62) 정답 ②

$u' = 4 \sin^3 x \cos x, v = \ln(1+\cos x)$  라 하면 부분적분법에 의하여

$$\begin{aligned} &\int_0^{\frac{\pi}{2}} \{4 \sin^3 x \cos x \ln(1+\cos x)\} dx \\ &= \left[ \sin^4 x \ln(1+\cos x) \right]_0^{\frac{\pi}{2}} + \int_0^{\frac{\pi}{2}} \left( \sin^4 x \times \frac{\sin x}{1+\cos x} \right) dx \\ &= \int_0^{\frac{\pi}{2}} \frac{\sin^5 x}{1+\cos x} dx \\ &= \int_0^{\frac{\pi}{2}} \frac{\sin x (1-\cos^2 x)^2}{1+\cos x} dx \\ &= \int_0^{\frac{\pi}{2}} \sin x (1-\cos x)(1-\cos^2 x) dx \end{aligned}$$

$\int_0^{\frac{\pi}{2}} \sin x (1-\cos x)(1-\cos^2 x) dx$  에서  $\cos x = t$  라 하면

$\frac{dt}{dx} = -\sin x$  이고  $x=0$  일 때  $t=1, x=\frac{\pi}{2}$  일 때  $t=0$  이므로

$$\begin{aligned} &\int_0^{\frac{\pi}{2}} \sin x (1-\cos x)(1-\cos^2 x) dx \\ &= - \int_1^0 (1-t)(1-t^2) dt \\ &= \int_0^1 (1-t-t^2+t^3) dt \\ &= \left[ t - \frac{t^2}{2} - \frac{t^3}{3} + \frac{t^4}{4} \right]_0^1 \\ &= \frac{5}{12} \end{aligned}$$

63) 정답 ①

두 함수  $f(x), g(x)$  에 대하여 모든 실수  $x$  에 대하여

$$f(x) = f(-x), g(x) = g(-x)$$

이므로 두 함수의 그래프는 모두  $y$  축에 대하여 대칭이다.

즉, 두 함수의 그래프는  $x < 0, x > 0$  에서 각각 한 점에서 접해야 한다.

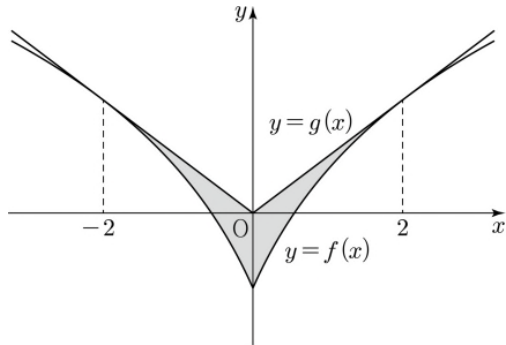
따라서 직선  $y = \frac{1}{3}x$  는 곡선  $y = \ln(x+1) + a$  와 접하고,

접점의  $x$  좌표를  $t$  라 하면



$$\ln(t+1)+a = \frac{1}{3}t, \quad \frac{1}{t+1} = \frac{1}{3}$$

이므로  $t=2, a = \frac{2}{3} - \ln 3$ 이다.



따라서 두 함수의 그래프로 둘러싸인 부분의 넓이는

$$\begin{aligned} & 2 \times \int_0^2 \left\{ \frac{1}{3}x - \ln(x+1) - \frac{2}{3} + \ln 3 \right\} dx \\ &= 2 \times \left[ \frac{1}{6}x^2 - (x+1)\ln(x+1) + x + 1 - \left( \frac{2}{3} - \ln 3 \right)x \right]_0^2 \\ &= 2 \left\{ \left( \frac{2}{3} - 3\ln 3 + 3 - \frac{4}{3} + 2\ln 3 \right) - 1 \right\} = \frac{8}{3} - 2\ln 3 \end{aligned}$$

[참고]

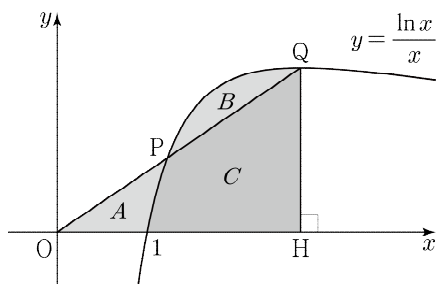
$$\int \ln x dx = x \ln x + x + C \quad (\text{단, } C \text{는 적분상수}) \text{이므로 상수 } a \text{에 대하여}$$

$$\int \ln(x+a) dx = (x+a)\ln(x+a) - (x+a) + C \quad (\text{단, } C \text{는 적분상수})$$

64) 정답 ①

$y = \frac{\ln x}{x}$ 에서  $y' = \frac{1-\ln x}{x^2}$ 이므로 함수  $y = \frac{\ln x}{x}$ 는  $x=e$ 에서 극댓값을 갖고,

함수  $y = \frac{\ln x}{x}$ 의 그래프는 그림과 같다.



점 Q에서 x축에 내린 수선의 발을 H라 하고, 곡선  $y = \frac{\ln x}{x}$ 와 x축 및 두 선분 PQ, QH로 둘러싸인 영역을 C라 하면 조건에 의하여

(A의 넓이)+(C의 넓이)=(B의 넓이)+(C의 넓이)이다. (A의 넓이)+(C의 넓이)는 삼각형 OQH의 넓이와 같고, 점 Q의 x좌표를  $\alpha$ 라 하면 (B의 넓이)+(C의 넓이)는  $\int_1^\alpha \frac{\ln x}{x} dx$ 와 같다.

삼각형 OQH의 넓이는

$$\frac{1}{2} \times \overline{OH} \times \overline{QH} = \frac{1}{2} \times \alpha \times \frac{\ln \alpha}{\alpha} = \frac{\ln \alpha}{2}$$

이고,  $\int_1^\alpha \frac{\ln x}{x} dx$ 에서  $\ln x = t$ 라 하면  $x=1$ 일 때  $t=0, x=\alpha$ 일 때

$t = \ln \alpha$ 이고,  $\frac{dt}{dx} = \frac{1}{x}$ 이므로

$$\int_1^\alpha \frac{\ln x}{x} dx = \int_0^{\ln \alpha} t dt = \left[ \frac{1}{2}t^2 \right]_0^{\ln \alpha} = \frac{(\ln \alpha)^2}{2}$$

㉠에 의하여  $\frac{\ln \alpha}{2} = \frac{(\ln \alpha)^2}{2}$ , 즉  $\alpha=1$  또는  $\alpha=e$

이때 점 Q의 y좌표는 양수이어야 하므로  $\alpha > 1$ 이고,  $\alpha=e$

따라서 점 Q의 y좌표는  $\frac{\ln e}{e} = \frac{1}{e}$ 이다.

65) 정답 2

$$\left\{ \int_{-1}^1 |f(x)| dx \right\}^2 \neq \left\{ \int_{-1}^1 f(x) dx \right\}^2 \text{에서}$$

$\int_{-1}^1 |f(x)| dx \neq \int_{-1}^1 f(x) dx$ 이고  $\int_{-1}^1 |f(x)| dx \neq -\int_{-1}^1 f(x) dx$ 이어야 한다.

(i)  $\int_{-1}^1 |f(x)| dx = \int_{-1}^1 f(x) dx$ 일 때

$\int_{-1}^1 |f(x)| dx = \int_{-1}^1 f(x) dx$ 이기 위해서는 함수  $y=f(x)$ 의 그래프가 닫힌구간  $[-1, 1]$ 에서  $f(x) \geq 0$ 이어야 한다.

이때 직선  $y=f(x)$ 의 기울기는  $(e^x)' = e^x$ 에서 항상 양수이므로 직선  $y=f(x)$ 가 x축과 만나는 점의 x좌표가  $-1$  이하여야 한다. 따라서  $f(x) = e^t(x-t) + e^t$ 에서 직선  $y=f(x)$ 가 x축과 만나는 점은  $(t-1, 0)$ 이므로

$$t-1 \leq -1 \quad \therefore t \leq 0$$

그러므로 직선  $y=f(x)$ 는  $t > 0$ 일 때  $\int_{-1}^1 |f(x)| dx \neq \int_{-1}^1 f(x) dx$ 이다.

(ii)  $\int_{-1}^1 |f(x)| dx = -\int_{-1}^1 f(x) dx$ 일 때

$\int_{-1}^1 |f(x)| dx = -\int_{-1}^1 f(x) dx$ 이기 위해서는 함수  $y=f(x)$ 의 그래프가 닫힌구간  $[-1, 1]$ 에서  $f(x) \leq 0$ 이어야 한다.

이때 직선  $y=f(x)$ 의 기울기는  $(e^x)' = e^x$ 에서 항상 양수이므로 직선  $y=f(x)$ 가 x축과 만나는 점의 x좌표가  $1$  이상이어야 한다. 따라서  $f(x) = e^t(x-t) + e^t$ 에서 직선  $y=f(x)$ 가 x축과 만나는 점은  $(t-1, 0)$ 이므로

$$t-1 \geq 1 \quad \therefore t \geq 2$$

그러므로 직선  $y=f(x)$ 는  $t < 2$ 일 때  $\int_{-1}^1 |f(x)| dx \neq -\int_{-1}^1 f(x) dx$ 이다.

(i), (ii)에 의하여  $\left\{ \int_{-1}^1 |f(x)| dx \right\}^2 \neq \left\{ \int_{-1}^1 f(x) dx \right\}^2$ 을 만족시키는 실수 t의 범위는  $0 < t < 2$ 이고  $\beta - \alpha = 2$ 이다.

66) 정답 ①

$$f'(x) = ae^{-x} - axe^{-x} = a(1-x)e^{-x}$$

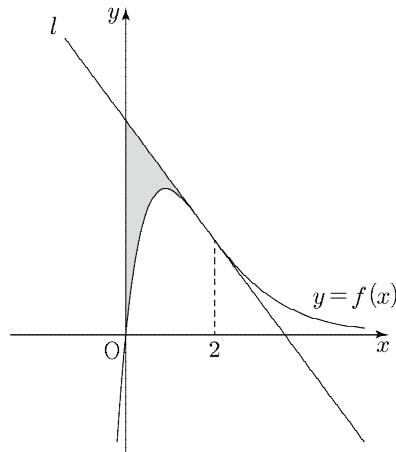
$$f''(x) = -ae^{-x} - a(1-x)e^{-x} = -a(2-x)e^{-x}$$

이므로  $f''(x)=0$ 에서 함수  $f(x)$ 는  $x=2$ 에서 변곡점을 갖고,

곡선  $y=f(x)$ 의 변곡점에서의 접선 l의 방정식은

$$y = -\frac{a}{e^2}(x-2) + \frac{2a}{e^2}$$

이다.



직선 l은 두 점  $\left(2, \frac{2a}{e^2}\right), \left(0, \frac{4a}{e^2}\right)$ 를 지나므로 둘러싸인 부분의 넓이는

$$\frac{1}{2} \times 2 \times \left( \frac{2a}{e^2} + \frac{4a}{e^2} \right) - \int_0^2 f(x) dx$$

$$= \frac{6a}{e^2} - \int_0^2 axe^{-x} dx$$

$$= a \left( \frac{6}{e^2} + \left[ (x+1)e^{-x} \right]_0^2 \right)$$

$$= a \left( \frac{9}{e^2} - 1 \right) = 3 + e$$

$$\therefore a = \frac{3+e}{\frac{9}{e^2}-1} = \frac{e^2(3+e)}{9-e^2} = \frac{e^2}{3-e}$$

[참고]

$$\int xe^{-x} dx = -xe^{-x} + \int e^{-x} dx = -(x+1)e^{-x} + C$$

67) 정답 ②

$f(x)=k\ln x$ 에서  $f'(x)=\frac{k}{x}$  이고, 양수  $t$ 에 대하여 곡선  $y=f(x)$  위의 점  $P(t, k\ln t)$ 에서의 접선을  $l$ 이라 할 때 직선  $l$ 의 방정식은

$$l: y - k\ln t = \frac{k}{t}(x - t)$$

이다. 이때 직선  $l$ 이 원점을 지나므로

$$-k\ln t = \frac{k}{t} \times (-t)$$

$$\therefore t = e (\because k > 0)$$

따라서 점  $P$ 의 좌표는  $P(e, k)$ 이고, 점  $H$ 의 좌표는  $H(e, 0)$ 이다.

점  $P$ 를 지나고 직선  $l$ 과 수직인 직선을  $l'$ 이라 하면 직선  $l'$ 의 방정식은

$$l': y - k = -\frac{e}{k}(x - e)$$

이므로 점  $Q$ 의 좌표는  $Q\left(e + \frac{k^2}{e}, 0\right)$ 이다.

삼각형  $PHQ$ 의 넓이는

$$\frac{1}{2} \times \overline{PH} \times \overline{HQ} = \frac{1}{2} \times k \times \frac{k^2}{e} = \frac{k^3}{2e}$$

또한 곡선  $y=f(x)$ 와 직선  $PH$ ,  $x$ 축으로 둘러싸인 도형의 넓이는

$$\int_1^e k \ln x dx = k \left[ x \ln x - x \right]_1^e = k$$

주어진 조건에 의하여

$$\frac{k^3}{2e} = k \quad \therefore k = \sqrt{2e} (\because k > 0)$$

68) 정답 ①

$a=0$ 이면 함수  $f(x)$ 는 상수함수이므로 두 함수  $f(x)$ ,  $g(x)$ 의 그래프가 오직 한 점에서 만날 수 없다.

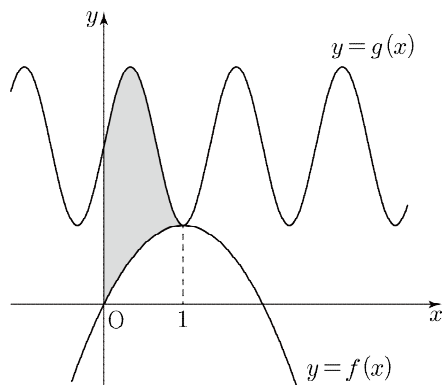
이차함수  $y=f(x)$ 의 그래프의 꼭짓점의 좌표는  $(1, -a)$ 이다.

$a > 0$ 이면 두 함수  $f(x)$ ,  $g(x)$ 의 그래프가 오직 한 점에서 만날 수 없으므로  $a < 0$ 이다.

두 함수의 그래프가 오직  $P(1, f(1))$ 에서만 만나고  $f'(1)=0$ 이므로

$$g(1) = \sin b\pi + 2 = 1, \quad g'(1) = b\pi \cos b\pi = 0$$

즉,  $a = -1, b = \frac{3}{2}$  ( $\because 0 < b < 2$ )이다.



따라서 두 곡선  $y=f(x)$  및  $y=g(x)$ 와  $y$ 축으로 둘러싸인 부분의 넓이는

$$\int_0^1 \left\{ \sin\left(\frac{3\pi}{2}x\right) + 2 - (-x^2 + 2x) \right\} dx$$

$$= \left[ -\frac{2}{3\pi} \cos\frac{3\pi}{2}x + 2x + \frac{x^3}{3} - x^2 \right]_0^1 = \frac{4}{3} + \frac{2}{3\pi}$$

69) 정답 90

$$g(x) = \int_{-1}^x \frac{tf(t)}{1+2^{f(t)}} dt \text{에서}$$

$$g'(x) = \frac{xf(x)}{1+2^{f(x)}} = \frac{ax^2(x+1)(x-1)}{1+2^{a(x^3-x)}}$$

방정식  $g'(x)=0$ 에서  $x=-1$  또는  $x=0$  또는  $x=1$ 이고,  $a$ 의 값에 따라 함수  $g(x)$ 의 증가와 감소를 표로 나타내면 다음과 같다.

(i)  $a < 0$ 인 경우

$x$	...	-1	...	0	...	1	...
$g'(x)$	-	0	+	0	+	0	-
$g(x)$	$\searrow$	극소	$\nearrow$	$g(0)$	$\nearrow$	극대	$\searrow$

함수  $g(x)$ 는  $x=-1$ 에서 극솟값  $g(-1)$ 을 갖는다.  
이때  $g(-1)=0$ 이므로 모순이다.

(ii)  $a=0$ 인 경우

모든 실수  $x$ 에 대하여  $g(x)=0$ 이므로 모순이다.

(iii)  $a > 0$ 인 경우

$x$	...	-1	...	0	...	1	...
$g'(x)$	+	0	-	0	-	0	+
$g(x)$	$\nearrow$	극대	$\searrow$	$g(0)$	$\searrow$	극소	$\nearrow$

함수  $g(x)$ 는  $x=1$ 에서 극솟값  $g(1)$ 을 갖는다.

$$g(1) = \int_{-1}^1 \frac{tf(t)}{1+2^{f(t)}} dt = -2 \text{에서}$$

$$\int_{-1}^1 \frac{tf(t)}{1+2^{f(t)}} dt = \int_{-1}^0 \frac{tf(t)}{1+2^{f(t)}} dt + \int_0^1 \frac{tf(t)}{1+2^{f(t)}} dt \quad \dots \textcircled{A}$$

$$\int_{-1}^0 \frac{tf(t)}{1+2^{f(t)}} dt \text{에서 } t = -s \text{라 하면 } t = -1 \text{일 때 } s = 1, t = 0 \text{일 때}$$

$s = 0$ 이고,  $\frac{dt}{ds} = -1$ 이므로

$$\int_{-1}^0 \frac{tf(t)}{1+2^{f(t)}} dt = \int_1^0 \frac{sf(-s)}{1+2^{f(-s)}} ds$$

이때 모든 실수  $x$ 에 대하여  $f(-x) = -f(x)$ 이므로

$$\int_1^0 \frac{sf(-s)}{1+2^{f(-s)}} ds = \int_0^1 \frac{sf(s)}{1+2^{-f(s)}} ds = \int_0^1 \frac{2^{f(s)}sf(s)}{1+2^{f(s)}} ds$$

$\textcircled{A}$ 에서

$$\int_{-1}^1 \frac{tf(t)}{1+2^{f(t)}} dt = \int_0^1 \frac{2^{f(t)}tf(t)}{1+2^{f(t)}} dt + \int_0^1 \frac{tf(t)}{1+2^{f(t)}} dt$$

$$= \int_0^1 \left\{ \frac{tf(t)(1+2^{f(t)})}{1+2^{f(t)}} \right\} dt$$

$$= \int_0^1 tf(t) dt$$

$$= \int_0^1 a(t^4 - t^2) dt$$

$$= a \left[ \frac{1}{5}t^5 - \frac{1}{3}t^3 \right]_0^1$$

$$= -\frac{2}{15}a$$

따라서  $-\frac{2}{15}a = -2$ 이므로  $a = 15$

(i)~(iii)에 의하여  $f(x) = 15(x^3 - x)$ 이고  $f(2) = 90$ 이다.

70) 정답 12

방정식  $f(x)=0$ 의 실근이 존재하면 조건 (가)를 만족시키지 않는다.

따라서 함수  $f(x)$ 는 증가함수이고 조건 (나)에서  $f(2) = e^5 > 0$ 이므로

모든 실수  $x$ 에 대하여  $f(x) > 0$ 이다.

즉, 모든 실수  $x$ 에 대하여  $\ln\{f(x)f(-x)\} = \ln f(x) + \ln f(-x) = 0$ 이므로

$$\ln f(x) = -\ln f(-x) \quad \dots \textcircled{A}$$

이다.

$\int_{-5}^5 \{g(e^x)\}^2 dx$ 에서  $g(e^x) = t$ 라 하면 함수  $g(x)$ 는 함수  $f(x)$ 의 역함수이므로

$$e^x = f(t), \text{ 즉 } x = \ln f(t) \text{ 이고 } \frac{dx}{dt} = \frac{f'(t)}{f(t)} \text{ 이다.}$$

$$\int_{-5}^5 \{g(e^x)\}^2 dx = \int_{g(e^{-5})}^{g(e^5)} \left\{ t^2 \times \frac{f'(t)}{f(t)} \right\} dt$$

이때 조건 (나)에서  $f(2) = e^5$ 이므로  $g(e^5) = 2$ 이고,

조건 (가)에 의하여  $f(-2) = \frac{1}{f(2)} = e^{-5}$ 이므로  $g(e^{-5}) = -2$ 이다.

따라서

$$\int_{-5}^5 \{g(e^x)\}^2 dx = \int_{-2}^2 \left\{ t^2 \times \frac{f'(t)}{f(t)} \right\} dt$$

$$= \left[ t^2 \times \ln f(t) \right]_{-2}^2 - \int_{-2}^2 \{2t \times \ln f(t)\} dt$$

$$= 4\ln f(2) - 4\ln f(-2) - 2 \int_{-2}^2 \{t \ln f(t)\} dt$$

$$= 8\ln f(2) - 4 \int_0^2 \{t \ln f(t)\} dt (\because \textcircled{A})$$

$$= 8 \times 5 - 4 \times 7 (\because \text{조건 (나)})$$

$$= 12$$